

제4교시

사회탐구 영역 (경제)

성명

수험 번호

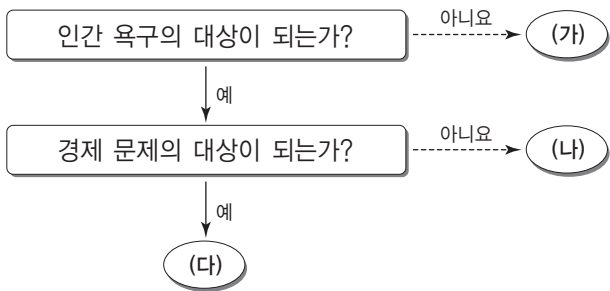


1. 표는 경제 활동을 유형별로 정리한 것이다. (가)~(마)에 대한 진술로 옳은 것은? [3점]

유형	특징	사례
(가)	효용의 극대화	(나)
분배	생산 기여도에 따른 보상	(다)
(라)	기업 혹은 정부에 의해 수행	(마)

- ① (가)는 상품의 운반, 보관, 판매 활동을 포함한다.
- ② (나)에는 대학생의 수업 교재 구입이 해당된다.
- ③ (다)에는 아르바이트로 전단지를 나누어 주는 경우가 포함된다.
- ④ (라)는 효율성보다 형평성을 기준으로 이루어진다.
- ⑤ (마)에는 상가 임대료의 대가로 임대료를 받는 경우가 해당된다.

2. 그림은 물건의 유형을 구분한 것이다. (가)~(다)에 대한 설명으로 옳은 것은?



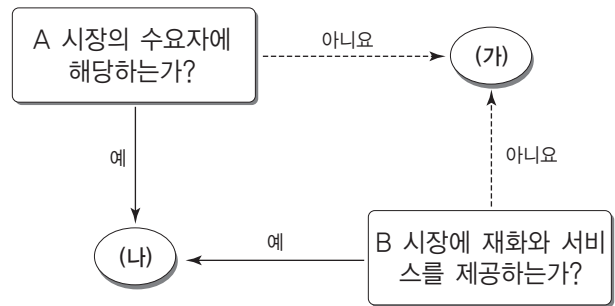
- ① (가)는 희귀성은 없고 희소성만 갖는다.
- ② (나)의 재화 중 기회비용이 큰 재화를 선택하는 것이 합리적이다.
- ③ (다)의 선택에는 반드시 기회비용이 발생한다.
- ④ (가)와 (다)의 사용으로는 효용을 얻을 수 없다.
- ⑤ (나)와 (다)는 시장에서의 거래를 통해서만 얻을 수 있다.

3. 다음 경제학자의 주장에 부합하는 진술로 가장 적절한 것은?

유효 수요가 부족하면 불황이 발생할 우려가 크다. 따라서 경기 안정을 위해 수요가 공급보다 중요하다. 경제 문제의 해결을 시장에만 맡길 경우 침체된 경기는 회복되기 어렵다. 경기 회복을 위해 재정 정책 등 정부의 노력이 필요하며, 이로 인한 유효 수요의 증대가 경기 회복의 열쇠이다.

- ① 분배의 효율성보다 형평성이 강조되어야 한다.
- ② 생산성 향상을 위해 공기업을 민영화되어야 한다.
- ③ 대규모 공공사업 추진을 통한 실업 문제 해결이 필요하다.
- ④ 가계와 기업의 경제 활동의 자유가 최대한 보장되어야 한다.
- ⑤ 노동 시장 유연화를 통해 자유로운 정리 해고가 가능해야 한다.

4. 그림은 민간 경제 주체 (가), (나)를 구분하기 위한 것이다. 이에 대한 옳은 설명을 <보기>에서 고른 것은? (단, A 시장과 B 시장은 각각 생산물 시장과 생산 요소 시장 중 하나이다.)

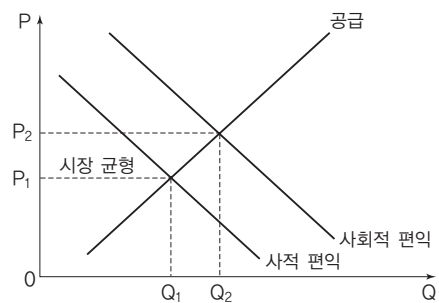


<보기>

- ㄱ. (가)는 이윤 극대화를 추구한다.
- ㄴ. (나)가 자동차를 구매할 경우 소비 지출에 해당한다.
- ㄷ. 임금은 A 시장에서 결정된다.
- ㄹ. B 시장을 통해 (나)는 판매 수입을 얻는다.

- ① ㄱ, ㄴ ② ㄱ, ㄷ ③ ㄴ, ㄷ ④ ㄴ, ㄹ ⑤ ㄷ, ㄹ

5. 그림과 같이 나타낼 수 있는 경제 현상에 대한 설명으로 옳지 않은 것은? [3점]



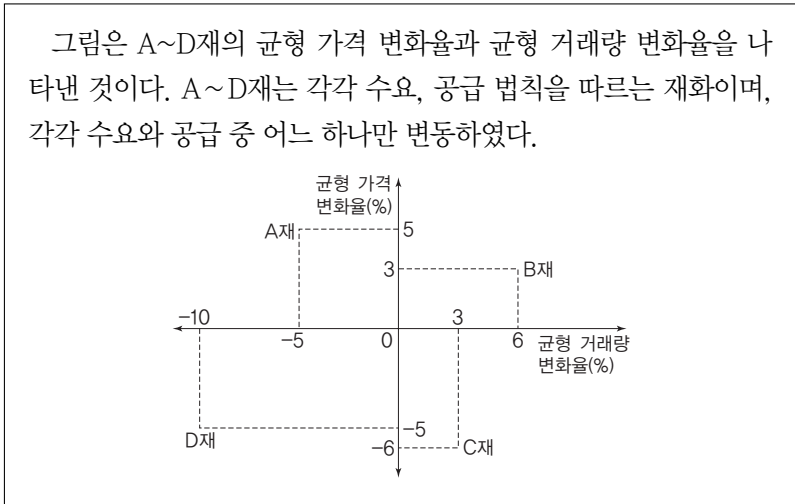
- ① 독감 백신의 접종을 설명하기에 적합하다.
- ② 정부의 시장 개입을 정당화하는 사례에 해당한다.
- ③ 시장에 맡길 경우 사회적 최적 수준보다 적게 거래된다.
- ④ 시장 균형 상황에서 자원 배분의 비효율성이 나타나고 있다.
- ⑤ 소비에 대해 조세를 부과하는 것은 이러한 현상에 대한 방안이 된다.

6. 표는 연관재인 A~C재의 관계를 정리한 것이다. (가)에 들어갈 내용으로 가장 적절한 것은?

재화	A재와의 관계	원인	결과
B재	대체재	(가)	판매 수입 증가
C재	보완재		판매 수입 감소

- ① A재 생산 기술 발달 ② B재 생산 기술 발달
- ③ A재 원자재 가격의 상승 ④ B재 소비자 선호 감소
- ⑤ C재 소비자 선호 증가

7. 다음 자료에 나타난 A~D재의 수요·공급 변동 원인으로 옳은 것을 <보기>에서 고른 것은?



<보기>

ㄱ. A재 - 임금의 인상
 ㄴ. B재 - 소비자 선호 증가
 ㄷ. C재 - 원재료 가격의 상승
 ㄹ. D재 - 생산에 부과되는 세금 증가

- ① ㄱ, ㄴ ② ㄱ, ㄷ ③ ㄴ, ㄷ ④ ㄴ, ㄹ ⑤ ㄷ, ㄹ

8. 다음 자료에 대한 설명으로 옳은 것은? [3점]

A~D재 공급의 변동으로 가격이 각각 5% 상승하였을 때 A재의 판매 수입 변화율은 가격 변화율과 동일하고, B재의 판매 수입 변화율은 0%였다. C재의 판매 수입 변화율은 3%였으며, D재의 판매 수입 변화율은 -5%였다. A~D재의 공급 곡선은 우상향하며, 가격 상승 전 판매 수입은 동일하였다.

- ① A재는 완전 탄력적인 재화이다.
- ② A재의 수요량에 비해 B재 수요량이 더 많이 줄어들었다.
- ③ B재 수요의 가격 탄력성이 C재 수요의 가격 탄력성보다 작다.
- ④ A~D재 중 C재의 가격이 가장 높다.
- ⑤ A~D재 중 D재의 수요의 가격 탄력성이 가장 작다.

9. 다음 자료에 대한 옳은 분석만을 <보기>에서 있는 대로 고른 것은?

[3점]

한국의 갑 기업이 미국으로 수출하는 A~C재의 원화 표시 가격은 변동이 없으나 환율 변화로 인해 A~C재의 달러 표시 가격은 각각 10%씩 상승하였다. A재의 수출액은 5% 증가, B재의 수출액은 변함없고, C재의 수출액은 5% 감소하였다. 환율 변동으로 인해 갑 기업의 달러 표시 총 수출액은 감소하였다.

<보기>

ㄱ. 원/달러 환율은 하락하였다.
 ㄴ. 환율 변동 전 A재의 달러 표시 수출액은 C재의 달러 표시 수출액보다 작다.
 ㄷ. 환율 변동으로 A, B재와 달리 C재의 수출량은 줄어들었다.
 ㄹ. 환율 변동으로 A~C재 모두 미국에서 가격 경쟁력이 높아졌다.

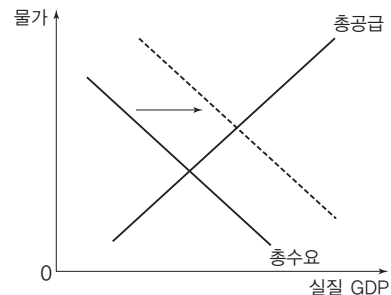
- ① ㄱ, ㄴ ② ㄴ, ㄷ ③ ㄷ, ㄹ
- ④ ㄱ, ㄴ, ㄹ ⑤ ㄱ, ㄷ, ㄹ

10. 밑줄 친 ㉠~㉣에 대한 설명으로 옳지 않은 것은? [3점]

㉠최근의 경기 상황에 대해 정부와 중앙은행은 각각 대책을 발표하였다. 정부는 ㉡소득세율과 법인세율을 인상하기로 하였다. 중앙은행은 ㉢지급 준비율을 인상하기로 하였다.

- ① ㉠에 대해 정부는 경기 침체로 보고 있다.
- ② ㉡은 물가를 하락시키는 요인이다.
- ③ ㉢은 가계의 소비와 기업의 투자를 감소시키는 요인이다.
- ④ ㉣은 이자율을 상승시키고 통화량을 감소시키는 요인이다.
- ⑤ ㉡과 ㉣은 모두 총수요를 감소시키는 요인이다.

11. 그림에 나타난 총수요 변동의 원인으로 가장 적절한 것은?



- ① 가계의 소비 심리가 위축되었다.
- ② 정부의 긴축 정책이 실시되었다.
- ③ 환율 하락에 따라 순수출이 감소하였다.
- ④ 국제 원자재 가격이 지속적으로 상승하였다.
- ⑤ 기업들이 장래 경기에 대해 낙관적인 전망을 하였다.

12. 표의 상황 (가)~(라)에 대한 옳은 설명을 <보기>에서 고른 것은?
(단, 기준 시점의 예금 금리와 주식 투자 수익률은 동일하다.)

구분		예금 금리	
		상승	하락
주식 투자 수익률	상승	(가)	(나)
	하락	(다)	(라)

<보기>

- ㄱ. (가)의 경우 자금 공급이 감소할 가능성이 높다.
- ㄴ. (나)의 경우 주식 투자의 수익성이 높아진다.
- ㄷ. (다)의 경우 주식 투자보다 은행 예금을 선택하는 것이 합리적이다.
- ㄹ. (라)는 총수요가 증가했을 때 나타날 수 있는 현상이다.

- ① ㄱ, ㄴ ② ㄱ, ㄷ ③ ㄴ, ㄷ ④ ㄴ, ㄹ ⑤ ㄷ, ㄹ

13. (가), (나)에 대한 옳은 설명을 <보기>에서 고른 것은?

(가)는 자금 공급자와 자금 수요자가 직접 자금을 거래하는 금융 시장을 말한다. (나)는 자금 공급자와 자금 수요자가 금융 기관을 통해 간접적으로 거래하는 금융 시장을 말한다.

<보기>

- ㄱ. (가)에 참여하는 금융 기관은 거래에 따른 위험을 분담한다.
- ㄴ. 은행, 보험 회사는 (나)의 금융 기관에 해당한다.
- ㄷ. (가)가 (나)보다 투자의 안전성이 더 높다.
- ㄹ. 투자에 대한 정보가 부족한 경우 (가)보다 (나)를 선택하는 것이 유리하다.

- ① ㄱ, ㄴ ② ㄱ, ㄷ ③ ㄴ, ㄷ ④ ㄴ, ㄹ ⑤ ㄷ, ㄹ

14. 표는 어느 나라의 취업자와 실업자의 전기 대비 변화율을 나타낸 것이다. 이에 대한 옳은 설명을 <보기>에서 고른 것은? (단, t-1기의 실업률은 10%이며, 15세 이상 인구는 변화하지 않았다.) [3점]

구분	t기	t+1기
취업자 증가율	5%	3%
실업자 증가율	-10%	10%

<보기>

- ㄱ. t-1기~t+1기 중 고용률이 가장 높은 시기는 t+1기이다.
- ㄴ. t-1기~t+1기 중 실업률이 가장 높은 시기는 t기이다.
- ㄷ. t-1기보다 t기에 경제 활동 참가율이 더 높다.
- ㄹ. t-1기보다 t+1기에 실업자 수가 더 많다.

- ① ㄱ, ㄴ ② ㄱ, ㄷ ③ ㄴ, ㄷ ④ ㄴ, ㄹ ⑤ ㄷ, ㄹ

15. 밑줄 친 ㉠, ㉡의 인플레이션 유형에 대한 옳은 설명을 <보기>에서 고른 것은?

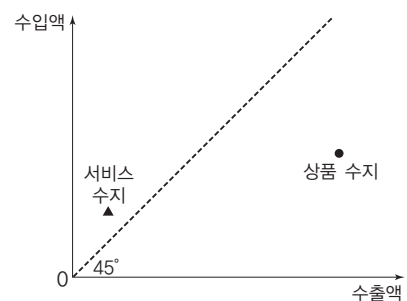
전 세계적인 원자재 가격 변동으로 인해 ㉠인플레이션에 대한 우려가 높아지고 있다. 원유, 알루미늄, 고철, 희토류 등 여러 종류의 원자재들의 가격 급등이 동시다발적으로 나타나고 있다. 이러한 갑작스런 원자재 가격 변화를 예상하지 못하고 갑국이 시행한 경기 부양책으로 갑국의 통화량이 지나치게 증가하여 또 다른 ㉡인플레이션에 대한 우려가 나타나고 있다.

<보기>

- ㄱ. ㉠은 수요 견인 인플레이션이다.
- ㄴ. ㉡의 경우 총수요 곡선이 오른쪽으로 움직인 결과이다.
- ㄷ. ㉠과 ㉡으로 인해 실질 GDP는 증가한다.
- ㄹ. ㉠, ㉡의 경우 채권자보다 채무자가 유리해진다.

- ① ㄱ, ㄴ ② ㄱ, ㄷ ③ ㄴ, ㄷ ④ ㄴ, ㄹ ⑤ ㄷ, ㄹ

16. 그림은 어떤 나라의 상품 수지와 서비스 수지를 나타낸 것이다. 이에 대한 옳은 설명을 <보기>에서 고른 것은? (단, 본원 소득 수지와 이전 소득 수지는 균형 상태이다.) [3점]

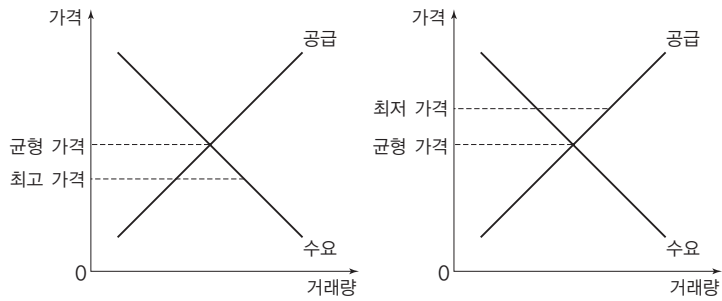


<보기>

- ㄱ. 자본·금융 계정은 음(-)의 값이다.
- ㄴ. 경상 수지는 자국 통화량 증가의 요인이다.
- ㄷ. 상품 수지는 자국 화폐 가치의 하락 요인이다.
- ㄹ. 외국인의 국내 투자 소득은 내국인의 해외 투자 소득보다 크다.

- ① ㄱ, ㄴ ② ㄱ, ㄷ ③ ㄴ, ㄷ ④ ㄴ, ㄹ ⑤ ㄷ, ㄹ

17. 그림의 가격 통제 정책으로 인해 공통적으로 나타나는 문제점으로 옳은 것을 <보기>에서 고른 것은?



<보 기>

- ㄱ. 장기적으로 공급이 감소한다.
- ㄴ. 재화나 서비스의 품질이 낮아진다.
- ㄷ. 수요량과 공급량의 불균형으로 암시장이 발생한다.
- ㄹ. 선착순, 추첨 등의 자원 배분 방식을 결정해야 한다.

- ① ㄱ, ㄴ ② ㄱ, ㄷ ③ ㄴ, ㄷ ④ ㄴ, ㄹ ⑤ ㄷ, ㄹ

18. 다음 글에 대한 옳은 분석만을 <보기>에서 있는 대로 고른 것은? (단, 제시된 이외의 비용은 고려하지 않는다.) [3점]

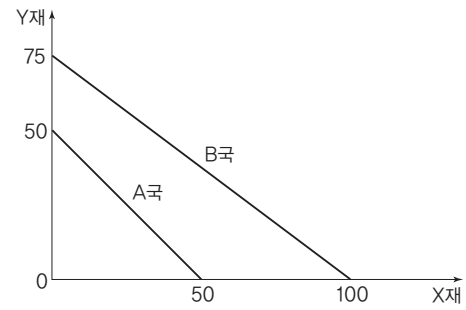
각각 서점을 운영하는 갑과 을은 5일간 함께 해외여행을 가기로 하고 각각 200만 원의 여행 경비를 여행사에 지불하였다. 해외여행을 가는 5일 동안 갑과 을은 자신들의 서점 문을 닫아야만 한다. 갑의 서점 운영에 따른 수익은 하루 30만 원이며, 을의 서점 운영에 따른 수익은 하루 20만 원이다. 갑과 을의 선택은 모두 합리적이다.

<보 기>

- ㄱ. 해외여행에 따른 갑의 편익은 350만 원을 초과한다.
- ㄴ. 해외여행에 따른 갑의 편익은 을의 편익보다 크다.
- ㄷ. 해외여행의 기회비용은 갑이 을보다 더 크다.
- ㄹ. 갑과 을 모두 해외여행을 포기하고 서점을 운영할 경우 순편익은 음(-)의 값을 갖는다.

- ① ㄱ, ㄴ ② ㄱ, ㄹ ③ ㄴ, ㄷ
 ④ ㄱ, ㄷ, ㄹ ⑤ ㄴ, ㄷ, ㄹ

19. 그림은 A국과 B국의 생산 가능 곡선을 나타낸 것이다. 이에 대한 옳은 분석만을 <보기>에서 있는 대로 고른 것은? (단, 두 나라의 생산 요소는 노동뿐이고, 각 재화의 품질은 동일하다.) [3점]



<보 기>

- ㄱ. X재 생산의 비교 우위는 B국에, Y재 생산의 비교 우위는 A국에 있다.
- ㄴ. 무역 후 A국의 X재로 표시된 Y재 1단위 소비의 기회비용은 낮아진다.
- ㄷ. X재 1단위와 Y재 0.75단위가 교환될 경우 B국은 교역의 이익을 얻을 수 있다.
- ㄹ. Y재 1단위와 X재 1.2단위가 교환될 경우 A국의 Y재 1단위당 교환 이익은 X재 0.2단위이다.

- ① ㄱ, ㄴ ② ㄱ, ㄹ ③ ㄴ, ㄷ
 ④ ㄱ, ㄷ, ㄹ ⑤ ㄴ, ㄷ, ㄹ

20. 표의 경제 지표에 대한 설명으로 옳지 않은 것은? (단, 물가 수준은 GDP 디플레이터(2010년 기준)로 측정한다.) [3점]

구분	2013년	2014년
명목 GDP(억 달러)	110	110
GDP 디플레이터	110	㉠
전년 대비 경제 성장률(%)	10	10

- ① ㉠은 100이다.
- ② 2013년의 물가 수준은 기준 연도보다 높다.
- ③ 2012년보다 2013년의 실질 GDP가 더 크다.
- ④ 2014년도의 물가 수준은 기준 연도에 비해 10% 상승하였다.
- ⑤ 2014년의 명목 GDP 증가율보다 2014년의 실질 GDP 증가율이 더 높다.

♣ 확인 사항

답안지의 해당란에 필요한 내용을 정확히 기입(표기)했는지 확인하시오.