

제 4 교시

사회탐구 영역(경제)

성명

수험 번호



전라북도교육청

1. 표는 국민 경제 주체 A~C를 정리한 것이다. (가)~(마)에 들어갈 수 있는 내용으로 옳지 않은 것은?

| 구분    |       | 특징 | 목표  |
|-------|-------|----|-----|
| 국민 경제 | 민간 경제 | A  | (가) |
|       |       | B  | (나) |
|       |       | C  | (마) |

- ① (가) - 소비 활동의 주체  
② (나) - 생산 요소 시장의 공급자  
③ (다) - 이윤의 극대화  
④ (라) - 재정 정책의 주체  
⑤ (마) - 사회적 후생의 극대화

2. 다음 자료에 대한 설명으로 옳은 것은?

1. 경제 활동의 유형

| 구분  | 의미                |
|-----|-------------------|
| (가) | 부가가치를 창출하는 활동     |
| (나) | 만족감(효용)을 얻기 위한 활동 |
| (다) | ㉠                 |

2. 경제 활동의 객체

| 구분  | 의미 |
|-----|----|
| 생산물 | A  |
|     | B  |

- ① ㉠은 '생산 요소의 제공'이다.  
② (가)와 달리 (나)는 경제 성장에 기여하지 못한다.  
③ (다)는 생산 요소 시장이 아닌 생산물 시장에서 이루어진다.  
④ 방과 후 수업 교재를 구입하는 것은 A를 객체로 하는 (가) 활동에 해당한다.  
⑤ 학원 강사가 인터넷 강의를 하는 것은 B를 객체로 하는 (가) 활동에 해당한다.

3. (가)~(다)에 대한 옳은 설명을 <보기>에서 고른 것은?

(가) 이미 지출되어 회수가 불가능한 비용  
(나) 어떤 경제적 선택의 결과로 인해 얻게 되는 만족이나 가치  
(다) 하나의 대안을 선택해야 하는 상황에서 드는 경제학적 비용

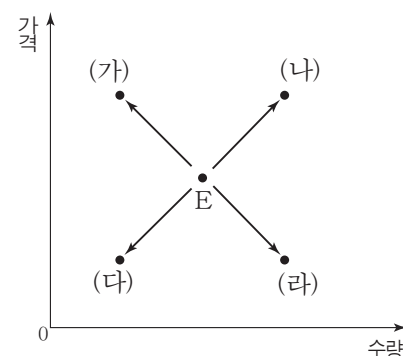
—<보 기>—

- ㄱ. 순편익은 '(나) - (다)'이다.  
ㄴ. 기회비용은 '(가) + (다)'이다.  
ㄷ. 합리적인 선택을 위해서는 (가)를 고려해서는 안 된다.  
ㄹ. (다)는 선택으로 인해 포기한 대안들의 가치를 모두 합한 것이다.

- ① ㄱ, ㄴ      ② ㄱ, ㄷ      ③ ㄴ, ㄷ      ④ ㄴ, ㄹ      ⑤ ㄷ, ㄹ

4. 그림의 (가)~(라)로 변동하는 요인으로 옳은 것을 <보기>에서 고른 것은? (단, 현재의 균형점은 E이다.) [3점]

- X재는 정상재이고, 수요 법칙과 공급 법칙을 따른다.  
• 그림은 X재의 수요와 공급 중 어느 하나만 변동할 경우 나타날 수 있는 균형점의 변화이다.



—<보 기>—

- ㄱ. (가) - X재의 보완재 가격이 상승하였다.  
ㄴ. (나) - X재의 대체재 가격이 상승하였다.  
ㄷ. (다) - X재 소비자의 소득이 증가하였다.  
ㄹ. (라) - X재 생산에 투입되는 생산 요소의 가격이 하락하였다.

- ① ㄱ, ㄴ      ② ㄱ, ㄷ      ③ ㄴ, ㄷ      ④ ㄴ, ㄹ      ⑤ ㄷ, ㄹ

5. 다음 자료의 ○○ 경제 체제의 유형과 ㉠~㉣ 중 틀린 내용이 무엇인지 옳게 연결한 것은?

**경제 수행 평가**

3학년 1반 1번 홍길동

1. 아래 답란에 ○○ 경제 체제의 특징을 3가지만 서술하시오.  
(각 1점, 총 3점)

| 답란                              | 점수 |
|---------------------------------|----|
| • 사유 재산권이 보장됨. .... ㉠           | 2점 |
| • 개인의 이익 추구가 경제 활동의 동기임. .... ㉡ |    |
| • 경제적 유인의 부족으로 효율성이 떨어짐. .... ㉢ |    |

- | ○○ 경제 체제의 유형 | 틀린 내용 |
|--------------|-------|
| ① 시장 경제 체제   | ㉠     |
| ② 시장 경제 체제   | ㉡     |
| ③ 계획 경제 체제   | ㉢     |
| ④ 계획 경제 체제   | ㉣     |
| ⑤ 전통 경제 체제   | ㉠     |

6. 다음 자료에 대한 분석으로 옳은 것은? [3점]

| <ul style="list-style-type: none"> <li>• 갑은 3만 원을 모두 사용하여 X재와 Y재만을 소비한다.</li> <li>• X재와 Y재의 가격은 1만 원으로 같다.</li> <li>• 표는 X재와 Y재의 소비량을 늘릴 때 추가되는 갑의 효용이다.</li> </ul> |         |         |         |
|---|---------|---------|---------|
| 소비량 변화  | 0개 → 1개 | 1개 → 2개 | 2개 → 3개 |
| X재  | 5       | 4       | 3       |
| Y재  | 8       | 6       | 4       |

- ① X재의 소비를 늘릴수록 X재를 통해 얻는 효용의 총합은 감소한다.  
 ② Y재의 소비를 늘릴수록 Y재 1개당 얻는 효용은 증가한다.  
 ③ 최대로 얻을 수 있는 총효용은 30이다.  
 ④ X재 1개, Y재 2개를 소비할 때의 총효용이 가장 크다.  
 ⑤ Y재만을 소비할 때보다 X재만을 소비할 때의 총효용이 더 크다.

7. 다음 자료의 A, B에 대한 설명으로 옳은 것은?

조세는 조세 부담의 전가가 이뤄지는가에 따라 A와 B로 구분된다. A는 납세 의무자가 조세를 부담하지만, B는 그렇지 않다. 예를 들어 B에 해당하는 주세의 납세 의무자는 주조업자이지만 주세를 실질적으로 부담하는 사람은 술을 사는 소비자다.

- ① A보다 B의 조세 저항이 더 강하다.  
 ② A는 비례세, B는 누진세가 적용된다.  
 ③ 부가가치세는 A, 개별 소비세는 B에 해당한다.  
 ④ B와 달리 A는 조세 부담의 역진성이 나타난다.  
 ⑤ A는 주로 소득이나 재산에 부과되고, B는 소비 지출에 부과된다.

8. 다음 자료에 대한 옳은 설명을 <보기>에서 고른 것은?

- 균형 가격은 A 곡선과 B 곡선이 만나는 지점에서 결정된다.
- A 곡선이 우측으로 이동하면 균형 가격은 상승하고, 균형 거래량은 ㉠ 한다.
- B 곡선이 우측으로 이동하면 균형 가격은 ㉡ 하고, 균형 거래량은 ㉢ 한다.

—<보 기>—

- ㉠. ㉠은 증가, ㉡은 하락, ㉢은 증가이다.  
 ㉡. A 곡선은 우하향, B 곡선은 우상향한다.  
 ㉢. 소비자의 기호 변화는 A 곡선이 아닌 B 곡선의 이동 요인이다.  
 ㉣. 미래의 가격이 상승할 것으로 예상되면 A 곡선은 좌측으로, B 곡선은 우측으로 이동한다.

- ① ㉠, ㉡    ② ㉠, ㉢    ③ ㉡, ㉢    ④ ㉡, ㉣    ⑤ ㉢, ㉣

9. 다음의 A, B에 대한 설명으로 옳은 것은?

- 재화는 희소성의 유무에 따라 A와 B로 구분된다.
- A의 수요 곡선과 공급 곡선은 만나지만, B의 수요 곡선과 공급 곡선은 만나지 않는다.

- ① A가 되기 위해서는 희귀성이 있어야 한다.  
 ② B는 경제의 기본 문제를 야기한다.  
 ③ A와 달리 B는 교환 가치가 있다.  
 ④ 바닷물은 A, 시중에 판매되는 생수는 B에 해당한다.  
 ⑤ B는 공급이 감소하거나 수요가 증가하면 A로 바뀔 수 있다.

10. 다음 자료는 X재에 대한 모든 수요자의 지불용의와 모든 공급자의 판매용의를 나타낸 것이다. 이에 대한 분석으로 옳은 것은? (단, 수요자 모두 X재를 1개씩만 구입하고자 하며, 공급자 모두 X재를 1개씩만 판매하고자 한다.) [3점]

| 〈X재 수요자의 지불용의〉 |        | 〈X재 공급자의 판매용의〉 |        |
|----------------|--------|----------------|--------|
| 수요자            | 금액(달러) | 공급자            | 금액(달러) |
| A              | 1      | 갑              | 2      |
| B              | 3      | 을              | 3      |
| C              | 5      | 병              | 4      |

\* 지불용의 : 상품을 구입하면서 지불할 의사가 있는 최대 금액

\* 판매용의 : 상품을 판매하면서 받고자 하는 최소 금액

- ① 거래량은 3개이다.  
 ② 시장 가격은 4달러이다.  
 ③ A와 병은 거래에 참여하지 않는다.  
 ④ 소비자 잉여와 생산자 잉여는 같다.  
 ⑤ 가격이 5달러일 때는 수요량이 공급량보다 1개 더 많다.

11. 다음 자료에 대한 옳은 분석을 <보기>에서 고른 것은?

○○기업은 수요 법칙을 따르는 X재와 Y재를 독점 생산하여 판매한다. ○○기업은 두 재화의 판매 수입을 모두 증가시키기 위하여 가격을 변동시켰고, 그 결과 ○○기업이 의도한 결과가 나타났다. 한편, 가격 변동으로 인해 X재의 판매량은 증가하였고, Y재의 판매량은 감소하였다.

- <보 기>—
- ㄱ. X재 수요의 가격 탄력성은 1이다.
  - ㄴ. Y재 수요의 가격 탄력성은 1보다 작다.
  - ㄷ. X재의 가격은 인하, Y재의 가격은 인상하였다.
  - ㄹ. X재의 수요량보다 Y재의 수요량이 가격 변화에 민감하게 반응하였다.

- ① ㄱ, ㄴ      ② ㄱ, ㄷ      ③ ㄴ, ㄷ      ④ ㄴ, ㄹ      ⑤ ㄷ, ㄹ

12. (가), (나)에서 강조하고 있는 화폐의 기능으로 가장 적절한 것은?

(가) 화폐는 자산의 한 형태로서 시간이 지나도 재화나 서비스를 구입할 수 있는 능력, 즉 구매력을 보존해 주는 기능을 한다.  
(나) 미터(m)와 같은 길이 단위로 길이를 잴 수 있듯이, 화폐 단위로 재화나 서비스의 가치를 측정할 수 있다. 즉, 화폐는 가격을 통해 재화나 서비스의 가치가 어느 정도인지를 알 수 있게 하는 계산 단위로서 기능을 한다.

- | (가)      | (나)    |
|----------|--------|
| ① 가치의 저장 | 가치의 척도 |
| ② 가치의 저장 | 교환의 매개 |
| ③ 가치의 척도 | 가치의 저장 |
| ④ 가치의 척도 | 교환의 매개 |
| ⑤ 교환의 매개 | 가치의 척도 |

13. (가)~(다)에 대한 설명으로 옳은 것은? (3점)

(가) 배제성과 경합성이 모두 없는 재화  
(나) 소비에 있어 외부 경제가 나타나는 재화  
(다) 생산에 있어 외부 불경제가 나타나는 재화

- ① (가)의 예로 ‘공공 목초지’를 들 수 있다.
- ② (나)는 소비의 사적 편익이 사회적 편익보다 더 크다.
- ③ (다)는 생산의 사적 비용이 사회적 비용보다 더 작다.
- ④ (나)와 달리 (가), (다)는 시장 실패를 야기한다.
- ⑤ (가), (나)는 사회적 최적 수준보다 과다 생산, (다)는 과소 생산된다.

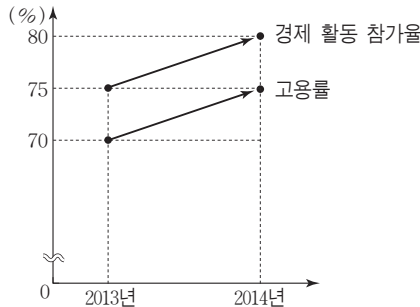
14. 다음 자료의 A, B에 대한 옳은 설명만을 <보기>에서 있는 대로 고른 것은? (3점)

GDP는 A와 B로 나눌 수 있다. A의 변동에는 생산량의 변동만 반영된다. 하지만 B는 생산량이 변동하지 않더라도 물가가 변동하면 증가하거나 감소할 수 있다. 그리고 B를 A로 나누어 100을 곱한 값을 GDP 디플레이터라고 하는데, 이를 통해 물가가 어떻게 변동했는지 측정한다.

- <보 기>—
- ㄱ. A는 불변 가격으로 계산한다.
  - ㄴ. B가 증가하기 위해서는 물가가 상승해야 한다.
  - ㄷ. 경제 성장률은 B가 아닌 A의 증가율을 통해 계산한다.
  - ㄹ. 기준 연도보다 물가가 상승한 연도는 A보다 B가 더 크다.

- ① ㄱ, ㄷ      ② ㄴ, ㄷ      ③ ㄴ, ㄹ  
④ ㄱ, ㄴ, ㄹ      ⑤ ㄱ, ㄷ, ㄹ

15. 그림은 갑국의 고용 지표의 변화이다. 이에 대한 옳은 분석만을 <보기>에서 있는 대로 고른 것은? (단, 15세 이상 인구는 변화가 없다.) (3점)



\* 고용률(%) =  $\frac{\text{취업자 수}}{\text{15세 이상 인구}} \times 100$

- <보 기>—
- ㄱ. 취업률은 상승하였다.
  - ㄴ. 실업자 수는 감소하였다.
  - ㄷ. 취업자 수보다 경제 활동 인구가 더 많이 증가하였다.
  - ㄹ. 15세 이상 인구에서 실업자가 차지하는 비중은 변함없다.

- ① ㄱ, ㄴ      ② ㄱ, ㄹ      ③ ㄷ, ㄹ  
④ ㄱ, ㄴ, ㄷ      ⑤ ㄴ, ㄷ, ㄹ

16. 다음 자료에 대한 설명으로 옳은 것은?

|  |                         |
|--|-------------------------|
| 인플레이션은 발생 요인에 따라 크게 (가)와 (나)로 구분된다. 표는 (가), (나)의 발생 요인을 정리한 것이다. |                         |
| (가)  | (나)                     |
| 민간 소비 증가<br>( ㉠ )<br>⋮   | 원자재 가격 상승<br>( ㉡ )<br>⋮ |

- ① (가)는 스태그플레이션을 야기한다.
- ② (나)는 경기 호황을 동반한다.
- ③ (가)와 달리 (나)가 발생하면 화폐 자산 소유자는 불리해진다.
- ④ (가)는 수요 견인 인플레이션, (나)는 비용 인상 인플레이션이다.
- ⑤ 정부 지출 증가는 ㉠이 아닌 ㉡에 들어갈 수 있다.

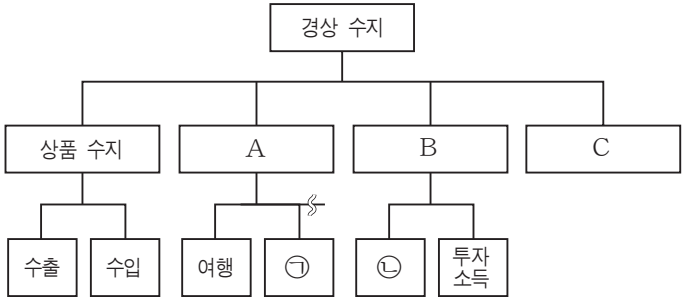
17. 밑줄 친 ㉠~㉣에 대한 옳은 설명을 <보기>에서 고른 것은? [3점]

㉠갑국의 중앙은행은 정부의 ㉡재정 정책과 공조를 맞추기 위하여 지난달에 이어 또다시 ㉢기준 금리를 인하하였다. ㉣갑국의 기준 금리보다 훨씬 높은 수준으로 미국의 기준 금리가 인상될 것으로 예상되고 있는 시점에서 내려진 이번 결정에 대하여 많은 경제 전문가들은 우려를 표하고 있다.

—<보 기>—  
ㄱ. ㉠은 경기가 과열되었다고 판단하였다.  
ㄴ. ㉡은 확장 재정 정책이다.  
ㄷ. ㉢은 소비와 투자를 감소시키는 것을 목적으로 한다.  
ㄹ. ㉣은 갑국의 대미 환율 상승 요인이다.

- ① ㄱ, ㄴ      ② ㄱ, ㄷ      ③ ㄴ, ㄷ      ④ ㄴ, ㄹ      ⑤ ㄷ, ㄹ

18. 그림은 경상 수지의 구성을 나타낸 것이다. 이에 대한 옳은 설명을 <보기>에서 고른 것은? [3점]



—<보 기>—  
ㄱ. ㉠에는 ‘지식 재산권 사용료’가 들어갈 수 있다.  
ㄴ. ㉡에는 ‘주식 투자 금액’이 들어갈 수 있다.  
ㄷ. 자선 단체가 대가 없이 외국에 전달하는 기부금은 C에 반영된다.  
ㄹ. A는 서비스 수지, B는 이전 소득 수지이다.

- ① ㄱ, ㄴ      ② ㄱ, ㄷ      ③ ㄴ, ㄷ      ④ ㄴ, ㄹ      ⑤ ㄷ, ㄹ

19. 다음 자료에 대한 옳은 분석만을 <보기>에서 있는 대로 고른 것은? (단, X재와 Y재 모두 수요·공급 법칙을 따른다.) [3점]

갑국 정부는 X재 시장과 Y재 시장에서 실효성 있는 가격 규제 정책을 실시하였다. 두 시장의 규제 가격은 같으며, X재의 균형 가격과 Y재의 균형 가격 사이에서 결정되었다. 그리고 가격 규제 정책으로 인해 두 시장의 거래량 모두 80개로 감소하였다. 가격 규제 정책 이전의 X재와 Y재 시장의 균형점은 표와 같다.

| 구분        | X재  | Y재  |
|-----------|-----|-----|
| 균형 가격(달러) | 10  | 20  |
| 균형 거래량(개) | 100 | 100 |

—<보 기>—  
ㄱ. X재 시장에서는 최저 가격제를 실시하였다.  
ㄴ. Y재 시장에서는 공급자를 보호하고자 하였다.  
ㄷ. 규제 가격에서 X재의 수요량은 80개, Y재의 공급량은 80개이다.  
ㄹ. 가격 규제 정책으로 인해 X재 시장에서는 20개의 초과 공급이 나타났다.

- ① ㄱ, ㄷ      ② ㄴ, ㄹ      ③ ㄷ, ㄹ  
④ ㄱ, ㄴ, ㄷ      ⑤ ㄱ, ㄴ, ㄹ

20. 다음은 ○○ 금융 상품에 대한 질문과 대답이다. 밑줄 친 ㉠~㉣과 관련하여 ○○ 금융 상품에 대한 설명으로 옳은 것은? [3점]

Q: 이 상품은 어떤 특징을 가지고 있나요?  
A: 시장 금리가 적용되고, ㉠입출금이 자유롭습니다.  
Q: 만기가 있나요?  
A: 아니요. ㉡만기는 없습니다.  
Q: 이자는 어떻게 계산되나요?  
A: ㉢보통 매일 잔액에 약정 금리를 적용하여 이자를 계산합니다. 이렇게 계산된 이자 역시 다음 날 이자 계산의 기준이 되는 잔액에 포함됩니다.  
Q: 예금자보호법의 보호를 받나요?  
A: 네. ㉣원금과 소정 이자를 합쳐 5천만 원까지 보호를 받습니다.

- ① ㉠ - 보통 예금과 구별되는 특징이다.  
② ㉠ - 수익성이 높다.  
③ ㉡ - 정기 예금과 구별되지 않는 특징이다.  
④ ㉢ - 복리 이자가 지급된다.  
⑤ ㉣ - 안전성이 낮다.

♣ 확인 사항  
답안지에 필요한 사항을 정확히 기입(표기)하였는지 확인하시오.