

제 4 교시


사회탐구 영역(세계사)

성명

수험 번호



1. 다음 유적을 남긴 고대 문명에 대한 탐구 주제로 적절한 것은?



당시 사람들은 각 도시마다 이와 같은 신전을 지어 수호신을 섬겼다. 그들은 진흙 벽돌로 높은 기단을 쌓고 그 꼭대기에 직사각형의 신전을 두었다.

- ① 신정 정치와 갑골문
- ② 영혼 불멸과 사자의 서
- ③ 자연 현상에 대한 찬미와 베다
- ④ 나일 강의 정기적 범람과 태양력
- ⑤ 현세적인 다신교와 길가메시 서사시

2. 밑줄 친 ‘이 정치’가 나타난 배경으로 옳은 것은?

이 정치는 원로원과 민회를 배제한 3인에 의한 공동 통치 체제이다. 1차는 카이사르, 크라수스, 폼페이우스가, 2차는 카이사르가 암살된 후 옥타비아누스, 안토니우스, 레피두스가 이끌었다. 권력이 몇몇 사람에게 집중된 것은 결국 공화정의 붕괴를 의미한다.

- ① 제국이 동서로 분열되었다.
- ② 군인 출신 황제가 연이어 등장하였다.
- ③ 별족파와 평민파 사이에 권력 투쟁이 일어났다.
- ④ 솔론이 재산 정도에 따라 참정권을 차등 분배하였다.
- ⑤ 참주가 민중의 지지를 받아 무력으로 정권을 장악하였다.

3. 밑줄 친 ‘28년’의 기간 동안 있었던 사실로 옳은 것은? (3점)



동서 베를린 간의 통행 자유화 조치가 발표되면서 베를린 장벽은 쌓은 지 28년 만에 무너지기 시작하였다.

- ① 독일이 통일되었다.
- ② 중국이 공산화되었다.
- ③ 닉슨 독트린이 발표되었다.
- ④ 독립 국가 연합이 출범하였다.
- ⑤ 북대서양 조약 기구가 결성되었다.

4. 밑줄 친 ‘운동’에 대한 설명으로 옳은 것은?



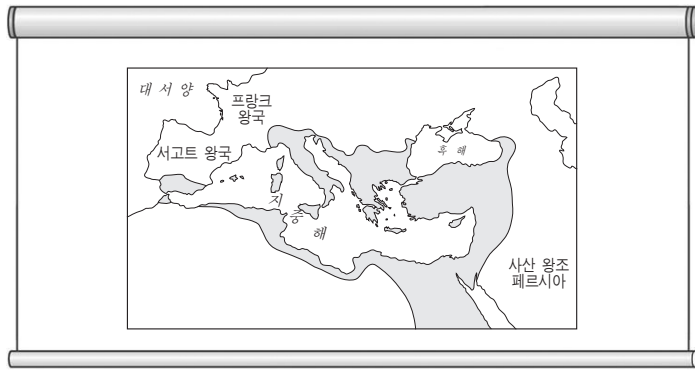
- ① 중체서용론을 내세웠다.
- ② 5·4 운동에 영향을 주었다.
- ③ 서태후 등 보수파의 반발로 실패하였다.
- ④ 청 왕조의 타도와 공화정 수립을 지향하였다.
- ⑤ 토지의 균등 분배, 변발과 전족 금지 등을 내세웠다.

5. 자료의 제도가 시행될 때 볼 수 있던 모습으로 적절한 것은?

수도에는 많은 도로가 각 지방을 향하여 나 있다. 각각의 도로는 행선지의 이름을 따서 명칭을 붙였다. 칸은 사신들이 이 도로를 이용할 때 필요한 것은 무엇이든 구할 수 있게 준비시켰다. …(중략)… 국내 여러 지방으로 통하는 주요 도로에는 약 40km마다 역참이 배치되어 있다. 이 역참에는 넓고 근사한 침대가 준비되어 있고, 모든 필요한 물건들이 제공된다. 또한, 각 역참에는 300~400마리의 말이 사신을 위해 준비되어 있다.

- ① 인도에서 불경을 가져 온 현장
- ② 새로운 동서 교역로를 개척한 장건
- ③ 대도에 와서 벼슬을 하는 마르코 폴로
- ④ 곤여만국전도를 제작하는 마테오 리치
- ⑤ 동아시아의 해상 무역을 장악한 장보고

6. 교사의 질문에 대한 학생의 답변으로 적절한 것은? [3점]



위 지도는 (가) 황제 때의 영토를 표시한 것입니다. 그의 재위 시기에 제국은 옛 로마 제국의 영토를 되찾아 전성기를 맞이하였습니다. 그의 업적을 말해 볼까요?

- ① 성 소피아 성당을 건립하였습니다.
- ② 카롤루스 르네상스를 일으켰습니다.
- ③ 군관구제와 둔전병제를 실시하였습니다.
- ④ 제국의 수도를 콘스탄티노폴리스로 옮겼습니다.
- ⑤ 투르 · 푸아티에 전투에서 이슬람군을 물리쳤습니다.

7. 밑줄 친 ‘이 왕조’에 대한 설명으로 옳은 것은? [3점]



- ① 칼리프를 선출하였다.
- ② 이베리아 반도를 정복하였다.
- ③ 사산 왕조 페르시아를 멸망시켰다.
- ④ 바그다드에 입성하여 술탄 칭호를 받았다.
- ⑤ 홀라구가 이끄는 몽골군의 침입으로 멸망하였다.

8. (가), (나) 사이의 시기에 있었던 사실로 옳은 것을 <보기>에서 고른 것은? [3점]

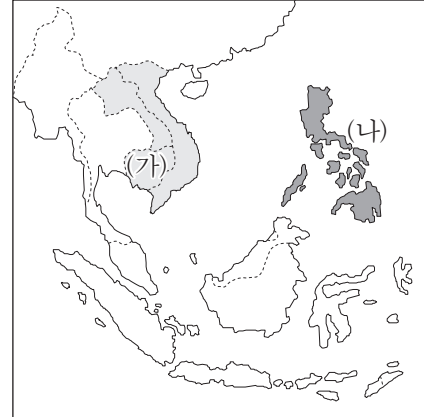
- (가) 교황과의 대결과 프랑스와의 전쟁에서 실패한 존 왕은 재정 위기를 해결하기 위해 세금을 부과하려다가 귀족들의 반발로 대헌장을 승인하였다.
- (나) 헨리 7세는 랭커스터 가(家)와 요크 가 사이의 왕위 계승 문제로 벌어진 장미 전쟁을 끝내고 튜더 왕조를 열어 중앙 집권 체제의 토대를 닦았다.

—<보 기>—

- ㄱ. 백년 전쟁이 일어났다.
- ㄴ. 영국 국교회가 확립되었다.
- ㄷ. 와트 타일리의 난이 일어났다.
- ㄹ. 1차 십자군이 예루살렘 왕국을 건설하였다.

- ① ㄱ, ㄴ ② ㄱ, ㄷ ③ ㄴ, ㄷ ④ ㄴ, ㄹ ⑤ ㄷ, ㄹ

9. 유럽 열강이 진출한 이후 (가), (나) 지역에 대한 설명으로 옳은 것을 <보기>에서 고른 것은? [3점]

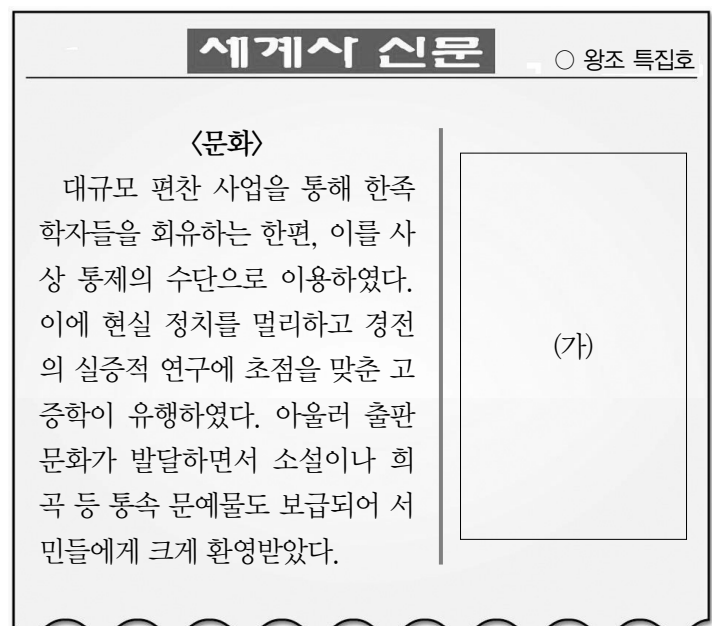


—<보 기>—

- ㄱ. (가) — 영국이 목화 재배를 강요하고 값싼 면직물을 판매하였다.
- ㄴ. (가) — 프랑스는 값싼 노동력을 이용한 대규모 벼농사로 많은 이윤을 얻었다.
- ㄷ. (나) — 네덜란드가 커피와 사탕수수를 강제로 재배하였다.
- ㄹ. (나) — 에스파냐가 차지하여 청과 멕시코를 잇는 삼각 무역을 하였다.


- ① ㄱ, ㄴ ② ㄱ, ㄷ ③ ㄴ, ㄷ ④ ㄴ, ㄹ ⑤ ㄷ, ㄹ

10. (가)에 들어갈 기사 제목으로 적절한 것은?



- ① 대외 무역의 통제, 공행 설치
- ② 유교 국가의 부활, 육유 제정
- ③ 과학 기술의 발달, 나침반 발명
- ④ 이슬람 역법의 수용, 수시력 시행
- ⑤ 상품 화폐 경제의 발달, 교자 사용

11. 다음 제도가 시행되던 시대에 대한 설명으로 옳은 것을 <보기>에서 고른 것은?



이 시대에 다이묘는 대체로 격년 주기로 영지를 떠나 에도에 머물고, 부인과 자식은 인질로 에도에 상주해야 하였다.

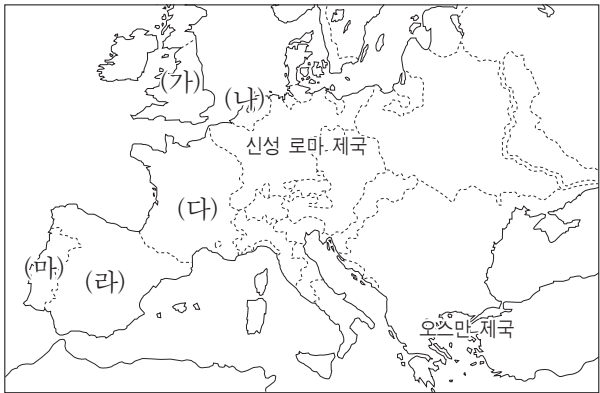
— <보 기> —

- ㄱ. 임진왜란이 일어났다.
- ㄴ. 조년 문화가 발달하였다.
- ㄷ. 중국과 감함 무역이 행해졌다.
- ㄹ. 크리스티교 포교가 금지되었다.

- ① ㄱ, ㄴ ② ㄱ, ㄷ ③ ㄴ, ㄷ ④ ㄴ, ㄹ ⑤ ㄷ, ㄹ

12. 다음 사실에 해당하는 국가를 지도에서 옳게 고른 것은? [3점]

- 신항로 개척 이후 아메리카 대륙에 식민지 개척
- 레판토 해전에서 오스만 제국을 격파하여 지중해 해상권 장악
- 네덜란드가 독립하고 무적 함대가 영국에 패하면서 국력 쇠퇴



- ① (가) ② (나) ③ (다) ④ (라) ⑤ (마)

13. 자료의 사상에 대한 설명으로 옳은 것을 <보기>에서 고른 것은?

자연 상태는 살기에 불편하므로 사람들은 공동 관심사인 사회와 정부를 세우기 위해 계약을 맺게 된다. 그런데 인간은 자연권, 즉 생명·자유·재산의 권리를 갖고 있다. 사람들은 이러한 모든 권리가 잘 보장되도록 정부를 세우는 데 합의하는 것이다. 만일 정부가 기본권인 생명·자유·재산의 권리를 보장하지 않고 방자해진다면 물러나야 하며, 극단의 경우 혁명에 의해 타도될 수 있다.

— 시민 정부론 —

— <보 기> —

- ㄱ. 중상주의를 지지하였다.
- ㄴ. 백과전서의 영향을 받았다.
- ㄷ. 시민 혁명의 사상적 기반이 되었다.
- ㄹ. 국가의 수립을 사회 계약으로 설명하였다.

- ① ㄱ, ㄴ ② ㄱ, ㄷ ③ ㄴ, ㄷ ④ ㄴ, ㄹ ⑤ ㄷ, ㄹ

14. 다음 조세 제도에 대한 탐구 활동으로 가장 적절한 것은? [3점]

대체로 국가에서 거두어들이는 것은 먼저 그 액수를 계산하여 사람들에게 부과하고 지출을 해아려 수입을 정해야 한다. 호(戶)는 주객(主客)의 구별 없이 현재 거주·경작하고 있는 곳의 장부에 기재한다. 사람은 정남과 중남의 구별 없이 빈부에 따라 징수액에 차이를 둔다. 자기 땅에 거주하지 않고 행상(行商)을 하는 자는 자신이 머무르고 있는 주현(州縣)의 세금으로 매상고의 30분의 1을 내게 한다. 버는 양을 계산해 거주자와 균등하게 하여 많은 이득을 보지 않게 한다.

- ① 장거정의 개혁 결과를 찾아본다.
- ② 균전제를 시행한 배경을 파악한다.
- ③ 안·사의 난이 끼친 영향을 살펴본다.
- ④ 흉노 정벌에 따른 재정 상황을 조사한다.
- ⑤ 인두세를 토지세에 병합시킨 결과를 알아본다.

15. 다음 인물에 대한 설명으로 옳은 것은? [3점]

독일이 현재의 과제를 수행하기 위해 눈여겨보아야 할 것은 프로이센의 자유주의가 아니라 군비입니다. 빈 회의 이래 우리의 국경은 정상적인 국가에 어울리는 것이 아닙니다. 오늘날 중요한 문제들은 연설과 다수결로 결정되는 것이 아닙니다. 문제는 피와 무기로만 해결될 수 있습니다.



- ① 제1차 세계 대전을 일으켰다.
- ② 관세 동맹 체결을 주도하였다.
- ③ ‘국가 제일의 공복’을 자처하였다.
- ④ 프로이센·프랑스 전쟁을 승리로 이끌었다.
- ⑤ 오스트리아를 포함하는 독일 통일을 추진하였다.

16. (가), (나) 사상에 대한 설명으로 옳은 것은? [3점]

(가) 덕으로 정치를 하는 것은 마치 북극성이 언제나 자기 자리에 머물러 있으면 못 별들이 한결같이 그를 향해 읊하고 절하며 따르듯이, 힘들이지 않고 백성들을 덕으로 교화시켜 따르게 하는 것이라 하겠다.

(나) 장차 천하를 차지하고자 인위적인 노력을 한다면 아무 일도 이루지 못할 것임을 안다. 왜냐하면 천하는 불가사의하고 오묘한 그릇과 같아서 사람이 하려고 하는 대로 되지 않기 때문이다. 그것을 억지로 다루려고 하면 결국 그것을 파괴할 것이며, 인위적으로 장악하려고 하면 그것을 잃게 될 것이다.

- ① (가) — 진의 전국 시대 통일을 뒷받침하였다.
- ② (가) — 차별 없는 사랑과 평화를 주장하였다.
- ③ (나) — 한 무제 때 치국의 이념으로 수용되었다.
- ④ (나) — 중국인의 예술과 종교에 큰 영향을 끼쳤다.
- ⑤ (가), (나) — 동아시아 문화권의 주요 요소가 되었다.

17. 다음 자료를 읽고 학생들이 나눈 대화 내용으로 적절한 것은?

일찍이 신께서는 당신의 영원불변한 섭리를 통해서 구제해주고 자 하는 자들과 파멸에 빠뜨리고자 하는 자들을 결정하셨다. 선택된 자들에게 이와 같은 섭리는 인간의 자질과는 아무런 관계가 없는 신의 자비에 근거한 것이며, 또 반대로 신께서 지옥에 떨어뜨리려고 하는 모든 자들에게는 생명으로 나아가는 길이 막혀 있음을 뜻하는 바이다. …(중략)… 신께서는 당신의 은총을 입을 만한 자격이 있는 자들을 선택하는 것이며, 필시 악행과 불경으로 기울어질 것임을 당신께서 미리 알고 있는 자들에게는 단죄를 내리는 것이다.

— 크리스토포 강요 —

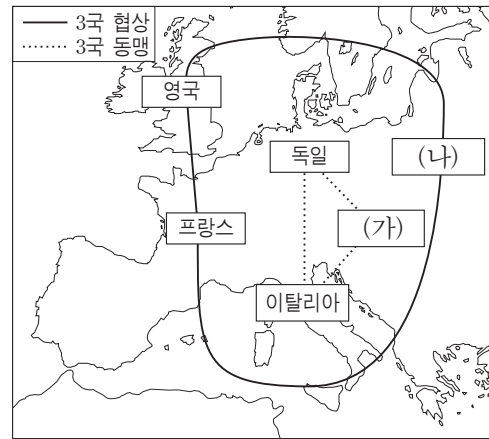
- ① 칼뱅이 주장한 예정설이야.
- ② 아비뇽 유수와 관련이 있어.
- ③ 후스가 화형에 처해진 근거야.
- ④ 교회의 대분열을 보여주고 있어.
- ⑤ 절대 왕정을 뒷받침한 이론이야.

18. (가)에서 (나)로 변화하게 된 배경으로 가장 적절한 것은? [3점]

(가)	(나)
〇〇신문 <호외> 인도 국민 회의 창립! 온건파 주도로 점진적 · 합법적 개혁 추진	〇〇신문 <호외> 인도 국민 회의, 콜카타 대회 개최! 영국 상품 불매, 스와라지, 스와데시, 국민 교육 진흥 결의

- ① 세포이의 항쟁이 일어났다.
- ② 벵골 분할령이 발표되었다.
- ③ 영국령 인도 제국이 성립되었다.
- ④ 브라모 사마지 운동이 일어났다.
- ⑤ 인도 통치 개선법이 제정되었다.

19. (가), (나) 국가에 대한 설명으로 옳은 것을 <보기>에서 고른 것은?




<보 기>

- ㄱ. (가) — 범게르만주의를 내세웠다.
- ㄴ. (가) — 모로코에서 프랑스와 충돌하였다.
- ㄷ. (나) — 제1차 세계 대전 때 독일과 단독 강화를 맺었다.
- ㄹ. (나) — 제1차 발칸 전쟁에서 패하여 발칸 반도의 대부분을 상실하였다.

- ① ㄱ, ㄴ ② ㄱ, ㄷ ③ ㄴ, ㄷ ④ ㄴ, ㄹ ⑤ ㄷ, ㄹ

20. 그림의 사건이 일어난 배경을 탐구하기 위한 주제로 가장 적절한 것은?

이 그림은 식민지인들이 보스턴 항에 정박 중이던 영국 동인도 회사 소속의 상선을 습격하여 차 상자를 바다에 던져 버린 사건을 그린 것입니다.



- ① 대륙 봉쇄령의 발표
- ② 자코뱅파의 공포 정치
- ③ 제임스 1세의 국교회 고수
- ④ 심사법과 인신 보호법의 제정
- ⑤ 7년 전쟁과 중상주의 정책 강화

♣ 확인 사항

답안지에 필요한 사항을 정확히 기입(표기)하였는지 확인하십시오.