

제 4 교시

사회탐구 영역(세계지리)

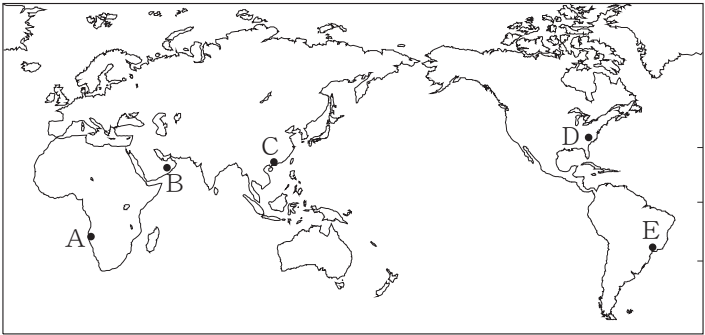
성명

수험 번호



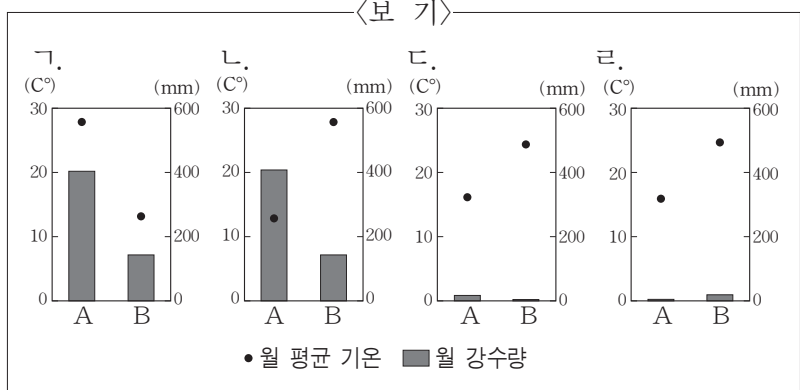
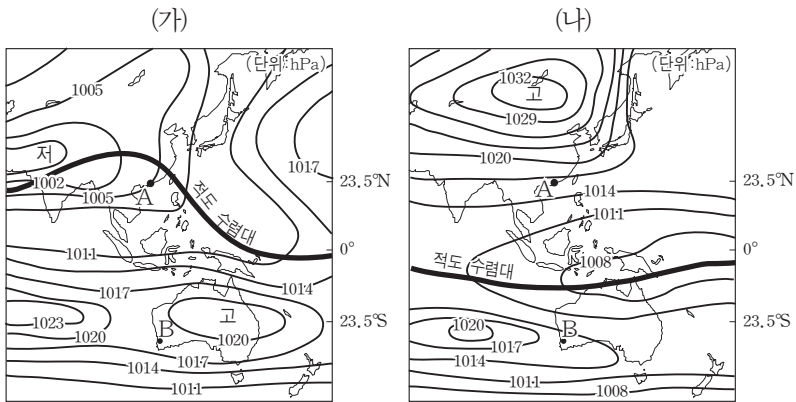
1. 다음 글의 밑줄 친 ‘이 지역’을 지도의 A~E에서 고른 것은?

이 지역은 연 강수량이 100mm도 안될 정도로 매우 건조하다. 그러나  
풍뎅이들은 이렇게 메마른 땅에서도  
독특한 방식으로 물을 얻어 생존한  
다. 이 지역은 한류의 영향으로 안개  
가 자주 발생한다. 이를 이용하여 안  
개가 자욱한 새벽에 풍뎅이들은 모래 언덕으로 올라가 머리를 낮추  
고 꿈무늬를 들어 물구나무를 선 것처럼 자세를 취한다. 안개가 풍  
뎅이의 등을 지나면서 물방울이 맺히게 되고, 이렇게 맺힌 물방울  
은 풍뎅이의 입으로 흘러 들어가게 된다.



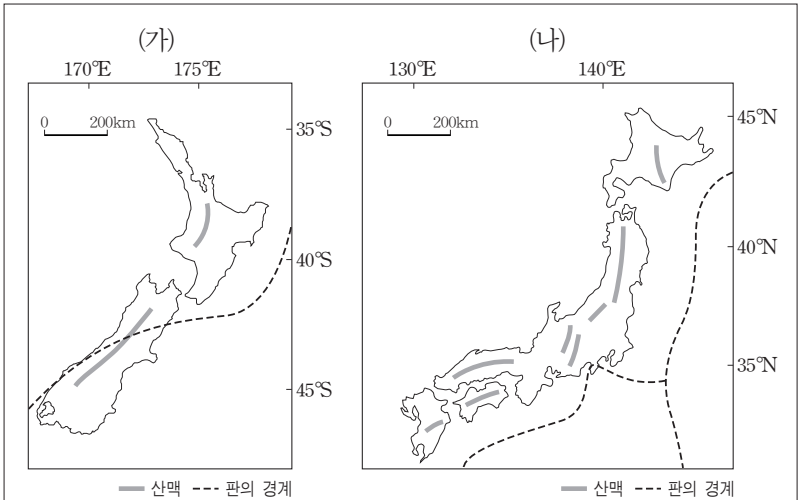
- ① A      ② B      ③ C      ④ D      ⑤ E

2. 지도는 1월과 7월의 적도 수렴대와 기압 분포를 나타낸 것이다. (가), (나)월에 A, B 지역의 평균 기온과 강수량을 <보기>에서 고른 것은? (3점)



- |     |   |     |   |
|-----|---|-----|---|
| ① 가 | 나 | ② 가 | 나 |
| ③ 나 | 가 | ④ 나 | 가 |
| ⑤ 가 | 나 |     |   |

3. 다음은 세계 지리 수업 시간의 한 장면이다. 발표한 내용이 옳지 않은 학생을 고른 것은? (3점)



교사: 지도에 제시된 (가), (나) 국가의 위치 정보를 보고 알 수 있는 내용에 대해 발표해볼까요?  
갑: (가) 국가는 (나) 국가보다 빠른 표준시를 사용합니다.  
을: 7월에 (가) 국가는 겨울, (나) 국가는 여름입니다.  
교사: 지도에 제시된 (가), (나) 국가의 산맥과 판의 경계와 관련하여 알고 있는 내용을 발표해볼까요?  
병: (가) 국가의 산맥은 대부분 신생대에 조산 운동을 받아 형성되었습니다.  
정: (나) 국가의 화산이 1월에 폭발할 경우 화산재는 대부분 서쪽으로 확산됩니다.  
무: (가) 국가와 (나) 국가는 모두 판과 판의 경계에 위치합니다.

- ① 갑      ② 을      ③ 병      ④ 정      ⑤ 무

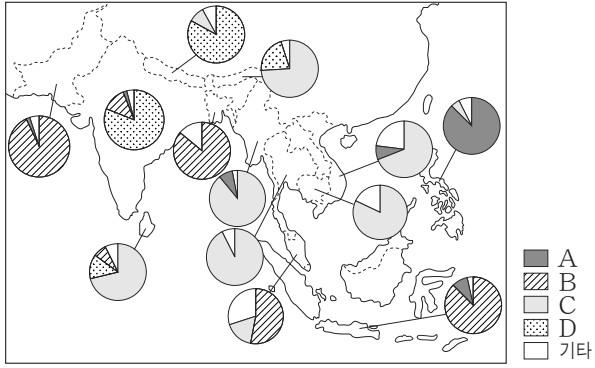
4. 다음 글의 밑줄 친 ‘이 국가’를 지도의 A~E에서 고른 것은?

마리오 데 안드리지가 1928년에 쓴 소설 ‘마쿠나이마’에는 이 국가의 인종적 특징이 잘 표현되어 있다. 소설 속 주인공 마쿠나이마는 검은 피부를 가진 인디오지만 목욕을 하면 피부가 백색으로 바뀐다. 그러므로 마쿠나이마는 인디오면서 아프리카계 흑인이자 유럽인인 셈이다. 소설은 이 국가를 배경으로 서로 다른 인종적 배경을 가진 사람들의 문화적 정체성을 희극적으로 묘사하고 있다.



- ① A      ② B      ③ C      ④ D      ⑤ E

[5~6] 지도는 남부 및 동남 아시아 주요 국가의 종교별 신도 수 비중을 나타낸 것이다. 이를 보고 물음에 답하시오.



(세계국세도회, 2009)

5. 지도의 A~D 종교에 대한 옳은 설명을 <보기>에서 고른 것은? [3점]

<보 기>

- ㄱ. A와 D는 유일신을 숭배한다.  
 ㄴ. B와 C는 유럽 식민 지배의 영향으로 아시아에 전파되었다.  
 ㄷ. C의 발생지와 D의 발생지는 동일한 국가에 속해 있다.  
 ㄹ. A는 B보다 세계에서 신도 수가 많다.

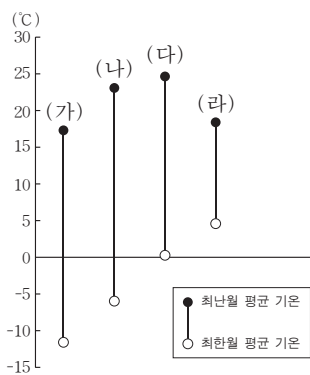
- ① ㄱ, ㄴ    ② ㄱ, ㄷ    ③ ㄴ, ㄷ    ④ ㄴ, ㄹ    ⑤ ㄷ, ㄹ

6. 다음 자료는 두 종교에서 금기시되는 음식에 대한 것이다. (가), (나) 종교를 지도의 A~D에서 고른 것은?

- (가) 돼지고기, 동물의 피, 술 등을 먹지 않는다. 특히 돼지고기를 금기시 하는 것은 기후와 관련하여 설명하기도 한다. 돼지 사육에는 많은 물이 필요한데, 건조 기후 지역에서는 물을 구하기 힘들기 때문이다.  
 (나) 소를 신성시하여 소고기를 먹지 않는다. 이러한 금기의 원인 중 하나로 농경에 이용되는 소를 잡아먹게 되면 농사를 짓기가 어렵다는 점을 들기도 한다. 또한 생명 윤회에 대한 믿음 때문에 모든 생명체를 해치지 않아야 한다고 생각하여 채식을 선호한다.

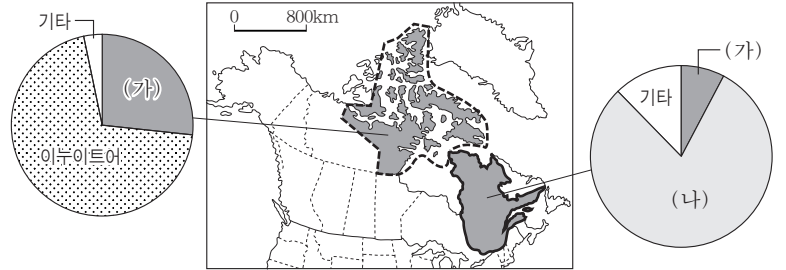
- |     |     |     |     |
|-----|-----|-----|-----|
| (가) | (나) | (가) | (나) |
| ① A | B   | ② B | C   |
| ③ B | D   | ④ C | B   |
| ⑤ C | D   |     |     |

7. 그래프는 네 지역의 최난월과 최한월 평균 기온을 나타낸 것이다. (가)~(라) 지역을 지도의 A~D에서 고른 것은? [3점]

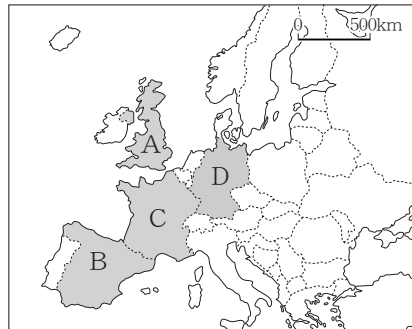


- |     |     |     |     |
|-----|-----|-----|-----|
| (가) | (나) | (다) | (라) |
| ① A | D   | B   | C   |
| ② B | C   | A   | D   |
| ③ B | C   | D   | A   |
| ④ C | B   | A   | D   |
| ⑤ C | B   | D   | A   |

8. 다음 자료는 두 지역의 언어 사용자 수 비중을 나타낸 것이다. (가), (나)를 공용어로 사용하는 국가를 지도의 A~D에서 고른 것은?

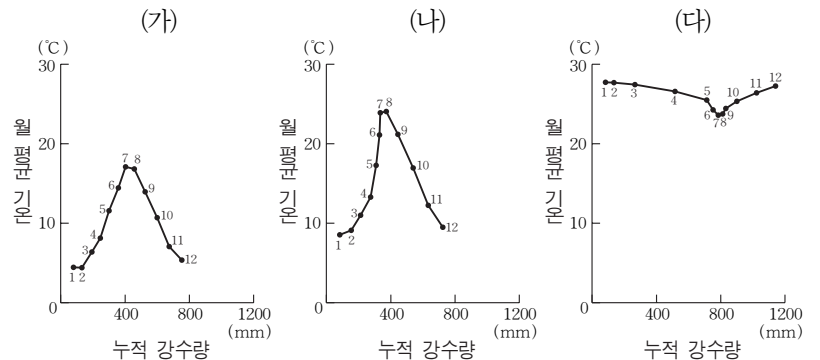


(캐나다통계청, 2009)

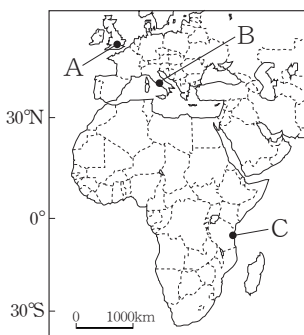


- |     |     |
|-----|-----|
| (가) | (나) |
| ① A | B   |
| ② A | C   |
| ③ B | C   |
| ④ B | D   |
| ⑤ C | D   |

9. 그래프는 세 지역의 월 평균 기온과 누적 강수량을 나타낸 것이다. (가)~(다) 지역을 지도의 A~C에서 고른 것은? [3점]



\* 각 점의 숫자는 해당 월(月)을 의미함.

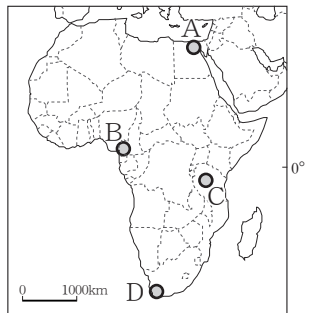


- |     |     |     |
|-----|-----|-----|
| (가) | (나) | (다) |
| ① A | B   | C   |
| ② A | C   | B   |
| ③ B | A   | C   |
| ④ B | C   | A   |
| ⑤ C | B   | A   |

10. 다음 자료를 보고 수행 평가 보고서를 작성할 때, 수행 평가 보고서에서 A~D와 관련하여 작성될 내용으로 적절한 것을 <보기>에서 고른 것은?

#### 수행 평가 보고서 작성 안내

- 방법 : 지도에 표시된 A~D 지역에 적합한 관광 프로그램을 보고서로 작성하여 제출할 것.
- 주의 사항 : 각 지역의 자연 환경과 문화적 특성을 고려하여 작성해야 함.

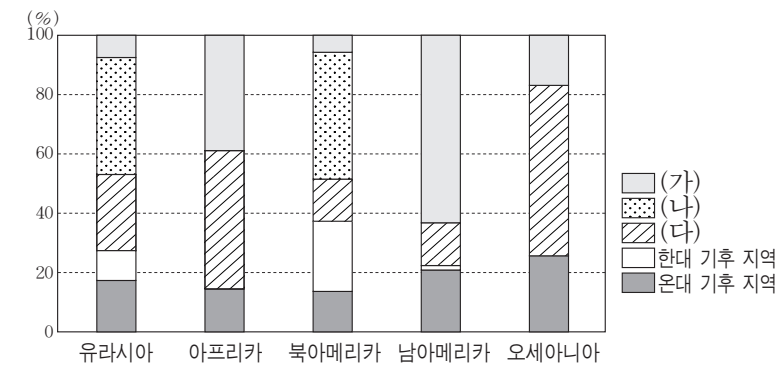


<보 기>

- ㄱ. A - 고대 역사 유적 및 이슬람 사원 방문  
 ㄴ. B - 오아시스 및 사막 썰매 타기 체험  
 ㄷ. C - 사파리 관광을 통한 야생 동물 촬영  
 ㄹ. D - 열대 우림 및 원시 부족 문화 체험

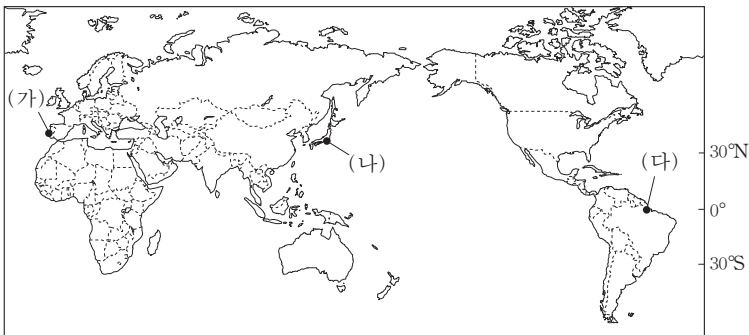
- ① ㄱ, ㄴ    ② ㄱ, ㄷ    ③ ㄴ, ㄷ    ④ ㄴ, ㄹ    ⑤ ㄷ, ㄹ

11. 그래프는 주요 대륙의 기후 지역별 면적 비중을 나타낸 것이다. (가)~(다) 기후 지역의 상대적 순위를 그림에서 고른 것은? (단, (가)~(다)는 열대, 건조, 냉대 기후 지역 중 하나임.) [3점]



			(가)	(나)	(다)
↑	1위	A	B	C	① A E I
↑	2위	D	E	F	② B D I
↑	3위	G	H	I	③ C E G
↓					④ G F B
↓					⑤ H A F
↓	적다				
		3위	2위	1위	
		낮다	← 수목(樹木) 밀도 →	높다	

12. 지도에 표시된 (가)~(다) 지역의 기후에 대한 옳은 설명을 <보기>에서 고른 것은? [3점]

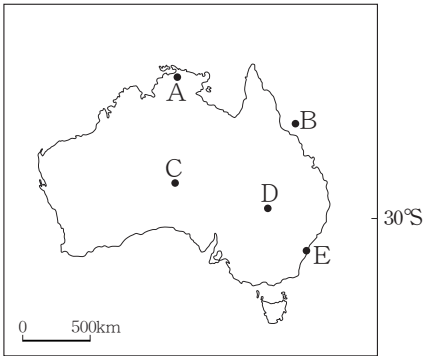


<보 기>

- ㄱ. (가)는 (나)보다 7월 강수량이 많다.
- ㄴ. (가)는 (다)보다 연 강수량이 많다.
- ㄷ. (나)는 (가)보다 기온의 연교차가 크다.
- ㄹ. (다)는 (나)보다 연 평균 기온이 높다.

- ① ㄱ, ㄴ    ② ㄱ, ㄷ    ③ ㄴ, ㄷ    ④ ㄴ, ㄹ    ⑤ ㄷ, ㄹ

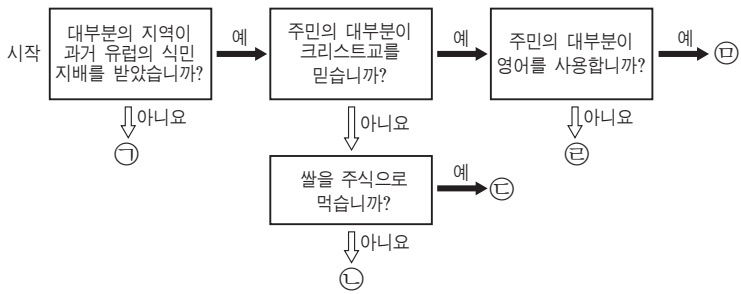
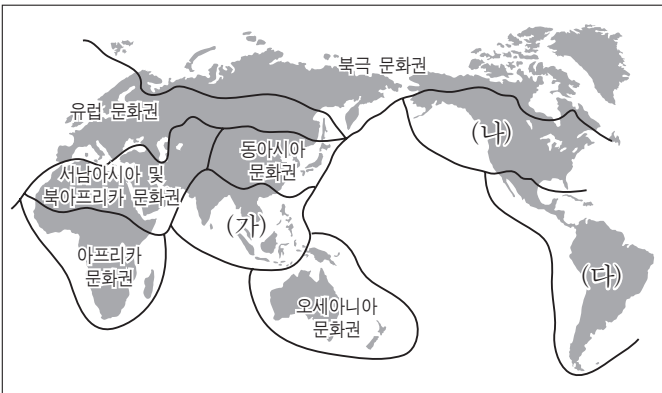
13. 지도에 표시된 A~E 지역을 대상으로 하는 여행 상품의 홍보 문구로 적절하지 않은 것은?



- ① A - 밀림과 사바나에 서식하는 희귀 동식물들을 가까이서 관찰해 보세요!
- ② B - 크루즈를 타고 세계 최대의 대보초 해안을 탐험해 보세요!
- ③ C - 모래 사막과 지구의 배꼽이라고 불리는 거대한 바위산을 보러 갈까요?
- ④ D - 연기가 피어오르는 화산을 바라보며 천연 온천에 몸을 담그며 피로를 푸세요!
- ⑤ E - 조개 껍데기 모양의 지붕으로 유명한 오페라 하우스의 내부를 직접 보고 싶지 않으세요?

14. 지도의 (가)~(다) 문화 지역의 특성을 그림의 ㉠~㉣에서 고른 것은? [3점]

<세계의 문화 지역 구분>



- | (가) | (나) | (다) |
|-----|-----|-----|
| ① ㉠ | ㉡   | ㉢   |
| ② ㉡ | ㉢   | ㉣   |
| ③ ㉢ | ㉣   | ㉠   |
| ④ ㉣ | ㉠   | ㉡   |
| ⑤ ㉣ | ㉡   | ㉢   |

15. 다음은 학생이 작성한 수행 평가 보고서이다. 밑줄 친 ㉠~㉣에 대한 옳은 설명만을 <보기>에서 있는 대로 고른 것은? [3점]

수행 평가 보고서

단원	유럽의 다양한 축제와 지역 특성
주제	유럽 각 지역의 다양한 축제를 통해 자연 환경의 특징 이해
사례	<ul style="list-style-type: none"><li>• 백야 축제 - ㉠○○지역에서는 낮 길이가 무려 20시간이나 지속되는 ㉡백야 현상이 나타나는 시기가 되면, 이를 이용하여 다양한 문화 행사가 펼쳐진다.</li><li>• 눈 축제 - ㉢알프스 산지에 위치한 △△지역은 눈 축제로 유명하다. 시내 중심부에 있는 천연 아이스 링크에서는 얼음과 눈으로 만든 조각 작품들을 볼 수 있다.</li><li>• 와인(Wine) 축제 - ㉣□□지역은 ㉣기후 특성상 수목 농업이 발달하였다. 특히 지역 특산물인 포도로 빚은 와인을 상대방에게 뿌리며 즐기는 축제로 유명하다.</li></ul>

<보 기>

- ㄱ. ㉠은 ㉡보다 고위도에 위치한다.
- ㄴ. ㉡은 11~1월에 해당한다.
- ㄷ. ㉢은 신생대의 조산 운동으로 형성되었다.
- ㄹ. ㉣은 여름이 고온 건조하기 때문이다.

- ① ㄱ, ㄴ    ② ㄴ, ㄷ    ③ ㄱ, ㄴ, ㄹ  
④ ㄱ, ㄷ, ㄹ    ⑤ ㄴ, ㄷ, ㄹ



16. 다음은 세계 지리 수업 시간의 한 장면이다. 발표한 내용이 옳은 학생을 고른 것은?

그림은 시기별 주요 교통 수단과 시공간 거리를 나타낸 것입니다. 이 과정에서 나타난 변화에 대해 발표해볼까요?

1500~1840년  
마차·범선  
평균 속도 16km/h

1850~1930년  
증기선  
평균 속도 25km/h

1950년대  
프로펠러 비행기  
평균 속도 480~640km/h

현재  
제트 비행기  
평균 속도 800~1,120km/h

갑, 을, 병, 정

각국의 경제가 발달하여 자금이 가능해지면서 세계 무역액은 감소했을 것입니다.

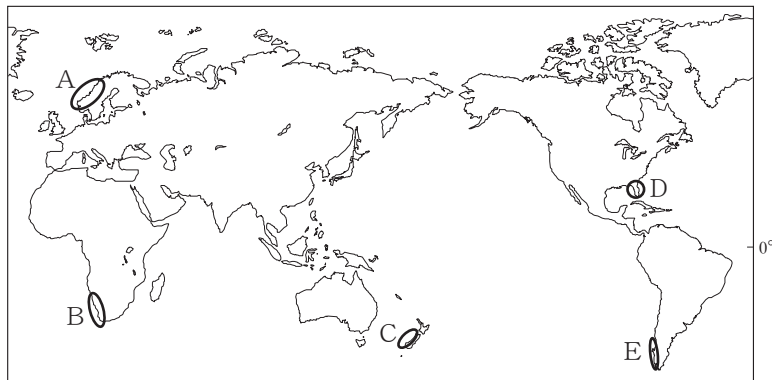
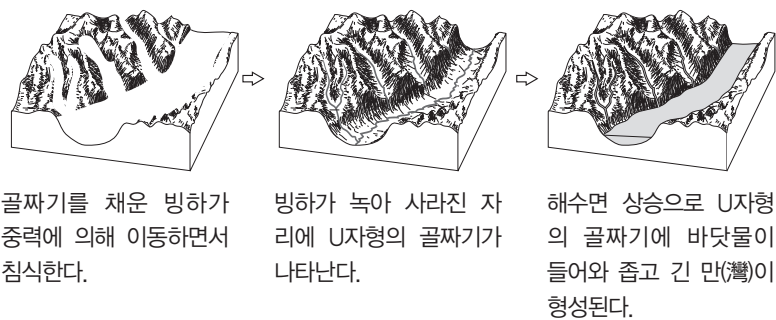
여러 국가에서 경제 활동을 하는 다국적 기업의 수는 증가했을 것입니다.

취업을 목적으로 다른 나라로 이주하는 노동자의 수는 감소했을 것입니다.

상품 수송에 소요되는 평균 기간은 단축되었을 것입니다.

① 갑, 을    ② 갑, 병    ③ 을, 병    ④ 을, 정    ⑤ 병, 정

17. 다음 자료는 어느 해안의 형성 과정을 모식적으로 나타낸 것이다. 이러한 해안이 나타나는 지역만을 지도의 A~E에서 있는 대로 고른 것은?



- ① A, C    ② B, D    ③ A, C, E  
④ B, C, D    ⑤ C, D, E

18. ○○ 단체는 <조건>을 모두 만족하는 국가에 의료 봉사 활동을 나가려고 한다. 가장 적절한 국가를 지도의 A~E에서 고른 것은?

〈조 건〉

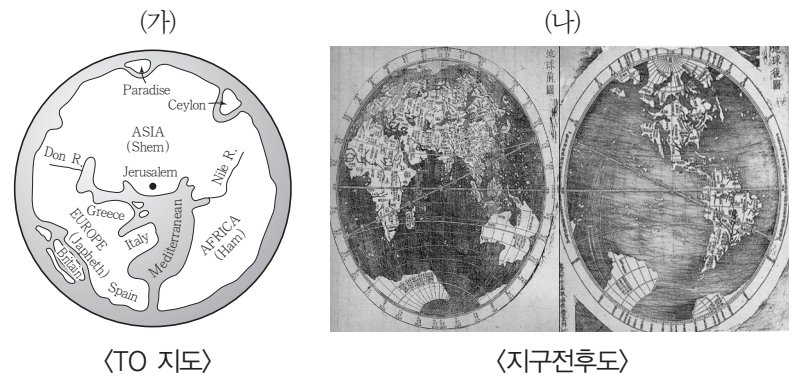
조건 1 : 1인당 원조를 받는 금액이 123 달러 이하이어야 함.  
조건 2 : 1인당 국내 총생산이 1,319 달러 이하이어야 함.  
조건 3 : 10만 명당 결핵 환자 수가 182명보다 많아야 함.

〈1인당 원조를 받는 금액〉    〈1인당 국내 총생산〉    〈10만 명당 결핵 환자 수〉

(Worldbank, 2010)

① A    ② B    ③ C    ④ D    ⑤ E

19. (가), (나) 지도에 대한 설명으로 옳지 않은 것은?



- ① (가)는 크리스티오의 세계관이 반영되어 있다.  
② (나)는 경위선을 이용하여 위치를 표현하였다.  
③ (가)는 (나)보다 지도의 제작 시기가 이른다.  
④ (나)는 (가)보다 표현된 대륙의 수가 많다.  
⑤ (가), (나)는 지도의 위쪽이 북쪽을 가리킨다.

20. 지도에 표시된 A~D 산지에 대한 옳은 설명을 <보기>에서 고른 것은? (3점)



- 〈보 기〉
- ㄱ. A는 B보다 평균 해발 고도가 높다.  
ㄴ. B는 C보다 형성 시기가 늦다.  
ㄷ. D는 C보다 지진의 발생 빈도가 높다.  
ㄹ. B와 D는 모두 대륙판과 해양판의 충돌로 인해 형성되었다.

- ① ㄱ, ㄴ    ② ㄱ, ㄷ    ③ ㄴ, ㄷ    ④ ㄴ, ㄹ    ⑤ ㄷ, ㄹ

♣ 확인 사항

답안지에 필요한 사항을 정확히 기입(표기)하였는지 확인하시오.