

9. <보기>의 식으로 설명되는 현상으로 가장 옳은 것은?

<보기>

$$\delta = \sqrt{\frac{1}{\pi f \sigma \mu}}$$

δ : 침투깊이 f : 주파수
 σ : 도전율 μ : 투자율

- ① 렌츠의 법칙
- ② 패러데이의 법칙
- ③ 표피효과
- ④ 비오-사바르 법칙

10. 어떤 회로에 공급되는 전력이 시간에 따라

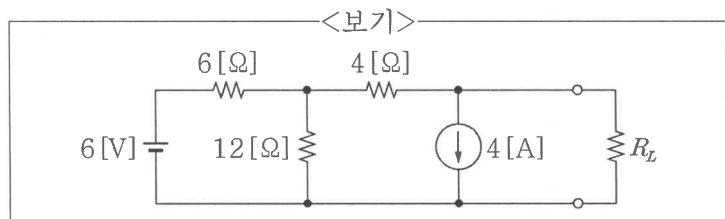
$p(t) = 2t + 2$ [W]와 같이 변할 때, $t = 0$ [s]에서 $t = 2$ [s]까지 공급되는 에너지의 값 [J]은?

- ① 4 ② 6
- ③ 8 ④ 10

11. 자유공간 내 무한한 길이의 도선에서 0.5 [m] 거리에 점이 위치한다. 이때, 이 점에서 자속밀도의 크기 [Wb/m²]는? (단, 도선을 통해 흐르는 전류는 2 [A], 자유공간의 투자율 μ_0 는 $4\pi \times 10^{-7}$ [H/m]이다.)

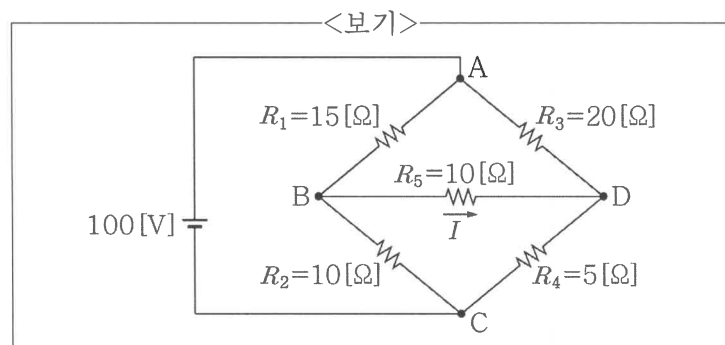
- ① 1×10^{-7} ② 2×10^{-7}
- ③ 4×10^{-7} ④ 8×10^{-7}

12. <보기>의 회로에서 R_L 부하에 최대 전력 전달이 되도록 저항값을 정하려 한다. 이때, R_L 의 값 [Ω]은?



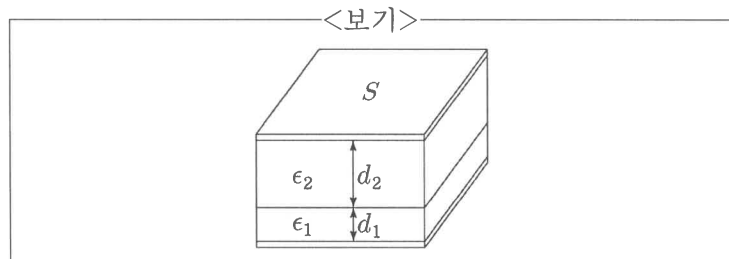
- ① 8 ② 10
- ③ 12 ④ 14

13. <보기>의 회로에서 R_5 에 흐르는 전류 I 의 값 [A]은?



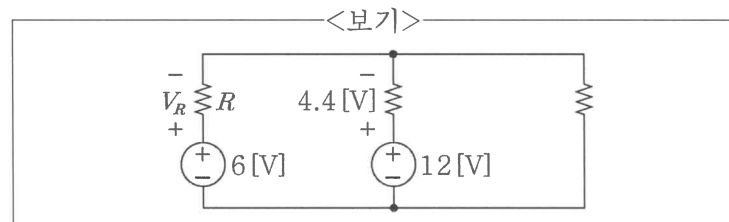
- ① 1 ② 2
- ③ 3 ④ 4

14. <보기>와 같이 두 개의 서로 다른 유전체로 이루어진 평행판 커패시터가 있다. 첫 번째 유전체의 두께 d_1 는 4.5 [m], 비유전율 ϵ_{r1} 은 1이며, 두 번째 유전체의 두께 d_2 는 9 [m], 비유전율 ϵ_{r2} 은 2라고 할 때, 이 커패시터의 전체 정전용량의 값 [F]은? (단, 두 평행판의 면적 S 는 1 [m²]이고, 자유공간의 유전율 ϵ_0 는 9×10^{-12} [F/m]이다.)



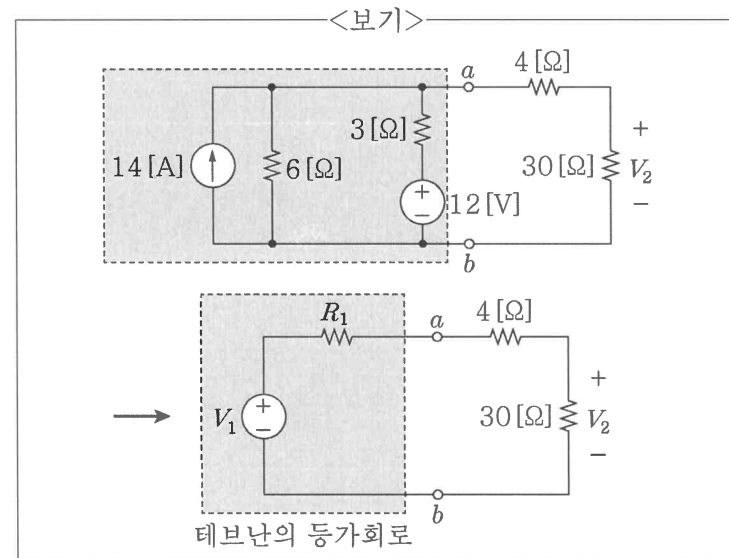
- ① 0.5×10^{-12} ② 1×10^{-12}
- ③ 2×10^{-12} ④ 3×10^{-12}

15. <보기>에서 R 양단의 전압 V_R 의 크기 [V]와 극성을 옳게 짝지은 것은?



- | | 크기 | 극성 | 크기 | 극성 | |
|---|------|----|----|------|---|
| ① | 1.6 | + | ② | 1.6 | - |
| ③ | 10.4 | + | ④ | 10.4 | - |

16. <보기>에서 $a-b$ 좌측을 테브난의 등가회로로 바꿀 때, V_1 과 V_2 의 값 [V]은?



- | | V_1 | V_2 | V_1 | V_2 | |
|---|-------|----------------|-------|-------|----|
| ① | 20 | $\frac{50}{3}$ | ② | 20 | 30 |
| ③ | 36 | $\frac{50}{3}$ | ④ | 36 | 30 |

