


제 4 교시

직업탐구 영역(상업 경제)

성명		수험번호					3			제 [ ] 선택
----	--	------	--	--	--	--	---	--	--	----------

1. 다음은 환경 관련 뉴스이다. 이에 나타난 문제점을 해결하기 위한 국제 환경 협약으로 가장 적절한 것은?



지구 온난화에 따라 대기 중 탄소량의 두 배가 묻힌 것으로 알려진 동토층의 붕괴가 앞당겨 질 수 있다는 연구 보고서가 나왔습니다. 연구소 관계자는 동토층이 완전히 녹으면 온실가스가 배출되어 날씨가 더 따뜻해지고, 결국 동토\*가 녹는 것은 전 세계 자연환경에 영향을 미치게 될 것이라고 말했습니다.

\* 동토: 언 땅, 얼어붙은 땅

- ① 파리 협정
- ② 람사르 협약
- ③ 몬트리올 의정서
- ④ 사막화 방지 협약
- ⑤ 생물 다양성 협약

2. 다음은 경쟁 매매에 해당하는 사례이다. 이에 나타난 매매 방식에 대한 설명으로 옳은 것은?

전라남도 ○○군은 매주 토요일 오후 3시 청자박물관 시청각실에서 명품 청자를 경쟁 매매 방식으로 판매하고 있다. 거래 방식은 감정가의 50% 금액으로 시작해 동시 경쟁으로 구두 또는 손짓으로 최고 가격을 제시한 사람이 낙찰자로 선정되는 방식이다.

- ① 다수의 판매자와 한 명의 구매자 간의 거래이다.
- ② 상품거래소에서 상품을 매매할 때 주로 이용된다.
- ③ 가격 제시 방법은 적상법 또는 적하법이 사용된다.
- ④ 수요와 공급 법칙에 의해 균형 가격으로 거래된다.
- ⑤ 공기업의 물품 구매 시 사용하는 매매 방법과 동일하다.

3. 다음은 사회 보험 관련 질문과 답변 내용이다. 이에 따라 질문자에게 적용 가능한 보험에 대한 설명으로 옳은 것은?

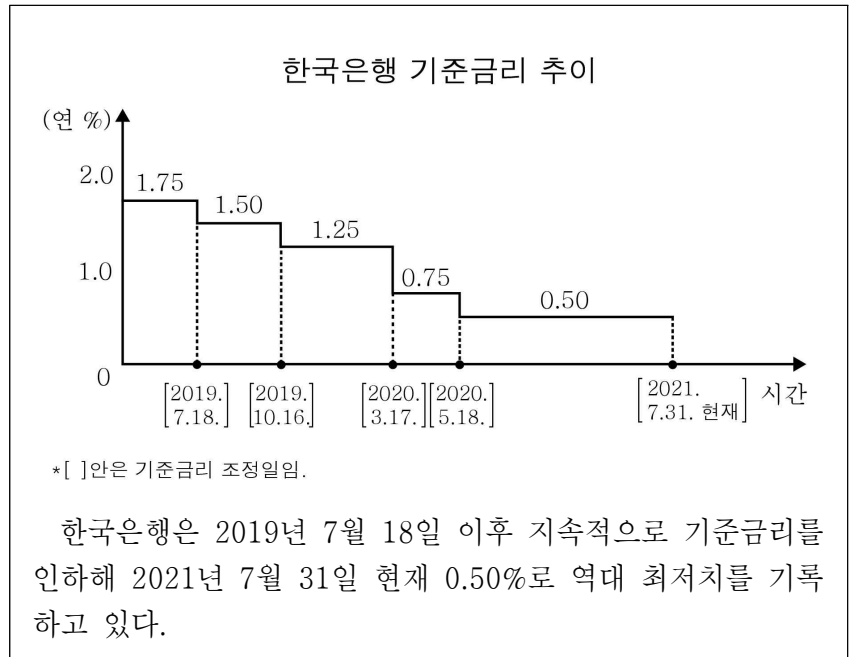
Q & A 게시판

**질문** 제가 방학 기간(1개월) 동안 주 3일, 1일 4시간씩 총 48시간 편의점 아르바이트를 하려고 합니다. 이런 경우 사회 보험 적용이 가능할까요?

**답변** 단시간 근로자는 월 소정 근로 시간이 60시간 이상이거나 60시간 미만이라도 3개월 이상 계속하여 근로하는 경우에 국민연금, 국민건강보험, 고용보험의 가입 대상이 됩니다. 단, 산업재해보상보험은 1일을 근무하더라도 적용 대상이 됩니다.

- ① 저축성 기능을 가진다.
- ② 산업정책보험에 해당한다.
- ③ 개인이 보험료를 전액 부담한다.
- ④ 근로자의 업무상 재해에 대해 보상한다.
- ⑤ 근로자의 실직 시 실업 급여를 지급한다.

4. 다음은 한국은행의 기준금리 관련 자료이다. 기준금리 추이에 따라 나타나는 경제 현상을 추론한 것으로 적절한 것만을 <보기>에서 고른 것은? (단, 기준금리와 통화량만 고려한다.) [3점]



- < 보 기 > —
- ㄱ. 시중 통화량이 감소했을 것이다.
  - ㄴ. 소비자 물가가 상승했을 것이다.
  - ㄷ. 시중 은행의 예금 금리가 상승했을 것이다.
  - ㄹ. 2019년 8월에 변동 금리형으로 대출받은 가계의 이자 부담은 감소했을 것이다.

- ① ㄱ, ㄴ
- ② ㄱ, ㄷ
- ③ ㄴ, ㄷ
- ④ ㄴ, ㄹ
- ⑤ ㄷ, ㄹ

5. 다음은 ○○(주)의 컨설팅 의뢰서 일부이다. 이에 나타난 해외 진출 방식으로 옳은 것은?

**해외 진출 방안 컨설팅 의뢰서**

**[의뢰 목적]**  
○ 본사 해외 진출 방안 검토 요청

**[현재 상황]**  
○ 급성장하는 A국 시장에 본사의 기술과 자본을 기반으로 진출하고자 하나 해외 사업 경험이 없고 현지의 정치적, 경제적 환경에 대한 이해가 낮음.

**[해외 진출 방안]**  
○ 본사와 A국의 현지 기업이 자본과 자원을 공동 출자하여 경영권을 공유하는 투자 방식으로 진출하고자 함.

- ① 계약 생산
- ② 경영 관리 계약
- ③ 해외 간접 투자
- ④ 해외 단독 투자
- ⑤ 해외 합작 투자

16~기 다음은 A 씨의 사업자 등록 신청에 관한 내용이다. 물음에 답하시오.

A 씨는 국세청 홈택스 홈페이지에서 주업종과 부업종을 다음과 같이 선택하여 개인 사업자 등록 신청을 하였다.

← → ↻ <https://www.hometax.go.kr/>

≡ 신청/제출

사업자 등록 신청(개인) 개인 사업자 등록을 신청하는 민원입니다.

● 상호명 : ○○물류

● 업종 선택

선택	업종구분	업종코드	업태명	업종명
<input checked="" type="checkbox"/>	주	630201	운수 및 참고업	일반 참고업
<input checked="" type="checkbox"/>	부	602302	운수 및 참고업	일반 화물 자동차 운송업

6. 위 자료의 업종 선택에 따라 A 씨가 수행할 상업의 기능으로 적절한 것만을 <보기>에서 고른 것은?

< 보 기 >

ㄱ. 인적 불일치를 조절하는 기능  
 ㄴ. 시간적 불일치를 조절하는 기능  
 ㄷ. 장소적 불일치를 조절하는 기능  
 ㄹ. 위험에 따른 경제적 손실을 보상하는 기능

- ① ㄱ, ㄴ                      ② ㄱ, ㄷ                      ③ ㄴ, ㄷ  
 ④ ㄴ, ㄹ                      ⑤ ㄷ, ㄹ

7. 위 자료에 나타난 ○○물류의 기업 형태에 대한 설명으로 옳은 것은? [3점]

- ① 소수 공동 기업에 해당한다.  
 ② 생산자와 소비자가 공동으로 출자한다.  
 ③ 유한 책임 사원과 무한 책임 사원으로 구성된다.  
 ④ 주식과 채권을 발행하여 자금을 조달할 수 있다.  
 ⑤ 개인에게 기업 경영에 대한 모든 책임과 권한이 있다.

8. 다음 ○○의류가 활용하는 유통 정보 시스템을 통해 얻을 수 있는 효과로 가장 적절한 것은?

○○의류는 제품의 디자인·구매·제조 등의 과정을 최적화하여 수요자가 원하는 제품을 적절한 시간과 장소에 제공하는 공급망 관리를 활용하고 있다. 이를 통해 1만 가지가 넘는 스타일의 다양한 제품을 내놓으면서도 신제품 개발부터 유통까지 2주 만에 마칠 수 있는 민첩함이 바로 ○○의류의 경쟁력이자 사업 성공 비결이다.

- ① 상품별 실시간 재고량을 파악할 수 있다.  
 ② 전자 문서를 통하여 업무의 효율성을 높일 수 있다.  
 ③ 화물의 수송·배송 현황을 실시간으로 조회할 수 있다.  
 ④ 제품 생산, 유통, 판매 과정의 모든 단계를 체계적으로 관리할 수 있다.  
 ⑤ 인사, 회계, 물류, 생산 등 업무 프로세스들을 통합적으로 관리할 수 있다.

9. 다음 업무 메일 내용을 통해 알 수 있는 조직의 형태로 가장 적절한 것은?

✉

답장    전체 답장    전달    삭제

발신 기획조정실장  
 수신 @각 부서장  
 참조 대표이사

제 목 : 기획조정실 주관 업무 회의 안내

대표이사님께서 지시하신 업무의 부서별 진행 상황을 중간 점검한 결과, 지시 의도와 다르게 진행되고 있어 업무에 차질이 발생하고 있습니다. 이에 따라 업무를 합리적으로 조정 및 추진하기 위해 기획조정실에서 주관하여 회의를 실시하고자 합니다.

- 일시 : 2021. 10. 6.(수) 오전 10:00
- 장소 : 대회의실

- ① 기능식 조직            ② 네트워크 조직            ③ 사업부제 조직  
 ④ 프로젝트 조직        ⑤ 라인-스태프 조직

10. 다음은 ○○출판의 마케팅 계획서이다. 이를 통해 알 수 있는 마케팅 전략으로 적절한 것만을 <보기>에서 고른 것은? [3점]

**마케팅 계획서**

[환경 분석]  
 ○ 스마트 기기 보급 확대에 따른 인쇄 출판 시장 침체  
 ○ 높은 회사 인지도 및 전자책(e-book) 제작 역량 보유

[현재 상황]  
 ○ 원가 상승에 따라 인쇄 도서 가격이 인상되고 있음.  
 ○ 인쇄 도서의 매출액 급감에 따라 대응 전략이 요구됨.

연도	2017	2018	2019	2020
매출액 (억 원)	185	162	125	60

○ 제품 수명 주기에 따라 시장 철수를 고려하였으나 현 출판 사업을 유지하며 개선하기로 함.

[마케팅 믹스 전략]  
 ○ 기존 인쇄 도서를 전자책(e-book)으로 변경하여 출시함.  
 ○ 전자책(e-book)을 자체 제작 함으로써 경쟁사 대비 낮은 가격으로 판매함.  
 ○ 전자책(e-book) 출시 기념 사은품 증정 행사를 실시함.

< 보 기 >

ㄱ. 고가격 정책을 실행한다.  
 ㄴ. 판매 촉진 전략을 활용한다.  
 ㄷ. 자사의 강점을 이용하여 외부 환경의 위협에 대응한다.  
 ㄹ. 제품 수명 주기 중 성장기에 해당하는 전략을 적용한다.

- ① ㄱ, ㄴ                      ② ㄱ, ㄷ                      ③ ㄴ, ㄷ                      ④ ㄴ, ㄹ                      ⑤ ㄷ, ㄹ

11. 다음 대화에 나타난 판매 방식에 대한 특징으로 가장 적절한 것만을 <보기>에서 있는 대로 고른 것은?

사원: 고객님, 화장품 방문 판매 사원 A입니다.  
 고객: 신제품이 출시되었다고 해서 방문을 요청했습니다.  
 사원: 고객님의 피부에 적합한 견본을 가지고 왔습니다.  
 ...(중략)...  
 고객: 제 피부에 잘 맞네요. 추천 제품으로 구매하겠습니다.

- < 보 기 >
- ㄱ. 무점포 소매업에서 활용하는 방식에 해당한다.
  - ㄴ. 가상 공간에서 시간의 제약 없이 상품을 판매한다.
  - ㄷ. 매장 내 상품 진열을 통해 고객의 구매를 촉진한다.

- ① ㄱ                      ② ㄷ                      ③ ㄱ, ㄴ
- ④ ㄴ, ㄷ                ⑤ ㄱ, ㄴ, ㄷ

[12~13] 다음은 대리점 모집 안내문이다. 물음에 답하시오.

**○○(주) 명품 김치 대리점 모집**

본사는 원재료를 안정적으로 확보하기 위해 생산자와 사전 계약을 체결하여 직매입하고 있습니다. 또한 객관화된 기준에 따른 관리 체계를 구축하여 국제 표준화 기구 인증(ISO9000)을 획득함으로써 소비자가 원하는 높은 수준의 김치를 생산합니다.

- 모집 지역: 전국(지역별 독점적 판매권 부여)
- 유통 정책

12. 위 자료의 ○○(주)가 획득한 인증과 관련된 기업의 생산 관리 활동으로 가장 적절한 것은?

- ① 구매 관리            ② 원가 관리            ③ 자재 관리
- ④ 재고 관리            ⑤ 품질 관리

13. 위 자료를 통해 알 수 있는 유통 정책에 대한 설명으로 옳은 것만을 <보기>에서 고른 것은? [3점]

- < 보 기 >
- ㄱ. 원재료 매입은 입도선매 방법이 적용된다.
  - ㄴ. (가)는 직접 유통 경로에 해당한다.
  - ㄷ. (나)는 개방적 유통 경로 정책이 적용된다.
  - ㄹ. (가)와 (나)는 수집 기관이 발달하여 있다.

- ① ㄱ, ㄴ                      ② ㄱ, ㄷ                      ③ ㄴ, ㄷ
- ④ ㄴ, ㄹ                      ⑤ ㄷ, ㄹ

14. 다음은 A국과 B, C국 간의 연도별 경제 통합 과정을 나타낸 것이다. 수입국인 A국에 나타나는 경제 현상으로 적절한 것만을 <보기>에서 고른 것은? [3점]

A국은 B국과 C국 중 수입 가격이 낮은 국가로부터 밀을 수입하고 있으며, 소비자 기호와 각국 밀의 품질은 동일하다. 연도별 경제 통합 과정은 다음과 같다.  
 (단, 수입 가격 = 수입 단가 + 수입 관세)

연도		2018년	2019년	2020년
경제 협정 체결 현황		협정 미체결	A국 ↔ B국 FTA	A국 ↔ C국 공동 시장
B국	수입 단가 (US\$/ton)	US \$120	US \$120	US \$130
	수입 관세율	30%	10%	10%
C국	수입 단가 (US\$/ton)	US \$130	US \$120	US \$120
	수입 관세율	30%	30%	0%

- < 보 기 >
- ㄱ. 2018년에는 밀 수입 시 1톤(ton)당 US \$39의 관세 수입이 발생된다.
  - ㄴ. 2019년 밀 수입 대상국은 2018년과 동일하다.
  - ㄷ. 2020년에는 C국과 단일 통화를 사용하게 된다.
  - ㄹ. 2020년에는 전년 대비 밀 1톤(ton)당 관세 수입이 US \$12 감소하게 된다.

- ① ㄱ, ㄴ                      ② ㄱ, ㄷ                      ③ ㄴ, ㄷ
- ④ ㄴ, ㄹ                      ⑤ ㄷ, ㄹ

15. 다음은 모의 투자 수업 장면이다. 이에 대한 설명으로 옳은 것만을 <보기>에서 고른 것은? [3점]

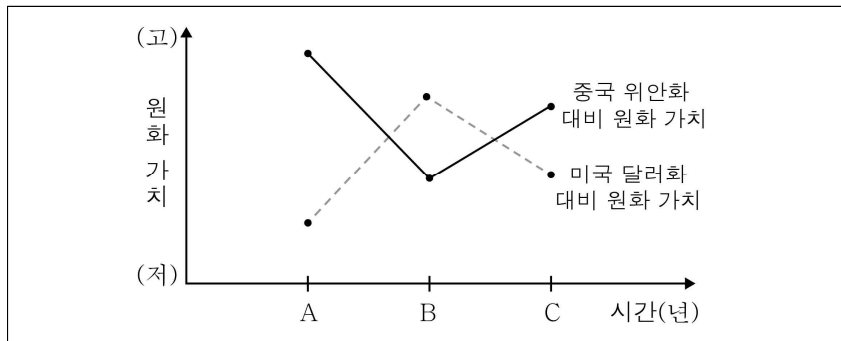
코스닥 시장에서 거래되는 ○○전자의 주식 미체결 주문 현황입니다.

○○전자 현재가 81,700원				
미체결 주문 현황				
학생명	주문 유형	주문 시간	주문 수량	주문 가격
A	매수	10:40	100주	81,600원
B	매수	10:43	200주	81,600원
C	매도	10:44	200주	82,300원
D	매도	10:45	100주	82,000원

- < 보 기 >
- ㄱ. A의 주문은 B의 주문보다 우선하여 거래될 것이다.
  - ㄴ. C의 주문은 D의 주문보다 우선하여 거래될 것이다.
  - ㄷ. ○○전자의 주식은 한국거래소에서 거래된다.
  - ㄹ. ○○전자의 주식은 최초 발행되는 증권이 거래되는 시장에서 매매가 이루어지고 있다.

- ① ㄱ, ㄴ                      ② ㄱ, ㄷ                      ③ ㄴ, ㄷ
- ④ ㄴ, ㄹ                      ⑤ ㄷ, ㄹ

16. 그래프는 각국 통화 대비 원화 가치의 변동을 나타낸 것이다. A~C 시점에 대한 설명으로 옳은 것은? (단, 환율만 고려하며, 해당국 간 통화의 환전을 전제로 한다.) [3점]



- ① 미국 달러화 대비 원화 환율은 B 시점이 가장 높다.
- ② 미국 달러화 표시 외채 상황은 A 시점보다 C 시점이 유리하다.
- ③ 중국으로 출장 시 출장 경비 부담은 B 시점이 가장 적다.
- ④ 중국 수출 대금의 회수 시점은 A 시점보다 C 시점이 불리하다.
- ⑤ 한국 시장에서 A 시점보다 B 시점에서 수입하는 미국 상품의 가격 경쟁력은 하락한다.

17. 다음은 대금 회수를 위한 수출 환어음 추심 의뢰서의 일부이다. 이를 통해 알 수 있는 내용으로 옳은 것은? [3점]

수출 환어음 추심 의뢰서			
추심 의뢰인	○○(주)	지급인	△△(주)
추심 의뢰 은행	A 은행	추심 은행	B 은행
환어음 지급 기일	일람 후 30일		

- ① A 은행은 환어음 매입 은행이다.
- ② B 은행은 수출 대금 지급을 보증한다.
- ③ ○○(주)는 기한부 환어음을 발행하였다.
- ④ △△(주)는 수출업자이다.
- ⑤ ○○(주)와 △△(주) 간의 대금 결제 조건은 D/P 방식이다.

18. 다음은 ○○(주)의 업무 관련 대화 장면이다. 이에 나타난 매매 조건에 대한 설명으로 옳은 것만을 <보기>에서 고른 것은? (단, 가격 조건은 인코텀즈 2010에 의한다.) [3점]

이번에 △△(주)로부터 받은 판매 청약서는 어떤 내용이었나요?

가격 조건은 US \$10,000 (CIF Busan)이며 수량 조건은 100톤(ton)입니다.

품질 조건은 GMQ입니다.

- < 보 기 >
- 가. 가격 조건은 복합 운송에 적용되는 방식이다.
  - 나. 수량 조건은 개수 단위 계산법을 적용하는 방식이다.
  - 다. 품질 조건은 △△(주)가 판매 적격성을 보증하는 방식이다.
  - 르. △△(주)가 ○○(주)를 피보험자로 하여 해상 보험 계약을 체결하는 조건이다.

- ① 가, 나
- ② 가, 다
- ③ 나, 르
- ④ 나, 리
- ⑤ 다, 리

19. 다음은 ○○(주)의 권리 보호를 위한 대안을 선택하는 과정이다. [대안 선택]에 나타난 무형 재화에 대한 설명으로 가장 적절한 것은?

**현재 상황**  
○ 자사가 제작한 캐릭터 인기가 높아지면서 해당 캐릭터 브랜드를 도용하는 사례가 증가하고 있음. 이에 따라 자사의 재산권 침해가 발생함.

**대안 탐색**  
○ 1안: 타 상품과 식별하는 상표를 독점적으로 이용할 수 있는 권리를 등록함.  
○ 2안: 캐릭터의 형상, 색채, 도안 등 외형 디자인에 대한 권리를 등록함.

**대안 선택**  
○ 자사의 재산권을 보호하기 위하여 1안으로 결정함.

- ① 신지식 재산권에 해당한다.
- ② 10년마다 권리를 갱신할 수 있다.
- ③ 물품의 구조 등의 실용적 개선에 대한 권리이다.
- ④ 창작과 동시에 별도의 절차 없이 보호를 받는다.
- ⑤ 생산 활동에 제공되는 무형의 정신적, 신체적 서비스이다.

20. 다음은 수출 담당자의 업무 일지 일부이다. 이에 대한 설명으로 옳은 것만을 <보기>에서 있는 대로 고른 것은? (단, 가격 조건은 인코텀즈 2010에 의한다.) [3점]

업무 일지	
일자	내용
9/ 1	수출 계약(FOB 가격 조건) 체결 후 물품을 확보함.
9/ 8	선박 회사에 선적 요청서(S/R)를 발송함.
9/12	선박 회사로부터 (가) 을/를 수령함.
9/13	수출 관련 서류를 첨부하여 세관 검사를 마친 후 수출 신고 필증을 교부받음.
9/30	본선에 (가) 을/를 제시 후 물품을 적재하고 본선 수취증(M/R)을 수령함.
10/ 6	선박 회사에 본선 수취증(M/R) 제출 후 (나) 을/를 발급 받음.

- < 보 기 >
- 가. (가)는 화물 인도 지시서(D/O)이다.
  - 나. (나)는 상품 증권에 해당한다.
  - 다. 수출업자의 책임 분기점과 비용 분기점은 동일하다.

- ① 가
- ② 다
- ③ 가, 나
- ④ 나, 다
- ⑤ 가, 나, 다

**\* 확인 사항**  
○ 답안지의 해당란에 필요한 내용을 정확히 기입(표기)했는지 확인하시오.