

제 4 교시

사회탐구 영역 (경제)

성명  수험 번호         2    제 [  ] 선택

1. 표는 경제 활동의 사례 ㉠ ~ ㉣을 경제 활동의 유형과 객체에 따라 구분한 것이다. 이에 대한 설명으로 옳은 것은?

구분		경제 활동의 유형	
		소비	생산
경제 활동의 객체	재화	㉠	㉡
	서비스	㉢	㉣

- ① 학생이 책가방을 구입하는 것은 ㉠에 해당한다.
- ② 의사가 환자에게 약을 처방하는 것은 ㉡에 해당한다.
- ③ 강사가 유료 인터넷 강의를 제작하는 것은 ㉢에 해당한다.
- ④ 관객들이 극장에서 영화를 관람하는 것은 ㉣에 해당한다.
- ⑤ ㉠ ~ ㉣은 모두 부가 가치를 창출하는 경제 활동의 사례이다.

2. 그림은 신문 기사의 일부이다. 이를 통해 알 수 있는 정부의 경제적 역할로 가장 적절한 것은?

□□신문 2023년 ○○월 ○○일

정부는 교통 인프라가 제대로 갖추어지지 않은 5개 지역의 도로망을 새로 구축하고 정부 차원에서 관리하겠다고 밝혔다. 이를 통해 정부는 물류 비용을 절감하고 지역 주민의 불편을 해소할 수 있을 것으로 기대하고 있다.

- ① 정부 활동에 필요한 재원을 조달한다.
- ② 소득 재분배를 통해 불평등을 완화한다.
- ③ 재정 활동을 통해 물가 안정을 유도한다.
- ④ 공정 경쟁 질서 확립을 위해 규칙을 제정한다.
- ⑤ 시장에서 충분히 공급되지 않는 사회 간접 자본을 공급한다.

3. A, B에 대한 옳은 설명만을 <보기>에서 고른 것은? (단, A와 B는 각각 직접세와 간접세 중 하나임.) [3점]

조세는 납세자와 담세자가 일치하는 A와 일치하지 않는 B로 구분할 수 있다. 일반적으로 A에는 과세 대상 금액이 커질수록 세율이 높아지는 누진세율이 적용되고, B에는 과세 대상 금액에 상관없이 세율이 동일한 비례세율이 적용된다.

- <보 기>
- ㄱ. A는 간접세이다.
  - ㄴ. B는 주로 소득이나 재산에 부과된다.
  - ㄷ. A는 B에 비해 소득 재분배 효과가 크다.
  - ㄹ. B는 A에 비해 조세 부담의 역진성이 크다.

- ① ㄱ, ㄴ    ② ㄱ, ㄷ    ③ ㄴ, ㄷ    ④ ㄴ, ㄹ    ⑤ ㄷ, ㄹ

4. 다음 자료에 대한 분석으로 옳은 것은? [3점]

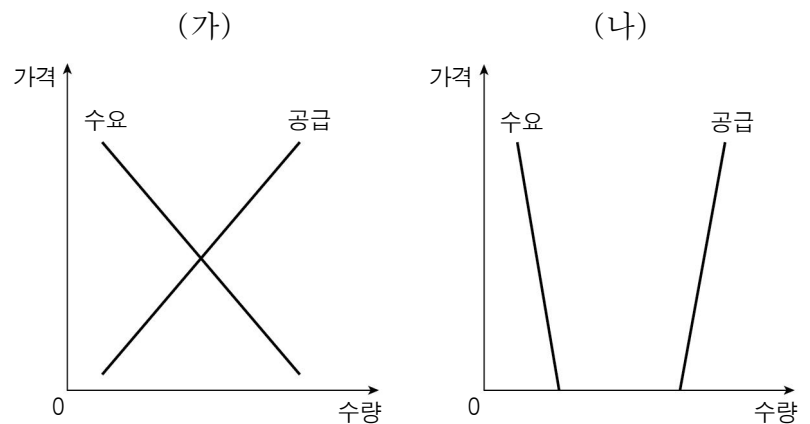
표는 갑이 A재 또는 B재를 선택하는 데 따른 편익과 기회 비용을 나타낸다. 갑은 편익과 기회비용만을 고려하여 A재와 B재 중 하나를 합리적으로 선택하려고 한다.

(단위: 만 원)

구분		A재	B재
편익		240	260
기회 비용	명시적 비용	㉠	100
	(가)	160	140

- ① ㉠은 '120'이다.
- ② (가)는 매몰 비용이다.
- ③ A재 선택의 기회비용은 B재 선택의 기회비용보다 작다.
- ④ A재 가격이 10% 하락하면 A재 선택의 순편익은 양(+)의 값을 갖는다.
- ⑤ B재 가격이 10% 상승하더라도 갑의 선택은 변함이 없다.

5. 그림은 재화 (가), (나)의 수요와 공급 곡선을 나타낸다. 이에 대한 옳은 설명만을 <보기>에서 고른 것은? (단, (가)와 (나)는 각각 무상재와 경제재 중 하나임.)



- <보 기>
- ㄱ. (가)는 경제재, (나)는 무상재이다.
  - ㄴ. (나)는 모든 가격 수준에서 수요량이 공급량보다 많다.
  - ㄷ. (나)는 수요가 증가하거나 공급이 감소하는 경우 (가)로 변하기도 한다.
  - ㄹ. (가), (나)는 모두 희소성을 갖는다.

- ① ㄱ, ㄴ    ② ㄱ, ㄷ    ③ ㄴ, ㄷ    ④ ㄴ, ㄹ    ⑤ ㄷ, ㄹ

경제

6. 밑줄 친 ㉠, ㉡에 대한 설명으로 옳은 것은?

갑국 정부는 일회용 컵 보증금제를 도입하였다. 이 제도는 커피 전문점 등에서 일회용 컵에 음료를 주문하는 사람에게 ㉠보증금을 부과하여 일회용 컵 사용을 줄이고, 사용한 일회용 컵을 반납하면 ㉡보증금을 환급하여 일회용 컵 회수율을 높이는 것을 목적으로 한다.

- ① ㉠은 일회용 컵 사용자의 비용을 증가시키는 요인이다.
- ② ㉡은 사용한 일회용 컵 반납에 대한 부정적 유인이다.
- ③ ㉠은 ㉡과 달리 편익이나 비용에 변화를 주어 경제 주체가 특정 방식으로 행동하도록 하는 요인이다.
- ④ 성적이 우수한 학생에게 장학금을 지급하는 것은 ㉠과 같은 유형의 경제적 유인에 해당한다.
- ⑤ 제한 속도를 위반한 운전자에게 범칙금을 부과하는 것은 ㉡과 같은 유형의 경제적 유인에 해당한다.

7. 표는 질문에 따라 국민 경제 주체를 구분한 것이다. 이에 대한 설명으로 옳은 것은? (단, A ~ C는 각각 가계, 기업, 정부 중 하나임.) [3점]

질문	경제 주체		
	A	B	C
재정 활동의 주체입니까?	㉠	아니요	예
이윤 극대화를 목적으로 합니까?	㉡	아니요	㉢
(가)	아니요	예	아니요

- ① ㉠, ㉡은 '예', ㉢은 '아니요'이다.
- ② A는 생산물 시장에서 수요자이다.
- ③ B는 생산 요소 시장에서 공급자이다.
- ④ C는 효용 극대화를 추구하는 경제 주체이다.
- ⑤ (가)에는 '민간 부문의 경제 주체입니까?'가 들어갈 수 있다.

8. (가) ~ (다)에 나타나는 기본적인 경제 문제에 대한 설명으로 옳은 것은? [3점]

(가) A 기업은 매출을 늘리기 위해 신제품을 개발할지 기존 인기 제품 생산에 주력할지 고민하고 있다.  
 (나) B 기업은 일손 부족 문제 해결을 위해 자동화 설비를 확충할지 인력을 더 고용할지 고민하고 있다.  
 (다) C 기업은 직원들의 연봉을 책정할 때 경력을 기준으로 할지 실적을 기준으로 할지 고민하고 있다.

- ① (가)에는 '어떻게 생산할 것인가'를 결정하는 문제가 나타난다.
- ② (나)에는 '무엇을 얼마나 생산할 것인가'를 결정하는 문제가 나타난다.
- ③ (다)에는 '누구에게 어떻게 분배할 것인가'를 결정하는 문제가 나타난다.
- ④ (가)는 (나), (다)와 달리 자원의 희소성으로 인해 발생한다.
- ⑤ (가) ~ (다)는 모두 효율성이 아닌 형평성을 고려해서 해결해야 하는 문제이다.

9. 그림은 경제 수행평가 활동지의 일부이다. 이에 대한 설명으로 옳은 것은? (단, A와 B는 각각 계획 경제 체제와 시장 경제 체제 중 하나임.)

경제 수행평가 활동지 점수 40 / 40

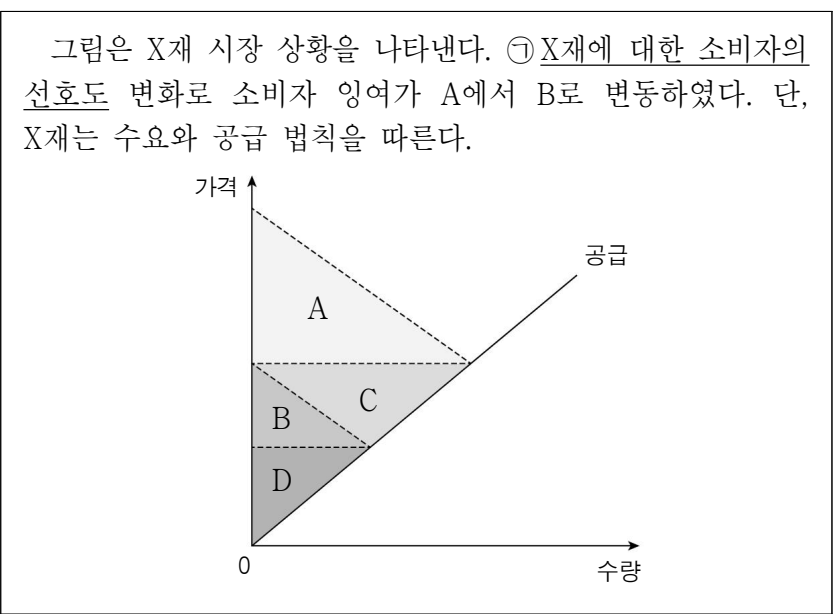
이름: ○○○

● 경제 체제 A, B의 특징을 각각 2개씩만 서술하시오. (특징 1개당 10점, 총 40점)

경제 체제	특징
A	<ul style="list-style-type: none"> <li>• 정부의 명령과 통제에 의해 경제 문제를 해결한다,</li> <li>• _____ ㉠</li> </ul>
B	<ul style="list-style-type: none"> <li>• 시장 원리에 의해 경제 문제를 해결한다,</li> <li>• _____ ㉡</li> </ul>

- ① A는 시장 경제 체제, B는 계획 경제 체제이다.
- ② A에서는 '보이지 않는 손'에 의한 자원 배분을 강조한다.
- ③ B에서는 A보다 개인의 이윤 추구 동기가 강하게 나타난다.
- ④ ㉠에는 '경제 주체 간 자유로운 경쟁을 강조한다.'가 들어갈 수 있다.
- ⑤ ㉡에는 '생산 수단의 사적 소유를 인정하지 않는다.'가 들어갈 수 있다.

10. 다음 자료에 대한 옳은 분석만을 <보기>에서 고른 것은? [3점]



- <보 기>
- ㉠. ㉠은 증가하였다.
  - ㉡. 균형 가격이 하락하였고 균형 거래량은 감소하였다.
  - ㉢. 생산자 잉여는 C만큼 감소하였다.
  - ㉣. 총잉여는 A+C만큼 감소하였다.

- ① ㉠, ㉡    ② ㉠, ㉢    ③ ㉡, ㉣    ④ ㉡, ㉣    ⑤ ㉢, ㉣

11. 다음 자료에 대한 옳은 분석만을 <보기>에서 고른 것은? [3점]

표는 갑 기업의 X재 생산량에 따른 총수입과 총비용을 나타낸다. 갑 기업은 X재를 5개까지 생산할 수 있고, 생산된 X재는 모두 판매된다.

생산량(개)	1	2	3	4	5
총수입(만 원)	5	10	15	20	25
총비용(만 원)	2	4	8	14	22

\* 평균 비용 = 총비용 / 생산량

<보 기>

ㄱ. X재의 가격은 5만 원이다.  
 ㄴ. X재 생산량이 3개일 때 이윤은 최대가 된다.  
 ㄷ. X재 생산량이 증가할수록 평균 비용은 지속적으로 감소한다.  
 ㄹ. X재 생산량을 3개에서 4개로 늘릴 때 추가적으로 얻는 수입이 추가적으로 발생하는 비용보다 크다.

- ① ㄱ, ㄴ    ② ㄱ, ㄷ    ③ ㄴ, ㄷ    ④ ㄴ, ㄹ    ⑤ ㄷ, ㄹ

12. 다음 자료에 대한 분석으로 옳은 것은? [3점]

- B, C재는 각각 A재의 연관재이며, B재와 C재는 독립재이다.
- A~C재는 모두 수요와 공급 법칙을 따르며, A재의 수요와 B, C재의 공급은 변동이 없다.
- 그림은 A재의 가격 변화에 따른 B, C재의 판매 수입 변화를 나타낸다.

- ① B재는 A재의 대체재이다.  
 ② A재의 가격이 하락하면 B재의 수요는 감소한다.  
 ③ A재의 생산비가 상승하면 B재의 판매 수입은 증가한다.  
 ④ A재의 공급자 수가 감소하면 C재의 가격은 상승한다.  
 ⑤ A재의 공급이 증가하면 C재의 균형 거래량은 증가한다.

13. 교사의 질문에 대한 학생의 답변으로 옳은 것은?

<X재 공급량의 변동과 공급의 변동>

㉠과 ㉡이 나타나는 원인에 대해 설명해 볼까요?

- ① ㉠의 원인으로 X재 가격의 하락을 들 수 있습니다.  
 ② ㉠의 원인으로 X재 생산 기술의 발전을 들 수 있습니다.  
 ③ ㉡의 원인으로 X재 공급자 수의 증가를 들 수 있습니다.  
 ④ ㉡의 원인으로 X재 공급자의 미래 가격 상승 예상을 들 수 있습니다.  
 ⑤ ㉡의 원인으로 X재 생산에 지급되는 정부 보조금의 감소를 들 수 있습니다.

14. 밑줄 친 ㉠, ㉡에 대한 옳은 설명만을 <보기>에서 고른 것은?

갑국 정부가 발표한 경제 성장률 전망치가 예상을 밑돌면서 경기 침체에 대한 국민들의 우려가 커지고 있다. 이에 갑국에서는 ㉠ 기업들의 은행 대출을 통한 신규 투자 감소와 ㉡ 가계의 저축 증대가 나타나고 있다.

<보 기>

ㄱ. ㉠은 자금 수요가 감소하는 요인이다.  
 ㄴ. ㉠은 균형 이자율이 상승하는 요인이다.  
 ㄷ. ㉡은 자금 공급이 증가하는 요인이다.  
 ㄹ. ㉡은 자금 거래량이 감소하는 요인이다.

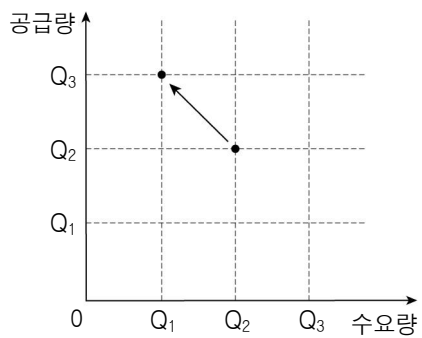
- ① ㄱ, ㄴ    ② ㄱ, ㄷ    ③ ㄴ, ㄷ    ④ ㄴ, ㄹ    ⑤ ㄷ, ㄹ

15. 다음에 나타난 시장 실패의 원인으로 가장 적절한 것은?

시장에서 거래 당사자들이 가진 정보의 양이 서로 다를 경우, 상대적으로 정보가 부족한 당사자는 자신에게 불리한 선택을 하는 경향이 있고 상대적으로 정보가 많은 당사자는 자신의 이익만을 위해 행동하는 경향이 있다. 이처럼 거래 당사자들이 가진 정보의 양이 서로 다를 경우 시장의 자원 배분 기능이 왜곡될 수 있다.

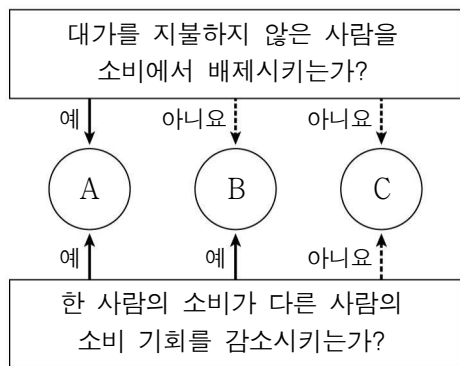
- ① 소비의 비배제성                      ② 정보의 비대칭성  
 ③ 시장의 진입 장벽                      ④ 판매자 간 가격 담합  
 ⑤ 생산 측면의 외부 효과

16. 그림은 정부의 가격 규제로 인한 X재 시장 상황의 변화를 나타낸다. 이에 대한 분석으로 옳은 것은? (단, X재는 수요와 공급 법칙을 따름.) [3점]



- ① 최고 가격제가 시행되었다.
- ② 소비자 보호를 위한 가격 규제이다.
- ③ 가격 규제 이후 시장 거래량은  $Q_1$ 이다.
- ④ 가격 규제 이후 총잉여는 변함이 없다.
- ⑤ 가격 규제 이후  $Q_1Q_3$ 만큼의 초과 수요가 발생하였다.

17. 그림은 재화의 유형 A ~ C를 질문에 따라 구분한 것이다. 이에 대한 설명으로 옳은 것은? (단, A ~ C는 각각 희소성이 있는 재화임.)



- ① A는 공공재이다.
- ② 국방 서비스는 B에 해당한다.
- ③ 공해상의 어족 자원은 C에 해당한다.
- ④ A는 B와 달리 무임승차자 문제가 발생할 수 있다.
- ⑤ B는 C에 비해 남용으로 인한 고갈 문제가 발생할 가능성이 높다.

18. (가), (나)에 대한 분석 및 추론으로 가장 적절한 것은?

(가) 갑국 정부는 가격을 담합한 기업들에 대해 과징금을 부과하는 등의 노력을 통해 공정한 경쟁 질서를 확립하였다.  
 (나) 을국 정부는 기업이 신규 사업에 진출할 때 거쳐야 할 행정 절차를 복잡하게 규정하여 기업의 경쟁력이 약화되는 결과를 초래하였다.

- ① (가)는 정부 실패를 개선한 사례이다.
- ② (가)를 통해 정부의 개입은 시장 구조를 왜곡시킬 수 있음을 알 수 있다.
- ③ (나)는 정부의 과도한 규제에 의한 정부 실패의 사례이다.
- ④ (나)를 통해 시장 기구보다 정부의 개입을 통한 자원 배분이 효율적임을 알 수 있다.
- ⑤ (가), (나)를 통해 '작은 정부'가 최선의 정부임을 알 수 있다.

19. 표는 X재 시장의 가격별 공급량과 초과 수요량을 나타낸다. 이에 대한 옳은 분석만을 <보기>에서 고른 것은? (단, X재는 수요와 공급 법칙을 따름.) [3점]

가격(원)	100	200	300	400	500
공급량(개)	80	90	100	110	120
초과 수요량(개)	40	20	0	-20	-40

\* 초과 수요량 = 수요량 - 공급량

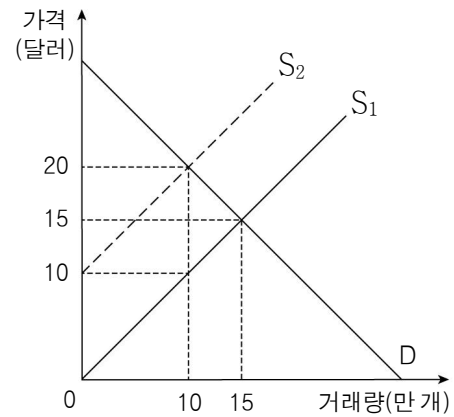
<보 기>

ㄱ. 균형 가격은 300원이다.  
 ㄴ. 가격이 200원일 때 가격 상승 압력이 발생한다.  
 ㄷ. 초과 공급량은 가격이 500원일 때 가장 적다.  
 ㄹ. 모든 가격 수준에서 수요량이 10개씩 감소하고 공급량이 10개씩 증가하면, 균형 가격은 400원이 된다.

- ① ㄱ, ㄴ    ② ㄱ, ㄷ    ③ ㄴ, ㄷ    ④ ㄴ, ㄹ    ⑤ ㄷ, ㄹ

20. 다음 자료에 대한 분석으로 옳은 것은? [3점]

그림은 외부 불경제가 발생한 X재의 시장 상황을 나타낸다. 정부는 X재 생산자에게 1개당 일정액의 세금을 부과하는 정책을 시행하여 X재가 사회적 최적 거래량만큼 거래되도록 하였다. 단,  $S_1$ 과  $S_2$ 는 사회적 비용을 반영한 공급 곡선과 사적 비용만을 반영한 공급 곡선 중 하나이다.



- ① 소비 측면에서 외부 효과가 발생하였다.
- ② 사회적 최적 거래량은 15만 개이다.
- ③ X재 1개당 5달러의 세금이 부과되었다.
- ④ 정책 시행 후 X재 가격은 5달러 상승하였다.
- ⑤ 정책 시행 후 X재 판매 수입은 25만 달러 증가하였다.

\* 확인 사항

○ 답안지의 해당란에 필요한 내용을 정확히 기입(표기)했는지 확인 하시오.