

제 4 교시

사회탐구 영역(사회·문화)

성명 [] 수험번호 [] 3 [] 제 [] 선택

1. 밑줄 친 ㉠ ~ ㉣과 같은 현상의 일반적인 특징에 대한 설명으로 옳은 것은?

배달 음식의 주문 증가로 플라스틱으로 만든 포장 용기의 소비가 많아지면서, ㉠ 플라스틱 포장 용기의 처리가 새로운 문제로 부상하고 있다. 재활용되지 않고 버려진 ㉡ 플라스틱은 100년이 넘는 시간에 걸쳐 분해되어 환경 오염을 유발한다. 또한 ㉢ 동물들이 먹이로 착각하고 삼킨 플라스틱은 소화되지 않고 동물들의 몸속에 쌓여 생명을 위협할 수 있다. 이에 최근 ㉣ 플라스틱 포장 용기를 재생하여 활용함으로써 버려지는 플라스틱의 양을 줄이고자 하는 움직임이 늘어나고 있다.

- ① ㉠과 같은 현상은 ㉡과 같은 현상과 달리 불가치적이다.
- ② ㉡과 같은 현상은 ㉢과 같은 현상과 달리 개연성으로 설명된다.
- ③ ㉢과 같은 현상은 ㉣과 같은 현상과 달리 경험적 자료로 연구할 수 있다.
- ④ ㉢과 같은 현상은 ㉠과 같은 현상과 달리 존재 법칙의 지배를 받는다.
- ⑤ ㉡, ㉢과 같은 현상은 ㉠, ㉣과 같은 현상에 비해 인과 관계가 분명하다.

2. 다음 자료에 대한 설명으로 옳은 것은? [3점]

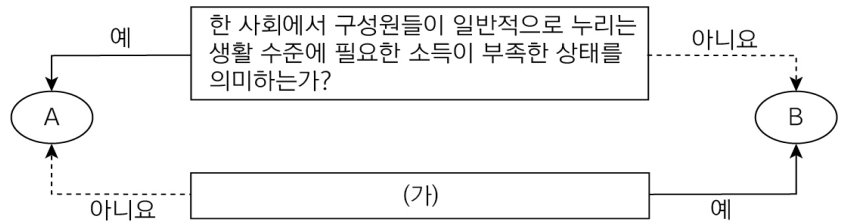
연구자 갑은 ‘㉠ 먹방(먹는 방송) 시청과 ㉡ 다이어트 실시 여부가 식욕에 미치는 영향’이라는 주제를 연구하기 위해 가설을 설정하고 남녀 대학생 48명을 대상으로 연구를 진행하였다. 갑은 다이어트를 하고 있는 24명과 다이어트를 하고 있지 않은 24명을 선정하여 아래 표와 같이 분류하고, 각 집단에 12명씩 연구 대상자를 배정하였다. 갑은 연구 대상자 모두에게 실험 실시 전 5시간 동안 공복을 유지하게 한 후, ㉢ 식욕을 측정하였다. 식욕은 10점 척도를 활용하여 점수가 높을수록 식욕이 많은 것으로 해석하였다. A, B 집단에는 먹방을 20분 동안 시청하게 하고, C, D 집단에는 자연 풍경을 촬영한 영상을 20분 동안 시청하게 한 이후 ㉣ 식욕을 다시 측정하였다. 갑은 수집한 자료를 분석한 결과 ㉤ 가설이 모두 기각되었음을 확인하였다.

<연구 대상자의 분류>

구분	다이어트	다이어트	
		하고 있음	하고 있지 않음
시청 예정 영상	먹는 방송	A 집단	B 집단
	자연 풍경 영상	C 집단	D 집단

- ① C 집단은 통제 집단, D 집단은 실험 집단이다.
- ② ㉠은 독립 변수, ㉡은 종속 변수이다.
- ③ ㉢은 ㉠의 영향을 측정하기 위한 사전 검사, ㉣은 ㉡의 영향을 측정하기 위한 사후 검사이다.
- ④ 종속 변수에 미치는 ㉠의 영향을 확인하기 위한 실험 처치가 적용된 것은 A 집단, B 집단이다.
- ⑤ B 집단의 ㉢값과 D 집단의 ㉢값의 차이가 없었기 때문에 ㉤이 되었다.

3. 그림은 빈곤의 유형 A와 B를 구분한 것이다. 이에 대한 설명으로 옳은 것은? (단, A와 B는 각각 상대적 빈곤, 절대적 빈곤 중 하나이다.)



- ① A는 B와 달리 상대적 박탈감의 원인이 된다.
- ② A는 B와 달리 소득 수준이 높은 국가에서는 나타나지 않는다.
- ③ B에 속하지 않는 가구도 A에 속할 수 있다.
- ④ 우리나라에서는 가구 소득이 중위 소득의 50% 미만인 상태를 B로 분류한다.
- ⑤ (가)에는 ‘우리나라에서는 객관화된 기준에 의해 분류되는가?’가 들어갈 수 있다.

4. 다음은 문화 유형에 대한 수업 장면의 일부이다. 교사의 질문에 옳게 응답한 학생은?

A~C는 각각 반문화, 주류 문화, 하위문화 중 하나에 해당합니다. 자료에 대해 발표해 볼까요?

구분	의미	사례
A	(가)	지역 문화
B	한 사회의 지배적 가치와 규범에 저항하거나 대립하는 문화	미국의 히피 문화
C	구성원 다수가 누리며 한 사회에서 지배적인 문화	(나)

- ① 갑: 모든 B는 A에 해당합니다.
- ② 을: A는 B와 달리 C를 대체하기도 합니다.
- ③ 병: A는 주류 문화, B는 하위문화, C는 반문화입니다.
- ④ 정: (가)에는 ‘전체 사회 구성원이 누리는 문화’가 적절합니다.
- ⑤ 무: (나)에는 ‘조선 후기 천주교 문화’가 들어갈 수 있습니다.

5. 다음 자료에 대한 설명으로 옳은 것은? (단, A와 B는 각각 산업 사회, 정보 사회 중 하나이다.) [3점]

A와 B의 일반적인 특징을 비교할 수 있는 척도에 대해 말해 볼까요?

갑: '구성원 간 직업의 이질성'이 있습니다.

을: '정보 생산자와 소비자 간 구분의 명확성 정도'가 있습니다.

병: '지식과 정보의 부가 가치 창출 정도'가 있습니다.

정: (가)가 있습니다.

발표한 학생 중에서 A가 B에 비해 높거나 강한 척도를 발표한 학생은 갑과 병이고, B가 A에 비해 높거나 강한 척도를 발표한 학생은 을과 정입니다.

- ① A는 B에 비해 정보 이용의 시·공간적 제약 정도가 높다.
- ② B는 A에 비해 가정과 일터의 분리 정도가 높다.
- ③ (가)에는 ‘다품종 소량 생산 방식의 비중’이 적절하다.
- ④ ‘면대면 접촉의 비중’은 갑과 병이 발표한 척도를 대체할 수 있다.
- ⑤ ‘사회의 다원화 정도’는 을과 정이 발표한 척도를 대체할 수 있다.

6. 밑줄 친 ㉠ ~ ㉤에 대한 옳은 설명만을 <보기>에서 고른 것은?

음향기기를 제작하여 판매하는 ㉠ △△ 회사의 ㉡ 본부장인 갑은 ㉢ 음악대학을 졸업하였지만, 성악가의 꿈을 이루지 못해 아쉬워하였다. 이에 갑은 ㉣ 어머니가 된 후, ㉤ 성악을 전공하고 있는 학생인 자녀 을을 아낌없이 지원하였고, 을 또한 연습에 매진하여 ○○ 예술제에서 ㉥ 대상을 받게 되었다. 그러나 을은 대상 수상에도 불구하고 성악 공부를 포기하고 싶었고, 이를 알게 된 갑과 ㉦ 갈등을 빚고 있다.

<보 기>
 가. ㉡, ㉣은 모두 성취 지위에 해당한다.
 나. ㉣은 ㉠과 달리 2차적 사회화 기관이다.
 다. ㉤은 ㉤으로서의 역할 행동에 대한 보상이다.
 라. ㉦은 을의 역할 갈등에 해당한다.

- ① 가, 나 ② 가, 다 ③ 나, 다 ④ 나, 라 ⑤ 다, 라

7. 표는 질문을 통해 문화 이해의 태도 A~C를 구분한 것이다. 이에 대한 설명으로 옳은 것은? (단, A~C는 각각 문화 사대주의, 문화 상대주의, 자문화 중심주의 중 하나이다.) [3점]

구분	문화 이해의 태도		
	A	B	C
문화를 평가가 아닌 이해의 대상으로 보는가?	예	아니요	아니요
(가)	아니요	예	아니요
(나)	아니요	아니요	예

- ① A는 국수주의를 초래할 수 있다는 비판을 받는다.
 ② B, C는 A와 달리 문화의 다양성 확보에 유리하다.
 ③ B가 자문화 중심주의라면, (가)에는 '자문화의 정체성을 상실할 우려가 있는가?'가 들어갈 수 있다.
 ④ C가 문화 상대주의라면, (나)에는 '자신의 문화가 상대적으로 열등하다고 보는가?'가 들어갈 수 있다.
 ⑤ (가)가 '문화 제국주의로 변질될 우려가 있는가?'라면, (나)에는 '자기 문화의 가치만을 중시하는가?'가 들어갈 수 있다.

8. 다음 자료에 대한 옳은 분석만을 <보기>에서 고른 것은? [3점]

다음은 (가), (나) 두 지역으로만 구성된 갑국의 인구 관련 지표이다. (가) 지역의 생산 연령 인구는 (나) 지역의 생산 연령 인구의 2배이다.

구분	(가) 지역	(나) 지역
고령화 지수	㉠	㉡
유소년 부양비	20	20
노년 부양비	30	80

* 고령화 지수 = {노년(65세 이상) 인구 / 유소년(0~14세) 인구} × 100
 ** 유소년 부양비 = {유소년(0~14세) 인구 / 생산 연령(15~64세) 인구} × 100
 *** 노년 부양비 = {노년(65세 이상) 인구 / 생산 연령(15~64세) 인구} × 100

<보 기>
 가. ㉡은 ㉠의 3배 이상이다.
 나. 갑국 노년 부양비는 갑국 유소년 부양비의 2배 이상이다.
 다. (나) 지역의 유소년 인구는 (가) 지역의 유소년 인구의 절반이다.
 라. 다른 이동 없이 (가) 지역의 노년 인구 50%가 (나) 지역으로 이동하면, (나) 지역의 노년 부양비는 100이 된다.

- ① 가, 나 ② 가, 다 ③ 나, 다 ④ 나, 라 ⑤ 다, 라

9. 사회·문화 현상을 바라보는 갑~병의 관점에 대한 설명으로 옳은 것은? (단, 갑~병의 관점은 각각 기능론, 갈등론, 상징적 상호 작용론 중 하나이다.)



최근 확산하고 있는 유연근무제*에 대해 각자 의견을 제시해 주세요.



과거에 비해 최근에는 일·가정의 균형에 중요한 의미를 부여하는 사람들이 많아졌고, 유연근무제를 자율적 선택을 보장하는 제도로 인식하는 노동자가 많아진 것이 확산의 원인이라고 생각합니다.



유연근무제는 각자 처한 환경이 다른 노동자들을 적재 적소에 배치함으로써 노동 시장이 효율적으로 작동하는데 기여한다고 생각합니다.



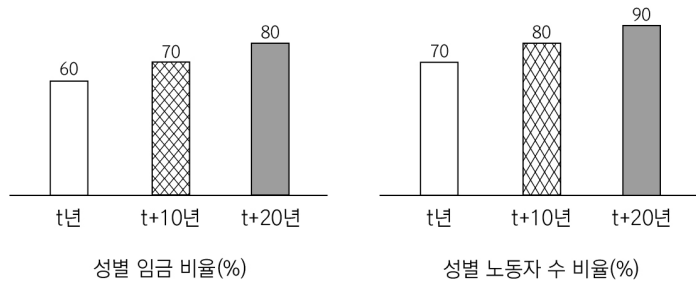
유연근무제는 노동자의 자율성을 보장하는 것처럼 보이지만, 비정규직을 확대시켜 기득권층의 이익을 증대시키기 위한 의도가 반영된 제도라고 생각합니다.

*유연근무제: 개인의 선택에 따라 근무 시간, 근무 환경을 조절할 수 있는 제도

- ① 갑의 관점은 다양한 사회 제도들의 상호 의존 관계에 주목한다.
 ② 을의 관점은 개인의 행동이 상황에 대한 주관적 해석에 기초하여 이루어진다고 본다.
 ③ 병의 관점은 지배 집단의 이익을 대변하는 논리로 활용될 수 있다는 비판을 받는다.
 ④ 을의 관점은 갑의 관점과 달리 행위자의 능동성을 중시한다.
 ⑤ 을과 병의 관점은 모두 사회·문화 현상을 사회 구조적 측면에서 설명한다.

10. 다음 자료에 대한 옳은 분석만을 <보기>에서 있는 대로 고른 것은? [3점]

다음은 연구자 갑이 A국의 노동 관련 성 불평등을 연구하기 위해 수집한 자료이다. A국에서 남성 노동자의 평균 임금은 t년에 비해 t+10년에는 10%, t년에 비해 t+20년에는 25% 증가하였다. 또한 남성 노동자 수는 제시된 연도에서 모두 같다.

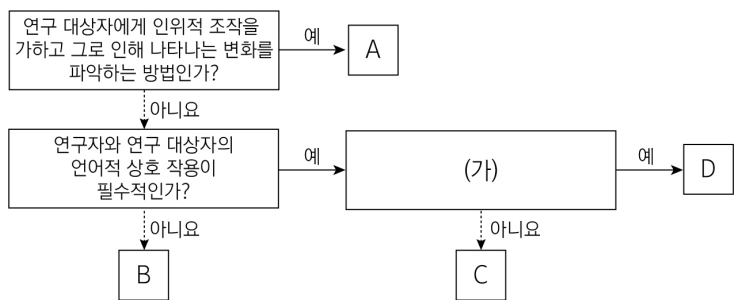


* 성별 임금 비율(%) = {여성 노동자 평균 임금 / 남성 노동자 평균 임금} × 100
 ** 성별 노동자 수 비율(%) = {여성 노동자 수 / 남성 노동자 수} × 100

<보 기>
 가. t년에 비해 t+10년에 여성 노동자 평균 임금은 20% 이상 증가하였다.
 나. t년에 비해 t+20년에 평균 임금액의 성별 격차는 증가하였지만 노동자 수의 성별 격차는 감소하였다.
 다. t+10년에 비해 t+20년에 남성 노동자 수와 여성 노동자 수의 격차는 50% 감소하였다.
 라. 제시된 연도 중에 전체 남성 노동자의 총임금과 전체 여성 노동자의 총임금 간 격차는 t+20년이 가장 작다.

- ① 가, 나 ② 가, 다 ③ 나, 라
 ④ 가, 다, 라 ⑤ 나, 다, 라

11. 다음은 자료 수집 방법 A~D를 일반적인 특징에 따라 구분한 것이다. 이에 대한 설명으로 옳은 것은? (단, A~D는 각각 면접법, 실험법, 질문지법, 참여 관찰법 중 하나이다.) [3점]



- ① A는 B에 비해 실제성이 높은 자료를 확보하기에 유리하다.
- ② B는 A에 비해 대규모 집단을 대상으로 계량화된 자료를 수집하기에 용이하다.
- ③ C, D는 모두 비구조화·비표준화된 자료 수집 방법이다.
- ④ (가)에는 '경험적 자료의 수집에 적합인가?'가 들어갈 수 있다.
- ⑤ (가)가 '연구 대상자와의 정서적 교감을 중시하는가?'라면, C는 D에 비해 시간과 비용의 효율성이 높다.

12. 표는 개인과 사회의 관계를 바라보는 관점을 파악하기 위한 질문과 답변이다. 사회 명목론과 사회 실재론 중 하나의 입장에서 일관되게 응답한 학생은?

질문	학생	갑	을	병	정	무
사회가 개인의 외부에 실제로 존재한다고 보는가?		×	×	○	×	○
사회의 특성이 개인의 특성으로 환원된다고 보는가?		○	×	×	○	○
개인이 사회에 의해 구조화된 행동을 한다고 보는가?		×	○	○	○	×
개인의 자유 의지가 사회의 구속력보다 우위에 있다고 보는가?		○	×	○	×	×

(○: 예, ×: 아니요)

- ① 갑 ② 을 ③ 병 ④ 정 ⑤ 무

13. 다음 자료에 대한 분석으로 옳은 것은? [3점]

갑국과 을국은 (가)~(라)로 인한 문화 변동을 겪었으며, 이외에 다른 문화 변동은 없었다. 양국은 상호 교류 이외에 제3국과의 문화 교류는 없었으며, 전파된 문화 요소 중에서 소멸된 것도 없었다. 단, (가)~(라)는 각각 발견, 발명, 간접 전파, 직접 전파 중 하나이며, 제시된 문화 요소 이외에 다른 문화 요소는 없다.

* ○, □, △, ●는 서로 다른 문화 요소를 의미한다.
** ●는 ○와 ●가 결합하여 생성된 제3의 문화 요소이다.

- ① (가)는 (나)와 달리 내재적 요인이다.
- ② (다)로 인해 갑국에 전파된 문화 요소의 개수보다 (라)로 인해 을국에 전파된 문화 요소의 개수가 많다.
- ③ 1차 변동 후 을국은 갑국과 달리 새로운 문화 요소가 나타났다.
- ④ 2차 변동 후 갑국은 을국과 달리 기존 자기 문화의 요소가 남아 있다.
- ⑤ 갑국에서 문화 병존, 을국에서 문화 융합의 사례를 확인할 수 있다.

14. 다음 자료에 대한 설명으로 옳은 것은? [3점]

[게임 규칙]

- [카드 1]~[카드 5]에는 사회 집단 및 사회 조직의 일반적인 특징이 적혀 있다. 카드별로 점수를 부여하는데, 각 카드에 적힌 내용이 '공동 사회', '공식 조직', '비공식 조직' 중 하나의 특징에만 해당하면 1점, 두 개의 특징에만 해당하면 2점, 세 개 모두의 특징에 해당하면 3점을 부여한다.
- 다음 5장의 카드를 학생 갑, 을에게 각각 나눠주고, 자신이 판단하여 가장 높은 점수를 받을 수 있도록 3장을 뽑게 한다. 둘 중에서 점수의 합계가 더 높은 사람이 승리한다.

[카드 1] 명시적 규약과 체계화된 업무 수행 방식이 존재한다.	[카드 2] 결합 자체가 집단 형성의 목적이다.	[카드 3] 소속감을 가진 구성원들 간 지속적인 상호작용이 이루어진다.	[카드 4] 선택 의지에 의해 인위적으로 형성된다.	[카드 5] 공식 조직 내에서 자발적으로 형성된 집단이다.
--	-------------------------------	--	---------------------------------	-------------------------------------

- ① 카드 3장의 조합으로 얻을 수 있는 최대 점수는 총 5점이다.
- ② 공식 조직의 일반적인 특징이 적힌 카드를 모두 뽑았을 때, 얻을 수 있는 점수는 총 3점이다.
- ③ [카드 2]에는 공동 사회와 비공식 조직 모두의 일반적인 특징이 적혀 있다.
- ④ [카드 4]와 [카드 5]에 부여되는 점수는 같다.
- ⑤ 갑이 [카드 1], [카드 2], [카드 3]을 뽑고, 을이 [카드 3], [카드 4], [카드 5]를 뽑는다면 을이 승리한다.

15. 다음 자료에 대한 분석으로 옳은 것은?

그림은 갑국에서 발생한 계층 간 이동 인구의 상대적 크기를 상층에서 하층으로 이동한 인구를 기준으로 나타낸 것이다.

- 갑국은 계층을 상층, 중층, 하층으로만 구분한다.
- 상층에서 하층으로 이동한 인구는 계층 이동 전의 상층 인구 대비 25%이다.
- 계층 간 이동이 일어나기 이전에 갑국은 상층과 중층 비율의 합이 하층 비율과 같았고, 중층 비율은 상층 비율의 1.5배였다.

<갑국의 계층 간 이동 인구의 상대적 크기>

구분	계층 간 이동 인구의 상대적 크기		
상층 → 하층	■	■	■
상층 → 중층	■	■	■
중층 → 하층	■	■	■
중층 → 상층	■	■	■
하층 → 중층	■	■	■
하층 → 상층	■	■	■

* ■의 면적은 해당 계층 간 이동 인구를 나타내며, 각 ■의 면적은 동일하다.
** 자료는 계층 이동 전후로 갑국 전체 인구로부터 얻은 결과이며, 조사 기간 갑국 전체 구성원의 변화는 없었다.

- ① 계층이 유지된 비율이 상승 이동한 비율보다 높다.
- ② 상층 인구는 계층 이동 전에 비해 계층 이동 후 50% 감소하였다.
- ③ 계층 이동 전과 이동 후에 모두 중층인 인구는 전체 인구 대비 5%이다.
- ④ 갑국의 계층 구조는 이동 전 다이아몬드형, 이동 후 피라미드형으로 나타난다.
- ⑤ 계층 이동 전에는 하층이었고 계층 이동 후에 중층인 인구는 전체 인구 대비 40%이다.

16. 다음 두 사례에서 공통적으로 부각된 문화의 속성에 대한 옳은 진술만을 <보기>에서 고른 것은?

- 갑국에서는 주 1회 열리는 종교 의례 직후, 생필품 거래가 이루어진다. 이 때문에 갑국 사람들은 교환할 생필품을 가지고 종교 의례에 참석한다.
- 을국에서는 매년 7월이 되면 성인이 된 사람들을 위해 마을 입구에 꽃길을 만든다. 7월에 꽃길을 걸으면 그 해에 성인이 되었다는 것을 을국 사람들이라면 누구나 알 수 있다.

<보 기>

- ㄱ. 문화는 고정된 것이 아니라 지속적으로 변화한다.
- ㄴ. 문화는 부분들이 모여 전체로서 하나의 체계를 이룬다.
- ㄷ. 문화는 사회 구성원 간 원활한 상호 작용의 토대가 된다.
- ㄹ. 문화는 특정 상황에서 타인의 행동을 예측 가능하게 한다.

- ① ㄱ, ㄴ ② ㄱ, ㄷ ③ ㄴ, ㄷ ④ ㄴ, ㄹ ⑤ ㄷ, ㄹ

17. 다음은 수행 평가에서 갑이 작성한 답과 채점 결과를 나타낸 것이다. 이에 대한 옳은 설명만을 <보기>에서 고른 것은? [3점]

Q: 주어진 응답에 맞는 사회적 소수자 관련 질문 (가)~(라)를 작성하시오.

응답	답란(질문)	채점
예	(가) ㉠	1점
	(나) 사회적 소수자 규정 기준은 시대와 사회에 상관없이 동일한가?	㉡
아니요	(다) 수적으로 반드시 소수(少數)를 의미하는가?	㉢
	(라) ㉣	0점
점수 합계		2점

* 옳은 답을 쓴 경우 1점, 틀린 답을 쓴 경우 0점을 부여한다.

<보 기>

- ㄱ. ㉠에는 '사회적 소수자를 위한 적극적 우대 조치는 주류 집단에 대한 역차별이라는 비판을 받기도 하는가?'가 들어갈 수 있다.
- ㄴ. ㉡에는 '스스로 사회적 소수자로서의 정체성을 인식하고 있는 것이 사회적 소수자의 조건이 되는가?'가 들어갈 수 있다.
- ㄷ. ㉢은 ㉡과 달리 '1점'으로 채점된다.
- ㄹ. (나)에 작성한 질문과 (다)에 작성한 질문의 위치를 서로 바꿔 썼다면, 갑의 점수 합계는 1점이 된다.

- ① ㄱ, ㄴ ② ㄱ, ㄷ ③ ㄴ, ㄷ ④ ㄴ, ㄹ ⑤ ㄷ, ㄹ

18. 사회 변동 방향에 대한 서로 다른 관점 (가), (나)에 대한 설명으로 옳은 것은?

- (가) 유기체는 발생하여 성장하다가 이후 퇴화가 진행되고 소멸하게 된다. 사회도 유기체의 일생과 같은 경로로 변화한다.
- (나) 각 사회는 발전 속도가 다르기 때문에 발전 수준에서 차이가 발생한다. 모든 사회는 단순·미분화된 상태에서 복잡·분화된 상태로 변동한다.

- ① (가)는 사회 변동과 사회 발전을 동일시한다.
- ② (나)는 사회 변동의 방향이 사회마다 다르다고 본다.
- ③ (가)는 (나)와 달리 사회가 주기적으로 동일한 과정을 반복하며 변동한다고 본다.
- ④ (나)는 (가)와 달리 숙명론적 시각으로 사회 변동을 바라본다.
- ⑤ (가), (나)는 모두 서구 중심적 사고라는 비판을 받는다.

19. 일탈 이론 A~C에 대한 설명으로 옳은 것은? (단, A~C는 각각 낙인 이론, 차별 교제 이론, 머튼의 아노미 이론 중 하나이다.)

표는 사이버 범죄를 저지른 갑의 행동 원인을 분석하기 위해 서로 다른 일탈 이론에 근거하여 조사할 내용을 나열한 것이다.

연구자의 조사 내용	근거한 일탈 이론
◦ 갑이 사이버 범죄를 통해서 달성하고자 한 목표 ◦ 갑이 자신이 세운 목표를 달성하기 위해 실행한 사이버 범죄 이외의 행동	A
◦ 갑이 일탈 행동을 저지른 후 주위로부터 받은 평판 ◦ 갑이 사이버 범죄 이전에 저지른 일탈 행동의 종류와 제재 유무	B
◦ 갑이 온라인에서 일탈 성향의 사람들과 교류한 내용 ◦ 갑이 사이버 범죄를 저지르기 전에 만난 친구들의 성향	C

- ① A는 B와 달리 문화적 목표와 제도적 수단 간의 괴리를 일탈 행동의 원인으로 본다.
- ② B는 C와 달리 일탈을 규정하는 객관적 기준이 있다고 본다.
- ③ C는 A와 달리 사회적 규범의 부재로 인한 구성원들의 혼란이 일탈을 발생시킨다고 본다.
- ④ A는 B, C와 달리 정상 집단과의 교류 촉진을 일탈 행동에 대한 대책으로 강조한다.
- ⑤ C는 A, B와 달리 최초의 일탈이 반복적 일탈로 이어지는 과정에 주목한다.

20. 다음 자료에 대한 분석으로 옳은 것은? (단, A와 B는 각각 공공 부조와 사회 보험 중 하나이다.) [3점]

<표 1> 갑국 사회 보장 제도의 일반적인 특징 비교

구분	A	B
공통점	㉠	
차이점	㉡	상호 부조의 원리가 적용됨

<표 2> 갑국의 A, B 제도 수급자 비율 (단위: %)

구분	(가)	(나)	(다)	(라)	전체
A	20	15	5	8	10
B	10	㉢	40	36	32

* 갑국의 사회 보장 제도는 우리나라의 사회 보장 제도와 동일하다.
** 갑국은 (가)~(라) 지역으로만 구성되고, (나)와 (다) 지역 인구는 각각 (가) 지역 인구의 2배이다.
*** 지역별 수급자 비율(%) = (해당 지역 수급자 수 / 해당 지역 인구) × 100

- ① ㉠에는 '금전적 지원의 원칙이 적용됨', ㉡에는 '사전 예방적 성격이 강함'이 적절하다.
- ② ㉢은 (가) 지역의 A 제도 수급자 비율보다 낮다.
- ③ 강제 가입을 원칙으로 하는 제도의 수급자 수는 (나) 지역이 가장 많다.
- ④ 수혜자 부담 원칙이 적용되는 제도의 전체 수급자 수에서 (다) 지역의 수급자 수가 차지하는 비율은 25%이다.
- ⑤ (가)~(라) 지역 중 선별적 복지 이념을 바탕으로 하는 제도의 수급자 수는 (라) 지역이 가장 적다.

* 확인 사항

- 답안지의 해당란에 필요한 내용을 정확히 기입(표기)했는지 확인하시오.