

제 4 교시

탐구 영역 (통합사회)

성명 수험 번호 1

1. 다음 사례와 관련하여 A~D의 관점에서 탐구할 수 있는 적절한 활동만을 <보기>에서 고른 것은?

최근 ○○ 지역에서 공공시설인 화장장 건립을 둘러싸고 갈등이 심해지고 있다. 장례 문화의 변화로 인해 화장장 건립의 필요성이 증가했지만, 건립 예정지 주민들은 유해 물질로 인한 피해를 입는다며 반발하고 있다.

A: 시간적 관점 B: 공간적 관점

통합적 관점

C: 사회적 관점 D: 윤리적 관점

<보 기>

ㄱ. A: 화장장 건립의 입지 조건 조사하기
 ㄴ. B: 연도별 화장 비율의 변화 조사하기
 ㄷ. C: 화장장 건립 예정지 주민을 위한 보상 제도 알아보기
 ㄹ. D: 갈등 해결을 위한 바람직한 시민 태도 알아보기

- ① ㄱ, ㄴ ② ㄱ, ㄷ ③ ㄴ, ㄷ ④ ㄴ, ㄹ ⑤ ㄷ, ㄹ

2. 밑줄 친 '이 지역'의 특성으로 옳은 것은? [3점]

#페루 #쿠스코 #하늘도시 #세계문화유산

쿠스코

<판초를 입은 원주민과 알파카>

이 지역은 연중 봄과 같이 온화하지만 아침, 저녁으로 쌀쌀하여 일교차가 큰 편입니다. 그래서 원주민들은 보온을 위해 알파카나 라마의 털로 만든 판초를 즐겨 입습니다.

- ① 고위도에 위치한다.
 ② 열대림이 넓게 분포한다.
 ③ 해발 고도가 높은 곳이다.
 ④ 바다와 가까워서 어업에 유리하다.
 ⑤ 계절풍의 영향으로 벼농사가 발달한다.

3. 그림은 어느 사상가와 나눈 가상 대화이다. (가)에 들어갈 내용으로 가장 적절한 것은? [3점]

스승님, 행복이란 무엇인가요?

행복은 쾌락이며, 몸의 고통이 없고 마음의 혼란에서 벗어난 평온한 상태입니다.

1

2

그렇다면 행복을 실현하기 위해서는 어떻게 해야 하나요?

자연적이고 필수적인 욕구를 최소한으로 충족하면서 (가)

3

4

- ① 모든 욕구를 부정하는 삶을 살아야 합니다.
 ② 부와 명예만을 획득하도록 노력해야 합니다.
 ③ 과도한 욕심을 버리는 절제된 태도를 지녀야 합니다.
 ④ 정신적인 쾌락이 아닌 육체적인 쾌락만을 추구해야 합니다.
 ⑤ 몸의 고통이 계속되어도 경쟁에 집착하는 태도를 지녀야 합니다.

4. 인간과 자연의 관계에 대한 강연자의 입장으로 가장 적절한 것은?

토양에서 식물이 자라고 동물은 그 식물을 먹고 그들의 배설물은 토양의 영양분이 되는 것처럼, 여러 고리로 연결된 자연은 하나의 유기적인 전체입니다. 인간도 자연의 평범한 구성원 중 하나로서 자연 속 다른 존재들과 유기적 관계를 맺으며 살아갑니다.

- ① 인간은 자연보다 우월한 존재이다.
 ② 인간과 자연은 서로 관계없는 별개의 존재이다.
 ③ 자연은 인간의 풍요로운 삶을 위한 도구에 불과하다.
 ④ 자연의 가치는 인간의 경제적 이익에 따라 평가된다.
 ⑤ 인간을 포함한 자연 전체의 조화와 균형을 고려해야 한다.

5. (가)에 들어갈 내용으로 가장 적절한 것은?

중세에는 종교적 절대자나 군주의 뜻을 따르는 데 개인의 행복이 있다고 여겼다. 근대에 들어 산업화가 시작되면서는 물질적 기반을 확보하고 개인의 권리를 보장 받는 것이 행복의 중요한 기준이라고 보았다. 오늘날에는 물질적 풍요 외에도 자신이 부여한 삶의 가치와 심리적 만족감 등이 중시되고 있다. 결론적으로 행복의 기준은 (가)

- ① 시대적 상황에 따라 다르게 나타난다.
 ② 지역을 초월하여 보편타당하게 정해진다.
 ③ 타인과의 비교를 통해 절대적으로 결정된다.
 ④ 의식주 등 기본적 욕구와 상관없이 정해진다.
 ⑤ 소수 지배자의 통치 목적을 실현하기 위해 정해진다.

6. 다음은 학생 필기 내용의 일부이다. (가)~(마)에 들어갈 내용으로 적절하지 않은 것은?

★ 도시 문제와 해결 방안

1. 발생 원인: (가)

2. 문제점과 해결 방안

문제점	해결 방안	
	개인적 차원	사회적 차원
수질 오염	삼푸, 세제 등의 사용 자제	(나)
교통 체증	(다)	(라)
사회적 유대감 약화	이웃을 배려하는 태도 함양	(마)

- ① (가) - 인구와 기능의 과도한 도시 집중
- ② (나) - 생활 오·폐수 배출 및 처리 기준 완화
- ③ (다) - 버스, 지하철 등 대중교통 수단의 이용
- ④ (라) - 승용차 요일제 실시 및 혼잡통행료 부과
- ⑤ (마) - 마을 공동체 회복을 위한 지원 정책 시행

7. 밑줄 친 ㉠~㉣에 대한 옳은 설명만을 <보기>에서 있는 대로 고른 것은? [3점]

과거에는 신분제에 따른 차별에서 벗어나거나 정치적 권리를 보장받는 것 등과 관련된 ㉠인권이 강조되었다. 현대 사회에서는 사회·경제적 환경이 변화하면서 ㉡주거권, ㉢문화권, 안전권, 환경권 등 다양한 분야에서 인권이 중시되고 있다. 또한 국가와 개인의 관계를 넘어서 국제적 연대와 협력을 중시하는 ㉣연대권도 강조되고 있다.

<보 기>

㉠. 자유권, 평등권은 ㉠에 해당한다.

㉡. 중간 소음 피해 구제 방안은 ㉡의 보장과 관련 있다.

㉢. ㉢은 재난, 사고의 위험으로부터 안전을 보장 받을 권리이다.

㉣. 인종, 국적 등과 관계없이 인도주의적 구제를 받을 권리는 ㉣에 해당한다.

- ① ㉠, ㉡ ② ㉠, ㉢ ③ ㉢, ㉣
- ④ ㉠, ㉡, ㉣ ⑤ ㉡, ㉢, ㉣

8. 교사의 질문에 적절한 답변을 한 학생만을 고른 것은? [3점]

학습 주제: 행복한 삶을 위한 조건
(가) 질 높은 정주 환경
(나) 민주주의의 실현
(다) 경제적 안정
(라) 도덕적 실천

행복한 삶을 위한 조건 (가)~(라)에 대해 설명해 보세요.

갑: (가)는 교통, 복지, 문화 시설 등 인문 환경적 요소만을 포함합니다.

을: (나)는 권위주의적 정치문화의 확산을 통해 달성할 수 있습니다.

병: (다)를 위해 경제적 불평등 해소, 고용 안정을 위한 노력이 필요합니다.

정: (라)를 위해 바람직한 가치를 행동으로 옮기려는 실천 의지가 필요합니다.

- ① 갑, 을 ② 갑, 병 ③ 을, 병 ④ 을, 정 ⑤ 병, 정

9. 다음은 여행 안내서의 일부이다. (가)에 들어갈 옳은 내용만을 <보기>에서 고른 것은? [3점]

뉴질랜드 북섬, 타우포 여행 안내

지구가 살아 있다는 증거! 마그마가 지각의 갈라진 틈을 뚫고 분출하여 형성된 지형과 관련된 다양한 경관들을 만나 보세요.

[추천 장소 1] [추천 장소 2]

분화구가 함몰된 후 물이 고여 형성된 타우포 호수

(가)

<보 기>

㉠. 석회암이 물에 녹아 만들어진 어진 기암괴석

㉡. 최대 20m 높이로 솟아 오르는 간헐천

㉢. 땅속의 열에너지로 전력을 생산하는 발전소

㉣. 빙하의 침식과 해수면 상승으로 형성된 피오르

- ① ㉠, ㉡ ② ㉠, ㉢ ③ ㉡, ㉣ ④ ㉡, ㉣ ⑤ ㉢, ㉣

10. 다음은 어느 자연재해에 대한 긴급 재난 문자의 일부이다. 이 자연재해에 대한 설명으로 옳은 것은?




오늘 저녁부터 내일 새벽 사이 우리나라를 통과할 예정이니, 텔레비전이나 라디오 등으로 진로 및 도달 시간을 확인하시기 바랍니다.

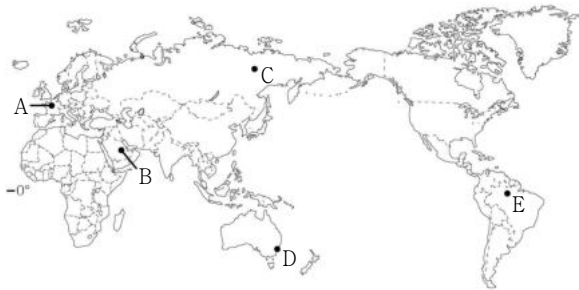
많은 비와 강풍이 예상되니 창틀, 간판 등을 미리 단단하게 고정하고 외출을 자제하여 주시기 바랍니다.

현재 직접적 영향으로 강한 비와 바람이 발생 중입니다. 상습 침수 지역 주민들은 안전한 곳으로 대피하기 바랍니다.

- ① 대기 중 미세 먼지 농도를 상승시킨다.
- ② 열대 저기압이 이동할 때 주로 발생한다.
- ③ 우리나라에서는 한랭전선한 겨울에 나타난다.
- ④ 두 지각판이 분리되는 경계에서 발생 빈도가 높다.
- ⑤ 해저 지진으로 발생한 거대한 파도가 육지로 밀려오는 현상이다.

11. (가) ~ (다)에 해당하는 지역을 지도의 A ~ E에서 고른 것은? [3점]

(가)	(나)	(다)
		
강수량보다 증발량이 많은 건조한 지역으로 강한 햇볕을 막기 위해 예로부터 온몸을 감싸는 험렁한 옷인 '칸두라'를 입었다.	연중 고온다습한 지역으로 음식이 쉽게 상하기 때문에 향신료와 고기 등으로 속을 채워 넣고 튀긴 만두인 '파스테우'를 즐겨 먹는다.	여름과 겨울의 기온 차이가 매우 큰 지역으로 '타이가'라는 침엽수림이 넓게 분포하여 통나무로 만든 '이즈바'라는 전통 가옥이 발달했다.



- | | | | | | |
|-----|-----|-----|-----|-----|-----|
| (가) | (나) | (다) | (가) | (나) | (다) |
| ① A | B | C | ② A | D | E |
| ③ B | A | D | ④ B | E | C |
| ⑤ C | E | D | | | |

12. 환경 문제 해결을 위한 (가), (나)의 활동만을 <보기>에서 고른 것은? (단, (가), (나)는 각각 정부, 시민 단체 중 하나임.) [3점]

과도한 일회용 플라스틱 포장재를 제조업체나 유통업체에 반납하는 '플라스틱 어택(Plastic Attack)' 운동이 우리 사회에 변화를 불러오고 있다. 환경 문제에 관심을 가진 사람들이 자발적으로 조직한 **(가)**은/는 길거리에 버려진 일회용 컵을 주위 해당 매장에 반납하고 일회용품 사용 규제를 촉구하는 서명 운동을 진행하였다. 이에 **(나)**은/는 일회용 컵 보증금제를 2022년 6월부터 부활시키는 등 자원 재사용과 재활용 촉진을 위한 제도를 마련하겠다고 밝혔다.

< 보 기 >

ㄱ. (가)는 환경과 관련된 법을 만들고 집행한다.
 ㄴ. (나)는 이윤 추구를 위해 친환경 상품을 생산·유통한다.
 ㄷ. (가)는 여론을 형성하여 (나)의 환경 정책 결정 과정에 영향을 미친다.
 ㄹ. (가), (나)는 환경 보호 실천 방안 등에 관한 홍보 및 교육 활동을 한다.

- ① ㄱ, ㄴ ② ㄱ, ㄷ ③ ㄴ, ㄷ ④ ㄴ, ㄹ ⑤ ㄷ, ㄹ

13. 다음 신문 기사를 바탕으로 예상할 수 있는 지역 변화로 적절하지 않은 것은? [3점]


○○ 신문

중부 내륙, 본격적 고속 열차 시대 열려

2021년 1월, 서울 청량리역과 안동역 사이에 고속 열차 노선이 개통되었다. 최대 시속 260km의 고속 열차가 원주, 영주 등 8개 역을 거치면서 중부 내륙 지역에도 고속 철도 시대가 열리게 되었다. 청량리에서 안동까지 무궁화호 열차로 3시간 54분 걸리던 이동 시간이 2시간 3분으로 크게 단축되었다.

- ① 지역 간 접근성이 향상될 것이다.
- ② 주민들의 일상생활 범위가 확대될 것이다.
- ③ 철도의 여객 수송 분담률이 증가할 것이다.
- ④ 경제 활동의 시·공간적 제약이 커질 것이다.
- ⑤ 신규 정치역 주변에 새로운 상권이 형성될 것이다.

14. 다음 자료의 (가)에 들어갈 내용으로 가장 적절한 것은?



아말반도

'세상의 끝'이라는 의미의 야말반도는 짧은 여름철에만 푸른 땅이 드러나며 1년 중 약 9개월은 얼어 있는 수많은 호수가 있다. 이 지역의 주민들은 호수의 얼음을 깨서 식수로 사용하기도 하고, **(가)** 하며 생활하였다. 그러나 최근에는 천연가스 개발로 인해 철도와 도로가 생기면서 다양한 변화를 겪고 있다.

- ① 오아시스 주변에서 대추야자를 수확
- ② 고기와 가축을 얻기 위해 순록을 유목
- ③ 이동식 경작을 통해 카사바, 양 등을 재배
- ④ 낙타를 타고 무리 지어 이동하면서 물자를 운반
- ⑤ 지면에서 올라오는 열기를 피하기 위해 고상 가옥에서 거주

15. (가), (나)에 대한 옳은 설명만을 <보기>에서 고른 것은?

(가) 프랑스 인권 선언(1789)	(나) 세계 인권 선언(1948)
제1조 인간은 태어났서부터 자유로우며 평등한 권리를 가진다.	제1조 모든 사람은 태어날 때부터 자유롭고 존엄하며 평등하다.
제17조 소유권은 신성불가침의 권리이므로 법에서 규정한 공공의 필요에 의해 명백히 요구되는 때 이외에는 누구도 박탈할 수 없다.	제22조 모든 사람에게는 사회의 일원으로서 사회 보장을 요구할 권리가 있으며 ... 제26조 ① 모든 사람에게는 교육을 요구할 권리가 있다.

< 보 기 >

ㄱ. (가)는 사유 재산 제도를 부정하고 있다.
 ㄴ. (나)의 인권 범위에는 사회권이 포함되어 있다.
 ㄷ. (나)로 인해 국가의 필요에 따라 임의로 인권을 제한할 수 있게 되었다.
 ㄹ. (가), (나) 모두에서 천부 인권이 나타나 있다.

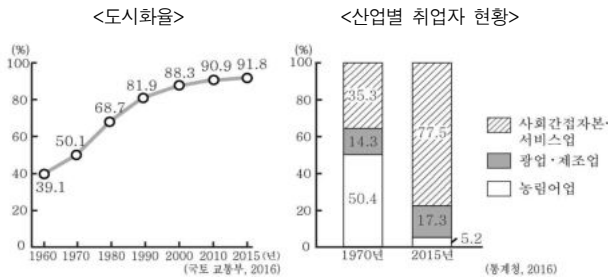
- ① ㄱ, ㄴ ② ㄱ, ㄷ ③ ㄴ, ㄷ ④ ㄴ, ㄹ ⑤ ㄷ, ㄹ

16. 다음 사례를 통해 공통적으로 추론할 수 있는 정보 사회의 문제점으로 가장 적절한 것은?

- 코로나19로 인한 '사회적 거리 두기'로 등교 수업이 제한되면서 비대면 원격 수업이 늘어나고 있다. 정보화 기기와 인터넷이 마련되어 있는 학생들에 비해 그렇지 못한 소외 계층 가정의 학생들은 수업에 참여하기 어려워졌다.
- 무인 주문 기계를 활용하는 식당이나 매장이 늘어나고 있다. 기기 조작에 능숙한 젊은 세대에 비해 노인 세대 등 기기 조작을 어려워하는 사람들은 주문에 불편함을 겪고 있다.

- ① 정보 접근 및 이용에서 격차가 발생하고 있다.
- ② 타인의 지적 재산권 침해 현상이 심화되고 있다.
- ③ 허위 정보의 유포로 인한 사회적 혼란이 증대되고 있다.
- ④ 개인 정보 유출로 인한 사생활 침해 문제가 확산되고 있다.
- ⑤ 정보화 기기에 대한 과도한 의존으로 인해 인터넷 중독 문제가 심각해지고 있다.

17. 그래프는 우리나라의 도시화와 산업별 취업자 현황을 나타낸 것이다. 1970년과 비교한 2015년의 상대적 특성으로 옳지 않은 것은? [3점]



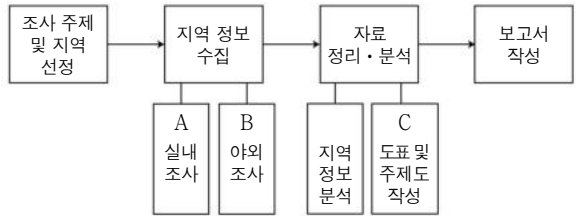
- ① 도시 인구 비율이 높다.
- ② 직업의 분화 정도가 높다.
- ③ 이혼 향도 현상이 활발하다.
- ④ 도시의 시가지 면적이 넓다.
- ⑤ 3차 산업 종사자 비율이 높다.

18. 그림이 공통적으로 다루고 있는 환경 문제에 대한 설명으로 옳지 않은 것은?



- ① 대기 오염 물질이 빗물과 결합하여 내리는 현상이다.
- ② 해수면이 상승하여 저지대의 침수 위험성이 높아진다.
- ③ 이산화 탄소 등 온실가스 배출량 증가가 주요 원인이다.
- ④ 전 지구적으로 이상 기후 현상의 발생 빈도를 증가시킨다.
- ⑤ 문제 해결을 위한 국제 협력으로 파리 기후 협약이 체결되었다.

19. 그림은 지역 조사 과정을 나타낸 것이다. A ~ C 단계에서 실시하는 활동을 <지역 조사 계획서>의 ㄱ ~ ㄷ에서 고른 것은?



<지역 조사 계획서>

- 조사 주제: ○○시 마을 기업 운영 이후 지역 변화
- 주요 활동 계획
 - ㄱ. 마을 기업 설립이 지역에 미친 영향을 주민과의 면담을 통해 조사한다.
 - ㄴ. 연도별 마을 기업 설립 현황 등과 관련된 문헌 및 통계 자료를 수집한다.
 - ㄷ. 수집한 시기별 지역 총생산 자료를 막대 그래프로 표현한다.

- | | | | | | | | |
|---|---|---|---|---|---|---|---|
| | A | B | C | | A | B | C |
| ① | ㄱ | ㄴ | ㄷ | ② | ㄱ | ㄷ | ㄴ |
| ③ | ㄴ | ㄱ | ㄷ | ④ | ㄴ | ㄷ | ㄱ |
| ⑤ | ㄷ | ㄱ | ㄴ | | | | |

20. 다음 자료에 대한 옳은 분석만을 <보기>에서 고른 것은? [3점]

연구자 같은 A와 B 지역의 주민 각각 1,000명씩, 총 2,000명을 대상으로 '인권 의식 실태 조사'를 실시하였다. 표는 '국내 체류 외국인에게 기본적인 사회 보장을 해주어야 한다.' 항목에 대한 조사 결과를 나타낸 것이다. 단, 무응답이나 복수 응답은 없었다.

(단위: %)

지역 응답 성별	A 지역			B 지역		
	그렇다	보통이다	그렇지 않다	그렇다	보통이다	그렇지 않다
남성	49	29	22	65	20	15
여성	48	30	22	67	19	14

<보 기>

- ㄱ. A 지역 응답자의 절반 이상이 '그렇다'에 응답하였다.
- ㄴ. '그렇지 않다'에 응답한 사람은 A 지역이 B 지역보다 많다.
- ㄷ. A 지역이 B 지역보다 국내 체류 외국인에 대한 사회 보장 정책 수립에 긍정적이다.
- ㄹ. 응답 항목별 비율에서 지역별 차이는 성별 차이보다 크다.

- ① ㄱ, ㄴ ② ㄱ, ㄷ ③ ㄴ, ㄷ ④ ㄴ, ㄹ ⑤ ㄷ, ㄹ

* 확인 사항

- 답안지의 해당란에 필요한 내용을 정확히 기입(표기)했는지 확인 하시오.