

직업탐구 영역(상업 경제)

제 4 교시

성명

수험 번호 2

제 [] 선택

1

상업 경제

1. 다음 수행 평가 보고서에 나타난 사례에 해당하는 경제 활동의 원칙으로 가장 적절한 것은?

수행 평가 보고서

- 주제: 경제 활동의 원칙 사례 조사하기
- 사례: ○○(주)는 품질과 기능, 형태 등이 동일한 부품을 공급하는 업체들의 견적을 비교하여, 이 중 가장 낮은 가격의 견적을 제시한 업체의 부품을 구매하였다. 이는 동일한 효과를 얻기 위해 비용을 최소화하려는 원칙에 해당한다.

- ① 전문화의 원칙 ② 표준화의 원칙
- ③ 최대 효과의 원칙 ④ 최대 잉여의 원칙
- ⑤ 최소 비용의 원칙

2. 다음 사례에 나타난 기업의 사회적 책임에 대한 설명으로 가장 적절한 것은? (단, A. B. Carroll의 기업의 사회적 책임 피라미드 이론(1991)에 따른다.)


○○(주)는 지난 여름 동남아시아 지역에서 발생한 홍수 피해 복구를 돕기 위해 국제 구호 단체와 협력하여 재해 피해 지역에 긴급 구호품을 무상으로 제공하였다.

- ① 친환경 제품을 생산하여 환경을 보호하는 책임
- ② 안전한 제품 제공으로 윤리 경영을 준수하는 책임
- ③ 정해진 법률에 따라 세금을 성실하게 납부하는 책임
- ④ 자선적 사업으로 기업 이윤을 사회에 환원하는 책임
- ⑤ 기업이 지속 가능할 수 있도록 이윤을 창출하는 책임

3. 다음은 신제품 개발을 위한 대화 내용이다. 이를 통해 알 수 있는 조직 구조로 가장 적절한 것은?

사장님, 신제품 개발에 필요한 인원은 10명 정도입니다. 조직 구성을 어떻게 하면 좋을까요?

필요한 인원을 각 부서에서 선발하여 구성하고, 신제품 개발이 완료되면 기존 소속 부서로 복귀시키세요.



- ① 라인 조직 ② 기능식 조직
- ③ 사업부제 조직 ④ 프로젝트 조직
- ⑤ 라인-스태프 조직

4. 다음 사례에 나타난 A 씨가 상업의 주체로서 갖는 특징에 대한 설명으로 옳은 것은? [3점]

상업계 특성화 고등학교를 졸업한 A 씨는 ○○물류(주)에 물품 분류 업무를 담당하는 현장직으로 취업하였다. 그는 근무하면서 학업을 병행하여 물류 관련 석사 학위를 취득하였고, 여러 지역의 물류센터 업무 경력을 인정받아 20년이 지난 현재 ○○물류(주)의 국내 물류센터 총괄 이사로 승진하여 근무하고 있다.

- ① 특정 상인의 업무를 계속적으로 대리한다.
- ② 매매 당사자 쌍방으로부터 수수료를 받는다.
- ③ 영업주의 허락 없이 동종의 영업을 할 수 없다.
- ④ 물류센터 경영의 주체로 자기 명의로 상행위를 한다.
- ⑤ 불특정 다수의 위탁을 받아 자기 명의로 거래를 한다.

5. 다음은 A 씨의 지급 수단별 월 지출액과 카드 보유 수량의 변동을 나타낸 것이다. 5월 대비 6월 지출액에 대한 설명으로 옳은 것만을 <보기>에서 고른 것은? [3점]

A 씨는 6월에 주거래 은행에서 신용 공여 기능이 없는 지급 수단을 신규로 발급받아 지급 수단별 지출액을 변경하였다.

(단위: 만 원, 개)

지급 수단	5월		6월	
	지출액	보유 수량	지출액	보유 수량
신용 카드	200	1	60	1
체크 카드	-	0	80	1
선불 카드	20	1	20	1
현금	80		140	

< 보 기 >

- ㄱ. 상환급에 해당하는 지급 수단의 지출액은 증가하였다.
- ㄴ. 할부 구매가 가능한 지급 수단의 지출액은 증가하였다.
- ㄷ. 충전식 교통 카드가 속하는 지급 수단의 지출액은 동일하다.
- ㄹ. 결제 즉시 계좌 이체되는 지급 수단의 지출액은 감소하였다.

- ① ㄱ, ㄴ ② ㄱ, ㄷ ③ ㄴ, ㄷ
- ④ ㄴ, ㄹ ⑤ ㄷ, ㄹ

2 (상업 경제)

직업탐구 영역

6. 다음은 A 기업의 물류 정보 시스템 도입 과정의 일부이다. A 기업이 도입하고자 하는 물류 정보 시스템으로 가장 적절한 것은?

상황 분석	<ul style="list-style-type: none"> • 다양한 화물 규격에 따른 포장으로 인해 적재 과정에서의 오류와 지연 발생 • 화물 규격 불일치로 인한 물류비용 증가
-------	---

↓
(중략)
↓

기대 효과	<ul style="list-style-type: none"> • 화물 규격을 단위화시키는 물류 정보 시스템을 도입하여 적재 과정에서의 오류와 지연 감소 • 표준화된 컨테이너와 팔릿을 사용하여 물류 작업의 효율성 향상
-------	---

- | | |
|-------------|-------------|
| ① 전자 문서 교환 | ② 첨단 화물 운송 |
| ③ 전사적 자원 관리 | ④ 전자 주문 시스템 |
| ⑤ 유닛 로드 시스템 | |

[7~8] 다음은 직업 체험 소감문이다. 물음에 답하시오.

직업 체험 소감문

우리 반 친구의 어머니께서 일하시는 ○○기업을 방문하였다. 친구의 어머니께서는 ㉠ 자산, 부채, 매출액 등의 변동을 기록·계산·정리하는 업무를 하셨다. 이러한 업무를 예전에는 장부에 직접 작성하였으나 이제는 컴퓨터로 처리한다고 말씀해 주셨다. 오후에는 A 과장님이 회사에서 근무 중에 다치게 되었을 때 근로복지공단에서 보상받을 수 있는 보험에 대해 설명해 주셨다.

7. 위 소감문의 ㉠이 속하는 기업의 부문별 활동에서 이루어지는 업무 내용으로 가장 적절한 것은?

- ① 소비자 분석 보고서 작성
- ② 자금 조달 및 운용 계획 수립
- ③ 직원 선발 및 인사 기록 카드 생성
- ④ 생산 공정 및 품질 관리 시스템 점검표 작성
- ⑤ 기업의 이해관계자에게 제공하는 재무제표 작성

8. 위 소감문에서 A 과장님이 설명한 보험에 대한 내용으로 옳은 것만을 <보기>에서 고른 것은? [3점]

< 보 기 >
<ul style="list-style-type: none"> ㄱ. 보험 가입 여부를 선택할 수 있다. ㄴ. 사업주가 보험료를 전액 부담한다. ㄷ. 납부한 보험료는 일정 기간 뒤에 환급받는다. ㄹ. 사회 정책상의 목적을 달성하기 위해 시행하는 보험이다.

- | | | |
|--------|--------|--------|
| ① ㄱ, ㄴ | ② ㄱ, ㄷ | ③ ㄴ, ㄷ |
| ④ ㄴ, ㄹ | ⑤ ㄷ, ㄹ | |

9. 다음은 판매부 회의 장면이다. 이에 나타난 유통 경로 정책에 대한 설명으로 적절한 것만을 <보기>에서 있는 대로 고른 것은? [3점]

신상품의 유통 경로 정책에 대한 의견을 말씀해 보세요.

취급을 원하는 모든 점포를 통해 판매하는 것이 어떤가요?

일정한 지역에 하나의 점포에서만 우리 회사 신상품을 판매할 수 있도록 하는 것이 좋을 것 같습니다.

< 보 기 >
<ul style="list-style-type: none"> ㄱ. 대리가 제안한 방식은 과장이 제안한 방식보다 판매처에 대한 통제가 쉽다. ㄴ. 대리가 제안한 방식은 과장이 제안한 방식보다 시장에서 자사 제품의 노출 확대에 유리하다. ㄷ. 과장이 제안한 방식은 전속적 유통 경로 정책, 대리가 제안한 방식은 개방적 유통 경로 정책에 해당한다.

- | | | |
|--------|-----------|--------|
| ① ㄱ | ② ㄷ | ③ ㄱ, ㄴ |
| ④ ㄴ, ㄷ | ⑤ ㄱ, ㄴ, ㄷ | |

10. 다음은 자금 조달 사례 조사 보고서이다. [사례 1], [사례 2]에 나타난 금융의 종류에 대한 설명으로 옳은 것만을 <보기>에서 고른 것은? [3점]

자금 조달 사례 조사 보고서

[사례 1]

- 회사명: ○○(주)
- 내 용: 공장 증축을 위해 주식을 발행하여 자금을 조달함.

[사례 2]

- 회사명: △△기업
- 내 용: 신약 개발을 위해 3년 만기의 회사채를 발행하여 연구 개발비를 조달함.

< 보 기 >
<ul style="list-style-type: none"> ㄱ. [사례 1]은 소비 금융에 해당한다. ㄴ. [사례 2]는 직접 금융 시장에서 자금 조달이 이루어졌다. ㄷ. [사례 1]과 [사례 2]는 장기 금융 시장에서 자금 조달이 이루어졌다. ㄹ. [사례 1]에서 발행된 증권은 타인 자본, [사례 2]에서 발행된 증권은 자기 자본에 해당한다.

- | | | |
|--------|--------|--------|
| ① ㄱ, ㄴ | ② ㄱ, ㄷ | ③ ㄴ, ㄷ |
| ④ ㄴ, ㄹ | ⑤ ㄷ, ㄹ | |

11. 다음 ○○(주)의 경영 활동 사례에 나타난 마케팅 믹스(4P's) 전략 요소로 적절한 것만을 <보기>에서 고른 것은?

○○(주)는 마케팅 전략의 일환으로 광고, 홍보, 인적 판매 등의 다양한 활동을 통해 브랜드 인지도를 높여 시장 점유율을 확대하고 있다. 또한 소비자들의 온라인 쇼핑 선호도를 고려하여 온라인 판매 채널을 추가하였다.

< 보기 >
 ㄱ. 가격(Price) 전략 ㄴ. 유통(Place) 전략
 ㄷ. 제품(Product) 전략 ㄹ. 촉진(Promotion) 전략


- ① ㄱ, ㄴ ② ㄱ, ㄷ ③ ㄴ, ㄷ
 ④ ㄴ, ㄹ ⑤ ㄷ, ㄹ

12. 다음 사례에 나타난 전자 상거래의 유형으로 가장 적절한 것은?

○○시는 지역 기업과 상생하기 위한 방안으로 지역 내에 본점과 생산 공장을 두고 있는 △△(주)와 상호 협력 양해 각서를 체결하였다. 세부 실행 내용으로 ○○시에서는 필요한 각종 사무기기와 용품을 나라장터 온라인 플랫폼을 통해 △△(주)로부터 구매를 하고 있다.

- ① B2B ② B2G ③ C2B ④ C2C ⑤ G2C

13. 다음은 A 국의 기준금리 변동에 대한 뉴스이다. A 국에서 이와 같은 통화 신용 정책이 시행될 경우 나타날 수 있는 경제 현상으로 적절한 것만을 <보기>에서 고른 것은? (단, 통화량만 고려한다.) [3점]



< 보기 >
 ㄱ. 시중의 통화량이 감소할 것이다.
 ㄴ. 시중 은행의 예금 금리가 상승할 것이다.
 ㄷ. 기업들의 투자를 위한 신규 대출액 수요가 증가할 것이다.
 ㄹ. 가계는 변동 금리로 대출받은 대출금의 이자 비용이 감소할 것이다.

- ① ㄱ, ㄴ ② ㄱ, ㄷ ③ ㄴ, ㄷ
 ④ ㄴ, ㄹ ⑤ ㄷ, ㄹ

14. 다음은 우리나라 ○○(주) 수출 담당 사원의 업무 일지의 일부이다. (가)에 들어갈 무역 서류로 가장 적절한 것은?

일자	업무 내용
7월 5일	미국의 △△(주)와 신용장 결제 조건으로 수출입 계약을 체결함.
7월 8일	신용장을 통지 은행으로부터 수령하고, 수출 물품의 운송 계약을 체결함.
7월 10일	세관에 수출 신고를 하고, 수출 물품을 선적한 후 선박 회사로부터 (가) 을/를 발급받음.

- ① 선하 증권(Bill of Lading)
 ② 보험 증권(Insurance Policy)
 ③ 상업 송장(Commercial Invoice)
 ④ 화물 인도 지시서(Delivery Order)
 ⑤ 원산지 증명서(Certificate of Origin)

15. 다음은 경상수지에 대한 상업 경제 활동지이다. (가)에 들어갈 내용으로 가장 적절한 것은? [3점]

상업 경제 활동지

• 우리나라의 2023년 1~4월 누계 경상수지와 2023년 1~5월 누계 경상수지는 아래와 같다.

(단위: 억 달러)

구분	2023년 1~4월 누계	2023년 1~5월 누계
상품수지	-53.7	-34.4
서비스수지	-84.1	-93.2
본원소득수지	132.2	128.4
이전소득수지	-9.1	-13.0

문제) 2023년 5월에 흑자를 나타낸 경상수지 항목에 해당하는 거래를 기록하시오.

(가)

- ① 내국인이 해외로 송금
 ② 국내 기업의 상품 수출
 ③ 외국인이 우리나라를 여행한 경비 지급
 ④ 국내 기업이 해외 상표권 사용료를 지급
 ⑤ 국내 기업 배당금을 해외 투자 은행이 수취

4 (상업 경제)

직업탐구 영역

16. 다음 주식 시세표에 대한 설명으로 적절한 것만을 <보기>에서 고른 것은? [3점]

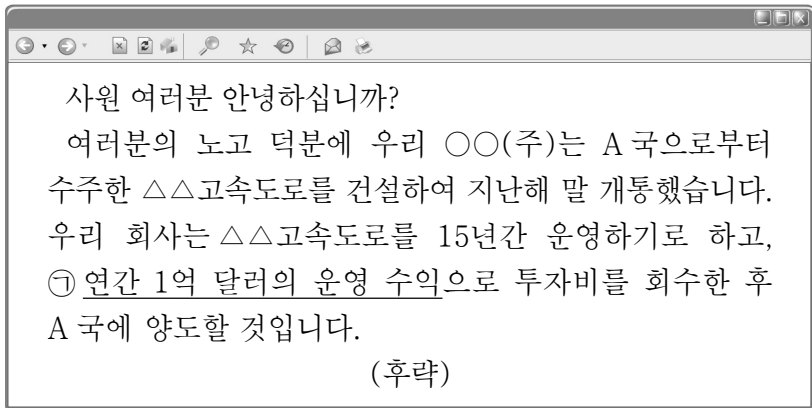
주식 시세표					
KOSPI 3,000.00(▲20.12) (단위: 원)					
종목	시가	고가	저가	종가	전일비
A	40,000	43,000	40,000	42,000	▲1,000
B	50,000	60,000	48,000	55,000	▲5,000

< 보기 >

- ㄱ. 종합 주가 지수는 기준 시점 대비 3배 상승했다.
- ㄴ. A 종목의 전일 종가는 41,000원이다.
- ㄷ. B 종목은 장중 상한가를 기록했다.
- ㄹ. A와 B 종목은 유가 증권 시장에서 거래된다.

- ① ㄱ, ㄴ ② ㄱ, ㄷ ③ ㄴ, ㄷ
- ④ ㄴ, ㄹ ⑤ ㄷ, ㄹ

[17 ~ 18] 다음은 우리나라 OO(주) 대표가 직원들에게 보낸 메일 내용이다. 물음에 답하십시오.



17. 위 메일에 나타난 OO(주)의 해외 시장 진출 방식으로 적절한 것은?

- ① 계약 생산 ② BOT 방식 ③ 경영 관리 계약
- ④ 턴키 계약 방식 ⑤ 국제 프랜차이즈

18. 위 메일에서 ㉠을 포함하는 A 국 입장에서의 경제 성장 지표에 대한 설명으로 옳은 것만을 <보기>에서 있는 대로 고른 것은? [3점]

< 보기 >

- ㄱ. 영토를 기준으로 한다.
- ㄴ. 외국인이 국내에서 생산한 금액을 포함한다.
- ㄷ. 내국인의 국내 생산액과 국외 생산액을 합한 지표이다.

- ① ㄱ ② ㄷ ③ ㄱ, ㄴ
- ④ ㄴ, ㄷ ⑤ ㄱ, ㄴ, ㄷ

19. 다음 대화 내용을 통해 알 수 있는 무역 형태로 가장 적절한 것은?

본사는 새로운 상품을 발굴하는 과정에서 해외 시장 및 거래처에 대한 정보를 많이 보유하게 되었습니다. 보유한 정보를 활용하여 수익을 창출할 수 있는 방법은 무엇일까요?

귀사가 보유한 정보를 활용해 거래처에서 해당 상품을 수입하여 가공하지 않고 원형 그대로 제3국에 수출하는 방법을 제안합니다. 이를 통해 귀사는 수입 대금과 수출 대금의 차액을 얻을 수 있습니다.



OO(주) 직원



무역협회 직원

- ① 통과 무역 ② 중개 무역 ③ 중계 무역
- ④ 스위치 무역 ⑤ 위탁 가공 무역

20. 다음은 A ~ D 국가 간 경제 통합 체결 전과 체결 후를 나타낸 것이다. 체결 전 대비 체결 후의 A 국 상황에 대한 설명으로 적절한 것만을 <보기>에서 있는 대로 고른 것은? (단, 경제 통합 형태는 B. Balassa의 분류에 따른다.) [3점]

체결 전	A, B, C, D 국은 경제 통합을 체결하지 않은 상태에서 서로 수출과 수입을 하였다.
------	---



체결 후	<ul style="list-style-type: none"> • A 국은 B 국과 관세 동맹을 체결 및 발효하였다. • A 국은 C 국과 완전 경제 통합을 체결 및 발효하였다.
------	---

< 보기 >

- ㄱ. B 국과 함께 D 국에 대하여 공동 관세율을 적용한다.
- ㄴ. C 국과 공동의 경제 정책을 수립하여 운영한다.
- ㄷ. D 국과의 생산 요소 이동이 자유로워진다.

- ① ㄱ ② ㄷ ③ ㄱ, ㄴ
- ④ ㄴ, ㄷ ⑤ ㄱ, ㄴ, ㄷ

※ 확인 사항

- 답안지의 해당란에 필요한 내용을 정확히 기입(표기)했는지 확인하십시오.