

제 4 교시

사회탐구 영역 (정치와 법)

성명 수험번호 2 제 [] 선택

1. 다음 글에 나타난 정치를 바라보는 관점에 대한 설명으로 옳은 것은?

모든 사회 집단은 집단의 원활한 운영을 위해 구성원들에게 영향을 주는 결정을 해야 하는데, 이와 관련된 구성원들의 행위를 정치라고 한다. 민간 기업의 임금 인상 또는 동결, 대학 입시 정책의 유지 또는 개편 등이 이에 해당한다. 이러한 결정은 구성원 다수의 의사를 반영해서 이루어질 수도 있고, 의견이 엇갈릴 경우 대화와 타협에 의해 이루어지기도 한다.

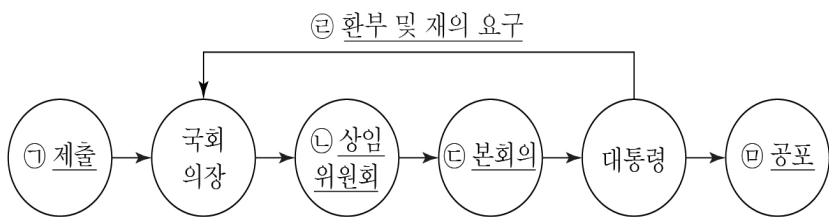
- ① 국회의 입법 활동은 정치로 보지 않는다.
- ② 국가 형성 이전에는 정치 현상이 없었다고 본다.
- ③ 국가 수준에서 나타나는 특유의 현상만을 정치로 본다.
- ④ 정치권력의 획득과 유지 및 행사 과정만을 정치로 본다.
- ⑤ 다양한 이해 관계 조정이나 갈등의 해결을 정치로 본다.

2. 다음 글에서 헌법 재판소가 중시하는 법치주의의 유형에 대한 설명으로 옳지 않은 것은?

○○교재는 ‘악법도 법’이라며 독배를 마시고 숨진 소크라테스의 일화를 준법정신의 사례로 소개하고 있다. 이에 대해 헌법 재판소는 “오늘날의 법치주의는 법률이 적법한 절차를 통해 만들어지는 것뿐만 아니라 인간의 존엄성, 자유와 평등의 실현을 목적으로 한다.”라며 “해당 사례를 준법정신과 연결시키는 것은 적절치 않다.”라고 지적했다.

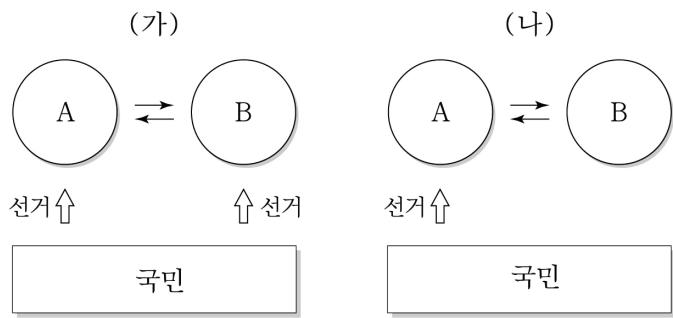
- ① 통치의 합법성과 정당성을 중시한다.
- ② 법에 대한 통치 권력의 우위를 인정한다.
- ③ 권력자의 자의적인 지배를 인정하지 않는다.
- ④ 법의 목적과 내용이 정의에 부합해야 한다는 것을 강조한다.
- ⑤ 법이 권위주의 통치의 강화 수단으로 악용되는 것을 경계한다.

3. 그림은 우리나라의 법률 제·개정 절차를 나타낸 것이다. 밑줄 친 ㉠~㉣에 대한 설명으로 옳은 것은? [3점]



- ① ㉠은 국회 의원만 할 수 있다.
- ② ㉢은 의안을 전문적으로 심사하는 역할을 담당한다.
- ③ ㉣에서 일반 의결 정족수는 국회 재적 의원 과반수의 찬성이다.
- ④ ㉡은 국민 투표를 거쳐 대통령이 한다.
- ⑤ ㉡을 거쳐 ㉣에서 재의결한 법률안에 대해 대통령은 거부권을 행사할 수 있다.

4. 전형적인 정부 형태 (가), (나)에 대한 옳은 설명만을 <보기>에서 고른 것은? (단, A, B는 각각 입법부, 행정부 중 하나이다.) [3점]



* ⇄는 견제 방향을 의미함.

— <보 기> —

ㄱ. (가)에서 A는 B에 대한 불신임권을 행사할 수 있다.
 ㄴ. (나)에서 B는 의회 해산권을 행사할 수 있다.
 ㄷ. (가)는 (나)에 비해 정치적 책임과 국민적 요구에 민감하다.
 ㄹ. (가), (나) 모두 사법부의 독립을 보장한다.

- ① ㄱ, ㄴ ② ㄱ, ㄷ ③ ㄴ, ㄷ ④ ㄴ, ㄹ ⑤ ㄷ, ㄹ

5. 갑국과 을국의 대표 선출 방식에 대한 옳은 분석 및 추론만을 <보기>에서 고른 것은? [3점]

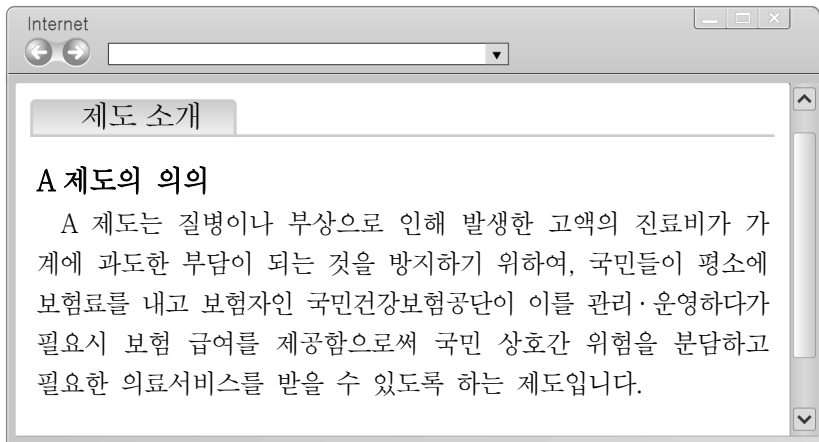
구분	선출 방식
갑국	전체 유효 투표수의 과반을 득표하지 않아도 다른 후보보다 한 표라도 더 많이 얻은 최다 득표 후보가 당선자로 결정된다.
을국	1차 투표에서 전체 유효 투표수의 과반을 득표한 후보가 있을 경우에는 해당 후보가 당선된다. 만약 어떤 후보도 과반을 득표하지 못하면, 1, 2위 득표자 2명을 대상으로 2차 투표를 실시하여 그 중 과반 득표를 한 후보가 당선자로 결정된다.

— <보 기> —

ㄱ. 갑국은 단순 다수 대표제를 채택하고 있다.
 ㄴ. 을국에서는 1차 투표의 최다 득표자가 최종적으로 낙선하는 사례가 나타날 수 있다.
 ㄷ. 갑국의 대표 선출 방식은 을국에 비해 당선자의 대표성이 높다.
 ㄹ. 을국의 대표 선출 방식은 갑국에 비해 시간과 비용이 적게 든다.

- ① ㄱ, ㄴ ② ㄱ, ㄷ ③ ㄴ, ㄷ ④ ㄴ, ㄹ ⑤ ㄷ, ㄹ

6. A 제도를 통해 추론할 수 있는 우리나라 헌법의 기본 원리를 실현하기 위한 방안으로 가장 적절한 것은?



- ① 언론·출판·집회·결사의 자유를 보장한다.
- ② 상호주의 원칙에 따라 외국인의 지위를 보장한다.
- ③ 군사적 긴장 완화를 위하여 남북 정상 회담을 개최한다.
- ④ 국가 권력을 여러 기관에 분산하여 상호 견제하게 한다.
- ⑤ 사회 보장 및 복지 증진을 위한 다양한 정책을 실시한다.

7. 정치 참여 집단 A~C의 일반적인 특징에 대한 설명으로 옳은 것은? (단, A~C는 각각 정당, 시민 단체, 이익 집단 중 하나이다.) [3점]

○ '특수 이익보다 공익을 우선시하는가?'라는 질문을 통해 A와 B를 구분할 수 없다.
 ○ '정권 획득을 목적으로 조직되었는가?'라는 질문을 통해 B와 C를 구분할 수 있다.

- ① A는 자기 집단의 직업적 이익을 정책에 반영한다.
- ② B는 공직 선거에 후보자를 공천한다.
- ③ A는 C와 달리 정치 사회화 기능을 수행한다.
- ④ C는 B와 달리 정부와 의회를 매개하는 역할을 한다.
- ⑤ A, B는 C와 달리 정치 과정에서 투입 기능을 담당한다.

8. 다음 글을 통해 추론할 수 있는 언론에 대해 지녀야 할 시민의 태도로 가장 적절한 것은?

언론 보도에 완전한 중립성을 요구하기는 어렵다. 수많은 뉴스 소재 가운데서 어느 것을 보도할 지를 선택하는 순간부터 해당 언론사의 가치 판단이 개입되기 때문이다. 문제는 의도적으로 언론사의 이념적 지향과 이해관계를 충족시키는 용도로 기사를 사용하는 것이다. 이렇게 되면 기사에는 다양한 의견이 들어가기 어렵고, 한쪽으로 치우친 정보만 전달하게 된다.

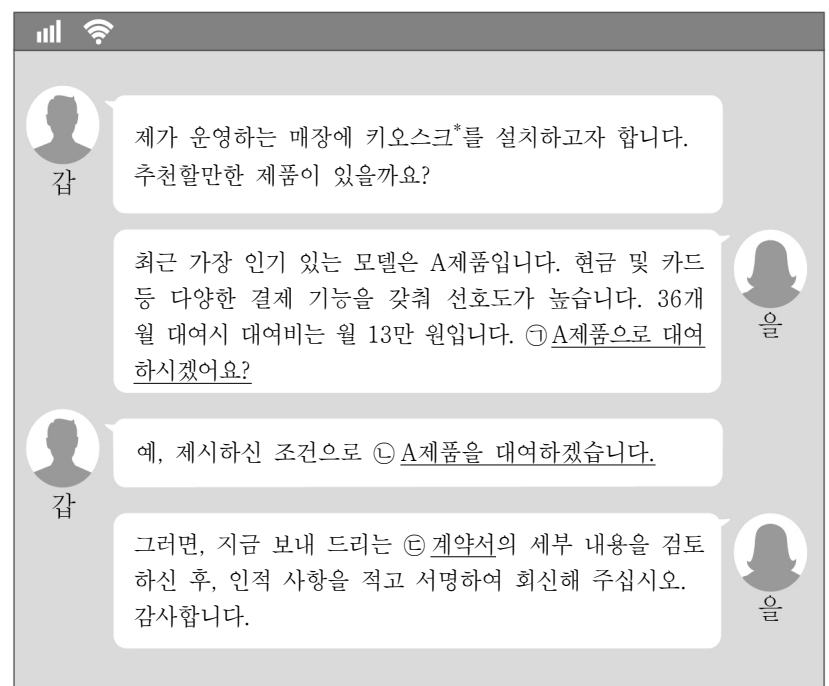
- ① 언론이 보도한 내용을 그대로 수용한다.
- ② 언론이 보도의 일관성을 유지하도록 요구한다.
- ③ 언론이 신속하게 정보를 전달하도록 요구한다.
- ④ 언론이 전달하는 정보를 비판적으로 검토하여 수용한다.
- ⑤ 언론이 정치권력에 대한 견제 기능을 수행하도록 촉구한다.

9. A, B에 대한 설명으로 옳은 것은? (단, A, B는 각각 고대 아테네 민주 정치, 현대 민주 정치 중 하나이다.) [3점]

구분	특징
A	일정 연령에 달한 남녀에게 정치적 대표자를 선출하기 위한 투표 권리가 동등하게 부여된다.
B	공직자 대부분을 선거가 아닌 추천으로 선발한다. 이는 민주주의를 특별한 엘리트의 지배가 아닌 일정한 자격을 갖춘 시민의 지배로 이해하기 때문이다.

- ① A는 대의 민주제를 바탕으로 한다.
- ② B는 차티스트 운동의 결과로 등장하였다.
- ③ A는 B와 달리 사회 구성원의 정치 참여가 제한되었다.
- ④ B는 A와 달리 권력 분립 제도를 시행하였다.
- ⑤ A, B 모두 입헌주의를 통해 민주주의를 실현하고자 하였다.

10. 밑줄 친 ㉠~㉣에 대한 옳은 법적 판단만을 <보기>에서 고른 것은?



* 키오스크: 비대면으로 상품 주문과 결제가 가능한 무인전자결제기기

< 보 기 >

ㄱ. ㉠에서 계약에 따른 권리와 의무가 발생한다.
 ㄴ. ㉡은 승낙의 의사 표시에 해당한다.
 ㄷ. 계약이 성립하기 위해서는 ㉢의 작성이 반드시 필요하다.
 ㄹ. 회신된 ㉣은 계약 불이행으로 인한 분쟁시 증거 자료로 활용될 수 있다.

- ① ㄱ, ㄴ ② ㄱ, ㄷ ③ ㄴ, ㄷ ④ ㄴ, ㄹ ⑤ ㄷ, ㄹ

11. 다음 자료에 대한 분석 및 추론으로 옳은 것은? [3점]

갑국은 전형적인 대통령제 정부 형태를 채택하고 있다. 표는 각 시기별 의회의 정당별 의석률을 나타낸다. 단, t+1시기의 의회 구성은 여당이 과반 의석을 차지하였다.

<각 시기 정당별 의석률>

(단위: %)

구분	A당	B당	C당	D당	기타
t시기	24	23	20	22	11
t+1시기	40	52	4	3	1

- ① t+1시기는 여소야대의 상황이다.
- ② t시기 정당 제도는 t+1시기에 비해 다양한 민의 반영에 유리하다.
- ③ t시기는 t+1시기에 비해 대통령의 강력한 정책 추진이 용이하다.
- ④ t+1시기는 t시기에 비해 다수당의 횡포 가능성이 낮다.
- ⑤ t+1시기 정당 제도는 t시기에 비해 정치적 책임 소재가 불분명하다.

12. (가)~(다)에 대한 옳은 법적 판단만을 <보기>에서 고른 것은? [3점]

유명 크리에이터가 되기를 희망하는 갑(16세)은 1인 방송 미디어 특별 전시회를 찾았다. 갑은 을이 운영하는 업체에서 영상 기기를 체험한 후, 고가의 카메라를 구매하는 계약을 체결하였다.

(가) ~ (다)는 갑과 을의 계약 체결과 관련된 3가지 경우를 나타낸 것이다.

(가) 갑은 법정 대리인의 동의 없이 을과 계약을 체결하였다.

(나) 갑은 법정 대리인의 동의를 받은 것처럼 을을 속여 계약을 체결하였다.

(다) 갑은 법정 대리인의 법적으로 유효한 동의를 받아 을과 계약을 체결하였다.

<보 기>

ㄱ. (가)의 경우 갑의 법정 대리인은 계약을 취소할 수 있다.

ㄴ. (나)의 경우 갑은 계약을 취소할 수 없다.

ㄷ. (다)의 경우 갑은 법정 대리인의 동의를 얻어야만 일방적으로 계약을 취소할 수 있다.

ㄹ. (가), (나) 모두 갑과 을의 계약은 무효이다.

- ① ㄱ, ㄴ ② ㄱ, ㄷ ③ ㄴ, ㄷ ④ ㄴ, ㄹ ⑤ ㄷ, ㄹ

13. 헌법 재판소의 권한 A, B에 대한 설명으로 옳은 것은? [3점]

갑은 「집회 및 시위에 관한 법률」 제○조 ◇항 위반 혐의로 기소되어 유죄 판결을 받게 되자 이에 불복하여 항소하였다. 이후 갑은 항소심에서 해당 법률 조항이 집회의 자유를 침해하여 헌법에 어긋난다고 법원에 [A]를 제청해 줄 것을 신청하였지만, 해당 법원은 이를 기각하였다. 이에 갑은 헌법 재판소에 직접 [B]를 청구하였다.

- ① A 제청은 해당 법원이 직권으로 할 수 없다.
- ② B 청구가 기각될 경우 갑은 대법원에 재항고할 수 있다.
- ③ 갑은 A 제청 신청을 거치지 않아도 B를 청구할 수 있다.
- ④ A는 B와 달리 공권력 행사의 취소를 청구하는 심판이다.
- ⑤ A는 위헌 법률 심판, B는 위헌 심사형 헌법 소원 심판이다.

14. 다음 수업 상황에서 교사의 질문에 옳게 대답한 학생만을 고른 것은?

교사: A가 운영하는 손 세차장에 고용되어 일하고 있는 대학생 B는 세차를 하던 중 실수로 C의 자동차 일부를 파손하였습니다. C는 자신의 피해에 대해 손해 배상을 청구하려 합니다. 이에 대한 법적 판단을 이야기해 볼까요?

갑: A와 B는 공동 불법 행위 책임을 질 수 있습니다.

을: A는 C의 피해에 대해 사용자 배상 책임을 질 수 있습니다.

병: B는 C에게 손해 배상 책임을 질 수 있습니다.

정: A가 C에게 특수 불법 행위 책임을 지는 경우, B는 C에게 손해 배상 책임이 없습니다.

- ① 갑, 을 ② 갑, 병 ③ 을, 병 ④ 을, 정 ⑤ 병, 정

15. 기본권 유형 (가), (나)에 대한 설명으로 옳은 것은?

- 통신 제한 조치(우편물 검열 또는 통신 감청)가 내려진 피의자는 자신에 대한 감청 사실을 모르는 상태에 있다. 따라서 통신 제한 조치 기간의 연장을 허가함에 있어 횡수나 기간에 제한을 두지 않는다면 개인 사생활의 비밀 보장이 어려워 [가]를 침해할 우려가 크다.
- 사업주의 지시·감독을 받으면서 사실상 노동을 제공하고 수당으로 금품을 수령하는 등 실질적인 근로관계에 있는데도 근로 기준법의 주요 사항을 외국인 산업 연수생에 대해서만 적용하지 않은 것은 [나]를 침해한 것이다.

- ① (가)는 국가 권력의 간섭을 받지 않을 권리이다.
- ② (가)는 국가의 정치적 의사 결정에 참여할 수 있는 권리이다.
- ③ (나)는 방어적·소극적 성격의 권리이다.
- ④ (나)는 다른 기본권 보장을 위한 수단적 성격의 권리이다.
- ⑤ (가), (나) 모두 국가의 존재를 전제로 하는 권리이다.

16. 다음 화상 수업 상황에서 교사의 질문에 옳게 대답한 학생만을 있는 대로 고른 것은?



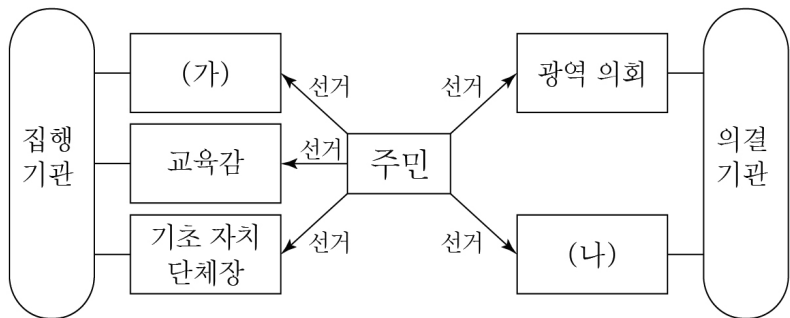
- ① 갑, 병 ② 갑, 정 ③ 을, 정
- ④ 갑, 을, 병 ⑤ 을, 병, 정

17. ㉠에 들어갈 민법의 기본 원리로 가장 적절한 것은?

법원은 경마 공원 측의 소금 살포와 관련하여 인근 화훼 농원에서 발생한 손해에 대한 소송에서 다음과 같이 판결하였다. “경마 공원 측은 경주로 결빙을 방지하기 위해 살포했던 소금이 인근 지하수로 흘러 들어가지 않았다는 것을 입증하지 못하였다. 또한, 소금이 화훼 농원에서 사용하는 지하수로 흘러 들어갔다 하더라도 꽃이 말라 죽을 정도의 피해를 일으킬 정도가 아니라는 것을 증명하지 못하였다. 이 점에 비추어 ㉠에 따라 경마 공원의 손해 배상 책임이 인정된다.”

- ① 계약 공정의 원칙 ② 사적 자치의 원칙
- ③ 무과실 책임의 원칙 ④ 소유권 공공복리의 원칙
- ⑤ 사유 재산권 존중의 원칙

18. 그림은 우리나라의 지방 자치 제도를 나타낸 것이다. (가), (나)에 대한 설명으로 옳은 것은?



- ① (가)는 기초 자치 단체장을 해임할 수 있다.
- ② (가)는 지역구 의원 및 비례 대표 의원으로 구성된다.
- ③ (나)는 법률과 명령의 범위 내에서 조례를 제정할 수 있다.
- ④ (가)는 (나)와 달리 주민 소환제의 적용 대상이다.
- ⑤ (나)는 (가)에 대한 지도 및 감독권을 가진다.

19. 다음은 우리나라의 국가 기관 A~C와 관련된 질문에 대한 학생의 답변과 교사의 채점 결과이다. 이에 대한 설명으로 옳은 것은? (단, A~C는 각각 국회, 대통령, 헌법 재판소 중 하나이다.)

[3점]

[정치와 법 형성평가]
2학년 ○반 이름: △△△

번호	질문	답변
1	A는 C의 장(長)에 대한 임명 동의권을 행사하는가?	예
2	C는 B에 대한 탄핵 심판권을 갖는가?	예
3	(가)	예

- ① A는 국정 감사 및 조사권을 가진다.
- ② B는 국무총리 및 국무 위원 해임 건의권을 가진다.
- ③ C는 헌법 개정안을 발의할 수 있다.
- ④ A는 정당 해산 심판권을 행사하여 B를 견제할 수 있다.
- ⑤ (가)에는 ‘C는 명령·규칙·처분의 위헌성 및 위법성에 대한 최종 심사권을 갖는가?’가 들어갈 수 없다.

20. 다음 자료에 대한 분석으로 옳은 것은? [3점]

갑국 의회의 총 의석수는 200석이며, 현행 선거 제도는 200개의 지역 선거구에서 유권자가 지역구 후보자에게 1표를 행사하여 지역 대표를 선출한다. 표는 최근 갑국의 의회 의원 선거 결과를 나타낸다.

구분	A당	B당	C당	D당	합계
유효 득표수(만 표)	200	320	160	120	800
의석률(%)	15	51	25	9	100

* 갑국의 전체 유권자수는 800만 명임.

갑국은 차기 의회 의원 선거를 앞두고 현재 의석수는 유지 하되, 비례 대표 의원만을 선출하여 전체 의석을 배분하는 개편안을 아래와 같이 논의 중이다. 단, 개편안은 최근 의회 의원 선거의 정당별 득표 결과만을 근거로 판단한다.

○ 전국을 하나의 선거구로 하며 총 의석수에 각 정당별 득표율을 곱하여 산출된 수의 정수(整數)만큼 각 정당에 의석을 배분하고, 잔여 의석은 소수점 이하 수가 큰 순서대로 각 정당에 1석씩 배분함.

- ① 갑국의 현행 선거구 제도는 중·대선거구제이다.
- ② 최근 의회 의원 선거 결과, A당은 득표율이 의석률보다 낮다.
- ③ B당은 개편안이 현행 선거 제도보다 불리하다.
- ④ 최근 의회 의원 선거 결과, C당에 투표한 유권자의 의사는 과소 대표되었다.
- ⑤ A당은 D당과 달리 개편안이 현행 선거 제도보다 유리하다.

* 확인 사항

○ 답안지의 해당란에 필요한 내용을 정확히 기입(표기)했는지 확인 하시오.