

제 4 교시

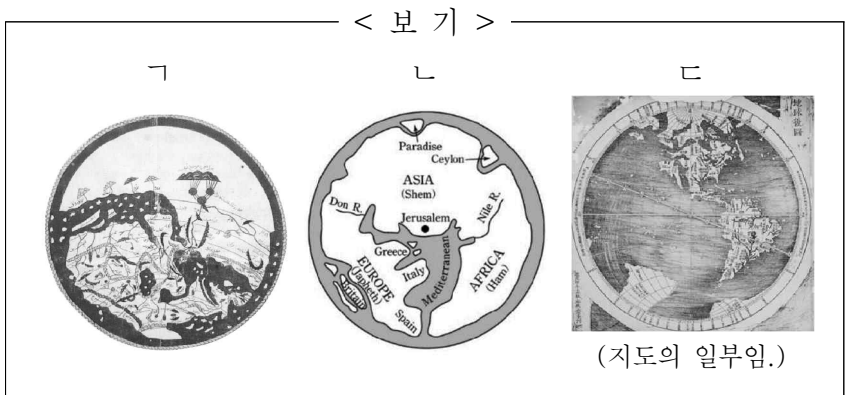
사회탐구 영역 (세계지리)

성명		수험번호				3			제 () 선택
----	--	------	--	--	--	---	--	--	----------

1. 다음은 수행 평가 정답지의 일부이다. (가)~(다) 지도를 <보기>에서 고른 것은? [3점]

※ 수행 평가 정답표: (가)~(다) 지도에 대한 옳은 설명에만 '✓' 표시함.

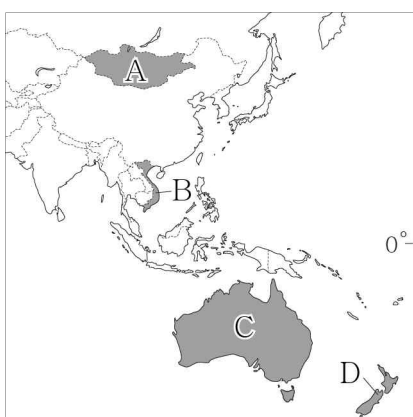
구분	(가)	(나)	(다)
지도의 위쪽이 남쪽임.			✓
종교적 세계관이 반영됨.		✓	✓
아메리카 대륙이 표현됨.	✓		



- | | | | | | | | |
|---|-----|-----|-----|---|-----|-----|-----|
| | (가) | (나) | (다) | | (가) | (나) | (다) |
| ① | ㄱ | ㄴ | ㄷ | ② | ㄴ | ㄱ | ㄷ |
| ③ | ㄴ | ㄷ | ㄱ | ④ | ㄷ | ㄱ | ㄴ |
| ⑤ | ㄷ | ㄴ | ㄱ | | | | |

2. (가), (나) 국가를 지도의 A~D에서 고른 것은?

(가)		지폐에는 직물 공장에서 일하는 노동자의 모습이 그려져 있다. 메콩강 유역을 중심으로 벼농사가 발달한 농업 국가였지만, 최근 급속한 공업의 발달로 빠르게 경제가 성장하고 있다.
(나)		지폐에는 원주민인 마오리족 출신 정치가 아피라나 응가타의 초상이 그려져 있다. 이 국가의 다수인 유럽계 주민이 마오리족을 차별하였으나, 최근에는 마오리족의 전통문화를 보호하는 등 적극적인 공존의 모습이 나타나고 있다.



- | | | |
|---|-----|-----|
| | (가) | (나) |
| ① | A | C |
| ② | A | D |
| ③ | B | C |
| ④ | B | D |
| ⑤ | C | B |

3. 다음은 수업 장면의 일부이다. 교사의 질문에 대한 학생의 대답으로 옳은 것은? [3점]

(가), (나)는 각각 영화 장면 속에 나타난 빙하 지형 경관과 건조 지형 경관 중 하나입니다. 이에 대해 설명해 볼까요?

<영화 장면 속 지형 경관>

(가) (나)

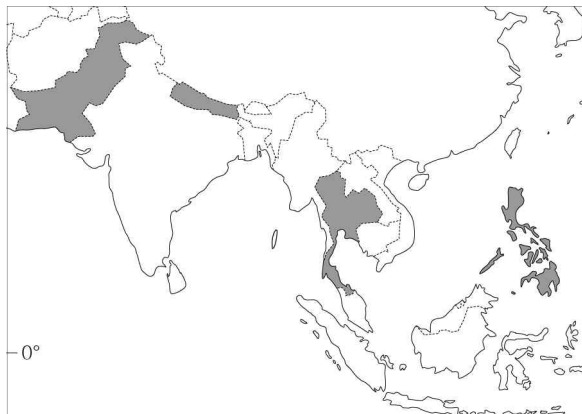
- ① 갑: (가)에서는 바람의 퇴적으로 형성된 바르한을 볼 수 있어요.
- ② 을: (가)가 발달하는 지역은 대체로 물리적 풍화 작용보다 화학적 풍화 작용이 우세해요.
- ③ 병: (나)에서는 빙하의 침식으로 형성된 호른을 볼 수 있어요.
- ④ 정: (나)에서는 암석의 차별적 풍화와 침식으로 형성된 메사나 뷰트를 볼 수 있어요.
- ⑤ 무: (가), (나)는 모두 식생 밀도가 높은 편이에요.

4. (가), (나) 도시에 대한 설명으로 옳은 것은? [3점]

도시	주요 랜드마크와 도심부 도로망
(가)	 월스트리트 황소상 (40°42'N, 74°00'W)
(나)	 개선문 (48°52'N, 2°17'E)

- ① (나)에는 국제 연합[UN] 본부가 있다.
- ② (가)는 (나)보다 도심과 주변 지역 간의 건물 높이 차이가 크다.
- ③ (나)는 (가)보다 도시 발달의 역사가 짧다.
- ④ (가)는 유럽, (나)는 아메리카에 위치한다.
- ⑤ (가), (나)는 모두 해당 국가의 수도이다.

5. A~C 종교에 대한 설명으로 옳은 것만을 <보기>에서 고른 것은? (단, A~C는 각각 불교, 이슬람교, 힌두교 중 하나임.) [3점]



구분	(가)	(나)	(다)	(라)
1위	A	B	C	크리스트교
2위	C	A	B	B
3위	B	크리스트교	크리스트교	토속 종교

* (가)~(라)는 각각 지도에 표시된 국가 중 하나이며, 각 국가 내 신자 수 상위 3개 종교를 나타냄.

< 보 기 >

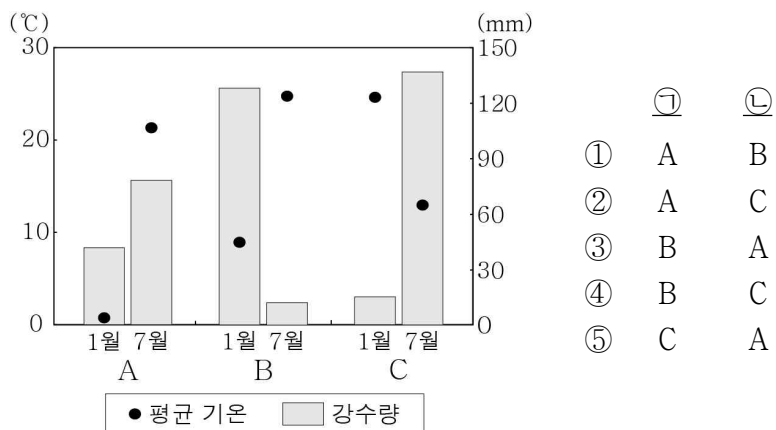
ㄱ. A는 다신교이다.
 ㄴ. B의 기원지는 (라)에 있다.
 ㄷ. B는 C보다 발생 시기가 늦다.
 ㄹ. C는 A보다 세계 신자 수가 많다.

- ① ㄱ, ㄴ ② ㄱ, ㄷ ③ ㄴ, ㄷ ④ ㄴ, ㄹ ⑤ ㄷ, ㄹ

6. 다음 글의 ㉠, ㉡ 지역의 기후 특색을 그래프의 A~C에서 고른 것은?

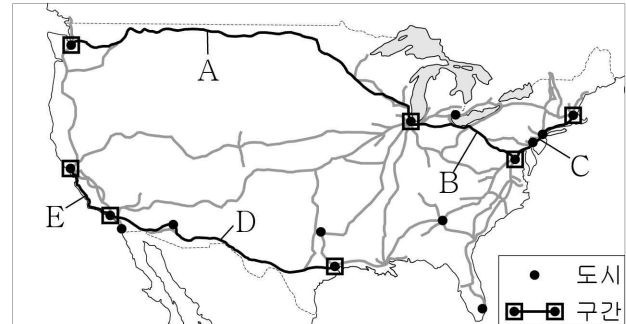
가곡은 지역에 따라 다양한 음악적 특색을 보인다. 예를 들어 남부 유럽 가곡의 멜로디는 열정적이고 즉흥적이며, 가사는 자연을 찬미하는 노래들이 많은 편이다. 반면에 북서부 유럽 가곡의 가사는 원작 시에 충실하며, 멜로디 자체가 담백한 노래들이 많은 편이다.

어떤 이는 각 지역의 음악풍을 기후 특색과 연관 짓기도 한다. ㉠ 이탈리아 나폴리를 대표하는 가곡인 「오 솔레 미오」는 정열적이고 밝은 분위기를 풍기고, ㉡ 오스트리아 빈에서 활동한 슈베르트의 「마왕」은 음산하고 우울한 분위기를 풍긴다.



- ㉠ ㉡
- ① A B
 ② A C
 ③ B A
 ④ B C
 ⑤ C A

7. 지도는 미국의 주요 철도망을 나타낸 것이다. A~E 각 구간을 여행하면서 관찰할 수 있는 모습으로 옳지 않은 것은?



* 미국 내 도시 인구 상위 15위까지 나타냄. (2020)

- ① A: 고기 습곡 산지인 애플래치아산맥
 ② B: 변화한 러스트 벨트의 산업 단지
 ③ C: 거대 도시가 연속된 메갈로폴리스
 ④ D: 건조 지역의 황량한 사막
 ⑤ E: 첨단 산업 클러스터인 실리콘 벨리

8. 다음 글의 ㉠~㉤에 대한 설명으로 옳지 않은 것은? [3점]

카르스트는 라틴어 '카르수스'에서 기원하였으며, 지역에 따라 '크라스', '카르스트' 등으로 변화하였다. 슬로베니아 크라스 지방의 ㉠ 황량한 돌투성이 땅은 카르스트 지형으로 유명하며, 주민들은 들판의 ㉡ 흙폭 파인 와지 등을 개간하여 ㉢ 농경지로 만들었다. 카르스트 지형이 발달한 마다가스카르의 칭기 국립공원에는 ㉣ 지하 동굴이 많으며 ㉤ 뿔족이 솟은 칼날 모양의 바위가 커다란 무리를 지은 모습이 장관이다.

- ① ㉠은 지표수가 풍부하다.
 ② ㉡은 주로 빗물이나 지하수의 용해 및 침식으로 형성되었다.
 ③ ㉢의 기반암은 주로 석회암이다.
 ④ ㉣의 내부에는 중유석, 석순 등이 잘 발달한다.
 ⑤ ㉤은 차별적 풍화와 침식으로 기반암이 드러난 것이다.


9. 다음 글의 ㉠~㉤에 대한 설명으로 옳은 것은?

2023년 12월 유엔 기후 변화 협약 당사국 총회에서 ㉠ 화석 연료 중심의 에너지 소비 구조에서 벗어날 것을 촉구하는 합의문을 채택했다. 또한 ㉡ 파리 협정 이후 지구의 온도 상승을 1.5°C 이내로 억제하기 위한 각 국가의 2050 탄소 중립 이행 정도를 평가하고 그 중요성을 재확인했다. 이를 실현하기 위해 '2030년까지 재생 에너지 용량 3배 확충 및 에너지 효율 2배 증대', '탄소 포집 및 ㉢ 원자력 활용' 등을 합의문에 명시하였다. 하지만 ㉣ 재생 에너지 생산량 확충에 대한 명확한 목표가 제시되지 않았고, ㉤ 석탄 화력 발전에 대해 더 강력한 퇴출 의지를 담지 못한 점은 한계로 지적된다.

- ① ㉠은 ㉡보다 고갈 가능성이 낮다.
 ② ㉡은 기후 변화 문제에 대응하기 위한 협정이다.
 ③ ㉢은 발전소 건설을 위한 입지 제약이 적은 편이다.
 ④ ㉣ 중 전 세계 발전에 가장 많이 사용되는 것은 지열이다.
 ⑤ ㉤은 석유 화력 발전보다 세계의 발전량이 적다.

10. 다음 자료의 (가)~(다) 국가에 대한 설명으로 옳은 것만을 <보기>에서 고른 것은? [3점]

- (가) 은/는 우리나라가 최초로 자유 무역 협정을 체결한 나라이다. 세계에서 가장 건조하다고 알려진 아타카마 사막이 있다.
- (나) 은/는 세계에서 석유 매장량이 가장 많다. 불안정한 정치 상황과 심각한 물가 상승으로 최근 많은 인구가 국외로 유출되었다.
- (다) 의 국민은 포르투갈어를 주로 사용한다. 국토 균형 개발을 위해 수도를 해안에서 내륙으로 이전하였다.



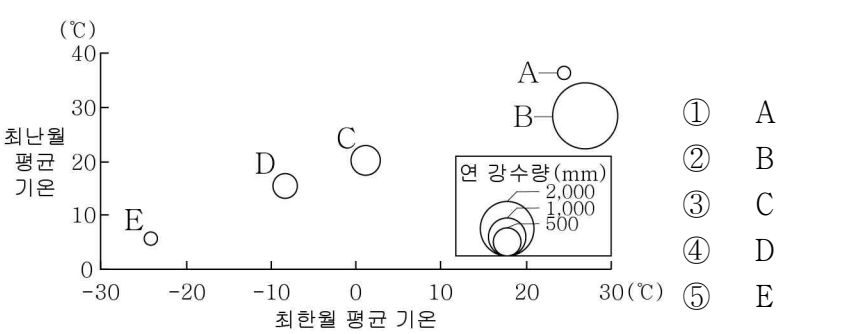
< 보 기 >

ㄱ. (나)는 태평양에 맞닿아 있다.
 ㄴ. (다)에는 '파벨라'라는 불량 주택 지구가 있다.
 ㄷ. (가)는 (나)보다 구리 생산량이 많다.
 ㄹ. (나)는 (다)보다 옥수수 생산량이 많다.

- ① ㄱ, ㄴ ② ㄱ, ㄷ ③ ㄴ, ㄷ ④ ㄴ, ㄹ ⑤ ㄷ, ㄹ

11. 다음 자료는 여행기의 일부이다. (가)의 기후 특색을 그래프의 A~E에서 고른 것은?

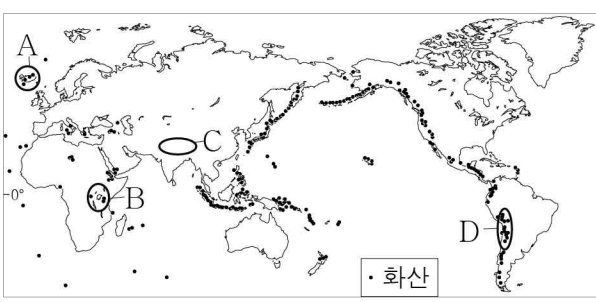
(가) 지역이 더울 줄은 예상했지만 상상 이상이였다. 4월인데도 사람들은 대부분 반팔, 반바지 차림이었다. 상록 활엽수가 뽕뽕하게 들어선 숲길을 걷는 트래킹 체험 중에 소나기가 20~30분쯤 세차게 내리더니 언제 내렸냐는 듯 다시 맑아졌다.



* 평균 기온은 원의 중심값임.

12. 다음 글의 (가), (나) 지역을 지도의 A~D에서 고른 것은?

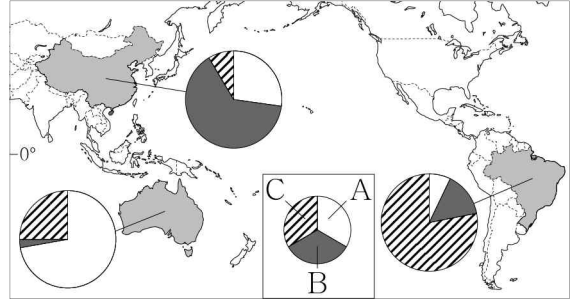
(가) 중앙 해령이 수면 위로 드러나 있는 곳으로 화산 활동이 활발하다. 2023년 12월에도 길이가 3.5 km에 달하는 지각의 틈으로 붉은 용암이 분출하였다.
 (나) 대륙 지각 내부의 틈이 계속 벌어지면서 길이가 수천 km에 달하는 거대한 협곡이 형성된 곳으로 화산 활동이 활발하다. 골짜기 곳곳에 기다란 모양의 호수가 많다.



(가) (나)

① A B
 ② A D
 ③ B C
 ④ B D
 ⑤ C B

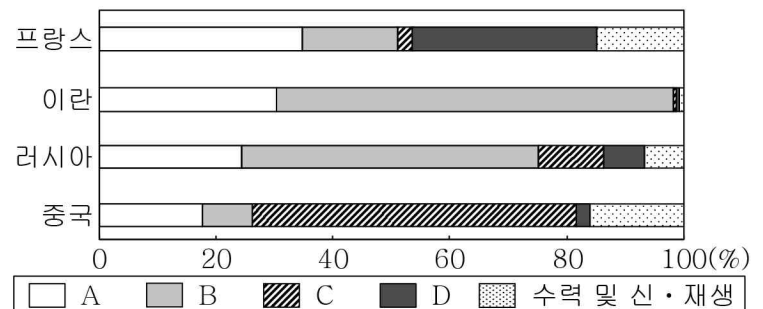
13. 그래프는 지도에 표시된 세 국가의 가축 사육 두수 비율을 나타낸 것이다. 이에 대한 설명으로 옳은 것은? (단, A~C는 각각 돼지, 소, 양 중 하나임.)



* 각 국가별 세 가축의 합을 100%로 함. (2022)

- ① A는 이슬람 문화권에서 식용을 금기시한다.
- ② B는 주로 모직 공업의 원료 생산을 위해 사육된다.
- ③ C는 신대륙에서 주로 유목의 형태로 사육된다.
- ④ A는 B보다 세계 육류 생산량이 많다.
- ⑤ C는 A보다 세계 사육 두수가 많다.

14. 그래프는 각 국가의 1차 에너지 소비량 비율을 나타낸 것이다. A~D에 대한 설명으로 옳은 것은? (단, A~D는 각각 석유, 석탄, 원자력, 천연가스 중 하나임.) [3점]



(2022)

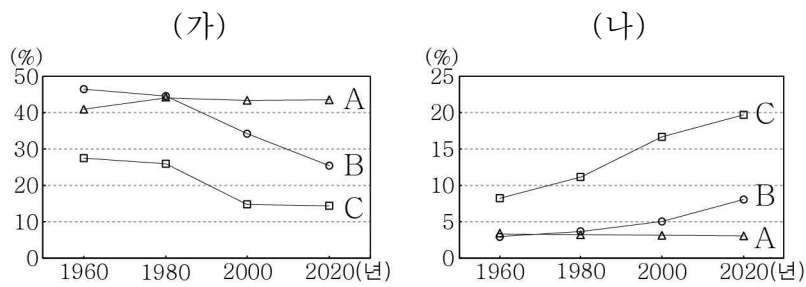
- ① A는 산업 혁명 초기의 주요 에너지 자원이었다.
- ② B는 대부분 수송용으로 이용된다.
- ③ D는 신생대 제3기층에 주로 매장되어 있다.
- ④ B는 C보다 연소 시 대기 오염 물질의 배출량이 적다.
- ⑤ C는 A보다 세계 1차 에너지 소비 구조에서 차지하는 비율이 높다.

15. 다음 글의 ㉠~㉣에 대한 설명으로 옳은 것은?

오늘날 사회, 경제, 문화 등 각 부문에서 국가 간 인적·물적 자원이 자유롭게 이동하며 ㉠ 세계가 하나로 통합되는 현상이 나타나고 있다. 한편으로는 ㉡ 다른 곳과 차별화된 그 지역만의 고유한 정체성을 강조하는 흐름도 나타나는데, 이를 위한 전략으로는 ㉢ 지리적 표시제, ㉣ 장소 마케팅 등이 있다. 장소 마케팅의 대표적 사례로는 여러 스포츠·문화 행사를 유치하거나 'I♥NY', 'Seoul, My Soul'처럼 ㉤ 지역 브랜드를 개발하는 것이 있다.

- ① ㉠으로 국경의 의미와 역할이 강화되고 있다.
- ② ㉡은 세계화를 의미한다.
- ③ ㉢은 자국 내에서만 법적 보호를 받는다.
- ④ ㉣은 지역 문화의 고유성을 약화시킨다.
- ⑤ ㉤은 지역성의 변화에 따라 변경될 수 있다.

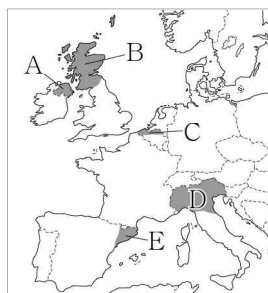
16. 그래프는 세 국가의 연령층별 인구 비율 변화를 나타낸 것이다. 이에 대한 설명으로 옳은 것은? (단, (가), (나)는 각각 노년층, 유소년층 인구 비율 중 하나이며, A~C는 각각 나이지리아, 멕시코, 에스파냐 중 하나임.) [3점]



- ① (가)는 유소년층 인구 비율, (나)는 노년층 인구 비율이다.
- ② 1960년 노령화 지수는 A가 C보다 높다.
- ③ 2020년 청장년층 인구 비율은 A가 B보다 높다.
- ④ 1인당 국내 총생산은 B가 C보다 많다.
- ⑤ 기대 수명은 A~C 중 B가 가장 길다.

17. 다음 자료의 (가) 지역을 지도의 A~E에서 고른 것은?

록 밴드 유투(U2)의 노래 「Sunday, Bloody Sunday」는 1972년 (가)에서 발생한 '피의 일요일' 사건을 다루고 있다. 전통적으로 가톨릭교를 믿는 (가)의 주민들이 개신교 국가인 영국과 갈등을 빚으며 독립을 주장하였다. 표면적으로는 분쟁이 종결되었으나 갈등의 씨앗은 여전히 남아 있다.



- ① A
- ② B
- ③ C
- ④ D
- ⑤ E

18. 다음은 기후와 관련한 십자말풀이이다. (가)에 들어갈 내용으로 옳은 것은?

	a ㉠			
	㉡		b	
㉢	도			

<가로 열쇠>
 ㉠ 기후 요인의 하나이며 일정한 방향으로 흐르는 바닷물의 흐름
 ㉡ 열대 지방에서 습기와 해충을 막기 위해 바닥 지면에서 띄운 전통 가옥
 ㉢ 적도를 기준으로 지구를 남북으로 나눈 척도. 이에 따라 태양 고도각이 달라짐.

<세로 열쇠>
 a _____ (가)
 b 오랫동안 계속하여 비가 내리지 않아 물이 부족한 현상

- ① 산지에서 바람이 불어 올라가는 쪽의 사면
- ② 연중 적도 수렴대의 영향을 받는 열대 기후
- ③ 이동식 가옥으로, 나무·가죽·천 등을 이용하여 만들.
- ④ 해수면으로부터의 높이로 이것이 높아질수록 기온이 낮아짐.
- ⑤ 대륙과 해양의 비열 차이로 계절에 따라 풍향이 바뀌는 바람

19. 다음 자료의 (가)~(다) 국가에 대한 설명으로 옳은 것만을 <보기>에서 고른 것은? [3점]

카슈미르 주민 대다수는 이슬람교 신자이다. 1947년 영국으로부터 (가)와/과 파키스탄이 분리 독립할 때 힌두교 신자인 이 지역의 지도자가 카슈미르 지역의 (가) 편입을 선언하고, 이에 주민들이 저항하면서 갈등이 시작되었다. (나)의 신타리츠족은 주로 불교를 믿는 데 반해 (가) (으)로부터 유입해 온 타밀족은 주로 힌두교를 믿으므로, 문화적 배경이 다른 두 민족(인종) 간 갈등이 나타났다. 한편 방글라데시와 인접한 (다) 서부 라카인주에 거주하는 로힝야족은 종교의 차이로 (다) 정부의 탄압을 받고 있다.

- < 보 기 >
- ㉠ (가)는 2024년 현재 세계에서 인구가 가장 많다.
 - ㉡ (나)는 동남아시아 지역에 있다.
 - ㉢ (나)는 (다)보다 차(茶) 수출량이 많다.
 - ㉣ (다)는 (가)보다 국토 면적이 넓다.

- ① ㉠, ㉡ ② ㉠, ㉢ ③ ㉡, ㉣ ④ ㉢, ㉣ ⑤ ㉢, ㉣

20. 다음 자료의 ㉠~㉣에 대한 설명으로 옳지 않은 것은? [3점]

세계가 ㉠ 서남아시아 지역 곳곳의 분쟁에 주목하고 있다. 2011년 북아프리카 '아랍의 봄'과 함께 시작된 시리아의 내전은 ㉡ 시아파와 수니파의 대결 구도로 장기화되고 있다. 시리아 정부는 시아파 중심이지만 반군인 무슬림 형제단은 수니파가 주도하고 있다. 2023년에는 ㉢ 팔레스타인 가자 지구를 통치하는 하마스가 이스라엘을 급습한 이후 이스라엘군이 팔레스타인 가자 지구를 폭격하고 진입하면서 전면전이 일어났다. 이에 따라 ㉣ 이집트는 가자 지구 쪽 국경을 통제하였다. 한편 예멘 정부를 상대로 내전을 벌여 온 시아파 무장 단체 후티 반군도 이스라엘을 비난하며 ㉤ 홍해를 지나는 화물선을 공격하여 국제 해상 운송망에 큰 영향을 주고 있다.

- ① ㉠은 국제 유가에 큰 영향을 미친다.
- ② ㉡은 이슬람교의 종파이다.
- ③ ㉢의 근본 원인은 그리스도교와 유대교의 갈등이다.
- ④ ㉣은 대규모 난민 유입을 막기 위해서이다.
- ⑤ ㉤으로 아시아와 유럽 간의 해운 비용이 상승하였다.

*** 확인 사항**
 ○ 답안지의 해당란에 필요한 내용을 정확히 기입(표기)했는지 확인하십시오.