

제4교시

사회탐구 영역 (사회·문화)

성명

수험 번호



1. 개인과 사회의 관계를 바라보는 관점 A에 입각할 때 B에 대한 옳은 비판을 <보기>에서 고른 것은?

개인과의 사회의 관계는 사회를 단순히 개인들의 합에 불과한 것으로 보거나 아니면 그 이상의 속성을 가진 독립적 실체로 보거나에 따라 달라진다. 이러한 관점의 차이는 빈곤 문제의 원인에 대해서도 적용된다. A는 빈민이 기술이 없거나 정신이나 육체가 연약해 동기가 없거나 능력이 모자라기 때문에 가난하다고 보는 반면, B는 계급이나 성, 인종 등의 사회 내적인 구조적 힘에 의해 결정된 자원 배분의 결과로 빈곤이 나타난다고 본다.

<보기>

- ㄱ. 인간의 주체적이고 능동적인 행위를 설명하기 어렵다.
- ㄴ. 개인의 행동과 사고가 사회에 의해 구조화되는 측면을 외면한다.
- ㄷ. 사회 문제의 해결책으로 의식 개혁을 등한시하고 제도 개혁에 치중한다.
- ㄹ. 개인의 행위나 심리 상태만으로 설명할 수 없는 사회 현상들이 존재한다.

- ① ㄱ, ㄴ ② ㄱ, ㄷ ③ ㄴ, ㄷ ④ ㄴ, ㄹ ⑤ ㄷ, ㄹ

2. 그림은 특정 일탈 이론에 입각해 일탈 문제에 대한 대책을 제시한 대화이다. 이에 대한 설명으로 옳은 것은? [3점]



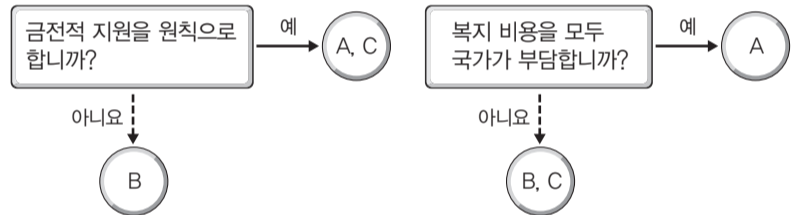
- ① 갑은 일탈자가 되어 가는 개인의 내면적 과정에 초점을 둔다.
- ② 을은 특정 행동에 대한 사회적 평가와 규정에 의해 일탈이 나타난다고 본다.
- ③ 병은 일탈 행동이 발생하는 원인을 사회적 통제력의 약화에서 찾는다.
- ④ 갑은 병과 달리 특정 행위를 일탈 행동으로 규정하는 객관적 기준이 있다고 본다.
- ⑤ 을은 갑, 병과 달리 타인들과의 상호 작용이 일탈 발생 과정에 미치는 영향을 중시한다.

3. 표는 문화 접변 결과 A~C의 공통점과 차이점을 설명하기 위한 것이다. 이에 대한 설명으로 옳은 것은? (A~C는 문화 병존, 문화 동화, 문화 융합 중 하나이다.) [3점]

A	B	C
(가)	본래의 문화 정체성이 유지된다.	
(나)		제3의 문화 형태가 출현한다.
(다)		

- ① A에서는 고유문화와 외래문화가 나란히 존재한다.
- ② B, C는 문화적 주체성의 정도에 따라 구분될 수 없다.
- ③ (가)에는 '자문화 중심주의가 강할 경우 나타난다.'가 들어갈 수 있다.
- ④ (나)에는 '외래문화를 자발적으로 수용한다.'가 들어갈 수 있다.
- ⑤ (다)에는 '문화 전파에 따른 문화 변동에 해당한다.'가 들어갈 수 없다.

4. 그림은 우리나라의 사회 보장 제도 A~C를 구분한 것이다. 이에 대한 설명으로 옳은 것은?



- ① B는 공공 부문뿐만 아니라 민간 부문의 참여를 보장한다.
- ② C는 수급권자 선정 과정에서 부정적 낙인이 발생할 우려가 크다.
- ③ A의 수급권자는 C의 수급권자가 될 수 없다.
- ④ A는 사전 예방적, C는 사후 처방적 성격을 가진다.
- ⑤ B는 A, C와 달리 보편적 복지 이념의 실현을 추구한다.

5. 표는 질문에 따른 대중 매체의 유형 A~C의 구분 여부를 나타낸 것이다. 이에 대한 옳은 설명을 <보기>에서 고른 것은? (단, A~C는 각각 뉴미디어, 영상 매체, 인쇄 매체 중 하나이다.) [3점]

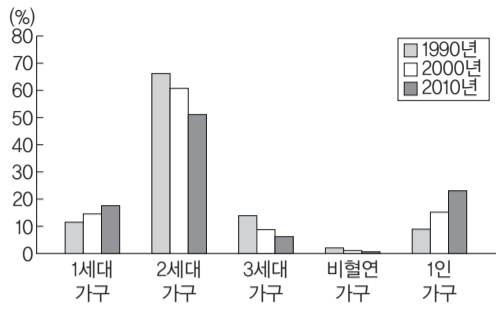
질문	구분 여부
다수에게 동시에 정보를 전달할 수 있는가?	A, B 구분 가능
정보 이용자 간 상호 작용이 활발한가?	A, C 구분 불가능
(가)	B, C 구분 가능

<보기>

- ㄱ. A는 현장감 있는 정보를 신속하게 전달할 수 있다.
- ㄴ. B는 정보의 왜곡이나 질적 저하의 우려가 있다.
- ㄷ. C는 A보다 특정 주제에 대한 깊이 있는 정보 전달이 용이하다.
- ㄹ. (가)에는 '정보 생산자와 소비자의 경계가 명확한가?'가 들어갈 수 있다.

- ① ㄱ, ㄴ ② ㄱ, ㄷ ③ ㄴ, ㄷ ④ ㄴ, ㄹ ⑤ ㄷ, ㄹ

6. 그림은 갑국의 가구 형태별 구성비를 나타낸 것이다. 이를 통해 진위 여부를 판단할 수 있는 진술을 <보기>에서 고른 것은? [3점]



*1990년 이후 전체 가구수는 지속적으로 증가함.

<보기>

- ㄱ. 확대 가족의 비중은 낮아졌다.
- ㄴ. 1세대 가구수는 지속적으로 증가하였다.
- ㄷ. 2세대 가구수는 지속적으로 감소하였다.
- ㄹ. 1세대 가구의 구성원 수는 1인 가구의 구성원 수보다 항상 많다.

- ① ㄱ, ㄴ ② ㄱ, ㄷ ③ ㄴ, ㄷ ④ ㄴ, ㄹ ⑤ ㄷ, ㄹ

7. 근대화를 설명하는 이론 A, B에 대한 진술로 옳지 않은 것은? [3점]

A에 대한 반작용으로 등장한 B는 1980년대 이후 아시아 지역에서 신흥 공업국들이 출현하면서 그 현실성이 위협받기 시작했다. 제국주의 국가의 식민 지배를 겪다가 제2차 세계 대전 이후 독립한 대한민국, 대만, 홍콩, 싱가포르가 고도 성장을 통해서 중진국 수준에 도달했기 때문이다. B에 의하면 이들 국가는 자본주의 강대국에 종속되어 세계 자본주의 체제가 무너지지 않는 한 착취에서 항구적으로 벗어나지 못하지만 실제로는 그 반례가 되었다.

- ① A는 사회 변동이 단선적인 것이라는 관점에 기초를 두고 있다.
- ② A는 제3세계 국가의 낙후 원인을 그 국가 자신의 책임으로 인식한다.
- ③ B는 제3세계 국가의 주체적인 발전 전략을 통한 근대화를 강조한다.
- ④ B는 제3세계의 저발전을 국제적인 힘의 관계 속에서 조망한다.
- ⑤ B는 A가 근대화와 서구화를 다른 것으로 인식한다고 비판한다.

8. 표는 국제 연합에서 인구 변천을 4단계로 분류한 것이다. 이에 대한 분석으로 옳지 않은 것은?

구분	출생률	사망률
1단계	매우 높음.	매우 높음.
2단계	변동 없음.	지속적으로 낮아짐.
3단계	지속적으로 크게 낮아짐.	상당히 낮아졌으나 완만히 떨어짐.
4단계	매우 낮음.	매우 낮음.

- ① 4단계에서 노년층 인구 비율이 가장 높다.
- ② 1단계와 4단계는 공통적으로 인구 정체 단계이다.
- ③ 1단계는 다산 다사형, 3단계는 감산 소사형에 해당한다.
- ④ 2단계는 산업화 초기, 3단계는 산업화 후기에 나타났다.
- ⑤ 2단계, 3단계에서는 인구 증가율이 지속적으로 높아졌다.

9. 다음은 문화 속성 A, B의 특징을 제시한 것이다. 이에 대한 옳은 설명만을 <보기>에서 있는 대로 고른 것은?

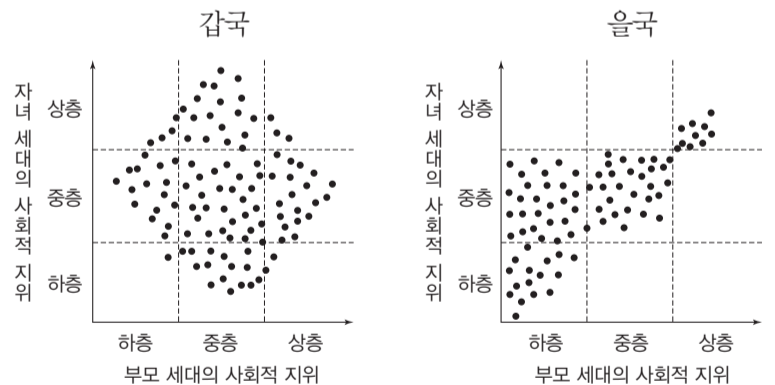
- A: 특정 상황에서 상대방이 무엇을 기대하고 있는지를 이해할 수 있도록 함으로써 집단의 성원들이 사회생활을 원활히 할 수 있는 토대가 된다.
- B: 문화가 세대를 넘어 전승되면서 기존의 문화 요소와는 다른 새로운 문화 요소가 부가되어 문화가 점점 더 풍부해지는 바탕이 된다.

<보기>

- ㄱ. A는 사회생활에서 상대방의 행동을 예측하고 대응할 수 있도록 해준다.
- ㄴ. A가 부각된 사례로는 공유하고 있는 언어로 의사소통을 하는 것이 있다.
- ㄷ. B는 문화 연구의 여러 관점 중에서 총체론적 관점이 필요한 전제가 된다.
- ㄹ. B는 새로운 문화 요소가 추가되거나 기존 문화 요소가 소멸되는 속성이다.

- ① ㄱ, ㄴ ② ㄱ, ㄹ ③ ㄷ, ㄹ
- ④ ㄱ, ㄴ, ㄷ ⑤ ㄴ, ㄷ, ㄹ

10. 그림은 갑국, 을국의 사회 계층 분포를 나타낸 것이다. 이에 대한 옳은 분석만을 <보기>에서 있는 대로 고른 것은? [3점]



*표시된 점들은 갑국, 을국의 부모 세대와 자녀 세대 모두 40세 시점의 사회적 지위를 나타낸 것이고, 점 1개는 1%를 의미한다.

<보기>

- ㄱ. 자녀 세대에서 부모의 계층을 세습한 비율은 갑국보다 을국이 더 높다.
- ㄴ. 갑국 부모 세대보다 을국 부모 세대의 계층 구조가 사회 통합에 유리하다.
- ㄷ. 갑국 자녀 세대에서 부모의 계층을 세습한 사람보다 세대 간 이동한 사람이 더 많다.
- ㄹ. 자녀 세대의 '세대 간 하강 이동자 수/세대 간 상승 이동자 수'는 갑국보다 을국이 크다.

- ① ㄱ, ㄷ ② ㄱ, ㄹ ③ ㄴ, ㄷ
- ④ ㄱ, ㄴ, ㄹ ⑤ ㄴ, ㄷ, ㄹ

11. 밑줄 친 ㉠~㉣과 같은 현상의 일반적인 특징에 대한 질문에 모두 옳게 응답한 학생은?

새해 들어 시작된 ㉠이상 고온 현상이 일주일 넘게 지속되고 있다. 남부 지방에서는 개나리와 벚꽃 등 계절을 착각한 봄꽃이 꽃망울을 터뜨렸고, 강원도와 경기도에서는 얼음이 얼지 않아 ㉡겨울 축제가 줄줄이 연기되기도 했다. 하지만 ㉢기상청은 내일부터 기온이 크게 떨어지고 전국적으로 많은 눈이 내릴 것으로 전망했다.

질문 학생	존재 법칙을 따르는 것은?	보편성과 특수성이 공존하는 것은?	경험적 자료로 연구할 수 있는 것은?
갑	㉠	㉡, ㉣	㉡, ㉣
을	㉠	㉡, ㉣	㉠, ㉡, ㉣
병	㉠, ㉡	㉣	㉡, ㉣
정	㉠, ㉣	㉡	㉡, ㉣
무	㉠, ㉣	㉠, ㉣	㉠, ㉡, ㉣

- ① 갑 ② 을 ③ 병 ④ 정 ⑤ 무

12. 다음 사례를 연구 윤리 측면에서 평가한 것으로 가장 적절한 것은?

한 연구자는 말더듬 장애가 있는 고아들을 대상으로 연구를 수행하였다. 절반의 아이들에게는 그들이 말을 유창하게 할 때, 그 유창함에 대해 칭찬하는 긍정적인 언어 치료를, 나머지 아이들에게는 그들이 말을 더듬을 때, 이를 비하하는 부정적인 언어 치료를 시행하였다. 그 결과 긍정적 언어 치료를 받은 아이들은 대부분 장애를 극복하였지만, 부정적 치료를 받은 아이들은 대부분 평생을 말더듬 장애를 가진 채 살아야 했다.

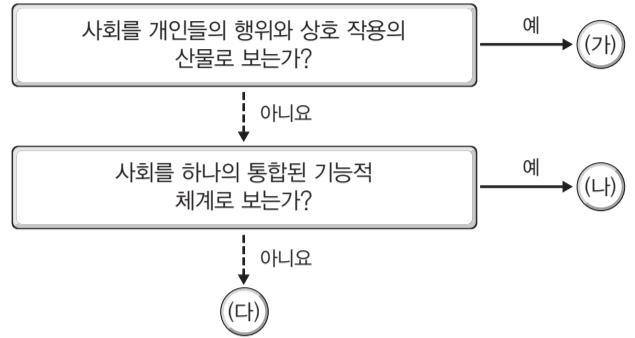
- ① 연구 대상자의 익명성을 보장하지 않았다.
- ② 연구 대상자의 자발적인 참여 기회를 보장하지 않았다.
- ③ 연구 과정에서 윤리적으로 비난받을 방법을 사용하였다.
- ④ 다른 연구자의 연구를 활용하고 그 출처를 밝히지 않았다.
- ⑤ 연구 대상자에게 연구 관련 정보를 사전에 제공하지 않았다.

13. 다음 연구에 대한 설명으로 옳지 않은 것은? [3점]

갑은 청소년들의 공격 행동과 낚시 활동 사이에 어떤 연관성이 있을지 궁금하여 연구를 시작하였다. ○○ 지역 중학생 691명을 대상으로 설문 조사를 진행하여 낚시 활동 유경험 집단과 무경험 집단으로 분류하여 낚시 경험 유무와 낚시 경력에 따른 공격성의 차이를 조사하였다. 신체적·언어적 공격성 측정 검사, 분노 표출 검사를 진행한 결과 낚시 활동 무경험 집단이 유경험 집단보다 그 수치가 더 높게 나타났다. 이를 통해 갑은 청소년들의 낚시 활동 경험이 공격 행동 조절에 긍정적 영향을 주는 것으로 결론을 내렸다. 더불어 학교 폭력을 예방하기 위해 낚시 활동 체험을 활용하는 방안을 제언하였다.

- ① 개념의 조작적 정의가 이루어졌다.
- ② '낚시 활동'은 독립 변인에 해당한다.
- ③ 변인 간의 관계를 파악하고자 하였다.
- ④ 연구자의 주관적 가치 개입 우려는 크지 않다.
- ⑤ '낚시를 한 경험이 있는 집단'은 실험 집단이다.

14. 그림의 (가)~(다)는 사회·문화 현상을 보는 관점을 나타낸 것이다. 이에 대한 설명으로 옳지 않은 것은? (단, (가)~(다)는 각각 기능론, 갈등론, 상징적 상호 작용론 중 하나이다.) [3점]



- ① (가)는 인간이 상황 정의에 따라 행동한다고 본다.
- ② (나)는 사회적 합의를 통한 질서 유지를 중시한다.
- ③ (다)는 갈등이 사회 변동의 원동력이 된다고 본다.
- ④ (다)는 (나)와 달리 사회 유지에 필요한 가치나 규범에 대한 사회적 합의가 존재한다고 본다.
- ⑤ (가)와 달리 (나), (다)는 개개인의 행위를 초월한 사회 체계에 초점을 맞춘다.

15. 표는 A~C 사회의 특징을 비교한 것이다. 이에 대한 분석으로 옳은 것은? (단, A~C 사회는 각각 농업 사회, 산업 사회, 정보 사회 중 하나이다.)

특징	A 사회	B 사회	C 사회
직업의 이질성	+	+++	++
면대면 접촉 비중	㉠	㉡	㉢
(가)	+++	++	+

*+의 수가 많을수록 그 정도가 높음을 의미한다.

- ① A 사회에서 집단 구성원 간 익명성이 가장 심하다.
- ② C 사회에서 대중 매체의 유형이 가장 다양하다.
- ③ B 사회는 C 사회보다 관료제 조직의 비중이 높다.
- ④ ㉠은 +++, ㉡은 +, ㉢은 ++이 적절하다.
- ⑤ (가)에는 '서비스업 종사자의 비중'이 들어갈 수 있다.

16. 밑줄 친 ㉠~㉣에 대한 옳은 설명을 <보기>에서 고른 것은?

㉠어머니의 신분_을에 의해 동래현의 관노로 태어난 갑은 출중한 재주로 조정_에 발탁되었다. 그는 왕의 의복과 궁중에서 사용하는 물품을 담당하는 기관인 ㉡상의원의 관리로 임명되어 자격루 등을 만들었다. 이러한 공이 인정되어 갑은 ㉢종3품의 대호군까지 올랐으며, 세종의 뜻을 받들어 많은 천문 기구를 제작하였다. 그런데 갑의 감독하에 만들어진 세종의 가마가 부서지는 상황이 발생하자 ㉣관직에서 물러날 것을 고민하던 중 결국 파면되었다.

〈보 기〉
 가. ㉠은 후천적인 노력으로 획득되는 지위이다.
 나. ㉡은 공식적 사회화 기관에 해당한다.
 다. ㉢은 갑의 역할 행동에 대한 보상이다.
 라. ㉣은 기대되는 역할 간의 상충으로 발생하는 갈등 상황이다.

- ① 가, 나 ② 가, 다 ③ 나, 다 ④ 나, 라 ⑤ 다, 라

17. 표의 A, B에 들어갈 옳은 질문을 <보기>에서 고른 것은?

질문	예	아니요
A	시민 단체, 사내 동호회	가족, 학교
B	학교, 시민 단체	가족, 사내 동호회

〈보 기〉
 가. 1차 집단인가? 나. 공식 조직인가?
 다. 이익 사회인가? 라. 자발적 결사체인가?

- | | | | | | |
|----------|----------|----------|----------|----------|----------|
| <u>A</u> | <u>B</u> | <u>A</u> | <u>B</u> | <u>A</u> | <u>B</u> |
| ① 나 | 가 | ② 나 | 다 | ③ 라 | 가 |
| ④ 라 | 나 | ⑤ 라 | 다 | | |

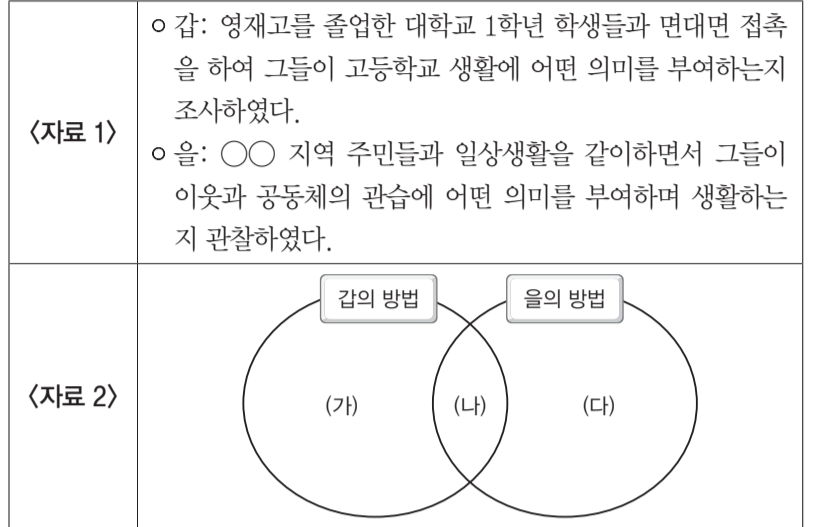
18. 다음 각 자료에서 강조하는 문화 연구의 관점 (가), (나)에 대한 옳은 설명만을 <보기>에서 있는 대로 고른 것은?

(가) 문화 인류학자는 자기 사회의 결혼 의례만이 아니라 여러 사회의 결혼 의례를 살펴볼 필요가 있다. 그래야 각 사회의 결혼 관행이 가지는 차이와 공통점을 파악할 수 있다.
 (나) 문화 인류학자는 그 사회의 가족과 친족 관계, 생태학적·인구학적 조건, 계급 구조와 권력 관계, 종교적 의례와 신앙 등과의 연관 속에서 결혼 관행을 파악하고 이해해야 한다.

〈보 기〉
 가. (가)는 자기 문화를 객관적으로 이해하는 데 유용하다.
 나. (나)는 문화 요소들 간의 상호 관련성을 중시한다.
 다. (나)와 달리 (가)는 문화 지체 현상의 이해에 도움이 된다.
 라. (나)는 (가)와 달리 자문화 중심주의적 편견을 줄이는 데 기여한다.

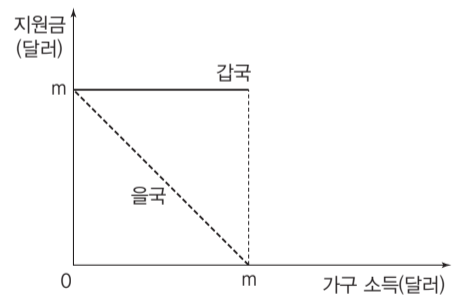
- ① 가, 나 ② 나, 다 ③ 다, 라
 ④ 가, 나, 라 ⑤ 가, 다, 라

19. <자료 2>의 그림은 <자료 1>에서 갑과 을이 사용한 자료 수집 방법의 공통점과 차이점을 나타낸 것이다. (가)~(다)에 들어갈 내용으로 옳은 것은? [3점]



- ① (가) - 자료의 실제성을 확보할 수 있다.
 ② (나) - 연구자의 주관적 가치가 개입될 수 있다.
 ③ (나) - 표준화·구조화된 자료 수집 방법이다.
 ④ (다) - 깊이 있는 이해를 목적으로 한다.
 ⑤ (다) - 연구자와 연구 대상자의 신뢰 관계가 요구된다.

20. 그림은 갑국과 을국이 채택하고 있는 빈곤 가구를 대상으로 한 공공 부조의 정부 지원금 지급 방식을 나타낸 것이다. 이에 대한 설명으로 옳은 것은? (단, 갑국과 을국의 빈곤 가구수는 같다.) [3점]



- ① 갑국의 정부 지원금 총액은 을국의 2배이다.
 ② 갑국의 빈곤 가구당 정부 지원금 평균은 을국의 2배이다.
 ③ 갑국의 수혜 가구 중 비수혜 가구보다 소득이 많은 가구가 발생할 수 있다.
 ④ 갑국에 비해 을국의 지원금 지급 방식이 빈곤 탈출에 효과적이다.
 ⑤ 갑국과 달리 을국에서는 수혜 가구의 소득이 낮을수록 지원금을 합한 소득도 낮아진다.

♣ 확인 사항

답안지의 해당란에 필요한 내용을 정확히 기입(표기)했는지 확인하십시오.