

제4교시

사회탐구 영역 (법과 정치)

성명

수험 번호



1. 대화에서 을이 생각하는 정치의 의미에 대한 옳은 설명을 <보기>에서 고른 것은?

갑: 정치의 의미가 무엇이라고 생각하십니까?
 을: 정치의 의미를 국가 작용으로만 한정해서 생각하는 사람들이 있는데, 나는 여기에 동의할 수 없습니다. 학급에서 좌석 배치를 결정하거나, 회사에서 성과급 기준을 정하는 것도 정치가 아닐까요? 결국 우리들의 삶은 정치와 분리해서 생각할 수가 없습니다.

<보 기>

- ㄱ. 정치를 국가의 통치 행위이자 권력 작용으로 본다.
- ㄴ. 희소가치의 배분을 둘러싼 갈등의 조정을 정치라고 본다.
- ㄷ. 국가의 존재와 무관하게 정치 현상이 존재할 수 있다고 본다.
- ㄹ. 정치권력의 획득과 유지라는 측면에 한정하여 정치를 이해한다.

- ① ㄱ, ㄴ ② ㄱ, ㄷ ③ ㄴ, ㄷ ④ ㄴ, ㄹ ⑤ ㄷ, ㄹ

2. 다음 사례에 대한 옳은 법적 분석을 <보기>에서 고른 것은? [3점]

○○ 지방 법원은 진술 조서를 훼손한 혐의(공용 서류 손상)로 기소된 P씨가 제기한 항소심에서 원심과 같은 징역 6개월을 선고했다. 재판부는 “공용 물건을 손상해 그 효용을 훼손한 점이 죄질이 좋지 않고, 동종 범행으로 처벌받은 전력이 있다.”고 양형 사유를 밝혔다. P씨는 지난 6월 옛 ○○교도소에 수감 중 수용 생활 방해 등의 혐의로 교도관의 조사를 받다가 진술 조서 3장을 찢은 혐의로 기소됐다.

<보 기>

- ㄱ. 검사가 원고, P씨가 피고가 되는 재판이다.
- ㄴ. P씨에게는 강제 노역이 부과되는 형벌이 선고되었다.
- ㄷ. 1심 재판은 지방 법원이나 지원의 단독심으로 진행되었다.
- ㄹ. P씨는 1심 법원의 결정에 불복하여 2심 재판을 청구하였다.

- ① ㄱ, ㄴ ② ㄱ, ㄷ ③ ㄴ, ㄷ ④ ㄴ, ㄹ ⑤ ㄷ, ㄹ

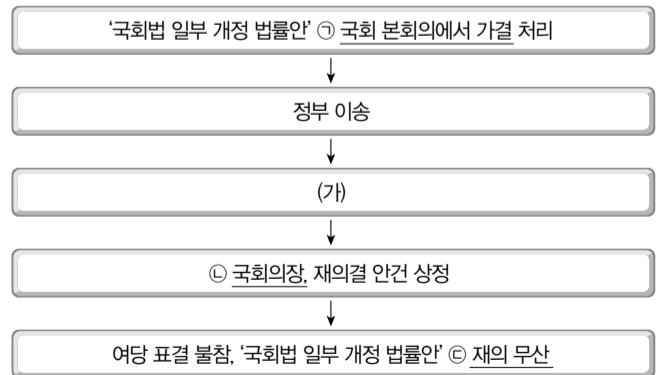
3. 다음 자료에 대한 분석으로 옳은 것은? [3점]

- 갑국은 의회의 신임에 의해 행정부가 구성되는 전형적인 정부 형태를 채택하고 있다.
- 갑국은 최근 의회 총선거를 실시하였는데, 총선거 실시 전후의 정당별 의석 점유율은 다음과 같다.

<총선거 실시 전>		<총선거 실시 후>	
정당	의석 점유율(%)	정당	의석 점유율(%)
A	52	A	31
B	46	B	28
C	2	C	16
		D	15
		E	10

- ① 행정부의 강력하고 효율적 정책 집행이 가능해졌다.
- ② 정치적인 책임 소재가 분명한 정당 구도로 바뀌었다.
- ③ 다양한 국민의 의사를 정책에 반영하기 어려워졌다.
- ④ 의회 내 다수당의 횡포가 나타날 가능성은 증가하였다.
- ⑤ 내각 구성을 둘러싼 정당 간의 연합이 필요하게 되었다.

4. 그림에 나타난 입법 절차와 관련한 설명으로 옳은 것은?



- ① ㉠은 국회 재적의원 과반수의 찬성이 있었음을 의미한다.
- ② ㉡은 국회의 동의 절차를 거친 후에 대통령이 임명한다.
- ③ ㉢은 해당 국회 상임위원회의 결정으로 이루어진다.
- ④ (가)에 해당하는 대통령의 권한은 권력 분립에 어긋난다.
- ⑤ (가)에 해당하는 대통령의 권한은 '법률안 재의 요구권'이다.

5. 다음 글에 나타난 국제 사회를 보는 관점에 대한 옳은 설명을 <보기>에서 고른 것은?

무정부 상태란 국제 정치의 일반적인 모습을 묘사하는 말로서, 국가들은 모두 자신의 주권과 독립을 최고의 가치로 삼다 보니 국제 사회에서 국가들의 행동을 규제할 수 있는, 국가보다 더 상위의 조직이 존재할 수 없음을 의미하는 말이다. 무정부 상태의 국제 정치 체제에서 국가들의 행동 원칙으로 자연스럽게 귀결되는 것이 바로 자조(自助)이다. 모든 국가들은 자신의 생존과 존엄을 스스로의 능력으로 강구할 수밖에 없는 것이다.

<보 기>

- ㄱ. 국제법과 국제기구의 중요성을 강조한다.
- ㄴ. 모든 국가는 자국의 이익을 우선시한다고 본다.
- ㄷ. 국제 사회는 도덕과 윤리의 지배를 받는다고 본다.
- ㄹ. 국가 간의 상호 의존 관계를 간과한다고 비판받는다.

- ① ㄱ, ㄴ ② ㄱ, ㄷ ③ ㄴ, ㄷ ④ ㄴ, ㄹ ⑤ ㄷ, ㄹ

6. 표는 어느 나라의 의회 의원 선출 방식의 변화 중 일부를 나타낸 것이다. 이에 대한 분석으로 옳지 않은 것은? [3점]

시기	의회 의원 선출 방식
20대 의회	전체 의석 300석을 단순 다수 대표제 방식의 지역구 선거를 통해 선출함.
25대 의회	전체 의석 300석 중 200석은 소수 대표제 방식의 지역구 선거를 통해 선출하고, 나머지 100석은 5개 권역에서 각각 20석씩 비례 대표제 방식으로 선출함.
30대 의회	전국 단위의 정당 투표를 실시하고, 각 정당이 얻은 득표율에 따라 전체 의석 300석을 배분함.

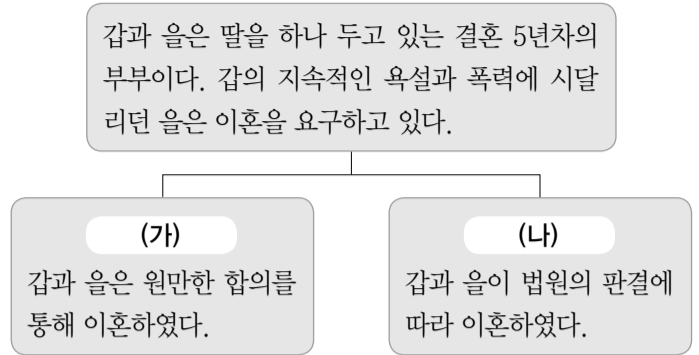
- ① 25대 의회 선거보다 20대 의회 선거에서 총선거구 수가 90개 많았다.
- ② 소수당의 원내 진출이 용이한 방향으로 의원 선출 방식이 변화되었다.
- ③ 당선에 기여하지 못하는 표의 발생 가능성은 30대 의회가 가장 낮았다.
- ④ 20대 의회, 30대 의회와 달리 25대 의회 선거에서는 1인 2표제가 도입되었다.
- ⑤ 정당별 의석률과 득표율의 괴리를 줄이는 방향으로 의원 선출 방식이 바뀌었다.

7. 밑줄 친 ㉠, ㉡에 대한 설명으로 옳지 않은 것은?

○ ○ ○ 도청 공무원 노동조합은 “공무원들의 반대에도 불구하고 성과 상여금 제도가 정부에 의해 강행적으로 운영되고 있어 개인의 기본권을 침해당했다.”며 정부를 상대로 ㉠헌법 소원을 제출했다.
○ ‘후원 당원’ 제도를 이용해 노동조합으로부터 정치 자금을 기부 받은 혐의로 기소돼 재판을 받고 있는 L씨 등 10명은 위헌 법률 심판 제청 신청이 기각되자 정치자금법 제6조 등이 국민의 정치 활동의 자유를 침해해 위헌이라며 위헌 확인을 구하는 ㉡헌법 소원을 냈다.

- ① ㉠은 공권력의 행사 또는 불행사로 기본권을 침해당한 국민이 청구할 수 있다.
- ② ㉡의 심판에서 위헌 결정이 내려지면 해당 법률 조항은 효력을 잃게 된다.
- ③ ㉡은 재판의 전제성이라는 요건이 충족되어야 청구할 수 있다.
- ④ ㉠은 권리 구제형 헌법 소원, ㉡은 위헌 심사형 헌법 소원이다.
- ⑤ ㉠과 달리 ㉡은 청구권자가 국민이 아닌 법원으로 한정된다.

8. 자료의 (가), (나) 이혼 유형에 대한 설명으로 옳지 않은 것은?



- ① (가)의 경우 절차상 이혼 숙려 제도가 적용된다.
- ② (나)의 경우 을과 달리 갑은 원칙적으로 법원에 이혼을 청구할 수 없다.
- ③ (나)의 경우 법원의 이혼 판결로 이혼의 법적 효력이 발생한다.
- ④ (가)와 달리 (나)의 경우 을은 갑을 상대로 위자료를 청구할 수 있다.
- ⑤ (가), (나)의 경우 모두 을은 갑을 상대로 재산 분할을 청구할 수 있다.

9. 다음 글에 나타난 근대의 대표적인 두 정치 사상이 갑, 을의 공통된 주장으로 옳은 것은? [3점]

갑: 인간이 인간에게 늑대가 되는 자연 상태에서의 삶은 고독하고 가련하며 야만스럽기까지 하다. 죽음을 두려워하는 인간은 자신들을 통치할 권력체인 ‘리바이어던’을 만들어 안전의 문제를 해결한다.
을: 자연 상태는 자유롭고 평화롭지만, 옳고 그름을 구별하는 법이 없고, 다툼을 해결해 주는 재판관도 없으며, 법을 집행할 수 있는 합법적인 권력도 없다. 그래서 모두가 스스로 옳다고 판단하는 자연 상태는 불안정하다. 국가는 이러한 불안정한 상태를 예방하고 자유와 평등을 안전하게 보장하기 위해 사회 구성원의 계약을 통해 만들어진 것이다.

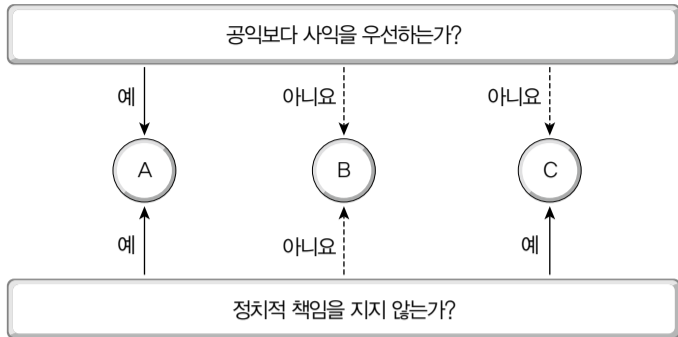
- ① 국가는 자연권 보장을 위한 수단이다.
- ② 국민이 국가 의사의 결정권을 가진다.
- ③ 인간은 이기적 본성을 가진 존재이다.
- ④ 자연권은 국가가 형성되면서 주어진다.
- ⑤ 권력 분립은 권력 남용 방지에 필수적이다.

10. 다음의 A법과 B법에 대한 설명으로 옳지 않은 것은?

A법	B법
이 법은 소비자의 권익을 증진하기 위하여 소비 생활의 향상과 국민 경제의 발전에 이바지함을 목적으로 한다.	이 법은 헌법에 따라 근로 조건의 기준을 정함으로써 근로자의 기본적인 생활을 보장, 향상시키며 균형 있는 국민 경제의 발전을 꾀하는 것을 목적으로 한다.

- ① A법은 소비자가 선택할 권리를 주장하는 근거가 된다.
- ② B법의 기준에 미치지 못하는 근로 계약 내용은 무효이다.
- ③ A법과 달리 B법은 공법과 사법의 중간 영역에 해당한다.
- ④ A법과 B법 모두 헌법상 복지 국가 원리의 구현에 기여한다.
- ⑤ A법과 B법 모두 사적 자치의 원칙에 일정한 수정을 가한다.

11. 그림은 정치 참여 집단 A~C를 비교한 것이다. 이에 대한 설명으로 옳은 것은? (단, A~C는 각각 정당, 시민 단체, 이익 집단 중 하나이다.)



- ① A는 비영리성, 비권력성을 특징으로 한다.
- ② B는 직능 대표와 같은 역할을 수행한다.
- ③ C는 의회와 정부를 매개하는 역할을 한다.
- ④ A와 달리 B는 공식 선거에 후보자를 공천한다.
- ⑤ A, B와 달리 C는 여론을 형성하고 조직화한다.

12. 다음 사례에서 법원이 내린 판결의 근거로 가장 적절한 것은?

송전선로 건설을 반대하는 주민 A씨는 송전탑 건설 현장 진입로에서 경찰의 출입을 막기 위해 대나무 울타리를 설치하였다. A씨는 이를 제거하려는 경찰에 대해 대나무 울타리에 매달렸다. 경찰이 A씨를 들어 도로 밖으로 이동을 시키려고 하자, A씨는 발버둥을 치다가 여성 경찰관의 얼굴 부위를 1회 걷어찼다. A씨는 경찰관의 직무 집행을 방해한 혐의로 기소됐다. 이에 대해 1심 법원은 'A씨가 경찰들에 의해 제압된 상황에서 발버둥치는 것은 소극적 저항 행위로 사회 상규에 위배되지 않는다.'며 무죄를 선고했다.

- ① 적절한 법률이 없으면 범죄도 없고 형벌도 없다.
- ② 적법 절차에 위배되는 공권력의 행사는 불법이다.
- ③ 범죄가 되려면 위법이라는 가치 판단이 가능해야 한다.
- ④ 구성 요건에 해당하지 않으면 범죄가 성립되지 않는다.
- ⑤ 책임을 물을 수 없는 사람의 행위는 범죄가 되지 않는다.

13. 다음 사례에 대한 옳은 법적 분석만을 <보기>에서 있는 대로 고른 것은? [3점]

회사원 갑은 2000년 을과 결혼하였고, 5년 후인 2005년에는 고대하던 아들 병을 얻었다. 갑은 딸이 하나 있으면 좋겠다는 생각을 지을 수 없었다. 그래서 아내를 설득하여 2008년에 2살짜리 정을 입양하였다. 그런데 2013년 여름 홀어머니 무를 방문하러 가던 갑과 아들 병이 갑작스런 교통 사고를 당하였다. 갑은 사고 현장에서 사망하였고, 병원으로 후송되었던 병은 3시간 뒤에 사망하였다. 갑은 유언장을 작성하지 않은 상태였으며, 갑이 남긴 재산은 7억 원이었고 빚은 없었다.

<보기>

- ㄱ. 을의 최종 상속액은 5억 원이다.
- ㄴ. 을의 최종 상속액은 정의 1.5배이다.
- ㄷ. 병은 갑의 재산을 상속받지 못한다.
- ㄹ. 무는 갑의 재산을 상속받지 못한다.

- ① ㄱ, ㄴ ② ㄱ, ㄹ ③ ㄷ, ㄹ
- ④ ㄱ, ㄴ, ㄷ ⑤ ㄴ, ㄷ, ㄹ

14. 다음의 A씨~C씨에 대한 옳은 설명만을 <보기>에서 있는 대로 고른 것은?

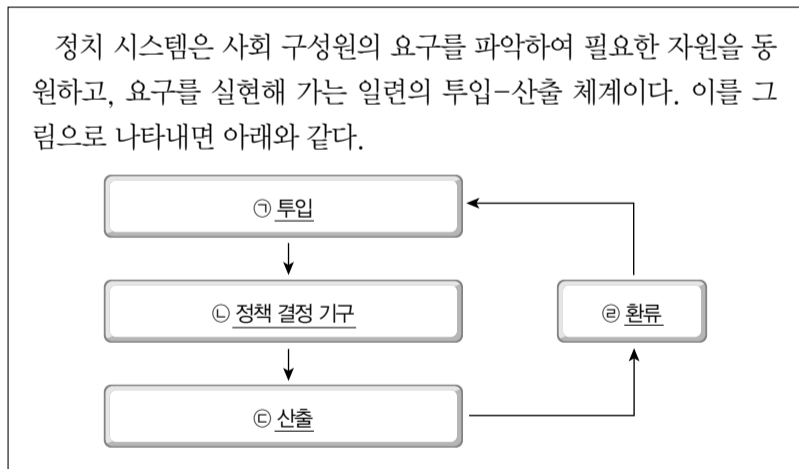
- ○○지법은 택시기사의 가슴을 만진 혐의로 기소된 여성 A씨에게 벌금형의 선고를 유예했다.
- 환자를 제대로 돌보지 않아 낙상시킨 혐의로 기소된 간호 조무사 B씨에게 6개월의 금고형이 선고됐다.
- 차선을 변경하면서 교통 사고를 유발하고 도주한 혐의로 기소된 C씨에게 징역 8월에 집행유예 2년이 선고됐다.

<보기>

- ㄱ. A씨의 행위는 범죄로 인정되지 않았다.
- ㄴ. A씨와 달리 C씨는 유예 기간이 지나면 면소된 것으로 간주된다.
- ㄷ. B씨와 달리 C씨는 교도소에 수용되지 않는다.
- ㄹ. A씨에게 부과된 형벌과 달리 B씨, C씨에게 부과된 형벌은 자유형에 해당한다.

- ① ㄱ, ㄴ ② ㄴ, ㄷ ③ ㄷ, ㄹ
- ④ ㄱ, ㄴ, ㄹ ⑤ ㄱ, ㄷ, ㄹ

15. 자료의 ㉠~㉣에 대한 옳은 설명만을 <보기>에서 있는 대로 고른 것은? [3점]

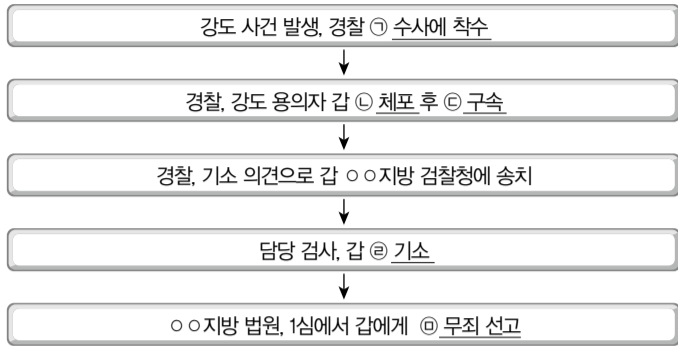


<보기>

- ㄱ. 정치적 의사 표현의 자유는 ㉠이 원활하게 이루어지기 위한 전제 조건이다.
- ㄴ. 현대 복지 국가에서는 ㉡에서 행정부의 역할이 상대적으로 커지는 경향이 있다.
- ㄷ. 국민들이 느끼는 정치적 효능감에 ㉢과 달리 ㉠은 영향을 미치지 못한다.
- ㄹ. 민주 정치 체제보다 권위주의 정치 체제에서 ㉠과 ㉣이 활성화되어 있다.

- ① ㄱ, ㄴ ② ㄴ, ㄷ ③ ㄷ, ㄹ
- ④ ㄱ, ㄴ, ㄹ ⑤ ㄱ, ㄷ, ㄹ

16. 다음은 강도 용의자 갑에 대한 형사 절차를 나타낸 것이다. ㉠~㉤에 대한 설명으로 옳은 것은? [3점]



- ① ㉠은 범죄 피해자의 고소가 있어야 가능하다.
- ② ㉡은 검사로부터 영장을 발부받아야 가능하다.
- ③ ㉢으로 인해 갑은 피의자에서 피고인으로 바뀐다.
- ④ ㉤ 이후에는 갑에게 진술 거부권이 인정되지 않는다.
- ⑤ ㉥이 확정되면 갑은 형사 보상을 청구할 수 있다.

17. 다음 사례에 대한 옳은 법적 분석을 <보기>에서 고른 것은? [3점]

여성용 티 박스 부근에서 티샷을 준비하던 A씨는 뒤쪽의 남성용 티 박스에서 일행 B씨가 친 골프공에 머리를 맞았다. 이 사고로 A씨는 한 달간 입원을 해야 하는 부상을 입었다. A씨는 “캐디가 나를 남성용 티 박스 앞으로 나가도록 방치하고 남성 일행의 티샷을 중지시키지도 않았다.”며 골프장과 B씨를 상대로 소송을 냈다. 법원은 “캐디가 A씨의 행동을 제지하거나 다른 일행이 티샷을 하지 못하도록 나서지 않은 것은 잘못이다. 캐디 관리 책임이 있는 골프장과 공을 쳐서 부상을 입힌 B씨가 공동으로 손해 배상을 해야 한다.”고 판결했다.

<보 기>

- ㄱ. 무과실 책임주의가 적용되었다.
- ㄴ. 사용자 배상 책임이 인정되었다.
- ㄷ. 공작물의 점유자 책임이 인정되었다.
- ㄹ. 일반 불법 행위와 특수 불법 행위가 모두 나타나 있다.

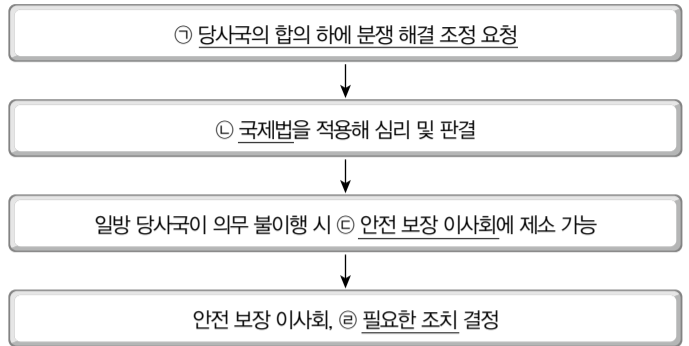
- ① ㄱ, ㄴ ② ㄱ, ㄷ ③ ㄴ, ㄷ ④ ㄴ, ㄹ ⑤ ㄷ, ㄹ

18. 다음 사례에 대한 법적 분석으로 옳은 것은? [3점]

올해 17세인 갑은 학교 정기고사나 학력평가 시험에서 영어 성적이 상대적으로 낮아 고민이 많다. 어느 날 학교를 마치고 귀가하던 중 영어 교재를 판매하는 어떤 아저씨를 만났다. 그 아저씨는 명문대에 진학한 갑의 선배 몇 명의 이름을 제시하면서 그 학생들도 이 교재로 공부했다고 말했다. 아저씨의 말에 현혹된 갑은 10개월 할부로 100만 원인 영어 교재를 구입하기로 계약을 하고 말았다.

- ① 갑은 제한 능력자이므로 계약은 무효이다.
- ② 갑은 권리 능력이 없으므로 계약은 성립하지 않는다.
- ③ 갑과 달리 갑의 부모는 계약을 취소할 수 있다.
- ④ 갑이 자유의사로 맺은 계약이므로 취소할 수 없다.
- ⑤ 갑의 부모가 계약을 추인하면 법적 효력을 갖는다.

19. 그림은 국제 사법 재판소의 재판 절차를 나타낸 것이다. 밑줄 친 ㉠~㉤에 대한 옳은 설명을 <보기>에서 고른 것은?



<보 기>

- ㄱ. ㉠은 국제 사법 재판소가 강제적 관할권을 행사하기 어려움을 보여 준다.
- ㄴ. ㉡에 국제 관습법이나 법의 일반 원칙은 해당하지 않는다.
- ㄷ. ㉢은 국제 사법 재판소 판결에 구속력을 부여하는 기능을 수행한다.
- ㄹ. ㉤에는 경제적 제재만 포함되고 군사적인 제재는 포함되지 않는다.

- ① ㄱ, ㄴ ② ㄱ, ㄷ ③ ㄴ, ㄷ ④ ㄴ, ㄹ ⑤ ㄷ, ㄹ

20. 밑줄 친 ㉠~㉤에 대한 옳은 설명을 <보기>에서 고른 것은? [3점]

- 2015년 3월 12일 세입자 갑과 집 주인 을, ㉠주택 임대차 계약 체결
- 2015년 4월 3일 세입자 갑, 을 소유 주택에 ㉡입주 후 전입신고 마침.
- 2015년 4월 6일 집 주인 을, 병에게 ㉢근저당권 설정해 줌.
- 2015년 4월 8일 세입자 갑, 주민 센터에 가서 ㉣확정일자 받음.

<보 기>

- ㄱ. ㉠을 통해 갑은 주택 임대차 보호법의 보호를 받을 요건을 갖게 된다.
- ㄴ. ㉡은 갑이 대항력을 갖추기 위한 필수 요건에 해당한다.
- ㄷ. ㉢의 세부 내용은 을 소유 주택 등기부의 갑구에 기재된다.
- ㄹ. ㉣이 ㉤보다 빨라서 갑의 우선 변제권은 병에 대해 적용되지 못한다.

- ① ㄱ, ㄴ ② ㄱ, ㄷ ③ ㄴ, ㄷ ④ ㄴ, ㄹ ⑤ ㄷ, ㄹ

♣ 확인 사항

답안지의 해당란에 필요한 내용을 정확히 기입(표기)했는지 확인하십시오.