


제 4 교시

사회탐구 영역(사회·문화)

성명		수험 번호				2				제 [] 선택
----	--	-------	--	--	--	---	--	--	--	----------

1. 밑줄 친 ㉠ ~ ㉣과 같은 현상의 일반적인 특징에 대한 설명으로 옳은 것은?



한류성 어종인 ㉠ 명태는 주로 동해안 북쪽에 서식하고 있었다. 하지만 바닷물 온도의 상승으로 이제는 동해안에서 찾아 보기 어렵게 되어, 해양수산부는 ㉡ 명태 복원 프로젝트를 기획하였다. 연구 팀은 새끼 명태의 수정과 부화 과정을 반복하여 ㉢ 명태가 살아갈 수 있는 최적의 환경을 찾아 제공함으로써 인공 부화에 성공할 수 있었다. 이후 연구 팀은 부화시킨 새끼 명태 수만 마리를 동해 어장에 방류하였다.

- ① ㉠과 같은 현상은 보편성과 특수성이 공존한다.
- ② ㉡과 같은 현상은 불가치적이다.
- ③ ㉠과 같은 현상은 ㉢과 같은 현상과 달리 존재 법칙의 지배를 받는다.
- ④ ㉢과 같은 현상은 ㉡과 같은 현상과 달리 확률의 원리가 적용된다.
- ⑤ ㉠과 같은 현상은 ㉢, ㉡과 같은 현상과 달리 경험적 자료로 연구할 수 있다.

2. 다음 갑, 을의 연구를 연구 윤리 측면에서 옳게 평가한 진술만을 <보기>에서 고른 것은? [3점]

○ 갑은 '자기 주도적 탐구의 경험이 수업 태도 변화에 미치는 영향'을 주제로 연구를 진행하였다. 갑은 학생들의 솔직한 반응을 얻기 위해 구체적 연구 목적을 대상자에게 밝히지 않았다. 갑은 연구 대상자의 답변 중 수업 태도에 부정적인 영향을 미쳤다고 응답한 자료를 제외하고 분석하였다.

○ 을은 '자기 주도적 탐구의 경험이 학교 내신 성적에 미치는 영향'을 주제로 연구를 진행하였다. 을은 일부 연구 대상자의 답변을 전체 연구 대상자 답변의 평균치에 맞도록 수정하였다. 또한 연구 대상자의 동의를 받지 않고 학습 컨설팅 업체에 연구 결과를 제공한 후 사례금을 받았다.

<보 기>

- ㄱ. 갑은 연구 대상자의 개인 정보를 유출하였다.
- ㄴ. 을은 수집한 자료를 연구 이외의 목적으로 사용하였다.
- ㄷ. 갑은 을과 달리 연구 대상자의 자발적 참여를 보장하였다.
- ㄹ. 갑, 을 모두 수집된 자료를 임의로 조작하였다.

- ① ㄱ, ㄴ ② ㄱ, ㄷ ③ ㄴ, ㄷ ④ ㄴ, ㄹ ⑤ ㄷ, ㄹ

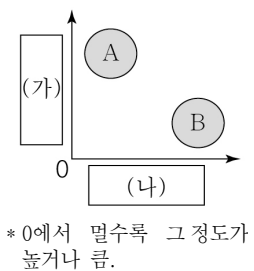
3. 밑줄 친 ㉠ ~ ㉣에 대한 설명으로 옳은 것은? [3점]

고등학교 2학년인 갑은 ㉠ 뮤지컬 배우인 ㉡ 아버지의 영향으로 ㉢ 연출가를 꿈꾸게 되었다. 지난 1년간 갑은 교내 방송부에서 점심 방송을 진행하였고, ㉣ 영상 기획과 편집을 열심히 수행하여 바라던 ㉤ 방송부 부장으로 선출되었다. 최근 동아리 발표회 시간에 송출할 음악 선곡을 두고 부원 간 의견이 달라 어떤 음악을 선곡해야 할지 갑은 ㉥ 고민에 빠졌다.

- ① ㉠은 ㉡과 달리 성취 지위이다.
- ② ㉠은 ㉢과 달리 갑의 준거 집단이다.
- ③ ㉣은 ㉠이 되기 위한 갑의 예기 사회화이다.
- ④ ㉤은 갑의 역할 행동에 대한 보상이다.
- ⑤ ㉥은 갑의 역할 갈등이다.

4. 다음 자료에 대한 설명으로 옳은 것은? (단, A, B는 각각 관료제, 탈관료제 중 하나임.)

A는 조직의 원칙에 충실하기를 요구하기 때문에 구성원의 창의성과 자율성을 억제하여 '철창(iron cage)'에 비유된다. 한편 B는 구성원의 수평적 협력을 유도하고 창의성과 자율성을 끌어내도록 작동하는 조직 운영의 원리이다.



- ① A는 상향식 의사 결정이 지배적이다.
- ② B는 능력보다 연공서열에 따른 보상을 중시한다.
- ③ B는 A에 비해 중간 관리층의 역할 비중이 크다.
- ④ (가)에는 '업무 담당자의 재량권 보장 정도'가 들어갈 수 있다.
- ⑤ (나)에는 '환경 변화에 대한 유연한 대처 가능성'이 들어갈 수 있다.

5. 밑줄 친 ㉠ ~ ㉣에 대한 설명으로 옳은 것은? [3점]

갑은 '직장인들의 근무 환경이 직무 만족도에 미치는 영향'을 주제로 연구하였다. 갑은 직장인들의 근무 환경을 ㉠ 인적 근무 환경과 ㉡ 시설 근무 환경으로 구분한 후, ㉢ OO기업 직원 100명을 A, B 두 집단으로 나누어 무작위로 50명씩 배정하였다. 이어 A 집단을 무작위로 각각 25명씩 ㉣ A₁, A₂로 나누고, 같은 방식으로 B 집단을 ㉤ B₁, B₂로 나눈 뒤에 현재의 직무 만족도를 측정하였다. 이후 ㉥ A₁은 개선된 인적 근무 환경에서, B₁은 개선된 시설 근무 환경에서 근무하게 하고, A₂, B₂는 종전과 같은 환경에서 근무하게 한 후, 직무 만족도를 다시 측정하였다. 분석 결과 인적 근무 환경은 직장인들의 직무 만족도에 유의미한 영향을 미치지 않지만, 시설 근무 환경은 유의미한 영향을 미치지 못한다는 것을 확인하였다.

- ① ㉠은 독립 변수, ㉡은 종속 변수이다.
- ② ㉢은 모집단, ㉣과 ㉤은 모두 표본이다.
- ③ ㉣은 실험 집단, ㉤은 통제 집단이다.
- ④ ㉥은 실험 처치에 해당한다.
- ⑤ ㉣과 ㉤간 직무 만족도 차이로 인해 가설이 수용되었다.

6. 다음 질문지에 대한 평가로 옳은 것은?

<미술관 건립에 대한 인식 조사>

문항 1. 현거주지 반경 3km 이내에 있는 문화 시설은 무엇입니까?
 ① 미술관 ② 영화관 ③ 공연장 ④ 박물관

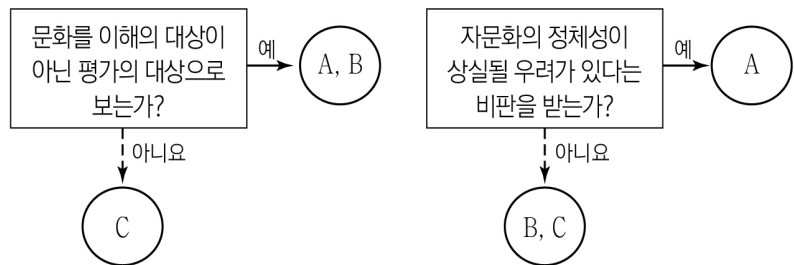
문항 2. 현재 거주지 주변에 있는 낙후된 문화 시설의 개선과 새로운 미술관 건립에 동의하십니까?
 ① 예 ② 아니요 ③ 잘 모르겠음

문항 3. 과거에 미술관을 몇 번 방문하셨습니다?
 ① 2회 미만 ② 2회 이상 ~ 4회 미만 ③ 4회 이상

문항 4. 작품 관람이나 행사 참여를 위해 미술관에 방문할 의사가 있습니까?
 ① 예 ② 아니요 ③ 잘 모르겠음

- ① '문항 1'은 응답 가능한 선택지가 모두 제시되어 있다.
- ② '문항 2'는 한 질문에 두 가지 사항을 묻고 있다.
- ③ '문항 3'은 선택지에 중복된 내용이 있다.
- ④ '문항 4'는 질문이 특정한 응답을 유도하고 있다.
- ⑤ '문항 1'은 '문항 3'과 달리 묻는 것이 명료하지 않아 응답에 혼란을 주고 있다.

7. 다음 자료에 대한 설명으로 옳은 것은? (단, A~C는 각각 문화 상대주의, 문화 상대주의, 자문화 중심주의 중 하나임.)



- ① A는 외부에 있는 선진 사회의 문화를 수용하는 데 적극적이다.
- ② B는 문화를 해당 사회의 맥락에서 이해해야 한다고 본다.
- ③ C는 문화 제국주의를 정당화한다는 비판을 받는다.
- ④ B는 A와 달리 자신의 문화가 상대적으로 열등하다고 본다.
- ⑤ B는 C와 달리 문화의 다양성 확보에 유리하다.

8. 사회 집단 A~C에 대한 설명으로 옳은 것은? (단, A~C는 각각 공동 사회, 비공식 조직, 자발적 결사체 중 하나임.) [3점]

○ "구성원들의 본질 의지에 의해 자연 발생적으로 형성된다." 라는 특징으로 A와 B를 구분할 수 있다.

○ '노동조합'은 B에는 해당하지만, C에는 해당하지 않는다.

○ (가) 라는 특징으로 C와 A를 구분할 수 없다.

- ① '회사 내 동호회'는 B이면서 C에 해당한다.
- ② A는 B와 달리 2차 집단에 해당한다.
- ③ B는 C와 달리 구성원들의 가입과 탈퇴가 자유롭다.
- ④ C는 A와 달리 전인격적 인간관계가 중심을 이룬다.
- ⑤ (가)에는 "공식 조직 내에서 공통의 관심사나 취미에 따라 형성된다."가 들어갈 수 있다.

9. 밑줄 친 ㉠~㉢에 부각된 문화의 속성에 대한 설명으로 옳은 것은?

○ 영토가 넓은 갑국에서는 장거리 이동을 하는 사람들이 차 안에서 간편하게 먹는 음식으로 햄버거를 찾는 경우가 많았다. ㉠갑국의 고속도로가 확장됨에 따라 물류 유통 시스템이 발전하였고, 이에 따라 햄버거 산업도 성장하였다. 이제 ㉡갑국 사람들은 햄버거를 고속도로 이용 시 가장 쉽게 접할 수 있는 음식으로 인식한다.

○ 을국에서는 ㉢인쇄술을 통해 서적이 널리 보급되면서 새로운 사상의 확장으로 이어졌고, 나아가 다양한 사회 운동을 자극하였다. 또한 인쇄술은 ㉣기존의 지식과 기술이 다음 세대에 전달되어 누적될 수 있는 장치로써 작동하였다.

- ① ㉠은 ㉡과 달리 문화가 구성원 간 사고와 행동의 동질성 형성에 기여한다는 것을 보여 준다.
- ② ㉡은 ㉢과 달리 문화의 여러 요소가 유기적으로 결합된 하나의 총체라는 것을 보여 준다.
- ③ ㉢은 ㉣과 달리 문화가 경험과 상징을 통해 세대 간에 전승되고 축적된다는 것을 보여 준다.
- ④ ㉣은 ㉠과 달리 문화가 고정된 것이 아니라 지속적으로 변화한다는 것을 보여 준다.
- ⑤ ㉠, ㉢은 ㉡, ㉣과 달리 한 문화 요소의 변화가 다른 문화 요소의 연쇄적 변화를 가져온다는 것을 보여 준다.

10. 일탈 이론 A~C에 대한 설명으로 옳은 것은? (단, A~C는 각각 낙인 이론, 차별 교제 이론, 머튼의 아노미 이론 중 하나임.)

[3점]



교사

일탈 이론에 근거하여 스토킹 범죄의 발생 원인에 관한 각자의 연구 계획을 발표해 보세요.

A를 근거로 스토킹 범죄를 저지른 사람이 친밀하게 지내는 주변 사람 중에 유사한 범죄를 저지른 사람이 있는지 확인해 보려고 합니다.



갑



을

B를 근거로 스토킹 범죄 재범자를 대상으로 처음 범죄를 저지르고 난 후 그에 대한 주변의 반응과 시선에 대해 알아보려고 합니다.

C를 근거로 사회적으로 합의된 문화적 목표를 달성하기 위해, 스토킹 범죄를 저지른 사람이 스토킹이라는 방법을 선택한 이유가 무엇인지 확인해 보려고 합니다.



병

- ① A는 차별적 제재를 일탈 행동의 원인으로 본다.
- ② B는 일탈을 규정하는 객관적 기준이 존재한다고 본다.
- ③ C는 일탈 행동의 해결 방안으로 정상 집단과의 교류 촉진을 중시한다.
- ④ A는 B와 달리 일탈 과정에서 나타나는 타인과의 상호 작용에 주목한다.
- ⑤ B는 C와 달리 2차적 일탈이 나타나는 과정에 주목한다.

11. 사회·문화 현상의 서로 다른 연구 방법 (가), (나)의 일반적인 특징에 대한 설명으로 옳은 것은?

갑: 비혼 증가의 실태를 확인하기 위해 [가]를 활용하고자 합니다. 혼인 생활에 드는 경제적 비용과 혼인을 간의 상관관계에 대해 통계 자료를 활용하여 분석할 계획입니다.

을: 비혼 증가의 원인을 파악하기 위해 [나]를 활용하고자 합니다. 비혼을 선택한 남녀를 직접 만나 그 이유나 동기에 대해 심층적으로 탐구할 계획입니다.

- ① (가)는 직관적 통찰을 통해 사회·문화 현상을 해석한다.
- ② (가)는 사회·문화 현상과 자연 현상이 본질적으로 같다고 본다.
- ③ (나)는 사회·문화 현상에 내재된 법칙 발견을 목적으로 한다.
- ④ (나)는 인간 행위의 동기보다는 행위 자체를 주된 분석 대상으로 삼는다.
- ⑤ (나)는 (가)와 달리 자료 수집 과정에서 연구자의 가치 중립이 요구된다.

12. 밑줄 친 ㉠~㉣을 (가)~(다)의 사회화 기관으로 옳게 분류한 것은?

어린 시절에 강아지와 함께 보내는 시간이 많았던 갑은 반려동물을 ㉠가족처럼 생각하게 되어 ㉡반려동물 전문학교에 진학했다. 전문적으로 동물 관리 기술을 배운 갑은 주목받는 반려동물 관리 전문가로 성장하였고, 현재 ㉢방송사의 동물 관련 프로그램에 출연하고 있다.

질문	사회화 기관	(가)	(나)	(다)
사회화 자체를 목적으로 설립된 기관에 해당하는가?		아니요	아니요	예
주로 전문적이고 심화된 수준의 사회화를 담당하는가?		아니요	예	예

- | | | | | | |
|-----|-----|-----|-----|-----|-----|
| (가) | (나) | (다) | (가) | (나) | (다) |
| ① ㉠ | ㉡ | ㉢ | ② ㉠ | ㉢ | ㉡ |
| ③ ㉡ | ㉠ | ㉢ | ④ ㉡ | ㉢ | ㉠ |
| ⑤ ㉢ | ㉡ | ㉠ | | | |

13. A~C국에서 나타난 문화 변동에 대한 설명으로 옳은 것은? [3점]

A국은 전쟁에서 패한 이후 B국의 지배를 받게 되었다. 이때 B국으로 건너간 A국 사람들에 의해 많은 A국의 언어가 B국으로 유입되어 B국의 언어와 함께 사용되었다. 이후 A국에서는 자국의 고유 언어와 B국의 언어를 혼합하여 만든 제3의 〇〇어를 사용하였고, 이것이 C국에 전파되었다. C국에서는 문법이 쉬운 〇〇어를 널리 사용하게 되면서 자국의 고유 언어는 사라지게 되었다.

- ① A국에서는 문화 동화가 나타났다.
- ② B국에서는 강제적 문화 접변이 나타났다.
- ③ C국에서는 문화 융합이 나타났다.
- ④ A국에서는 B, C국과 달리 새로운 문화 요소가 만들어졌다.
- ⑤ A, C국에는 B국과 달리 자국의 기존 문화 요소가 남아 있다.

14. 사회·문화 현상을 바라보는 서로 다른 (가)~(다)의 관점에 대한 설명으로 옳은 것은? [3점]

(가) 사회 복지 제도는 사회적 자원이 적재적소에 활용될 수 있도록 구성원의 합의를 거쳐 도출된 것이다. 이를 통해 사회는 갈등을 완화하고 통합을 추진할 수 있게 된다.

(나) 사회적 위험에 처한 개인은 자신의 상황에 주관적 의미를 부여한다. 그러한 의미를 다른 사람과 공유하는 과정에서 필요한 복지 혜택을 확인하고 이를 바탕으로 사회 복지 제도가 구성된다.

(다) 기득권층은 불특정 다수에 잠재된 현재의 사회 구조에 대한 불만을 불식시키고 자신들의 권력과 부를 유지하려고 한다. 사회 복지 제도도 이러한 기득권층의 의도에 따라 만들어진 위선적 장치일 뿐이다.

- ① (가)의 관점은 사회 구조를 지배-피지배 관계로 설명한다.
- ② (나)의 관점은 사회 구조 내에 갈등이 잠재되어 있다고 본다.
- ③ (다)의 관점은 혁명과 같은 급진적인 사회 변동을 설명하지 못한다는 비판을 받는다.
- ④ (가)의 관점은 (나)의 관점과 달리 사회·문화 현상을 미시적 관점에서 이해한다.
- ⑤ (나)의 관점은 (다)의 관점과 달리 상징을 통한 구성원 간 상호 작용을 중시한다.

15. 밑줄 친 ㉠~㉣에 대한 옳은 설명만을 <보기>에서 고른 것은?

<〇〇시 지역 축제 한마당>

〇〇시의 상징인 ㉠A문화제가 유네스코 ㉡세계 문화유산에 등재된 기념으로 지역 축제 한마당을 개최합니다.

◇ 일시: 2023년 9월 1일 ~ 9월 9일

◇ 장소: ㉢A문화제 기념 공원 일대

◇ 내용: 축하 공연, 전통 음식 체험, 온라인 강연

□ 온라인 강연 주제

- ㉣다른 나라의 문화재와 차별화된 A문화제만의 독창성
- ㉠A문화제가 등장하게 된 사회·문화적 맥락

◇ 요청 사항

혼잡한 축제 현장에서 ㉣최신 디지털기기를 활용하여 타인의 신체를 무단으로 촬영하는 행위가 빈번하게 발생하고 있습니다.

성숙한 시민 의식을 보여주시기 바랍니다.

— <보 기> —

㉠. ㉠에서의 '문화'는 ㉡에서의 '문화'와 달리 넓은 의미로 사용되었다.

㉡. ㉢은 물질 문화에 해당한다.

㉢. ㉣은 ㉣과 달리 비교론적 관점을 통해 확인할 수 있다.

㉣. ㉣은 문화 지체 현상으로 설명할 수 있다.

- ① ㉠, ㉡ ② ㉠, ㉢ ③ ㉡, ㉢ ④ ㉡, ㉣ ⑤ ㉢, ㉣

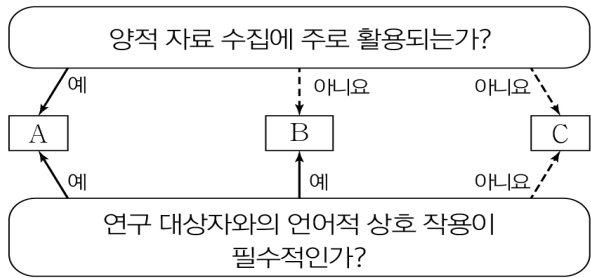
16. A~C에 대한 설명으로 옳은 것은? (단, A~C는 각각 반문화, 주류 문화, 하위문화 중 하나임.) [3점]

○ 다음 진술의 참, 거짓 여부를 답란에 작성하시오. 문항별로 옳은 답을 쓴 경우 1점, 틀린 답을 쓴 경우 0점입니다.

문항	진술	답란	점수
1	A는 한 사회에서 지배적인 영향을 끼치는 문화이다.	거짓	1점
2	한 사회에서 특정 지역의 문화는 B에 해당한다.	참	0점
3	C는 한 사회의 지배적 문화에 저항하거나 대립하는 성격을 지닌다.	참	1점

- ① A는 사회 변화에 따라 B가 되기도 한다.
- ② 모든 A는 C에 해당한다.
- ③ B는 모든 A의 총합으로 구성된다.
- ④ B는 한 사회 내에서 C와 양립할 수 없다.
- ⑤ C는 A와 달리 사회 전체의 동질성을 높이는 데 기여한다.

17. 자료 수집 방법 A~C의 일반적인 특징에 대한 설명으로 옳은 것은? (단, A~C는 각각 면접법, 질문지법, 참여 관찰법 중 하나임.)



- ① A는 B에 비해 연구자의 주관적 가치 개입 우려가 크다.
- ② B는 A에 비해 다수를 대상으로 한 자료 수집에 용이하다.
- ③ C는 A와 달리 비구조화·비표준화된 자료 수집 방법이다.
- ④ A는 B, C와 달리 조사 대상자와의 정서적 교감을 중시한다.
- ⑤ C는 A, B와 달리 조사 대상자의 주관적 인식을 파악할 수 있다.

18. 다음은 문화 변동의 요인을 비교하여 구분한 것이다. A~D에 대한 설명으로 옳은 것은? (단, A~D는 각각 발견, 발명, 자극 전파, 직접 전파 중 하나임.) [3점]

○ A, C 모두는 문화 변동의 외재적 요인이다.
○ A, D를 통해 기존에 없던 문화 요소가 창조된다.

- ① 체로키 문자와 같이 다른 사회의 문자에서 아이디어를 얻어 새로운 문자를 고안한 것은 A의 사례이다.
- ② 바퀴를 응용하여 수레를 만들어낸 것은 B의 사례이다.
- ③ 한 나라의 전통 놀이가 인터넷을 통해 다른 나라로 확산된 것은 C의 사례이다.
- ④ D는 B와 달리 이미 존재하였지만 인식하지 못한 문화 요소를 알아내는 것이다.
- ⑤ C는 A, D와 달리 한 사회의 문화 요소를 다양하게 하는 요인이다.

19. 다음 글에 나타난 개인과 사회의 관계를 바라보는 관점에 대한 옳은 설명만을 <보기>에서 고른 것은?

사회적 상호 연관성으로부터 완벽하게 무관한 개인은 실제로 존재하지 않는 환상에 불과하며, 영웅과 천재조차도 한 사회의 산물일 뿐이다. 따라서 사회적 맥락을 초월한 주체로서의 개인이라는 표현은 성립할 수 없다.

- <보 기>
- ㄱ. 사회 현상은 개인의 행위로 환원될 수 없다고 본다.
 - ㄴ. 사회는 개인의 자율적 의지에 의해 형성된다고 본다.
 - ㄷ. 개인의 속성은 사회의 속성이 반영된 결과라고 본다.
 - ㄹ. 사회는 개인의 이익을 실현해 주는 수단에 불과하다고 본다.

- ① ㄱ, ㄴ ② ㄱ, ㄷ ③ ㄴ, ㄷ ④ ㄴ, ㄹ ⑤ ㄷ, ㄹ

20. 다음 자료에 대한 분석으로 옳은 것은? [3점]

<표 1>과 <표 2>는 갑국 성인 1,000명을 대상으로 T년과 T+10년에 본인이 주로 정보를 얻었던 매체와 그 변화에 대해 조사한 자료이다. 단, A~C는 각각 TV, SNS, 종이 신문 중 하나이며, T년과 T+10년에 조사 대상자는 동일하다. 조사 대상자는 제시된 매체 중 하나에만 응답할 수 있고, 무응답은 없었다.

<표 1> T년에 주로 정보를 얻었던 매체

구분	A	B	C
응답 비율	20%	50%	30%

<표 2> 전체 응답자 1,000명 중 T년과 비교하여 T+10년에 응답을 바꾼 사람 수의 비율

구분	A→B	A→C	B→A	B→C	C→A	C→B
비율	4%	6%	1%	19%	1%	1%

- B는 A보다 문맹자가 정보를 습득하기에 용이하다.
- C는 A, B와 달리 뉴미디어에 해당한다.

- ① T+10년에 일방향 매체에 응답한 비율의 합은 전체 응답자의 50% 이상이다.
- ② T년보다 T+10년에 응답자 수가 증가한 매체는 종이 신문이다.
- ③ T년 대비 T+10년에 TV에 응답한 사람 수의 비율은 70%이다.
- ④ T년에 일방향 매체에 응답했다가 T+10년에 쌍방향 매체에 응답한 사람 수는 200명이다.
- ⑤ T년 대비 T+10년에 응답한 사람 수가 40% 감소한 매체는 정보 생산자와 소비자의 경계가 불명확하다.

* 확인 사항
○ 답안지의 해당란에 필요한 내용을 정확히 기입(표기)했는지 확인하시오.