

## 【사 회】

1. 다음은 가족의 대화 장면이다. 이 대화에 대한 분석으로 가장 적절한 것은? 단, 지문에서 [ ]은 속마음이다.

甲(여) : 여보, 고속도로에서 운전하기 힘들지. 가까운 휴게소에서 커피 한 잔 먹고 가요[커피 마시면서 대화를 하고 싶어요].  
 乙(남) : 난 괜찮은데[휴게소에서 커피 먹으면 시간도 많이 소요되는데].  
 甲(여) : 이번 휴게소가 커피맛이 좋아요[이번 휴게소가 경치가 좋은데 같이 경치 구경하면서 대화해요].  
 乙(남) : 그래요. 이번 휴게소에서 커피 먹고 가요[빨리 집에 도착해서 쉬고 싶은데].

- ① 인간은 상황 정의에 기초하여 행동한다.
- ② 인간은 자율성을 지닌 능동적인 존재가 아니다.
- ③ 가족의 행위에 영향을 주는 사회제도에 주목한다.
- ④ 가족은 갈등과 불평등을 재생산한다.

2. 다음 (가), (나)에 사용된 연구 방법의 일반적인 특징으로 가장 적절한 것은?

(가)  
 • 연구 주제 : ○○지역 사회에서 발생하는 폭력의 종류와 빈도  
 • 연구 대상 : ○○지역 주민을 대표하는 표본 350명  
 • 연구 시기 : 2015. 2. 14. 10:00 - 11:00  
 • 자료 수집 : 일정한 시간과 장소에서 연구 대상을 설문 조사함  
 (나)  
 • 연구 주제 : ○○지역 사회에서 발생하는 폭력의 의미  
 • 연구 대상 : ○○지역의 우범자 5명  
 • 연구 시기 : 2014. 2. 14. - 2015. 2. 14.  
 • 자료 수집 : 연구자가 연구대상과 같이 생활하며 행동을 관찰하고 기록함

- ① (가)는 귀납적 과정을 통해 통찰적으로 자료를 해석한다.
- ② (가)는 연구자와 연구 대상자 간 정서적 교감을 중시한다.
- ③ (나)는 사회·문화 현상을 심층적으로 이해한다.
- ④ (나)는 사회 현상은 자연 현상과 본질적으로 동일하다고 가정한다.

3. 다음은 범죄의 원인을 바라보는 甲과 乙의 관점이다. 이에 대한 분석으로 가장 적절한 것은?

甲 : 현대 범죄가 날로 증가하는 이유는 친구뿐만 아니라 SNS나 대중 매체를 통해 사람들이 범죄를 더 쉽게 접할 수 있게 되고 이 과정에서 범죄를 배우게 되기 때문이다.  
 乙 : 한 번 범죄를 저질러 전과자가 되는 경우 재범죄율이 높아지는 사실이 밝혀졌다. 처음 범죄는 충동적으로 일어날 수 있지만, 일단 범죄로 인해 전과자가 되면 가정이나 지역사회에서 범죄자로 인식되게 되고 이것은 한 번 전과자가 된 사람들의 자아가 부정적으로 형성되어 재범죄로 이어지게 되기 때문이다.

- ① 甲은 범죄 자체보다 그에 대한 사회적인 평가가 문제라고 본다.
- ② 甲은 자신의 목표와 이를 달성하기 위한 제도적 수단의 불일치에 원인이 있다고 본다.
- ③ 乙은 범죄는 자신의 행위에 대한 타인의 부정적 시각을 내재화한 결과라고 본다.
- ④ 乙은 범죄에 대한 대책으로 기회의 균등을 위한 제도적 보완을 강조할 것이다.

4. 다음 밑줄 친 ㉠-㉣에 대한 설명으로 가장 적절하지 않은 것은?

甲은 ㉠ ○○경찰서에 근무하는 ㉡ 경찰관이다. 자신의 현재 직업에 대한 만족도는 높지만 어렸을 적 꿈이 축구선수였기 때문에 축구도 좋아한다. 그래서 甲은 ㉢ 직장에 있는 축구 동아리에 가입하여 ㉣ 공격수를 맡고 있다. 부서는 다르지만 같이 축구를 좋아하는 사람들과의 만남은 즐겁기만 하다.

- ① ㉠과 ㉡은 공식조직이다.
- ② ㉢과 ㉣은 甲의 성취지위이다.
- ③ ㉠과 ㉡은 서로 상호 작용을 한다.
- ④ ㉢은 ㉠에 부정적 영향을 미치기도 한다.

5. 다음은 교육의 기능에 대한 상반된 관점이다. <보기>에서 가장 적절하게 분석한 것은?

영어 실력이 우수한 근로자들은 그렇지 않은 경우보다 높은 연봉을 받는 것으로 조사되었다. 한국개발연구원은 토익 점수가 1점 상승할 때마다 연봉이 16,000원 오르는 것으로 조사되었다고 밝혔다. 또한 영어 능력을 갖춘 조사 대상은 영어가 필요한 직군이건 아니건 상대적으로 높은 연봉을 받는 것으로 조사되었다.  
 - 한겨레, 2012. 6. 4. -  
 甲 : 영어 시험으로 증명된 개인의 학습 능력과 실력 차이가 직장에서 연봉 차이로 나타나는 거예요.  
 乙 : 어렸을 때부터 영어를 접할 수 있는 가정환경이 영어 성적과 높은 연봉을 받는 직장 선택에 영향을 주었을 거예요.

<보 기>

- ㉠ 甲은 교육이 사회 이동을 가능하게 하여 사회 불평등을 완화하는 기능을 수행한다고 한다.
- ㉡ 乙은 교육이 기득권층의 논리와 가치를 수용하여 사회 불평등을 강화하는 기능을 수행한다고 한다.
- ㉢ 甲의 주장은 교육에 대한 접근 기회의 평등을 넘어 교육의 결과까지 평등해야 한다는 결과의 평등과 연관된다.
- ㉣ 乙의 주장은 성별, 인종, 지역, 가정환경 등과 상관없이 동등하게 교육을 받을 수 있는 기회의 평등과 연관된다.

- ① ㉠, ㉡      ② ㉠, ㉢      ③ ㉢, ㉣      ④ ㉡, ㉣

6. 다음은 다양한 사회 보장 제도 유형들이다. 다음 유형들에 대한 설명으로 가장 적절하지 않은 것은?

甲 : 저는 젊은 시절에 경제적으로 어려워 보험료를 납부하지 못해서 현재 아무런 연금 혜택도 받지 못하고 있어요. 하지만 어려운 상황에 처해 있는 저와 같은 노인도 이제 보험료 납부와 관계없이 일정한 소득을 보장받을 수 있게 되었어요.  
 乙 : 건강보험공단으로부터 건강 검진 통지서를 받았어요. 저는 2년마다 한 번씩 건강 검진을 받으며 건강을 관리하고 있는데 건강 진단부터 기초적인 암 검사까지 모두 무료예요. 몇 년 전 부모님이 암 수술을 하했을 때에는 국가에서 보험금을 지급해 주어 부담이 한결 줄었어요.  
 丙 : 제 꿈은 자동차 정비사가 되는 것입니다. 자동차 정비 기술을 배우려면 학원을 다녀야 하는데 경제적으로 어려워 다니지 못하고 있었어요. 그런데 ○○사에서 운영하는 직업학교가 있어 지금은 이곳에서 무료로 기술을 배우고 있어요.

- ① 甲의 비용은 국가와 지방자치단체가 부담한다.
- ② 乙의 비용은 수혜 정도에 따라 비용을 차등 부담한다.
- ③ 丙의 서비스는 민간기관에 의해서도 제공된다.
- ④ 甲과 乙에 대해서는 금전적 지원을 원칙으로 한다.

7. 다음은 문화에 대한 관점이다. 그에 따른 특징으로 <보기>에서 선택한 것이 가장 적절한 것은?

우리는 자신의 윤리, 도덕, 가치 등을 인간 모두가 공유하는 보편적인 것이라고 믿는다. 그렇기 때문에 그에 따라 사고하고 행동하는 것을 당연하게 생각하고 다른 사람들도 우리 방식대로 세상을 바라보며 살고 있다고 확신하며 심지어 다른 사람들에게 우리처럼 행동할 것을 요구하기도 한다. 하지만 문화의 내용은 누구나 공유하는 보편적인 것이 아니며 각각의 인간 집단이 처해 있는 특수한 환경과 상황, 또는 주변의 다른 집단과 교류하면서 오랜 기간에 걸쳐 축적된 결과물이기 때문에 그 나름대로의 가치를 지니고 있다. 따라서 어떤 문화를 제대로 이해하고 해석 한다는 것은 그 문화가 생겨난 특수한 사회적 상황이나 배경, 그리고 그 안에서 살아가는 사람들의 특수한 역사적 경험을 그 맥락 속에서 이해하는 것이다.

- 한국 문화 인류학회, 「낯선 곳에서 나를 만나다」 -

< 보 기 >

- ㉠ 문화의 장단점을 객관적으로 이해한다.
- ㉡ 인류의 보편적 가치보다 문화의 특수성을 존중한다.
- ㉢ 국가 간 문화적 마찰을 감소시킨다.
- ㉣ 문화적 다양성이 보존되는 기능을 한다.
- ㉤ 문화의 양적 발전보다 질적 발전을 강조한다.

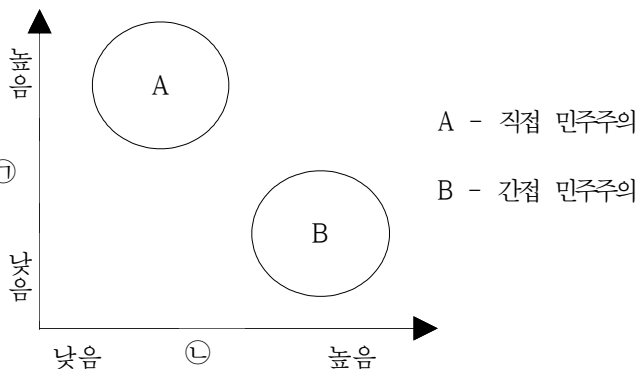
- ① ㉠, ㉡      ② ㉠, ㉢      ③ ㉡, ㉣      ④ ㉢, ㉤

8. 우리나라 정부는 대통령제를 채택하면서 의원내각제적인 요소를 도입한 정부형태상의 특징을 갖고 있다. 다음 중 우리나라에서 도입한 의원내각제적인 요소를 모두 고른 것은?

- ㉠ 국무총리제
- ㉡ 대통령의 법률안 거부권
- ㉢ 국회의원의 국무위원 겸직허용
- ㉣ 행정부의 법률안 제출권

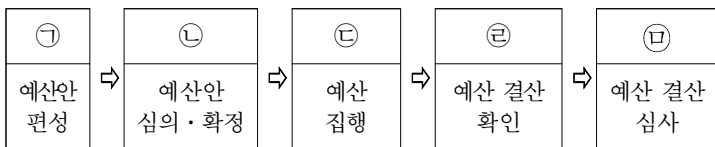
- ① ㉠, ㉡      ② ㉢, ㉣  
③ ㉠, ㉡, ㉣      ④ ㉠, ㉢, ㉣

9. 다음은 직접 민주주의와 간접 민주주의를 비교하는 그래프이다. 이중 ㉠에 들어갈 기준으로 가장 적합한 것은?



- ① 중우정치의 가능성      ② 정책결정과정의 효율성  
③ 정치적 관심의 정도      ④ 자치원리의 충실성

10. 다음은 우리나라의 예산과정을 표시한 그림이다. 국회가 주요 역할을 수행하는 단계를 모두 고른 것은?



- ① ㉠, ㉡      ② ㉡, ㉢      ③ ㉡, ㉣      ④ ㉢, ㉤

11. 다음의 목적을 갖는 조직은 어떤 조직에 가장 가까운가?

우리 조직은 노동자의 권리향상과 삶의 질을 개선하기 위한 사업을 추진한다.

- ① 이익집단      ② 정당      ③ 공익단체      ④ 지역단체

12. 다음 소년 사건 처리로 가장 적절하지 않은 것은?

甲(만 17세)은 乙(만 15세)을 주먹으로 폭행하였다. 이 과정에서 乙이 배 부위를 맞고 쓰러져 119구조대에 의해 인근 병원으로 옮겨졌으나 다행히 큰 상해는 입지 않았다.

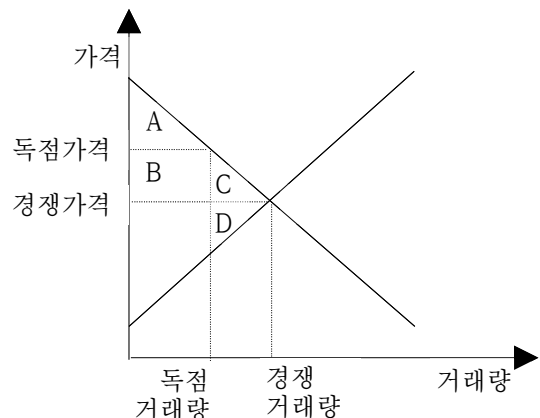
- ① 형사 처분에 관한 특별 조치를 할 수 있다.  
② 검사는 처분 결정하기에 앞서 결정 전 조사를 할 수 있다.  
③ 검사는 조건부 기소유예 처분을 할 수 있다.  
④ 법원소년부에서 형사 처벌을 할 수 있다.

13. 다음은 결혼과 이혼에 관한 지문이다. ㉠-㉤ 중에서 옳은 것을 고른 것으로 가장 적절한 것은?

- 소꿉친구였던 甲(만 18세)군과 乙(만 18세)양은 자라면서 사랑하는 사이로 발전했다. 두 사람은 결혼을 약속했고 혼인 신고를 하기 위해 구청에 갔지만 구청 직원은 ㉠ “만 18세이면 부모나 후견인의 동의가 필요하다.” 라고 돌려보냈다. 그들은 결국 ㉡ 甲 부모가 동의하지 않았지만, 乙 부모의 동의를 얻어 혼인 신고를 하였다.
- 결혼 6년 차인 丙(만 42세)군과 丁(만 36세)양은 결혼 생활 중에 서로 다툼이 자주 생겼고 결국 서로 이혼을 결심했다. 우선 이들은 결혼 생활 중 취득한 재산에 대해 분할하고 만 5세 아들이 있었기에 ㉢ 양육자를 丙으로 정하고, 丁의 면접교섭의 시기와 장소 등을 정했다. 그 후 ㉣ 구청에 협의이혼을 신청하여 신청일 당일부터 이혼 상태가 되었다.

- ① ㉠, ㉢      ② ㉠, ㉣      ③ ㉡, ㉢      ④ ㉡, ㉣

14. 다음은 독점시장에 대한 그래프이다. 이 그래프를 보고 독점에 의해 손실되는 사회적 잉여를 선택한 것으로 가장 옳은 것은?



- ① A, B, C      ② A, B  
③ C, D      ④ A, B, C, D

