

제 4 교시

사회탐구 영역 (경제)

성명 수험 번호 2 제 [] 선택

1. 밑줄 친 ㉠, ㉡에 대한 설명으로 옳은 것은?

㉠ ○○도자기는 단 한 점밖에 없고, 소장하려는 사람들이 많아 매우 비싸다. 시중에는 ○○도자기의 ㉡ 복제품이 저렴한 가격에 대량으로 거래되고 있다.

- ① ㉠은 경제재, ㉡은 공공재이다.
- ② ㉠은 ㉡에 비해 희소성이 크다.
- ③ ㉠은 ㉡에 비해 공급량이 많다.
- ④ ㉡은 ㉠에 비해 희귀성이 크다.
- ⑤ ㉠과 ㉡의 공급 곡선은 모두 수평이다.

2. 다음은 시장 실패를 개선하기 위한 방안이다. 두 사례의 공통점으로 가장 적절한 것은?

○ ○○중고차 회사는 자동차를 판매한 이후에도 일정 기간 동안 무상 수리를 보장하여 품질을 보증한다.
○ □□국은 모든 병원의 수술 실적과 부작용 사례를 발표하여 환자들이 양질의 의료 서비스를 선택하도록 유도한다.

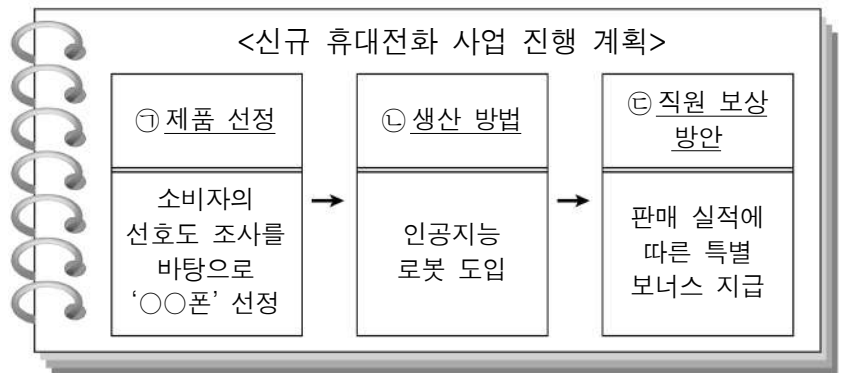
- ① 외부 경제를 해소하기 위한 방안이다.
- ② 정보의 비대칭성을 극복하기 위한 방안이다.
- ③ 계층 간 소득 불평등을 해소하기 위한 방안이다.
- ④ 독과점 시장에서 나타나는 문제를 해결하기 위한 방안이다.
- ⑤ 이익집단의 정치적 압력으로 인한 문제를 해결하기 위한 방안이다.

3. 밑줄 친 ㉠으로 인한 변화로 옳은 것은? (단, X재~Z재는 모두 수요와 공급 법칙을 따른다.) [3점]

○ X재는 Y재와 Z재의 연관재이다.
○ X재 가격이 하락하면 Y재 수요는 감소한다.
○ X재 가격이 하락하면 Z재 수요는 증가한다.
○ X재 시장의 ㉠ 공급자 수가 감소하였다.

- ① X재의 공급은 증가한다.
- ② X재의 균형 가격은 하락한다.
- ③ Y재의 균형 가격은 상승한다.
- ④ Y재의 균형 거래량은 감소한다.
- ⑤ Z재의 판매 수입은 증가한다.

4. 밑줄 친 ㉠~㉣에 나타나는 기본적인 경제 문제에 대한 옳은 설명만을 <보기>에서 고른 것은? [3점]

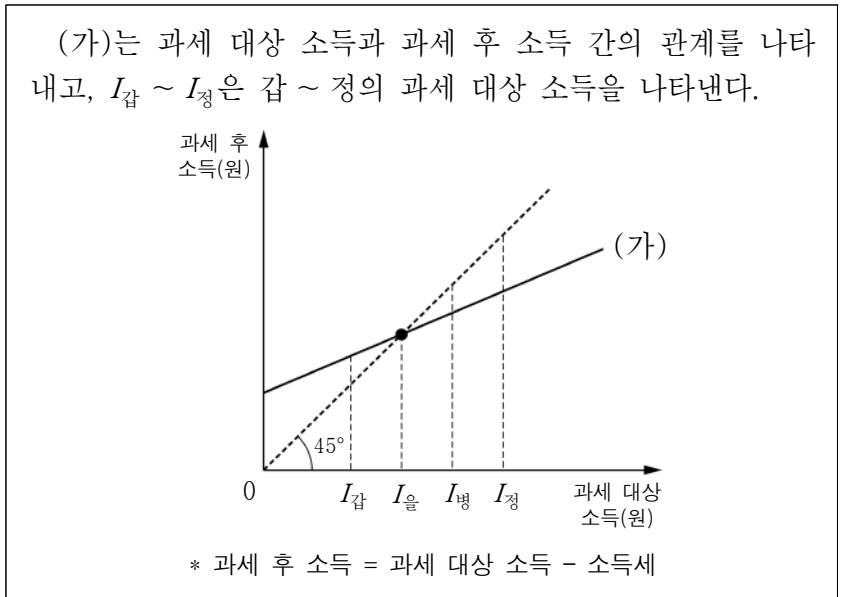


<보 기>

ㄱ. ㉠은 생산에 참여한 대가를 받는 활동이다.
 ㄴ. ㉡은 생산 요소를 선택하는 것에 관한 문제이다.
 ㄷ. ㉢은 '어떻게 생산할 것인가'에 해당하는 문제이다.
 ㄹ. ㉠~㉢은 모두 인간의 욕구에 비해 자원의 양이 한정되어 있기 때문에 발생하는 문제이다.

- ① ㄱ, ㄴ ② ㄱ, ㄷ ③ ㄴ, ㄷ ④ ㄴ, ㄹ ⑤ ㄷ, ㄹ

5. 다음 자료에 대한 옳은 분석만을 <보기>에서 고른 것은?



<보 기>

ㄱ. 갑은 정부로부터 경제적 지원을 받는다.
 ㄴ. 을의 과세 후 소득은 과세 대상 소득보다 많다.
 ㄷ. 병이 부담하는 소득세액은 정보다 적다.
 ㄹ. 병에게 적용되는 소득세율은 정보다 낮다.

- ① ㄱ, ㄴ ② ㄱ, ㄷ ③ ㄴ, ㄷ ④ ㄴ, ㄹ ⑤ ㄷ, ㄹ

경제

6. 그림의 (가)에 들어갈 수 있는 내용으로 옳은 것은? [3점]

경제 수행평가

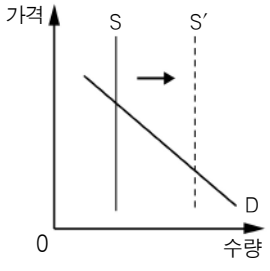
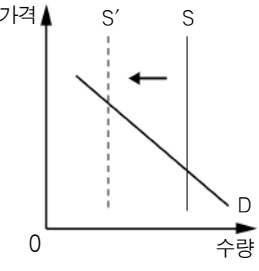
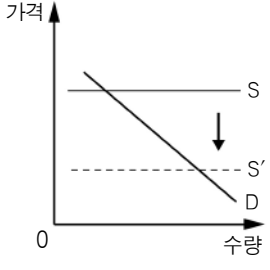
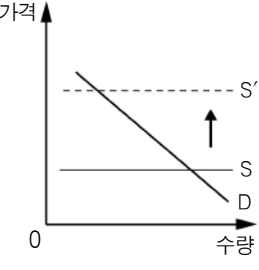
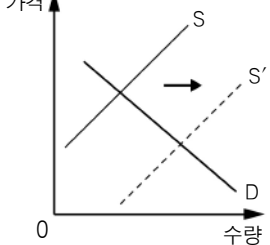
점수
20 / 20

이름: ○○○

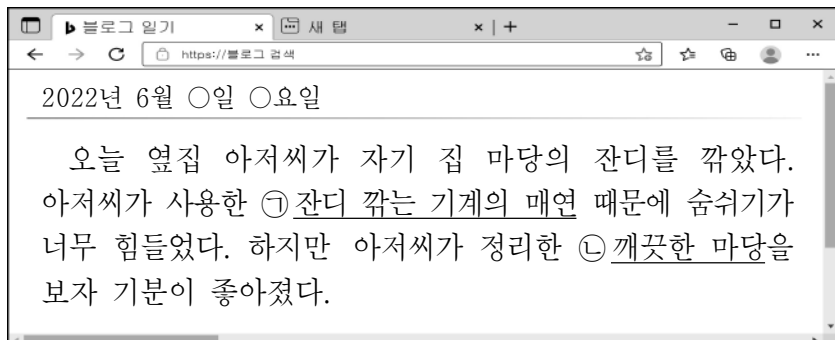
○ X재 시장의 특징
- X재의 가격이 상승하면 수요량은 감소한다.
- X재의 가격이 변동하더라도 공급량은 항상 일정하다.

○ 질문: X재의 생산 기술이 발전할 때 시장의 변동을 그래프로 나타내시오. [배점 20점]

○ 답안
_____ (가)

- ① 
- ② 
- ③ 
- ④ 
- ⑤ 

7. 그림은 갑의 일기 중 일부이다. 밑줄 친 ㉠, ㉡에 나타난 외부 효과에 대한 설명으로 옳은 것은?



- ① ㉠은 외부 경제, ㉡은 외부 불경제의 사례이다.
 ② ㉠의 경우는 자원이 효율적으로 배분된다.
 ③ ㉠의 경우는 사적 편익보다 사회적 편익이 크다.
 ④ ㉡의 경우는 시장 거래량이 사회적 최적 거래량보다 많다.
 ⑤ ㉡의 경우는 시장 가격이 사회적 최적 수준에서의 가격보다 낮다.

8. 다음 자료에 대한 옳은 분석만을 <보기>에서 고른 것은? [3점]

갑은 1년간 수영장을 이용하고자 1안과 2안 중 무엇을 선택할지 고민하고 있다. 연회비와 이용료는 환불되지 않으며 다른 조건은 고려하지 않는다.

- 1안: 연회비 50만 원, 1년간 무제한 이용 가능
- 2안: 연회비 30만 원, 1회 이용료 1만 원

<보 기>

ㄱ. 1안을 선택하는 경우 50만 원은 명시적 비용이다.
 ㄴ. 2안을 선택했을 때 지불한 30만 원은 매몰 비용이다.
 ㄷ. 1년간 50회 이용할 경우 순편익은 1안보다 2안이 크다.
 ㄹ. 1년간 100회 이용할 경우 2안을 선택하는 것이 합리적이다.

- ① ㄱ, ㄴ ② ㄱ, ㄷ ③ ㄴ, ㄷ ④ ㄴ, ㄹ ⑤ ㄷ, ㄹ

9. 다음 자료에 대한 옳은 분석만을 <보기>에서 고른 것은? [3점]

표는 X재의 생산량에 따른 이윤을 나타낸다. X재의 가격은 5만 원이며, 생산된 X재는 모두 판매된다.

생산량(개)	1	2	3	4
이윤(만 원)	0	4	7	6

* 이윤 = 총수입 - 총비용
 ** 평균 비용 = 총비용 / 생산량

<보 기>

ㄱ. 합리적인 생산량은 4개이다.
 ㄴ. 생산량이 1개일 때 총비용은 4만 원이다.
 ㄷ. 생산량이 2개일 때 평균 비용은 3만 원이다.
 ㄹ. 생산량을 3개에서 4개로 늘릴 때 추가되는 비용은 6만 원이다.

- ① ㄱ, ㄴ ② ㄱ, ㄷ ③ ㄴ, ㄷ ④ ㄴ, ㄹ ⑤ ㄷ, ㄹ

10. 밑줄 친 ㉠, ㉡에 대한 옳은 설명만을 <보기>에서 고른 것은?

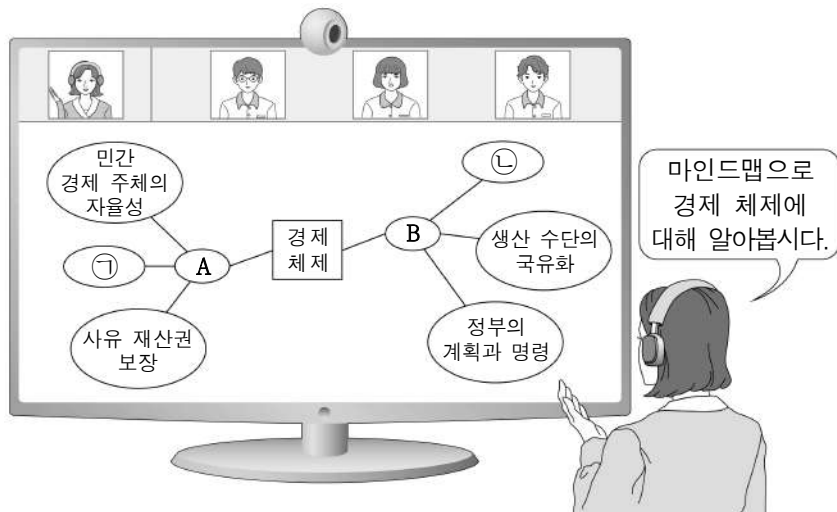
○○시는 모든 지하철역에서 누구나 이용할 수 있는 보조 배터리 ㉠ 무료 대여 서비스를 제공하였다. 이 서비스는 폭발적인 인기를 얻었으나 보조배터리 10개 중 4개꼴로 고장난 채 반납되었다. 결국 이 서비스는 시행 1년 만에 사용료를 받는 ㉡ 유료 대여 서비스로 전환되었다.

<보 기>

ㄱ. ㉠은 경합성을 갖는다.
 ㄴ. ㉠은 '공유지의 비극'이 발생할 수 있다.
 ㄷ. ㉡은 비배제성을 갖는다.
 ㄹ. ㉠, ㉡은 모두 무임승차자 문제가 발생할 수 있다.

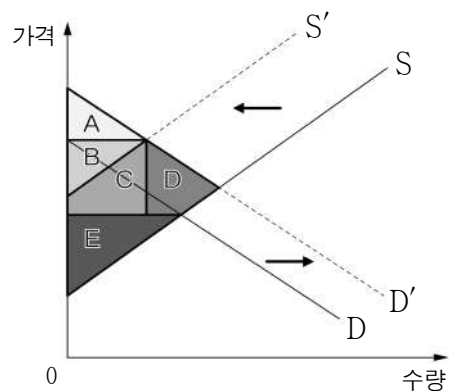
- ① ㄱ, ㄴ ② ㄱ, ㄷ ③ ㄴ, ㄷ ④ ㄴ, ㄹ ⑤ ㄷ, ㄹ

11. 그림은 온라인 수업의 장면이다. 이에 대한 설명으로 옳은 것은?
(단, A, B는 각각 계획 경제 체제, 시장 경제 체제 중 하나이다.)
[3점]



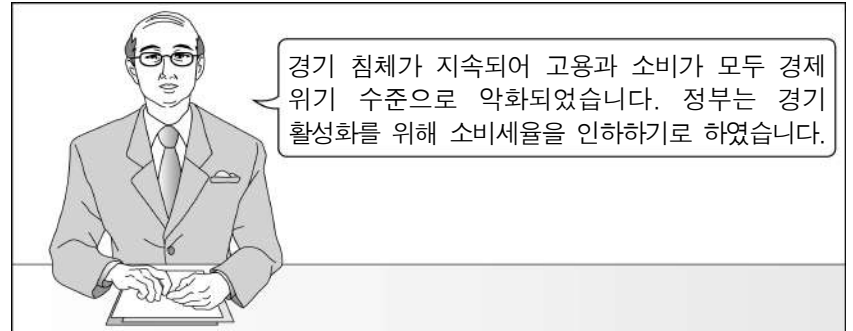
- ① A에서는 정부가 생산물의 수량과 종류를 결정한다.
- ② B에서는 전통과 관습에 따라 경제 문제를 해결한다.
- ③ A, B는 모두 기업 간 자유로운 경쟁을 강조한다.
- ④ '경제적 유인의 중시'는 ㉠보다 ㉡에 적합하다.
- ⑤ '보이지 않는 손의 기능 중시'는 ㉡보다 ㉠에 적합하다.

12. 그림은 X재 시장의 변화를 나타낸 것이다. 변화 이후의 소비자 잉여와 생산자 잉여를 그림에서 고른 것은?



- | | 소비자 잉여 | 생산자 잉여 |
|---|--------|--------|
| ① | A | B |
| ② | A | E |
| ③ | A+B | C+D |
| ④ | A+B | C+E |
| ⑤ | C+E | B |

13. 그림은 갑국의 경제 뉴스이다. 갑국 정부의 경제적 역할로 가장 적절한 것은? [3점]



- ① 소득 격차 완화
- ② 경제 안정화 유도
- ③ 생산 요소의 구입
- ④ 재화와 서비스의 구매
- ⑤ 사회 간접 자본의 확충

14. 그림의 (가)에 들어갈 내용으로 가장 적절한 것은?

2022학년도 1학기 경제 서술형 평가

2학년 △반 ○○○

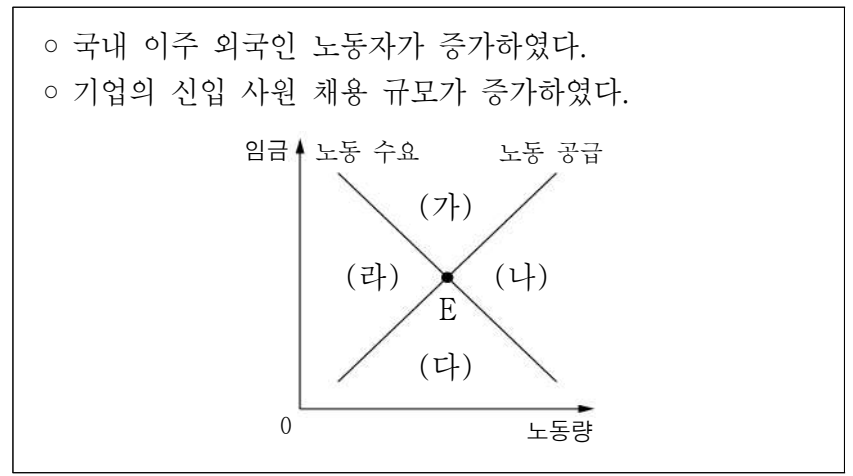
○ 문제: (가) (으)로 인해 나타나는 현상 3가지를 서술하십시오. [배점 30점]

1. 시장에서 초과 수요가 발생한다.
2. 총잉여는 균형 상태일 때보다 작다.
3. 시장 거래량이 균형 거래량보다 적다.

○ 채점 결과: 30 점

- ① 최고 가격제의 시행
- ② 분업과 특화에 의한 교환
- ③ 가격 기구에 의한 자원 배분
- ④ 특정 재화에 대한 세금 부과
- ⑤ 정부의 공공재 공급 확대 실시

15. 다음 자료와 같은 변화가 동시에 나타날 때, 노동 시장의 균형점 E가 이동할 영역으로 옳은 것은? [3점]



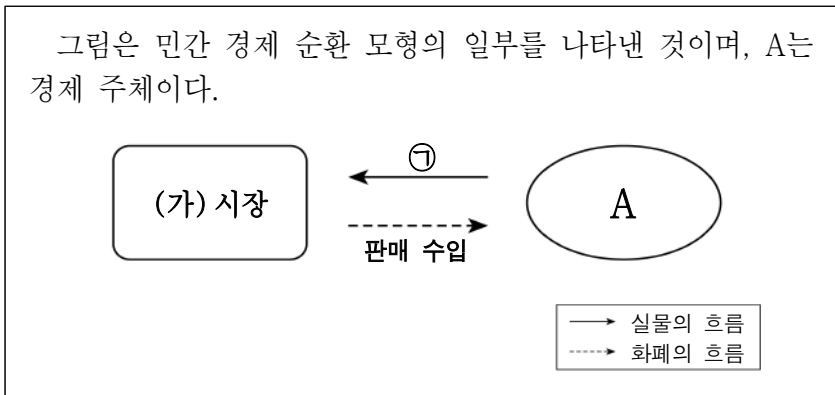
- ① (가) ② (나) ③ (다) ④ (라) ⑤ 불변

16. 갑, 을의 주장에 대한 설명으로 가장 적절한 것은?

- 사회자: 최근 공기업의 민영화에 대한 논란이 있습니다. 전문가의 의견을 들어보겠습니다.
- 갑: 공기업을 민영화하면 민간 기업 간의 담합으로 서비스의 질이 저하될 우려가 있으며, 공공재의 공급이 축소되거나 중단될 가능성이 있습니다.
- 을: 공기업의 비효율적인 경영으로 인해 생산성이 악화되고 있습니다. 공기업을 민영화하면 민간 기업 간 경쟁으로 생산성이 향상되고 기술이 발전하며, 정부의 재정 부담이 완화될 수 있습니다.

- ① 갑은 작은 정부를 지향해야 한다고 본다.
- ② 갑은 정부의 시장 개입이 공정한 경쟁 질서의 확립을 방해한다고 본다.
- ③ 을은 공기업의 민영화를 정부 실패의 개선 방안으로 제시한다.
- ④ 을은 정부의 시장 개입이 시장의 비효율적 자원 배분 문제를 해결한다고 본다.
- ⑤ 갑, 을 모두 정부의 시장 개입이 공공 서비스의 효율적 생산을 유도한다고 본다.

17. 다음 자료에 대한 설명으로 옳은 것은?



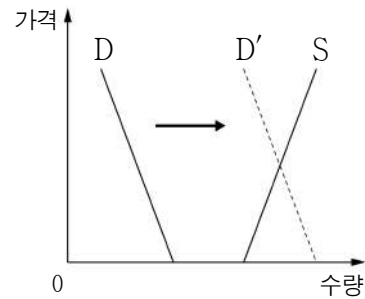
- ① 생산 요소는 (가) 시장에서 거래된다.
- ② 프로 야구팀의 유료 경기는 ㉠에 해당한다.
- ③ A는 사회적 후생 극대화를 추구한다.
- ④ A는 (가) 시장의 수요자이다.
- ⑤ A가 (가) 시장에 ㉠을 공급하는 것은 분배 활동이다.

18. 그림은 이번 주 갑이 해야 할 일이다. ㉠~㉥에 나타난 갑의 경제 활동에 대한 설명으로 옳은 것은?

이번 주 해야 할 일!	
㉠	거래처에 상품 배송하기
㉡	변호사에게 유류 법률 상담받기
㉢	월급 수령하기
㉣	마트에서 가족들을 위한 간식 구입하기
㉤	뮤지컬 관람하기

- ① ㉠은 소비 활동이다.
- ② ㉡은 부가 가치를 창출하는 활동이다.
- ③ ㉢은 생산물 시장에서 이루어지는 활동이다.
- ④ ㉣은 이윤 극대화를 목적으로 한 활동이다.
- ⑤ ㉤은 효용 극대화를 목적으로 한 활동이다.

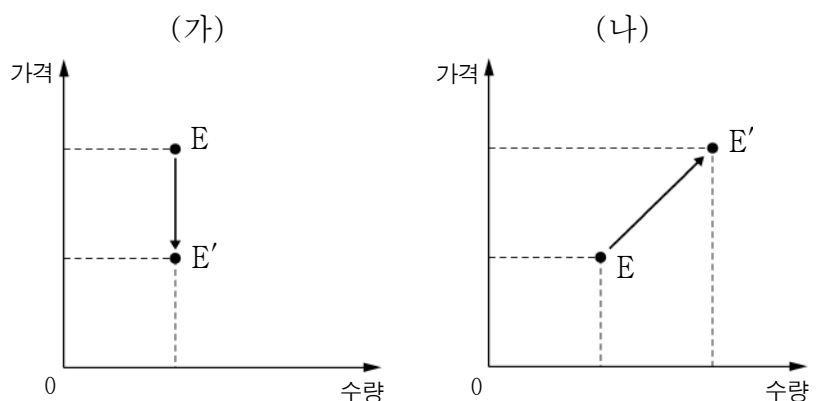
19. 그림은 X재 시장의 변동을 나타낸 것이다. 이에 대한 옳은 설명만을 <보기>에서 고른 것은? [3점]



- <보기>
- ㄱ. 변동 이전의 X재는 수요 법칙을 따른다.
 - ㄴ. 변동 이전의 X재는 효용을 얻을 수 없는 재화이다.
 - ㄷ. 변동 이후의 X재는 시장에서 거래되는 재화로 변화했다.
 - ㄹ. 변동 이후의 X재는 모든 가격 수준에서 공급량이 수요량보다 많다.

- ① ㄱ, ㄴ ② ㄱ, ㄷ ③ ㄴ, ㄷ ④ ㄴ, ㄹ ⑤ ㄷ, ㄹ

20. 그림 (가), (나)는 X재 시장에서 균형점의 변화를 나타낸다. 이에 대한 옳은 분석만을 <보기>에서 고른 것은? (단, X재는 수요와 공급 법칙을 따른다.) [3점]



- <보기>
- ㄱ. (가)는 수요의 변동만으로 나타난다.
 - ㄴ. (가)의 경우 X재 판매 수입이 감소한다.
 - ㄷ. 수요자가 X재 가격의 상승을 예상할 경우 (나)가 나타날 수 있다.
 - ㄹ. X재의 생산 요소 가격이 상승할 경우 (가), (나)가 모두 나타날 수 있다.

- ① ㄱ, ㄴ ② ㄱ, ㄷ ③ ㄴ, ㄷ ④ ㄴ, ㄹ ⑤ ㄷ, ㄹ

* 확인 사항
○ 답안지의 해당란에 필요한 내용을 정확히 기입(표기)했는지 확인 하시오.