

제 4 교시

사회탐구 영역(세계지리)

성명

수험 번호



전라북도교육청

1. (가), (나) 지도에 대한 설명으로 옳은 것은?

(가)

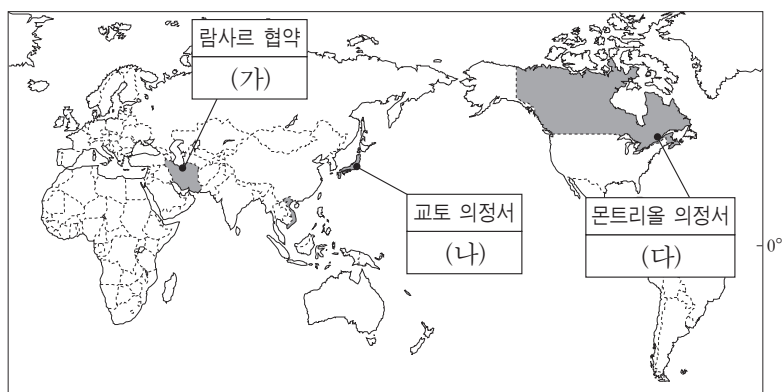


(나)



- ① (가)는 지도의 위쪽이 동쪽이다.
- ② (나)는 크리스토프 세계관이 반영되어 있다.
- ③ (가)는 (나)에 비해 제작 시기가 늦다.
- ④ (가)와 (나)는 지도 투영법을 바탕으로 제작되었다.
- ⑤ (가)는 국가, (나)는 개인이 제작을 주도하였다.

2. 다음은 국제 환경 협약을 정리한 것이다. (가)~(다)에 들어갈 내용으로 적절한 것을 <보기>에서 고른 것은?



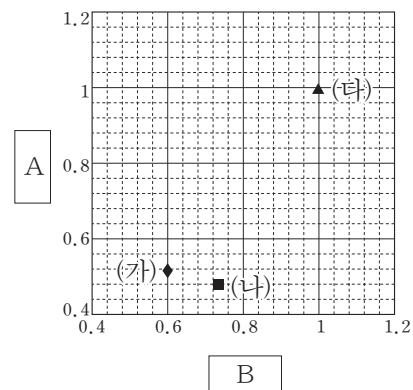
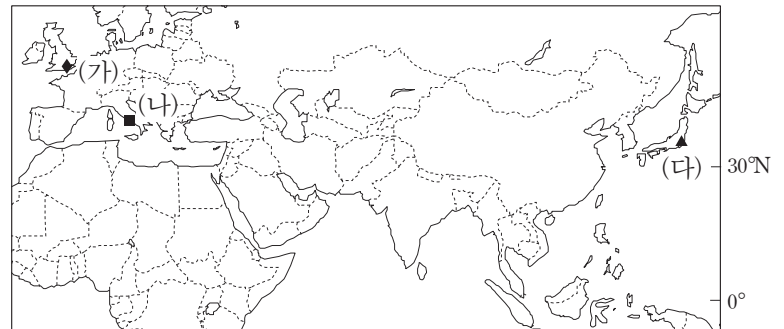
<보 기>

- ㄱ. 오존층 보호를 위해 염화플루오린화탄소의 사용 규제를 명시함.
- ㄴ. 온실가스 감축에 대해 구체적으로 제시하고 온실가스 배출권 거래제를 도입함.
- ㄷ. 생태적·사회적·경제적·문화적으로 커다란 가치를 지니고 있는 습지를 보존하기로 함.

(가) (나) (다)

- ① ㄱ ㄴ ㄷ
- ② ㄱ ㄷ ㄴ
- ③ ㄴ ㄷ ㄱ
- ④ ㄷ ㄱ ㄴ
- ⑤ ㄷ ㄴ ㄱ

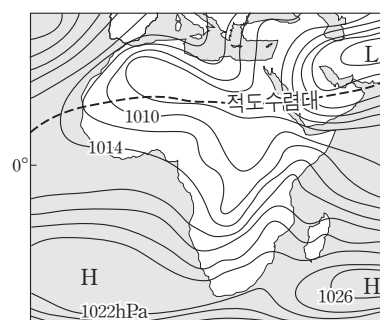
3. 그래프는 지도에 표시된 (가)~(다) 지역의 상대적 기후 특징을 나타낸 것이다. A, B에 들어갈 내용으로 옳은 것은? (단, 그래프는 (다)의 기후 값을 1로 했을 때의 상대적 크기를 나타낸 것임.) [3점]



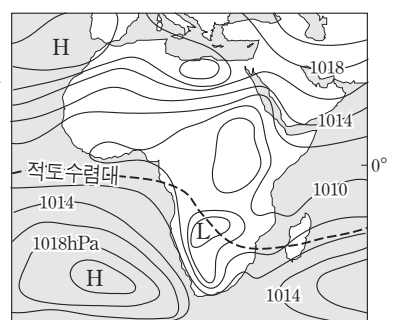
- | A | B |
|--------------|------------|
| ① 연 강수량 | 기온의 연교차 |
| ② 연평균 기온 | 최한월 평균 기온 |
| ③ 기온의 연교차 | 연평균 기온 |
| ④ 최한월 평균 기온 | 강수의 여름 집중률 |
| ⑤ 강수의 여름 집중률 | 연 강수량 |

4. (가), (나) 시기 북반구 각 지역에 나타난 현상으로 옳은 것을 <보기>에서 고른 것은? (단, 1월과 7월만 고려함.) [3점]

(가)



(나)

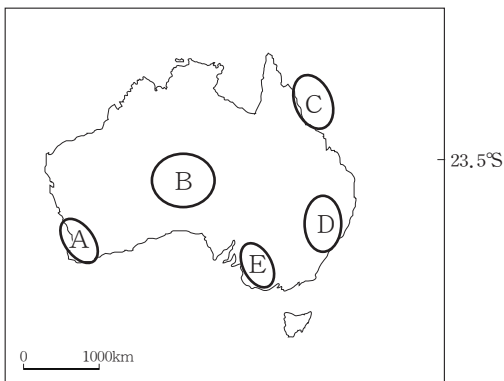


<보 기>

- ㄱ. (가) 시기 고위도 지역은 백야 현상이 나타난다.
- ㄴ. (가) 시기 온대 계절풍 기후 지역은 해양 기단의 영향을 주로 받는다.
- ㄷ. (나) 시기 지중해성 기후 지역은 고온건조한 날씨가 지속된다.
- ㄹ. 사바나 기후 지역은 (가) 시기보다 (나) 시기의 강수량이 많다.

- ① ㄱ, ㄴ ② ㄱ, ㄷ ③ ㄴ, ㄷ ④ ㄴ, ㄹ ⑤ ㄷ, ㄹ

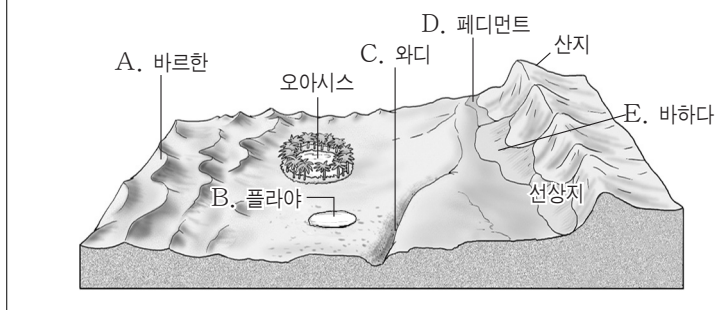
5. 지도의 A~E에 대한 설명으로 옳은 것은?



- ① A는 해안에 대보초가 나타난다.
 ② B는 지구의 배꼽으로 알려진 울루루 바위가 있다.
 ③ C는 지각이 갈라지면서 형성된 해령이 발달한다.
 ④ D는 한류의 영향으로 형성된 사막이 발달한다.
 ⑤ E는 기호작물을 재배하는 플랜테이션 농장이 발달한다.

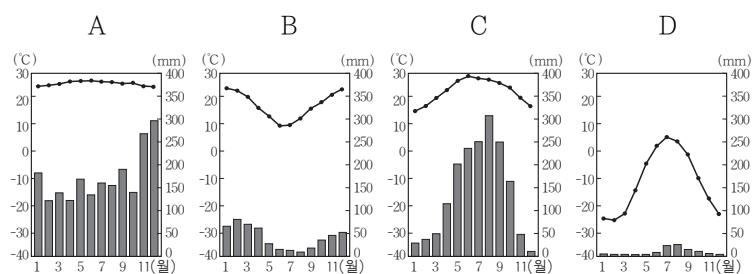
6. 다음 자료의 (가)에 들어갈 내용으로 옳은 것은?

교사: 건조 기후 지역의 지표는 연중 메말라 있고 식생이 빈약하여 바람의 작용으로 형성된 독특한 지형이 발달합니다. 그림에서 (가) _____은/는 이와 관련된 대표적 지형입니다.




- ① A ② B ③ C ④ D ⑤ E

7. 다음과 같은 퀴즈 장면에서 (가)에 들어갈 내용으로 옳은 것은? [3점]



문제: 위 그래프의 A~D 기후 지역 중
에서 ' (가) '라는 공통점이
있는 두 지역을 골라 쓰시오.

예, 갑 학생이 정답을
맞혔습니다!



- ① 유목이 주로 행해진다.
 ② 수목 기후로 분류된다.
 ③ 고상식 가옥이 건설된다.
 ④ 강수량에 비해 증발량이 많다.
 ⑤ 기온의 일교차에 비해 연교차가 크다.

8. 다음 글의 ㉠~㉤에 대한 옳은 설명을 <보기>에서 고른 것은?

빙하는 물과 마찬가지로 중력의 영향을 받아 높은 곳에서 낮은 곳으로 흐르며 침식과 퇴적 작용을 일으킨다. 빙하가 움직이는 속도는 매우 느리지만, 엄청난 무게 때문에 강한 침식력을 가지고 있다. ㉠ 빙식곡과 ㉡ 혼은 대표적인 빙하 침식 지형이다. 빙하가 운반해 쌓아 놓은 물질은 ㉢ 모레인이라고 한다. 빙하가 녹은 물이 흐르면서 토사를 퇴적 시킨 제방 모양의 지형인 ㉣ 에스커가 형성되며, 빙하 밑에 많은 퇴적물이 쌓일 경우 아주 평평하고 광활한 ㉤ 빙력토 평원이 형성된다.

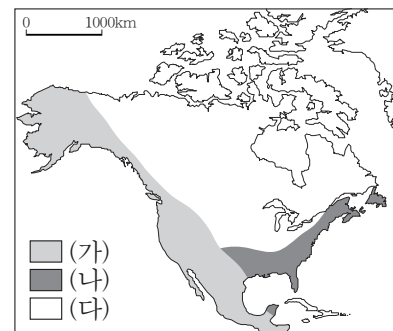
<보 기>

- ㄱ. ㉠은 V자 형태인 경우가 많다.
 ㄴ. ㉡은 뿔족한 산봉우리로 경사가 급하다.
 ㄷ. ㉢은 ㉤에 비해 퇴적물의 분급이 불량하다.
 ㄹ. ㉤은 비옥하여 주로 농경지로 이용된다.

- ① ㄱ, ㄴ ② ㄱ, ㄷ ③ ㄴ, ㄷ ④ ㄴ, ㄹ ⑤ ㄷ, ㄹ

9. 지도의 (가)~(다)에 대한 설명으로 옳은 것은? [3점]

<앵글로아메리카의 대지형>



- ① (가)에는 철광석, 석탄이 많이 매장되어 있다.
 ② (나)는 지진 및 화산 활동이 자주 발생한다.
 ③ (다)는 고생대 이후 조산 운동으로 형성되었다.
 ④ (가)는 (나)에 비해 평균 해발 고도가 높다.
 ⑤ (다)는 (나)에 비해 기복이 심하다.

10. 다음 자료의 (가)에 들어갈 내용으로 가장 적절한 것은?

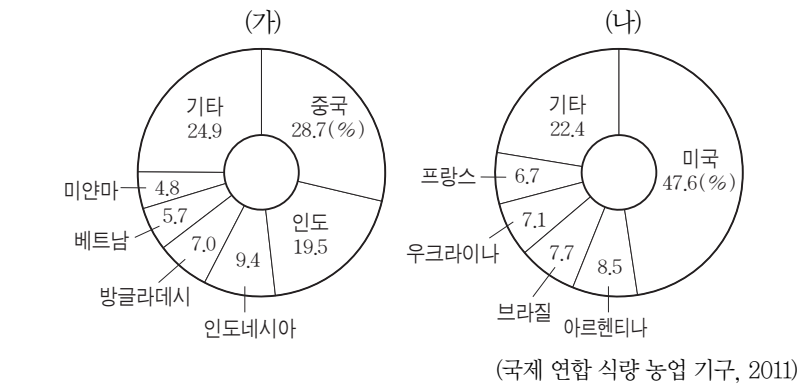
교사: 지도에 표시된 해안의 공통점을 말해 봅시다.



학생: _____ (가) _____

- ① 산호초가 발달합니다.
 ② 피오르 해안이 나타납니다.
 ③ 조류의 퇴적 작용이 활발합니다.
 ④ 맹그로브 숲이 많이 분포합니다.
 ⑤ 조정수역으로 어족 자원이 풍부합니다.

11. 그래프 (가), (나)의 제목으로 옳은 것은? (3점)



- (가)

① 쌀 수출 옥수수 수출

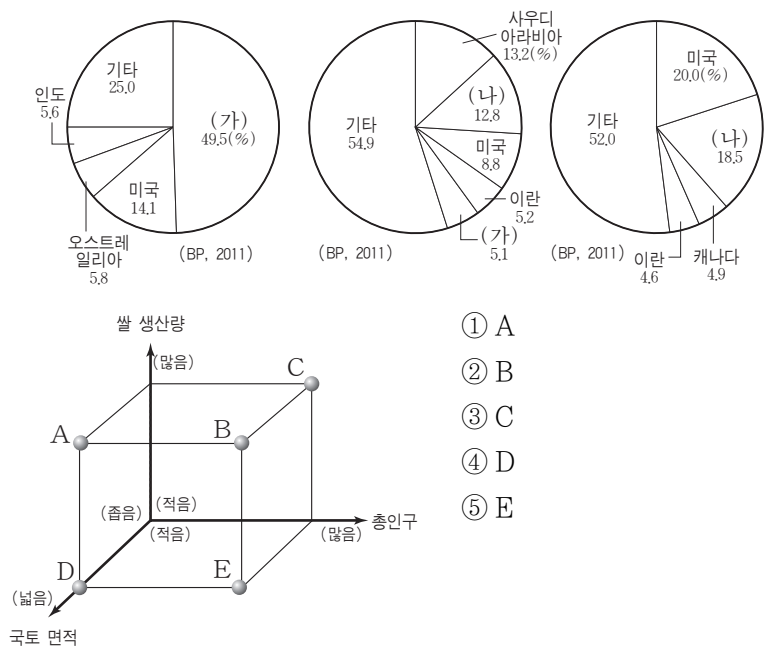
② 쌀 수출 옥수수 생산

③ 쌀 생산 옥수수 수출

④ 쌀 생산 옥수수 생산

⑤ 옥수수 생산 쌀 수출

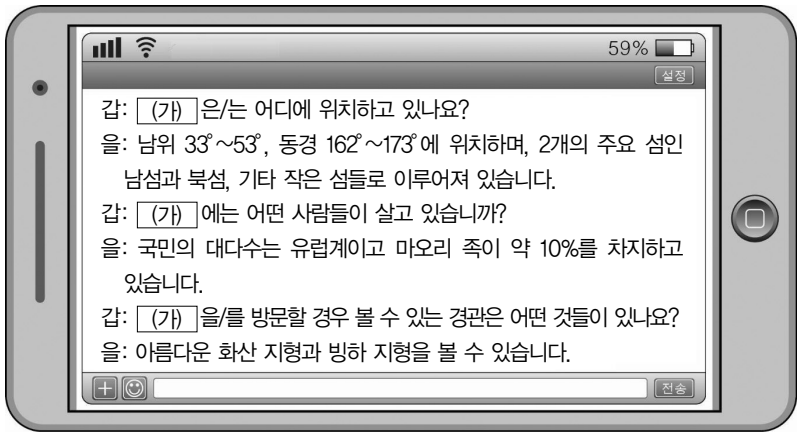
12. 그래프는 주요 화석 에너지의 국가별 생산 비중을 나타낸 것이다. (가) 국가에 대한 (나) 국가의 상대적 특징을 그림의 A~E에서 고른 것은?



▲(가) ■(나) ●(다)

① A
② B
③ C
④ D
⑤ E

13. 다음 자료의 (가) 국가에 대한 설명으로 옳은 것은? (3점)



- ① 북섬에 피오르가 발달한다.
② 영어를 공용어로 사용한다.
③ 우리나라보다 표준시가 늦다.
④ 지각판 경계에서 멀리 떨어져 있다.
⑤ 남섬의 남동부는 북서부보다 연강수량이 많다.

14. 다음 자료의 (가)~(다)에 들어갈 지역을 지도의 A~C에서 고른 것은?

학습 주제: 유럽의 주요 공업 지역

유형	특징	지역
전통 공업 지역	산업 혁명에 따른 석탄, 철광석의 원료 산지에 공업 발달	(가)
신흥 중화학 공업 지역	원료의 수입과 제품의 수출에 유리한 적한지에 중화학 공업 발달	(나)
첨단 산업 지역	공업 구조의 고도화로 지식 집약적 고부가가치 산업의 발달	(다)

0 500km

지중해

■ A □ B ● C

- (가) (나) (다)

① A B C

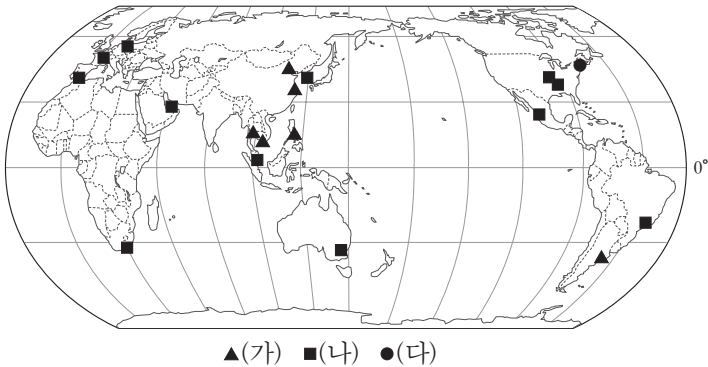
② A C B

③ B A C

④ B C A

⑤ C B A

15. 지도는 어느 다국적 기업 조직의 분포를 나타낸 것이다. (가)~(다)의 기능으로 옳은 것은?



- (가) (나) (다)

① 생산 기능 업무관리 기능 판매 기능

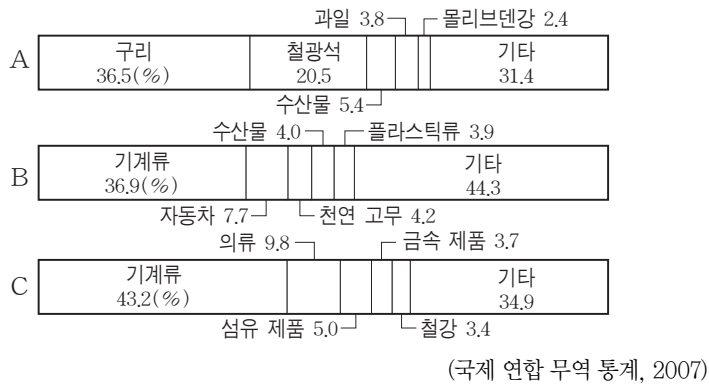
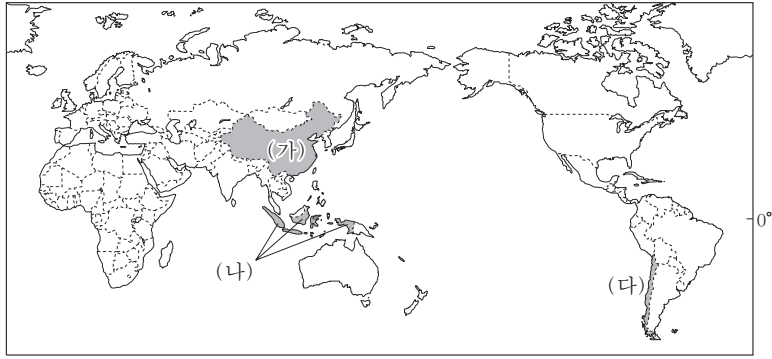
② 생산 기능 판매 기능 업무관리 기능

③ 판매 기능 업무관리 기능 생산 기능

④ 판매 기능 생산 기능 업무관리 기능

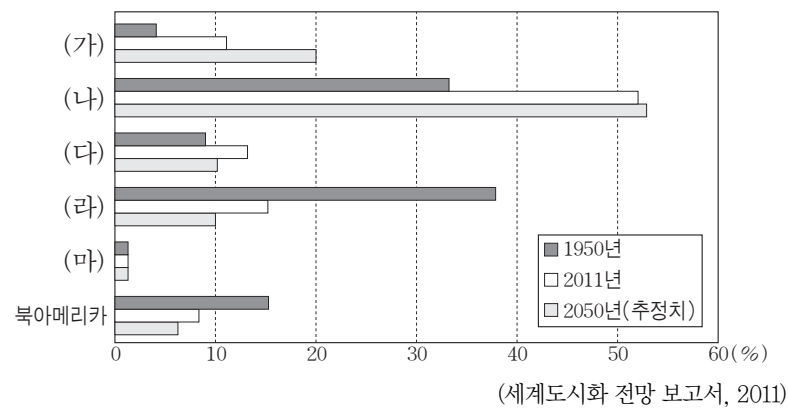
⑤ 업무관리 기능 판매 기능 생산 기능

16. 지도에 표시된 (가)~(다) 국가의 주요 수출 품목별 수출액 비율을 그래프의 A~C에서 고른 것은? [3점]



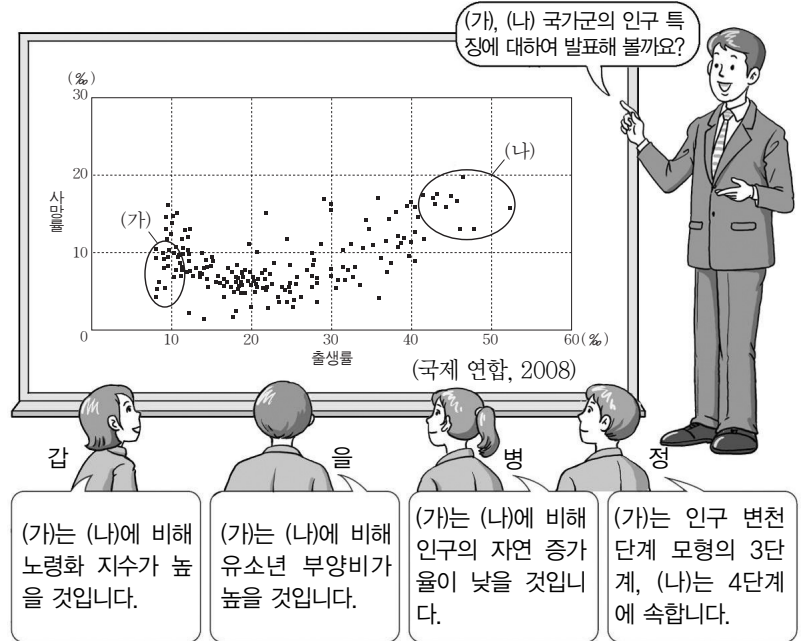
- | | (가) | (나) | (다) |
|---|-----|-----|-----|
| ① | A | B | C |
| ② | A | C | B |
| ③ | B | A | C |
| ④ | B | C | A |
| ⑤ | C | B | A |

17. 그래프는 세계 도시 총인구에서 각 지역의 도시 인구가 차지하는 비율을 나타낸 것이다. (가)~(마)에 해당하는 지역으로 옳은 것은? [3점]



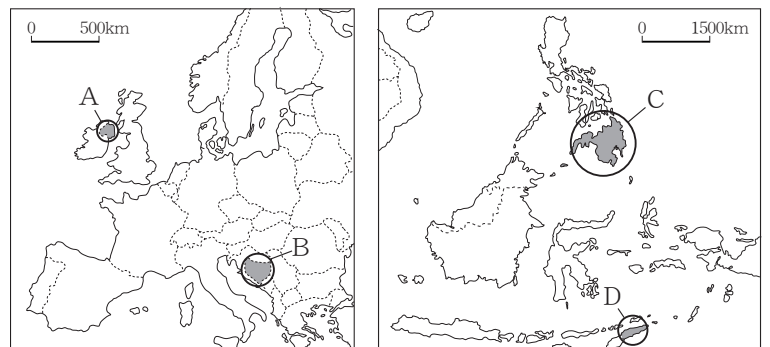
- | | |
|-------------------|--------------|
| ① (가) - 아시아 | ② (나) - 아프리카 |
| ③ (다) - 오세아니아 | ④ (라) - 유럽 |
| ⑤ (마) - 중·남부 아메리카 | |

18. 다음 자료에서 교사의 질문에 옳게 대답한 학생을 고른 것은?



- ① 갑, 을 ② 갑, 병 ③ 을, 병 ④ 을, 정 ⑤ 병, 정

19. 지도의 A~D는 공통적으로 어떤 종교와 관련된 분쟁 지역을 나타낸 것이다. 이 종교에 대한 설명으로 옳은 것은? [3점]



- ① 대표적 종교 경관으로 사리가 봉안된 탑이 해당된다.
- ② 서남아시아에서 기원하였으며 돼지고기와 술을 금기시한다.
- ③ 다양한 신을 숭배하며 카스트 제도와 밀접하게 관련되어 있다.
- ④ 신을 숭배하지 않으며 깨달음을 통한 해탈을 중요하게 여긴다.
- ⑤ 라틴아메리카가 앵글로아메리카보다 지역 내 신자 수 비중이 높다.

20. 다음 자료의 (가)~(다) 인종(민족)에 대한 설명으로 옳은 것은?

[3점]



- ① (가)의 조상들은 아프리카에서 강제 이주되었다.
- ② (나)의 조상들은 고대 잉카 문명을 발달시켰다.
- ③ (다)의 조상들은 라틴아메리카에 크리스티교를 전파시켰다.
- ④ (가)는 (나)에 비해 라틴아메리카에서 사회적 지위가 높다.
- ⑤ (다)는 (가)와 (나) 간 혼혈에 해당한다.

♣ 확인 사항

답안지에 필요한 사항을 정확히 기입(표기)하였는지 확인하시오.