

제 4 교시

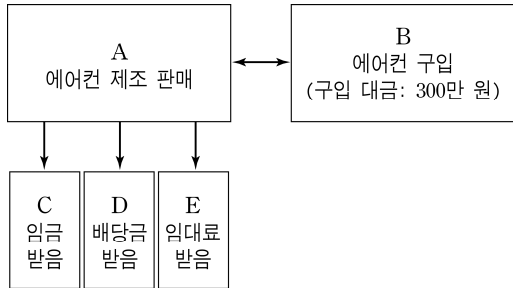
사회탐구 영역(경제)

성명

수험번호



1. 그림은 갑국의 국내 경제 주체 A~E 간에 이루어진 생산 요소 또는 생산물의 거래를 보여준다. 이에 대한 옳은 분석을 <보기>에서 고른 것은?



<보 기>

- ㄱ. A는 생산물 시장의 공급자, E는 생산 요소 시장의 공급자에 해당한다.
- ㄴ. B의 에어컨 구입으로 A가 얻은 이윤은 300만 원이다.
- ㄷ. C는 A에 노동을, D는 A에 자본을 제공하였다.
- ㄹ. D, E와 달리 C에게는 소득 재분배가 이루어졌다.

- ① ㄱ, ㄴ    ② ㄱ, ㄷ    ③ ㄴ, ㄷ    ④ ㄴ, ㄹ    ⑤ ㄷ, ㄹ

2. 표는 방학 중 gaps 할 수 있는 일을 정리한 것이다. 이에 대한 옳은 분석만을 <보기>에서 있는 대로 고른 것은? (단, gaps은 선택 대안 네 가지 중 하나만 선택할 수 있다.)

평가 기준	선택할 수 있는 대안				반영 비중 (%)
	아르바이트	여행	학업	봉사 활동	
자기 계발	3	2	4	1	40
삶의 질 향상	1	4	2	3	30
경제적 이익	4	1	3	2	15
사회적 기여	2	3	1	4	15

\* 대안에 표시된 숫자는 각 평가 기준에서 평가한 점수를 의미함  
 \*\* 각 평가 기준에 따른 반영 비중을 반영하여 그 합계 점수가 가장 큰 대안을 선택하는 것이 합리적 선택임

<보 기>

- ㄱ. gaps은 '자기 계발'을 가장 중요한 평가 기준으로 보고 있다.
- ㄴ. 반영 비중이 동일하다면 '봉사 활동'을 선택하는 것이 가장 합리적이다.
- ㄷ. '아르바이트'와 '여행' 선택의 기회비용은 같고, '학업'과 '봉사 활동' 선택의 기회비용은 다르다.
- ㄹ. '자기 계발' 40%, '삶의 질 향상' 60%만을 반영하더라도 합리적 선택의 결과는 동일하다.

- ① ㄱ, ㄷ    ② ㄴ, ㄷ    ③ ㄴ, ㄹ  
 ④ ㄱ, ㄴ, ㄹ    ⑤ ㄱ, ㄷ, ㄹ

3. 표는 갑국과 을국이 노트와 연필을 생산하는 데 각각 들어가는 비용을 조사한 것이다. 이에 대한 분석으로 옳은 것은? (단, 노동만을 생산 요소로 사용하며, 노동 생산성은 일정하다.) [3점]

상품	갑국	을국
노트 1단위	10달러	9달러
연필 1단위	12달러	8달러

- ① 갑국의 경우 노트 1단위 생산의 기회비용은 연필 6/5단위이다.
- ② 갑국은 연필 생산에, 을국은 노트 생산에 비교 우위가 있다.
- ③ 갑국은 노트 생산에, 을국은 연필 생산에 절대 우위가 있다.
- ④ 을국이 비교 우위 상품 2단위를 생산하여 그 중 1단위를 갑국의 비교 우위 상품과 1:1로 교환하면 1달러의 이익이 발생한다.
- ⑤ 갑국과 을국이 각자 비교 우위 상품에 특화하고, 연필과 노트를 1:1로 교환할 경우 갑국보다 을국의 이익이 더 크다.

4. 표는 갑 기업의 X재 생산량에 따른 총비용과 총수입을 나타낸다. 이에 대한 분석으로 옳지 않은 것은? (단, 생산된 X재는 모두 판매된다.)

(단위 : 개, 만 원)

생산량	1	2	3	4	5
총비용	3	6	9	15	21
총수입	4	8	12	16	20

- ① 생산량이 2개일 때 이윤은 2만 원이다.
- ② gaps 기업의 합리적인 생산량은 3개이다.
- ③ 생산 수준과 무관하게 X재의 시장 가격은 일정하다.
- ④ 생산량이 5개일 때 X재 1개당 생산 비용이 가장 크다.
- ⑤ 생산량이 1개씩 증가할 때마다 추가적으로 발생하는 이윤은 증가한다.


5. 표는 갑국과 을국의 소득세율 구조를 나타낸다. 이에 대한 설명으로 옳은 것은? [3점]

(단위 : %)

연간 소득	1만 달러 이하	1만 달러 초과 2만 달러 이하	2만 달러 초과 5만 달러 이하	5만 달러 초과 10만 달러 이하	10만 달러 초과
갑국	0	2	4	6	10
을국	2	3	4	5	6

- \* 갑국과 을국의 소득세액 계산의 예(연간 소득 : 5만 달러)  
 갑국 : (1만 달러×0%) + (1만 달러×2%) + (3만 달러×4%) = 1,400달러  
 을국 : (1만 달러×2%) + (1만 달러×3%) + (3만 달러×4%) = 1,700달러
- ① 갑국과 달리 을국의 소득세율은 세후 소득의 격차를 확대시킨다.
  - ② 을국과 달리 갑국은 누진세율을 채택하고 있다.
  - ③ 연간 소득이 3만 달러인 경우 세후 소득은 갑국과 을국이 같다.
  - ④ 연간 소득이 4만 달러에서 1만 달러 증가하면 소득세는 갑국이 을국보다 3백 달러 더 증가한다.
  - ⑤ 갑국과 을국 모두 연간 소득이 10만 달러 초과인 구간에서는 소득과 세액의 비례 관계가 나타난다.

6. 대화를 통해 자전거 시장의 변화를 옳게 추론한 것만을 <보기>에서 있는 대로 고른 것은? [3점]



<보 기>

- ㄱ. 갑의 예측대로 된다면 생산자 잉여는 증가한다.
- ㄴ. 을의 주장이 현실화되면 균형 가격은 하락하고 균형 거래량은 증가한다.
- ㄷ. 을의 주장이 현실화되었을 때 자전거 총판매 수입이 증가했다면 수요는 가격에 대해 탄력적이다.
- ㄹ. 갑의 예측과 을의 주장이 모두 현실화되면 시장의 균형 가격은 하락한다.

- ① ㄱ, ㄴ                      ② ㄱ, ㄹ                      ③ ㄷ, ㄹ
- ④ ㄱ, ㄴ, ㄷ                ⑤ ㄴ, ㄷ, ㄹ

7. 다음 자료를 근거로 변동 방향을 파악할 수 있는 고용 지표만을 <보기>에서 있는 대로 고른 것은?

- 15세 이상 인구는 변동이 없다.
- 비경제 활동 인구는 증가하고, 취업자는 감소하였다.

<보 기>

- ㄱ. 고용률                      ㄴ. 실업률
- ㄷ. 취업률                      ㄹ. 경제 활동 참가율

- ① ㄱ, ㄷ                      ② ㄱ, ㄹ                      ③ ㄴ, ㄷ
- ④ ㄱ, ㄴ, ㄹ                ⑤ ㄴ, ㄷ, ㄹ

8. 밑줄 친 주장을 토대로 파악한 수입 화장품의 특성으로 가장 적절한 것은?

수입 화장품 브랜드들이 원자재 가격 상승에 따라 일부 제품의 백화점, 면세점 판매 가격을 3~10% 인상하기로 했다. 그러나 업계에서는 수입 화장품 브랜드들이 1년에 한차례씩 주기적으로 가격을 인상하며 매년 원자재 가격 상승이나 환율 변동을 가격 인상 이유로 제시하는 것은 설득력이 없다고 반응했다. 오히려 매출과 영업 이익 등 실적을 개선하기 위한 목적이라고 지적했다.

- ① 수요 법칙이 성립하지 않는다.
- ② 대체재가 무수히 많이 존재한다.
- ③ 수요의 가격 탄력성이 비탄력적이다.
- ④ 특정 기업이 시장 공급을 독점한다.
- ⑤ 정상재가 아닌 열등재의 성격을 가진다.

9. 표는 갑국과 을국의 GDP 규모와 구성비 변화를 나타낸다. 이에 대한 설명으로 옳은 것은? [3점]

(단위: %)

구분		소비	투자	(가)	순수출	GDP (억 달러)
갑국	2014년	32	25	28	15	100
	2015년	32	23	35	10	110
을국	2014년	50	28	17	5	200
	2015년	51	22	20	7	210

- ① 갑국은 전년 대비 2015년 민간 소비 지출액의 변화가 없다.
- ② 을국은 전년 대비 2015년 순수출 증가 규모가 민간 소비 증가 규모보다 크다.
- ③ 갑국과 달리 을국은 전년 대비 2015년 수입액의 증가가 수출액의 증가보다 크다.
- ④ 갑국과 을국 모두 전년 대비 2015년에는 총수요가 증가하였다.
- ⑤ (가)의 비중 변화를 볼 때, 갑국과 을국 모두 전년 대비 2015년에는 물가 안정을 도모하고 있다.

10. 자료에 대한 설명으로 옳은 것은?

- (가) 정부가 전세 부동산의 ㉠임대료 상한선을 연 10% 이하로 규정하는 내용을 담은 임대차 보호법 개정안을 제출하자, 전세 매물이 사라지고 월세 매물만이 넘쳐나면서 전세 세입자의 고민이 커지고 있다.
- (나) 기업이 생산 과정에서 발생한 폐수로 인해 하천이 오염되면서 ㉡깨끗한 식수를 확보하기 어려워지고 사람들이 건강상 피해를 입고 있다.

- ① ㉠은 전세 부동산 시장에서 초과 공급을 초래하였다.
- ② (가)는 ㉠이 시장 실패를 초래하였음을 보여준다.
- ③ (나)는 ㉡이 비경합성을 가진 재화임을 보여준다.
- ④ (나)는 생산 측면에서 사적 비용보다 사회적 비용이 큰 사례이다.
- ⑤ (가)와 달리 (나)에서는 사회적으로 최적의 자원 배분이 이루어지지 않고 있다.

11. 자료에 나타난 X재, Y재, Z재 시장의 변화에 대한 옳은 분석만을 <보기>에서 있는 대로 고른 것은? (단, 세 재화 모두 수요와 공급의 법칙을 따르며, Y재와 Z재는 X재의 연관재이다.)

- Y재 가격이 상승하면, X재 가격은 하락하고 거래량은 감소한다.
- Z재 가격이 상승하면, X재 가격은 상승하고 거래량은 증가한다.

<보 기>

- ㄱ. X재의 가격이 하락하면, Y재의 균형 가격은 상승한다.
- ㄴ. Y재와 Z재는 '꿩 대신 닭'의 관계로 비유할 수 있다.
- ㄷ. Z재의 공급이 증가하면, X재의 균형 거래량은 증가한다.
- ㄹ. X재의 가격이 상승하면, Y재의 균형 거래량은 감소하고 Z재의 균형 거래량은 증가한다.

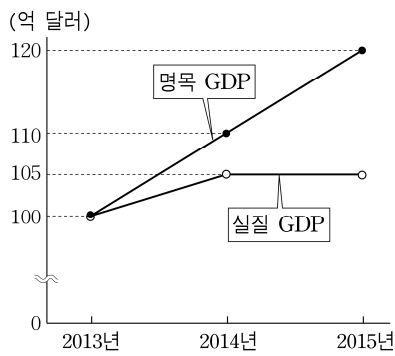
- ① ㄱ, ㄷ                      ② ㄱ, ㄹ                      ③ ㄴ, ㄹ
- ④ ㄱ, ㄴ, ㄷ                ⑤ ㄴ, ㄷ, ㄹ

12. 그림의 갑, 을에 대한 설명으로 옳지 않은 것은?



- ① 갑이 언급하고 있는 정책은 총수요를 증가시킨 요인이다.
- ② 을이 언급한 정책은 국·공채를 매입하는 정책이 통화량에 끼치는 것과 동일한 효과를 초래할 수 있다.
- ③ 갑과 을은 재정 정책이 아닌 금융 정책에 대해 언급하고 있다.
- ④ 갑은 확장 정책의 효과, 을은 긴축 정책의 필요성에 대해 말하고 있다.
- ⑤ 갑은 기업 재고율 감소, 을은 물가 상승률 상승을 근거로 제시할 수 있다.

13. 그림은 갑국의 명목 GDP와 실질 GDP 변화 추이를 나타낸다. 이에 대한 분석으로 옳은 것은? (단, 물가 수준은 GDP 디플레이터로 측정하며, 기준 연도는 2012년이다.) [3점]



- ① 물가 수준은 지속적으로 낮아졌다.
- ② 생산 수준은 지속적으로 높아졌다.
- ③ 2015년의 경제 성장률과 물가 상승률은 동일하다.
- ④ 2013년에서 2014년으로의 변화는 총수요의 증가만으로는 나타낼 수 없다.
- ⑤ 2014년보다 2015년의 전년 대비 물가 변동 폭이 더 크다.

14. 표는 갑의 자산과 부채 변화를 나타낸다. 이에 대한 분석으로 옳은 것은? [3점]

(단위 : 만 원)

구분		2014년	2015년
자산	보통 예금	500	1,000
	채권	2,500	2,000
	주식	2,000	0
	정기 예금	0	1,000
	토지	3,000	8,000
부채		500	5,000

- ① 순자산은 증가하였다.
- ② 총자산 중 실물 자산의 비중은 감소하였다.
- ③ 2014년과 달리 2015년에는 요구불 예금이 있었다.
- ④ 2015년과 달리 2014년에는 간접 투자 상품이 있었다.
- ⑤ 총자산 중 예금자 보호법의 적용을 받는 자산의 비중은 증가하였다.

15. 표는 갑국의 전년 대비 2015년의 국제 수지표 상의 일부 세부 항목의 증감을 나타낸다. 이에 대한 옳은 분석을 <보기>에서 고른 것은?

(단위 : 억 달러)

구분	금액
수출	20
㉠ 지식 재산권 사용료	-10
㉡ 국제기구 출연금	5
㉢ 증권 투자	10
㉣ 금료 및 임금	-10

<보 기>

- ㄱ. 2015년의 상품 수지는 전년에 비해 증가하였다.
- ㄴ. ㉠은 경상 수지 항목 중 운송, 통신이 포함된 항목에 속한다.
- ㄷ. ㉢은 생산 요소의 제공으로 얻은 소득 수지 항목에 해당한다.
- ㄹ. ㉠과 ㉡은 경상 수지, ㉣은 자본 수지에 속한다.

- ① ㄱ, ㄴ    ② ㄱ, ㄷ    ③ ㄴ, ㄷ    ④ ㄴ, ㄹ    ⑤ ㄷ, ㄹ

16. 자료는 갑의 가구원 현황과 가계 소득을 나타낸다. 이에 대한 옳은 분석만을 <보기>에서 있는 대로 고른 것은? [3점]

<자료 1>

<자료 2>

(단위: 십만 원)

구분	T년	T+5년	구분	T년	T+5년
아버지	근로자	연금 생활자	근로 소득	1,000	700
어머니	주부	근로자	사업 소득	350	600
형	사업자	근로자	이전 소득	0	100
갑	근로자	사업자	재산 소득	100	50

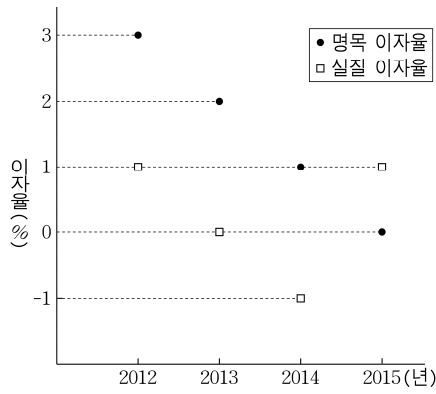
\* 재산 소득은 모두 어머니의 금융 자산에서 발생함  
 \* \* T년과 T+5년의 가계 소득은 모두 1억 5천만 원이고, 가계 소득은 경상 소득과 비경상 소득의 합임

<보 기>

- ㄱ. 비정기적이고 일시적으로 얻은 소득은 감소하였다.
- ㄴ. 생산 활동에 직접적 참여 없이 무상으로 얻은 소득은 증가하였다.
- ㄷ. 경상 소득에서 노동력을 제공한 대가로 받은 소득의 비중은 낮아졌다.
- ㄹ. 어머니의 경우, T+5년에는 재산 소득과 근로 소득이 모두 발생하였다.

- ① ㄱ, ㄷ    ② ㄱ, ㄹ    ③ ㄴ, ㄷ
- ④ ㄱ, ㄴ, ㄹ    ⑤ ㄴ, ㄷ, ㄹ

17. 그림은 갑국의 연도별 예금 이자율을 나타낸다. 이에 대한 옳은 분석만을 <보기>에서 있는 대로 고른 것은?



<보 기>

- ㄱ. 2014년에는 현금 보유보다 예금이 유리하다.
- ㄴ. 2012년보다 2013년의 물가 상승률이 높다.
- ㄷ. 2013년 대비 2014년에 예금 1억 원의 실질 구매력은 낮다.
- ㄹ. 2014년에 비해 2015년의 화폐 가치가 더 낮다.

- ① ㄱ, ㄷ                      ② ㄴ, ㄷ                      ③ ㄴ, ㄹ
- ④ ㄱ, ㄴ, ㄹ                ⑤ ㄱ, ㄷ, ㄹ

18. 밑줄 친 정책의 시행으로 인해 예상되는 결과만을 <보기>에서 있는 대로 고른 것은? [3점]

표는 X재의 수요량과 공급량을 나타낸 것이다. 최근 갑국에서는 세수 확보를 위해 X재에 대해 생산자에게는 개당 100원의 판매세를, 소비자에게는 개당 100원의 소비세를 부과하기로 하였다.

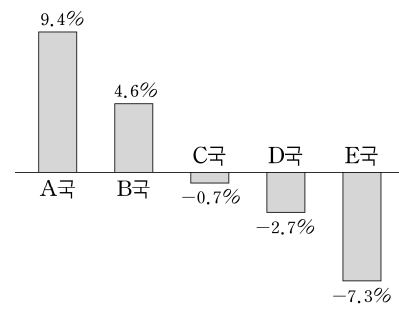
가격(원)	1,000	1,100	1,200	1,300	1,400
수요량(개)	80	70	60	50	40
공급량(개)	40	50	60	70	80

<보 기>

- ㄱ. X재 가격은 100원 상승한다.
- ㄴ. 정부는 10,000원의 조세 수입을 얻는다.
- ㄷ. 소비자 잉여와 생산자 잉여의 변화 크기는 같다.
- ㄹ. 세금을 포함한 소비자 지출액은 세금 부과 전보다 7,000원 증가한다.

- ① ㄱ, ㄷ                      ② ㄱ, ㄹ                      ③ ㄴ, ㄷ
- ④ ㄱ, ㄴ, ㄹ                ⑤ ㄴ, ㄷ, ㄹ

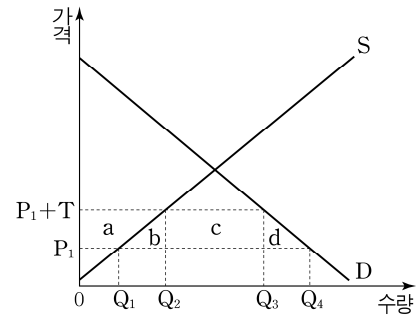
19. 그림은 지난 1년간 미 달러화 대비 각국 화폐 가치의 변동률을 나타낸다. 이에 대한 설명으로 옳은 것은? [3점]



- ① A국 기업의 달러 표시 외채의 상환 부담이 커졌다.
- ② C국 시장에서 미국산 수입 상품의 가격 경쟁력은 높아졌다.
- ③ E국의 화폐 가치 변동률 초래한 요인으로 국내 이자율의 하락을 들 수 있다.
- ④ B국과 달리 C국 국민의 미국 여행 경비 부담은 감소되었다.
- ⑤ D국과 달리 A국의 화폐 가치 변동은 미국과의 국제 거래에서 경상 수지 개선 요인으로 작용할 것이다.

20. 자료의 관세 폐지로 나타난 경제적 변화만을 <보기>에서 있는 대로 고른 것은? [3점]

그림은 갑국의 X재 수요 곡선과 공급 곡선이다. 개당 T만큼의 관세를 부과하던 갑국은 관세를 폐지하였다. 단, X재는 국제 가격인 P<sub>1</sub>에서 무제한 수입이 가능하고, a~d는 주변의 선들로 둘러싸인 면적을 의미한다.



<보 기>

- ㄱ. 국내 생산량은 Q<sub>1</sub>Q<sub>2</sub>만큼 감소한다.
- ㄴ. 국내 소비량은 Q<sub>1</sub>Q<sub>2</sub>+Q<sub>3</sub>Q<sub>4</sub>만큼 증가한다.
- ㄷ. 관세 폐지로 인해 관세 수입은 c만큼 감소한다.
- ㄹ. 관세 폐지로 증가하는 사회적 잉여는 b+c+d이다.

- ① ㄱ, ㄴ                      ② ㄱ, ㄹ                      ③ ㄴ, ㄷ
- ④ ㄱ, ㄷ, ㄹ                ⑤ ㄴ, ㄷ, ㄹ

\* 확인 사항  
○ 답안지의 해당란에 필요한 내용을 정확히 기입(표기)했는지 확인하십시오.