

제 4 교시

사회탐구 영역(법과 정치)

성명

수험 번호



1. 다음은 수업 시간에 교사가 제시한 자료이다. 이를 통해 설명하고자 했던 정치의 의미로 가장 적절한 것은?

○ ○ 신 문 ○ ○ 월 ○ ○ 일

서울시 동대문 인근 쇼핑타운이 밀집된 청계천 6가의 교차로 횡단보도 설치를 둘러싼 지하도 상인과 주변 지상 상인 간 갈등이 4년 만에 종지부를 찍게 됐다. 서울시는 지난 7월, 영업 지장 등을 이유로 횡단보도 설치에 반대하는 지하도 상인과 횡단보도 설치를 요구하는 주변 지상 상인 간의 협의회를 구성해 다섯 차례에 걸쳐 논의한 결과, 지하도 상가 위 횡단보도 설치 계획을 변경, 당초 위치에서 약간 북쪽으로 바뀌 횡단보도를 설치하기로 합의한 것이다. 그리고 서울시는 지하도 상인의 반발을 고려해 동대문 관광특구 활성화를 위한 지원을 약속하였다.

- ① 권력을 분산시켜 국민의 기본권을 보장하는 것이다.
- ② 이해관계의 대립을 원만하게 조정하는 것이다.
- ③ 정권 획득을 둘러싸고 일어나는 투쟁이다.
- ④ 구성원의 생명과 재산을 지키는 활동이다.
- ⑤ 국가 고유의 활동이다.

2. 다음 글의 A, B에 대한 옳은 설명만을 <보기>에서 있는 대로 고른 것은?

자유와 평등은 민주주의의 근본 이념인 인간의 존엄성을 존중하기 위한 ‘두 수레바퀴’에 비유될 만큼 중요한 가치이다. 그러나 현실적으로 양자의 조화로운 균형을 달성하기 어려워서 사회적 상황이나 역사적 배경에 따라 우선시하는 가치가 달라진다. 자유와 평등이 대립하거나 충돌할 때 자유를 우선시하는 민주주의를 A, 평등을 우선시하는 민주주의를 B라고 한다. 이와 같이 우선시하는 가치가 자유나 평등이냐를 기준으로 A와 B가 대립하지만, A와 B는 모두 민주주의를 지향한다는 점에서 같다.

〈보 기〉

- ㄱ. 역사적으로 A가 B보다 먼저 출현하였다.
- ㄴ. A와 달리 B는 경쟁으로 인해 발생한 불평등을 정당화한다.
- ㄷ. A, B는 모두 국민 주권, 권력 분립, 입헌주의를 바탕으로 한다.
- ㄹ. 우리나라 헌법은 B를 부정하고 A를 기본 이념으로 채택하고 있다.

- ① ㄱ, ㄷ                      ② ㄱ, ㄹ                      ③ ㄴ, ㄹ
- ④ ㄱ, ㄴ, ㄷ                ⑤ ㄴ, ㄷ, ㄹ

3. 다음은 수업 시간의 한 장면이다. 밑줄 친 기준으로 볼 수 없는 것은?

서로 다른 많은 체제들이 저마다 민주주의를 하고 있다고 합니다. 그런데 도대체 뭐가 참된 민주주의입니까? 어떤 정치 체제는 민주주의가 내포하는 요소 중 어느 한 요소만을 형식적으로 갖추고도 자신의 체제를 민주주의라고 주장하기도 합니다.

민주주의의 진위를 판별해 내는 몇 가지 기준을 세워 봅시다.

- ① 권력 분립 원리가 제대로 실현되고 있는가?
- ② 국민의 자유와 권리가 실질적으로 보장되고 있는가?
- ③ 민주적 원칙에 따른 선거에 의해 정권이 교체되고 있는가?
- ④ 정부 정책에 대한 국민의 자유로운 비판이 허용되고 있는가?
- ⑤ 정치권력의 공공질서 유지 기능이 충분히 수행되고 있는가?

4. 을보다는 갑의 주장을 정당화시키는 근거에 해당하는 진술만을 <보기>에서 있는 대로 고른 것은?

갑: 국회의 공무원 공개 경쟁 채용 시험에서도, 수도권을 제외한 지방에 있는 학교의 재학생이나 졸업생이 선발 예정 인원의 30% 이상이 될 수 있도록 선발 예정 인원을 초과하여 지방 인재를 합격시키는 제도가 시행된다니 다행이야. 수도권에 비해 낙후된 지방 교육 여건을 감안할 때, 지방 인재 채용 목표제는 소수자의 권익을 보호한다는 측면에서 의미가 있어.

을: 공직 임용 시험은 철저한 실적주의와 평등 원칙에 근거를 둔다는 점에서, 성적 미달자가 지방에 있는 학교 출신이라는 이유로 채용된다면, 그보다 뛰어난 실력을 갖춘 수도권 소재 학교 출신자들이 역(逆)차별 받는 결과를 초래해. 또한 지방 인재 채용 목표제는 자유 경쟁의 원칙에 위배되는 불공정 게임이야.

〈보 기〉

- ㄱ. 어떤 차별도 인정되어서는 안 된다.
- ㄴ. 합리적 이유가 있는 차별은 정당하다.
- ㄷ. 개인 간의 후천적 차이는 고려되어야 한다.
- ㄹ. 형식적 평등은 실질적 불평등을 가져올 수 있다.

- ① ㄱ, ㄴ                      ② ㄱ, ㄷ                      ③ ㄴ, ㄹ
- ④ ㄱ, ㄷ, ㄹ                ⑤ ㄴ, ㄷ, ㄹ

5. 그림은 의사 결정 방식에 대한 회의 장면이다. 갑, 을의 주장과 관련 있는 국민 자치 방식에 대한 옳은 설명만을 <보기>에서 있는 대로 고른 것은? [3점]



〈보 기〉

- ㄱ. 갑에 비해 을의 방식에서는 정치적 무관심이 나타날 가능성이 높다.  
 ㄴ. 갑에 비해 을의 방식에서는 국민의 의사가 정책에 정확히 반영될 수 있다.  
 ㄷ. 을에 비해 갑의 방식에서는 대표자의 전문성과 능력을 간과하는 경향이 크다.  
 ㄹ. 을과 달리 갑의 방식에서는 참여에 따르는 인구나 영토의 크기에 따른 제약의 극복이 가능하다.

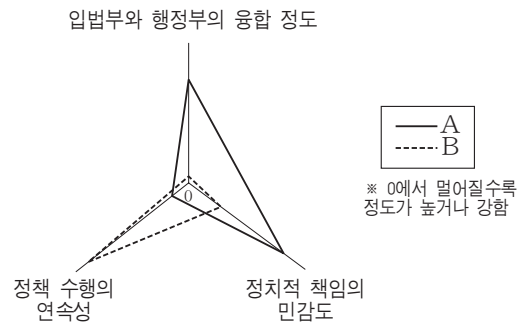
- ① ㄱ, ㄷ                      ② ㄱ, ㄹ                      ③ ㄴ, ㄹ  
 ④ ㄱ, ㄴ, ㄷ                ⑤ ㄴ, ㄷ, ㄹ

6. 표는 우리나라 국회의원 선거 제도의 변화를 나타낸 것이다. 이에 대한 설명으로 옳지 않은 것은? [3점]

구분	투표 방식	지역구	비례 대표(전국구)
11, 12대	1인 1표제	중·대 선거구제	제1당에 전체 의석의 2/3 배분 후, 제1당을 제외하고 나머지 정당에 의석수에 따라 비례 배분
13대		소선거구제	제1당의 의석비율이 50% 미만 시 제1당에 전체 의석의 1/2 배분 후, 제1당을 제외하고 나머지 정당에 의석수에 따라 비례 배분
14대			3% 이상 득표한 정당에 대해 정당 의석수에 따라 비례 배분
15, 16대			5% 이상 득표한 정당이나 지역구에서 5석 이상 얻은 정당에 그 득표율에 따라 비례 배분
17~19대	1인 2표제		비례 대표 국회의원 선거를 별도로 실시하여, 정당 득표율 3% 이상이거나 지역구에서 5석 이상 얻은 정당에 그 득표율에 따라 비례 배분

- ① 11, 12대 지역구 선거에서는 소수 대표제가 채택되었다.  
 ② 11, 12대보다 13대의 지역구 선거구제는 사표가 많이 발생하는 제도이다.  
 ③ 11대~16대 선거에서는 지역구 선거의 결과가 전국구 의석의 배분에 영향을 주었다.  
 ④ 15, 16대에 비해 17~19대 선거에서는 비례 대표 국회의원의 의석 배분의 요건이 강화되었다.  
 ⑤ 11~16대에 비해 17~19대 비례 대표 국회의원 선거에서는 평등 선거 원칙과 직접 선거 원칙이 강화되었다.

- [7~8] 그림은 전형적인 두 정부 형태인 A, B를 비교한 것이다. 이를 보고 물음에 답하시오.



7. 갑국이 정부 형태를 A에서 B로 바꾸기로 하였다. 그 배경이 될 수 있는 것을 <보기>에서 고른 것은?

〈보 기〉

- ㄱ. 의회 다수파의 횡포를 견제할 수 없었다.  
 ㄴ. 행정부 수반에게 권력이 집중되어 독재가 우려되었다.  
 ㄷ. 행정부 수반의 임기가 보장되지 않아 정권 교체가 빈번하였다.  
 ㄹ. 의회와 행정부가 대립할 경우에 이를 제도적으로 해결하기 어려웠다.

- ① ㄱ, ㄴ                      ② ㄱ, ㄷ                      ③ ㄴ, ㄷ                      ④ ㄴ, ㄹ                      ⑤ ㄷ, ㄹ

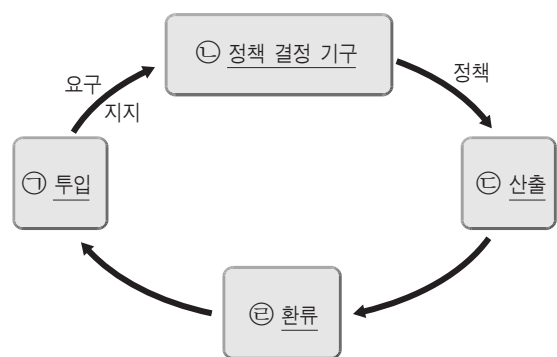
8. 위의 A와 구별되는 B의 특성만을 <보기>에서 있는 대로 고른 것은? [3점]

〈보 기〉

- ㄱ. 사법권의 독립이 보장된다.  
 ㄴ. 국민이 행정부 수반을 선출한다.  
 ㄷ. 의회는 국민의 선거를 통해 구성된다.  
 ㄹ. 행정부 수반은 법률안을 거부할 수 있다.

- ① ㄱ, ㄷ                      ② ㄱ, ㄹ                      ③ ㄴ, ㄹ  
 ④ ㄱ, ㄴ, ㄷ                ⑤ ㄴ, ㄷ, ㄹ

9. 다음은 정책 결정 과정을 도식화한 것이다. ㉠~㉣에 대한 설명으로 옳은 것은?



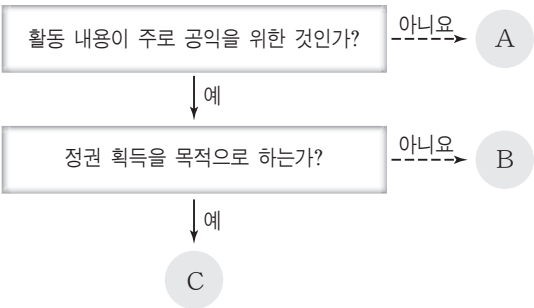
- ① 의회의 입법 과정은 ㉠에 해당한다.  
 ② ㉡에는 입법부, 행정부, 시민 단체 등이 해당한다.  
 ③ ㉣이 활발한 경우 정책 결정권자의 권력이 남용될 가능성이 높다.  
 ④ 권위주의 정치 체제에서는 ㉢보다 ㉠이 중시된다.  
 ⑤ 의회 의원 선거는 ㉠과 ㉣의 기능을 동시에 수행한다.

10. (가)~(라)의 사례가 각각 위반한 민주 선거의 원칙으로 옳은 것은?

- (가) 1831년 프랑스 선거법에서는 2백 프랑 이상의 세금을 낸 사람  
에게만 투표권이 부여되었다.
- (나) 1918년 영국의 제4차 선거법 개정으로 남자는 21세 이상, 여자는 30세 이상이 투표권을 행사하게 되었다.
- (다) 1922년까지 벨기에 선거법에서는 교육 수준 정도 등을 고려하여 유권자에게 1~3표씩의 투표권이 부여되었다.
- (라) ○○국의 의회 의원 선거에서 최대 선거구와 최소 선거구 간의 인구 편차가 5대 1을 초과하였다.

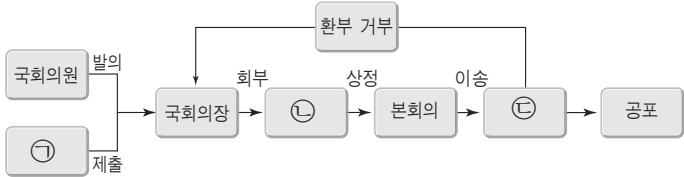
(가)	(나)	(다)	(라)
① 보통 선거	평등 선거	보통 선거	보통 선거
② 보통 선거	보통 선거	평등 선거	평등 선거
③ 보통 선거	보통 선거	평등 선거	보통 선거
④ 평등 선거	보통 선거	평등 선거	평등 선거
⑤ 평등 선거	평등 선거	보통 선거	보통 선거

11. 그림은 정치 행위 주체를 A~C의 세 유형으로 분류한 것이다. 이에 대한 설명으로 옳은 것은? (단, A~C는 각각 시민 단체, 이익 집단, 정당 중 하나이다.)



- ① C는 대의 정치의 한계를 극복하기 위해 등장하였다.
- ② B는 A와 달리 의원 선거 시 후보자를 내세운다.
- ③ C는 A에 비해 특정한 쟁점에 치중하여 활동한다.
- ④ A, C와 달리 B는 국민에 대해 정치적 책임을 진다.
- ⑤ A, B, C는 모두 정부의 정책 결정 과정에 영향력을 행사한다.

12. 그림은 국회의 입법 과정을 나타낸 것이다. ㉠~㉣에 대한 옳은 설명만을 <보기>에서 있는 대로 고른 것은? (3점)



- <보 기>
- ㉠. ㉠은 위헌 정당 해산 제소권을 가지고 있다.
- ㉡. ㉠의 법률안 제출은 의원 내각제적 요소에 해당한다.
- ㉢. ㉡은 국회의 효율적인 의사 진행을 도모하기 위한 것이다.
- ㉣. ㉣이 거부권을 행사한 법률안을 재의결하려면 국회 재적 의원 2/3의 찬성이 필요하다.

- |           |           |        |
|-----------|-----------|--------|
| ① ㉠, ㉡    | ② ㉠, ㉢    | ③ ㉡, ㉢ |
| ④ ㉠, ㉡, ㉢ | ⑤ ㉡, ㉢, ㉣ |        |

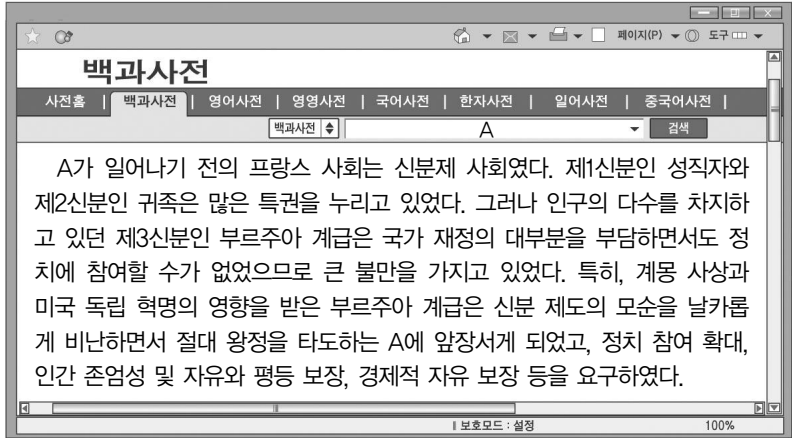
13. 밑줄 친 ㉠~㉣에 대한 옳은 설명만을 <보기>에서 있는 대로 고른 것은? (3점)

근대의 정치 사상가인 ㉠그의 주장은 ㉡미국 독립 전쟁 중에 발표된 미국 독립 선언에 잘 나타나 있다. 즉, 모든 사람은 평등하게 태어났고 ㉢천부적 권리를 가지고 있으며, 이 권리를 확보하기 위하여 정부가 조직되고, 어떠한 정부라도 이러한 목적에 어긋날 경우 국민은 ㉣새로운 정부를 구성할 권리를 갖는다는 것이다.

- <보 기>
- ㉠. 미국 연방 헌법은 ㉠이 주장한 3권 분립 체제를 채택하였다.
- ㉡. ㉡은 배분적 정의의 실현을 목적으로 하였다.
- ㉢. ㉢은 헌법에 구체적으로 명시되지 않아도 행사될 수 있다.
- ㉣. ㉠은 자연 상태에서 ㉣의 보장이 확실하지 않다고 주장하였다.

- |           |           |        |
|-----------|-----------|--------|
| ① ㉠, ㉡    | ② ㉠, ㉢    | ③ ㉡, ㉢ |
| ④ ㉠, ㉡, ㉢ | ⑤ ㉡, ㉢, ㉣ |        |

14. 그림은 어떤 역사적 사건인 A를 검색한 결과이다. A에 대한 설명으로 가장 적절한 것은?



- ① 직접 민주제가 정착되는 계기가 되었다.
- ② 사회권이 헌법에 명시되는 계기가 되었다.
- ③ 인간 이성에 대한 신뢰를 토대로 전개되었다.
- ④ 모든 성인 남녀의 참정권 보장을 목적으로 하였다.
- ⑤ 전제 군주정을 입헌 군주정으로 전환하고자 하였다.

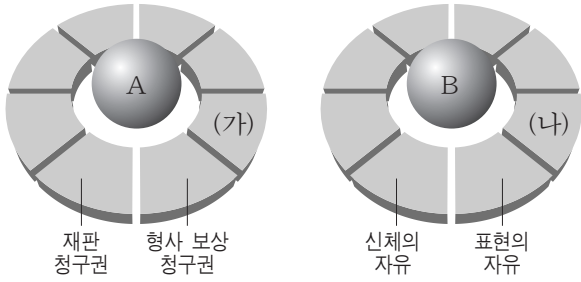
15. 다음 갑, 을의 견해에 대한 분석 및 추론으로 옳지 않은 것은? (3점)



- ① 갑은 정치권력의 형식적 합법성을 중시하고 있다.
- ② 을은 정의에 위배되는 법의 효력을 인정하지 않을 것이다.
- ③ 갑에 비해 을은 통치의 정당성을 강조하고 있다.
- ④ 을과 달리 갑은 통치의 합법성을 요구하고 있다.
- ⑤ 갑과 을은 모두 정치권력의 자의적 행사를 인정하고 있지 않다.

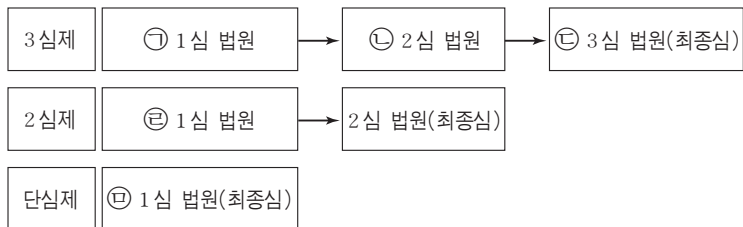


16. 그림은 기본권의 유형 A, B를 나타낸 것이다. 이와 관련한 설명으로 옳지 않은 것은?



- ① A는 다른 기본권을 보장하기 위한 수단적 권리이다.  
 ② B는 인간의 존엄성을 보호하기 위한 본질적인 기본권이다.  
 ③ A와 달리 B는 소극적인 권리이다.  
 ④ A와 달리 B는 국가의 존재를 전제로 한다.  
 ⑤ 청원권은 (가)에, 직업 선택의 자유는 (나)에 들어갈 수 있다.

17. 다음은 우리나라의 심급 제도를 도식화한 것이다. ㉠~㉣에 대한 옳은 설명만을 <보기>에서 있는 대로 고른 것은? (3점)



〈보 기〉

- ㄱ. 비상 계엄하의 군사 재판의 1심 법원은 ㉣에 해당한다.  
 ㄴ. 대통령, 국회의원, 시·도지사 선거의 효력을 다투는 재판은 ㉢에서 한다.  
 ㄷ. ㉠의 결정·명령에 불복하여 ㉡에 이의를 제기하는 것을 항소라고 한다.  
 ㄹ. ㉡의 판결에 불복하여 ㉢에 소를 제기하는 것을 상고라고 한다.

- ① ㄱ, ㄷ                      ② ㄱ, ㄹ                      ③ ㄴ, ㄹ  
 ④ ㄱ, ㄴ, ㄷ                ⑤ ㄴ, ㄷ, ㄹ

18. 표는 ○○ 지역 국회의원 선거에서의 정당 후보별 득표수 및 의석수를 나타낸 것이다. 이에 대한 옳은 설명만을 <보기>에서 있는 대로 고른 것은? (3점)

(단위: 표, 석)

후보 \ 선거구	A	B	C	D	득표수 합계	의석수
갑당 후보	7만	4만	7만	2만	20만	1
을당 후보	10만	8만	4만	6만	28만	2
병당 후보	12만	7만	6만	7만	32만	2
정당 후보	11만	11만	13만	5만	40만	3
득표수 합계	40만	30만	30만	20만	120만	8

\* 투표율은 100%이고, 각 선거구에서 선출되는 의원 수는 동일하다.

〈보 기〉

- ㄱ. 한 선거구 내에서 당선자 간 투표 가치의 차등 문제가 발생한다.  
 ㄴ. 선거구 C보다 B에서 사표가 적게 발생하였다.  
 ㄷ. D 선거구에 비해 A 선거구의 유권자 1표의 가치가 낮다.  
 ㄹ. 을당 후보 지지자들에 비해 병당 후보 지지자들의 의사가 과대 대표되었다.

- ① ㄱ, ㄷ                      ② ㄱ, ㄹ                      ③ ㄴ, ㄹ  
 ④ ㄱ, ㄴ, ㄷ                ⑤ ㄴ, ㄷ, ㄹ

19. 밑줄 친 ㉠~㉣에 대한 설명으로 옳지 않은 것은? (3점)

2012년 12월 27일, ㉠헌법 재판소는 ㉡대법원이 K 전 ○○시교육감에게 유죄 판결을 내렸을 때 적용한 ‘사후 매수죄’ 조항에 대해 ㉢합헌 결정했다. ‘사후 매수죄’가 규정된 공직 선거법 제232조 1항 2호에는 공직 후보를 사퇴한 데 대한 대가로 후보였던 자에게 금전 등을 제공한 사람을 처벌하도록 되어 있다. K씨는 2010년 ○○시교육감 선거에서 후보로 출마했던 P씨의 사퇴에 대한 대가로 2억 원을 제공한 혐의로 기소되었고, 1심에서 유죄 판결을 받았다. 이에 K 전 교육감은 ‘사후 매수죄’ 조항이 ㉣과잉 금지 원칙 등에 위배된다며 ㉤위헌 법률 심판 제청을 신청했으나, 기각되자 ㉥헌법 소원을 제기했다.

- ① ㉠과 ㉡의 장(長)은 대통령이 국회의 동의를 얻어 임명한다.  
 ② ㉢으로 이루어 헌법 재판소 재판관 6인 이상이 위헌 의견을 제시하지 않았다.  
 ③ ㉣은 국민의 기본권을 과도하게 제한해서는 안 된다는 것을 말한다.  
 ④ ㉤은 사법부가 입법부를 견제하는 수단이 된다.  
 ⑤ ㉥은 권리 구제형 헌법 소원에 해당한다.

20. 표는 우리나라의 19대 총선 결과이다. 이에 대한 분석 및 추론으로 가장 적절한 것은? (3점)

(단위: 석)

구분	A당	B당	C당	D당	무소속·기타	합계
총 의석수	152	127	13	5	3	300
지역구 의석수	127	106	7	3	3	246
비례 대표 의석수	25	21	6	2	0	54

- ① 19대 총선에 참여한 정당은 4개이다.  
 ② 단독으로 임시 국회의 소집을 요구할 수 있는 정당은 1개이다.  
 ③ 환부 거부된 법률안을 A당이 단독으로 통과시킬 수 있는 경우는 없다.  
 ④ B당은 헌법 개정안의 본회의 통과를 단독으로 저지할 수 있다.  
 ⑤ C당은 단독으로 법률안을 발의할 수 있는 의석수를 가지고 있지 않다.

♣ 확인 사항

답안지에 필요한 사항을 정확히 기입(표기)하였는지 확인하시오.