

사회탐구 영역(동아시아사)

제 4 교시

성명

수험 번호


3

제 [] 선택

1

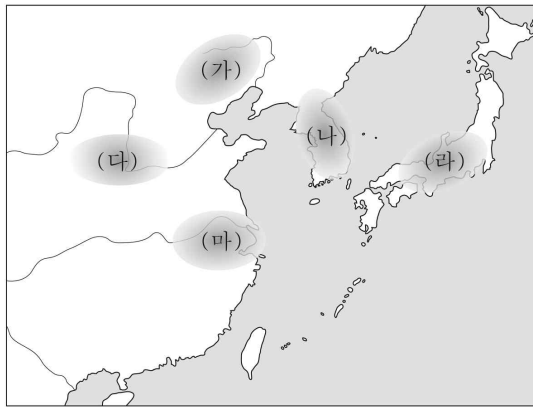
1. 밑줄 친 '이 지역'을 지도에서 옳게 고른 것은?

사진은 이 지역에서 발달한 홍산 문화의 대표적 유물입니다. 옥으로 만든 눈이 인상적인 여신의 얼굴상은 뉴허량 유적에서 출토되었습니다.



▲ 여신의 얼굴상

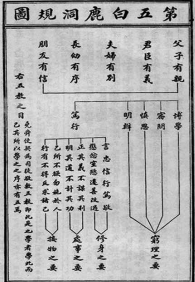
동아시아의 신석기 시대 유물 이야기



- ① (가) ② (나) ③ (다) ④ (라) ⑤ (마)

2. (가) 유학 사상에 대한 설명으로 옳은 것은? [3점]

자료를 이황이 집필한 『성학십도』 중 제5도인 「백록동규도」이다. 「백록동규도」는 (가) 을/를 집대성한 주희가 백록동 서원의 학생들을 효과적으로 교육하기 위해 제시한 규칙을 이황이 이해하기 쉽게 정리하여 작성한 것이다. 「백록동규도」에는 주희가 강조한 오륜(五倫)과 학문의 방법이 체계적으로 나열되어 있다.



- ① 다이가 개신에 영향을 주었다.
 ② 오경정의 편찬의 배경이 되었다.
 ③ 치양지와 지행합일을 강조하였다.
 ④ 고려 말 신진 사대부의 사상적 기반이 되었다.
 ⑤ 일본 고유의 정신으로 돌아갈 것을 주장하였다.


3. (가) 국가에 대한 설명으로 옳은 것은?

(가)의 목욕 선우가 죽고 아들 계육이 즉위하니, 그를 노상 선우라 불렀다. 그가 즉위한 지 얼마 되지 않아, 한(漢)의 황제가 종실의 여자를 공주라 하여 선우에게 보내 연지로 삼게 하였다. 이때 환관 중항열에게 공주를 모시게 하였는데, 그가 따르려 하지 않자 억지로 가게 하였다.

- ① 군국제를 실시하였다.
 ② 남비엣을 멸망시켰다.
 ③ 분서갱유를 단행하였다.
 ④ 좌현왕과 우현왕을 두었다.
 ⑤ 다이호 율령을 반포하였다.

4. 밑줄 친 '이 조약'에 대한 설명으로 옳은 것은? [3점]

이 우표는 페리 함대의 일본 입항 100주년을 기념하여 미국에서 발행한 것이다. 미국은 페리 제독이 이끄는 함대를 파견하여 군사력을 과시하며 일본에 통상을 요구하였다. 이에 굴복한 막부는 이듬해 3월 미국에 최혜국 대우를 인정한 이 조약을 체결하였다.



- ① 일부 영토의 할양을 명시하였다.
 ② 영사 재판권 조항을 포함하였다.
 ③ 크리스토프 포교의 자유를 허용하였다.
 ④ 일본의 주력함 보유 비율을 제한하였다.
 ⑤ 시모다, 하코다테 등 2개 항구의 개항을 규정하였다.

5. (가) 왕조에 대한 설명으로 옳은 것은?

베이징에 연행사로 다녀온 아버지로부터 들으니, 오삼계가 원난성과 구이저우성을 근거지로 삼아 반란을 일으키자 (가)의 강희제가 이를 진압하기 위해 수만 명의 군사를 보냈다고 한다. 이로 인해 천하가 어지럽다고 하니, 비록 오삼계의 성패는 알 수 없으나 (가)은/는 곧 망할 것이라고 혼자서 생각하였다.

- ① 천계령을 시행하였다.
 ② 다루가치를 파견하였다.
 ③ 헤이조교를 건설하였다.
 ④ 슈고가 치안을 담당하였다.
 ⑤ 남송과 군신 관계를 맺었다.

2 (동아시아사)

사회탐구 영역

6. (가) 국가에 대한 설명으로 옳은 것은?

[가]의 야율아보기가 진군하여 상경성을 포위하니 발해왕 대인선이 싸움에서 패하여 항복을 청하였다. 야율아보기가 이를 받아들이고 먼저 신하를 성으로 들여보내 병장기를 수색하게 하였는데, 발해의 병사가 그 신하를 살해하였다. 대인선이 다시 반기를 들자 [가]의 군대가 공격하여 상경성을 함락하였다. ...**(중략)**... 야율아보기가 발해를 고쳐 동단국이라 하고, 상경성을 고쳐 천복성이라 하였다.

- ① 건당사를 파견하였다.
- ② 맹안·모극제를 시행하였다.
- ③ 송과 전연의 맹약을 체결하였다.
- ④ 남북조를 통일하고 대운하를 건설하였다.
- ⑤ 베트남 북부에 안남 도호부를 설치하였다.

7. 자료에 나타난 전쟁의 결과로 옳은 것은? [3점]

7월 25일, 풍도 해전이 발발하였다. 청군을 태운 수송선 고승호가 나니와호의 공격을 받아 침몰하였다. ...**(중략)**... 9월 17일, 황해 해전이 벌어졌다. 수 시간 동안 지속된 전투에서 정여창 제독이 이끄는 북양 함대는 이토 해군 중장이 지휘하는 함대에 패퇴하였다.

- ① 카이로 선언이 발표되었다.
- ② 파리 강화 회의가 개최되었다.
- ③ 시모노세키 조약이 체결되었다.
- ④ 남베트남 민족 해방 전선이 결성되었다.
- ⑤ 도요토미 히데요시가 센고쿠 시대를 통일하였다.

8. (가) 제국의 대외 활동으로 옳은 것은? [3점]

온라인 동아시아사 여행




이곳은 하이퉁의 바익당강 유적지에 있는 전홍다오 동상 앞입니다. 전홍다오는 3차례에 걸친 [가]의 침략에 맞서 대월을 지켜낸 영웅으로 베트남 사람들의 존경을 받고 있습니다.



- ① 토번에 화번공주를 보냈다.
- ② 서역으로 장건을 파견하였다.
- ③ 왜의 노국왕에게 금인을 하사하였다.
- ④ 고려와 연합하여 일본 원정을 단행하였다.
- ⑤ 실패를 발급하여 대외 무역을 통제하였다.

9. 밑줄 친 '이 시기' 동아시아 각국의 경제 상황에 대한 설명으로 옳은 것만을 <보기>에서 고른 것은?

이것은 「왜관도」의 일부입니다. 그림에는 기유약조가 체결된 지 약 70년 후에 설치된 초량 왜관에서 생활하는 일본인의 모습 등이 표현되어 있습니다. 초량 왜관에서 교역이 이루어지던 이 시기에 조선은 일본으로부터 구리, 유황 등을 수입하기도 하였습니다.



< 보기 >

- ㄱ. 한국-청해진이 설치되었다.
- ㄴ. 중국-군전제가 시행되었다.
- ㄷ. 중국-산시 상인과 휘저우 상인이 활약하였다.
- ㄹ. 일본-조카마치가 발달하였다.

- ① ㄱ, ㄴ ② ㄱ, ㄷ ③ ㄴ, ㄷ ④ ㄴ, ㄹ ⑤ ㄷ, ㄹ

10. 밑줄 친 '이 혁명'이 전개된 시기 동아시아에서 있었던 사실로 옳은 것은? [3점]

다큐멘터리 3부작
격동하는 중국 현대사의 중심지

텐안먼

1부 중화 인민 공화국의 수립이 선포되다

2부 수백만 명의 홍위병이 집결한 군중 집회가 열리다

정치적 위기를 느낀 마오쩌둥은 자본주의 사상과 문화에 대한 투쟁을 주장하였다. 이에 동조한 홍위병들이 텐안먼 광장에 집결하면서 본격화된 이 혁명은 약 10년간 지속되며 중국을 혼란에 빠뜨렸다.

3부 민주화를 요구하는 대규모의 시위가 발생하다

- ① 한국-4·19 혁명이 일어났다.
- ② 중국-대약진 운동이 시작되었다.
- ③ 중국-중·일 공동 성명이 발표되었다.
- ④ 일본-비자민당 연립 내각이 출범하였다.
- ⑤ 베트남-도이미이 정책이 채택되었다.

11. (가) 국가에 대한 설명으로 옳은 것은?


삼국이 모두 당에 자제를 보내 국가감에 입학시켜 예악(禮樂)을 관찰하고 토론과 강습을 하게 하였다. ... (중략) ... **□(가)** 은/는 관리를 선발할 때 처음에는 활쏘기로 뽑고, 화랑의 낭도에서 취하기도 하였다. 원성왕 때 이르러 비로소 독서삼품과를 설치하여 오경(五經)과 삼사(三史)에 널리 통달한 사람을 인재로 삼았다.

- ① 골품제를 운영하였다.
- ② 상서성 아래에 6부를 설치하였다.
- ③ 중앙 교육 기관으로 주자감을 두었다.
- ④ 군사 행정 단위로 천호·백호를 편성하였다.
- ⑤ 좌변관과 우변관을 두어 행정을 분담하였다.

12. 밑줄 친 '이 조약'이 체결된 시기를 연표에서 옳게 고른 것은? [3점]

자료 화면은 일본의 주권 회복 등을 규정한 이 조약에 미국 대표가 서명하는 사진입니다. 이 조약에 대해 말씀해 주세요.

미국의 주도로 연합국과 일본 사이에 체결된 이 조약으로 일본은 국제 사회에 복귀했습니다. 그러나 체결 과정에 한국, 중국 등이 참여하지 못했다는 한계가 있습니다.



(가)	(나)	(다)	(라)	(마)
-----	-----	-----	-----	-----

중화민국 수립 중국 공산당 창당 조선 의용대 창설 포츠담 선언 발표 6·25 전쟁 발발 한·일 기본 조약 체결

- ① (가) ② (나) ③ (다) ④ (라) ⑤ (마)

13. 자료를 활용한 탐구 활동으로 가장 적절한 것은?

조적이 사마에게 말하기를 “진(晉)나라가 혼란한 것은 종실이 권력을 다투느라 자기들끼리 서로 살육하고, 오랑캐가 이 틈을 타 침입하게 하여 그 화가 중원에 미쳤기 때문입니다. 지금 장장강을 건너온 진나라의 유민들이 울분에 차 있으니, 대왕께서 군대를 출동시켜 중원을 회복하게 하면 호걸들 중에 소식을 듣고 호응하는 자가 반드시 있을 것입니다.”라고 하였다. ... (중략) ... 마침내 사마애가 동진(東晉)을 건국하여 연호를 반포하고, 중묘와 사직을 세웠다.

- ① 장보고의 해상 활동을 파악한다.
- ② 오년의 난이 발생한 원인을 살펴본다.
- ③ 나·당 연합군이 결성된 이유를 알아본다.
- ④ 류큐의 중계 무역이 번성한 배경을 찾아본다.
- ⑤ 5호가 화북 지역에서 세력을 확장한 결과를 조사한다.

14. 밑줄 친 '이 전쟁' 중에 있었던 사실로 옳은 것은?

[수행 평가 활동지]

3학년 ○반 모둠명: ○○○

활동 과제: 17세기 전후 동아시아의 문화 교류와 관련한 유적 안내문 작성하기

이삼평 묘



이 전쟁 때 일본으로 끌려간 도공 이삼평의 무덤과 묘비이다. 그는 아리타 자기의 시조로 여겨지고 있다.

덴구다니 가마터



아리타 자기를 생산하였던 가마터이다. 이삼평이 이즈미 광산에서 발견한 자기의 원료를 이용해 이곳의 가마에서 자기를 제작했다고 전해진다.

- ① 광해군이 폐위되었다.
- ② 세키가하라 전투가 일어났다.
- ③ 누르하치가 후금을 건국하였다.
- ④ 모문룡이 가도를 근거지로 삼았다.
- ⑤ 조·명 연합군이 평양성을 탈환하였다.

15. 밑줄 친 '이 도시'에서 있었던 사실로 옳은 것은? [3점]

△△ 미술관 특별전

그림 속 일본 근대 도시를 거닐다



우리 미술관은 개항 이후 서양 문물의 유입으로 변화한 이 도시의 모습이 그려진 그림을 모아 전시회를 개최합니다. 전시회에서는 이 도시에서 요코하마까지 개통된 일본 최초의 철도를 이용하는 사람들의 모습, 서양식 건물이 들어선 긴자 거리의 풍경 등을 담은 다양한 작품을 감상할 수 있습니다.

■ 기간: 2022년 ○월 ○일 ~ ○일
■ 장소: △△ 미술관 전시실

- ① 공행이 설치되었다.
- ② 경사 대학당이 세워졌다.
- ③ 극동 국제 군사 재판이 개최되었다.
- ④ 윤봉길의 홍커우 공원 의거가 일어났다.
- ⑤ 러·일 전쟁의 강화 조약이 체결되었다.

4 (동아시아사)

사회탐구 영역


16. (가) 왕조에서 볼 수 있는 모습으로 가장 적절한 것은? [3점]

정화는 함대를 이끌고 여러 나라를 두루 방문하여 천자의 조서를 발표하고 하사품을 내렸으며, 그곳의 군장이 따르지 않으면 무력으로 위협하였다. 영락 5년 9월 정화의 일행이 귀국하였는데, 여러 나라의 사신들이 정화를 따라와 (가)의 황제를 알현하였다. 이에 황제는 크게 기뻐하고 등급을 달리하여 작위와 상을 하사하였다.

- ① 만국 공법을 읽는 지식인
- ② 감함을 맞추어 보는 관리
- ③ 한성순보를 인쇄하는 기술자
- ④ 테라코야에서 공부하는 학생
- ⑤ 입당구법순례행기를 집필하는 승려

17. (가) 운동에 대한 설명으로 옳은 것은?

동아시아사 인물 카드



■ 이름: ○○○

■ 생몰 연도: 1823년 ~ 1901년

■ 주요 활동

태평천국 운동을 진압하면서 서양 무기의 우수성을 실감한 그는 중국번 등과 함께 서양의 과학 기술을 수용하여 자강을 이루려는 (가)을/를 추진하였다. 이 과정에서 그의 주도로 근대적 군수 공장인 금릉 기기국이 설립되었다.

- ① 공화정 수립을 목표로 하였다.
- ② 중체서용에 입각하여 추진되었다.
- ③ 일본의 21개조 요구 철회를 주장하였다.
- ④ 윌슨이 제기한 민족 자결주의의 영향을 받았다.
- ⑤ 일본을 비롯한 8개국 연합군에 의해 진압되었다.



18. (가), (나) 시기 사이에 있었던 사실로 옳은 것은? [3점]

(가)	(나)
<p>동아시아사 신문</p> <p>이틀 전 발발한 만주 사변의 국면이 확대될 것으로 보인다. 일본군은 어제 라오닝성의 봉천을 점령하였으며, 오늘 아침 지린성 창춘 인근에서 중국군과 교전을 벌이고 있다고 한다.</p>	<p>동아시아사 신문</p> <p>어젯밤 베이징 교외에 위치한 루거우차오 부근에서 일본군과 중국군이 충돌한 사건이 벌어졌다. 오늘 새벽 양국 군대 사이에서 전투가 시작되었으며, 오전까지도 격전 중이라고 한다.</p>

- ① 일본이 국제 연맹을 탈퇴하였다.
- ② 일·화 평화 조약이 체결되었다.
- ③ 영국이 거문도를 불법 점령하였다.
- ④ 대한 제국이 외교권을 상실하였다.
- ⑤ 러시아가 주도한 삼국 간섭이 일어났다.

19. 밑줄 친 '이 막부' 시기 동아시아 문화에 대한 설명으로 옳은 것은?

우키요에로 알아보는 가부키

이 작품은 가부키 극장인 나카무라자의 내부를 그린 것이다. 나카무라자는 도쿠가와 에미쓰 쇼군 시기에 설립된 것으로 이 막부가 공인한 3대 가부키 극장 중 하나이다.

이 작품은 많은 사람들로 붐비고 있는 나카무라자 앞 거리를 표현한 것이다. 이 막부 시기 성장한 조닌들은 경제적 여유를 바탕으로 가부키를 관람하는 등 여가 생활을 즐겼다.

- ① 한국 - 삼국사기가 저술되었다.
- ② 한국 - 한글 소설이 유행하였다.
- ③ 중국 - 성리대전이 완성되었다.
- ④ 중국 - 현장이 대당서역기를 남겼다.
- ⑤ 일본 - 감진이 계율을 전파하였다.

20. 밑줄 친 '이 전쟁'에 대한 설명으로 옳은 것은? [3점]

이것은 이 전쟁에 참전한 한국군에 보급된 전투 식량의 모형입니다. 통킹만 사건을 빌미로 미국은 이 전쟁에 직접 개입하였고, 미국의 요청에 따라 한국도 파병하였습니다. 낮은 환경과 음식으로 어려움을 겪던 한국군의 요구로 김치, 콩치조림 등으로 구성된 한국형 전투 식량이 개발되었습니다.



- ① 유엔군의 참전으로 전세에 변화가 생겼다.
- ② 파리 평화 협정으로 미군이 철수하게 되었다.
- ③ 제1차 사이공 조약이 체결되는 결과를 가져왔다.
- ④ 일본이 뤄순의 조차권을 확보하는 배경이 되었다.
- ⑤ 중국 국민당 정부가 타이완으로 이동하는 계기가 되었다.

※ 확인 사항

답안지의 해당란에 필요한 내용을 정확히 기입(표기)했는지 확인하십시오.