

제 4 교시

사회탐구 영역 (정치와법)

성명 수험 번호 2 제 [] 선택

1. 정치를 바라보는 갑, 을의 관점에 대한 설명으로 옳은 것은?

교사: ○○아파트는 층간 소음 문제를 해결하기 위해 입주민 대표 회의에서 생활 수칙을 만들었다고 합니다. 이러한 활동을 정치라고 볼 수 있을까요?
 갑: 네. 정치라고 볼 수 있습니다. 정치는 모든 사회 집단에서 나타나는 구성원 간의 대립과 갈등을 조정하고 해결하는 과정이기 때문입니다.
 을: 아니요. 정치라고 볼 수 없습니다. 정치는 정치권력의 획득, 유지, 행사와 관련된 국가 고유의 활동이기 때문입니다.

- ① 갑의 관점은 소수의 통치 엘리트에 의해서만 정치가 이루어진다고 본다.
- ② 을의 관점은 국가 형성 이전의 정치 현상을 설명하기에 적합하다.
- ③ 갑의 관점은 을의 관점에 비해 다원화된 현대 사회의 정치 현상을 설명하기에 적합하다.
- ④ 을의 관점은 갑의 관점에 비해 정치 과정에 참여하는 주체가 다양하다고 본다.
- ⑤ 갑, 을의 관점 모두 학급 회의에서 현장 체험 학습 장소를 결정하는 과정을 정치라고 본다.

2. 그림은 정치와 법 수업 시간에 학생이 필기한 내용이다. 밑줄 친 ㉠, ㉡에 대한 옳은 설명만을 <보기>에서 고른 것은?

< 법의 이념 >

1. 정의: 법이 추구하는 궁극적인 이념
 ○ ㉠ 평균적 정의: 차이를 고려하지 않고 누구나 똑같이 대우하는 것
 ○ ㉡ 배분적 정의: 개인의 능력, 상황 등에 따른 차이를 반영하여 대우하는 것
 :

< 보 기 >

ㄱ. ㉠은 '같은 것은 같게, 다른 것은 다르게' 대우하는 실질적 평등을 추구한다.
 ㄴ. ㉡은 합리적 기준에 의한 차별을 인정한다.
 ㄷ. ㉠의 사례로 업무 성과에 따라 임금을 지급하는 제도를 들 수 있다.
 ㄹ. ㉡의 사례로 65세 이상 노인 중 소득이 일정 수준 이하인 사람에게 생활 안정에 필요한 연금을 지급하는 제도를 들 수 있다.

- ① ㄱ, ㄴ ② ㄱ, ㄷ ③ ㄴ, ㄷ ④ ㄴ, ㄹ ⑤ ㄷ, ㄹ

3. 법치주의 유형 A, B에 대한 질문에 모두 옳게 응답한 학생은? [3점]

A는 국가 권력의 행사가 합법적 절차를 거쳐 제정된 법률에 근거하여 이루어진다면 그 목적이나 내용은 문제 삼지 않는다. 반면 B는 적법한 절차를 거쳐 제정된 법률일지라도 그 목적과 내용이 정의에 부합해야 한다고 본다.

(○: 예, ×: 아니요)

질문	학생				
	갑	을	병	정	무
A는 독재 정치를 정당화하는 논리로 악용될 수 있는가?	○	○	○	×	×
B는 위헌 법률 심사제가 필요하다고 보는가?	○	○	×	×	○
A는 B와 달리 통치의 합법성을 중시하는가?	×	×	○	○	○
B는 A와 달리 권력자의 자의적인 통치 행위를 옹호하는가?	○	×	×	○	○

- ① 갑 ② 을 ③ 병 ④ 정 ⑤ 무

4. 우리나라 헌법 기관 A, B에 대한 설명으로 옳은 것은? [3점]

- 행정부의 최고 심의 기관인 A는 교육 시설 등의 안전 및 유지 관리 등에 관한 법률 시행령 제정안을 심의하였다.
- 행정 기관과 공무원의 직무를 감찰하는 대통령 직속 기관인 B는 직원 채용 과정에 부당하게 개입한 공공기관장을 해임할 것을 ○○부 장관에게 요구하였다.

- ① A는 조약의 체결·비준에 대한 동의권을 가진다.
- ② A는 국가 기관 상호 간의 권한 쟁의에 관한 심판을 담당한다.
- ③ B는 국가의 세입·세출 결산 검사권을 가진다.
- ④ B는 특정한 사안에 대한 국정 조사권을 가진다.
- ⑤ B의 장(長)은 A의 모든 구성원을 임명한다.

5. 표는 정부 형태 A, B를 구분한 것이다. 이에 대한 설명으로 옳은 것은? (단, A, B는 각각 전형적인 대통령제와 의원 내각제 중 하나이다.)

질문	정부 형태	
	A	B
입법부와 행정부가 별도의 선거를 통해 구성되는가?	예	아니요
(가)	아니요	예

- ① A는 의회가 내각을 불신임할 수 있다.
- ② A는 입법부와 행정부의 권력이 융합된 정부 형태이다.
- ③ B는 행정부 수반의 임기가 보장된다.
- ④ B는 국가 원수와 행정부 수반이 동일인이다.
- ⑤ (가)에는 '행정부는 의회에 대해 정치적 책임을 지는가?'가 들어갈 수 있다.

정치와법

6. 다음 자료를 통해 구현하고자 하는 우리나라 헌법의 기본 원리에 대한 설명으로 가장 적절한 것은?

< 위기 가구 긴급 생계 지원금 신청 안내 >

- 지원 대상: 기존 복지 제도나 코로나19에 대응한 지원 프로그램의 혜택을 받지 못하는 저소득 위기 가구
- 지급 금액

가구원 수	1인	2인	3인	4인 이상
지급 금액	40만 원	60만 원	80만 원	100만 원

- 신청 방법: 온라인 및 현장 방문 신청 등

- ① 자유주의와 민주주의가 결합한 정치 원리이다.
- ② 모든 국민의 인간다운 삶을 보장하기 위한 원리이다.
- ③ 국가가 문화를 보호하고 발전시켜야 한다는 원리이다.
- ④ 국가 의사를 결정하는 주권이 국민에게 있다는 원리이다.
- ⑤ 우리나라의 통일을 평화적인 방법으로 추구한다는 원리이다.

7. 갑국, 을국의 정당 제도와 정치 상황에 대한 설명 및 추론으로 옳은 것은? (단, 갑국, 을국 모두 전형적인 대통령제를 채택하고 있다.) [3점]

- 갑국의 의회는 현재 5개 정당이 의석을 차지하고 있으며, 의회 내 제1당의 의석 비율은 27%에 불과하다. 지금까지 치러진 모든 의회 선거에서 어느 정당도 과반 의석을 차지하지 못하였다.
- 을국의 의회는 현재 행정부 수반이 속한 A당이 40%, B당이 60%의 의석을 차지하고 있다. 한편 이전 의회 선거에서는 행정부 수반이 속한 B당이 67%, A당이 33%의 의석을 차지한 바 있다.

- ① 갑국의 현재 정치 상황에서는 여소야대 현상이 나타날 수 있다.
- ② 을국의 현재 정치 상황에서는 행정부의 강력한 정책 추진이 용이할 것이다.
- ③ 갑국의 정당 제도는 을국에 비해 정당 간 대립 시 중재가 어렵다.
- ④ 을국의 정당 제도는 갑국에 비해 다수당의 횡포가 나타날 가능성이 낮다.
- ⑤ 을국의 정당 제도는 갑국에 비해 국민의 다양한 의견을 반영하기에 용이하다.

8. 밑줄 친 ㉠ ~ ㉣에 대한 설명으로 옳은 것은? [3점]

㉠○○도 ㉡△△시는 미성년 자녀의 안전한 양육 환경 조성을 목적으로 하는 ㉢△△시 한시적 양육비 지원에 관한 조례를 전국 지방 자치 단체 최초로 제정하였다. 이 조례에 따라 ㉣△△시장은 양육비를 지급받지 못하여 미성년 자녀의 복리가 위태롭게 될 우려가 있는 경우 한시적으로 양육비를 지원할 수 있다.

- ① ㉠에 대한 지도·감독권은 ㉡이 가진다.
- ② ㉡의 의결 기관은 ㉢이다.
- ③ ㉢의 효력은 ㉠의 전체에 미친다.
- ④ ㉣은 ㉠의 장(長)과 달리 주민 소환의 대상이 된다.
- ⑤ ㉣은 ㉢의 범위에서 규칙을 제정할 수 있다.

9. 우리나라 사법 기관 A, B에 대한 설명으로 옳은 것은?

- A는 공무 집행 방해 사건에 대한 상고심에서 원심 판결을 확정하였다.
- 명예훼손 혐의로 기소된 갑은 B에서 징역형을 선고받았으나 이에 불복하여 항소하였다.

- ① A의 판결에 대해 원칙적으로 상소할 수 있다.
- ② A는 위헌·위법 명령에 대한 최종 심사권을 가진다.
- ③ B는 고등 법원이다.
- ④ B는 위헌 정당 해산 심판권을 가진다.
- ⑤ B는 A의 결정에 대한 항고 사건을 담당한다.

10. 다음 자료에 대한 옳은 설명만을 <보기>에서 있는 대로 고른 것은? [3점]

정치 참여 집단의 특징을 학습하기 위해 카드 게임을 실시하였다.

게임 방식

- 각 학생은 자신에게 배부된 정치 참여 집단의 일반적 특징이 적힌 [카드 1]~[카드 4] 중 서로 다른 두 장의 카드를 선택한다.
- 선택한 카드의 내용이 시민 단체, 이익 집단, 정당 중 하나에만 해당하면 1점, 두 집단의 공통점에 해당하면 2점, 세 집단의 공통점에 해당하면 3점을 획득한다.
- 선택한 두 장의 카드로 획득한 총점이 가장 높은 학생이 우승한다.

[카드 1]~[카드 4]

[카드 1]

공익을 추구한다.

[카드 2]

정권 획득을 목적으로 한다.

[카드 3]

정치 사회화 기능을 수행한다.

[카드 4]

정부에 대한 비판과 감시의 기능을 수행한다.

참여 학생별 카드 선택 결과

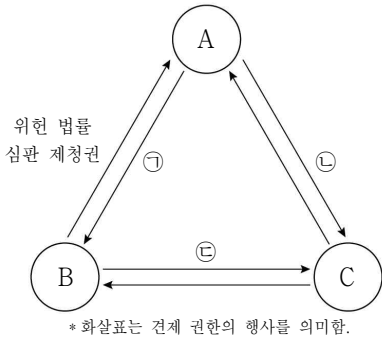
참여 학생	갑	을	병	정
선택 결과	[카드 1] [카드 2]	[카드 1] [카드 3]	[카드 2] [카드 4]	[카드 3] [카드 4]

<보 기>

- ㄱ. 우승한 학생은 정이다.
- ㄴ. 갑의 총점이 가장 낮다.
- ㄷ. 을의 총점은 병의 총점보다 낮다.
- ㄹ. 한 학생이 두 장의 카드로 획득할 수 있는 총점은 최소 2점이다.

- ① ㄱ, ㄴ
- ② ㄱ, ㄷ
- ③ ㄷ, ㄹ
- ④ ㄱ, ㄴ, ㄷ
- ⑤ ㄴ, ㄷ, ㄹ

11. 그림은 우리나라 국가 기관 A~C 간의 상호 견제를 나타낸 것이다. 이에 대한 설명으로 옳은 것은? (단, A~C는 각각 입법부, 행정부, 사법부 중 하나이다.) [3점]



- ① A는 선거 소송에 대한 재판권을 가진다.
- ② B는 헌법 개정안 제안 및 의결권을 가진다.
- ③ C는 국가 예산안 심의·확정권을 가진다.
- ④ ㉢에는 '법률안 거부권'이 들어갈 수 있다.
- ⑤ ㉠, ㉡에는 모두 '탄핵 소추권'이 들어갈 수 있다.

12. 기본권 유형 A에 대한 설명으로 옳은 것은?

국가 인권 위원회는 중앙 선거 관리 위원회 위원장에게 시각장애인이 거소 투표*를 할 수 있도록 접자 투표 용지를 포함한 정당한 편의를 제공할 것을 권고하였다. 이를 통해 시각장애인은 국가의 정치적 의사 결정에 능동적으로 참여할 수 있는 권리인 A를 실질적으로 보장받을 수 있을 것이다.

* 거소 투표: 신고 대상 요건을 갖춘 선거인이 자신이 머물고 있는 곳에서 우편을 이용하여 투표하는 제도

- ① 가장 최근에 등장한 현대적 권리이다.
- ② 소극적이고 방어적인 성격의 권리이다.
- ③ 헌법에 열거되지 않아도 보장되는 권리이다.
- ④ 기본권 보장을 위한 수단적 성격의 권리이다.
- ⑤ 국민 주권주의를 실현하는 데 필수적인 권리이다.

13. 밑줄 친 ㉠~㉣에 대한 옳은 설명만을 <보기>에서 고른 것은? [3점]

디자인의 보호와 이용을 도모함으로써 창작을 장려하기 위한 ㉠디자인 보호법 개정안이 국회 소관 ㉡상임 위원회의 심의를 통과하였다. 이후 ㉢본회의 의결을 거친 법률 개정안은 ㉣정부로 이송되었다.

< 보 기 >

가. ㉠은 국회 의원 10인 이상이 발의할 수 있다.
 나. ㉡은 국회의 효율적인 의사 진행을 위한 것이다.
 다. ㉢을 위해서는 국회 재적 의원 과반수의 찬성이 필요하다.
 라. ㉣이 되는 즉시 ㉠은 법률로 확정된다.

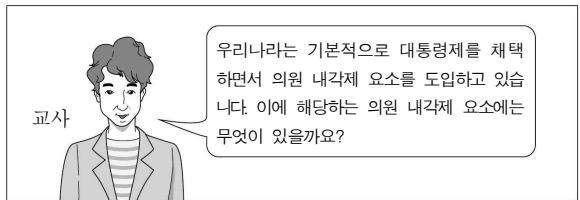
- ① 가, 나 ② 가, 다 ③ 나, 다 ④ 나, 라 ⑤ 다, 라

14. (가)~(마)에 대한 설명으로 옳은 것은?

- (가) ○○당 당원인 갑은 경제 활성화 정책 제안서를 소속 정당에 제출하였다.
- (나) △△시 주민인 을은 △△시장 선거에서 자신이 지지하는 후보자에게 투표하였다.
- (다) □□군은 주민들과 사전 협의 없이 의료 폐기물 처리장을 건설하기로 결정하였다.
- (라) ◇◇ 인권 단체는 학교 밖 청소년 지원 센터 건립을 위한 온라인 서명 운동을 실시하였다.
- (마) ☆☆☆는 환경 정책 관련 공청회에서 나온 학생들의 제안을 토대로 플라스틱 줄이기 정책을 수립하였다.

- ① (가)에서는 시민이 정책을 직접 결정하였다.
- ② (나)에서는 개인적 정치 참여가 아닌 집단적 정치 참여가 나타났다.
- ③ (다)에서는 상향식 의사 결정 과정이 나타났다.
- ④ (라)에서는 시·공간적 제약을 완화할 수 있는 정치 참여가 이루어졌다.
- ⑤ (마)에서는 권위주의적 정책 결정이 이루어졌다.

15. 교사의 질문에 옳게 대답한 학생만을 있는 대로 고른 것은?



- ① 갑, 을 ② 을, 병 ③ 병, 정
- ④ 갑, 을, 정 ⑤ 갑, 병, 정

16. 다음 사례에 대한 옳은 분석 및 추론만을 <보기>에서 고른 것은? [3점]

약사인 갑은 약사가 아닌 자(者)와 동업하여 약국을 개설하였다가 형사 재판을 받게 되었다. 약사가 아닌 자의 약국 개설을 금지하고, 이를 어길 경우 형사 처벌을 규정한 약사법 조항들로 인해 갑은 직업의 자유가 침해당했다고 주장하였다. 이에 갑은 위헌 법률 심판 제정을 신청하였으나 기각되자 헌법 소원 심판을 청구하였다. 헌법 재판소는 해당 심판 조항들이 과잉 금지의 원칙에 위반되지 않는다고 결정하였다.

— < 보 기 > —
 가. 갑이 침해당했다고 주장하는 기본권은 적극적 성격의 권리이다.
 나. 갑은 위헌 심사형 헌법 소원 심판을 청구하였다.
 다. 헌법 재판소는 해당 심판 조항들이 법익의 균형성 원칙에 위반된다고 보았다.
 라. 헌법 재판소의 결정으로 인해 해당 심판 조항들의 효력은 유지된다.

- ① 가, 나 ② 가, 다 ③ 나, 다 ④ 나, 라 ⑤ 다, 라

17. (가)에 들어갈 내용으로 가장 적절한 것은?

과제 게시판 정치와 법 온라인 수업

[문제] 한 선거구에서 1명의 대표를 선출하는 선거구제를 한 선거구에서 2명 이상의 대표를 선출하는 방식으로 변경하면 어떤 효과를 얻을 수 있을까요?

[답안] (가)

- ① 균소 정당 후보가 당선될 가능성이 높아집니다.
 ② 양당제가 형성되어 정치적 안정을 이룰 수 있습니다.
 ③ 정책 성공이나 실패의 책임 소재 파악이 용이해집니다.
 ④ 선거 운동 비용이 적게 들고 선거 관리가 용이해집니다.
 ⑤ 한 선거구 내 당선자 간 투표 가치의 차등 문제가 사라집니다.

18. 다음 자료에 제시된 개정안 주요 내용의 기대 효과로 가장 적절한 것은?

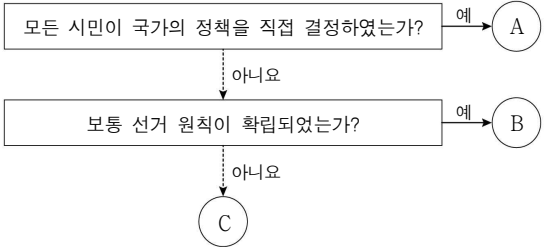
< 지방 자치법 개정안 주요 내용 >

- 주민이 지방 자치 단체장을 거치지 않고 지방 의회에 조례안의 제정·개정 및 폐지를 청구할 수 있게 됨.
- 주민 감사 청구*를 위해 필요한 인구 요건이 완화되고, 주민 감사 청구에 참여할 수 있는 기준 연령이 19세에서 18세로 낮아짐.

* 주민 감사 청구: 지방 자치 단체와 그 장(長)의 사무 처리가 법령에 위반되거나 공익을 현저히 해친다고 인정되면 주민이 삼급 행정 기관에 감사를 청구할 수 있는 제도

- ① 주민의 자치 의식이 강화될 것이다.
 ② 사법권이 지방 자치 단체로 이양될 것이다.
 ③ 지방 자치 단체의 재정 자립도가 높아질 것이다.
 ④ 주민이 지방 자치 단체의 예산 편성권을 가질 것이다.
 ⑤ 지방 의회보다 지방 자치 단체장의 권한이 강화될 것이다.

19. A ~ C에 대한 설명으로 옳은 것은? (단, A ~ C는 각각 고대 아테네 민주 정치, 근대 민주 정치, 현대 민주 정치 중 하나이다.) [3점]



- ① A는 천부 인권 사상에 근거한 통치를 중시한다.
 ② B는 근대 시민 혁명 직후에 확립되었다.
 ③ C는 입헌주의 원리에 기반한 민주 정치를 지향한다.
 ④ A는 B와 달리 모든 사회 구성원의 정치 참여를 보장한다.
 ⑤ B는 C와 달리 국민 주권의 원리를 바탕으로 한다.

20. 다음 자료에 대한 분석 및 추론으로 옳은 것은? [3점]

전형적인 의원 내각제를 채택하고 있는 갑국 의회는 현재 지역구 의원 100명으로만 구성되어 있으며, 선거구는 총 100개이다. 각 선거구에서는 유효 득표 중 다른 후보자보다 한 표라도 더 많이 획득한 후보자가 당선된다. 표는 갑국의 현행 선거 제도에 따른 최근 의회 의원 선거 결과를 나타낸 것이다.

< 최근 의회 의원 선거 결과 >

구분	A당	B당	C당	D당
지역구 득표율(%)	40	38	19	3
지역구 의석수(석)	56	30	14	0

* 정당은 A ~ D당만 존재하고 무소속 출마자는 없으며, 투표율은 100%, 무효표는 없음.

갑국은 정치적인 변화를 원하는 국민들의 요구를 반영하기 위해 다음과 같은 선거 제도 개편안을 논의하고 있다.

지역구 선거구 수와 지역구 의석수는 그대로 유지한 채, 비례 대표 100석을 추가하여 총의석수를 200석으로 변경한다. 비례 대표 의석은 각 정당의 지역구 득표율에 비례하여 배분한다.

- ① 최근 선거 결과, C당과 D당 모두 유권자의 의사가 과대 대표되었다.
 ② 개편안의 경우 유권자 1인은 2표를 행사한다.
 ③ 개편안의 경우 비례 대표제 도입으로 인해 사표가 늘어난다.
 ④ 최근 선거 결과에 개편안을 적용한다면, A당은 B당과 달리 총의석률이 증가한다.
 ⑤ 최근 선거 결과에 개편안을 적용한다면, 연립 내각이 구성될 것이다.

* 확인 사항
 ○ 답안지의 해당란에 필요한 내용을 정확히 기입(표기)했는지 확인하시오.