

시중에 돌아다니는 뉴저지 운전면허 시험지를 종합하여 올립니다.

뉴저지 운전면허 시험 2

### 뉴저지 운전면허 시험 (Good Luck to YOU!)

-Manual 의 page 에 따라 정리하되 반복된 부분은 한번만 기입하였고알코올부분은 6 장과 7 장을 합침

-시험족보에 따라 자주 출제되었던 문제들만 정리함 -기호

\* :선배님들의 정리 및 기출문제

# : 출제되지 않았지만 나름 중요하다고 생각한 것 들 - (출제): 제가 시험 중 출제된 문제

### 1 장: License System

\* 운전시 항상 지참해야 하는 서류: 운전면허증, 보험증, 자동차 등록증

(만약 경찰에게 걸려 위의 세 개 중 하나라도 없으면 벌금: 100 불)

\* 이름 변경-2 주이내-직접)-MVC(motor vehicle commission)

주소변경-1 주이내-직접 혹은 ONLINE-MVC)(출제)

\* 타주의 면허증 소지자: 60 일이내 혹은 타주면허말소되기전에 뉴저지운전면허신청

(단 영업용일 경우: 30 일)

\* **Basic License: 18 세 이상(출제)**

\* Type of NJ License

1-Basic (class D) 2-Commercial (class A,B,C) 3-Motocycle (E)

4-Moped (F): A,B,C,D,E 의 면허증을 가지고 있으면 운전가능 5-Agricultural 6-Boat

\* NJ Operator License Requirements: cycle-4 년

\* **Graduated Driver License (GDL) 제한**

1) Special Learners Permit: 11:01pm~5:00am (시작연령 16 세)

승객: 2 사람-가족과 그외 1 인

운전 감독관 조건-뉴저지운전면허 소지자. 운전경력 3 년 및 21 세 이상

2) Examination Permit: 12:01~5:00am, 승객: 1)과 동일 (시작연령 17 세)

3) Provisional Driver License: 시간 및 승객: 2)와 동일

##단, 21 세이상 시 시간과 승객제한이 없어짐(출제)

\*흐름도참고

\*Examination permit 를 획득하기 전에 치러야 할 시험: Eye sight and Knowledge test

\*감독관 동승기간: 21 세미만: 6 개월, 21 세 이상: 3 개월

\*운전면허분실시 갱신은 MVC 에서 하나 신고는 경찰서로 갈 것

### 2 장 NJ Driver License 를 획득하기 위한 과정

\*주행 시험 볼 때 필요한 서류

-차: inspection sticker, registration, insurance

-examination permit, -accompanying driver

### **3 장 Driver Safety and Rules**

#### **@.안전벨트**

\*앞좌석의 승객-무조건 착용요구

\*승객 -18 세미만: 운전자 책임 -18 세이상: 승객자신 책임

\*GDL permit 운전자일경우-모든 좌석에 안전벨트착용의무화(출제)

\*안전벨트 착용하고 사고가 났을 때 생존율: 미착용보다 3-4 배 좋음

#### **@.Car seat**

#12 세 이하: 뒷좌석

(출제): 어린이의 좌석은 가능한 한 어디가 좋은가? 예문에 트렁크도 있었음..ㅋㅋㅋ

#### **@.Child Restraint Law**

\*8 세~18 세 사이의 승객은 어디에 앉든 무조건 안전벨트 착용

\*8 세이하 80 파운드미만의 어린이: approved car 혹은 booster seat 에 앉혀야 함

#infant: rear-facing infant child safety seat 에 앉히되 반드시 뒷좌석에 배치할 것

#### **@.Car condition**

\*경적을 울릴 때: 다른 운전자의 주의를 요할 때, 골목에서 나올 때, curve or driveway, in certain passing situation

#### **@.Starting a parked car**

\*Blind spot: p23 참고: 왼쪽과 오른쪽

#rearview mirror's blind spot: on the left and right sides and behind rearview window posts

#### **@.Steering**

\*커브길을 돌 때 차는 직진하려는 경향이 있기 때문에 커브에 진입하기 전에 속도를 늦춘다.

\*핸들을 잡는 손의 위치: 9 시에서 3 시사이

#### **@.Driver Signals**

\*회전신호는 회전하기 100 피트 전부터 준다.

\*수신호

- 팔을 밑으로 내림: 서행이나 정지,

- 팔을 위로하면: 우회전,

- 팔을 뺀으면: 좌회전

(출제) 다음중 Signal 은 언제 사용되는 것인가?

(a) turn (b) 차선을 변경할 때 (c) 속도를 늦출 때 (d) All of above **정답은 (d)**

@ 후진할때는 몸을 돌려 주위를 살핀후 천천히 후진

#### **@ Parking**

#decline: curb 쪽으로 핸들을 돌려놓고 park, or reverse with a manual transmission

(출제): 내리막길에 주차할 때 핸들은 어느쪽으로 돌려놔야 하는가?: curb 쪽

#incline: curb 에서 멀리 핸들을 돌려놓고 park or low gear with a manual transmission

#curb 가 없을 경우: edge 쪽으로 핸들을 돌려놓는다.

### **@Parallel parking**

\*curb 로부터 6 인치

## **4 장.Rules and Regulation for Safe Driving**

### **@Speed control**

# a good rule for adjusting speed in traffic: keep up with other vehicle's speed

\*주행속도제한: 25mph: 비즈니스, 주거, 학교(출제)

### **@passing**

\*도로의 황색차선: 실선: passing 금지

: 점선: passing 허용

### **@pass only when safe**

\*대부분의 추월은 왼쪽에서

- 오른쪽에서 할 수 있는 경우

1) 같은 방향으로 가는 차선이 한 차선 이상 있을 때

2) 앞의 차가 좌회전을 하려고 할 때

### **@Controlled Intersection**

\*교차로에서 흰 실선의 의미: 정지 behind the line for a traffic sign or light

\*교차로에서 왼쪽 차선의 운전자는 오른쪽 차선의 운전자에게 양보한다

\*교차로에 신호가 없으면 필요하면 정지할 준비를 하면서 조심스럽게 통과(출제)

### **@Entering or Leaving Highways**

\*가속선: 고속도로 진입로, 감속선: 고속도로 출입로

(출제)가속선이란?

### **@Turning Regulation**

#우회전: 우회전 차선으로 진입, 반드시 정지(풀스탑)후 교통상태를 살피고 양보할 것 다하고

우회전, 우회전 금지 표시가 없어야 하고 우회전 할 공간이 충분해야 함.

(출제)우회전을 하기위해서는?

#좌회전: 2way 에서 4way 로 운전시 도로의 중앙에서 가장 가까운 1 차선으로 좌회전, 그후

오른쪽으로 차선변경

### **@Stopping for School BUS**

\*School Bus 뒤에서 운전할 경우: 최소 25feet 떨어져서

\*만약 스쿨버스가 stop 한 경우: 최소 25feet 떨어져서 stop

(학생을 태우거나 학생이 내리고 있으면 무조건 정차)

\*학교근처의 속도는 25mph,but 스쿨버스가 정차해있으면 10mph(어느 방향이던지)(출제)

#### @Pulling over and Stopping for Emergency Vehicles

\*응급차량이 사이렌소리나 빨강 혹은 파랑 불빛으로 반짝이고 있을 때: 도로의 가장 오른쪽으로 차를 댄 후 STOP

#### @Using Lights

\*Headlight: 일출이나 일몰 1 시간 반전이나 후에 turn on, rain, snow, ice storm, fog or smoke, 시야 500feet 이하일 때

#### @Parking regulation

\*주차거리

-safety zone:20feet

-소화전: 10 피트

-교차로, 횡단보도: 25 피트(출제)

-Railroad crossing, stop sign: 50 피트

-fire station entrance: 20 피트, 반대쪽: 75 피트

#### @Cellular phone

\*핸드폰 사용가능 상황: for safety reasons, to report criminal act

To report(화재, 교통사고, serious road hazard, medical emergency, hazardous material emergency)

### 5 장. Defensive Driving

\*고속도로 운전에서 졸음을 예방하기 위해서는 같은 곳을 몇 초이상 주시하지 않는다.

#### @Following distance

1) one-car length method

: one car length(or about 20feet) for 10mph

: 50mph-5 car length, 20mph-2 car length

2) two-second rule(출제)

: 고정된 물체를 정하고 두개의 차량이 그 고정된 물체를 통과할 때 최소한 2 초가 경과해야 함.

#### @Road condition

\*차가 웅덩이를 지나왔을 때-브레이크를 테스트

\*도시운전: 속도를 늦춘다. Pedestrian 을 주의한다. 12 초앞을 본다.

\*hydroplaning: losing the tire grip on wet roads and riding on a film of water

-예방: 닳아진 타이어로 운전하지 말고 속도를 늦춘다.

#defensive driving course: 5 년마다 한번씩

\*studded snow tire: 11.15~4.1 일까지 사용가능

### 6 장. Driver Privileges and Penalties

#### @Losing the Driving Privilege

\*Habitual offender: 3 년안에 3 번의 면허정지(suspended)

@Alcohol(p56, p61)

\*술의 영향: 운전자의 감각과 판단력 저하

\*알코올을 섭취하고 운전한다는 의미는 몸의 반응시간이 떨어지고 판단이 흐려진다.

-speeding: high speed, weaving, slow driving, jerking motion, quick stop

(출제) 술 취한 사람의 행동은? 예문은 위와같음

\*술개는 최고의 방법: 오직 시간

\*술의 양: 12 온스의 맥주 = 1.5 온스의 86proof liquor = 5 온스의 와인 은 알코올량이 같음.

\*BAC 에 영향인자: 술의 양, 몸무게, 음주속도, 음식

\*음주에 의한 위험을 줄이는 가장 좋은 방법: 음주 후에 운전하지 않는 것.

\*음주운전시 가장 많이 소비되는 술: 맥주(출제)

\*파티에서 술을 먹은 운전자가 사고를내면 술을 준 주인은 소송을 당할 수 있습니다.(출제)

\*21 세이상: 0.08~0.10%인경우

1) 3 개월면허정지

2) 250~400 달러벌금

3) 12~48 시간 IDRC

4) 30 일까지 구금

5) 75 달러/하루 IDRC fee

6) 75 달러 neighborhood service fund fee

7) 100 달러 Drunk Driving Fund FEE

8) 100 달러 Alcohol education, rehabilitation and enforcement fund fee

9) 1000 달러 annual surcharge for 3 years

\*21 세미만: 0.01%BAC 인경우: 불법

: 7 개월~1 년까지 면허정지

: 벌금: 300-500 달러

: 12~48 시간 IDRC

:30 일까지 구금

5)~9) 위와 동일

(출제)21 세미만에서는 0.01%이상이 불법임. 예문이 나오나 모두가 정답이었음.

@Breath test

\*함축법: 음주측정 테스트에 동의함

\*음주측정거부시: 0.08% BAC for first offence 와 동일

(나이에 상관없이??) 7 개월~1 년간 loss of privileges

\*사고 위험율

-0.05%이상: 2 배

-0.10%이상: 6 배

-0.15%이상:25 배

\*음주운전으로 인해 운전면허 정지 중 운전

-\$500 벌금, 1 년에서 2 년까지 추가 정지, and/or 10 일에서 90 일 imprisonment

@Point System(p57)

#2 점 가산: interstate compacts 에 속한 state 에서 offense commitment

#3 점: improper turn

#4 점: 최고속도를 15-29mph 초과, improper passing

#5 점: 최고속도를 30mph 초과, tailgating, reckless driving, passing a stopped school bus, racing high way\*\*

#8 점: leaving the scene of an accident

\*65mph limit 초과시 double fine(p29)

\*12 개월동안 위반이 없으면 최고 3 점까지 감해줌

\*타주의 포인트도 합산

\*12 점에서 14 점이 되면(24 개월동안) 면허정지

@Surcharges and point violations(p59)

#6 점 이상의 운전자(3 년이내) : \$150 for 6 point, \$25 for each additional point

## 8 장. Other road users

@Trucks

\*no zone, 정지거리 등을 생각해야 함

\*날씨가 좋지 않을 때 정지하는데 25%더 걸림

\*no zone: 앞-10~20 피트, 뒤-200 피트, side no zone

\*트럭을 지나갈 때 일정한 속도를 유지하고 safety zone 에 있을 것, 절대로 오른쪽에서 추월하지 말 것

## 9 장. Vehicle information

\*차량 등록: 60 일이내, 타주의 차량등록이 60 일이내 말소 시 말소이전에 등록하도록

\*최근 등록 서류가 없을 경우 벌금:\$173

@Inspection

\*새차: 4 년, used car: 2 년마다 한번씩

\*타주에서 온 차: 등록한지 14 일이내 inspection

## Driver Safety

@Road sign

\*순서: 빨강 노랑 녹색

-노랑불: 안전하게 정지하기에 교차로가 너무 가깝지않으면 교차로 들어서기전에 정지(출제)

-녹색불: 안전할 때 진행

\*계속 깜박이는 노랑불: Slow down and proceed with care

\*계속 깜박이는 빨강불: Stop, Yield, proceed only when clear.

@sign

\*red, octagon: STOP

\*red, triangle: YIELD(출제) 오른쪽 위에 도형이 나옵니다.

\*노랑, 마름모꼴: WARNING

\*등근 황색, 검정색: RAILROAD(출제) 오른쪽 위에 역시 도형이 나옴.

\*Special warning sign: orange triangular: slow-moving vehicle

@Emergency Situations

\*Brake failure

-저속기어로 두고 여러 번 페달을 짚고 강하게 밟는다.

\*Tire Blowout

-핸들을 직선으로 두고 가속 페달에서 발을 떼고 저절로 정지할 때까지 둔다.

-브레이크페달은 밟지 않는다.

\*Gas pedal problem: 가속발판이 뻑뻑하여 움직이지 않음

-기어를 중립으로 바꾸고 도로에서 벗어나기 위해 신호를 주고 안전하게 벗어난 다음 정지하고 엔진을 끈다.

\*사고

-재산상 손해가 \$500 이상이고 personal injury 가 발생했을 때 if no police report is filed 10 일 이내 MVC 에 written report 를 보냄

@Violation and Fine(p99, p59)

\*무면허 운전\$100, 등록증-면허증-보험증 미지참시\$100, no moped 보험 \$100

\*면허정지중 운전\$250, 무보험운전\$250

\*면허정지중 운전

1)첫번째: 최고 500 달러, 6 개월 추가로 정지

2)두번째: 최고 750 달러, 최고 5 일구금, 6 개월 추가 정지

3)세번째: 최고 1000 달러, 최고 10 일구금, 6 개월 추가 정지

\*음주운전으로 인해 운전면허 정지 중 운전

-\$500 벌금, 1 년에서 2 년까지 추가 정지, and/or 10 일에서 90 일 imprisonment

\*운전면허위조: \$1,000, 최고 6 개월 구금, driving privilege loss(p0)

\$10,000, 최고 18 개월 imprisonment

\*운전면허신청시 위법: \$200~\$500, 30~90 일 구금(p0), 최고 6 개월 imprisonment(p98)

Suspension of driving privileges (6 개월~2 년)'

\*Work zone 에서는 벌금이 2 배

\*65mph 이상에서 10mph 이상의 속력으로 걸렸을 때 벌금 2 배

# GDL 관련

1) Student Permit License

- 밤 11 시- 오전 5 시까지 운전금지

- 동승자: 뉴저지 운전면허를 가진 21 세이상, 3 년이상 운전 경력자

## 2) Provisional driver License

- 밤 12 시- 오전 5 시까지 운전금지
- 가족과 그외 1 인 탑승 가능
- 감독관 동승 6 개월 (21 세이하), 3 개월(21 세이상)

## 3) Basic driver License

- 1 년후 정식면허 받을 수 있다.
- 받는 조건을 모든 과정을 통과한 18 세 이상

※ GDL 관련 문제는 5 문제 정도 나왔던것 같습니다. 위의 내용을 다 숙지하세요.

## # Driving 관련

1) 운전시 지참해야 하는 서류: 운전 면허증, 보험증, 차량 등록증

(경찰한테 걸렸을 경우 위의 세개 중 하나라도 없으면 벌금 100 불- 시험에 나왔습니다.)

2) 뉴저지에서는 18 세이상이 베이직 라이선스를 딸 수 있다.

3) 주소 변경은 7 일이내

4) 타주의 라이선스는 60 일 이내에 변경(단 커머셜 라이선스는 30 일)

5) 안전벨트 미 착용시 책임은 운전자에게 있다.

6) 회전신호는 회전하기 100feet 전부터 준다.

7) 후진할 때는 몸을 돌려 주위를 살핀후 천천히 후진

8) 날씨가 좋지 않은 상황에서 트럭의 정지거리는 자동차의 25%

9) 경사진 곳에 주차할 경우 답은 “-에서 띄어둔다”

10) 주행속도 제한 구역 학교 25 마일, 비지니스 or residential 25 마일

11) 2 차선 도로에서 4 차선 도로로 left turn 할 경우 1 차선 라인으로 진입

12) 구급차 사이렌 소리를 들으면 오른쪽 차선으로 바꾸고 정지

13) 깊은 웅덩이를 지나왔을 때 브레이크를 체크한다.

14) 오른쪽으로 처선변경 가능한 경우는 앞의 차가 좌회전하려고 하고 오른쪽 차선이 비어있을 경우임.

15) 안전거리 유지가 가능한 2 초법

16) 점선과 직선 = 점선에서는 차선 변경가능, 직선에서는 통과할 수 있다.

17) 고속도로에서 졸음 방지를 위해 한곳을 주시하지 않는다.

18) 교차로에서 도로를 가로지르는 일직선의 의미는 신호에 의해 정지할 경우, 선 앞에서 정지

19) 계속 깜박이는 빨간불은 정지후 조심해서 진행 - 철도길에서 깜박이는 빨간불 경우, 정지

20) 녹색불: 안전할 때 진행

21) 노란색 마름모꼴 신호판: 경고



- 22) 빨간색 팔각형의 신호판: 정지
- 23) 삼각형: 양보
- 24) 노란색 신호등: 안전하게 할 수 있으면 교차로 들어서기 전에 정지한다.
- 25) 커브를 돌때 차는 직진하려는 경향이 있다. 따라서 커브를 돌기전에 속도를 줄인다
- 26) 헤드라이트를 켜채 전방에서 달려오면 자기 차선의 오른쪽 아래를 본다- 헤드라이트를 켜야할 경우, 시골길..
- 27) 스쿨버스가 정지하고 있을때는 10 마일 이하로 지나갈 수 있다.
- 28) 골목길을 나올때 반드시 경적을 울린다.
- 29) 타이어가 터지면 점차적으로 속도를 줄인다.
- 30) 브레이크가 갑자기 작동하지 않으면, 저속기어로 놓고 여러번 밟는다.
- 31) 주간 고속도로 최고 제한 속도는 55 마일 (65 마일이라는 얘기도 있음. 보기에 있는 것을 찍으면 되겠죠?^^)
- 32) 뉴저지에서는 혈중 알콜농도가 0.1% 미만이어야 한다.
- 33) BAC 가 0.5%일때 사고 가능성은 2 배, 1.0%일때 사고 가능성은 6 배
- 34) 음주운전 테스트 거부시 \$250-\$500 벌금에 6 개월 면허정지
- 35) 음주 운전시 기소 가능성은 96%
- 36) 음주 운전으로 3 번 유죄 판결시 면허중지
- 37) 휴대폰 사용이 가능한 경우: 화재, 교통사고, 위급한 도로상황, 응급상황
- 38) 정차, 주차하면 앞되는 거리 (주차시 유의)
  - 소방소 앞: 20 피트
  - 소화전 앞: 10 피트
  - 기차길 앞: 50 피트
  - 스톱 싸인: 50 피트
  - 건널목 : 25 피트
- 39) 음주운전 처벌 상황(뉴저지)
  - 0.8 - 0.1% 사이(21 세이상) - 3 개월 면허정지, \$250-\$400 벌금, 30 일 구금 (21 세 미만일 경우도 나왔음, 정답은 “모두다” 였는데, 예문은 기억이 없습니다.)
  - 0.1 이상: 7개월 면허정지, \$300-\$500 벌금, 30일 구금
- 40) 안전벨트 미 착용시 3-4 배 위험성이 높다.
- 41) 백밀러 사각지대: 왼쪽, 오른쪽, 뒤쪽 (트럭뒤를 따라갈 때 주의해야 하는 점 나왔음)
- 42) 경적을 울릴때는 다른 운전자의 주의를 요할 때임
- 43) 빨간 불일때 우회전 가능한 때는 NO TURN ON RED 싸인이 없을때, 파란불 일때, YIELD 상황.
- 44) Hydroplaning 의 정의: 물기있는 길에서 고속으로 달리는 차가 옆으로 미끄러지는 현상
- 45) 혈중 알코올 농도가 0.15 이상이면 사고날 확률이 25 배증가.

- 46) 교차로에서 왼쪽 차선의 운전자가 오른쪽 차선의 운전자에게 양보한다.
- 47) 수신호: 팔을 위로하면 우회전, 뺏으면 좌회전, 밑으로 내리면 정지 혹은 slow
- 48) 함축법이란: 드라이버의 동의없이 음주 테스트를 할 수 있는 법
- 49) 운전 중 타이어가 터지면 핸들을 꼭잡고, 정지하도록 두며, 발을 뺀다.
- 50) 운전 상습범은 3 년동안 3 차례 걸쳐 음주운전으로 걸린사람을 뜻함.
- 51) 도로의 황색 두선이 뜻하는 것은 어느쪽으로든 turn 할 수 없음임.
- 52) 운전면허를 위조할 경우 재판에 회부됨
- 53) 다른 주에서 온차는 60 일안에 등록해야함
- 54) car inspection 은 2 년에 한번
- 55) 우회전 할려고 하면 우회전 차선으로 진입

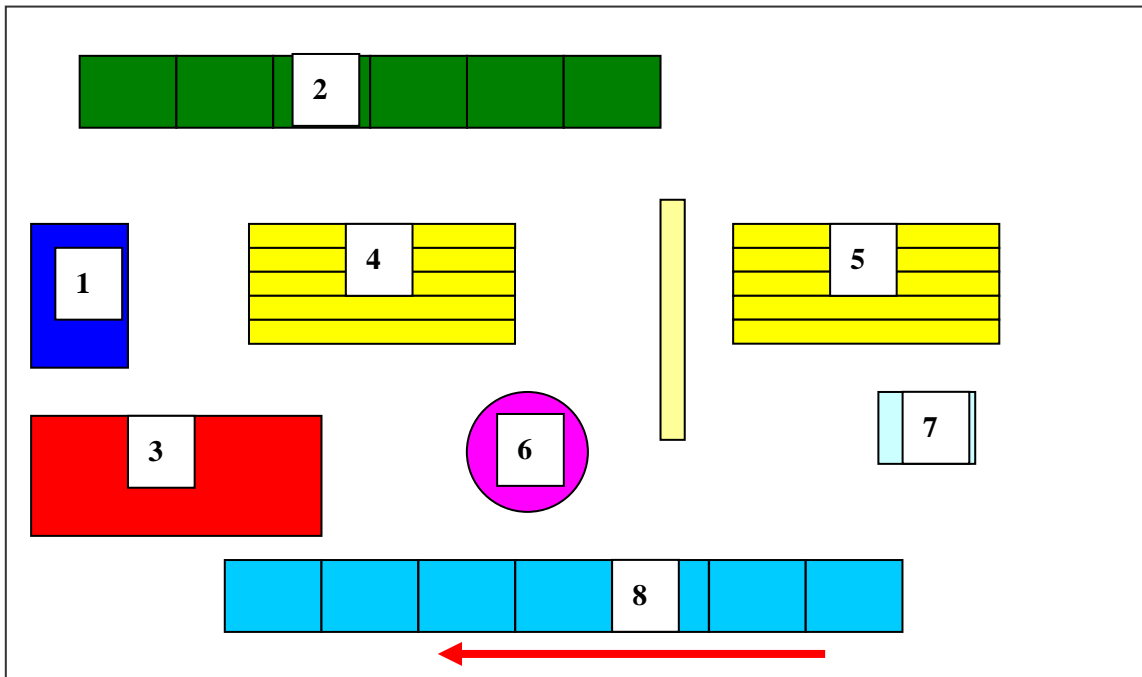
7/4/2006

기존에 크사니에 올라와있던 뉴저지 운전면허 시험문제 자료로 이번 6 월에 시험을 보고 몇개의 답이 실제 정답과 다르고, 상당부분의 문제가 소스와 다르다는것을 알았습니다. 기존의 자료로도 운이 좋으면 붙을 수도 있었지만, 기존 자료의 오답으로 내리 4 개를 틀리는 바람에 그리고 정보의 부족으로 다시 한번 시험을 보게 되었습니다. 50 개 중에 40 개를 먼저 맞아야 시험에 합격할 수 있으며, 모르는 문제는 skip 하여 우선 아는문제부터 맞출 수 있습니다. 시험 바로 보기전에 만난 한국분께서 이 소스를 주셔서 읽어본 결과 많은 부분이 실제 1 번째 시험과 비슷했으며, 이 정도의 소스로 한번에 붙을 수 있으리라 생각합니다. 2 번째 시험은 1 번째 시험보다 쉽습니다. 수치를 묻는 문제가 훨씬 적었으며 상식적으로 생각하면 맞출 수 있는 답도 있었습니다. 하지만 1 주일이나 기다려야 2 번째 시험을 볼 수 있기 때문에 여러분들은 이 자료를 가지고 공부하시어 다시 한번 보시게 되는 수고를 덜었으면 합니다.

개인적인 사정으로 Lodi, Wane, 그리고 North Bergen 까지 가 보았습니다. Lodi 와 Wane 에 있는 DMV 가 좀 많이 까다로운 편이며 North Bergen 은 분위기가 그냥 멕시코라고 생각하시면 됩니다. 하지만 그렇게 널널한 편은 아닙니다. 그나마 위의 다른 두 곳보다는 좀 느슨한 것 같습니다.

6 points 와 다른 프로세싱은 기존에 있던 자료를 그냥 copy 하여 다음에 붙이겠습니다.

Trenton DMV



1. 출입문
2. 창구
3. 시험 보는 곳 (컴퓨터실)
4. 대기자용 의자
5. 대기자용 의자
6. Information desk
7. 6 point 체크하는 desk (임시 책상)
8. 면허시험 등록하는 창구

출입문 (1)을 열고 들어가면 왼쪽으로 창구(2)가 보입니다. 이 창구에서는 면허 시험 외에 다른 업무를 처리합니다. 바로 information desk (6)로 가서서 면허 시험 보러 왔다고 얘기하면 두 장의 카드를 줍니다. 카드에는 주소와 social number, 키 (feet), 몸무게(lb), 눈동자 색깔 (갈색으로 적으면 됩니다.)을 적습니다. 두 장의 카드에 기입하는 정보는 동일합니다. 기입한 카드를 가지고 왼쪽으로 가면 대기자용 의자 (5)앞에 작은 책상이 있습니다. 그 곳에서 6 point 를 확인합니다. 제가 갔을 때는 사람이 3 명 밖에 없어서 번호표를 받지 않았지만, 사람이 많을 때는 번호를 정해 주는 것 같습니다. 기입한 카드를 가지고 (7)에서 면허 시험 보러 왔다고 얘기를 하세요. 그러면 번호를 알려 주면서 기다리라고 얘기해 줄 것입니다. 6point 를 확인한 후에는 창구 (8)에서 등록을 시작합니다. 이때 다시 6 point 서류를 제시 합니다. 이때 앞에서 기입한 두 장의 서류도 함께 제출합니다. \$10 를 내 후 등록 서류를 받으면 옆 창구에서 사진을 찍고 sign 을 입력합니다. 그런 후 가장 마지막에 있는 창구로 가라고 합니다. 그 창구에서 등록 서류와 함께, 한국 면허증과 국제 면허증을 제시 하세요. 그러면 등록 서류 하단에 한국 면허 번호를 기입해 줍니다. 다음에 동일한 장소에서 eyesight 검사를 합니다. 영문자와 신호등 색깔을 말하라고 합니다. 다음에 한국어로 필기 시험을 볼 것인지 묻고 yes 라고 하면 바로 옆에 있는 컴퓨터실(3)로 가서 시험을 보라고 합니다. 여러 대의 컴퓨터 중에 본인의 이름이 나오는 컴퓨터에서 시험을 보면 됩니다. 모니터는 Touch screen 입니다. 50 문항 중 40 문항을 맞추시면 바로 pass 라고 뜨면서 시험이 끝납니다. 시험이 끝난 후 pass or fail 인 경우 모두 마지막 창구로 가시면 등록 서류에 pass 인 경우에는 pass 라고 기입한 후에 그날 날짜의 도장을 찍어 주고 기다리면 면허증을 받을 후 있습니다. 이때 \$10.50 을 냅니다. Fail 인 경우에는 다음 시험 볼 수 있는 날짜의 도장을 찍어 줍니다. 이 기간은 7 일 후가 됩니다. 7 일 후에 등록 서류와 6point 서류들을 가지고 가시면 바로 시험을 보실 수 있습니다. 제 경우에는 ID 검사만 한 후 (6 point 검사 안 함) 바로 시험을 봤습니다. pass 하면 서류에 pass 라고 기입한 후 그 날 날짜의 도장을 찍어 줍니다.

참고로 Trenton DMV 에 한국인 직원 분이 계시 더군요. 친절하게 도와 주셨습니다.

영어 시험이 문제 은행방식이기 때문에 영어로 시험을 보실 분들을 위해 free test 를 제공해 주는 site 주소를 알려 드리겠습니다. 이 site 에서도 manual 을 down 하실 수 있습니다. 그런데 위의 주소로 바로 가시는 게 한번에 manual 을 down 받을 수 있습니다.

**2006년 6월 14일 이후 DMV 웹사이트가 업데이트 되어서 그냥 DMV 주소를 올립니다.**

**<http://www.state.nj.us/mvc/>**

**Lodi 는 Bergen county 에 있으며, North Bergen 은 Hudson county 에 있습니다.**

**다른 카운티에 있는 곳을 가시고자 할 때는 vision 과 knowledge test 를 하는 곳인지 확인하시고 가시기 바랍니다.**

2005 년도부터 한국어 시험 문제가 바뀌었습니다. 제가 1 월 26 일 날 정보 없이 예전 문제만 보고 갔다가 떨어지고 2 월 4 일 날 다시 시험을 봤습니다. 결론은 두 번의 문제가 동일하지 않았습니디. 물론 겹치는 문제는 있었습니다. 첫번째 문제가 어려웠던데 반해 두번째 문제는 문제만 잘 있고 상식적으로 판단해 답하면 합격할 확률이 높은 문제였습니다. 물론 manual 을 보고 가시면 문제 없이 합격 하실 수 있고요...

---

다음은 제가 받은 한국어 시험 문제입니다. 참고하시어 한번에 좋은 결과 기원합니다.

**기본적으로 알아두어야 할 사항. (매우 중요)**

GDL 이란 처음으로 면허증을 취득하는 사람들의 연령에 따라 나누어 지는 교육 프로그램으로서,

예, 1. 만 16 세에 학생퍼밋(운전연습자격)을 받아 운전학교에서 반드시 6 시간 교육을 받아서 6 개월 연습기간을 거쳐 면허증을 취득해야한다.

2. 만 17 세 이상 만 21 세 미만의 사람들이 6 개월의 연습기간을 거쳐 면허증을 취득해야한다.

3. 만 21 세 이상 된 사람들이 처음으로 면허증을 받아야 하는 경우에는 운전 교습기간이 3 개월 거친 후 실기를 보는 것이다.

- 퍼밋 신청-> 눈검사, 필기시험-> 실기시험 -> 면허증 취득

\* 운전연습기간중 (퍼밋) 교통위반하여 정지를 당하면 정지당한 기간은 실기시험이 그 기간만큼 길어진다.

\* 처음으로 면허를 얻으면 그것은 임시 면허증이며, 그로부터 1 년간 운전을 해야 정식(베이직) 면허가 된다.

**<문제>**

학생 퍼밋을 받을 수 있는 나이는?

-16 세

뉴저지에서 면허를 취득할 수 있는 나이는?

-17 세

베이직 면허를 받을 수 있는 나이는?

-18 세

17 세 GDL 퍼밋 소지자가 태울 수 있는 사람수?

-모든 식구와 1 명

운전연습기간은?

**-21 세 미만은 6 개월, 21 세 이상은 3 개월**

21 세 이상 (GDL) 운전연습 할 수 있는 시간은?

**-제한시간없음**

학생퍼밋 소지자의 운전연습 할 수 있는 시간?

**-오전 5:01 부터 오후 11 시까지**

GDL 임시면허 소지자의 운전가능 시간?

**-오전 5:01 부터 밤 12 시까지**

차량 등록의 최소나이는?

-17 세

타주에서 뉴저지로 이사온 사람은 얼마만에 뉴저지 면허를 취득해야하는가?

**- 60 일**

타주에서 뉴저지로 이사왔을때 차량등록 해야하는 기간은?

-60 일

뉴저지 내에서 이사했을 때 주소변경 신고는?

-7 일 내

이름 변경시 신고기간은?

-14 일 이내

이혼하여 이름이 바뀌면 언제까지 신고해야하는가?

**-14 일 이내**

임시면허에서(조건부) 정식면허로 변경되는 기간?

-1 년

차량등록에 필요한 서류는?

-신청서, 면허증, 보험증. \* 중고차의 경우는 타이틀도 포함

차량번호판 도난시 신고기간?

-24 시간 이내

중고차를 등록한 후 검사를 받아야 하는 기간?

-14 일 이내

차량 검사때 필요한 서류?

-차량 등록증, 운전 면허증, 보험증

차량검사는 몇년에 한번씩 하나?

-새차는 4년. 그 이후 2년마다.

로드 테스트(실기)를 할 때 필요한 서류는?

-유효한 퍼밋, 신분증, 신분증 나태내는 서류

운전면허 정지가 끝난 후 갱신 할 수 있는 기간은?

-1년

로드 테스트를 하는 차는 어떤 서류를 준비?

-보험증, 차량등록증, 검사증

로드테스트에 같이 가거나 운전을 가르칠 수 있는 사람의 조건은?

**-21시 이상으로 면허취득한지 3년이상 된 사람**

주행 시험때 감독관이 허락을 않을 경우?

-감독관이 브레이크를 밟을 수 없을 때

뉴저지의 보험은?

-책임보험

벌점은 얼마나 유지되나?

-24개월

벌점은 얼마나 관리하나?

-12개월

얼마나 연속적으로 추가벌점이 없으면 3점을 감해주나?

-12개월

운전면허증, 차량등록증에 허위로 기재(거짓기재) 하면?

-200불-500불 벌금, 6개월 징역

알콜테스트에 응하지 않으면?

-250불 - 500불 벌금, 6개월 면허정지, 30일 구금

주행시험 대리응시 때?

-500불 벌금, 90일간 징역

번호판 위조시?

-500불 벌금, 60일 징역. 6개월 면허정지.

운전면허증 타인 양도시?

-100불 벌금

상습적 운전면허정지자란?

-3년 동안 3번이상 정지당한 사람

혈중 알콜농도의 사고율

-0.05 % 사고율 **2 배**, 0.10% 사고율 **6 배**, 0.15% 사고율 **25 배**

21 세 미만에게 허용되는 알코농도 수치는?

-**0.01 이상이면 모두 불법**. 미성년자는 술을 먹을 수 없음. 답: 모든 수치가 0.01 이상이므로 모두 다.

묵시적 동의법이란?

-경찰이 요구할 때 음주측정에 응하는것

다음중 알코농도가 가장 많은것은?

-**12 온스의 맥주 = 5 온스의 와인 = 1 과 1/2 온스의 양주**. 위의 모든 술의 수치는 같음.

알콜이 몸에 미치는 영향

-반사작용이 낮다. 중심을 못잡는다. 판단능력 저하. 답 모두다.

21 세 미만: 알코농도 0.01% 이상이면 벌칙. 초범 7 개월-1 년 정지 300 불-500 불 벌금

21 세이상:알코농도 0.08% 이상이면 벌칙. 초범 0.08%-0.10% 3 개월 정지. 250-400 불 벌금

알콜이 몸에 얼마나 영향을 주는가에 대한 조건?

-**술마신양, 술먹은 시간, 몸무게**에 따라 모두 다 영향을 준다.

당신 집에서 술먹구 음주운전을 하다가 사고를 내면?

-그로 인해 **소송**을 당할 수 있다.

음주운전에 처음 걸린 사람의 처벌은?

-벌금, 면허정지. 모두다.

술이 깨기 위해 필요한 조치는?

-오직 시간이 지나야 한다.

모페드(스쿠터를 말함)를 탈 수 있는 면허?

-운전면허증 혹은 모페드 면허증.

상업지역에서의 속도?

-25 마일

학교부근에서 제한 속도 표시없으면?

-25 마일

스쿨버스 옆을 지나갈때?

-10 마일 미만

스쿨버스에 스탑사인이 있으면?

-25 피트 전에 정지한다.

안전벨트를 해야하는 이유?

-답은 모두다. 내용이 바뀔 수 있으니 잘 읽어보세요.

안전벨트는 누가 하는가?

-운전자 와 승객 모두

어린이 안전 시트는 어디에?

-뒷 자석

주차하지 말아야할 곳?

-소화전, 버스정류선, 드라이브 웨이



안전벨트 생존율?

-3-4 배

소화전에서 주차할 수 있는 거리?(떨어져서)

-10 피트

소방차 작업시 주차거리?

-200 피트

소방차 진입로에서?

-입구로부터 20 피트.

운전하기전 먹지말아야할 약

-감기약등 담은 모두다.

스탑사인에서 주차해야할 거리는?

-50 피트

반대편에서 경찰차, 소방차, 응급차등 비상차량이 올때

-오른쪽에 정지.

경적 사용은 언제?

-빌딩 안보이는곳에서 나올때, 추행, 후진시. 담은 모두다

후진할때?

-고개를 오른쪽으로 돌리고 뒤를 보면서 천천히.

방어운전이란?

-눈을 주위에서 일어날 수 있는 일들을 항상 주시 주의한다.

하이웨이출구에서 못 빠지고 지나쳤을때?

-다음출구에서 빠진다.

운전 시 사용 못하는것들?

-핸드폰, 게임기, 전자제품등. 기타 주의를 요구하는것. 담은 모두다.

고속도로 진입하는 도록에서는?

-진입하기 좋은 속도를 만든다.

고속운전현상에 빠졌을때?

-한물체만 보지말고.

수막현상에서 운저은?

-속도를 줄인다.

급하게 꺾인 커브길에서 자동차는?

-직선으로 가려는 현상이 있다.

감속차량이란?

-하이웨이 출구 별도차선

가속차선?

-고속도로 parkway 나 turnpike 들어갈때

물웅덩이를 지난다음?

-브레이크를 여러번 밟아 잘 듣나 시험.

좌회전할 때는?

-중앙차선으로 진입. (그림문제)

2 방향 차선에서 하이웨이 진입을 위해 좌회전을 하려면?(그림문제)

-중앙으로 진입.

싸인이 없는 사거리에서는?

-항상 위험으로부터 정지할 준비

회전할때 어느 시점부터 신호를 켜나?

-100 피트

스탑사인이 있는 사거리에서?

-오른쪽차에게 양보

스탑사인이 없는 사거리에서 동시에 2 대의 차가 진입했을때?

-오른쪽차에게 양보

오른쪽 커브가 있는 내리막길에서 주차할 때 핸들 방향?

-오른쪽 (커브쪽)

도시에서 운전은?

-천천히 보행자를 살피고, 정지신호를 지킨다. 답은 모두다.

도시에서 운전법?

-12 초법

2 초법 운저은 왜 하나?

-**안전거리**를 유지하기 위해.

커브를 돌기전?

-속도를 줄인다.

도로에 가로지르는 흰직선은?

-정지선

뒷차가 내 차를 추월하려 할때

-속도를 줄이고 우측으로

차가 미끌어질때?

-미끌어지는 방향과 같게 핸들을 돌린다.

우측으로 추월할 수 있는 경우는?

-좌회전하는 차가 앞에 있을때

상대에게 주의 신호를 알릴때 하는것?

-경적, 하이빔, 싸인등으로 알린다.

스노우 타이어는 언제사용?

-11 월 15 일부터 4 월 1 일까지.

타이어가 터지면?

-점차 속도를 줄이고, 한쪽으로 정지.

브레이크가 작동안되면?

-저속기어를넣고 속도를 줄이며 한쪽으로 정지.

헤드라이트는 언제 켜는가?

-해뜨기 그리구 해지기 1 시간 30 분전. 윈도 브러시 사용할때. 안개낀날. 악천후

하이빔(상향등)은 언제?

-시골길에서

하향등(로우빔)은 언제?

-앞차를 따라갈때, 앞가가 올때. 잘 읽어보세요.

신호등(깜박이)을 켜야하는장소는?

-답은 모두다. 잘 읽어보세요.

도로가 건조할때 10 마일 속도에서 앞차와의 거리는?

-차 1 대거리

트럭과 같은 도로를 갈때( 같은방향으로)

-노전으로 인하여 안보일 수 있음을 유의

트럭을 추월할때?

-트럭운전자가 우리를 볼 수 없는 노전을 주의( 사각지대)

트럭과의 안전거리는?

-200 피트 (트럭이나 버스를 따라갈때 충분한 안전거리)

트럭을 추월 할 수 있을때?

-20 피트 공간이 있을때

트럭이 젖은도로에서 제동거리는 얼마나 더 필요한가?

**25%**

뉴저지에서 어린이 보호법으로 지켜져야하는것?

-5 세미만 앞좌석, 18 개월 미만 앞좌석. 답은 모두다.

앞차 운전자의 왼손이 위로 향하면?

-우회전 (위는 우다)

앞차 운전자의 왼손이 옆으로 뻗으면?

-좌회전

앞차 운전자의 왼손이 아래로 향하며?

-서행 혹은 정지

신호등의 순서

-빨강, 노랑, 파랑. (위부터)

황색신호등은?

-빨상 신호등이 나올것에 대비 멈출 준비를 한다.

녹색신호등은?


-서서히 출발한다.

철길앞 반짝이는 빨강신호는?

-정지

철길 경고판의 모양은?

-원형에 노랑색 바탕에 검은띠

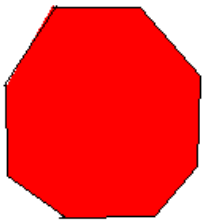


역삼각형 모양의 표시는?




양보

다음 모양은?



정지

다음 모양은?



경고

한쪽 직선과 점선의 차선은?



점선쪽 차량은 추월할 수 있고 직선 차선은 추월 금지.

비가올때 해야할 것?

-헤드라이트를 켜고 와이퍼를 사용

학생퍼밋 소지자가 운전할 때 취해야 할것?

-운전경력 3년이상된자와 동승. 차량등록증과 퍼밋 지참.

항생퍼밋 운전자가 사고났을때?

**-학생과 선생 모두 처벌**

철길 앞에서 반짝이는 빨강 신호등을 보았을때?

-정지선에서 정지.

차바퀴가 우측비포장으로 빠졌을때 어떻게 다시 들어오나?

-천천히.

횡단보도에서 정지선이 없을때 정지해야하는 거리는?

-50 피트전

가변차선의 의미는?

-통행량 조절에 따라 차선이 달라지는것

스쿨버스에서 빨강불이 깜박이면?

**-양방향 모든차들은 정지해야함.**

횡단보도나 교차로에서 정지금지구역?

-25 피트이내

함축법이란?

-경찰이 임의동행을 요구하는거?

면허증 분실시 신고해야할곳?

-경찰서

음주운전 중 가장 많이 적발되는 술은?

-맥주

가장길이 미끄러울때?

**-비가온후 수분후**

차가 미끄러질때?

-가속페달에서 발을 뗀다.

**: I. 한글시험 문제지.**

: 뉴저지 한글시험문제 A type 인거 같습니다. 크사니 '양식/서류예문'에 있는거구요..

: 보기의 순서가 좀 다르고, 한 2~3 문제 정도 다른거 같습니다.

:

**: II. 영문시험 문제**

: 이것 역시 크사니 '생활정보/기타'에 올려져 있던 자료를 MS Word 파일로 만든것입니다.

:

**: III. 기타 참고자료..(영문시험문제에 포함되지 않았거나, 부족한부분)**

: 1. 음주운전을 하다가 적발이 되었을 경우

: 1) 음주 1st : 6 month ~ 1 year suspension, \$250 ~ \$400

: 2) 음주 2nd : 2 year suspension, \$500 ~ \$1000

: 3) 음주 3rd : 10 year suspension, more \$1000

:

: 2. 알콜함량 비교

: 1 ½ onz of 86 proof whisky(liquor) == 12 onz can of beer == 5 onz glass of wine

:

: 3. license 가 suspended 인동안 운전을 하다가 적발되었을 경우

: 1) 1st offense : \$ 500 6month additional

: 2) 2nd offense : \$ 750 jail (not more than 5 days), 6month additional

: 3) 3rd offense : \$1,000 jail (10 days ), 6month additional

:

: 4. FAILURE 가 있을때 조치

: 1) break : shift to lower gear &grave; pump the brake pedal fast and hard several times.

: 2) tire blowout : hold the steering wheel firmly and keep the car going straight

: -&gt; slow down gradually &grave; take your foot off the gas pedal,

: but do not apply the brakes

: 3) power steering : keep a firm grip on the steering wheel.

: You will need extra hand power to turn or keep control.

: -&gt; Stop the car.

: 4) headlight : safely stop the car

: 5) gas pedal : keep your eyes on the road -&gt; quickly shift to neutral.

: -&gt; pull off the road as soon as you can. &grave; turn off the engine

: 6) hood latch : slow down

: 7) windshield wiper : slow down -&gt; roll down your side window

: -&gt; put your head out so that you can see ahead.

: -&gt; brake and pull off the road.

:

: 5. 뉴저지 면허를 위한 보고의무

: 1) When you move -&gt; within one week.

: 2) For a legal name change (marriage, adoption) -&gt; within two weeks.

: 3) If you have an out-of-state license and move into NJ,

: -&gt; within 60 days or before your current license expires, whichever is sooner.

:

: 6. 뉴저지 면허취득 연령 -&gt; at least 17 years old

: 7. seat belt

: 1) 18 세 이하 : 앞좌석에서 안전벨트를 하지 않은경우, 운전자에게도 책임이 있다.

: 2) 18 세 이상 : 본인에게 책임이 있다.

:

: 8. Car seat

: 1) 18 개월 이하 : 모든 좌석에서 Car seat 에 앉혀야 한다.

- : 2) 18 개월 ~ 5 살 : 앞좌석에 앉힐때 Car seat 에 앉혀야 한다.
  - :
  - : 9. Steering
  - : keep both hands on the upper half of the wheel. (왼손 9 시, 오른손 3 시)
- 

### **시험 1**

- 운전중 보는것에 의해 90%(이 숫자가 중요)의 운전중 결정이 내려짐
- 젖은 노면에서 35mph(숫자 중요)에서 운전자가 lose control
- defensive driving 은 5 년(중요)에 1 번
- 벌점 12-14points 를 24 개월(중요)받으면 차량국으로부터 면허 중지 연락을 받음
- 시벨트를 안 한 사람은 한 사람보다 사고 확률이 3-4 배(중요)높음

### **시험 2**

2. 트럭을 추월하려면? 트럭에서 안보이는 지역(노존)을 주의한다
5. 도시에서의 운전법은? 모두다 (천천히 주행한다, 안전주행을 한다, 12 초 앞을 본다)
8. 음주운전에 처음 걸린 사람, 음주측정 거부시 사람은? 벌점과 면허정지 6 개월 이상
9. 주차하지 말아야 될 장소는? 소화전앞, 버스정류장, 드라이브 웨이(집앞) **모든곳**
10. 뒤차가 내차를 추월할 때? 속도를 줄인다
11. 뉴저지에서 면허를 취득할수 있는 나이는? 17 세이상 6 개월 운전 교습을 받은 사람(17 세 이상)
15. 철길 경고판의 모양은? 노랑바탕에 검은띠
16. 도로에 가로지른 흰직선의 의미는? 정지선
18. 정지를 나타내는 그림 표시는? 육각형(?) : 제가 그림을 못돌려서 그림 90 도로 돌려야 맞는 그림임
19. 마름모(?)의 표시는? 경고
20. 황색신호등은? 빨강 신호가 나올것에 대비하여 멈출 준비를 한다
22. 싸인이 없는 사거리에서는? 항상 위험으로부터 정지할 준비를 한다.
23. 트럭이나 버스 뒤를 따라갈 때? 앞차와의 거리를 충분히 둔다(안전 거리를 확보한다)
25. 하이웨이에서 exit(출구)를 지나쳤을 때? 다음 출구에서 나간다
28. 21 세 이상 운전자의 연습기간은? 3 개월
29. 21 세 미만 운전자의 운전할 수 있는 시간은? 오전 5 시부터 밤 12 시까지
30. GDL 21 세 이상이 운전할수 있는 시간은? 제한없음
31. 17 세 GDL 퍼밋 소지자가 태울수 있는 사람수는? 식구 외에 1 명
32. 헤드라이트를 켜는 시간은?  
해지기 30 분전부터 해뜨기 30 분전까지, 안개낀날, 비오는날, 윈도브러시(와이퍼)를 사용할 때
35. 양보 표지판은?(그림고르기) 역삼각형(▽)
43. 계속 깜빡거리는 빨간불의 의미는?  
서행, 정지(보기중에 서행,진행이 있는데 들린 답이니 잘 보시구 답하세요.저도 틀렸음. ㅋㅋ)
4. 스탑 싸인이 있는 곳에서 얼마나 떨어져 주차가능한가? 50 피트
7. 스탑 싸인이 있는 사거리에서는? 오른쪽 차에게 양보한다.
9. 철길 앞에서 빨간 신호등은? 정지
10. 헤드라이트 하이빔은 (전조등, 상향)은 언제 사용하나? 시골길
12. 운전을 가르칠수 있는 사람의 조건은? 21 세 이상, 면허취득 3 년이상
13. 차가 미끌어 질 때 핸들방향은? 미끌어지는 같은 방향으로 또는 미끌어지는 후미와 같은 방향으로
14. 운전하기 전 먹지 말아야 될약은? 모든것다
15. 커브를 돌기전에 할일은? 속도를 줄인다
16. 스쿨버스 옆을 지날 때 속도는? 10 마일 미만
19. N.J 의 보험은? 책임보험
20. 모터싸이클을 탈수 있는 사람은? 모두다(운전면허 소지자, 모터싸이클면허소지자)
22. 후진할때는? 고개를 오른쪽으로 하고 뒤를 보면서 천천히 후진한다.
23. 2 방향 차선에서 하이웨이 지입하기 위해서 좌회전 하려면? 중앙쪽으로 진입한다.
24. 앞차 운전자의 팔이 아래로 향하면? 서행 정지
25. 알콜이 몸에 미치는 영향은? 모두다(반사작용이 늦다, 중심을 못잡는다, 판단능력이 떨어진다)
- 26 운전면허 정지 끝난후 갱신(복구) 할수 있는 기간은? 1 년
27. 실기(로드 테스트)를 보는 차량이 필요한 것은? 차량등록증, 보험증, 검사증(스티카)
28. 운전 면허 신청시 허위기재 경우 벌금은? 200-500 불, 6 개월 징역
29. 로드 테스트를 할수있는 조건은? 정지기간을 뺀 6 개월 운전교습을 받은 17 세
30. 벌점은 얼마동안 계속 유지되는가? 24 개월(24 개월이 없을시에는 12 개월)
31. 계속 연속적으로 추가 벌점이 없다면 3 점은 언제 감해주는가? 12 개월 후
32. 고속 운전 현상에 빠졌을 때 무엇을 해야 하는가? 한 물체나 장소를 계속해서 보지 않는다.
33. 21 세 미만 운전자의 운전할 수 있는 시간은? 오전 5 시부터 밤 12 시까지
34. 스노우 타이어는 언제부터 언제까지 사용하는가? 11 월 15 일부터 4 월 1 일까지



- 35. 당신 집에서 술마시고 사고가 나면? 본인 책임
- 36. 17 세 운전자가 운전할수 있는 시간은? 오전 5 시부터 오후 11 시까지.
- 37. 신호등을 지켜야 되는 장소는 ? 모두다(적혀있는 장소 모든곳다)
- 38. 경적은 언제 사용 하나? 모두다(빌딩에서 나올 때, 추월할 때, 기타 모든 것다)
- 39. 실기시험(로드테스트)때 필요한것은? 모두다(유효한 퍼밋(연습허가증), 차량등록증, 보험증)
- 40. 고속도로 진입로(악셀레이션 레인)에서 어떻게 하나? 진입하기 좋은 속도(흐름)를 만든다
- 42. 베이직 GDL 퍼밋을 딸수 있는 나이는? 18 세
- 44. 로우빔(하향등)은 언제 켜는가? 모두다
- 45. 중고차 등록후에 검사를 해야되는 기간은? 14 일 이내
- 46. 술이 깨기 위해서 필요한 것은 ? 오직 시간이 필요하다.
- 49. 급하게 꺾인 커브길에서? 직진으로 가려는 현상이 있다.
- 50. ▽ 모양의 표지판은? 양보
- 51. 트럭 옆에서 운전할 때 주의해야 되는 것은? 트럭의 미러로 내차를 못 볼수 있다(노존)
- 52. 수막현상(하이드로프레이밍)에서 운전은? 속도를 줄인다.
- 55. 좌회전 할때는? 중앙 차선쪽으로 진입한다.
- 56. 고속도로 상에서 하향등(로우빔)은 언제 켜나? 앞차를 가깝게 따라갈때

### 시험 3

- 1. 오른쪽으로 꺾어진 커브길언덕에 주차할때 바퀴의 방향은? - 반대방향
- 4. 기차길앞에서 해야할일? -일시적으로 정지
- 7. 도시에서의 운전법은? -답은 모두다.(12 초운전법, 서행운전, 보행자주의)
- 8. 헤드라이프(하이빔)를 켜야하는곳은? -시골길
- 9. 빨간등이 깜박거릴때 운전자는?  
-일시적으로 정지했다가 서서히 진행 (기차길에서 빨간등 깜박일때는 무조건 정지)
- 15. 역삼각형 싸인의 의미? -양보 (마름모꼴은 경고, 육각형은 정지를 의미)
- 18. 비포장갓길에서 포장도로로 진입할때는? -천천히 포장도로로 진입
- 19. 알코올이 몸에 영향을 주는 조건은? -답은 모두다(술마신양, 몸무게, 술마신시간)
- 21. 운전자가 운전중 사용할수 없는것은? -답은 모두다(핸드폰,비디오게임,그외 주의를 요하는 모든것)
- 23. 하이웨이의 주행 제한속도는? -55 마일 (상업/거주/학교지역은 25 마일)
- 26. 감속을 해야하는 경우? -하이웨이의 출구로 진입할때(가속해야하는 경우는 하이웨이로 나갈때)
- 27. 트럭이나 버스뒤를 따라갈때는? -노존(no-zone)이라 blind-spot 을 주의하고 안전거리를 확보한다
- 28. 일반적으로 차간거리(following distance)는 얼마정도 유지하는것이 좋은가? - 20 피트(차한대정도길이)
- 30. 신호없는 사거리에 두대차가 동시에 진입하면? -오른쪽 차에게 양보(거의모든경우에 오른쪽 차가 우선)
- 31. 주차금지장소? -답은 모두다(소화전앞,버스정류장,집앞드라이브웨이등)
- 32. 21 세이상의 임시면허 소지자의 운전가능시간?  
-답은 시간제약이 없음임(21 세 미만의 운전자는 밤 12 시-새벽 5 시까지 운전금지, 학생퍼밋소지자의 경우는 밤 11 시-새벽 5 시까지 운전금지)

### 시험 4

#### \*Drinking Drug 관련

- 3. 음주측정거부시; 1000 불씩 3 년벌금, 미납부시 납부할때까지 면허정지
- 7. illegal drug 의 섭취금지, 운전전 현기증을 일으키는 감기약,진정제 등

#### \*벌금관련

- 1. 운전면허 차량등록등의 허위기재; 200-500 벌금, 6 개월 징역
- 2. 주행시험 대리응시; 500 벌금, 90 일징역
- 3. 번호판위조시; 500 벌금, 6 개월면허정지, 60 일징역
- 4. 운전면허 타인양도시; 100 불벌금

- 주행중 쓰레기 버릴시; 1000 불벌금, 미납시 면허정지됨
- Habitual offender(상습운전자); 3년동안 3번면허 정지당한 사람

**\*children restriction**

- 1 살이하, 20 파운드미만의 아이는 반드시 car seat 에 탑승
- 12 세미만의 어린이는 반드시 뒷좌석에 탑승
- car seat 은 반드시 뒷좌석에 장착, 2 door 차의경우 앞좌석에 장착하나 가능한 의자를 뒤로뺐것

**\*Graduated Driver License(GDL 관련)-여기서 꼭 문제나옴**

1. 학생면허(퍼밋)소유자; 16 세이상, 밤 11 시-새벽 5 시 운전불가, 가족모두와 그외한명탑승가능,21 세미만의 경우 supervising driver 가 동승(자격:21 세이상, 3 년이상면허소유자)
2. 임시면허소유자; 17 세이상, 밤 12 시-새벽 5 시운전불가,나머지내용은 학생퍼밋과 동일
3. Basic driver license; 18 세이상, 1 년후 정식면허 받을수있음

**\*주행관련**

1. 서행해야 하는곳; 좁은길, 교차로와 기차길, 커브, 보행자가 있는경우, 미끌거리는 도로
2. 오른쪽으로 차선변경가능한경우  
-오른쪽 차선이 비어있거나 -앞차가 좌회전하고 있는 경우
3. 차선변경금지구역; 언덕,커브,기차길,터널,좁은다리,차선변경금지싸인이있는곳
4. 교차로에서는 항상 오른쪽 차가 우선
5. 신호가없는 교차로(intersection)에서는  
-속도를 줄이고 정지할 준비를 할것 -메인도로의 차에게 먼저양보할것
6. 하이웨이 들어설때는 가속레인으로 들어가서 속도를 높이고 멈추지 않도록 한다  
하이웨이에서 나올때는 감속레인으로 들어가서 속도를 낮출것, 출구를 놓쳤을때는 다음출구에서 나간다
8. 우회전시 우측방향으로 붙고 좌회전시 중앙차로로 접근할것
9. 정지해야하는곳; 스톱싸인, 빨간불이 있는 교차로, 스쿨버스가학생들을 태우거나 내리고 있을때, 개인드라이브웨이 앞, 보행자나 시각장애인이 지나갈경우, 하얀색 single line 앞

**\*라이트관련**

1. 하이빔사용할때-시골길(트래픽싸인이 없는 곳)
2. 반대쪽에서 상황등을 키고 주행할시 - 아래쪽을 본다
3. 하향등사용할때-도시운전시, 다른차량이 접근할때, 다른차 뒤를 따라갈때
4. spotlight 는 응급시에만 사용

**\*Vehicle information**

2. 로드테스트시 지참할것-보험증,차량등록증,검사증(스티커)
5. 뉴저지보험은 책임보험/보험없이 운전하는것을 불법  
[출처] [본문스크랩] 뉴저지운전면허 필기시험문제(요점정리)|작성자 알곡이

**시험 5**

1. 차량을 매매할 때에는 5 일 이내에 \_\_\_\_\_로 보고해야 한다: (a) **a. DMV** b. 보험회사 c. 자동차 클럽
2. 다음 중 교통 흐름의 개선을 위한 최선의 방법은? (b)  
a. 속도 제한을 높인다. **b. 대중 교통을 이용한다** c. 거리 간격을 무시한다.
3. 좌회전을 할 때 항상 모터 사이클이 있는지 잘 살펴봐야 하는 이유는? (b)  
a. 모터사이클은 교차로에서 우선권을 가진다. **b. 차체가 작기 때문에 잘 보기가 힘들다.**  
c. 모터사이클이 주행 차선을 다른 차량과 공유하는 것은 법규 위반이다.
4. 이 때 모퉁이에 서있는 보행자는 우선권을 가진다: (c) a. 거리에 횡단보도 표시가 되어있는 경우에 한함  
b. 신호 교차로에 한함 **c. 횡단보도의 표시 유무에 상관없음**
5. 다음 진술 중 대형트럭에 관한 옳은 설명은? (a) a. **트럭은 승용차보다 근거리 조정 능력이 떨어진다**  
b. 트럭은 정지 및 출발시 더 많은 공간이 필요하지 않다. c. 트럭은 회전시 더 많은 공간이 필요하지 않다.
6. 빨간불일 때 경관이 통과하라고 지시하면? (b)

- a. 차선을 변경하고 저속으로 운전한다. **b. 경관이 지시하는 대로 따른다.** c. 파란불이 켜지기를 기다린다.
7. 불가피하게 안개 속에서 운전을 해야한다면? (c)  
a. 주차등만 켜다. b. 규칙적으로 비상등을 사용한다. **c. 헤드라이트를 켜다.**
8. 앞차의 바로 뒤에서 정지하게 된 이유는? (a)  
**a. 너무 가까이 따라간 것이다.** b. 차선을 자주 이리 저리 바꾸어 달렸다. c. 너무자주백밀러를 보았다.
9. 프리웨이에서 차선을 변경하기 전에 최소한 \_\_\_초간 깜빡이를 켜야하는가?(b) a. 3 초 **b. 5 초** c. 7 초
10. 이 곳에서는 절대로 주차해서는 안된다: (a)  
**a. 가위표가 표시된 공간** b. 철도 레일로부터 20 피트 지점 c. 자전거 전용차선
11. 각 방향 2 차선 도로에서 U 자형 회전을 하고자 한다. 어디서 시작해야 하는가?(b)  
a. 둘 중 한차선 **b. 왼쪽 차선** c. 항상 중앙 좌회전을 이용한다.
12. 주위에 차량이 보이지 않을때에 왜 깜빡이 등을 켜야 하는가? (a)  
**a. 미처 보지 못한 차량과 충돌할 수 있기 때문이다.** b. 도로에 아무도 없다면 깜빡이 등을 켤 필요가 없다.  
c. 차선 변경에 한해서만 깜빡이 등을 켜다.
13. 다음의 진술 중 안전벨트에 관한 올바른 설명은?(b)  
a. 보통 뒷자석은 12 세 이하의 어린이에게 가장 안전하지 못한 자리이다.  
**b. 유아는 조수석 쪽에 에어백이 있는 차의 앞좌석에 앉혀서는 안된다.**  
c. 1 세 이상의 그리고 20 파운드를 넘는 어린이는 앞좌석에서 안전벨트를 해야함
14. 프리웨이 진입할 때는 다음의 속도로 운전한다. (b)  
a. 합법적 프리웨이 제한 속도 **b. 프리웨이 주행 차량과 동일한 속도**  
c. 프리웨이 주행 차량보다 시속 10 마일 정도 느린 속도
15. 파란색 보도 경계선의 의미는? (a) **a. 플래카드를 소지한 신체부자유자를 위한 공간이다.**  
b. 승객이 짐을 부리거나 적재하는 목적으로만 사용된다. c. 제한시간 동안 주차할 수 있는 공간이다.
16. 언제 차간 거리를 넓혀야 되는가? (c) a. 표시된 제한 속도 보다 느린 속도로 주행할 경우  
b. 소형 승용차를 따라갈 경우 **c. 뒤 공무늬를 바싹 따라오는 차량이 있을 경우**
17. 다음 진술 중 도로공사에 대한 옳은 설명이 아닌것은? (b)  
a. 도로공사 장비는 주황색으로 칠해져 있다.  
**b. 흰색 표지판은 폐쇄된 차선 및 전방 도로공사를 가리킨다.**  
c. 공사 중의 몇몇 법규위반에 대한 벌금은 두배로 늘어난다.
18. 이 차선은 언제 사용되는가? (a)  
**a. 교통흐름이 허락할 때 좌회전을 하기위해** b. 교통흐름이 허락할 때 다른 차량을 추월하기 위해  
c. 교통흐름이 허락할 때 우회전을 하기위해
19. 주차등만을 사용해 운전할 수 있는 때는? (c)  
a. 안개낀 날 b. 일출 30 분 전 혹은 일몰 30 분 후 **c. 어떠한 상황에서도 허락되지 않는다.**
20. 기본 속도법이란 무엇인가? (a) **a. 현 교통흐름을 위해서 안전한 상태로 속력 내지말라.**  
b. 표시된 제한속도 이상으로 속력을 내지말라. c. 교통 흐름을 따라가라.
21. 차선을 변경하기 전에 할일은? (b) a. 다른 차량에 신호를 보내기 위해 브레이크를 밟는다.  
**b. 어깨너머를 바라본다.** c. 우선권을 갖기 위해 신호를 보낸다.
23. 추월을 하기 위해서 도로를 떠날 수 있는 것은? (c)  
a. 내방향으로 주행하고 있는 차선이 2 차선 이상인 경우  
b. 앞차가 좌회전을 할 경우 **c. 어떤 상황에서도 안된다.**
25. 고속도로는 이 때 가장 미끄럽다: (c)  
a. 폭우가 쏟아질 때 b. 보슬비가 내릴 때 **c. 건조한 후 비가 내리기 시작할 때**
26. 이 것은 방어 운전을 하고 있음을 의미한다: (c)  
a. 앞차만을 볼 때 b. 앞차와 내차 사이에 간격을 둘때 **c. 눈을 계속 움직이면서 사고에 대해 조심할 때**

27. 교통사고에 관련되어 사망자가 발생했을 때 어떻게 해야하나? (c)  
 a. 진술 보고서(SR 1)를 작성하여 CHP 에 제출한다. b. 경관에게 보험증명서를 제시한다.  
**c. DMV 에 진술 보고서 (SR 1)를 제출한다.**
28. 운전을 하다가 모퉁이에서 노란색 깜박이 신호등을 만났을 때는? (c)  
 a. 교차로 앞에서 멈춘다. b. 지나가기 전에 파란불이 켜지길 기다린다.  
**c. 속도를 줄이고 조심해서 지나간다.**
29. 멈춤 표지판이 있는 교차로에서 우선 멈추어야 할 곳은? (c)  
 a. 횡단보도를 지나서 b. 횡단 차량이 보일만큼 충분히 떨어진 곳 **c. 횡단보도**
30. 내 쪽 차선이 이런 경우에는 다른 차량을 추월하기 위하여 도로의 이중선을 지나 갈 수 있다:  
 (a)  
**a. 차선이 끊긴 경우** b. 노란 연속선 c. 노란 이중 연속선
31. 다음 중 무엇이 이중 주차에 대한 올바른 설명인가? (a) **a. 어떠한 상황에서도 법규위반이다.**  
 b. 운반을 목적으로 할때 허락된다. c. 차안에 머물러 있는 경우에 한해 적법이다.
32. 보도 경계선에 평행 주차를 했다. 바퀴는 그 보도 경계선과 몇 인치 이내에? (c)  
 a. 12 인치 b. 16 인치 **c. 18 인치**
33. 다음의 환경에서는 픽업 트럭의 뒤에 사람이 탈 수 있다: (a) **a. 트럭의 뒤에 안전벨트가 설치되었을 때**  
 b. 트럭 뒤의 측면이 최소 24 인치 높이가 될때 c. 트럭 뒤의 틀에 고정된 좌석이 있을때
34. 전방에 사고가 난것을 발견하고 도움을 주려할 때 차는 어디에 멈추어야하나? (a) **a. 사고현장을 지나서**  
 b. 사고현장에 닿기 전에 c. 후방의 교통 흐름을 느리게 하는 방향으로 그 차선의 끝에 가깝게
35. 초록색으로 칠해진 보도 경계선의 뜻은? (a) **a. 제한시간 내에 정지 또는 주차가능**  
 b. 승객의 짐을 싣거나 내리는 공간 c. 비상 차량만을 위한 주차공간
36. 21 세 이상의 운전자에게 적용되는 법적 최대 혈중 알콜농도치는? (b)  
 a. 1 퍼센트의 10 분의 1 (0.10) **b. 1 퍼센트의 10 분의 8 (0.08)** c. 1 퍼센트의 10 분의 5 (0.05)
37. 경계선이 없는 오르막길에 주차하려면 앞바퀴는 어느 쪽으로 향해야하나? (a)  
**a. 도로쪽을 향하여** b. 도로에서 평행하게 c. 도로에서 떨어져서
38. 우회전을 할때 오는쪽 차선에서 시작하여 다음 차선에서 끝난다: (a)  
**a. 보도 경계선에 가장 가까운 차선** b. 어느 차선이라도 가능하다. c. 왼쪽 차선
39. 다른차를 추월하기 위해 노란색 이중선을 가로지를 수 있을 때는? (b)  
 a. 느린 속도의 차량이 분기점 차선의 이용을 원하지 않을 때  
 b. 어떤 상황에서도 허락되지 않는다. c. 내 차쪽으로 달려오는 차가 없을 때
40. 왼쪽에 있는 운전자와 동시에 교차로에 도착했을 때 누가 우선인가? (a)  
**a. 내가 먼저간다.** b. 왼쪽에 있는 운전자가 먼저간다. c. 회전 깜박이를 켜 사람이 먼저간다.
41. 우회전을 하기 위해 자전거 전용 차선으로 들어갈 수 있는 것은 언제인가? (a)  
**a. 회전하기 전 200 피트 이내 지점** b. 어떠한 상황에서도 안된다. c. 회전하기 전 100 피트 이내 지점
42. 자전거를 탈 때는: (b) a. 마주 오는 차량 쪽으로 달린다.  
**b. 주행차량과 같은 방향으로 달린다.** c. 자전거 전용차선이 없는 경우 인도로 달린다.
44. 차안에 열린 상태의 알콜병을 소지한 채로 운전하는 것은 위법인가? (a) **a. 위법이다. 예외가 없다.**  
 b. 병이 트렁크에 들어 있을 경우 그렇다. c. 병이 뒷자석에 있을 경우 그렇다.
45. 묵시적 동의법이란 다음 상황에서 혈중 알콜농도검사에 동의한다는 말이다: (a)  
**a. CALIFORNIA 주 내에서 운전을 할 경우** b. 변호사의 충고에 한해 c. 사고가 일어난 경우에 한해
46. 다른 차를 추월하기위해 내 차선을 떠난후 언제 다시 돌아갈 수 있는 여유가 있는가? (b)  
 a. 다른 차량의 앞 범퍼를 통과했을 때 **b. 백밀러를 통해서 그 차량의 앞머리를 볼 수 있을때**  
 c. 그 차량이 2 초 정도 앞서 있을 때
47. 주위에 다른 차량이 보이지 않아도 왜 신호등을 켜야하나? (a)

- a. 미처 보지못한 차량이 들이받을 수 있기 때문이다.  
 b. 아무도 도로에 없다면 신호등을 켤 필요없다. c. 차선 변경에 한하여 신호등을 켜야한다.
48. 언제 헤드라이트를 켜야하는가? (c) a. 항상 최소 전방 1 마일 앞을 볼 수 없을 경우  
 b. 일몰 1 시간 후 c. **항상 다른 차량을 보기 힘든 경우**
49. 고속도로에서 타이어가 펑크가 났을때 어디에 차를 멈추어야 하나? (b)  
 a. 오른쪽 차선 b. **비포장 도로/보도** c. 전방으로부터 200 피트 정도 내차가 보이는 어디든지 괜찮다.
50. 전방의 학교버스가 빨간색 등을 깜빡이고 있을때는? (c)  
 a. 멈춘다. 그런 후 안전할 때 출발한다. b. 도로를 횡단할 경우에 한하여 멈춘다.  
 c. **빨간색 등이 깜빡이는 한 정지해 있다.**
51. 차선변경을 하고싶다. 차선이 비어있는지 확인하고 싶을때 취하는 행동은? (a)  
 a. **머리를 돌려서 진입하길 원하는 차선을 확인한다.** b. 백미러만 보면된다.  
 c. 머리를 돌려서 오른쪽 어깨너머를 본다.
52. 다음 진술 중 경편 철도 차량(light weight vehicles) 에 대한 올바른 설명은? (b)  
 a. 경편 철도 차량은 공공 도로상에서의 차량과 동일한 책임을 가지지 아니한다.  
 b. **경편 철도 차량은 교통 신호에 대한 선취권을 가진다.**  
 c. 항상 오른쪽에서 경편 철도 차량을 추월해야한다.
53. 일반적으로 말해서, 이러한 경우 트럭의 눈먼 지점에 들어가 있다고 말한다: (a)  
 a. **상대 차량의 미러를 볼 수 없을때**  
 b. 6 피트보다 멀리 떨어져서 따라갈 때  
 c. 내차가 상대차량의 우측 전방 바퀴에 가까이 있을때
54. 다음 중 운전 도중 졸음을 깨우는데 도움이 되는 것은? (c)  
 a. 블랙 커피를 마신다. b. 힘차게 운동을 한다. c. **휴식을 취한다.**
55. 교통사고시 상대방에 상해를 입혔다. 사고보고서를 작성해야 하는 사람은? (a)  
 a. **나 자신** b. 경찰관 c. 내가 속한 자동차 클럽
56. 교통 신호등이 작동하지 않을 경우 다음의 행동을 취한다: (a)  
 a. **멈춘다. 그런 후 안전할 때 재출발한다.**  
 b. 속도를 줄이고 필요한 경우 정지한다. c. 타차량이 있을때에 한하여 멈춘다.
57. 차단기나 통제물이 없는 철도 건널목에서 100 피트 이내에 있고 사방 400 피트 내의 철도 레일을 볼 수 없다. 제한 속도는? (b) a. 시속 10 마일 b. **시속 15 마일** c. 시속 25 마일
58. 눈 먼 교차로 지점에서의 속도제한은? (b) a. 시속 10 마일 b. **시속 15 마일** c. 시속 25 마일
60. 노란색 이중 연속선이 의미하는 것은? (b) a. 이유여하를 막론하고 그 선을 넘어서는 안된다.  
 b. **개인차도로 진입할 수 있다.** c. 다른 차량을 추월 및 통과할수도 있다.
61. 타 차량의 운전속도보다 느리게 운전해도 되는가? (a)  
 a. **안된다. 너무 느리게 운전하면 교통의 흐름을 방해할 수 있다.**  
 b. 된다. 너무 빠르게 운전하는 것보다 안전하다.  
 c. 된다. 타 차량의 주행속도 또한 줄일 수 있다.
62. 두 방향 도로 모퉁이에서 좌회전을 하려고 할때 우선권은? (a)  
 a. **내 쪽으로 오고있는 차량에 있다.** b. 횡단보도에서 WALK 신호등을 기다리는 보행자에 있다.  
 c. 빨간불에 정지해 있는 차량에 있다.
63. 안전지대란 무엇인가? (a)  
 a. **보행자를 위해 남겨놓은 공간** b. 프리웨이 분리대 옆의 빈 공간 c. 프리웨이 중앙 분리대
64. 조건부 운전면허증은? (a)  
 a. **운전시 따라야하는 특별제약 사항을 가진다.** b. 면허갱신에 대한 특별 기간제한이 있다.  
 c. 운전면허 증상에 연령 제한을 가진다.
65. 교차로에 접근하고 있을때 빨간신호등이 켜져있을 때 어떻게 해야하는가? (a)  
 a. **지나가기 전에 일단 멈춘다. 그런후 안전할 때 재출발한다.**  
 b. 지나가기 전에 파란불이 켜지길 기다린다. c. 속도를 줄여서 횡단차량이 먼저 지나가도록 한다.

66. 이 때 교차로를 들어서는 것은 위법이다: (b)  
 a. 노란불일 때    **b. 신호등이 빨간불로 바뀌기 전에 완전히 교차로를 벗어나지 못했을 때**  
 c. 노란불이 깜빡일때 일단정지하지 않았을 경우
67. 다음 진술 중 미끄러운 도로 표면에 대한 올바른 설명은? (a)  
**a. 춥고 비오는 날, 건물 혹은 나무 그림자는 빙판을 가릴 수 있다.**    b. 다리와 고가도로는  
 마지막으로 빙결된다.    c. 비포장 도로는 더운날 비가 오기 시작하고 몇분간은 미끄럽지않다.
68. 한계선이 없을 때 어디에 차를 세워야 하는가? (c)  
 a. 횡단보도를 지나서    b. 횡단차량을 볼 수 있을만큼 충분히 멀리    **c. 횡단보도**
69. 보도 경계선이 없는 내리막길에서 주차를 할 경우 앞바퀴는 어느쪽으로? (a)  
**a. 도로쪽을 향하여**    b. 도로에 평행하게    c. 도로로부터 떨어져서
70. 노란색 보도 경계선이 의미하는 것은? (a)  
**a. 사람이나 물건을 실거나 내릴 때**    b. 제한주차, 버스주차 가능    c. 상업용 차량에 한해
71. 다음중 합법적 U자 회전은 어느 것인가? (a)  
**a. 회전을 위한 개방된 공간이 있는 고속도로에서**    b. 도로 커브길의 150 피트 전에서    c.  
 소방서 앞
72. 두 방향도로에서 좌회전을 할때 시작은? (a)  
**a. 왼쪽 차선에서 한다.**    b. 내쪽에 비어있는 차선에서 한다.    c. 오른쪽 차선에서 한다.
73. 좁은 2 차선 도로에서 5 대 이상의 차량이 따라오고 있을때는? (c) a. 추월하려고 할때 속력을  
 더 낸다.  
 b. 무시하고 계속 운전한다.    **c. 안전할 때 차를 길가에 세우고 다른 차들이 지나가게 한다.**
74. 언제 합법적 우선권을 가지지 못하는가? (a)  
**a. 사고 방지를 위한 목적일 때**    b. 다른 차량이 더 빠른 속도로 달리고자 할때    c. 절대로 그런  
 경우 없다.
75. 교통 혼잡시간대에 교차로를 가로막는 것은? (c)    a. 우선권이 있는 경우에 한해 허락된다.  
 b. 횡단차량이 내차를 돌아갈 수 있는 경우에 한해 허락된다. **c. 어떤 상황에서도 허락되지  
 않는다.**
76. 흰색으로 칠해진 보도 경계선의 의미는: (c)    a. 짐을 부리거나 적재할 수 있다.  
 b. 버스가 이 공간을 적제구역으로 사용한다.    **c. 승객의 승하차가 가능하다.**
77. 다음 중 어느 것이 운전 장애물을 발견할 수 있는 좋은 방법인가? (c)  
 a. 차 내부 미러를 주시한다.    b. 전방의 차량을 주시한다.    **c. 내차의 전방을 살핀다.**
79. 안전벨트는 이 경우에 무용하다: (c)  
 a. 느린 속도로 주행할 경우    b. 시속 40 마일 이상으로 주행할 경우    **c. 안전벨트는 항상  
 유용하다.**
80. 음주운전으로 유죄판결을 받아서 48 시간 동안의 구류를 선고받았다. 추가적으로 치러야 되는  
 대가는? (b)  
 a. 벌금을 내야한다.    **b. 최고 18 개월 동안 면허가 취소될 수 있다.**    c. 운전면허증상에  
 연령제한을 가진다.
81. 뒤에서 공무니를 바싹 따라오는 차가 있다면: (b)  
 a. 브레이크 등을 켜다.    **b. 차간 거리를 넓힌다.**    c. 안전하게 뒤차가 추월할 수 있을때  
 신호를 준다.
82. 모터사이클이 이용하는 동일 차선에 있는 자전거를 주시해야한다.. 왜냐면: (b)  
 a. 자전거는 마주 다가오는 교통에 합류되기 때문에    **b. 다른 운전자들과 도로를 함께 공유할  
 자격이 때문에**  
 c. 우선권이 있기 때문에
83. 교차로에서 접근하고 있다. 교통 지침안내서의 권장사항은? (a) **a. 출발전 왼쪽, 오른쪽, 다시  
 왼쪽을 본다.**    b. 출발전 왼쪽, 오른쪽, 다시 오른쪽을 본다.    c. 출발전 똑바로 앞을,  
 그리고 왼쪽을 본다.
84. 정지해 있는 학교버스의 깜빡이는 빨간색 신호등은 무엇을 뜻하는가? (c)  
 a. 일단정지 후 안전할 때 재출발하라.  
 b. 버스를 따라가고 있다면 정지, 그 버스의 반대쪽 거리에 있다면 계속 진행하라.  
**c. 빨간색 신호등이 켜져있는한 정지하라.**

91. 후방의 차량을 주시하는 것은? (b) a. 속도를 줄이고자 할때가 좋다.  
**b. 뒤를 바짝 따라오는 차가 있는지를 알려준다.**  
 c. 바람직하지 못하다. 전방의 주행차량에 주의를 집중해야한다.
92. 다음의 진술 중 악물복용 운전에 관한 바른 설명?(a)  
**a. 감기 혹은 두통으로 인한 악물복용은 졸음을 유발한다.**  
 b. 악물 및 알콜은 동시에 복용해도 된다. c. 보행자 악물복용은 항상 안전하다.
93. 다음 중 뒤에있는 차량과의 충돌사고를 방지하기 위한 방법은? (b) a. 항상 주차등을 켜둔다.  
**b. 회전 100 피트 전에 깜빡이를 켜다.** c. 회전 200 피트 전에 비상등을 사용한다.
94. 노란색 차선은? (c) a. 모든 커플 차선을 일반차선으로부터 분리시킨다.  
 b. 일반통행 거리에서 차선을 분리시킨다. **c. 반대방향으로 진행하는 차선을 분리시킨다.**
95. 다음의 진술 중 눈 먼 지점에 대한 올바른 설명은? (c)  
 a. 차선변경을 할때에만 고개를 돌려서 오른쪽 어깨너머를 살피면 된다.  
 b. 자체에 양면 미러가 달린 차량은 눈 먼 지점이 없다.  
**c. 우회전을 할때는 오른쪽 어깨 너머를, 좌회전 할때는 왼쪽 어깨 너머를 살핀다.**
96. 빨간색 보도 경계선이 뜻하는 것은? (a) **a. 정지 및 주차가 허용되지 않는다. (버스제외)**  
 b. 주차는 비상 차량에 한한다. c. 중앙 좌회전 차선
97. 한 일방 통행도로에서 다른 한 일방 도로로 좌회전을 할 경우 사용되는 차선은?(c)  
 a. 안전하다면 어느 차선이든 무관하다. b. 왼쪽 보도 경계선에 가장 가까운 차선 **c. 중앙 좌회전 차선**
98. 빨간 신호등에서 보행자와 다른 차량을 확인한 후 우회전을 할 수 있는 것은 언제인가? (a)  
**a. 정지 후 회전금지 표지가 없는 때**  
 b. OK 표지판이 있는 경우에 한하여 c. 우선 속도를 줄이는 한 항상 가능하다.
99. 주차된 차를 들이받았으나 주인을 찾을 수 없다. 어떻게 해야하나? (a) **a. 그 차에 메모를 남긴다.**  
 b. 귀가하여 보험회사에 전화를 한다. c. 차 주인이 돌아오기를 기다린다.
100. 횡단보도가 없는 교차로에서 우선권은 누구에게 있는가? (a) **a. 차량, 그러나 속도를 줄여야한다.**  
 b. 보행자, 그러나 횡단보도가 표시되어 있는 때에 한한다

#### 시험 6

4. 호흡시험거절과 초범일 경우 받을 수 있는 형벌은? - 4 개월 정지와 250-500\$
8. 붉은 신호등에서 우회전이 안되는 상황은? - No Turn On Red 표시하에서는 안된다.
10. 취중운전시 체포당할 경우 유죄판결을 받을 가능성은? - 76%(???)
11. 친구가 당신의 집에서 술을 마시고 가다가 사고가 났을 경우 당신은 어떤 처벌을 받는가? - 소송 대상이 안된다 or 나와는 무관하다.
12. 운전자에게 어떤 약이 영향을 주는가 ex) 감기약 - 모든 약
13. 빨간 불이 계속 깜박이면? - 완전히 정지했다가 양보하면서 진행한다.
21. 밤에 상대방이 불을 켜고 오면 (자신은 정차시)? - 눈을 돌려 차 오른쪽 아래를 본다
23. 흰 일직선 라인의 의미는? - 정차신호시 그 라인 뒤에 정차라는 의미
24. 회전시는 어떻게 운행하는가? - 회전하기 전부터 속도를 줄이면서 회전한다
25. 야간 운행시 정차할 수 있는 거리는? - 전방 시야 한도 내에서 가능하다
26. 브레이크페달이 고장나면(운행시)? - 저속 기어를 넣고 계속적으로 반복해서 브레이크 페달을 밟는다
27. 가속페달이 고장나면? ex) 속도를 줄인다, 오른쪽에 댄다.- 위의 모든 조치를 다 취한다
28. 안전벨트를 사용해야 하는 이유는? - 사고시 생명을 보호하기 위하여 (or 법이 정하는 바이기에)
29. 뉴저지에서 보험에 가입되어 있지 않은 차는? - 불법이다.
30. 차량이 신호없는 교차로에서 두 대가 마주보고 오면? - 좌측이 오른쪽에게 양보한다.
31. 야간중 안전하게 정지할 수 있는 거리? -전방시야 한도내에서
32. 빨간 신호등에서 정지한 후 우회전할 수 없는 경우? -회전정지표시
33. 길양보 표지판은? -삼각형(△)
35. 학교버스가 학생을 태우기 위해 학교앞에 서 있을 때? -시속 10 마일 이하

- 36. 회전시에는? -돌아가기 전 속도 줄임
- 37. 뉴저지에서 보험 없이 운전? -불법이다
- 39. 마름모꼴 표시 ◇ ? -경고, 위험싸인
- 40. 계속 깜박거리는 신호등의 의미는? - 정지한 후 조심스럽게 진행
- 42. 야간 불을 밝게 켜 채 전방에서 오고 있으면? -눈 돌려 우측 밑을 본다.
- 46. 가속발판이 뻑뻑해서 잘 움직이지 않는 경우? - 속도를 줄인다, 오른쪽에 댄다. 위의 모든 조치 다 취한다
- 48. 꼭 경적을 울려야 하는 경우? -골목에서 나올 때
- 49. 교차로에서 도로를 가로지르는 흰일직선의 의미는? -신호등에 의해 정지시 선뒤에 정지
- 50. 깜박이가 작동하지 않을 시? - 수신호 이용
- 51. 우회전하기 위해서 취해야 할 사항은? -우측 차선에 진입
- 52. 노란색 또는 호박색 신호등 접근시? -교차로에 들어가기 전 정지
- 53. 두 도로 교차하는 곳에 표시하는 표지판, 신호등이 없으면? - 필요하면 정지할 준비
- 55. NJ 에서 알콜 함량 혈액 속 얼마 미만? -0.05

**시험 7 - Driver's manual 에서 요점정리한것.**

**\*Drinking Drug 관련**

- 3. 음주측정거부시; 1000 불씩 3 년벌금, 미납부시 납부할때까지 면허정지
- 5. 술에서 깨기위해 필요한것은 오직! 시간
- 6. 자신의 집에서 술마시고 운전하다 걸릴경우 집주인이 소송당할수 있음
- 7. illegal drug 의 섭취금지, 운전전 현기증을 일으키는 감기약,진정제 등
- 9. 0.05% 의 BAC 는 2 배의 사고 증가가 있다. 그렇다면 0.1% 는? 정답은 여섯배 입니다.

**\*벌금관련**

- 1. 운전면허 차량등록등의 허위기재; 200-500 벌금, 6 개월 징역
- 2. 주행시험 대리응시; 500 벌금, 90 일징역
- 4. 운전면허 타인양도시; 100 불벌금
- 5. 주행중 쓰레기 버릴시; 1000 불벌금, 미납시 면허정지됨
- 6. Habitual offender(상습운전자); 3 년동안 3 번면허 정지당한 사람

**\*children restriction**

- 1. 1 살이하, 20 파운드미만의 아이는 반드시 car seat 에 탑승
- 2. 12 세미만의 어린이는 반드시 뒷좌석에 탑승
- 4. car seat 은 반드시 뒷좌석에 장착, 2 door 차의경우 앞좌석에 장착하나 가능한 의자를 뒤로빨것

**\*Graduated Driver License(GDL 관련)-여기서 꼭 문제나옴**

- 1. 학생면허(퍼밋)소유자; 16 세이상, 밤 11 시-새벽 5 시 운전불가, 가족모두와 그외한명탑승가능,21 세미만의 경우 supervising driver 가 동승(자격:21 세이상, 3 년이상면허소유자)
- 2. 임시면허소유자; 17 세이상, 밤 12 시-새벽 5 시운전불가,나머지내용은 학생퍼밋과 동일
- 3. Basic driver license; 18 세이상, 1 년후 정식면허 받을수있음
- 4. GDL 소지자가 운전할때 안전 벨트를 메야 하는 경우는?

운전자와 조수석의 사람. 운전자. 운전자와 슈퍼바이징 드라이버 탑승자 전원 **정답은 탑승자 전원**

**\*주행관련**

- 1. 서행해야 하는곳: 좁은길, 교차로와 기차길, 커브, 보행자가 있는경우, 미끌거리는 도로
- 2. 오른쪽으로 차선변경가능한경우 -오른쪽 차선이 비어있거나 앞차가 좌회전하고 있는 경우
- 3. 차선변경금지구역; 언덕,커브,기차길,터널,좁은다리,차선변경금지싸인이있는곳
- 4. 교차로에서는 항상 오른쪽 차가 우선

문) 아무런 신호가 없는 교차로에서 어떻게 해야 하는가?

예문이: - 왼쪽에 있는 차에게 양보한다. - 경적을 울리며 진행한다. - 위의 모든것이 답이 아니다.

**답 : 서행 하며 언제라도 정지할 준비를 한다.**

- 5. 신호가없는 교차로(intersection)에서는 -속도를 줄이고 정지할 준비를 할것 -메인도로의 차에게 먼저양보할것
- 6. 하이웨이 들어설때는 가속레인으로 들어가서 속도를 높이고 멈추지 않도록 한다



- 하이웨이에서 나올때는 감속라인으로 들어가서 속도를 낮출것,
- 8. 우회전시 우측방향으로 붙고 좌회전시 중앙차로로 접근할것
- 9. 정지해야하는곳; 스톱싸인, 발간불이 있는 교차로, 스쿨버스가학생들을 태우거나 내리고 있을때, 개인드라이브웨이 앞, 보행자나 시각장애인이 지나갈경우, 하얀색 single line 앞
- 10. 스탱사인은? 삼각형. 팔각형. 원. 사각형 **답은 팔각형입니다.**
- 11. 노란색 동그란 사인은? **경고 입니다.**

**\*라이트관련**

- 1. 하이빔사용할때-시골길(트래픽싸인이 없는 곳)
- 2. 반대쪽에서 상향등을 키고 주행할시 - 아래쪽을 본다
- 3. 하향등사용할때-도시운전시, 다른차량이 접근할때, 다른차 뒤를 따라갈때
- 4. spotlight 는 응급시에만 사용

**\*Vehicle information**

- 2. 로드테스트시 지참할것-보험증, 차량등록증, 검사증(스티커)
- 5. 뉴저지보험은 책임보험/보험없이 운전하는것을 불법

**- 영문문제는행 한글 번역본 -**

- o 단조롭고 지속적인 운전 때문에 느껴지는 졸린 현상은? - 고속도로 최면(반수면)
- o 무엇이 자동차엔진을 과열시키는가? - 워터펌프 문제 - 냉각수 부족 - 온도계 문제 - **정답 : 위 모두다**

- o 두 대의 차량이 통제되지 않는 교차로로 들어설 때 누가 진로를 양보해야 하는가? - **왼쪽차가 양보**

- o 당신이 한잔 또는 두잔음주를 했다 하더라도 다음중 어떤 것이 사고가 날 가능성을 증가시키는가 - 당신의 기분 - 운전경험 - 약물복용 - **정답 : 모두다**

- o 추월이 금지되는 곳은 - **노건(도로 가장자리)**
- o 다른 운전자에게 말을 거는 가장 좋은 방법은 - **경적이나 라이트 사용**

- o 수막 미끄럼은 - **젖은 길에서 타이어 접지면이 미끄러지는 것**
- o 오른쪽으로 추월하는 것이 법적으로 허용되는 경우는 - **두 개의 연속적인 차선이 있을 때**

- o 주차등 뿐 아니라 전조등을 반드시 켜야 하는 경우는 - **해지기전 30 분에서 해 뜨 후 30 분까지와 날씨 좋지 않은 때 언제든지**

- o 교차로에서 도로를 가로지른 한 개의 백색 실선은 - **도로 표지판이나 신호등을 보기 위해 해당선 5 피트내에 정지**

- o 알코올이나 약물 영향하의 운전은 - **당신의 감각이나 판단력이 손상됨**

- o 사각지대의 의미는 - **백미러로 볼 수 없는 지역**

- o 일방통행길에서 양방통행길로 우회전을 할 때 어떤 위치로 가야하는가 - **가능한 오른쪽에 가깝게**

- o 운전자는 좌, 우회전을 하기 전 최소 어느 정도 거리에서 지시등을 켜야 하는가 - **100 피트**

- o 당신이 포장도로에서 벗어났을 때 가장 먼저 할 일은 - **속도를 늦추고 천천히 다시 포장도로로 돌아간다**

- o 브레이크에 문제가 있다는 것을 어떻게 알 수 있나 - **브레이크액이 샌다**

- o 급한 회전을 한 후에 핸들을 되돌리는 적합한 방법은 - **핸들이 당신의 손을 통해서 미끄러지게 함**

- o 음주운전으로 인한 문제 상태의 첫 번째 징조는 보통 - **말이 많아지고, 자신감이 증가하고, 판단력이 감퇴됨**

- o 교차로를 가로지른 하나의 백색 선은 - **그 선 뒤에 정지**

- o 면허를 변호하면 - **1,000 달러 벌금 과/또는 18 개월 징역**

- o 중고차를 살 때 차량검사는 - **2 주 또는 부착 검사스티커에 남은 기간 내에**

- o 면허취소 대상자이면서 인명부상 사고를 낸 경우 당신은 - **45 일 구금**

- o 사고보고를 해야 하는 사고를 차량국에 몇일내에 보고해야 하는가 - **5 일**

- o 3 개 차선도로에서 중앙차선은 - **좌회전에 사용된다**

- o 점멸(반짝거리는) 적색등은 - **정지후 주의하면서(안전할 때) 진행**

- o 브레이크 라이닝이 젖었을 때 어떻게 해야하나 - **천천히 운전하면서 브레이크에 발을 올려놓고 있다**

- 다른 차가 나를 추월할 때 - 속도를 줄여서 제때 추월하기 쉽게 해준다
- 점멸(반짝거리는) 황색 등은 - 속도를 줄이고 주의하면서 진행
- 이중실선은 어떤 도로에 있나 - 구부러진 이차선 도로
- 양방향 어디에서도 추월하는 것이 불법인 것을 나타내는 도로표시는 - 이중실선
- 브레이크 밟고 나서도 차가 진행되는 거리는 - 정차거리
- 핸들위의 손의 위치는 - 10 시와 2 시 방향
- 우회전을 하기 위해서는 - 오른쪽 차선으로 들어간다
- 양보 표지판은 몇각형인가 - 3 각형
- 사고시 차량국에 통보해야 하는 기간 - 5 일
- 브레이크 밟을 때 초보자가 하기 쉬운 실수는 - 브레이크 페달을 아래로 너무 세게 밟는다
- 초록색화살은 - 화살표 방향으로 진행하라
- 면허정지 받는 벌점은 - 12 점
- 뉴저지법에서 경찰에 통보해야 하는 사고는 - 부상 - 사망 - 차량이나 재산 파손 - **정답 : 모두다**
- 혈중알콜농도가 얼마이면 알콜에 의한 영향을 받은 음주운전이라고 보는가 - **0.08**
- 후진시 차량의 핸들을 어느 방향으로 틀어야 하는가 - 차의 뒤쪽이 가야하는 방향으로 핸들을 튼다
- 묵시적 동의법은 - 운전자는 호흡테스트 받는 것을 동의하는 것
- 통제되지 않은 교차로로 접근하거나 가까워질 때 당신은 - 속도를 줄이고 정지할 준비를 한다
- 정지 표지판은 - 적색과 백색으로 되어있음
- 차가 미끄러지면 - 가속페달을 떼고 차의 뒤쪽이 미끄러지는 방향으로 차를 튼다
- 왼쪽 브레이크의 나쁜 점은 - 브레이크에 발을 올려놓고 있는 경향이 있기 때문에
- 검사기간이 지난 차량을 운전했을 때 벌칙은 - 벌금 - 체포 - 차량등록 철회 - **정답 : 모두다**
- 차량국에서 신분증명으로 인정되는 문서는 - **출생증명서 원본**
- 철도 건널목 표지판은 - 황색과 흑색
- 차량국에 통보해야 하는 인체상해 사고에 관련되었을 때 당신은 - 동시에 보험회사에도 사고사실을 통보해야 한다
- 운전연습 전에 학생운전자는 어떤 시험을 마쳐야 하는가 - 법 지식과 시력검사
- 뉴저지에서 차량등록 기간의 최대 유효기간은 - 4 년
- 제한속도를 넘을 수 있는 경우는 - 없다
- 알코올은 당신의 운전에서 어떤 영향을 주나 - 반응시간이 길어진다.(반응속도가 떨어진다.)
- 적색등에서 우회전할 수 있는 경우 우회전하기 전에 당신은 - 완전히 정지한 후 교통상황을 살핀다.
- 미끄러지는 방향은 어떻게 알 수 있나 - 차의 뒤쪽이 향하는 방향으로 알 수 있다.
- 가운데 오렌지색 둘레에 적색인 삼각형 표지판의 의미 - 저속차량 주의(농사차량, 건설차량 등)
- 알코올이나 약물 영향하의 운전에서 초범 벌칙은 - 300 달러에서 500 달러 벌금과 가능한 경우 30 일 구금과 7 개월에서 1 년 면허취소
- 앞오는 차가 상향등을 켜고 오면 - 도로의 오른쪽을 본다
- 최초의 음주영향 운전과 관련하여 음주검사를 위한 호흡체크를 거부할 경우 - 7 개월에서 1 년간 면허취소와 300~500 달러 벌금
- 인명사고를 내고 면허취소 상태에 있을 때 당신의 구금기간은 - 45 일
- 더러운 노면에서 정상포장도로로 다시 돌아오려고 할 경우 - 속도를 낮추고 포장도로로 올라가기 위해 핸들을 돌린다
- 2 차선 길에서 4 차선 길로 좌회전할 때 어떤 차선으로 들어가야 하나 - 가급적 가장 왼쪽차선으로
- 보조 (ACC(accessory)) 스위치는 어떤 때 쓰나 - 엔진을 켜지 않고 전류를 흐르게 할 때
- 음주운전의 최대벌칙은 - 10 년 면허정지
- 밤에는 다음의 어느 거리 이내에서 정지하기 위해서 서행운전을 해야 하는가 - 전조등으로 비쳐지는 거리범위
- 통상적인 운전방해(주의를 흐트러뜨리는) 요인들은

- 운전중 안전벨트를 매는 행동 - 운전중 음식을 먹는 행동
- 차안에서 아이들이나 애완동물을 보는 행동 - **정답 : 모두다**
- 차량번호판을 신규로 받았을 때 종전의 번호판은 - 차량국에 반납하고 영수증을 받는다
- 스쿨버스가 정차해서 적색등이 반짝이면 - 정지한다
- 녹색등의 의미는 - 안전하면 가라 ※ '그냥 가라' 든지 '바로 가라' 든지 하는 것은 틀림
- '깊이 인식'이라는 말은 무엇과 같은 의미인가 - 거리판단
- 미끄러운 도로에서 미끄러질 때 정지하려면 - 브레이크를 밟았다 뺐다를 반복한다.(퓌핑이라고 함)
- 평행주차시 체크할 포인트는
  - 주차하려는 공간에 내 차의 뒷부분과 주차되어 있는 차의 뒷부분을 먼저 맞춘다

3. 자동차 등록과 라이선스를 책임하는 부서는? ① 경찰서 ② 공중부 ③ 교통부 ④ **재정부서**

4. 당신이 자동차 등록인일 때, 그 등록 서류에 기입된 주소를 바꾸고자 할 때는 어떻게 하나?

- ① 라이선스를 재발급할 때 재정부서에 신고를 해야 한다.
- ② **주소가 바뀐 후 30 일 이내에 재정부서에 신고를 해야 한다.**
- ③ 차를 팔거나 바꿀 때만 신고한다. ④ 아무것도 안해도 된다.

6. 교통신호 표지판과 도로포장 표시는 ? ① **항상 복종해야 함.** ② 안내할 때만 사용된다.

- ③ 다른 차량이 있을 때만 따른다. ④ 순경이 있을 때만 따른다.

7. 당신이 좁은 길을 운전해 갈 때 다른 차가 오는 것을 만났다. 당신이 할 일은? ① 길에서 완전히 벗어나서 멈춘다.

② **운전할 수 있는 길의 적어도 반 정도의 범위는 오는 차를 위해 남겨 두어야 한다.**

- ③ 당신이 먼저 왔으므로 다른차를 한쪽으로 몰아부치게 한다.
- ④ 헤드라이트를 켜서 다른차가 보이도록 한다.

9. 아래의 항 이상의 속도로 운전하지 말아야 된다 ① 표지판이 지시하는 최고 속도

- ② 온당하며 신중한 속도 이상 ③ 현존하는 상태를 위한 안전한 속도 ④ **위의 전부**

11. 길을 가는 데 응급차가 반짝이는 불을 켜고 사이렌 소리와 함께 당신 뒤에서 오고 있다. 그런데 당신은 복잡한 교통량 속에 있어 길에서 빠져 나갈 수가 없을 때는 어떻게 해야 하나? ① 멈춘다.

② 경적을 누른다

- ③ 인접된 길의 차량속으로 억지로 들어간다. ④ **길을 비켜날 때까지 천천히 계속 움직인다.**

12. 다른 차를 앞질러도 좋은 때는?

- ① 커브와 언덕에서 왜냐하면 오는 차들이 적으니까 ② 하이웨이의 상부에서
- ③ 당신길에 노란 연속선이 그어져 있고 앞에 차들이 없을 때 ④ **위의 어느 것도 아님**

13. 차선이 나뉘어져 있지 않은 길에서 스쿨버스를 앞이나 뒤로부터 지나갈 수 있을 때는?

- ① 갈 수 없다 ② 스쿨버스에 빨간 불빛이 켜지고 반짝일 때

③ **스쿨버스에 빨간 불빛이 켜지고 반짝거리지 않을 때** ④ 천천히만 간다면 아무 때고.

14. 신호등이나 표지판이 없는 네거리에 당신이 다른 차와 동시에 도착했을 대 당신이 해야 할 일은?

- ① 속력을 내어 네거리를 건넌다. ② **속도를 줄이며 오른쪽에 차를 양보해야 한다.**

③ 네거리로 차를 몰고 들어가서 다른 차를 멈추도록 한다 ④ 경적을 울리며 네거리를 지나간다.

15. 초록색 신호등이 켜진 네거리를 가려고 하는데 보행자가 빨간 불임에도 불구하고 건너려고 한다. 당신은?

- ① 경적을 울린다. ② 속력을 더내어 보행자의 앞을 지나간다.

③ **멈추고 보행자가 안전하게 지나가도록 한다.** ④ 바짝 가까이 운전하여 보행자를 놀라게 한다.

- 그래야만 빨간 불에 지나가기 전에 다시 한 번 생각할 것이다.
17. 네거리에서 좌회전 할 때나 어느 차도로 들어 설 때 당신은?  
 ① 오른쪽 길의 면적을 남겨 놓는다. 다른 차들이 지나갈 수 있게  
**② 맞은편 쪽에서 가까이 접근해 오는 차에게 반드시 양보한다.**  
 ③ 노란 연속선은 절대 건너지 않는다. ④ 뒤에서 접근하는 차를 막지 말아야 한다.
18. 우선 멈춤 표지판에서 기다리는 다른 차들 뒤에 당신의 차가 서 있다. 네거리에서 다른 차들이 없을 때 당신은? ① 당신은 또다시 멈추지 않고도 네거리로 건너도 된다.  
 ② 당신은 멈춤 표지판이나 멈춤 선에서 또 멈추어야 한다.  
**③ 네거리에 다른 차들이 없을 때는 멈추지 않고 천천히 네거리를 지나가도 된다.**  
 ④ 다시 멈추지 않고 앞차를 따라가도 된다.
19. 어떤 하이웨이 사인들과 표지판은 지적인 지시대로 복잡하도록 요구하고 있다. 이러한 표지판들은?  
 ① 규정 표지판 ② 경고 표지판 ③ 통보 표지판 ④ 안내 표지판
20. 어떤 하이웨이 표지판과 표적은 위험 상황을 알리는 내용이 있다. 이런 표지판들은?  
 ① 규정 표지판 **② 경고 표지판** ③ 통보 표지판 ④ 안내 표지판
21. 당신이 노란 단속 선으로 줄쳐 2 개로 나뉘어진 길로 회전하려고 한다. 즉시 알아야 할 점은?  
**① 당신이 양측 통행의 길에 있다.** ② 당신이 일방 통행의 길에 있다.  
 ③ 그 길은 수리중에 있다. ④ 당신은 노란 단속선의 왼편에 있어야 한다.
22. 당신이 두 개의 노란 연속선으로 나뉘어진 하이웨이로 달리고 있다. 알아야 할 점은?  
**① 당신의 이 선들을 오직 좌회전 할 때나 골목길, 일반도로, 혹은 차도에서만 넘을 수 있다.**  
 ② 앞에서 오는 차가 없을 때만 다른 차를 앞지르기 위해 이 선들을 넘을 수 있다.  
 ③ 절대로 이 선들을 넘을 수 없다. ④ U 회전 할 때만 넘을 수 있다.
23. 당신은 4 차선 하이웨이를 달리고 있다. 알아야 할 점은?  
**① 흰선으로 분리되어 있는 길은 같은 방향으로 가는 길이다.**  
 ② 흰선으로 분리되어 있는 길은 반대 방향으로 가는 길이다.  
 ③ 노란선으로 분리되어 있는 길은 같은 방향으로 가는 길이다. ④ 위의 어느 것도 아님.
24. 당신은 4 차선 하이웨이를 달리고 있다. 그길은 흰 연속선으로 표시되어 있다. 알아야 할 점은?  
 ① 흰 연속선은 건드리지 말아야 한다. ② 흰 연속선은 언제든지 넘어도 된다.  
**③ 흰 연속선은 특별한 상황일 때만 매우 조심을 하면서 건너도 된다.**  
 ④ 흰 연속선은 반대 방향으로 움직이는 길로 분리된다
25. 당신은 4 차선 하이웨이 위를 운전하고 있다. 두 줄의 흰 연속선의 뜻은?  
**① 건너지 말아야 한다.** ② 아주 조심을 해서 건너도 좋다  
 ③ 반대 방향으로 가는 길로 분리 되었다. ④ 하이웨이로 전혀 이용된 적이 없었다.
26. 횡단 보도가 두 줄의 흰 연속선으로써 차들이 다니는 길과 교차되게 페인트로 칠해졌다. 운전하는 당신으로서 알아야 할 점은?  
 ① 이런 횡단 보도에는 보행자보다 자동차가 우선권이 있다.  
**② 이런 횡단 보도에는 자동차보다 보행자가 우선권이 있다.**  
 ③ 이 횡단 보도는 어느 누구도 우선권이 없다. ④ 보행자는 모든 길에서 벗어나야 함을 책임져야 한다.
27. 위험물 표지판은 흰 연속선이나 노란선으로 길의 위험물을 돌아가라고 페인트 칠해 놓은 지시가 있다. 운전하는 당신으로서 알아야 할 점은?

① 흰 위험물 표시물이 어느 쪽 길을 지나가도 된다. ② 노란 위험물 표시의 어느 쪽 길을 지나가도 된다.

③ 위의 1 과 2 ④ 위의 아무것도 아님

28. 빨간 신호등 불이 켜졌을 때 당신은?

① 멈추는 선에서 멈추어라 ② 멈추는 선이 없을 때 횡단 보도로 들어가기 전에 멈추어라

③ 멈추는 선과 횡단보도가 없을 때 네거리로 들어가기 전에 멈추어라 ④ 위의 1,2,3 모두 정답

29. 빨간 신호등을 바라보고 서 있는 차가 교통 표지판에 금지되지 않고 할 수 있는 것은?

① 다른 차와 보행자들에게 양보한 뒤 우회하는 것 ② 빨간 불에 우회전하는 것은 법규에 저촉됨

③ 언제든지 우회전할 수 있다. ④ 경적을 누른 후 우회전 할 수 있다.

30. 교통 신호등 노란 등의 뜻은?

① 빨간불이 나오기 전에 속력을 내어 달린다. ② 노란불 후에 즉시 빨간 불이 나온다는 신호

③ 가능한 한 네거리에 들어가는 것을 피해야 한다. ④ 위의 2 와 3 둘다.

31. 교통 신호등 푸른 등의 뜻은?

① 길에 우선권이 언제나 있다.

② 회전을 금지한 사인이 있는 것을 제외하고는 곧장 가거나 회전을 해도 된다.

③ 차와 보행자가 네거리에 벌써 들어와 있으므로 당신은 길을 비켜 주어야 한다. ④ 위의 2 와 3 둘다.

32. 불켜진 화살표는 특정한 길에서 회전할 때 어떤 경우 제한을 받는다. 빨간 화살표의 뜻은?

① 신호등으로 결코 사용하지 않았다. ② 화살표가 가르키는 길은 둥근 빨간등과 같은 뜻이다.

③ 화살표가 가르키는 길로 가도 좋다. ④ 화살표가 있는 앞으로 가는 길은 반드시 멈추어야 한다.

33. 불켜진 화살표는 특정한 길에서 회전할 때 어떤 경우 제한을 받는다. 노란 화살표의 뜻은?

① 신호등으로 결코 사용하지 않았다. ② 화살표가 가르키는 길은 둥근 빨간등과 같은 뜻이다.

③ 화살표가 가르키는 길로 가도 좋다. ④ 초록 화살표가 곧 나온다는 경고다.

34. 불켜진 화살표는 특정한 길에서 회전할 때 어떤 경우 제한을 받는다. 초록 화살표의 뜻은?

① 일방통행의 길에서만 사용한다.

② 둥근 초록 신호등과 같은 뜻이지만 초록 화살표가 가리키는 방향으로만 갈 수 있다.

③ 초록 신호등과 초록 화살표가 함께 나올때만 갈 수 있다. ④ 공항으로 가는 길을 가르킨다.

35. 반짝반짝하는 빨간 신호의 뜻과 같은 것은?

① 빨간 신호등 ② 양보의 표지판 ③ 노란 신호등 ④ 주의의 표지판

36. 찻길 위에 X 표시로 된 빨간 불빛의 뜻은?

① 그 길을 사용해도 좋다. ② 그 길을 사용해서는 안된다.

③ 그 길은 차들이 당신쪽을 향해 온다는 뜻이다. ④ 위의 2 와 3 둘다

37. 길 위에 초록 화살표의 불빛의 뜻은?

① 그 길을 사용해도 좋다. ② 그 길을 사용해서는 안된다.

③ 그 길은 차들이 당신쪽을 향해 온다는 뜻이다. ④ 위의 2 와 3 둘다

38. 길 위에 노란 X 표시의 뜻은?

① 그 길에서 당신은 비켜나야 한다. 왜냐하면 당신쪽을 향해 올 차들을 위한 길로 사용될 것이다.

② 그 길을 사용해도 좋다. ③ 좌회전할 때만 사용한다. ④ 그 길은 사용해도 좋지만 주의를 한다.

39. "전방 속도 줄임" 이란 표지판이다. 운전하는 당신으로 알아야 할 점은?

① 속도를 낮추는 지점에 올 때까지 달려오고 있는 속도를 유지하라. ② 차의 속도를 줄이기 시작하라.

③ 천천히 가면 위험하다. 왜냐하면 차량이 밀리기 시작하니까.

④ 그 표지판은 천천히 운전하는 차를 위해 두었다.

40. 운전하는 동안 시속 35 마일로 속도 줄임이라고 쓰인 표지판이 앞에 다가왔다. 운전하는 당신으로서 알아야 할 점은? ① 이 표지판에서 새로운 시속 35 마일 속도로 시작됨

② 새로운 시속 35 마일 속도는 다음 "속도제한" 표지판에서 시작됨

③ 속도 구역 전에 당신은 충분히 천천히 갈 시간을 가지고 있다.

④ 그 표지판은 운전 잘하는 사람을 괴롭히려고 놓아뒀다.

41. 취중운전 혐의로 순경이 당신을 멈추게 하고, 체내에 알콜 기운이 있는가의 여부를 가려내기 위해 검사를 해야 한다고 말한다. 운전하는 당신으로서?

① 당신이 술을 안 마셨다는 증거를 낼 수 있으면 그 검사는 안 받아도 된다.

② 검사를 꼭 받아야 된다. 아니면 운전면허증을 빼앗길 위험이 있다.

③ 운전 법규를 어기지 않았으면 검사를 안 받아도 된다. ④ 아무것도 안해도 된다.

42. 취중 운전 에 잡혀 알콜 검사를 요구하는 것을 거절했다. 당신은 12 개월 동안

① 운전면허증을 빼앗길지 모른다. ② 음주 운전을 했을 때만 죄를 받는다.

③ 운전 법규를 어겼을 때만 죄를 받는다. 왜냐하면 검사 받는 것을 거절했기 때문에

④ 면허증을 빼앗기지 않는다.

43. 공중 하이웨이의 차 안에서 술을 마셔도 좋다. 어떤가?

① 당신이 운전을 하지 않는 한에서 ② 뒷 좌석에 탈때만 ③ 반 트럭의 뒤에서 탈 때만

④ 공중 하이웨이에서 술을 마시는 것은 법에 어긋난다.

44. 운전을 하면서 길을 바꿀 때나 커브를 빠져나갈 때, 길로 나가기 전에 머리를 돌려 미리 쳐다보는 것은?

① 나쁜 운전 습관이다. ② 좋은 운전 습관이다. ③ 필요하지 않다.

④ 후면 거울을 이용할 때는 필요하지 않다.

45. 운전을 하면서 길을 바꿀 때나 커브를 빠져나갈 때, 길로 나가기 전에 머리를 돌려 확인하지 않는 것은?

① 후면 거울로 미리 확인하면 괜찮다. ② 나쁜 운전 습관이다.

③ 많은 경우 교통사고의 원인이 된다. ④ 위의 2 와 3 둘다

46. 운전을 하면서 회전을 하거나, 차선을 바꾸거나 커브하기 전에 시그널을 주는 마음을 가지는 것은?

① 다른 차량이 있을 때만 필요하다. ② 좋은 운전 습관이며 법으로 요구하고 있다.

③ 미리 시그널 줄 필요가 없으며 회전과 차선 바꿀 때, 커브를 할 그 당시만 필요함

④ 조종을 천천히 하면 필요없다.

47. 4 차선 하이웨이로 운전하고 있는데 두 대의 차량이 병행하여 당신보다 먼저 가고 있다. 바쁜 당신은 어떻게 해야하나? ① 안쪽에 있는 차량 뒤에 바짝 붙여 헤드라이트를 켜다.

② 오른쪽에 있는 차량 뒤를 바짝 붙여간다.

③ 앞서가는 차량 뒤의 어느 길이나 운전하되: 2 초간의 간격을 둔다.

④ 앞서가는 차량 뒤를 바짝 붙여서 자주 차선을 바꾼다.

48. 혼잡한 교통 속에 운전을 하는 당신이 해야 하는 것은?

① 다른 차들이 들어오지 못하게 앞의 차를 바짝 붙여간다.

② 갑자기 멈출 준비를 하면서 앞의 차를 바짝 붙여간다.

③ 위의 1 과 2 모두 ④ 적어도 앞의 차 뒤를 2 초간의 간격을 둔다.

49. 당신은 다른 차량 뒤를 운전하고 있다. 그 차의 운전하는 사람이 옆에 탄 사람과 이야기하면서 한손으로 운전하고 있는 것을 인식했다. 운전하는 당신으로서는?

- ① 그 차와 충분한 간격을 두어야 됨을 알아야 한다.
- ② 앞차의 운전하는 사람은 소홀히 운전함으로써 안전성을 줄이고 있다.
- ③ 당신은 이런 나쁜 습관을 멀리해야 됨을 알아야 한다. ④ 위의 전부

50. 안전 운전은 운전하는 당신으로서의 운전 기술이다.

- ① 위험한 운전상황을 알아채고 사고를 피할 행동을 취한다.
- ② 그들보다 선두에 있음으로써 운전이 부족한 사람들에 대하여 방어한다.
- ③ 앞차를 가까이 따라 감으로써 당신 자신을 사고에 대하여 방어한다.
- ④ 운전을 빨리 해서 혼잡한 교통에 앞서 감으로써 사고를 방어한다.

51. 안전 벨트는 생명 벨트다. 그것은? ① 차를 탈 때는 운전자나 타는 사람이나 다 착용해야 한다.

- ② 높은 속도로 운전할 때만 착용해야 한다. ③ 느슨하게 매야 한다.
- ④ 앞에 앉아 타는 사람만 착용할 필요가 있다.

52. 차선이 여러개 있는 하이웨이에서 운전하고 있는데 차선을 바꾸고 싶다. 시그널을 주어야 되는 것은?

- ① 차선을 바꾸기 바로 직전 ② 차선을 바꾸는 바로 그 때만
- ③ 적어도 차선을 바꾸기 50 피트 전부터 ④ 적어도 차선을 바꾸기 100 피트 전부터

53. 4 차선 하이웨이 길로 운전하는데 천천히 가는 차가 당신길에 있다. 교통량은 보통인데 차선을 바꾸기 전 당신이 해야 할 것은? ① 적어도 100 피트에서 신호 줄 마음을 가진다.

② 잘 안보이는 부분이 명확한지 확실히 한다. ③ 움직일 수 있는 충분한 거리를 확실히 한다.(2 초 간격은 위반 안됨) ④ 위의 전부

54. 앞차를 너무 바짝 따라가는 것이 많은 사고의 이유로 기록된다. 이런 종류의 사고를 피하려면 알맞는 간격은? ① 아무도 당신 앞에 끼어들지 못하게 가깝게 다가간다.

- ② 앞차의 뒤를 적어도 2 초 정도의 거리를 둔다. ③ 100 피트 ④ 75 피트

55. 운전을 하는데 비가 오기 시작한다. 당신은?

- ① 다른 차보다 빨리 달린다. ② 적어도 제한 속도로 달린다.
- ③ 날씨 상황을 고려하여 천천히 달린다. ④ 앞의 차 뒤를 가깝게 붙어 달린다.

56. 교통법규는 매번 회전할 때나 차선을 바꿀 때 시그널을 적어도 ---피트 이전에 주어야 하는가?

- ① 50 피트 ② 75 피트 ③ 100 피트 ④ 25 피트

57. 회전을 하거나 차선을 바꿀 때 시그널은?

① 회전하거나 차선을 바꿀 그 당시만 한다. ② 시그널은 회전하거나 차선을 바꾸고자 할 때 항상 한다.

③ 100 피트 시그널을 주고 난 뒤는 당신이 회전하거나 차선을 바꿀 우선권이 있다. ④ 위의 전부

59. 트레일러를 토잉 할 때 차안에 있는 후면 거울을 많이 막아 버릴 때 당신이 요구하는 것은?

- ① 당신 차의 운전석 쪽 바깥에 후면 거울을 설치한다.
- ② 당신 차의 운전석 반대쪽의 바깥에 후면 거울을 설치한다.

③ 양쪽 다 후면 거울을 바깥에 설치한다. ④ 우회전을 위해 차 안에 있는 사람에게 방해 안되게 한다.

60. 짐 실은 트레일러를 토잉할 때 그 무게가 토잉하는 차보다 반이상이거나 3,000 파운드 이상일 때 트레일러가 반드시 갖추어야 할 것은?

- ① 브레이크 ② 이탈 보호 ③ 중심 캡 ④ 브레이크와 이탈 보호

61. 트레일러를 토잉 할 때 당신이 안전하게 갖추어야 할 것은?

① 바뀌는 정확하게 장치하여 미끄럽게 하고 흠받이로 카버한다. ② 타이어를 납작하게 얹게 한다.

③ 꼬리, 멈춤, 회전 시그널, 번호판 그리고 만약 요구한다면 옆 표시 등불과 반사경 ④ **위의 전부**

62. 당신이 사고에 관련됐다. 해야 할 일은?

① 곧 바로 선다. ② 부상자를 돕는다 ③ 순경을 부른다 ④ **위의 전부**

63. 당신이 사고에 관련됐는데 다른 사람이 다쳤다. 해야 할 일은?

① 부상자를 보이지 않게 곧 옮긴다. ② 부상자를 있는 그 자리에 항상 그냥 둔다.

③ **필요없이 부상자를 옮기지 않으며, 부상자를 따뜻하게 해주며 응급치료를 해 준다.**

④ 부상자로부터 멀리 있다.

64. 당신이 사고에 관련됐는데 사고 현장이 오는 방향의 차량에게 확실히 보이지 않을 때 당신은?

① **다른 사람에게 차량이 접근 못하도록 하고 경고를 한다.** ② 오는 차량 자신들이 조심하도록 둔다.

③ 순경이 다 처리하도록 둔다. ④ 길에서 벗어난다.

66. 당신이 사고에 관계되어 다른 차를 가로 막고 있다. 당신이 해야 할 것은?

① **가능한한 길에서 차를 옮겨야 한다.** ② 어떠한 상황에서도 차를 옮기지 말아야 한다.

③ 경찰이 올때까지 차를 옮기지 말고 기다려라. ④ 위의 어느 것도 답이 아님

67. 당신은 운전을 해본적이 없는 친구의 차를 빌려서 운전할 때 해야 할 것은?

① 모든 차들은 비슷하니까 운전해 버린다. ② 친구 차에 숙달되지 않는 것을 친구에게 보이지 않는다.

③ 친구를 창피하게 하지 않기 위해 차에 명백한 결점이 있어도 무시한다.

④ **차의 부속의 위치와 작동 등을 살펴 익숙하게 한다.**

68. 소형차가 대형차를 지날 때 운전자가 준비해야 될 것은? ① 큰 소음 ② 초과한 공해

③ **대형 차량에 의해 생기는 돌풍** ④ 차의 부품 낙하 ⑤ 위의 1 과 2 둘다이다.

69. 공로상이나 하이웨이 운전할 때는?

① 요구시 운전면허를 보여주어야 한다. ② 운전면허증을 항상 소지해야 한다.

③ 면허 유효기간이 만기되지 않아야 한다. ④ **위 사항 모두를 행해야 한다.**

70. 운전중 거리로 진입하려 할 때는

① 보행자가 주 항로상에서 빠져나갈 때까지 천천히 운전해야 한다.

② 경적을 울려 주 행로상의 차량이나 보행자가 길을 비키도록 한다.

③ **일단 정지한 후 보행자가 길을 건너지 않음을 확인한 후 주행한다.**

④ 보행로가 없으므로 보행자를 무시하고 주행한다.

Q> 진입로에서 고속도로로 들어가기 위해 당신은? A> 속도를 늦추고 좌우로 실피며 주의하면서 들어간다.

Q> 거리나 고속도로에서 사용되는 흰색 점선 차선은?

A> 같은 방향으로 가는 차선이 하나 이상일 경우의 도로나 고속도로의 차선을 나눌 경우.

Q> 황색 점선 차선은? A> 2 차선 도로에서 중앙선으로 사용된다.(추월 가능)

Q> 간격이 없는 2 중 황색 차선은? A> 4 차선 이상 도로에서 중앙선으로 사용된다.

Q> 길 합쳐짐 표시판에 도달한 당신은? A> 다른 차량과의 충돌을 피하기 위해 속도와 위치를 조절해야 됨.

Q> 교차로 내에서 좌회전을 하려고 기다리고 있는데 교통신호등이 빨간색으로 바뀌는 경우에 당신은?

A> 안전하면 회전을 끝낸다.



Q> 경고 신호등이 깜박이고 있거나 횡단 가로대가 내려져 있는 철도 건널목에 도달할 때 당신은?  
A> 가장 가까이 있는 철도 전방 50 내지 15 피트내에 정지한다.

Q> 속도제한 55 마일 지역에서 45 마일로 가고 있을때 어느 경우에 속도법을 위반하는 것이 되는가?  
A> 그때 상황으로 보아 너무 빨리 달리고 있을때.

Q> 다음 어느 경우 당신은 절대로 후진을 해서는 안되는가? A> 고속도로나 유로도로상에서.

Q> 2 차선 도로상에서 황색선이 표시되어 있을때는?A> 다른 차량을 추월하기 위해 황색선을 건너서는 안된다.

Q> 옆의 차가 길을 건너는 사람이 있어 횡단보도앞에 멈추었다면?  
A> 당신이 앞의 차를 지나쳐 추월 하면 안된다.

Q> 2 차선 도로상에서 스쿨버스가 깜박이를 켜고 가고 있을때는? A> 버스에 접근하기 전에 멈춘다.

Q> 흰 지팡이를 가졌거나 안내견을 데리고 가는 장님 보도자가 접근할 경우에, A> 우선권을 양보한다.

Q> 우회전을 할 때 당신은, A> 회전하기전에 맨 오른쪽 차선에 들어가 있어야 한다.

Q> 멈춤 표시판이 있는 곳에서 당신차는, A> 횡단보도앞에 혹은 횡단보도가 없는 곳에서는 교차로 진입전에 차선에 흰 페인트로 표시된 멈춤선에 서야한다.

Q> 오토바이는 크기가 작고 중량이 가볍지만 다른 차량과 마찬가지로 우선권의 혜택을 가진다. 어느 경우에 오토바이 운전자에게 특별한 주의를 주어야 하는가?  
A> 당신이 그 뒤를 따라가고 있거나 차선을 바꾸거나 좌회전을 할 경우.

Q> 좌회전을 하려 할때, A> 다른 차량에게 우선권을 먼저주고, 좌회전하기에 안전할 때에만 좌회전한다.

Q> 교차로 내에서 기다리고 있을때 신호가 파랑으로 바뀐다면 언제 가도 되는가?  
A> 우선권을 보행자와 교차로내에 먼저 있는 차에게 양보한 후에.

Q> 밤중에 헤드라이트를 켜고 운전할 때 운전자는 언제 그 불빛을 약하게 줄여야 하는가?  
A> 다른 차량과 만나기 최소한 500 피트 전에 라이트를 줄여준다.

Q> 교통신호가 초록색에서 노란색으로 바뀌면, A> 적색신호가 나온 뒤에 교차로에 진입하지 않도록 한다.

Q> 미끄러운 길에서 운전시, 차의 뒤쪽이 왼편으로 미끄러지면,  
A> 앞바퀴를 차가 미끄러지는 방향으로 바꾼다.

Q> 고속도로에서 운전시 차의 앞 오른쪽 바퀴가 도로에서 벗어나게 되면?  
A> 운전대를 움직이지 않게 꼭 잡고, 악세레이터에서 발을 뺀다.

- 역삼각형으로 된 표시판의 뜻은? (1)  
**(1)횡단차를 먼저 보낸다.** (2)오른쪽에 있는 차가 먼저 간다. (3)나에게 통행우선권이 있다.

- 빨강색 동그라미 가운데 하얀 직사각형이 가로막고 있는 표지판의 뜻은? (3)  
\* 전방도로가 닫힘으로 모든 차량의 통행이 금지된다. \* 전방에서 도로공사 중이니 조심해서 들어서라.

**\* 자기가 가는 방향에서는 이 도로로 들어서지 못한다.**  
- 교통신호등이 없는 사거리에 모두다 STOP 표지판이 있을 경우에 우선권은? (1)  
**\* 오른쪽에 있는 차.** \*왼편에 있는 차. \* 회전신호를 주고 있는 차.  
- 이중선을 넘어 차를 추월해도 좋은 때는 본인이 있는쪽의 선이? (1)  
**\* 단속선일 때.** \* 백색 연속선일 때. \* 노랑색 연속선일 때.

- 고속도로 상에서 오렌지색 공사표시판이나 원추를 보면 어떻게 하나? (2) \* 도로가 끝남으로 속도를 낮춘다. \* **인부나 서행하는 공사용 차량이 있을 것을 대비한다.** \* 차선을 바꾸고 제 속도를 유지한다.

- 일반승용차는? (3)

\* 1 대의 트레일러를 끌 수 없다. \* 같은 승용차 1 대를 끌 수 없다. \* **2 대의 트레일러를 끌 수 없다.**

- 좌회전을 하고자 서서 기다리고 있을 때에는 반대방향에서 다가오는 차가 다음과 같이 할 때까지 우선권을 양보하여야 한다. (2) \* 최소 2 대가 통과할 때까지.

\* **위험하리만큼 접근하는 차가 모두 통과할 때까지** \* 5 대의 차가 통과할 때까지.

- 차들이 통과하는 쪽 차문을 열 수 있을 때는? (3)

\* 주차시는 언제나. \* 승차할 때는 안되나 하차할 때는 할 수 있다. \* **오직 안전할 때.**

- 팔각형의 표시판이 있는 곳에 도착하면? (3)

속도를 늦추고 필요할 때에는 정차한다. 아무도 오는 것이 없으면 정차한다. **언제나 정차한다.**

- 일방통행로에서 보지 못하는 표지선은 어느 것인가? (4)

연속선. 단속선. 노랑색선.

- 양쪽 100 피트 거리를 볼 수 없고 STOP(정지) 또는 YIELD(양보) 표시판이 없는 눈먼 교차로에서의 속도 제한은? (1) \* **시속 15 마일이다.** \* 시속 20 마일이다. \* 시속 25 마일이다.

- 안전한 운전을 위해서 가져야 할 습관이 아닌 것은? (3) \* 운전대를 틀기 전에 고개를 돌리고 살펴보라.

\* 운전 중 계속 눈을 움직여라. \* **차 앞쪽만 눈을 고정시켜 보라.**

- 주차장에 휠체어를 탄 사람의 모양이 있는 그림표시판이 있는 곳에 주차하기 위해서는? (1)

\* **차에 불구자에게 발행하는 특별번호판이나 표시가 부착되어 있을 때.** \* 5 분 이하 주차시. \* 승객하차시.

- 자전거용 차선이 있는 길모퉁이에서 우회전 준비를 할 때에는 신호를 주고 자전거가 있는가 자세 히 살핀 후에? (1) \* **회전하기 전에 자전거용 차선에 들어서야 한다.**

\* 자전거용 차선에 들어서지 않도록 조심하면서 회전해야 한다.

\* 자전거가 길모퉁이에 도착하기 전에 속력을 내어 모든 자전거를 추월하여야 한다.

- 움직이고 있는 차가 좌우회전 신호등을 동시에 깜빡이고 가면? (3)

\* 어린 학생을 등 하교 시키고 있다. \* 이 차에게 통행우선권을 주어야 한다. \* **위험 내지 사고지점이 앞에 있다.**

- 캘리포니아 기본속도법에 의하면 최고 시속을 55 마일로 엄수할 것과 더불어 유의해야 할 것은? (3)

\* 표시판이 지시하는 속도. \* 차 연료의 절약. \* **도로, 교통 및 기후조건.**

- 캘리포니아 법에 의해 시속 55 마일 이상의 속도로 달리는 것은? (1)

\* **항상 그럴 수 있다** \* 고속도로에서는 예외이다. \* 빨리 달리는 차들과 보조를 맞춰가기 위할 때는 예외이다.

- 주차등만 켜고 운전하는 것은? (3)

\* 어두운 날에는 옳다. \* 일몰에서 밤이 되기까지 사이에는 옳다. \* **위법이다.**

- 마개가 열린 알코올음료를 싣고 갈 수 있는 위치는? (2) \* 차 뒷좌석. \* **차 뒤 트렁크.** \* 차안 연장함.

- 계속적으로 교통위반을 범하면 차량국은? (3)

\* 청문회에 소환할 계획을 한다. \* 운전특권의 박탈 조치를 고려한다. \* **위의 두 가지 조치를 취한다.**

- 좌석척대를 단단히 매면? (2)

\* 사고 방지를 해 준다. \* **부상당할 위험을 감소시켜 준다.** \* 몸을 움직이지 않게 해 준다.

- [WRONG WAY]라고 쓴 표지판의 뜻은? (2) \* 전방도로가 닫혀 모든 차량의 통행이 금지되었다.
- \* **자기가 가는 방향에서는 이 도로로 들어서는 것이 금지되었다.**
- \* 도로공사중이니 조심해서 이 길로 들어서시오.
- 합승통근차선을 다이아몬드형으로 표시해놓았다. 표시판에 지정한 특정시간에 본 차선을 이용하려면? (1) \* **밴이나 버스를 운전하여야 한다.** \* 표시판에 지시한 최저수의 승객을 태우고 가야한다.
- \* 속도 제한에 맞춰가거나 헤드라이트를 켜야 한다.
- 직각으로 주차하였던 곳에서 뒤로 빠져 나올 때에는 항상 해야 하는 일은? (2)
- \* 천천히 뒤로 나오면서 계속 백미러로 살핀다. \* **어깨 너머로 살피면서 천천히 뒤로 나간다.**
- 사람이 차밖에 서서 빠져나갈 때까지 교통정리를 한다.
- 안전한 운전을 하는데 지장을 주는 약에 취해 운전하는 것은? (2)
- \* 의사가 처방해 준 약이면 상관없다. \* **교통법 위반이다.** \* 체중을 줄이는 약이나 감기약이면 상관없다.
- 빈차를 세워둘 때에는 언제나 엔진을 끄고 또? (3) \* 차창을 닫아놓아야 한다.
- \* 기어를 중립위치(N; Neutral)에 갖다놓아야 한다. \* 주차용 브레이크를 걸어놓아야 한다.
- 주차장으로부터 차를 뒤로 빼낼 때에는 언제나? (2)
- \* 백미러로 보아야 한다. \* **어깨너머로 뒤를 돌아보아야 한다.** \* 경적을 울려야 한다.
- 노해있거나 기분이 상해 있을 때에는? (3) \* 드라이브를 하여 두통거리를 잊도록 한다.
- \* 운전하는 동안 마음을 진정하여야 한다. \* **운전하기 전에 냉정을 되찾아야 한다.**
- 통행중 차선을 바꾸기 전에? (3) \* 신호를 주고 백미러를 보아야 한다.
- \* 어깨너머로 고개를 돌려 자기가 사용하려고 하는 차선이 비어있는지 확인하여야 한다.
- \* **상기한 두 가지 것을 다 실행하여야 한다.**
- 굴곡이 진 2 차선 도로에서 차를 서행할 때 몇대이상 이 따르면 차를 비켜 추월하도록 해주어야 하나? (1) \* **5대 내지 그 이상.** \* 4대. \* 2대.
- 차량 1 대에 대한 피해액이 500 불 이상 되는 사고가 발생되었을 때에는 반드시 보상책임보고서를 제출해야 한다. (3)
- \* 보험에 미가입했을 때에만. \* 본인의 과실이었을 때에만. \* **과실이 누구에게 있든지 간에.**
- 대형트럭과 버스의 눈먼 지점에 관하여 승용차를 알아두어야 할 일반적인 법칙은? (2)
- \* 본인이 앞에 가는 대형트럭과 버스의 사이드미러를 볼 수 없다면 대형트럭이나 버스 운전사도 분명히 본인의 차를 볼 수 없다. \* **만일 대형트럭이나 버스에 8 개의 거울이 있다면 눈먼 지점이 없다.**
- \* 6 피트 이내 거리에서 뒤를 쫓아가지 않는 한 눈먼 지점에 들어가지 않는다.
- 오렌지색의 다이아몬드형의 표지판을 보면? (1) \* **도로상에 사람이나 서행중의 장비가 있을 것을 대비한다.**
- \* 옆에서 차가 들어서리라 예상한다. \* 속도를 줄이고 전방도로가 닫혀 있을 것을 예상한다.
- 왕복도로인 언덕길에서 차가 내리막을 향해 주차해야 할 경우에 차 앞바퀴를? (3)
- \* 왼쪽으로 돌려 도로 가장자리 보도블럭의 반대방향을 향하게 한다.
- \* 도로 가장자리 보도블럭과 평행하게 주차한다. \* **오른쪽으로 돌려 도로 가장자리 보도블럭을 향하게 한다.**
- 통제소나 통제가 없는 철도궤도에서 400 피트 양쪽이 보이지 않을 경우 철도횡단 속도제한은? (2)
- \* 시속 25 마일. \* **시속 15 마일.** \* 시속 30 마일.
- 다음 어느 표시가 상대편에서 오는 교통과 본인이 가는 도로를 언제나 갈라놓는가? (3)
- \* 연속선. \* 단속선. \* 노랑색선.

- 한 방향으로 4 개차선 이하되는 도로상에서 트레일러를 끌고 가는 승용차는? (3)
- \* 어느 차선이라도 사용할 수 있다. \* 1 번 차선으로 가야 한다.
- \* **제일 오른쪽 차선이나 특별히 표시한 차선으로 가야 한다.**
- 심한 안개가 있는 중에 운전하는 경우 속도를 줄이고서, (2)
- \* 높은(하이빔; high beam) 헤드라이트를 사용한다.
- \* **낮은(로우빔; low beam) 헤드라이트를 사용한다.** \* 주차 등을 사용한다.
- [묵인 동의법]은 다음의 경우 혈중 알코올 함유량검사를 받기로 합의한 것으로 인정한다. (1)
- \* **캘리포니아에서 운전할 때는 언제나** \* 변호사의 권고가 있을 때에 한해서. \* 사고가 발생했을 경우에 한해서.
- 교통상태상 요구되는 이외의 이유로 공중 도로상에서 정차할 때에는? (3)
- \* 우측 차선 상에서. \* 중앙차선 근방에서. \* **포장도로 밖에서.**
- 노랑색 보도 돌은 정차 또는 주차가 허락되는 경우는? (1)
- \* **화물이나 승객을 승하차시킬 때.** \* 승하차 지점으로 이용하는 버스일 때. \* 응급차 또는 경찰차일 때.
- 고속도로에 들어설 때의 속도는? (2) \* 고속도로의 법정 속도.
- \* **고속도를 달리고 있는 교통과 거의 같은 속도.** \* 고속도로의 법정속도보다 10 마일 낮은 속도.
- 도로 중앙의 연속선을 넘어 다음과 같은 행위를 하는 것은 금지되어 있다. (1)
- \* **다른 차를 쫓아가 추월하는 행위.** \* 좌회전하는 행위. \* 개인용 차고 통로로 추월하는 행위.
- 취중운전 혐의로 체포되었을 때 체내 알코올 농도 측정을 거부하면? (1)
- \* **운전 면허증이 6 개월 보류된다.** \* 벌금을 추가로 더 받는다. \* 보석금을 내고 풀려날 수 없다.
- 녹색신호등과 녹색화살표 신호등에서 U 자형 회전을 할 수 있는 경우는? (3)
- \* U 자형 회전 가함(U TURN OK)이라는 표시판이 있을 때. \* U 자형 회전금지 표시판이 없을 때.
- \* **U 자형 회전금지 표시판을 무시하고 녹색 화살표 등이 나와 있으면 언제나**
- 수면제, 진정제, 진통제, 혹은 각종 약은? (3)
- \* 운전하는데 지장을 준다. \* 운전하는데 알코올로 인한 나쁜 영향을 증대시킨다. \* **둘 다 일어난다.**
- 자전거 운전자들은? (3)
- \* 공중 도로상에서 다른 차들과 똑같은 권리 및 의무를 가진다.
- \* 자동차들이 옆을 지나갈 때 반드시 일정한 안전거리를 유지해 주어야 한다. \* **위의 보기 둘 다 하여야 한다.**
- 캘리포니아 주 운전책자에 따르면 55 마일에서 정지하려면 어느 정도의 거리가 필요한가? (3)
- \* 110 피트 미만. \* 150 피트 미만. \* **225 피트 미만.**
- 장거리 운전을 할 때는 정신을 차리고 졸지 않기 위해 충분한 휴식을 할 뿐 아니라 동시에? (1)
- \* **차안에 신선한 공기가 들어오도록 한다.** \* 차선을 자주 바꾼다.
- \* 다른 차를 피하기 위해 맨 왼쪽에 있는 차선을 이용한다.
- 오렌지색 표시판과 깃발은? (1) \* **변화된 도로상황을 이야기한다.**
- \* 속도제한 지역을 이야기한다. \* 카풀레인(합승통근차들의 전용차선)을 이야기한다.
- 캘리포니아 주에서 발생하는 치명적인 충돌사고중 음주운전자에 의한 사고 비율은? (2)
- \* 30% \* **50%** \* 70%
- 운전면허증에 <안경 혹은 콘택트렌즈를 반드시 착용> 이라는 제한조건이 있는데 전날 안경을 잃어버렸다면, 어떻게 해야 하나? (2) \* 안경을 다시 준비할 때까지 아는 길로만 다닌다.
- \* **안경을 다시 준비할 때까지 운전하지 않는다.** \* 비상시에만 운전한다.
- 본인에게 합법적인 선행권이 있어도 선행권을 포기해야 하는 경우는? (1)

**\* 차사고를 방지하는데 도움이 될 때.**

\* 다른 운전자들을 혼란시킬 우려가 있으므로 포기할 수 없다. \* 다른 운전자들에게 예의를 지켜줄 때.

- 출퇴근 차가 밀리는 러시아워에 교차로에 진입하여 횡단 차량의 통행을 방해하거나 막는 행위는?  
(2)

\* 이미 두 번이나 빨강불에서 기다렸을 경우에는 허용된다.

**\* 일부 횡단차량들이 본인의 차를 돌아 갈 수 있다면 허용된다.** \* 절대로 허용되지 않는다.

- 본인의 차가 진행하는 도로의 주행방향에 3 개의 차선이 있다. 어느 차선이 가장 차의 소통이 잘되

는 차선인가? (2) \* 왼쪽 차선 (1 차선) \* **중간 차선 (2 차선)** \* 오른쪽 차선 (3 차선)

- 눈먼 교차로의 의미는? (1)

**\* 교차로 건너기 전 마지막 100 피트의 거리에서 좌우로 50 피트가 보이지 않는 곳.**

\* 교차로 건너기 전 마지막 100 피트의 거리에서 좌우로 100 피트가 보이지 않는 곳.

\* 교차로 건너기 전 마지막 100 피트의 거리에서 좌우로 200 피트가 보이지 않는 곳.

- 앞차를 바짝 따라가고 있는데 다른 차가 갑자기 본인의 차 앞으로 끼어 들어오는 경우에? (3)

\* 브레이크를 꼭 밟는다. \* 옆의 차선으로 피한다. \* **가스페달에서 발을 떼다.**

- 일반 운전면허 (Class C)를 정지 혹은 취소 당하게 되는 운전기록상의 벌점은? (1)

**\* 12 개월 안에 4 점, 24 개월 안에 6 점, 혹은 36 개월 안에 8 점.**

\* 12 개월 안에 6 점, 24 개월 안에 8 점, 혹은 36 개월 안에 10 점.

\* 12 개월 안에 8 점, 24 개월 안에 10 점, 혹은 36 개월 안에 12 점.

- 다음 중 운전면허를 불법으로 사용하는 경우인 것은? (1)

**\* 차량국에서 운전면허의 반납을 요구했음에도 그냥 가지고 다니는 것.**

\* 고용주의 인사기록의 일부로 운전면허의 복사를 허용하는 것.

\* 타주에서 발급받은 유효기간이 지난 운전면허를 가지고 있는 것.

- 차단기로 막은 철도건널목을 돌아서 갈 수 있는 경우는? (3) \* 기차가 안전한 정도의 거리를 두고 정지해 있을 때. \* 차단기가 달라붙어서 움직이지 않을 때. \* **절대로 안된다.**

- 만약 학교버스가 정지하여 빨강색 신호등을 번쩍거리고 있을 때 차를 정지하지 않으면 운전면허 1 년간 정지처분과 더불어 최대한 물게되는 벌금은? (2) \* \$ 500. \* **\$ 1,000.** \* \$ 1,500.

- 임시대피선(Turn-out Lane)의 목적은 무엇인가? (2)

\* 피곤할 때 쉬는 곳이다. \* **다른 차들이 지나갈 수 있도록 비켜주는 곳이다.** \* 엔진을 식혀주는 곳이다.

**\*뉴저지 차량국 운전 면허시험**

뉴저지 주의 한국어 면허 시험 문제를 올립니다. 주마다 약간의 차이가 있으니 아래 문제를 참고하시고 각 주의 차량국 사이트를 찾아가 정확한 해답을 찾으시면 시험은 무난히 통과할 수 있을 것입니다.

지금 이주(뉴저지)나 또는 다른 주에서 당신의 운전 면허가 정지 또는 취소 되어 있습니까? ( )예 ( )아니오.

당신에게 정신적 또는 육체적 장애가 있습니까?  
( )예, ( )아니오

**이 시험 용지에 있는 모든 문제에 답을 하시오.**

**각 문제에 있는 네 개의 보기 중에서 가장 옳다고 생각되는 답을 고르시오. 당신의 답에 있는 괄호 안에(v)를 하시오**  
**다른 용지나 책을 보지 마시오. 다른 응시자의 도움을 청하지 마시오.**

1)야간 운전 중 다음 어느 거리 내에서 안전하게 정지 할 수 있다고 생각 하십니까?

- (v) 전방시야 한도 내에서
- ( ) 항상 20피트(feet)내에서
- ( ) 시속 40마일로 주행할 때 20피트(feet)내에서
- ( ) 시속 30마일로 주행할 때 30피트(feet)내에서

2)다음 중 빨간 신호등에서 정지한 후 우회전 할 수 없는 경우는?

- ( )빨간 신호등이 계속 깜빡 거릴 때이다.
- ( )일단 정지 표시가 있을 때이다.
- ( )우회전의 빨간 화살표가 있을때이다.
- (v)빨간 신호등에서 회전 금지(NO TURN ON RED)의 표시가 있을 때이다.

3)양보해야 하는 (YIELD) 표시판의 모양은?

- ( )정사각형 안에 원형 (V)상각형
- ( )팔각형 ( )마름모꼴

4)브레이크가 갑자기 작동하지 않을 경우 당신은!

- ( )발동을 끈다.
- ( )길가로 빠져서 속도를 줄인다.
- (V)저속기어로 놓고 브레이크를 여러 번 밟는다.
- ( )경적을 울리며 정지할 때까지 나아간다.

5)학교버스(스쿨버스)가 학생들을 태우고 내리기 위해서 학교 바로 앞에 정지하여 있을 때, 당신은 다음 중 어느 방향으로 다 지나갈 수 있습니까?

- (V)시속10마일 이하, ( )시속 15마일 이하
- ( )시속 20마일 이하, ( )시속 25마일 이하

6)회전할 때 가장 좋은 방법은?

- ( )돌아가는 방향으로 몸을 기울인다.
- ( )돌아가는 동안 가속한다.
- (V)돌아가기 전에 속도를 줄인다.
- ( )돌아가기 시작하여 속도를 줄인다.

7)뉴저지에서 보령 없이 운전하는 것은?

- (V)불법이다. ( )위험하다. ( )합법이다. ( )아무래도 좋다.

8)주간(日間) 고속도로에서의 최고 제한 속도는?

- ( )시속 60마일 (V)시속 55마일, ( )시속 50마일, ( )시속 45마일

9)허리와 어깨에 안전 벨트를 착용하는 중요한 이유는?

- ( )법이 정하기 때문이다.
- (V)충돌 사고 시 생명을 보호할 가능성이 높기 때문이다.
- ( )날오는 물체가 당신에게 부딪치는 것을 방지하기 때문이다.
- ( )아이들을 운전사로부터 떼어 놓기 때문이다.

10)가속 발판이 뻑뻑하여 움직이지 않으면 당신은?

- ( )도로를 주시한다.
- ( )빨리 기어를 중립에 놓는다.
- ( )차를 세우고 엔진을 끈다.
- (V)위의 모든 것을 다 한다.

11)오른편 수 신호의 의미는? (그림이 옆에 나옵니다. 그냥 운전사가 있고 손을 왼쪽을 가리키는 그림입니다.)

- ( )우회전
- (V)좌회전
- ( )역회전
- ( )정지

12 다음 중 어느 경우에 당신은 꼭 경적을 울려야 합니까?

- ( ) 브레이크를 밟을 때 커져야 하는 뒷 불이 고장 났을 때
- ( ) 뒤로 갈 때
- ( ) 철도 횡단에 접근할 때
- (V) 골목길에서 나올 때

13)교차로(네거리)에서 도로를 가로지르는 흰 일직선의 의미는?

- (V) 교통 표시판이나 신호등에 의해 정지 할 때 이 선 뒤에서 정지하라는 것
- ( ) 주차 금지 구역
- ( ) 버스 정류장
- ( ) 추월금지

14)자동 방향 지시기(깜박이)가 작동하지 않으면 당신은?

- ( ) 특별히 조심한다
- ( ) 자동차 검사를 받는다.
- ( ) 경적을 이용한다.
- (V) 수(口)신호를 이용한다.

15)마름모꼴 표시판의 의미는?

- ( ) 주차금지, ( ) 도로 양보, (V) 경고, ( ) 우선 멈춤

16)계속 깜빡 거리는 빨간 신호등의 의미는?

- (V) 정지한 후 조심하여 진행한다.
- ( ) 속도를 줄이고 우측의 차량에게 길을 양보한다.
- ( ) 교차로에 들어갈 때 조심한다.
- ( ) 정지하여 파란 신호등을 기다린다.

17)두 대의 자동차가 동시에 교통신호가 없는 교차로에 들어설 때?

- (V)우측의 운전사가 좌측의 운전사에게 길을 양보한다.
- ( ) 좌측의 운전사가 우측의 운전사에게 길을 양보한다.
- ( ) 교차로에 들어서는 운전사가 양보한다.
- ( ) 골목 지나가는 운전사가 먼저 지나간다.

18)야간(밤중)에 전조등(헤드라이트) 밝게 켜 채로(먼불, 하이빔) 자동차가 전방에서 당신에게로 오고 있다면 당신은?

- ( ) 전조등을 밝게 켜고(먼불, 하이빔) 당신의 속도를 증가시킨다.
- ( ) 접근하는 차를 직접 주시한다.
- (V) 눈을 돌려 당신 차선의 우측(오른쪽) 밑을 본다.
- ( ) 도로 가운데 있는 흰 선(중앙선)을 본다.

19)만일 타이어가 터지면!

- ( ) 빨리 길 밖으로 빠진다.
- ( ) 천천히 그러나 꼭 가속발판을 밟는다.
- (V) 점차적으로 속도를 줄인다.
- ( ) 주유소가 있는 곳까지 계속 운전하여 간다.

20)술을 많이 마신 경우에는!

- ( ) 냉수욕이 술을 깨운다.
- ( ) 커피가 알코올을 제거한다.
- ( ) 운동이 술을 깨운다.
- (V) 단지 시간과 기다림만이 당신의 몸으로부터 알코올을 제거한다.

21)우회전 하기위해 당신은?

- (V)우측 차선으로 들어간다.
- ( ) 가속하여 회전한다.
- ( ) 폭 넓게 회전한다.
- ( ) 좌측 차선 표시를 넘어 선다.

22)노란색이나 호박색이 계속 켜 있는 신호등에 접근하면 당신은?

- ( ) 속도를 줄이고 조심하여 교차로를 지나간다.
- ( ) 가속하여 신호등이 빨간불이 되기 전에 지나간다.
- (V) 안전하게 할 수 있으면 교차로에 들어가기 전에 정지 한다.
- ( ) 즉시 정지하고 교차로를 통과하지 않는다.

23) 두 도로가 교차하는 곳에 표시판이나 신호등이 없으면, 다음 중 어떻게 하는 것이 가장 좋은 방법입니까?

- 항상 좌측의 차량에게 길을 양보한다.
- 경고로 경적을 울린다.
- 필요하면 정지할 준비를 한다.
- 우측 차선으로 들어간다.

24) 어느 속도에서나 당신은 2초 법(TWO-SECOND RULE)을 이 용항으로 어떻게 할 수 있습니까?

- 제한 속도 내에서 운전할 수 있다.
- 자동차 간의 안전거리를 유지할 수 있다.
- 교차로에서 신호등의 시간을 측정할 수 있다.
- 차를 제동 침묵으로부터 끌어 낼 수 있다.

25) 뉴저지에서는 알코올 함량이 혈액 속에 얼마 미만이어야 한다고 당신은 생각합니까?

- 0.05%,  0.10%,  0.15%,  0.20%

이 곳에 알콜에 관한 문제는 없습니다. 차량국에서 배포하는 책자 참고하십시오(꼭 해야 하며 5문제정도 나오는데 3문제 이상 틀리면 불합격임)

\*음주운전을 하다가 첫번째 걸렸을 때, 두 번째 걸렸을 때, 세 번째 걸렸을 때의 어떻게 되는지 묻는 문제가 나옵니다.(뭐 얼마 동안 면허정지인지, 벌금이 얼마지... 인터넷으로 확인해도 됩니다. 각 주의 면허국 SITE로 가셔서 확인해 보세요.)

\*맥주 12 OZ 한 병의 알콜 농도는?

\* 사고 시 유죄판결 최고인 것은?

\*술을 사먹고 가다가 사고 났을 때 술 준 사람도 소송에 걸린다.

\*당신의 몸 속에 알콜 0.05% 일 때 사고율은? 답 2배



**ROAD SIGNS YOU MUST KNOW AND RECOGNIZE  
SEE CHAPTER FOUR FOR FURTHER DETAILS.**



(영문시험 1 회)

1. Special permit may be issued at age 16 when
  - a: the applicant is enrolled in a behind the wheel driver education course
  - b: the applicant is enrolled in a commercial driving education course
  - c: purchased by an approved driving instructor
  - d: all of the above**
  
2. A flashing red light means
  - a: stop, proceed with caution**
  - b: slow, yield to traffic on the right
  - c: use caution when entering an intersection
  - d: stop, wait for green
  
3. If not controlled by a any turn on sign, New Jersey law permits you to turn on red light after
  - a: blowing your horn
  - b: making a full stop and checking traffic**
  - c: slowing down to check traffic
  - d: checking traffic to your right
  
4. New Jersey law allows up to 3 points to be subtracted from your driving record if you have no moving traffic violations
  - a: for one year from the date of the last violation**
  - b: for six months
  - c: for 18 months

d: for two years

5. A twelve ounce can of beer has as much alcohol in it as

**a: 1 1/2 ounces of 86 proof whiskey**

b: a bottle of rum

c: 2 martinis

d: a pint of brandy

6. Whether your blood alcohol content raises above legal limits depends on

a: amount you drink

b: your weight

c: time you take to drink

**d: all of the above**

7. Drugs that may affect basic driving skills are

a: cold pills

b: tranquilizers

c: some prescription drugs

**d: all of the above**

8. If you are arrested for drunk in New Jersey your chances of being convict

**a: 96%**

b: 50%

c: 30%

d: 80%

9. Driving while under the influence of intoxicating beverages mean

a: the driver shows obvious signs of being drunk

**b: your senses or judgment are impaired by alcohol**

c: drinking while in process of driving the vehicle

d: driving even if the driver has had one drink

10. The best way to reduce your chances of having an alcohol related accident is to

a: reduce your drinking

b: have a meal before drinking

c: know your own limits

**d: don't drive at all after drinking**

11. If you are going 50 mph your total stopping distance on a dry road should be at

a: 186 feet

**b: 243 feet**

c: 327 feet

d: 502 feet

12. The meaning of a hand-signal when a drivers hand and arm is upward is

a: U-turn

**b: right turn**

c: left turn

d: slow or stop

13. After driving through a deep puddle you should immediately

- a: check your brakes
- b: increase your speed to the posted limit
- c: stop and check your brakes
- d: test your brakes**

14. Hydroplaning is a driving condition wherein tires lose traction on a wet road and float on a layer of water or slush, when this happens, you should

- a: push the brake pedal down hard
- b: increase speed
- c: slow down**
- d: change lanes

15. In city driving a good habit is to

- a: use the 2-second rule
- b: look 12 seconds ahead**
- c: reduce speed, and use horn
- d: practice good judgment

16. When making a left turn from a two-way road into a lane highway, the proper way to turn is

- a: approach turn from centerline of road, and turn into right lane
- b: approach turn from right side of road, and turn into right lane
- c: approach turns from right side of road, cross over driver to left lane
- d: approach turn from center lane of road and turn into left lane**

17. If a student driver commits a traffic offense, responsibility will lie with

- a: only the student
- b: only the instructor
- c: neither student or instructor
- d: both student and instructor**

18. A person may operate a moped with

- a: a valid basic license
- b: a valid motorcycle license
- c: a valid moped license
- d: any of the above**

19. If you have tire blowout

- a: turn off the road quickly
- b: apply your brakes
- c: slow down gradually**
- d: continue at regular speed until it is safe to slow down

20. On a two-line road not near a school, when a school bus is stopped and its red lights are flashing

- a: you may pass the bus with caution
- b: you may pass the bus at a speed of 10mph or less
- c: you must stop**
- d: you may pass the from either direction

21. When the pavement is marked with two centerlines, one solid and one broken

- a: passing is permitted on either side
- b: passing is permitted only on the side with the broken line**
- c: passing is not permitted on either side
- d: passing is permitted on both sides, but only when road is clear

22. When two roads intersect and there are no signs or signals, it is a good practice to

- a: always yields to traffic on the left
- b: blow your horn as a warning
- c: be ready to stop if necessary**
- d: pull to the right hand lane and stop

영문번역

Drinking Drug 관련

1. 0.08-0.1% 사이; 250-400 벌금, 3 개월 면허정지, 30 일구금

2. 0.1%이상; 300-500 벌금, 7 개월-1 년 면허정지, 30 일구금

3. 음주측정거부시; 1000 불씩 3 년벌금, 미납부시 납부할때까지 면허정지

4. 음주량은 1.5 온스의 양주=12 온스의맥주=5 온스의 와인 모두 같음

5. 술에서 깨기위해 필요한것은 오직! 시간

6. 자신의 집에서 술마시고 운전하다 걸릴경우 집주인이 소송당할수 있음

7. illegal drug 의 섭취금지, 운전전 현기증을 일으키는 감기약,진정제 등

8.어느 조사기관 조사 결과 음주 운전시 가장 많이 적발 되는 것은 맥주였다.

9. 0.05% 의 BAC 는 2 배의 사고 증가가 있다. 그렇다면 0.1% 는?

정답은 여섯배 입니다.

\*벌금관련

1. 운전면허 차량등록등의 허위기재; 200-500 벌금, 6 개월 징역
2. 주행시험 대리응시; 500 벌금, 90 일징역
3. 번호판위조시; 500 벌금, 6 개월면허정지, 60 일징역
4. 운전면허 타인양도시; 100 불벌금
5. 주행중 쓰레기 버릴시; 1000 불벌금, 미납시 면허정지됨
6. Habitual offender(상습운전자); 3 년동안 3 번면허 정지당한 사람

\*children restriction

1. 1 살이하, 20 파운드미만의 아이는 반드시 car seat 에 탑승
2. 12 세미만의 어린이는 반드시 뒷좌석에 탑승
3. 18 세미만은 무조건 안전벨트 착용

4. car seat 은 반드시 뒷좌석에 장착, 2 door 차의 경우 앞좌석에 장착하나 가능한 의자를 뒤로빨것

\*Graduated Driver License(GDL 관련)-여기서 꼭 문제나옴

1. 학생면허(퍼밋)소유자; 16 세이상, 밤 11 시-새벽 5 시 운전불가, 가족모두와 그외한명탑승가능,21 세미만의 경우 supervising driver 가 동승(자격:21 세이상, 3 년이상면허소유자)

2. 임시면허소유자; 17 세이상, 밤 12 시-새벽 5 시운전불가,나머지내용은 학생퍼밋과 동일

3. Basic driver license: 18 세이상, 1 년후 정식면허 받을수있음

4. GDL 소지자가 운전할때 안전 벨트를 메야 하는 경우는?

운전자와 조수석의 사람

운전자

운전자와 슈퍼바이징 드라이버

탑승자 전원            정답은 탑승자 전원 입니다.

\*주행관련

1. 서행해야 하는곳; 좁은길, 교차로와 기차길, 커브, 보행자가 있는경우, 미끌거리는 도로

2. 오른쪽으로 차선변경가능한경우

-오른쪽 차선이 비어있거나

-앞차가 좌회전하고 있는 경우

3. 차선변경금지구역; 언덕,커브,기차길,터널,좁은다리,차선변경금지싸인이있는곳

4. 교차로에서는 항상 오른쪽 차가 우선

문) 아무런 신호가 없는 교차로에서 어떻게 해야 하는가?

예문이: 왼쪽에 있는 차에게 양보한다.

경적을 울리며 진행한다.

서행 하며 언제라도 정지할 준비를 한다.

위의 모든것이 답이 아니다.

옳습니다. 답은 서행하며 언제라도 정지할 준비를 한다 옳습니다.

5. 신호가없는 교차로(intersection)에서는

-속도를 줄이고 정지할 준비를 할것

-메인도로의 차에게 먼저양보할것

6. 하이웨이 들어설때는 가속레인으로 들어가서 속도를 높이고 멈추지 않도록 한다

하이웨이에서 나올때는 감속레인으로 들어가서 속도를 낮출것, 출구를 놓쳤을때는 다음출구

에서 나간다(3 문제 모두 출제)

7. 회전싸인은 100 피트 앞에서 신호넣기

8. 우회전시 우측방향으로 붙고 좌회전시 중앙차로로 접근할것

9. 정지해야하는곳; 스톱싸인, 발간불이 있는 교차로, 스쿨버스가학생들을 태우거나 내리고

있을때, 개인드라이브웨이 앞, 보행자나 시각장애인이 지나갈경우, 하얀색 single line 앞

10. 스탱사인은?

삼각형. 팔각형. 원. 사각형            답은 팔각형입니다.

11. 노란색 동그란 사인은?

경고 입니다.

12. 소화전에서 얼마나 떨어져서 주차 할 수 있나?

10 피트 입니다.

13. 내리막 경사의 오른쪽에 주차할때 휠의 방향은?

운전자의 오른쪽으로 향하게 한다 였습니다. 즉 앞바퀴가 커브(인도)쪽으로 걸리게..  
(커브는 인도인것 같습니다.)

\*라이트관련

1. 하이빔사용할때-시골길(트래픽싸인이 없는 곳)

2. 반대쪽에서 상향등을 키고 주행할시 - 아래쪽을 본다

3. 하향등사용할때-도시운전시, 다른차량이 접근할때, 다른차 뒤를 따라갈때

4. spotlight 는 응급시에만 사용



미국에 온지는 몇년이 흘렀지만.. 면허에 대한 필요성을 못 느끼다가,  
어제 드려 받고 왔네요. 사실 이번이 두번째 시도였구요.  
첨에는 Trenton 에 갔었는데, 컴퓨터 다운되서 그냥 헛걸음 했었다는 (굉당).. -\_-;

암튼,  
검색해봐도.. 뉴욕 Port Authority 에서 Lodi 가는 법을 아는 분이 많지 않은 것 같더군요.  
도움이 될까 싶어 올려봅니다. 저처럼 삼질하시는 분이 없으시길..  
(다른 루트가 있을 것 같지만서도..)

Port Authority 에서 163 번 버스(Gate 224 ?) 타고 갔어요.  
정류장에 표시보니..164 번도 가는 것 같더군요.  
(왕복 버스비 \$6.20)

첨 가는 곳이라 운짱한테 내릴 곳 알려달라고하고 탔는데..

깜새가 안 좋아 한참 지나서 물어보니 이 노친네 오히려 왜 remind 안 시켰냐고.. 흐미.

다시 되돌아 오는 버스타고.. -\_-;

정확히 내려야 하는 위치는:  
S.Summit Ave & PleasantView Ave. 이구요.  
Boulevard 라는 길을 타고 가다보면 어느새 S.Summit Ave 로 바뀜..  
(정류장 건너편에 GasTrac 이라는 작은 주유소/ 오른쪽에 7 Eleven 이구요.)  
그지역에 Pathmark 이 있어서 다들 그 스토어를 언급하더군요.  
버스가 버겐 카운티에 들어서면부터 거기까지 얼마 알 걸리구요.  
(10-15 분?? 잘 격이 만나네요)

기사한테 Lodi PleasantView Ave. 에서 내려달라고 하면 될 거 같아요.  
(그래도 모르는 눈치면 7 Eleven 이나 Pathmark 를 대면 대략 알 듯..)

역시나 뉴저지 Union City 에서 많이 막혔고..(아침 출근시간이라)

쫘 헤맨 시간 감안해도.. 가는데 시간이 좀 걸리네요.

버스 정류장에서 Motor Vehicle 까지 10 분 정도 걸어야 하고요.  
(버스에서 내려서 가는방향 기준 왼편으로 PleasantView Ave 를 따라서  
한참 걸어가다보면 Motor Vehicle 표시 나옴)

Motor Vehicle 에는 한 9:30 쯤 도착했을 듯..

생각보다 프로세스시간은 그렇게 안걸렸음 (필기시험 시간 포함 1 시간 ~ 1 시간 반 정도).

서류수속은 직원이 알려주는데 가서 기다리다 서류보여 주면 되므로 설명 생략.

(처음 수속비 \$10.. 필기 합격 후 운전면허 발행비 \$11.63)

직원이 주는 서류(폼)를 항상 먼저 보여 줄 것.

사실 오가는 것만 보면 멀지만 Trenton 이 나올 듯. (1 시간 40 분..정도)  
오가는데 쉽고 역에서 Motor Vehicle 이 가까워서..

근데 돈이 더 깨진다는 것 뿐.. 열차비가 12 불 정도 더 비쌘.. -\_-;

Trenton 은 또 한국분이 안내하고 있어서.. 초반수속이 더 편리하긴 했어요.

애틀 어딜가도 걸리는 수속시간은 비슷할 듯..

<시력검사>

현미경(?) 박스처럼 생긴 곳에 코를 박으면(^^;) 글자들이 보임.

시키는 것 읽으면 끝. (소요시간 5 초.. -\_-;;)

창구에 가서 서류보여주면.. 직원이 한글로 볼거나 영어로 볼거나 물어봄.

지정 좌석에서 시험 시작..

<필기시험에 관한 몇가지>

컴퓨터/터치 스크린으로 시험 봄.

제한시간은 없는 것 같고.. 50 문제 다 풀면 시험 종료.

50 문제 중 40 문제(80%) 맞추면 시험 중단되고 합격!

모르는 문제는 Skip 버튼 누르면.. 나중에 다시 나옴.

답고르고 Enter 버튼 누르면.. 바로 정/오답 결과 나옴.

(맞았으면 Correct! 틀렸으면 몇번이 답이었다라고 알려 줌)

패스 못하면 다음 주 같은 요일부터 다시 볼 수 있음..(일주일 지나서)

<필기시험 후기?>

-한 30 분 정도 걸렸던 것 같음.

-생각보다 시험이 쉽지 않음..

(패스 못하는 사람들 의외로 많긴 하지만.. 그래도 떨어지면 가문의 쪽팔림이잖아요. \_-;-)

-크사니 예상문제로는 부족함

-반드시 영어메뉴얼 공부하고 갈것..

\*Vehicle information

1. 운전시 지참할것- 면허증,보험증,차량등록증
2. 로드테스트시 지참할것-보험증,차량등록증,검사증(스티커)
3. 차량등록시 필요한것-보험증,면허증,신청서(중고차는 타이틀도 필요)
4. car inspection-새차는 4년, 이후엔 2년에 한번씩
5. 뉴저지보험은 책임보험/보험없이 운전하는것을 불법

GDL 관련이 많이 헛갈려서 스킵을 많이 했습니다. 4 문제 정도 나온듯 하네요.  
벌금 관련도 3 문제 정도 나왔는데.. GDL 과 벌금 관련만 꼭 숙지 하시고 가시면  
다른 문제들은 잘 생각해 보면 알 수 있는 답이었습니다.  
MVC 의 운전면허 영문문제 은행의 문제를 중복된 것은 제외한 후에 문제와 답을 번역한  
내용입니다. 이 문제와 답만 정확히 숙지하고 가면 뉴욕, 뉴저지 운전면허 필기시험(한국어판)에  
간단히 합격하실 수 있을 것입니다.

컴퓨터로 시험을 보는 경우에 답을 잘 모르는 문제는 스킵을 할 수 있게 되어 있습니다. 아주  
모르는 문제는 억지로 풀려고 하지 말고 스킵을 하세요. 그러나, 계속 스킵하면 앞에서 스킵했던  
문제가 다시 되돌아 옵니다. 이점 참고 하세요.

- 영문문제은행 한글 번역본 -

- o 단조롭고 지속적인 운전 때문에 느껴지는 졸린 현상은?  
- 고속도로 최면(반수면)
- o 뉴저지주에서 동계타이어 기간은?  
- 11 월 15 일부터 4 월 1 일까지
- o 깊은 물 웅덩이를 지난 후에는?  
- 브레이크를 테스트하기 위해서 브레이크를 몇 번 밟는다.
- o 무엇이 자동차엔진을 과열시키는가?

- 워터펌프 문제
- 냉각수 부족
- 온도계 문제
- 정답 : 위 모두다

○ 두 대의 차량이 통제되지 않는 교차로로 들어설 때 누가 진로를 양보해야 하는가?  
- 왼쪽차가 양보

○ 아무 장애물도 없는 길을 운전하면서 적색등을 켜고 서있는 스쿨버스 앞을 향해가고 있는 상황에서 스쿨버스에서 학생들이 타고 내리고 있을 때 당신은  
- 최소 25 피트이상 떨어진 곳에서 정지한다.

○ 당신이 한잔 또는 두잔음주를 했다 하더라도 다음중 어떤 것이 사고가 날 가능성을 증가시키는가  
- 당신의 기분  
- 운전경험  
- 약물복용  
- 정답 : 모두다

○ 추월이 금지되는 곳은  
- 노면(도로 가장자리)

○ 다른 운전자에게 말을 거는 가장 좋은 방법은  
- 경적이나 라이트 사용

○ 수막 미끄럼은  
- 젖은 길에서 타이어 접지면이 미끄러지는 것

○ 도시내 운전의 좋은 습관은  
- 12 초 앞을 본다.

○ 오른쪽으로 추월하는 것이 법적으로 허용되는 경우는  
- 두 개의 계속적인 차선이 있을 때

○ 주차등 뿐 아니라 전조등을 반드시 켜야 하는 경우는  
- 해지기전 30 분에서 해 뜨기 후 30 분까지와 날씨가 좋지 않은 때 언제든지

○ 교차로에서 도로를 가로지른 한 개의 백색 실선은  
- 도로 표지판이나 신호등을 보기 위해 해당선 5 피트내에 정지

○ 알코올이나 약물 영향하의 운전은  
- 당신의 감각이나 판단력이 손상됨

○ 운전자는 주소변경을 몇일 내에 해야 하는가?  
- 7 일

○ 사각지대의 의미는  
- 백미러로 볼 수 없는 지역

○ 일방통행길에서 양방통행길로 우회전을 할 때 어떤 위치로 가야하는가  
- 가능한 오른쪽에 가깝게

- 다른 표지가 없다면 뉴저지의 주거지역이나 상업지역의 제한속도는
  - 25 마일
- 운전자는 좌, 우회전을 하기 전 최소 어느 정도 거리에서 지시등을 켜야 하는가
  - 100 피트
- 당신이 포장도로에서 벗어났을 때 가장 먼저 할 일은
  - 속도를 늦추고 천천히 다시 포장도로로 돌아간다
- 신체내 혈중알콜농도는 무엇과 관련있는가
  - 체중
  - 음주알콜량
  - 음주시간
  - 정답 : 모두다
- 브레이크에 문제가 있다는 것을 어떻게 알 수 있나
  - 브레이크액이 샌다
- 급한 회전을 한 후에 핸들을 되돌리는 적합한 방법은
  - 핸들이 당신의 손을 통해서 미끄러지게 함
- 음주운전으로 인한 문제 상태의 첫 번째 징조는 보통
  - 말이 많아지고, 자신감이 증가하고, 판단력이 감퇴됨
- 안전벨트와 어깨 벨트를 동시에 사용하는 것이 중요한 이유는
  - 충돌시 생존가능성을 높인다
- 교차로를 가로지른 하나의 백색 선은
  - 그 선 뒤에 정지
- 정지신호 얼마나 가까이에 주차가 허락 되는가
  - 50 피트
- 면허를 번조하면
  - 1,000 달러 벌금 과/또는 18 개월 징역
- 중고차를 살 때 차량검사는
  - 2 주 또는 부착 검사스티커에 남은 기간 내에
- 면허취소 대상자이면서 인명부상 사고를 낸 경우 당신은
  - 45 일 구금
- 사고보고를 해야 하는 사고를 차량국에 몇일내에 보고해야 하는가
  - 5 일
- 3 개 차선도로에서 중앙차선은
  - 좌회전에 사용된다
- 타이어가 평그나면
  - 천천히 속도를 줄인다.

- 점멸(반짝거리는) 적색등은
  - 정지후 주의하면서(안전할 때) 진행
- 브레이크 라이닝이 젖었을 때 어떻게 해야하나
  - 천천히 운전하면서 브레이크에 발을 올려놓고 있다
- 2 초물이란
  - 안전거리를 유지한다
- 뉴저지 상업지역의 제한속도
  - 25 마일
- 다른 차가 나를 추월할 때
  - 속도를 줄여서 제때 추월하기 쉽게 해준다
- 양방향 도로에서 추월을 하기 위해서 중앙선을 건너는 것은 어떨 때 허용되는가
  - 도로의 중앙선중 내 쪽의 중앙선이 점선일 때
- 점멸(반짝거리는) 황색 등은
  - 속도를 줄이고 주의하면서 진행
- 이중실선은 어떤 도로에 있나
  - 구부러진 이차선 도로
- 양방향 어디에서도 추월하는 것이 불법인 것을 나타내는 도로표시는
  - 이중실선
- 브레이크 밟고 나서도 차가 진행되는 거리는
  - 정차거리
- 스쿨버스가 적색점멸등을 켜고 있을 때 당신은
  - 최소 25 피트 뒤에서 정지한다
- 핸들위의 손의 위치는
  - 10 시와 2 시 방향
- 우회전을 하기 위해서는
  - 오른쪽 차선으로 들어간다
- 양보 표지판은 몇각형인가
  - 3 각형
- 사고시 차량국에 통보해야 하는 기간
  - 5 일
- 브레이크 밟을 때 초보자가 하기 쉬운 실수는
  - 브레이크 페달을 아래로 너무 세게 밟는다
- 초록색화살은
  - 화살표 방향으로 진행하라

- 도로표면은 언제 가장 미끄러운가
  - 비 내린 후 처음 몇분 동안
  
- 면허정지 받는 벌점은
  - 12 점
  
- 뉴저지법에서 경찰에 통보해야 하는 사고는
  - 부상
  - 사망
  - 차량이나 재산 파손
  - 정답 : 모두다
  
- 혈중알콜농도가 얼마이면 알콜에 의한 영향을 받은 음주운전이라고 보는가
  - 0.08
  
- 후진시 차량의 핸들을 어느 방향으로 틀어야 하는가
  - 차의 뒤쪽이 가야하는 방향으로 핸들을 튼다
  
- 다른 표지가 없을 경우는 학교지역(주거지역, 사무지역)의 제한속도는
  - 25 마일
  
- 묵시적 동의법은
  - 운전자는 호흡테스트 받는 것을 동의하는 것
  
- 통제되지 않은 교차로로 접근하거나 가까워질 때 당신은
  - 속도를 줄이고 정지할 준비를 한다
  
- 정지 표지판은
  - 적색과 백색으로 되어있음
  
- 한캔 또는 12 온즈의 맥주는
  - 한잔 또는 86 표준도수 양주 1.5 온즈와 알코올양이 같다
  
- 차가 미끄러지면
  - 가속페달을 떼고 차의 뒤쪽이 미끄러지는 방향으로 차를 튼다
  
- 왼쪽 브레이크의 나쁜 점은
  - 브레이크에 발을 올려놓고 있는 경향이 있기 때문에
  
- 검사기간이 지난 차량을 운전했을 때 벌칙은
  - 벌금
  - 체포
  - 차량등록 철회
  - 정답 : 모두다
  
- 어떤 사람이 술에 취한 채 당신의 집에서 나간 후 교통사고를 내면
  - 당신은 재판을 받게 된다
  
- 차량국에서 신분증명으로 인정되는 문서는
  - 출생증명서 원본



- 운전자의 손과 팔을 아래로 향하면
  - 서행과 정지
  
- 철도 건널목 표지판은
  - 황색과 흑색
  
- 차량국에 통보해야 하는 인체상해 사고에 관련되었을 때 당신은
  - 동시에 보험회사에도 사고사실을 통보해야 한다
  
- 좌, 우회전을 하기 전에 방향 지시등은
  - 100 피트 전에 지시등을 한다
  
- 운전연습 전에 학생운전자는 어떤 시험을 마쳐야 하는가
  - 법 지식과 시력검사
  
- 2 초를은 어떤 속도하에서도 당신을 어떻게 돕는가
  - 안전한 차간 거리를 확보해 준다
  
- 뉴저지에서 차량등록 기간의 최대 유효기간은
  - 4년
  
- 제한속도를 넘을 수 있는 경우는
  - 없다
  
- 알코올은 당신의 운전애 어떤 영향을 주나
  - 반응시간이 길어진다.(반응속도가 떨어진다.)
  
- 교차로에서부터 얼마나 멀리애 차를 주차하여야 하는가
  - 25 피트
  
- 적색등에서 우회전할 수 있는 경우 우회전하기 전에 당신은
  - 완전히 정지한 후 교통상황을 살핀다.
  
- 미끄러지는 방향은 어떻게 알 수 있나
  - 차의 뒤쪽이 향하는 방향으로 알수 있다.
  
- 가운데 오렌지색 둘레애 적색인 삼각형 표지판의 의미
  - 저속차량 주의(농사차량, 건설차량 등)
  
- 상습적인 위반자란
  - 3년 내에 3번 면허정지자
  
- 알코올이나 약물 영향하의 운전애 대한 초범 벌칙은
  - 300 달러에서 500 달러 벌금과 가능한 경우 30일 구금과 7개월에서 1년 면허취소
  
- 앞애오는 차가 상향등을 켜고 오면
  - 도로의 오른쪽을 본다
  
- 최초의 음주영향 운전애 관련하여 음주검사를 위한 호흡체크를 거부할 경우
  - 7개월에서 1년간 면허취소와 300~500 달러 벌금

- 인명사고를 내고 면허취소 상태에 있을 때 당신의 구금기간은
  - 45 일
- 더러운 노건에서 정상포장도로로 다시 돌아오려고 할 경우
  - 속도를 낮추고 포장도로로 올라가기 위해 핸들을 돌린다
- 2 차선 길에서 4 차선 길로 좌회전할 때 어떤 차선으로 들어가야 하나
  - 가급적 가장 왼쪽차선으로
- 보조 (ACC(accessory)) 스위치는 어떤 때 쓰나
  - 엔진을 켜지 않고 전류를 흐르게 할 때
- 음주운전의 최대벌칙은
  - 10 년 면허정지
- 밤에는 다음의 어느 거리 이내에서 정지하기 위해서 서행운전을 해야 하는가
  - 전조등으로 비쳐지는 거리범위
- 통상적인 운전방해(주의를 흐트러뜨리는) 요인들은
  - 운전중 안전벨트를 매는 행동
  - 운전중 음식을 먹는 행동
  - 차안에서 아이들이나 애완동물을 보는 행동
  - 정답 : 모두다
- 차량번호판을 신규로 받았을 때 종전의 번호판은
  - 차량국에 반납하고 영수증을 받는다
- 스쿨버스가 정차해서 적색등이 반짝이면
  - 정지한다
- 교차로 입구를 가로지르는 한 개의 흰색선은
  - 이 선 뒤에 서라
- 녹색등의 의미는
  - 안전하면 가라
  - ※ '그냥 가라' 든지 '바로 가라' 든지 하는 것은 틀림
- 횡단보도에서 얼마나 멀리 주차해야 하는가
  - 25 피트
- '깊이 인식'이라는 말은 무엇과 같은 의미인가
  - 거리판단
- 미끄러운 도로에서 미끄러질 때 정지하려면
  - 브레이크를 밟았다 뗐다를 반복한다.(펌핑이라고 함)
- 평행주차시 체크할 포인트는
  - 주차하려는 공간에 내 차의 뒷부분과 주차되어 있는 차의 뒷부분을 먼저 맞춘다

23. Before turning, you must signal at least
- a: **100 feet in advance**
  - b: 1 block in advance
  - c: 500 feet in advance
  - d: 100 yards in advance
24. When making a left turn from a two-way street you should get into the
- a: right lane, or the lane furthest from the center lane
  - b: left lane nearest to the left curb
  - c: **lane nearest to the center of the roadway**
  - d: right lane, or the lane nearest to the right curb
25. An Eight sided sign means
- a: slow down
  - b: yield to other traffic
  - c: **stop**
  - d: railroad crossing
26. The papers that are needed for your road test are
- a: valid vehicle registration
  - b: valid examination permit
  - c: valid insurance I.D. card
  - d: **all of the above**
27. The "two-second" rule can be used at any speed to help you
- a: during very hot, humid weather
  - b: after a very heavy rainfall
  - c: during very cold, dry weather
  - d: **during the first few minutes of rainfall**
28. A green light means
- a: slow down
  - b: **go when safe**
  - c: be ready to stop
  - d: slow before an intersection
29. If not prohibited by a "any turn on red sign" New Jersey law permits you to turn on red after
- a: blowing your horn
  - b: **making a full stop and checking traffic**
  - c: slowing down to check traffic
  - d: checking traffic to your right
30. High beam lights are used for
- a: **open country driving**
  - b: signaling emergencies
  - c: foggy weather
  - d: city streets without lamps

(2 회)

1. If you are involved in a motor vehicle accident resulting in injuries while your driving privileges are suspended you are subject to

a: fine set by judge

b: further suspension of your driving privileges

**c: fine, suspension of your driving privileges and mandatory 45 day jail sentence**

d: all of the above

2. When nearing a steady yellow or amber traffic signal, you should

a: slow down and continue with caution through the intersection

b: speed up and continue through the intersection before the light changes to red

**c: stop before entering the if you safely can do so**

d: stop immediately, does not continue through the intersection

3. You should expect to see double solid centerline on
- a: a divided highway
  - b: a winding two-lane road**
  - c: a "pass with care" road
  - d: a one-way street
4. A person who holds a probationary driver license is subject to
- a: an advisory notice upon being convicted of their first moving violation
  - b: mandatory attendance at a driver education program in lieu of suspension for a second violation resulting in 4 or more points
  - c: any violation after attending school will result in suspension
  - d: all of the above**
5. If you refuse to take a breath test and it is your first offense, the penalty
- a: 30 days in jail
  - b: 90 days license suspension and jail
  - c: 6 month license suspension
  - d: \$250 to \$500 fine, 6 month license suspension**
6. Implied consent law means
- a: you must have liability insurance
  - b: permission for another to move your car in emergencies
  - c: you sign an agreement to give blood
  - d: a driver agrees to take a breath test for blood alcohol content**
7. You are considered by law to be under the influence when the amount of alcohol in your blood or BAC has reached
- a: .15%
  - b: .10%**
  - c: .05%
  - d: none of the above
8. Which of the following drinks contain about the highest alcohol content
- a: five ounces of table wine
  - b: 1 1/2 ounces of whiskey
  - c: twelve ounces of beer
  - d: all of the above are about equal in content**
9. If you drink and have reached a back of .05% the risk of your causing a motor vehicle accident is
- a: none
  - b: normal**
  - c: double
  - d: triple
10. Drugs that may affect basic driving skills are
- a: cold pills
  - b: tranquilizers
  - c: some prescription drugs
  - d: all of the above**

11. In the event of a crash or sudden stop, use of seat belts may
- a: keep you from being thrown from the car
  - b: keep you from hitting the windshield or dashboard
  - c: keep you from sliding off the seat and losing control of the car
  - d: all of the above**
12. The meaning of a hand-signal when a drivers hand and arm are straight out is
- a: U-turn
  - b: right-turn
  - c: left turn**
  - d: slow or stop
13. Road surfaces are slipperiest
- a: during very hot, humid weather
  - b: after a very heavy rainfall
  - c: during very cold, dry weather
  - d: during the first few minutes of rainfall**

14. The best way to take a curve is  
a: lean in the direction of the curve  
b: speed up while in the curve  
**c: slow down before entering the curve**  
d: slow down after entering the curve
15. To avoid highway hypnosis when driving on an expressway it is a good practice to  
a: rest your eyes by slowing them time to time  
**b: avoid looking at any one thing for more than a few seconds**  
c: look straight ahead to the side  
d: spend as much time looking at your mirrors as you do looking in front of you
16. When it is legal to turn right on red, before turning, you must  
a: slow down and check traffic  
b: blow your horn  
**c: make a full stop, check traffic**  
d: check traffic to right
17. If you come to a 4 way stop at the same time as another driver, you must  
a: yield to driver on left  
**b: yield to driver on the right**  
c: yield to oncoming cars  
d: yield to passing cars
18. The shape of a yield sign is  
a: circle in square  
**b: triangle**  
c: eight sided  
d: diamond
19. To regain control while in a skid, you should  
a: turn in the opposite direction the back of the car is skidding  
b: keep a tight grip on the steering wheel  
**c: turn in the same direction the back of the car is skidding**  
d: make a fast turn in the direction of the skid and lock the brakes
20. If you go into a skid you should  
a: make a fast turn  
**b: take your foot off the gas pedal**  
c: apply your brakes  
d: straighten your wheels
21. When a school bus has stopped directly in front of a school to pick up or let of children, you may pass from either direction at a speed of no more than  
**a: 10mph**  
b: 15mph  
c: 20mph  
d:25 mph
22. If two cars begin to enter an uncontrolled intersection at the same time  
a: the driver to the right must yield to the driver on th left

**b: the driver entering the intersection must yield**

c: the driver going straight through goes first

d: the driver going straight through goes first

23. The "Two-second rule" can be used at any speed to help you

a: driver within the speed limit

**b: keep a safe following distance**

c: time traffic lights at intersections

d: bring your car out of skid

24. To make a right turn, you should

**a: get in the right lane**

b: speed up to turn

c: make a wide turn

d: cross the left lane marking



25. A flashing red light means  
**a: stop, proceed with caution**  
b: slow, yield to traffic on the right  
c: use caution when entering an intersection  
d: stop, wait for green
26. Driving while under the influence of alcoholic beverage or drugs refers to  
a: only when the driver shows obvious signs of being drunk  
**b: when your senses and judgment are impaired by alcohol or drugs of any kind**  
c: drinking while in process of driving the vehicle  
d: driving even if the driver has had only one drink
27. In city driving a good habit is to  
a: use the two seconds ahead  
**b: look 12 seconds ahead**  
c: reduce speed and use horn  
d: practice good judgment
28. The speed limit in a school zone unless otherwise posted is  
a: 10mph  
b: 15mph  
**c: 25mph**  
d: 35mph
29. If you want to return to the road from a dirt shoulder  
**a: slow down, then turn your wheels to climb the pavement edge**  
b: drive along the shoulder until you are going as fast as the traffic on road  
c: drive along the shoulder until you get to an acceleration lane  
d: move slowly onto the road and wave traffic around you
30. When approaching or nearing an uncontrolled intersection, you should  
a: speed up to clear intersection quickly  
b: always come to a full stop  
c: slow down and look straight ahead  
**d: reduce speed and be ready to stop**

(3 회)

1. An articulated license allows the operation of  
a: all school buses  
b: all types buses  
**c: a commercially registered vehicle of 18000lbs. or more joined by a coupling**  
d: a vehicle with less than four wheels
2. A single solid white line across a road at an intersection means  
**a: stop behind the line for a traffic sign or light**  
b: bus stop  
c: no parking zone  
d: no passing

3. The shape of a stop sign is  
**a: eight-sided**  
b: diamond  
c: triangle  
d: circle
4. The order of colors on a traffic light, hung top to bottom  
a: red, green, yellow  
**b: red, yellow, green**  
c: yellow, green, red  
d: green, yellow, green
5. Under the New Jersey point system, a person having a license over two years, after how many points will get a notice of license suspension  
a: 6 points  
b: 9 points  
**c: 12 points**  
d: 15 points
6. After two to four drinks alcohol begins to impair your  
a: reaction time  
b: coordination and balance  
c: judgment  
**d: all of the above**
7. If a person gets drunk in your home and has a motor vehicle accident after leaving your home you could  
a: be charged with a crime  
b: not be held responsible  
**c: be involved in a lawsuit**  
d: none of the above
8. Studies show that the greatest number of people arrested for drunk have been drinking  
**a: beer**  
b: wine  
c: whiskey  
d: mixed
9. Drugs that may affect basic driving skills are  
a: cold pills  
b: tranquilizers  
c: some prescription  
**d: all of the above**
10. whether your blood alcohol content raises above legal limits depends in  
a: amount you drink  
b: your weight  
c: time you take to drink  
**d: all of the above**

11. You could be either sober or under influence when the amount of alcohol in your blood or blood alcohol content has reached (답모름)

- a: .15%
- b: .10%
- c: .05%
- d: none of the above

12. The meaning of a hand signal when a drivers hand and arm is downward is

- a: U-turn
- b: right turn
- c: left turn
- d: slow stop**

13. It is a good practice to keep a space cushion to

- a: give you time to re react**
- b: give you a clear view of the road
- c: decrease your reaction time
- d: none of the above

14. When driving around a curve your vehicle will tend to

- a: speed up
- b: keep going straight**
- c: slow down
- d: follow the curve

15. In city driving a good habit is to

- a: use the 2-second rule
- b: look 12 seconds ahead**
- c: reduce speed, and use horn
- d: practice good judgment

16. You should only use parking light

- a: when parking**
- b: in a fog
- c: in the evening
- d: at dusk, before you turn on the headlights

17. The speed limit in school zone unless otherwise posted is
- a: 10mph
  - b: 15mph
  - c: 25mph**
  - d: 35mph
18. You should always yield to
- a: emergency vehicles
  - b: pedestrians
  - c: other vehicles already in the intersection
  - d: all of the above**
19. If you want to return to the road from a dirt shoulder
- a: slow down, then turn your wheels to climb the pavement edge**
  - b: drive along the shoulder until you are going as fast as the traffic on the road
  - c: drive along the shoulder until you get to an acceleration lane
  - d: move slowly on to the road and wave traffic around you
20. When a school bus has stopped at a school to pick up or let off children, you may pass from either direction at a speed of no more than
- a: 10mph**
  - b: 15mph
  - c: 20mph
  - d: 25mph
21. Laws of New Jersey require you to keep to the right except
- a: when impractical to travel on that side of the roadway
  - b: when passing
  - c: when on a one-way street
  - d: all of the above**
22. When approaching or nearing an uncontrolled intersection you should
- a: speed up to clear intersection quickly
  - b: always come to a full stop
  - c: slow down and look straight ahead
  - d: reduce speed and be ready to stop**
23. When approaching a railroad crossing with flashing lights
- a: stop at the crossing**
  - b: slow down and look both ways
  - c: slow down, blow your horn
  - d: stop within 50 feet but not less than 15 feet of the nearest rail
24. To make a right turn, you should
- a: get-in the right lane**
  - b: speed up to turn
  - c: make a wide turn
  - d: cross the left lane marking
25. When driving to maintain a proper following distance, you should stay at least
- a: 1/2 of a second behind the vehicle in front of you

- b: 3/4 of a second behind the vehicle in front of you
- c: 1 second behind the vehicle in front of you
- d: 2 second behind the vehicle in front of you**

26. An agricultural license allows the operation of a farm registered vehicle

- a: for agricultural purposes only**
- b: between the hours of sunrise to sunset
- c: for farm equipment only
- d: for farm equipment only on farm land

27. A green light means

- a: slow down
- b: go when safe**
- c: be ready to stop
- d: slow before an intersection

28. Road surfaces are slipperiest  
a: during very hot, humid weather  
b: after a very heavy rainfall  
c: during very cold, dry weather  
**d: during the first few minutes of rainfall**
29. When making a left turn from a two-way road into a four-lane highway, the proper way to turn is  
a: approach turn from centerline of road and turn into right lane  
b: approach turn from right side of road and turn into right lane  
c: approach turn from right side of road, cross over divider to left lane  
**d: approach turn from center lane of road, and turn into left lane**
30. When making a left turn from a two-way street you should get into the  
a: right lane or the lane farthest from the center lane  
b: left lane nearest to the left curb  
**c: lane nearest to the center of the roadway**  
d: right lane or the lane nearest to the right curb

제 경우는 100% 여기서 시험문제가 다 나왔더군요...참고하세요~  
all of the above 가 나오면 무조건 답입니다.  
yield 는 y 의 삼각형  
warning 은 w 를 반으로 잘라 올리면 마름모  
그외 주차금지 구역 및 몇미터까지는 안되는지는 꼭 보세요