

제4교시

사회탐구 영역(법과 정치)

성명

수험 번호



1. 다음 대화의 갑, 을에 대한 옳은 설명을 <보기>에서 고른 것은? [3점]

갑: 정치 활동이 나타나는 사례로 학급의 자리 배치를 위한 토론을 들 수 있습니다. 정치는 모든 집단에서 나타나는 의사 결정 활동이지요.
을: 당신이 제시한 사례는 정치에 해당하지 않아요. 정치는 국가의 행위로서 국가 기관과 관련 없는 활동은 정치라고 볼 수 없습니다.

<보 기>
ㄱ. 갑은 강제력을 독점하는 국가의 특수성에 주목하여 정치를 이해한다.
ㄴ. 을은 국가가 존재하지 않으면 정치 현상도 존재할 수 없다고 인식한다.
ㄷ. 대립하는 이익의 조정은 갑과 을의 입장 모두에서 정치의 기능으로 볼 수 있다.
ㄹ. 갑과 달리 을은 국회의원 선거에서 투표하는 활동을 정치 현상이라고 본다.

- ① ㄱ, ㄴ ② ㄱ, ㄷ ③ ㄴ, ㄷ ④ ㄴ, ㄹ ⑤ ㄷ, ㄹ

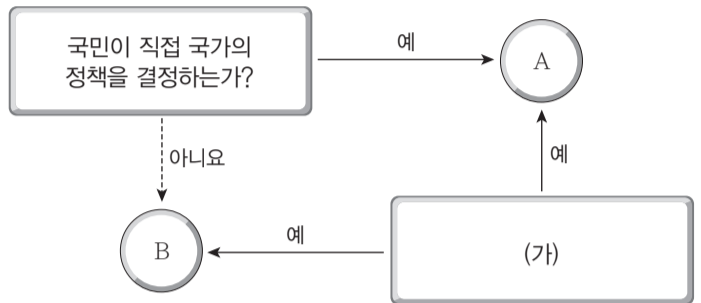
2. (가), (나)에 대한 옳은 설명만을 <보기>에서 있는 대로 고른 것은?

(가)	제1조 왕은 의회의 동의 없이 법률을 만들거나 과세할 수 없으며 상비군을 유지할 수 없으며 청원권을 자유롭게 보장하며 의회에서의 언론의 자유를 보장한다.
(나)	제1조 인간은 자유롭고 평등하게 태어나서 생활할 권리를 가진다. 제2조 모든 정치적 결사의 목적은 자유, 재산, 안전, 압제에의 저항 등 인간의 소멸될 수 없는 권리를 보전하는 데 있다. 제3조 주권은 국민에게 있다.(이하 생략)

<보 기>
ㄱ. (가)는 입헌 군주제에서 왕권에 대한 의회의 우위를 밝히고 있다.
ㄴ. (나)는 천부 인권, 사회 계약, 국민 주권 사상을 바탕으로 하고 있다.
ㄷ. (나)는 저항권이 국가에 의해 주어지는 권리의 하나라고 밝히고 있다.
ㄹ. (가)는 영국의 명예 혁명, (나)는 프랑스 대혁명 과정에서 만들어졌다.

- ① ㄱ, ㄴ ② ㄴ, ㄷ ③ ㄷ, ㄹ
④ ㄱ, ㄴ, ㄹ ⑤ ㄱ, ㄷ, ㄹ

3. 그림은 민주주의의 유형을 구분한 것이다. 이에 대한 옳은 설명을 <보기>에서 고른 것은? (단, A, B는 각각 직접 민주주의, 간접 민주주의 중 하나이다.)



<보 기>
ㄱ. (가)에는 '국민 자치를 실현하는 방식인가?'가 들어갈 수 있다.
ㄴ. A는 국가 규모와 기능이 확대되면 효율적으로 기능하기 어렵다.
ㄷ. A와 달리 B는 치자와 피치자의 동일성 원리의 실현에 유리하다.
ㄹ. B는 A에 비해 국민의 의사를 정책에 정확하게 반영할 수 있다.

- ① ㄱ, ㄴ ② ㄱ, ㄷ ③ ㄴ, ㄷ ④ ㄴ, ㄹ ⑤ ㄷ, ㄹ

4. 밑줄 친 ㉠, ㉡이 의미하는 법치주의에 대한 옳은 설명을 <보기>에서 고른 것은? [3점]

과거의 법치주의는 독재 권력의 통치권을 강화하는 수단으로 작용하기도 하였다. 히틀러의 만행 역시 당시에는 합법이었음을 통해, 이를 확인할 수 있다. 이에 대한 반성으로 제2차 세계 대전 이후 ㉠단순한 법의 지배에서 벗어나 ㉡정당한 법의 지배를 실현하기 위하여 위헌 법률 심판 제도 등 권력 남용을 통제하는 장치를 두고 있다.

<보 기>
ㄱ. ㉠은 '법을 통한 독재'를 초래할 가능성이 있다.
ㄴ. ㉠, ㉡ 모두 통치의 합법성이 아니라 정당성을 중시한다.
ㄷ. ㉠, ㉡ 모두 '인(人)의 지배'를 배격한다는 점에서 공통적이다.
ㄹ. '법의 지배'는 ㉠을, '법에 의한 지배'는 ㉡을 의미한다.

- ① ㄱ, ㄴ ② ㄱ, ㄷ ③ ㄴ, ㄷ ④ ㄴ, ㄹ ⑤ ㄷ, ㄹ

5. 표는 전형적인 정부 형태와 정당 제도를 결합한 것이다. A~D에 대한 설명으로 옳은 것은?

구분	양당제	다당제
대통령제	A	B
의원 내각제	C	D

- ① A에서 여소야대 정국의 출현은 불가능하다.
② B보다 A에서 다양한 민의가 정책에 반영되기 쉽다.
③ C보다 D에서 다수당의 횡포가 나타나기 쉽다.
④ A, B보다 C, D에서 정책의 계속성이 유지되기 쉽다.
⑤ A, C보다 B, D에서 정당 간 대립 시 중재가 용이하다.

6. 자료에 대한 분석 및 추론으로 옳지 않은 것은? [3점]

○ A국~C국은 이념 성향별로 보수, 중도, 진보 정당이 각각 1개씩만 존재한다.
 ○ A국은 전형적인 권력 분립형 정부 형태, B국, C국은 전형적인 권력 융합형 정부 형태를 갖고 있으며, A국의 행정 수반은 보수 정당 소속이다.
 ○ 현재 A국~C국의 정당별 의석 점유율은 다음 표와 같다.

(단위: %)

구분	보수 정당	중도 정당	진보 정당	합계
A국	40	5	55	100
B국	70	20	10	100
C국	30	40	30	100

- ① A국에서는 대통령의 원활한 국정 운영이 어려울 수 있다.
- ② C국에서는 단독 내각의 수립이 불가능한 상황이다.
- ③ B국은 C국에 비해 정치적 책임 소재가 분명하지 않다.
- ④ C국보다 B국에서는 소수당의 의사가 반영되기 어렵다.
- ⑤ A국, C국에 비해 B국은 행정부의 강력한 정책 수행이 용이하다.

7. 밑줄 친 ㉠~㉣에 대한 옳은 설명만을 <보기>에서 있는 대로 고른 것은? [3점]

현대 민주주의 국가에서는 의회의 중심적인 역할이 입법보다 ㉠행정 권력에 대한 견제 쪽으로 옮겨 가고 있다. 우리나라에서도 이러한 현상은 마찬가지로 ㉡대통령에 대한 국회의 견제가 강조되고 있다. 대통령 견제 수단으로서 국회의 ㉢동의권이 부각되고 있는 것은 시대적 요청이라고 할 수 있다. 하지만 국회가 그러한 견제 수단을 가지고 있음에도 불구하고, ㉣견제의 기능이 제대로 발휘되지 못할 수 있는 상황이 발생하기도 한다.

<보 기>

㉠. 대통령에 대한 국회의 탄핵 소추권은 ㉠을 위한 수단이다.
 ㉡. ㉡은 헌법 개정안에 대하여 환부 거부권을 갖는다.
 ㉢. 대통령이 대법원장과 대법관을 임명할 때 국회는 ㉢을 행사한다.
 ㉣. 국회의 의석 분포가 여대야소일 경우 ㉣이 발생할 가능성이 높다.

- ① ㉠, ㉡ ② ㉡, ㉢ ③ ㉢, ㉣
- ④ ㉠, ㉡, ㉢ ⑤ ㉠, ㉢, ㉣

8. (가), (나)의 일반적인 특징으로 옳지 않은 것은? (단, (가), (나)는 각각 이익 집단, 시민 단체 중 하나이다.)

(가)	(나)
회원의 권익 옹호와 자질 향상을 목적으로 한다. 회원의 공동 이익을 위한 다양한 사업을 추진하며, 입법 과정에 영향력을 행사하기도 한다.	우리 사회의 부정부패를 감시하기 위해 결성되었다. 다양한 계층의 사람들로 구성되었으며, 회원들의 적극적인 참여로 운영되고 있다.

- ① (가)의 등장 배경으로 이해관계의 다원화를 들 수 있다.
- ② (나)는 비영리성·비권력성·자발성을 특징으로 한다.
- ③ (가)와 달리 (나)는 정치적 충원의 기능을 수행한다.
- ④ (가), (나) 모두 정치 과정에서 투입의 기능을 수행한다.
- ⑤ (가), (나) 모두 참여 민주주의의 활성화에 기여할 수 있다.

9. 다음 헌법 전문의 밑줄 친 부분에 나타난 헌법의 기본 원리가 반영된 헌법 규정을 <보기>에서 고른 것은?

.....자율과 조화를 바탕으로 자유민주적 기본 질서를 더욱 확고히 하여 정치·경제·사회·문화의 모든 영역에 있어서 각인의 기회를 균등히 하고, 능력을 최고도로 발휘하게 하며, 자유와 권리에 따르는 책임과 의무를 완수하게 하여, 안으로는 국민 생활의 균등한 향상을 기하고 밖으로는 항구적인 세계 평화와 인류 공영에 이바지 함으로써.....

<보 기>

㉠. 모든 국민의 재산권은 보장된다.
 ㉡. 국가는 사회 보장·사회 복지 증진에 노력할 의무를 진다.
 ㉢. 모든 국민은 법률이 정하는 바에 의하여 선거권을 가진다.
 ㉣. 근로 조건의 기준은 인간의 존엄성을 보장하도록 법률로 정한다.

- ① ㉠, ㉡ ② ㉠, ㉢ ③ ㉡, ㉣ ④ ㉡, ㉣ ⑤ ㉢, ㉣

10. 헌법상의 기본권 A~C의 일반적 특징에 대한 설명으로 옳은 것은?

기본권	침해 사례
A	합법적인 파업에 참여했다는 이유로 노동조합원이 해고 통보를 받았다.
B	신체 억제대를 사용하여 환자를 강제로 묶어 둔 의료 기관이 제재를 받았다.
C	전동 휠체어를 타고 투표하려 왔다가 지하 2층에 설치된 투표소 때문에 투표를 포기할 수밖에 없었다.

- ① A는 법률로도 제한할 수 없는 권리이다.
- ② B는 기본권 보장을 위한 기본권에 해당한다.
- ③ A와 달리 B는 소극적·방어적 성격을 가진다.
- ④ 역사적으로 C는 B에 앞서 기본권으로 인정되었다.
- ⑤ A~C 모두 헌법에 열거되어 있어야 보장되는 권리이다.

11. 다음은 헌법 재판소 결정문의 일부이다. 이에 대한 분석으로 옳지 않은 것은? [3점]

【당사자】
 제청 법원: A
 제청 신청인: B (대리인: 변호사 갑)

【주문】
 청원경찰법 10조의 6은 헌법에 위배된다.

【이유】
 ... 청원경찰이 저지른 범죄의 종류나 내용을 불문하고 범죄 행위로 금고 이상의 형을 선고 유예 받으면 당연히 퇴직시키도록 규정한 것은 달성하려는 공익의 비중에도 불구하고 청원경찰의 직업의 자유를 과도하게 제한한다. ... 청원경찰에게 공무원보다 더 가혹한 제재를 가하고 있어 (가)에도 위배된다.

- ① (가)에는 침해의 최소성 원칙이 들어갈 수 있다.
- ② A에 상고심을 담당하는 법원은 들어갈 수 없다.
- ③ A가 B의 신청을 기각하면 B는 헌법 소원을 제기할 수 있다.
- ④ 위 결정으로 청원경찰법 10조의 6은 즉시 효력을 잃게 된다.
- ⑤ 위 결정을 내리기 위해서는 헌법 재판관 6인 이상의 찬성이 필요하다.

12. (가), (나)에 적용된 민법 원리에 대한 옳은 설명을 <보기>에서 고른 것은?

(가) 공정거래위원회는 총 이용 요금의 20%를 위약금으로 규정한 것과 사업자들의 귀책 사유로 계약 해지 시에는 위약금을 주지 않는 산후 도우미 이용 약관 조항이 고객에게 과도한 손해 배상 의무를 부담시킨다고 보고 시정을 권고했다.

(나) 국제 항공 운송에 관한 '몬트리올 협약'은 항공기에서 발생한 승객의 신체적·정신적 기타 손해에 대해 항공사는 항공사의 과실이 입증되지 않아도 승객의 고의가 없는 한 약 1억 7천만 원의 범위 안에서 배상 책임을 진다는 내용을 담고 있다.

<보 기>

ㄱ. (가)에 적용된 원리는 신의 성실의 원칙에 충실한 권리와 의무의 이행을 강조한다.

ㄴ. 제조물 책임법에서 제조업자의 배상 책임도 (가)에 적용된 원리를 토대로 한다.

ㄷ. (나)에 적용된 원리는 사회적 강자의 책임 회피를 방지하려는 목적으로 도입되었다.

ㄹ. (나)에 적용된 원리와 달리 (가)에 적용된 원리는 근대 민법의 기본 원리로 채택된 것이다.

- ① ㄱ, ㄴ ② ㄱ, ㄷ ③ ㄴ, ㄷ ④ ㄴ, ㄹ ⑤ ㄷ, ㄹ

13. 밑줄 친 ㉠~㉣에 대한 설명으로 옳지 않은 것은? [3점]

갑은 A 소유의 ○○ 주택에서 보증금 2억 원에 2년 동안 살기로 A와 계약을 맺었다. 입주하기로 한 날 갑은 ㉠이사를 하면서 전입 신고를 하고 ㉡확정일자를 받았다. 한 달 뒤 A는 □□ 은행에서 사업 자금으로 1년 동안 1억 원을 빌리기로 하면서 ○○ 주택에 ㉢저당권을 설정해 주었다. 그런데 운영하는 회사가 부도가 나면서 A는 빌린 돈을 갚지 못하게 되었다. 이에 □□ 은행이 ○○ 주택을 경매에 넘겨 ㉣병에게 3억 원에 낙찰되었다.

- ① ㉠만으로는 대항력을 갖지 못한다.
- ② ㉡을 받아두어야 우선 변제권을 확보할 수 있다.
- ③ ㉢의 내용은 등기사항전부증명서(등기부)의 을구에 기재된다.
- ④ ㉣으로 인해 □□ 은행이 갑보다 선순위 권리자가 된다.
- ⑤ ㉣에도 불구하고 갑은 계약 기간 동안 ○○ 주택에서 거주할 수 있다.

14. 밑줄 친 ㉠~㉣에 대한 설명으로 옳은 것은? [3점]

㉠10세 여자아이의 손등에 입을 맞춘 것도 강제 추행에 해당된다는 판결이 나왔다. ㉡○○ 고등법원은 13세 미만인 미성년자를 강제 추행한 혐의로 기소된 H씨에게 무죄를 선고한 원심을 파기하고, ㉢벌금 1,500만 원과 ㉣성폭력 치료 프로그램 40시간 이수를 선고했다. 재판부는 H씨의 행위가 피해자에게 성적 수치심이나 혐오감을 일으켜 선량한 성적 도덕 관념에 어긋나는 행위로 판단했다. ㉤1심 재판부는 H씨의 행위가 성적 수치심이나 혐오감을 일으키는 형사 처벌 대상으로 단정하기 어렵다는 이유로 H씨에게 무죄를 선고했었다.

- ① ㉠은 검사가 제기한 항소심에서 내려진 판결이다.
- ② 검사와 달리 H씨는 ㉠에 대하여 대법원에 상고할 수 있다.
- ③ ㉢은 지방법원 합의부가 될 수 없다.
- ④ ㉢과 ㉣ 모두 형벌에 해당한다.
- ⑤ ㉢에 비해 ㉣은 강제 추행죄의 구성 요건을 엄격하게 판단하였었다.

15. 다음의 근로 계약과 관련된 진술로 옳지 않은 것은? [3점]

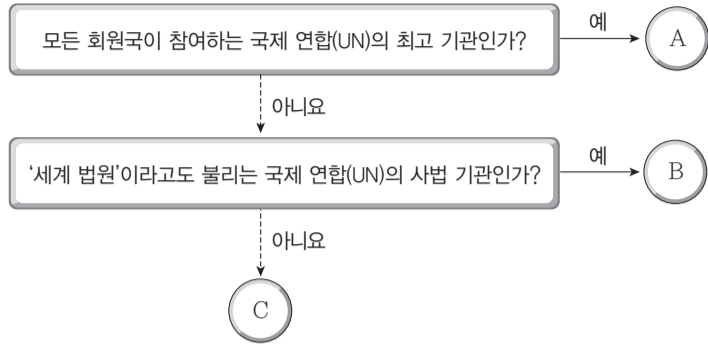
<근로 계약서>

본 계약은 사용자 갑과 근로자 을(만 17세) 간의 근로 관계에 관한 사항을 정하며, 본 계약에 명시되지 아니한 사항에 대하여는 노동관계 법령 및 당사 취업 규칙을 준용한다.

제1조 (근무 장소/지휘 감독/업무 내용)
 제2조 (근로 계약 기간)
 제3조 (임금)
 제4조 (근로 시간)

- ① 을은 법정 대리인의 동의 없이 임금을 청구할 수 있다.
- ② 을의 법정 대리인이 이 계약을 대신 체결할 수는 없다.
- ③ 갑과 을이 합의하면 1주에 6시간의 연장 근로를 할 수 있다.
- ④ 갑은 원칙적으로 취직 인허증이 있는 경우에만 을을 고용할 수 있다.
- ⑤ 을에게 최저 임금 미만의 임금을 지급하는 것은 법적으로 인정되지 않는다.

16. 그림은 국제 연합(UN)의 주요 기구를 분류한 것이다. A~C 기구에 대한 설명으로 옳지 않은 것은? (단, A~C는 각각 총회, 안전 보장 이사회, 국제 사법 재판소 중 하나이다.)



- ① A는 의사 결정 과정에서 1국 1표의 원칙을 적용한다.
- ② B는 국가 간의 분쟁을 법적으로 해결하는 사법 기관이다.
- ③ B는 15명의 재판관으로 구성되며 재판관 전원의 국적이 달라야 한다.
- ④ C는 B가 요청한 국가와 침략 국가에 대해 일정한 제재를 가할 수 있다.
- ⑤ C는 이사국 과반수의 찬성으로 의결하고 상임 이사국에게 거부권을 준다.

17. (가), (나) 사례에 대한 옳은 법적 판단만을 <보기>에서 있는 대로 고른 것은?

(가) 갑이 운영하는 자동차 정비소에서 일하고 있는 을은 정비 실수로 병이 맡긴 자동차 일부를 파손하였다.
 (나) 임차인 A는 건물 외벽에 금이 가 있는 것을 보고 수차례 건물 주인 B에게 보수를 요청하였다. B가 건물의 보수를 미루던 중 건물 외벽의 일부가 떨어져 행인 C가 크게 다쳤다.

<보 기>

ㄱ. 을은 고의가 없었음을 입증하면 배상 책임을 면할 수 있다.
 ㄴ. A가 주의 의무를 다했음을 증명하면 배상 책임을 면할 수 있다.
 ㄷ. 갑과 달리 B는 과실이 없더라도 배상 책임을 질 수 있다.
 ㄹ. 갑과 B 모두 특수 불법 행위에 따른 배상 책임을 질 수 있다.

- ① ㄱ, ㄴ ② ㄱ, ㄹ ③ ㄷ, ㄹ
- ④ ㄱ, ㄴ, ㄷ ⑤ ㄴ, ㄷ, ㄹ

18. 다음 사례에 대한 옳은 법적 판단을 <보기>에서 고른 것은? [3점]

갑은 법률혼 관계인 배우자 을, 그리고 두 사람 사이에서 태어난 병과 정, 두 사람이 혼인 후 일반 입양한 양자 무와 함께 살고 있고, 갑의 부모님 두 분은 지방에서 따로 살고 계신다. 어느 날 갑은 교통사고로 유언 없이 사망하였는데, 채무 없이 18억 원의 재산을 남겼다.

<보 기>

ㄱ. 을은 6억 원을 초과하는 금액을 상속받게 된다.
 ㄴ. 을의 상속분은 병과 정, 무의 상속분 합보다 2억 원 적다.
 ㄷ. 양자인 무의 상속분은 친생자인 병과 정, 무의 2분의 1이다.
 ㄹ. 직계 비속이 존재하므로 갑의 부모님은 상속인이 될 수 없다.

- ① ㄱ, ㄴ ② ㄱ, ㄷ ③ ㄴ, ㄷ ④ ㄴ, ㄹ ⑤ ㄷ, ㄹ

19. 표의 (가), (나) 법이 가지는 공통된 특징에 대한 옳은 설명을 <보기>에서 고른 것은?

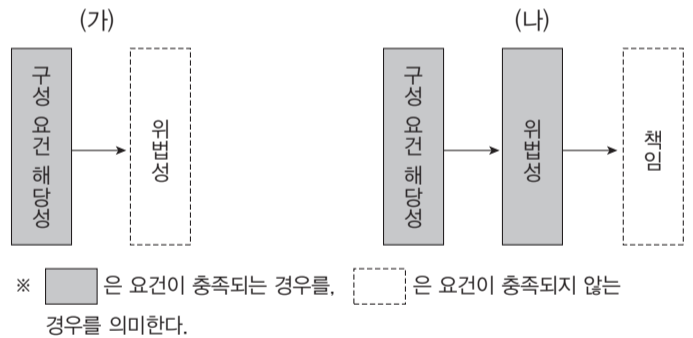
(가)	(나)
이 법은 헌법에 따라 근로 조건의 기준을 정함으로써 근로자의 기본적 생활을 보장, 향상시키며 균형 있는 국민 경제의 발전을 꾀하는 것을 목적으로 한다.	이 법은 사업자의 시장 지배적 지위의 남용과 과도한 경제력의 집중을 방지하고, …… 국민 경제의 균형 있는 발전을 도모함을 목적으로 한다.

<보 기>

ㄱ. 계약 자유의 원칙을 구현하고자 한다.
 ㄴ. 사법과 공법의 중간 영역에 해당한다.
 ㄷ. 경제생활에 대한 국가 개입의 최소화를 추구한다.
 ㄹ. 근대 자본주의의 모순을 해결하기 위해 등장하였다.

- ① ㄱ, ㄴ ② ㄱ, ㄷ ③ ㄴ, ㄷ ④ ㄴ, ㄹ ⑤ ㄷ, ㄹ

20. 범죄가 성립하지 않는 (가), (나)의 경우에 해당하는 사례만을 <보기>에서 있는 대로 고른 것은? [3점]



<보 기>

ㄱ. 돌진하는 차를 피하려다 가게 유리창을 깨뜨렸다.
 ㄴ. 6세의 어린이가 친구를 넘어뜨려서 상해를 입혔다.
 ㄷ. 심각한 정신 분열증 환자가 행인을 마구 폭행하였다.
 ㄹ. 자기 자신의 물건을 남의 물건으로 착각하고 훔쳤다.

- | | | |
|---|---------|---------|
| | (가) | (나) |
| ① | ㄱ | ㄴ, ㄷ |
| ② | ㄴ | ㄱ, ㄹ |
| ③ | ㄷ | ㄱ, ㄴ, ㄹ |
| ④ | ㄴ, ㄹ | ㄱ, ㄷ |
| ⑤ | ㄱ, ㄴ, ㄷ | ㄹ |

♣ 확인 사항
 답안지의 해당란에 필요한 내용을 정확히 기입(표기)했는지 확인하십시오.