

사회탐구 영역(사회·문화)

제 4 교시

성명

수험 번호

제 [] 선택

1

1. 밑줄 친 ㉠~㉣과 같은 현상의 일반적인 특징에 대한 설명으로 옳은 것은?

온실가스 감축이 요구됨에 따라 산림의 역할이 더욱 주목받고 있다. ㉠ 나무가 광합성 작용을 통해 대기 중 이산화 탄소를 흡수하기 때문이다. 그런데 오래된 나무는 이산화 탄소 흡수 능력이 떨어진다는 연구 결과가 있어 일부 전문가들은 ㉡ 일정 주기로 벌목을 하고 나무를 새로 심는 정책을 주장한다. 그러나 ㉢ 숲은 토양, 미생물, 동식물로 연결된 복잡한 생태계를 이루고 있는데 벌목이 이러한 생태계를 해칠 수 있다며 반대하는 입장도 있다.

- ① ㉠과 같은 현상은 개연성의 원리가 작용한다.
- ② ㉡과 같은 현상은 불가지적이다.
- ③ ㉢과 같은 현상은 상위 규범을 따른다.
- ④ ㉠과 같은 현상은 ㉡과 같은 현상에 비해 인과 관계가 명확하다.
- ⑤ ㉡과 같은 현상은 ㉢과 같은 현상과 달리 보편성을 지닌다.

2. 표는 질문에 따라 우리나라 사회 보장 제도의 유형을 구분한 것이다. 이에 대한 설명으로 옳은 것은? (단, A~C는 각각 사회 보험, 공공 부조, 사회 서비스 중 하나이다.)

구분	A	B	C
강제 가입의 원칙이 적용되는가?	㉠	㉡	㉢
(가)	㉣	㉠	㉢

* ㉠과 ㉢은 각각 '예'와 '아니요' 중 하나임.

- ① ㉠은 '예', ㉢은 '아니요'이다.
- ② C는 선별적 복지의 이념을 바탕으로 한다.
- ③ 기초 연금 제도가 A에 해당한다면, B는 사회 서비스이다.
- ④ B가 공공 부조라면, A는 금전적 지원을 원칙으로 한다.
- ⑤ (가)에 '국가와 지방 자치 단체가 비용을 전액 부담하는가?'가 들어갈 수 있다.

3. (가), (나)에 나타난 문화 변동에 대한 설명으로 옳은 것은?

(가) A국은 자석이 철을 끌어 당기는 원리를 이용하여 최초로 나침반을 만들었다. 태양과 별의 위치를 기준으로 항해를 하던 B국 사람들은 A국 상인들을 통해 나침반을 접하고 이를 원거리 항해에 활용하게 되었다.

(나) 고유한 토착 신앙을 지니고 있던 C국 사람들은 D국의 식민 지배를 받으면서 D국의 종교로 개종할 것을 강요당했다. 그러자 C국 사람들은 D국의 종교 교리와 의식에 자신들의 토착 신앙 요소를 결합시킨 새로운 신앙 체계를 만들었다.

- ① A국에서는 외계적 요인에 의한 문화 변동이 나타났다.
- ② B국에서는 자국 전파에 의한 문화 변동이 나타났다.
- ③ C국에서는 문화 융합이 나타났다.
- ④ (가)에서는 (나)에서와 달리 강제적 문화 접변이 나타났다.
- ⑤ (나)에서는 (가)에서와 달리 직접 전파가 나타났다.

4. (가), (나)에 나타난 사회·문화 현상을 보는 관점에 대한 설명으로 옳은 것은? [3점]

(가) 대중 매체는 대중에게 오락을 제공하여 스트레스를 낮추고 사회적 긴장을 완화시킴으로써 사회 집단 간 갈등을 방지하는 안전장치로 작용한다. 또한 대중 매체는 사회 전반적으로 합의된 규범과 가치를 내면화시킴으로써 사회 유지 및 통합에 긍정적으로 기여한다.

(나) 대중 매체는 정치적·경제적으로 우위에 있는 집단의 입장을 대변하고, 그렇지 못한 집단에 대한 부정적 편견을 강화한다. 이처럼 대중 매체는 편향된 사고를 내면화시켜 사람들이 기존의 질서를 무비판적으로 따르게 함으로써 사회 불평등을 정당화하는 도구로 기능한다.

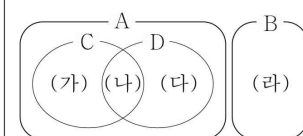
- ① (가)의 관점은 개인들의 주관적 상황 정의에 초점을 맞춘다.
- ② (나)의 관점은 사회를 유기체에 비유하여 설명한다.
- ③ (가)의 관점은 (나)의 관점과 달리 거시적 관점에서 사회·문화 현상을 설명한다.
- ④ (가)의 관점은 (나)의 관점과 달리 사회 제도가 기득권층에 유리하게 작용한다고 본다.
- ⑤ (나)의 관점은 (가)의 관점과 달리 대립과 갈등을 사회의 본질적 속성으로 본다.

5. 다음 자료에 대한 설명으로 옳은 것은? (단, A~D는 각각 공동 사회, 이익 사회, 공식 조직, 자발적 결사체 중 하나이다.) [3점]

○ 학생 갑의 활동지

[문제] 그림은 사회 집단 및 사회 조직의 유형을 나타낸다. 밑줄 친 5가지 사례를 (가)~(라)에 맞게 기입하시오.

저는 △△ 고등학교 졸업 후 □□ 기업에서 일하고 있습니다. 어렸을 때부터 여가 시간에 영화 보는 것을 좋아해 직장에서도 사내 영화 동호회에서 활동하고 있습니다. 또한 가족과 함께 시민 단체에서 꾸준히 자원 봉사를 하고 있습니다.



구분	답안
(가)	㉠
(나)	㉢
(다)	사내 영화 동호회
(라)	가족

○ 갑의 답안에 대한 교사의 평가: 5가지 사례 모두 맞게 기입함.

- ① A는 공동 사회, C는 이익 사회이다.
- ② A는 B와 달리 구성원 간 전인격적 관계가 지배적이다.
- ③ B는 C에 비해 공식적 규범에 의한 통제가 중시된다.
- ④ C와 D 모두에 해당하는 사례로 노동조합을 들 수 있다.
- ⑤ ㉠은 '□□ 기업, 시민 단체', ㉢은 '△△ 고등학교'이다.

2 (사회·문화)

사회탐구 영역

6. 밑줄 친 ㉠ ~ ㉣에 대한 옳은 설명만을 <보기>에서 고른 것은?

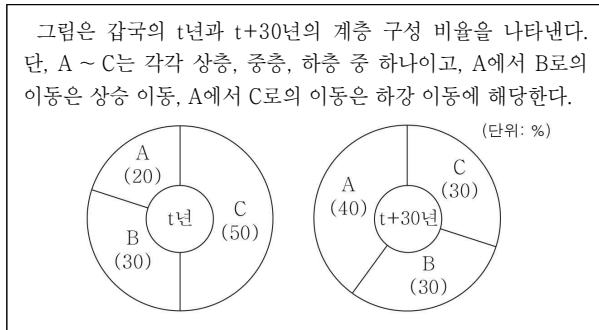
< 소설 『○○○』 줄거리 >

평범한 가문의 ㉠ **둘째 아들로** 태어난 갑은 ㉡ **법과 대학 졸업** 후에 ㉢ **지방 법원의 판사**가 되었다. 그는 신분 상승을 원하는 현실주의자로서 부유한 사업가의 딸인 을과 결혼했지만, 생활 방식의 차이로 인해 ㉣ **아내와 자주 ㉡ 말다툼**을 하였다. 이후 갑은 권력층과 인맥을 쌓아 결국 ㉢ **고위직으로 승진**을 하지만 갑작스러운 죽음을 맞는다. 갑의 장례식에서 을은 유족 연금을 더 많이 받을 방법만 궁리하며 소설이 끝난다.

- < 보 기 >
- ㄱ. ㉠은 귀속 지위, ㉡은 성취 지위이다.
 - ㄴ. ㉢은 ㉣과 달리 공식적 사회화 기관이다.
 - ㄷ. ㉣은 갑이 경험한 역할 갈등이다.
 - ㄹ. ㉢은 갑의 역할에 대한 보상이다.

① ㄱ, ㄴ ② ㄱ, ㄷ ③ ㄴ, ㄷ ④ ㄴ, ㄹ ⑤ ㄷ, ㄹ

7. 다음 자료에 대한 분석 및 추론으로 옳은 것은? [3점]



- ① t년에 상층 비율은 중층 비율의 2.5배이다.
- ② 하층 비율 대비 중층 비율은 t년이 t+30년보다 크다.
- ③ t년의 상층 중에서 t+30년에 하강 이동을 한 경우는 없다.
- ④ t년에는 t+30년과 달리 폐쇄적 계층 구조가 나타난다.
- ⑤ t+30년의 계층 구조가 t년의 계층 구조보다 사회 통합에 유리하다.

8. 일탈 행동을 보는 갑, 을의 이론적 관점에 대한 설명으로 옳은 것은?

사회자: 일부 청소년들이 비행을 저지르는 이유는 무엇일까요?
 갑: 비행을 일삼는 친구들과 어울리면서 각종 비행 방법을 습득하고 비행을 정당화하는 가치관을 학습하기 때문입니다.
 을: 사소한 잘못을 한 청소년을 주변 사람들이 포용하지 못하고 문제가로 단정지음으로써 청소년 스스로도 자신을 일탈자로 인식하기 때문에 비행을 반복해서 저지르게 됩니다.

- ① 갑의 관점은 차별적인 제재가 일탈 행동의 원인이라고 본다.
- ② 을의 관점은 2차적 일탈의 발생 과정을 설명하는 데 초점을 둔다.
- ③ 갑의 관점은 을의 관점과 달리 일탈 행동을 타인과의 상호 작용의 결과로 본다.
- ④ 을의 관점은 갑의 관점과 달리 문화적 목표와 제도적 수단 간의 괴리를 일탈 행동의 원인으로 본다.
- ⑤ 갑, 을의 관점은 모두 일탈을 규정하는 객관적 기준이 없다고 본다.

9. 밑줄 친 ㉠ ~ ㉣에 대한 옳은 설명만을 <보기>에서 고른 것은?

팬데믹으로 인한 비대면 생활의 장기화와 ㉠ **확장 현실 기술**의 발전 등이 ㉡ **대중문화**에 영향을 미치고 있다. 예전에 사람들은 ㉢ **공연을 보기** 위해 직접 공연장에 가는 것을 당연시하였지만, 최근에는 비대면 라이브 공연을 즐기는 경우가 많아지고 있다. 또한 광고나 쇼핑, 기업의 회의, 학교 수업 등도 가상 공간에서 이루어지는 사례가 늘고 있다. 이처럼 ㉣ **신기술**의 확산은 여가 생활, 경제 활동, 교육 등 다양한 분야에 변화를 일으키고 있다.

* 확장 현실 기술: 현실과 비슷한 가상 공간에서 시간의 제약 없이 소통하고 생활할 수 있게 하는 기술로, 실감 기술이라고도 함.

- < 보 기 >
- ㄱ. ㉠은 비물질문화에 해당한다.
 - ㄴ. ㉡에서의 '문화'는 넓은 의미의 문화이다.
 - ㄷ. ㉢에는 문화의 축적성이 부각되어 있다.
 - ㄹ. ㉣에는 문화의 전체성이 부각되어 있다.

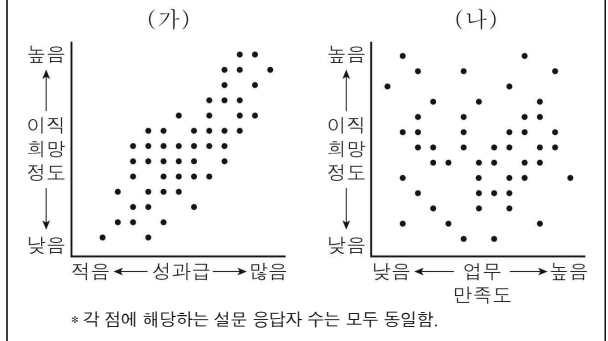
① ㄱ, ㄴ ② ㄱ, ㄷ ③ ㄴ, ㄷ ④ ㄴ, ㄹ ⑤ ㄷ, ㄹ

10. 다음 연구에 대한 옳은 설명만을 <보기>에서 있는 대로 고른 것은? [3점]

갑은 20 ~ 30대 직장인의 이직 희망 정도에 현 직장에서의 ㉠ **물질적 보상 수준** 및 ㉡ **자신의 업무에 대한 주관적 인식**이 미치는 영향을 연구하기로 하고 다음과 같은 가설을 세웠다.

<가설 1> 현 직장에서의 성과급이 많을수록 이직 희망 정도가 낮을 것이다.
 <가설 2> 현 직장에서의 업무 만족도가 높을수록 이직 희망 정도가 낮을 것이다.

이후 갑은 ㉢ **A 기업** 사원 중 연구 참여에 동의한 20 ~ 30대 사원 ㉣ **200명**을 대상으로 설문 조사를 실시하여 ㉤ **자료**를 수집하였다. 그림 (가), (나)는 자료 분석 결과를 나타낸다.



- < 보 기 >
- ㄱ. ㉠, ㉡은 모두 독립 변수이다.
 - ㄴ. ㉢은 모집단, ㉣은 표본이다.
 - ㄷ. ㉤은 1차 자료이다.
 - ㄹ. (가)는 <가설 1>을 수용하는 근거가, (나)는 <가설 2>를 기각하는 근거가 된다.

① ㄱ, ㄴ ② ㄱ, ㄷ ③ ㄴ, ㄹ
 ④ ㄱ, ㄷ, ㄹ ⑤ ㄴ, ㄷ, ㄹ

11. 갑, 을이 활용한 사회·문화 현상의 연구 방법의 일반적인 특징에 대한 설명으로 옳은 것은?

저는 고등학생의 행복 요인을 파악하기 위해 자아 존중감, 학교생활 만족도, 가족 관계 만족도 등이 행복감과 통계적으로 유의미한 상관성이 있는지 분석해 보았습니다. 갑

저는 고등학생들과 면담을 실시하여 각자의 행복과 불행의 경험에 대한 이야기를 듣고, 이를 바탕으로 이들이 행복을 어떠한 의미로 인식하는지 해석해 보았습니다. 을

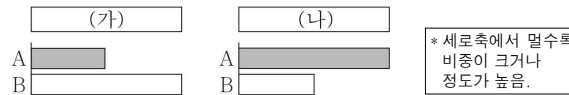
- ① 갑의 방법은 연구 대상자에 대한 감정 이입적 이해를 중시한다.
- ② 을의 방법은 변수들 간 관계에 대한 법칙 발견을 목적으로 한다.
- ③ 갑의 방법은 을의 방법과 달리 경험적 자료를 토대로 사회·문화 현상을 연구한다.
- ④ 을의 방법은 갑의 방법과 달리 개념의 조작적 정의를 필요로 한다.
- ⑤ 갑의 방법은 방법론적 일원론을, 을의 방법은 방법론적 이원론을 전제로 한다.

12. 다음에 대한 설명으로 옳은 것은? (단, A와 B는 각각 절대적 빈곤, 상대적 빈곤 중 하나이다.) [3점]

A는 최소한의 생활 유지에 필요한 자원이나 소득이 부족한 상태를, B는 사회 구성원 대다수가 누리는 일반적 생활 수준을 영위하는 데 필요한 자원이나 소득이 부족한 상태를 의미한다. 갑국에서는 가구 소득이 최저 생계비 미만이면 A 가구로, 중위 소득의 50% 미만이면 B 가구로 분류하며 모든 가구의 구성원 수는 동일하다. t년에 갑국의 전체 가구 중 B 가구에만 해당하는 가구의 비율은 5%이고, A 가구나 B 가구 어디에도 해당하지 않는 가구의 비율은 85%이다.

- ① A는 소득 수준이 높은 국가에서는 나타나지 않는다.
- ② A는 B와 달리 상대적 박탈감의 발생 원인이 될 수 있다.
- ③ 갑국에서 B는 A와 달리 객관화된 기준에 의해 규정된다.
- ④ t년에 갑국에서는 최저 생계비의 2배가 중위 소득보다 크다.
- ⑤ t년에 갑국의 전체 가구 중 A 가구와 B 가구 모두에 해당하는 가구의 비율은 10%이다.

13. 그림은 기준 (가), (나)에 따라 A, B의 일반적인 특징을 비교한 것이다. 이에 대한 설명으로 옳은 것은? (단, A와 B는 각각 산업 사회, 정보 사회 중 하나이다.)



- ① A가 정보 사회라면, (가)에는 '전자 상거래의 비중'이 들어갈 수 있다.
- ② B가 산업 사회라면, (나)에는 '사회적 관계를 맺는 공간적 제약의 정도'가 들어갈 수 있다.
- ③ (가)가 '사회의 다원화 정도'라면, A는 B에 비해 정보 생산자와 소비자 간 구분이 명확하다.
- ④ (나)가 '다품종 소량 생산 방식의 비중'이라면, B는 A에 비해 사회 변동 속도가 빠르다.
- ⑤ (가)가 '2차 산업의 비중'이라면, (나)에는 '가정과 일터의 분리 정도'가 들어갈 수 있다.

14. (가), (나)에 나타난 문화 이해의 관점에 대한 옳은 설명만을 <보기>에서 고른 것은? [3점]

- (가) 쌀을 많이 먹는다는 점에서 스페인과 우리나라의 음식 문화에는 유사성이 있다. 하지만 우리나라에서는 생쌀을 물에 불려서 밥을 짓는 반면, 스페인에서는 생쌀을 볶아서 익힌다는 점에서 조리 방식의 차이가 있다.
- (나) 늦은 시간에 저녁을 먹는 스페인의 식사 문화는 '시에스타'라는 낮잠 문화와 관련이 있다. 스페인에는 태양의 열기가 뜨거운 한낮에 잠을 자며 쉬는 풍습이 있어, 많은 상점이나 공공서가 오후에 긴 휴게 시간을 가진 후 업무를 재개한다. 이러한 근무 방식이 식사 문화에도 영향을 미친 것이다.

<보기>

- ㄱ. (가)의 관점은 자문화를 객관적으로 이해하는 데 기여한다.
- ㄴ. (나)의 관점은 문화 요소 간의 유기적 연관성을 강조한다.
- ㄷ. (가)의 관점은 (나)의 관점과 달리 문화 간의 우열을 평가할 수 있다고 본다.
- ㄹ. (나)의 관점은 (가)의 관점과 달리 문화의 보편성과 특수성을 파악하고자 한다.

- ① ㄱ, ㄴ ② ㄱ, ㄷ ③ ㄴ, ㄷ ④ ㄴ, ㄹ ⑤ ㄷ, ㄹ

15. 다음 자료에 대한 분석으로 옳은 것은? [3점]

표는 갑국의 인구 관련 통계를 나타낸다. 갑국 전체 인구는 t+30년이 t년의 2배이다. 또한 t+30년에 전체 인구 중 0~14세 인구가 차지하는 비율은 t년에 전체 인구 중 15~64세 인구가 차지하는 비율의 1/2이다.

구분	t년	t+30년
총부양비	100	㉠
노령화 지수	25	140

* 총부양비 = [(0~14세 인구 + 65세 이상 인구) / 15~64세 인구] × 100
 ** 유소년 부양비 = (0~14세 인구 / 15~64세 인구) × 100
 *** 노년 부양비 = (65세 이상 인구 / 15~64세 인구) × 100
 **** 노령화 지수 = (65세 이상 인구 / 0~14세 인구) × 100

- ① ㉠은 '125'이다.
- ② 전체 인구 중 15~64세 인구의 비율은 t년이 t+30년보다 작다.
- ③ 유소년 부양비는 t+30년이 t년보다 크다.
- ④ 노년 부양비는 t+30년이 t년의 4배 이상이다.
- ⑤ t년 대비 t+30년의 0~14세 인구 증가율은 음(-)의 값이다.

4 (사회·문화)

사회탐구 영역

16. 다음에 나타난 개인과 사회의 관계를 바라보는 관점에 부합하는 진술만을 <보기>에서 고른 것은? [3점]

개인의 성격 및 행동 양상은 그가 어떤 집단 속에 있는가에 따라 달라진다. 학교나 직장에서는 온건하게 행동하던 사람도 운동 경기 응원단이나 시위대의 일원이 되면 자신도 모르게 목청껏 구호를 외치거나 과격한 행동까지도 서슴지 않는다. 이와 같이 개인의 고유한 심성이라는 것은 존재하지 않으며, 사회 집단에 의하여 개인의 태도나 행동이 결정된다.

< 보기 >

- ㄱ. 개인의 능동성이 사회의 구속성보다 우선한다.
 ㄴ. 사회는 개인 외부에 존재하는 독립적 실체이다.
 ㄷ. 사회의 속성은 개인의 속성으로 환원될 수 없다.
 ㄹ. 사회 문제는 제도 개혁보다 의식 개선으로 해결할 수 있다.

- ① ㄱ, ㄴ ② ㄱ, ㄷ ③ ㄴ, ㄷ ④ ㄴ, ㄹ ⑤ ㄷ, ㄹ

17. 다음 자료에 대한 분석으로 옳은 것은? [3점]

표는 갑국 A, B, C 지역 각각에서 대다수 사람들이 전반적으로 향유하는 의복 문화 요소를 시기별로 나타낸 것이다. 단, 갑국은 A, B, C 지역으로만 구성되어 있다.

시기	지역	의복 문화 요소	시기	지역	의복 문화 요소
t 시기	A 지역	○, ☆	t+1 시기	A 지역	○, △
	B 지역	○, □		B 지역	△, □
	C 지역	○, △		C 지역	△, □

- ① t시기에 □를 향유하는 사람은 갑국의 주류 문화 요소를 공유하지 않는다.
 ② t시기에 ☆, △는 ○와 달리 해당 문화 요소를 공유하는 사람들의 정체성 형성에 기여한다.
 ③ t+1시기에 △는 갑국의 주류 문화 요소이다.
 ④ t+1시기에 ○는 갑국의 지배적 문화를 거부하는 문화 요소이다.
 ⑤ t+1시기에는 t시기에 비해 갑국의 의복 문화 다양성이 높아졌다.

18. 다음에 나타난 사회 변동 이론에 대한 옳은 설명만을 <보기>에서 고른 것은?

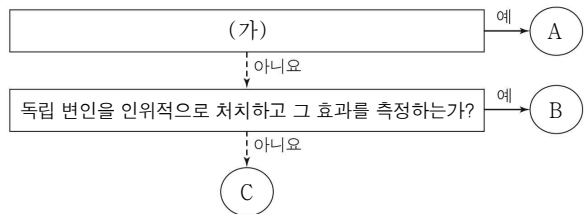
경제 성장은 비행기의 운항에 비유할 수 있다. 전통적 농업 사회는 이륙 전 단계에, 산업이 본격적으로 발전하는 과정은 비행기가 활주로를 달려 이륙하는 과정에 비유된다. 이후 비행기가 고도를 높여 자동 조종 장치로 운항하는 단계에 도달하는 것처럼, 사회는 기술 발달 수준이 높아지고 새로운 산업에 부를 재투자하는 과정을 거쳐 경제 성장의 최종 단계인 고도의 대중 소비 단계로 이행한다. 이와 같이 사회는 일정한 단계를 밟으며 발전해 간다.

< 보기 >

- ㄱ. 서구 중심적 사고라는 비판을 받는다.
 ㄴ. 사회마다 사회 변동의 방향이 다르다고 본다.
 ㄷ. 사회 변동에 의해 사회가 더 복잡하게 분화한다고 본다.
 ㄹ. 사회 변동을 동일한 과정의 주기적인 반복으로 설명한다.

- ① ㄱ, ㄴ ② ㄱ, ㄷ ③ ㄴ, ㄷ ④ ㄴ, ㄹ ⑤ ㄷ, ㄹ

19. 그림은 질문을 통해 자료 수집 방법 A~C를 구분한 것이다. 이에 대한 옳은 설명만을 <보기>에서 고른 것은? (단, A~C는 각각 실험법, 질문지법, 참여 관찰법 중 하나이다.) [3점]



< 보기 >

- ㄱ. A가 질문지법이라면, C는 자료의 실제성 확보에 유리하다.
 ㄴ. B는 A, C와 달리 계량화된 자료를 수집하는 데 활용된다.
 ㄷ. (가)에 '자료를 수집하는 데 조사 대상자의 언어적 응답이 필수적인가?'가 들어갈 수 있다.
 ㄹ. (가)가 '조사 대상자의 일상생활에 직접 참여하여 자료를 수집하는가?'라면, C는 B와 달리 문맹자에게 활용할 수 있다.

- ① ㄱ, ㄴ ② ㄱ, ㄷ ③ ㄴ, ㄷ ④ ㄴ, ㄹ ⑤ ㄷ, ㄹ

20. 다음 자료에 대한 옳은 분석 및 추론만을 <보기>에서 있는 대로 고른 것은?

표는 갑국의 임금 불평등을 파악하기 위해 t년과 t+20년의 성별 및 고용 형태별 근로자의 시간당 평균 임금을 조사한 후, 이를 토대로 분석한 자료이다. 단, 남성 정규직 근로자 시간당 평균 임금은 t+20년이 t년의 2배이다.

(단위: %)

구분	t년	t+20년	
남성 정규직 근로자 시간당 평균 임금 대비 여성 정규직 근로자 시간당 평균 임금	40	80	
정규직 근로자 시간당 평균 임금 대비 비정규직 근로자 시간당 평균 임금	전체	35	
	남	62	
	여	65	
	84	90	87

< 보기 >

- ㄱ. 여성 정규직 근로자 시간당 평균 임금은 t+20년이 t년의 4배이다.
 ㄴ. 남성 정규직 근로자와 여성 정규직 근로자 간 임금 불평등은 t+20년이 t년에 비해 심화되었다.
 ㄷ. t년 대비 t+20년 시간당 평균 임금의 증가율은 전체 정규직 근로자가 전체 비정규직 근로자보다 낮다.
 ㄹ. t년과 t+20년 모두 남성 비정규직 근로자 시간당 평균 임금이 여성 비정규직 근로자 시간당 평균 임금보다 높다.

- ① ㄱ, ㄴ ② ㄱ, ㄹ ③ ㄴ, ㄷ
 ④ ㄱ, ㄷ, ㄹ ⑤ ㄴ, ㄷ, ㄹ

※ 확인 사항

답안지의 해당란에 필요한 내용을 정확히 기입(표기)했는지 확인하십시오.