

제4교시

사회탐구 영역 (사회·문화)

성명

수험 번호

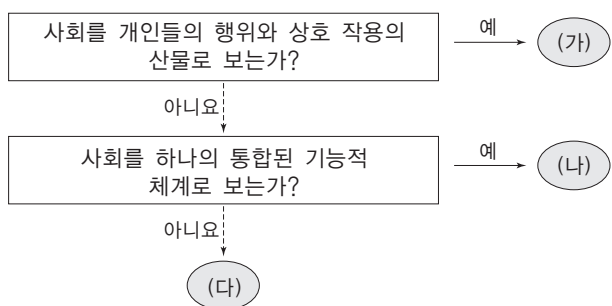


1. 밑줄 친 ㉠, ㉡과 같은 현상에 대한 설명으로 옳은 것은?

최근 '불의 고리'로 불리는 환태평양 조산대의 움직임이 심상치 않다. 일본 열도도 예외가 아니어서 각지에서 ㉠소규모 분화가 잇따르고 있다. 올해 가고시마에 있는 구치노에라부지마에서 화산이 폭발하고, 활화산 사쿠라지마 화구 주변의 분화 횟수가 5백 회를 돌파하였다. 또한, 도쿄 인근 관광 명소 하코네 산에서도 천여 차례의 화산성 지진이 관측되었다. 전국적으로 화산 활동이 갈수록 활발해지자, 일본 정부는 50개 활화산에 대한 ㉡24시간 감시 체제를 가동하는 등 긴장감을 늦추지 않고 있다.

- ① ㉠과 같은 현상은 가치 함축적이다.
- ② ㉡과 같은 현상은 필연성의 원리가 적용된다.
- ③ ㉡과 같은 현상은 존재 법칙의 지배를 받는다.
- ④ ㉠과 달리 ㉡과 같은 현상은 특수성을 가진다.
- ⑤ ㉡과 달리 ㉠과 같은 현상은 인과 관계를 가진다.

2. 그림의 (가)~(다)는 사회·문화 현상을 보는 관점을 나타낸 것이다. 이에 대한 설명으로 옳지 않은 것은? (단, (가)~(다)는 각각 기능론, 갈등론, 상징적 상호 작용론 중 하나이다.)



- ① (가)는 인간이 상황 정의에 따라 행동한다고 본다.
- ② (나)는 사회적 합의를 통한 질서 유지를 중시한다.
- ③ (다)는 갈등이 사회 변동의 원동력이 된다고 본다.
- ④ (다)는 (나)에 대해 기득권층의 이익을 대변한다고 비판한다.
- ⑤ (가), (다)와 달리 (나)는 개인의 주관적 세계에 초점을 맞춘다.

3. 다음 연구 사례에 대한 옳은 분석만을 <보기>에서 있는 대로 고른 것은? [3점]

- 연구 가설: 아버지와의 유대감이 높은 고등학생일수록 학업 성취 수준이 높을 것이다.
- 자료 수집
 - A시에 소재하는 고등학교 10개교 선정
 - 각 학교에서 1학년 2개 학급씩 무작위 추출
 - 질문지를 사용하여 아버지와의 1일 평균 대화 시간 조사
 - 해당 학교의 협조를 얻어 전국연합학력평가 통계 자료 분석
- 자료 분석 결과
 - 아버지와의 1일 평균 대화 시간이 많은 학생일수록 학력평가 백분위가 높음을 확인하였다.
- 결론 도출
 - 아버지와의 유대감이 높을수록 자녀의 학업 성취 수준이 높다.

<보 기>

- ㄱ. 양적 연구 방법과 질적 연구 방법이 병행되었다.
- ㄴ. 독립 변인과 종속 변인에 대한 개념이 조작되었다.
- ㄷ. 가설에서 변인 간 음(-)의 상관관계가 설정되었다.
- ㄹ. 설문 표본 집단의 모집단에 대한 대표성이 부족했다.

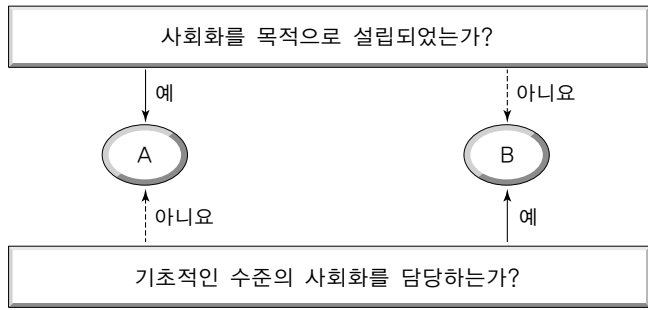
- ① ㄱ, ㄴ ② ㄴ, ㄹ ③ ㄷ, ㄹ
- ④ ㄱ, ㄴ, ㄷ ⑤ ㄱ, ㄷ, ㄹ

4. (가)~(다)는 김치 연구에 사용된 자료 수집 방법을 나타낸 것이다. 이에 대한 설명으로 옳지 않은 것은?

(가)	(나)	(다)
산촌촬영, 산림경제, 임원십육지 등 김치 관련 고문서를 찾아 김치가 우리 전통 음식으로 정착하게 된 과정을 알아본다.	일부 가정을 방문하여 김장하는 법과 김장하는 과정에서 구성원의 역할과 상호 작용을 보고 기록한다.	김치 전문가로 알려진 몇 사람을 만나 김치가 갖는 현대적 의미와 김치의 세계화 방안에 대해 묻고 대답을 듣는다.

- ① (가)는 2차 자료의 수집 시에 유용하다.
- ② (나)는 실제성 있는 자료를 확보하기에 유용하다.
- ③ (다)는 소수로부터 심층적 정보를 얻기에 유리하다.
- ④ (나)와 (다)는 연구자의 주관이 개입될 우려가 있다.
- ⑤ (나), (다)와 달리 (가)는 질적 연구에서 사용될 수 없다.

5. 그림의 A, B는 사회화 기관을 나타낸 것이다. 이에 대한 옳은 설명을 <보기>에서 고른 것은?



<보기>

- ㄱ. 대중 매체는 A에 해당한다.
- ㄴ. 재사회화는 주로 B에 의해 이루어진다.
- ㄷ. A보다 B가 개인의 인성 형성에 중요한 역할을 한다.
- ㄹ. 산업화의 진전은 B보다 A의 역할을 강화하는 요인이다.

- ① ㄱ, ㄴ ② ㄱ, ㄷ ③ ㄴ, ㄷ ④ ㄴ, ㄹ ⑤ ㄷ, ㄹ

6. 밑줄 친 ㉠~㉣에 대한 설명으로 옳지 않은 것은? [3점]

페이스북에 입사한 A의 이야기는 엔지니어를 대하는 ㉠기업 문화의 차이를 잘 보여준다. A는 미국 명문 대학을 ㉡우수한 성적으로 졸업하였다. 졸업 후 구글, 페이스북 등에서 잇따라 입사 제의를 받고 A는 행복한 ㉢고민에 빠졌다. 선뜻 진로를 결정하지 못하고 망설이자 페이스북 ㉣인사 담당자는, A에게 회사의 2인자인 세릴 샌드버그와의 통화를 주선했다. ㉤여성으로서 대기업 경영인으로 발탁되어 유명세를 타고 있던 세릴 샌드버그에게 입사 권유를 받은 A는 결국 ㉥페이스북을 선택했다고 한다.

- ① ㉠은 하위문화의 한 유형으로 볼 수 있다.
- ② ㉡은 A의 성공적인 역할 수행을 보여준다.
- ③ ㉢은 A가 직면한 역할 갈등 상황을 나타낸다.
- ④ ㉣과 달리 ㉤은 귀속 지위에 해당한다.
- ⑤ ㉥으로 인해 A에게 페이스북은 준거 집단이 될 수 있다.

7. 표는 A 사회 구성원들의 의식을 조사한 결과이다. A 사회 구성원 다수가 개인과 사회의 관계를 보는 관점에 부합하는 진술을 <보기>에서 고른 것은?

질문	'그렇다' 고 응답한 비율
국가는 개인의 자연권 보장을 위한 수단이다.	75%
공익을 명분으로 개인의 권리를 제한하는 것은 옳지 않다.	80%
사회 문제의 해결에서 제도 개선보다 의식 개혁이 중요하다.	78%

<보기>

- ㄱ. 집합적 속성은 개인적 속성의 총합과 같다.
- ㄴ. 사회는 개인들의 집합체에 붙여진 이름에 불과하다.
- ㄷ. 사회 현상은 개인의 심리적 현상으로 환원될 수 없다.
- ㄹ. 개인의 행위는 사회 구조의 영향으로부터 자유롭지 않다.

- ① ㄱ, ㄴ ② ㄱ, ㄷ ③ ㄴ, ㄷ ④ ㄴ, ㄹ ⑤ ㄷ, ㄹ

8. 다음 사례에 대한 옳은 분석을 <보기>에서 고른 것은? [3점]

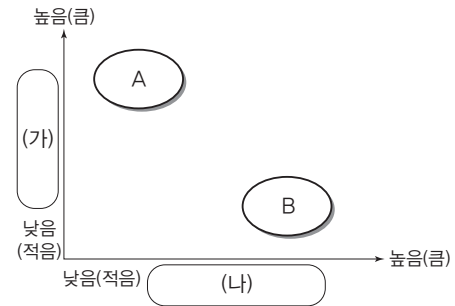
A는 2005년 말 불법 게임장을 차려 2년여 만에 92억여 원을 벌어들였다. 내친 김에 게임 개발업체를 직접 차려 불법 게임 프로그램을 만들어 게임장을 운영하고 체인점도 모집하면서 이 업계에서 유명 인사로 발돋움했다. A는 2006년 몽골에 특급 호텔을 짓고 이듬해 호텔 운영을 시작하여 큰 성공을 거두었다. 그러나 그의 성공 가도는 길게 이어지지 못했다. 몽골 호텔 건설 자금 16억 원이 환치기 수법으로 우리나라에서 빠져나간 정황이 검찰에 포착되었고, 수사 과정에서 불법 게임장 영업을 한 사실도 드러나 징역 3년에 추징금 92억여 원을 선고받고 파산하였다.

<보기>

- ㄱ. 일탈 형성 이론 중 낙인 이론을 적용할 수 있다.
- ㄴ. 세대 내 상승 이동과 하강 이동이 모두 나타난다.
- ㄷ. 아노미 이론을 적용할 수 있는 일탈 행동 사례이다.
- ㄹ. 사회 이동의 유형 중 구조적 이동이 나타난 사례이다.

- ① ㄱ, ㄴ ② ㄱ, ㄷ ③ ㄴ, ㄷ ④ ㄴ, ㄹ ⑤ ㄷ, ㄹ

9. 그림은 사회 조직의 유형 A, B를 알아보기 위한 것이다. 이에 대한 옳은 설명을 <보기>에서 고른 것은? (단, A, B는 각각 관료제 조직과 탈관료제 조직 중 하나이다.) [3점]



<보기>

- ㄱ. (가)가 '과업 수행의 자율성' 이라면 A는 관료제 조직이라고 할 수 있다.
- ㄴ. (나)가 '의사 결정권의 분산' 이라면 B는 탈관료제 조직이라고 할 수 있다.
- ㄷ. A가 탈관료제 조직이라면 (나)에는 '인간 소외의 가능성' 이 들어갈 수 있다.
- ㄹ. B가 관료제 조직이라면 (가)에는 '목적 전치의 가능성' 이 들어갈 수 있다.

- ① ㄱ, ㄴ ② ㄱ, ㄷ ③ ㄴ, ㄷ ④ ㄴ, ㄹ ⑤ ㄷ, ㄹ

10. 다음은 사회 집단 A~C의 관계를 나타낸 것이다. 이에 대한 설명으로 옳지 않은 것은? (단, A~C는 각각 공식 조직, 비공식 조직, 자발적 결사체 중의 하나이다.) [3점]

- A는 반드시 B를 배경으로 존재한다.
- A는 모두 C에 해당하지만, 모든 C가 A는 아니다.
- B 중에는 C에 해당하는 것도 있고 해당하지 않는 것도 있다.

- ① A는 B 내에서의 긴장감과 소외감 해소에 기여한다.
- ② A와 B가 동시에 한 사람의 내집단이 될 수도 있다.
- ③ C는 가입과 탈퇴가 자유로우며 구성원의 열의가 높다.
- ④ B에 비해 C는 1차 집단과 2차 집단의 성격이 혼재되어 있다.
- ⑤ A~C가 각각 이익 사회에 해당하는 경우는 존재할 수 없다.

11. 다음 각 자료에서 강조하는 문화 연구의 관점 (가), (나)에 대한 옳은 설명만을 <보기>에서 있는 대로 고른 것은?

(가) 문화 인류학자는 자기 사회의 결혼 의례만이 아니라 여러 사회의 결혼 의례를 살펴볼 필요가 있다. 그래야 각 사회의 결혼 관행이 가지는 차이와 공통점을 파악할 수 있다.

(나) 문화 인류학자는 그 사회의 가족과 친족 관계, 생태학적·인구학적 조건, 계급 구조와 권력 관계, 종교적 의례와 신앙 등과 의 연관 속에서 결혼 관행을 파악하고 이해해야 한다.

<보기>

ㄱ. (가)는 문화의 보편성과 특수성의 이해에 유용하다.

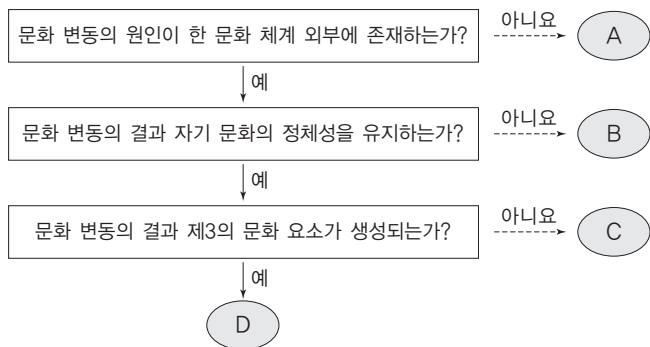
ㄴ. (나)는 문화 요소 간의 유기적 연관성을 전제로 한다.

ㄷ. (나)와 달리 (가)는 문화 지체 현상의 이해에 도움이 된다.

ㄹ. (가), (나) 모두 자문화 중심주의적 편견을 줄이는 데 기여한다.

- ① ㄱ, ㄴ ② ㄴ, ㄷ ③ ㄷ, ㄹ
- ④ ㄱ, ㄴ, ㄹ ⑤ ㄱ, ㄷ, ㄹ

12. 그림은 문화 변동의 유형 또는 양상을 나타낸 것이다. A~D에 대한 설명으로 옳은 것은? [3점]



- ① A가 활성화된 사회일수록 문화 사대주의가 강화된다.
- ② B는 다문화주의 정책이 추구하는 목표에 부합한다.
- ③ C의 예로 김치 피자와 같은 퓨전 요리의 등장을 들 수 있다.
- ④ C는 문화 공존, D는 문화 융합에 해당하는 문화 변동이다.
- ⑤ D와 달리 B는 자문화 중심주의가 강한 사회에서 주로 나타난다.

13. 다음 두 사례에서 공통적으로 부각된 문화의 속성을 나타낸 진술로 가장 적절한 것은?

○ 요즘 청소년들이 즐겨 사용하는 신조어에 대해 기성세대는 잘 알지 못해 당황스러움을 느끼는 경우가 많다.

○ 라오스에서는 음력 설날에 서로에게 물을 뿌리는 행동을 한다. 이방인들에게는 낯설지만 이는 라오스 사람들에게는 묵은 것을 씻어버리는 의미를 갖는다.

- ① 문화는 후천적 학습에 의해 형성되는 것이다.
- ② 문화는 구성원들이 공통적으로 가지는 생활양식이다.
- ③ 문화는 시간의 경과에 따라 그 형태나 의미가 변한다.
- ④ 문화는 세대가 흐르면서 더욱 풍부해지는 경향을 가진다.
- ⑤ 문화는 여러 구성 요소들이 상호 유기적으로 결합된 전체이다.

14. 표의 사회 불평등 현상을 나타내는 두 개념 A, B의 일반적 특징에 대한 설명으로 옳은 것은?

구분	개념	
	A	B
생산 수단의 소유 여부만을 기준으로 서열화된 위치를 나타내는 개념인가?	예	아니요
(가)	예	아니요

- ① A는 범주가 서열적·연속적으로 구분된다고 본다.
- ② B는 범주 간의 관계를 지배와 피지배의 관계로 파악한다.
- ③ A는 B와 달리 사회 이동의 가능성이 자유로움을 강조한다.
- ④ A는 B와 달리 동일 범주 구성원 간의 강한 귀속 의식을 강조한다.
- ⑤ (가)에는 '지위 불일치를 설명하기에 용이한 개념인가?'가 들어갈 수 있다.

15. 자료에 대한 옳은 분석만을 <보기>에서 있는 대로 고른 것은? [3점]

○ 1980년 A 지역 아버지의 중층 대비 상층의 비율은 0.5, 중층 대비 하층의 비율은 3.5이고, 2010년 A 지역 아버지의 중층 대비 상층의 비율은 0.5, 중층 대비 하층의 비율은 1이다.

○ 1980년과 2010년 A 지역 아버지와 장남의 계층적 지위는 아래 표와 같다.

(단위: %)

계층 \ 연도	아버지	상층			중층			하층		
	장남	상층	중층	하층	상층	중층	하층	상층	중층	하층
1980년		70	20	10	20	50	30	10	30	60
2010년		50	30	20	30	40	30	20	50	30

<보기>

ㄱ. 1980년 아버지의 계층 구조에서 하층은 상층의 7배이다.

ㄴ. 2010년 장남의 계층 구조에서 하층이 차지하는 비율이 가장 높다.

ㄷ. 모든 계층에서 1980년보다 2010년의 계층 세습 비율이 낮아졌다.

ㄹ. 장남의 계층 구조는 피라미드형에서 다이아몬드형으로 변화되었다.

- ① ㄱ, ㄴ ② ㄴ, ㄷ ③ ㄷ, ㄹ
- ④ ㄱ, ㄴ, ㄹ ⑤ ㄱ, ㄷ, ㄹ

16. 밑줄 친 ㉠~㉣에 대한 설명으로 옳지 않은 것은?

정치권의 합의대로 ㉠국민 연금 급여율(소득 대체율)을 현행 40%에서 50%로 상향 조정하더라도 그 ㉡실질적 효과는 미미할 것이라는 지적이 나오고 있다. 65세 이상의 노인들 가운데 소득과 재산이 적은 70%에게 지급되는 ㉢기초 연금의 사용 실태를 보면 이를 알 수 있다. 국민 연금 연구원과 한국 조세 연구원이 지난해 11월 기초 연금 수급자 500명을 상대로 사용 실태를 설문 조사한 결과, ㉣응답자의 44.2%가 기초 연금의 대부분을 '보건 의료비'에 지출했다. 이런 현실을 반영하듯 설문 조사에서 응답자들은 기초 연금 수령 후 가장 큰 변화로 '병원에 가는 것에 대한 부담이 줄었다(55.0%)'를 꼽았다.

- ① ㉠은 의무 가입과 능력별 비용 부담 원칙이 적용된다.
- ② ㉡의 핵심 내용 중 하나로 노후 경제생활의 안정을 들 수 있다.
- ③ ㉢은 노인에게 생활 자금을 제공하는 공공 부조 형태의 사회 안전망이다.
- ④ ㉣은 ㉠과 달리 보편적 복지를 실현하는 제도적 방안의 하나이다.
- ⑤ ㉣은 건강 보험의 보장성 강화가 국민 연금의 실효성을 높이는 방안임을 보여준다.

17. 표는 기초 생활 보장 제도의 수급자 선정 기준의 변화를 나타낸 것이다. 이에 대한 분석으로 옳은 것은? [3점]

현재	개선안	
최저 생계비 100% (166만 8,329원) 이하 가구	생계	중위 소득의 28% 이하 가구(118만 2,309원)
	주거	중위 소득의 43% 이하 가구(191만 5,689원)
	의료	중위 소득의 40% 이하 가구(168만 9,013원)
	교육	중위 소득의 50% 이하 가구(211만 1,266원)

- ① 생계 급여를 받을 수 있는 가구는 증가한다.
- ② 교육 급여를 받을 수 있는 가구는 감소한다.
- ③ 월 소득이 160만 원인 가구는 현재와 달리 의료 급여 대상이 된다.
- ④ 월 소득이 200만 원인 가구는 개선안에서 교육 급여 대상이 아니다.
- ⑤ 중위 소득이 최저 생계비의 2배이면 주거 급여 대상 가구는 감소한다.

18. 표의 A 사회와 B 사회에 대한 설명으로 옳은 것은? (단, A 사회와 B 사회는 각각 산업 사회와 정보 사회 중 하나이다.)

구분	지배적인 생산 방식		
	자본과 노동	소품종 대량 생산	다품종 소량 생산
부가 가치 창출의 원천	지식과 정보	A 사회	B 사회

- ① A 사회보다 B 사회에서 피상적 인간관계가 널리 퍼진다.
- ② A 사회보다 B 사회에서 일방향 통신 매체의 비중이 높다.
- ③ A 사회와 달리 B 사회에서 가정과 직장의 분리 현상이 심하다.
- ④ A 사회와 달리 B 사회에서는 수직적 위계 질서가 중시된다.
- ⑤ B 사회보다 A 사회에서 개인의 개성과 다원적 가치가 존중된다.

19. 밑줄 친 ㉠~㉣에 대한 옳은 설명만을 <보기>에서 있는 대로 고른 것은? [3점]

유교적인 질서를 보존하고 외국 세력 및 문물의 침투를 배척한 ㉠위정 척사론을 내세운 세력이 실권하고 1876년 일본과 강화도 조약을 체결한 뒤에 조선에서는 서양에 대한 관심이 높아졌다. 하지만 정부와 주요 지식인들의 개화에 대한 인식은 전통적인 사상과 문화는 유지하면서 서양의 기술과 기기 등만을 선택적으로 수용하자는 ㉡동도 서기론을 중심으로 하였다. 그러나 1880년대에 이르러 급진 개화파들을 중심으로 ㉢문명 개화론이 확산되었다. 이들은 인간 사회가 미개·반개화·문명 개화의 단계로 발전한다고 보고, “개화라고 하는 것은 인간의 온갖 사물이 가장 아름다운 경지에 이른 것”이라고 주장하였다.

<보 기>

㉠. ㉠은 서구 문화에 대해 배타적인 입장이다.
 ㉡. ㉡은 단선적 진화론의 입장에서 개화를 인식한다.
 ㉢. ㉢과 달리 ㉣은 기술을 사회 변동의 원인으로 본다.
 ㉣. ㉠과 달리 ㉡, ㉢은 사회 변동의 필요성에 공감하였다.

- ① ㉠, ㉡ ② ㉡, ㉢ ③ ㉢, ㉣
- ④ ㉠, ㉡, ㉣ ⑤ ㉠, ㉢, ㉣

20. 다음 자료를 보고 학생들이 나눈 대화로 적절하지 않은 것은? [3점]

취업 포털 ○○○이 직장인 570명을 대상으로 '회사 내 유리 천장이 있다고 생각하는가?' 라는 설문 조사를 실시한 결과 전체 응답자의 71.6%가 '있다'고 응답하였고, 성별로는 남성 응답자의 64.4%와 여성 응답자의 80.4%가 '있다'고 응답하였다. 유리 천장이 '있다'고 응답한 사람들을 대상으로 '그렇게 생각하는 이유(복수 응답)'를 조사한 결과는 위의 표와 같다.

남성 중심의 문화가 있어서	45.6%
주요 업무를 남성이 주로 맡아서	39.7%
여성 고위직 비율이 적어서	32.6%
남성의 승진이 더 빨라서	29.9%
남성의 임금이 더 높아서	25.0%

*유리 천장: 현대 직장 여성들이 승진의 사다리를 오를 때마다 일정 단계에 이르면 부딪히게 되는 보이지 않는 장벽을 비유함.

- ① 경제적 측면의 성 불평등 현상이 존재함을 보여주고 있어.
- ② 양성 평등 의식의 내면화는 개인적 차원의 대책이 될 수 있어.
- ③ 여성 승진 할당제의 도입은 사회적 차원의 대책이 될 수 있어.
- ④ 남성 응답자보다 여성 응답자가 성 차별적 제도의 존재에 민감하군.
- ⑤ 전체 응답자의 1/4이 '임금의 차이'를 유리 천장의 존재 이유로 들었군.

♣ 확인 사항
 답안지의 해당란에 필요한 내용을 정확히 기입(표기)했는지 확인하십시오.