

제 4 교시

사회탐구 영역(사회·문화)

성명		수험번호				2			제 () 선택
----	--	------	--	--	--	---	--	--	----------

1. 밑줄 친 ㉠~㉣과 같은 현상의 일반적인 특징에 대한 설명으로 옳은 것은?

인류는 ㉠ 연구와 실험을 통해 질병의 위협에 대처하기 위해 노력해 왔다. 의료계와 과학계는 최근 발생한 바이러스 질환에 대응하기 위해 ㉡ 치료제와 백신을 개발하기 위한 연구 체계를 구축했다. 특히 바이러스 유전자 정보를 세포막에 침투시켜 ㉢ 우리 몸이 이에 반응하여 항체를 만드는 과정을 유도하는 백신은 향후 최근 발생한 바이러스 질환의 종식을 앞당길 것이라는 기대를 낳고 있다.

- ① ㉠과 같은 현상은 인간의 의지가 개입되어 나타난다.
- ② ㉡과 같은 현상은 인과 관계가 존재하지 않는다.
- ③ ㉢과 같은 현상은 가치 함축성을 지닌다.
- ④ ㉣과 같은 현상은 ㉢과 같은 현상에 비해 예측이 용이하다.
- ⑤ ㉢과 같은 현상은 ㉠과 같은 현상과 달리 특수성이 나타난다.

2. 다음 자료에서 게임 규칙에 따라 말을 이동시켰을 때, 말의 최종 도착 지점으로 옳은 것은? [3점]

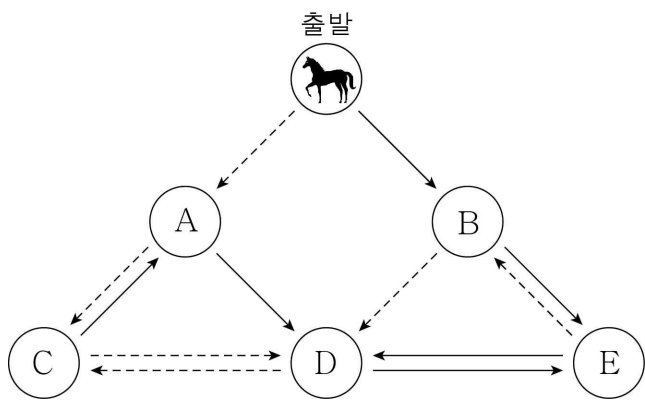
■ 게임 규칙

- 진술 (가)~(다)의 옳고 그름을 차례대로 판단한다.
- 각 진술이 옳으면 말을 실선 화살표(→)를 따라 한 지점만 이동시키고, 틀리면 점선 화살표(---->)를 따라 한 지점만 이동시킨다.

(가) 문화 상대주의는 문화 다양성을 유지하는 데 기여할 수 있다.

(나) 자문화 중심주의는 자기 문화의 정체성을 상실할 우려가 크다.

(다) 문화 사대주의는 자기 문화의 우월성을 바탕으로 다른 사회의 문화를 열등하다고 본다.



- ① A ② B ③ C ④ D ⑤ E

3. 사회 불평등 현상을 바라보는 다음의 관점에 부합하는 진술만을 <보기>에서 고른 것은?

직업이나 업무에 따라 보수가 차등적으로 지급되는 것은 당연하다. 만약 모두가 동일한 보수를 받는다면 굳이 많은 훈련과 교육이 필요한 직업이나 업무를 맡으려는 사람은 없을 것이며, 결과적으로 사회 전체의 효율성이 떨어지게 된다.

- < 보 기 > —
- ㄱ. 소득 격차는 제거해야 할 대상이다.
 - ㄴ. 차등 분배는 개인의 성취동기를 자극한다.
 - ㄷ. 상대적으로 더 중요한 직업이나 업무가 있다.
 - ㄹ. 사회 불평등은 지배층의 기득권 유지를 위한 수단이다.

- ① ㄱ, ㄴ ② ㄱ, ㄷ ③ ㄴ, ㄷ ④ ㄴ, ㄹ ⑤ ㄷ, ㄹ

4. 그림은 수업 시간의 판서 내용이다. 이 수업의 주제로 가장 적절한 것은?

주제 : _____

- (1) 결혼과 출산에 대한 인식 변화
- (2) 자녀 양육비 및 교육비 증가
- (3) 의료 기술 발달에 따른 기대 수명 상승

- ① 고령화의 영향
- ② 다문화 사회의 영향
- ③ 결혼 문화의 변화 양상
- ④ 저출산·고령화의 원인
- ⑤ 세계화 및 정보화의 영향

5. 개인과 사회의 관계를 바라보는 다음의 관점에 부합하는 진술만을 <보기>에서 고른 것은? [3점]

사회는 개인들의 단순한 집합체가 아니라 그 자체로서 하나의 생명을 가진 존재이다. 내가 속한 사회는 내가 태어나기 이전에 이미 존재해 왔고, 내가 죽은 다음에도 존속해 나갈 것이다. 또한 우리 개개인이 사회에 영향을 미치는 것보다 훨씬 강력하게 사회가 개개인에게 영향을 미친다.

- < 보 기 > —
- ㄱ. 사회의 모습은 개인들의 의지에 의해 결정된다.
 - ㄴ. 사회는 개인의 외부에 실제로 존재하는 실체이다.
 - ㄷ. 사회는 개인의 목표를 실현시켜 주는 수단에 불과하다.
 - ㄹ. 사회는 개개인의 특성과는 다른 독자적인 특성이 있다.

- ① ㄱ, ㄴ ② ㄱ, ㄷ ③ ㄴ, ㄷ ④ ㄴ, ㄹ ⑤ ㄷ, ㄹ

6. 갑국과 을국의 문화 변동에 대한 설명으로 옳은 것은?

○ 갑국은 강대국의 식민 지배를 받아 기존의 고유 문자가 사라지고 강대국의 문자만을 사용하게 되었다.
 ○ 을국에서는 기존의 토속 신앙에 이민족의 침입을 받아 유입된 종교가 결합되어 새로운 ○○ 종교가 나타났다.

- ① 갑국에서는 자발적 문화 접변이 나타났다.
- ② 을국에서는 문화 변동으로 자문화의 정체성이 사라졌다.
- ③ 갑국에서는 을국과 달리 문화 병존이 나타났다.
- ④ 을국에서는 갑국과 달리 문화 융합이 나타났다.
- ⑤ 을국에서는 갑국과 달리 강제적 문화 접변이 나타났다.

7. 사회·문화 현상의 탐구 태도와 관련하여 다음 글의 내용에 부합하는 진술만을 <보기>에서 고른 것은? [3점]

사회·문화 현상을 온전히 이해하려면 그 사회의 구조와 맥락 속에서 바라보아야 한다. 왜냐하면 동일해 보이는 사회·문화 현상일지라도 각 사회마다 가지는 고유한 의미가 다를 수 있기 때문이다. 예를 들어, 몸에 문신을 하는 행위는 어느 사회에서는 금기시되거나 문체시되지만 어느 사회에서는 자연스러운 행위로 인식되기도 한다.

— < 보 기 > —

ㄱ. 상대주의적 태도를 가져야 한다.
 ㄴ. 경험적 증거에 따라 제3자의 입장에서 바라보아야 한다.
 ㄷ. 특정 사회로부터 얻은 연구 결과를 다른 사회에 무조건 적용해서는 안 된다.
 ㄹ. 연구 과정에서 연구 윤리를 제대로 지키고 있는지 연구자 스스로 되짚어 보아야 한다.

- ① ㄱ, ㄴ ② ㄱ, ㄷ ③ ㄴ, ㄷ ④ ㄴ, ㄹ ⑤ ㄷ, ㄹ

8. 밑줄 친 ㉠~㉣에 대한 옳은 설명만을 <보기>에서 고른 것은? [3점]

㉠ 막내아들로 태어난 갑은 초등학교 시절에는 ㉡ 아버지의 영향을 받아 축구 선수를 꿈꿨다. 그러나 고등학교 때 영화배우라는 직업에 매력을 느끼고 연극 영화과로 진학하여 현재 ㉢ 연기를 열심히 배우고 있다. 어느 날 지도 ㉣ 교수의 정규 수업과 가족 모임의 시간이 겹치게 되어 갑은 ㉤ 어디에 참석해야 할지 고민 중이다.

— < 보 기 > —

ㄱ. ㉠은 자신의 의지나 노력에 관계없이 주어지는 지위이다.
 ㄴ. ㉡은 갑의 역할 갈등이다.
 ㄷ. ㉢과 달리 ㉣은 성취 지위이다.
 ㄹ. ㉤은 갑이 ㉠으로서 하는 역할 행동이다.

- ① ㄱ, ㄴ ② ㄱ, ㄷ ③ ㄴ, ㄷ ④ ㄴ, ㄹ ⑤ ㄷ, ㄹ

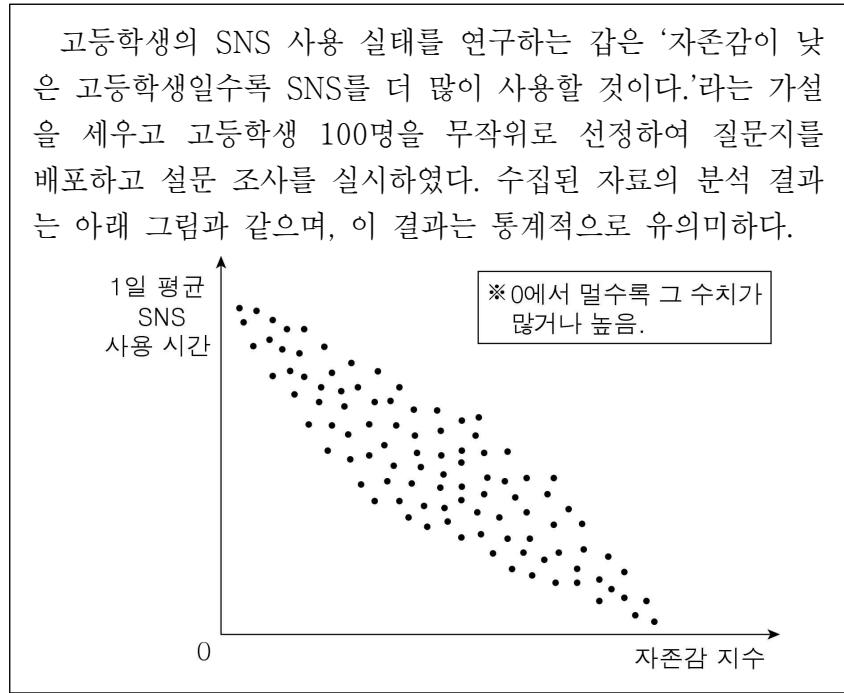
9. 다음 글이 주장하는 바로 가장 적절한 것은?

개인의 행복에 영향을 미치는 요소는 다양하다. 질 높은 주거 환경, 물질적 풍요, 정치 참여를 통한 만족감, 서로의 삶을 배려하는 도덕적 실천 등은 모두 개인의 행복감을 좌우할 수 있다. 그런데 이러한 요소들은 개인이 성장하면서 그저 얻어지는 것이 아니라, 개인들이 사회 구성원과의 상호작용을 통해 사회생활에 필요한 지식, 기술, 규범, 가치 등을 학습해야만 얻을 수 있는 것이다. 예를 들어, 어떤 사람이 물질적 풍요의 충족을 위해 직장을 구하는 상황을 생각해 보자. 일반적으로 회사는 구성원들과의 원활한 상호작용이 가능한 사람을 채용하려 하기 때문에 사회생활에 필요한 지식, 기술, 규범, 가치 등을 학습하지 않은 사람은 회사에 채용되기 어려울 것이다.

- ① 사회화는 지배 집단의 이익을 위한 도구이다.
- ② 사회화는 개인이 행복한 삶을 누리기 위한 바탕이 된다.
- ③ 가정에서 이루어지는 원초적 사회화가 성인기의 행복감을 결정한다.
- ④ 사회 구조에 얽매이지 않는 자유로운 개인만이 행복을 누릴 수 있다.
- ⑤ 사회화는 개개인의 자아실현이 아니라 사회 전체의 질서 유지를 위한 것이다.

10. 다음 연구에 대한 옳은 설명만을 <보기>에서 고른 것은?

[3점]



ㄱ. 통계 자료를 활용하여 연구를 수행하였다.
 ㄴ. 자료 분석 결과에 따르면 가설은 수용된다.
 ㄷ. SNS 사용 시간이 자존감에 미치는 영향을 알아보고자 하였다.
 ㄹ. 다수를 대상으로는 사용할 수 없는 자료 수집 방법을 활용하였다.

- ① ㄱ, ㄴ ② ㄱ, ㄷ ③ ㄴ, ㄷ ④ ㄴ, ㄹ ⑤ ㄷ, ㄹ

11. 다음 사례에서 밑줄 친 (가)에 들어갈 내용으로 가장 적절한 것은? [3점]

여론 조사 기관 A사는 ○○시의 시장 선거에서 후보자 갑과 을 중 누가 당선될지를 예측하고자 하였다. 이를 위해 A사는 ○○시 주민들에게 집 전화로 설문을 실시하여 1,000건의 응답을 얻었는데, 그 결과 후보자 갑에 대한 지지율이 70%를 보였기 때문에 갑이 무난하게 당선될 것이라고 예측하였다. 그런데 실제 선거에서는 을이 60%의 득표율로 ○○시장에 당선되었다. A사가 당선자 예측에 실패한 가장 큰 이유는 _____ (가) _____ 때문이었다. 당시 ○○시의 유권자 인구 구성은 노년층이 50%, 청장년층이 50%였는데, 청장년층은 휴대폰만을 사용하고 집 전화를 설치하지 않았다. 따라서 주로 후보자 을을 지지하던 청장년층의 표심이 전화 설문 조사에 반영될 수 없었던 것이다.

- ① 조사 대상자의 수가 너무 적었기
- ② 계량화된 자료의 분석에만 치중하였기
- ③ 편향된 질문을 통해 특정 방향으로 응답을 유도하였기
- ④ 전체 유권자의 특성을 대표할 수 없는 표본을 대상으로 조사하였기
- ⑤ 조사자의 편견과 주관이 개입되기 쉬운 자료 수집 방법을 사용하였기

12. 밑줄 친 ㉠, ㉡에 대한 옳은 설명만을 <보기>에서 고른 것은? (단, 갑국의 모든 가구의 구성원 수는 동일하다.) [3점]

㉠ 절대적 빈곤은 인간이 최소한의 생활을 유지하기 어려울 정도로 자원이나 소득이 부족한 상태를 의미한다. ㉡ 상대적 빈곤은 다른 사람에 비해 자원이나 소득이 상대적으로 부족하여 사회 구성원 다수가 누리는 생활수준을 영위하지 못하는 상태를 의미한다. 갑국의 경우 가구 소득이 최저 생계비 미만인 가구를 절대적 빈곤 가구로, 중위 소득의 50% 미만인 가구를 상대적 빈곤 가구로 파악한다.
* 중위 소득: 전체 가구를 소득 순으로 나열하였을 때 한가운데 위치하는 가구의 소득


< 보 기 >

ㄱ. ㉠은 소득 수준이 높은 국가에서는 발생하지 않는다.
 ㄴ. ㉡은 개인이 주관적으로 인식하는 빈곤이다.
 ㄷ. ㉠, ㉡에 해당하는지를 판단할 때 기준이 되는 소득 금액은 시대에 따라 달라질 수 있다.
 ㄹ. 갑국에서 ㉡에 해당하는 가구 수가 ㉠에 해당하는 가구 수보다 많을 경우 최저 생계비는 중위 소득의 50% 미만이다.

- ① ㄱ, ㄴ ② ㄱ, ㄷ ③ ㄴ, ㄷ ④ ㄴ, ㄹ ⑤ ㄷ, ㄹ


13. 그림은 어느 고등학교의 학생회장 선거 홍보물이다. 밑줄 친 ㉠~㉣에 대한 설명으로 옳은 것은? [3점]

기호 1번 ○○○



<주요 경력 및 활동>
 * 현 ㉠ 학생회 홍보부 차장
 * ㉡ 동물 보호 시민 단체의 봉사 활동에 ㉢ 가족과 함께 매월 참가.

기호 2번 △△△



<주요 경력 및 활동>
 * 현 ㉣ 학급 회장
 * ㉤ □□시 청소년 합창단의 단원으로 자선 공연에 매년 참가.

- ① ㉠은 자연 발생적으로 형성된 사회 집단이다.
- ② ㉡은 가입과 탈퇴가 자유로운 사회 집단이다.
- ③ ㉢은 사회화를 목적으로 결성된 사회 집단이다.
- ④ ㉣은 1차 집단이자 공동 사회이다.
- ⑤ ㉤은 기초적인 수준의 사회화를 담당하는 기관이다.

14. 다음 두 사례의 문화 변동 과정에서 공통적으로 나타난 부작용으로 옳은 것은?

○ A국에서는 도로와 자동차 수가 급증하였지만, 그에 맞는 국민들의 교통 규범 준수 의식이 형성되지 못하여 사회 문제가 되고 있다.
 ○ B국에서는 인터넷의 발달로 온라인 쇼핑이 보편화되면서 택배 물량이 크게 증가하였지만, 택배 노동자의 인권을 보호하는 제도가 마련되지 않아 사회 문제가 되고 있다.

- ① 물질문화의 변동으로 인해 개인 간 소득 격차가 나타났다.
- ② 정보 통신 기술의 발달로 인해 문화의 다양성이 약화되었다.
- ③ 문화 요소 간 변동 속도의 차이로 인해 사회 문제가 나타났다.
- ④ 문화 변동 과정에서 특정 직업의 종사자가 피해를 보고 있다.
- ⑤ 물질문화의 변동 속도가 비물질 문화의 변동 속도를 따라가지 못하여 사회 문제가 나타났다.

15. 갑국과 을국에서 나타난 문화 변동 양상에 대한 옳은 설명만을 <보기>에서 고른 것은?

○ 갑국에서는 도자기의 재료가 되는 흙을 새로운 방식으로 가공하는 기술이 발명되어 국내에 널리 퍼졌다.
 ○ 갑국과 을국의 교역 과정에서 갑국의 도공을 통해 전달된 갑국의 도자기 제작 기술이 을국에 널리 퍼졌다.

< 보 기 >

ㄱ. 갑국에서는 기존에 없던 문화 요소가 만들어졌다.
 ㄴ. 을국에서는 간접 전파를 통해 문화가 변동되었다.
 ㄷ. 갑국에서는 을국과 달리 내재적 요인으로 인해 문화가 변동되었다.
 ㄹ. 을국에서는 갑국의 일방적인 문화 전파 의지에 의해 문화가 변동되었다.

- ① ㄱ, ㄴ ② ㄱ, ㄷ ③ ㄴ, ㄷ ④ ㄴ, ㄹ ⑤ ㄷ, ㄹ

16. 밑줄 친 부분에 부각되어 있는 문화의 속성으로 옳은 것은?

갑국의 다양한 동호회 문화는 다원주의를 지향하는 국민들의 의식 그리고 발달된 정보 통신 기술과 밀접하게 관련되어 있다. 다양한 분야의 가치와 목표를 최대한 존중해야 한다는 갑국 국민들의 의식은 각종 동호회가 자유롭게 형성될 수 있는 기반이 된다. 또한 갑국은 세계 최고 수준의 인터넷 통신망이 구축되어 있어 개인들이 다양한 인터넷 동호회에 쉽게 참여할 수 있다.

- ① 문화는 후천적으로 학습되는 것이다.
- ② 문화는 세대 간 전승되어 새로운 요소가 더해진다.
- ③ 문화는 시간이 흐르면서 그 형태나 내용이 변화한다.
- ④ 문화는 여러 구성 요소들이 상호 유기적으로 결합되어 있다.
- ⑤ 문화는 한 사회 구성원 다수가 공통적으로 지니는 생활 양식이다.

17. 그림은 원격 수업의 한 장면이다. 밑줄 친 (가)에 들어갈 말로 가장 적절한 것은? (단, A와 B는 각각 산업 사회, 정보 사회 중 하나이다.)



- ① 2차 산업의 비중이 높습니다.
- ② 사회 변동의 속도가 느립니다.
- ③ 사회의 다원화 정도가 낮습니다.
- ④ 구성원 간의 익명성 정도가 낮습니다.
- ⑤ 가정과 일터의 결합 정도가 높습니다.

18. 밑줄 친 ㉠, ㉡에 대한 설명으로 옳은 것은?

○ ○○ 환경 단체는 미세 먼지 문제를 해결하기 위해 ㉠ 탈석탄 운동을 전개하였다. 이를 위해 관련 법률의 제정을 촉구하는 서명 운동을 실시하였고, 정부에 석탄 화력 발전소의 조기 폐쇄를 요구하는 집회도 개최하였다.
○ △△국에서는 범죄 혐의를 받던 흑인이 경찰의 과잉 대응으로 사망하자, '흑인의 생명도 소중하다(BLACK LIVES MATTER)'라는 구호를 내걸고 흑인에 대한 차별 철폐를 요구하는 ㉡ 흑인 인권 운동이 조직적으로 전개되었다.

- ① ㉠은 사회적 소수자의 권리 보장을 목적으로 한다.
- ② ㉡은 기존의 사회 질서를 유지하려는 사회 운동이다.
- ③ ㉠은 ㉡과 달리 활동을 정당화하는 이념을 바탕으로 한다.
- ④ ㉡은 ㉠과 달리 목표 달성을 위한 구체적인 수단이 있다.
- ⑤ ㉠, ㉡은 모두 사회 변화를 이끌어 내기 위한 집단행동이다.

19. 다음 두 사례에 대한 설명으로 옳은 것은? [3점]

○ 갑국에서는 고등 교육 기회에서 오랜 기간 소수 민족이 받아 왔던 차별을 해소하기 위해 신입생 정원의 5% 이상을 소수 민족 학생으로 충원할 경우 해당 대학에 보조금을 지원하는 제도를 시행하고 있다.
○ 을국에서는 장애인 고용을 촉진하기 위해 공기업의 총 고용 인원 중 장애인이 4% 미만일 경우 해당 공기업에 과태료를 부과하는 제도를 시행하고 있다.

- ① 갑국에서는 사회 불평등을 사회적 관점에서 접근하지 못하고 있다.
- ② 을국은 사회 제도의 개선보다 개인의 의식 개혁을 통해 차별을 해소하고자 한다.
- ③ 갑국은 을국과 달리 보상보다는 제재를 통해 제도의 목적을 달성하고자 한다.
- ④ 을국에서는 갑국과 달리 역차별 문제의 발생 소지가 없다.
- ⑤ 갑국과 을국 모두 사회적 소수자에 대한 적극적 우대 조치를 시행하고 있다.

20. 다음은 수업의 한 장면이다. ㉠, ㉡에 대한 옳은 설명만을 <보기>에서 고른 것은? [3점]

교사: 다음 힌트가 설명하는 우리나라의 복지 제도를 알아맞혀 보세요. 힌트를 듣고 정답을 알면, 먼저 손을 들고 '정답!'이라고 외쳐 주세요.

힌트 1. 이 제도는 국가와 지방 자치 단체의 재정으로 제도 시행에 소요되는 비용 전액을 부담합니다.

학생 1: 정답! ㉠ 입니다.
교사: 오답입니다. ㉠은 사회 보험에 해당합니다.

힌트 2. 이 제도는 생활이 어려운 사람에게 필요한 급여를 제공하여 이들의 최저 생활을 보장하고 자활을 돕는 것을 목적으로 합니다.

학생 2: 정답! ㉡ 입니다.
교사: 네, 정답입니다.

— < 보 기 > —
㉠. ㉠은 사회적 위험을 사전에 대비하기 위한 것이다.
㉡. ㉡은 공공 부조에 해당한다.
㉢. ㉠과 달리 ㉡의 수혜자는 모든 국민이다.
㉣. ㉡과 달리 ㉠은 빈부 격차를 줄이는 데 기여한다.

- ① ㉠, ㉡ ② ㉠, ㉢ ③ ㉡, ㉣ ④ ㉡, ㉣ ⑤ ㉢, ㉣

* 확인 사항
○ 답안지의 해당란에 필요한 내용을 정확히 기입(표기)했는지 확인하십시오.