

제 4 교시

직업탐구 영역(상업 경제)

성명		수험번호				3				제 () 선택
----	--	------	--	--	--	---	--	--	--	----------

1. 표는 경제 주체 A~C를 구분한 것이다. 이에 대한 설명으로 적절한 것만을 <보기>에서 고른 것은? (단, A~C는 가계, 기업, 정부 중 각각 하나이다.)

특징 \ 경제 주체	A	B	C
민간 경제를 구성하는 주체인가?	예	아니요	예
생산물 시장에서 재화나 용역을 공급하는가?	예	아니요	아니요
(가)	아니요	예	아니요

< 보 기 >
 ㄱ. A는 효용의 극대화를 추구한다.
 ㄴ. A는 C에 지대, 이자, 임금을 지급한다.
 ㄷ. B는 C에 생산 요소를 제공한다.
 ㄹ. (가)에는 '공공 서비스를 제공하는가?'가 들어갈 수 있다.

- ① ㄱ, ㄴ ② ㄱ, ㄷ ③ ㄴ, ㄷ
 ④ ㄴ, ㄹ ⑤ ㄷ, ㄹ

2. 다음은 ○○(주)에 대한 컨설팅 보고서이다. [방안 제안]에 적용된 경영 혁신 방법으로 가장 적절한 것은? [3점]

컨설팅 보고서

[현재 상황]
 • ○○(주)는 외식 산업 시장에서 시장 점유율 2위를 차지하고 있으나 외식 산업 시장의 성장률이 정체되어 이에 따른 대응 전략이 요구됨.

[방안 탐색]
 • 1안: 고객 상담 업무를 전문 기관에 위탁하여 고객 서비스를 강화하도록 함.
 • 2안: 기존 호텔 업체를 인수하여 호텔 산업에 새롭게 진출함으로써 사업 구조를 재구성하는 방식으로 시장 위험을 회피하도록 함.

[방안 제안]
 • 탐색한 방안 중 대응 전략으로 2안을 제안함.

- ① 벤치마킹 ② 아웃소싱 ③ 다운사이징
 ④ 전략적 제휴 ⑤ 리스트럭처링

[3~4] 다음은 ○○(주)의 업무 회의 대화 내용이다. 물음에 답하시오.

○ A 부장: 우리 회사의 설비가 노후화되어 불량품 발생률이 증가하고 있습니다.
 ○ 사장: 품질 관리가 중요하니 노후된 설비를 전면 교체하도록 하세요. 설비 교체에 필요한 자금을 신속하게 조달하기 위해서는 어떤 방법이 좋을까요?
 ○ B 부장: 담보 없이 신용으로 대규모의 자금을 조달할 수 있고, 금리도 은행 대출보다 일반적으로 유리한 기업 어음(CP)을 발행하는 것이 좋겠습니다.
 ○ 사장: 네, 그렇게 하도록 하세요.

3. 위 내용에 나타난 기업의 부문별 활동으로 적절한 것만을 <보기>에서 고른 것은?


< 보 기 >
 ㄱ. 생산 관리 ㄴ. 재무 관리
 ㄷ. 마케팅 관리 ㄹ. 인적 자원 관리

- ① ㄱ, ㄴ ② ㄱ, ㄷ ③ ㄴ, ㄷ
 ④ ㄴ, ㄹ ⑤ ㄷ, ㄹ

4. 위 회의에 따라 ○○(주)가 조달할 자금을 대한 설명으로 옳은 것은? [3점]

- ① 조달할 자금은 소비 금융에 해당한다.
 ② 장기 금융 시장을 통하여 자금을 조달한다.
 ③ 직접 금융 시장을 통하여 자금을 조달한다.
 ④ 자기 자본을 늘리는 방식으로 자금을 조달한다.
 ⑤ 만기가 있는 자본 증권을 발행하여 자금을 조달한다.

5. 다음은 한국은행의 통화 정책에 관한 뉴스이다. (가)에 해당하는 통화 신용 정책으로 적절한 것만을 <보기>에서 고른 것은? (단, 시중 통화량만 고려한다.) [3점]



한국은행은 (가) 을/를 결정했습니다. 이와 같은 결정은 국내에서 높은 물가 상승이 지속되어 고물가 상황이 고착되는 것을 막기 위한 정책이라고 설명했습니다.

< 보 기 >
 ㄱ. 기준 금리 인상
 ㄴ. 지급 준비율 인하
 ㄷ. 통화 안정 증권 발행
 ㄹ. 시중 은행에 대한 대출 총액 확대

- ① ㄱ, ㄴ ② ㄱ, ㄷ ③ ㄴ, ㄷ
 ④ ㄴ, ㄹ ⑤ ㄷ, ㄹ

상업 경제

6. 다음은 A 학생의 유통 기관 탐방 보고서이다. 이에 나타난 유통 기관에 대한 설명으로 적절한 것만을 <보기>에서 고른 것은?

유통 기관 탐방 보고서

작성자: A

1. 탐방 기관: ○○유통
2. 탐방 목적: 점포 소매상의 특징 조사
3. 조사 내용
 - 가. 위치: 교통이 편리하고 유동 인구가 밀집된 지역
 - 나. 주 취급 상품: 고가의 전문품 및 선매품
 - 다. 매장 구성: 상품 계열별로 매장이 구획됨.

< 보 기 >

- ㄱ. 박리다매 방식으로 판매한다.
- ㄴ. 시간과 공간의 제약을 받지 않는다.
- ㄷ. 유통 기관 중 분산 기관에 해당한다.
- ㄹ. 점포 내 다수 매장을 운영하며 고급 서비스를 제공한다.

① ㄱ, ㄴ ② ㄱ, ㄷ ③ ㄴ, ㄷ
 ④ ㄴ, ㄹ ⑤ ㄷ, ㄹ

7. 다음은 ○○교통공사 광고문의 일부이다. 이에 나타난 경쟁 매매 방식에 대한 설명으로 옳은 것은?

사업 공고

○○교통공사가 운영하는 지하철역의 역명 병기* 사업에 참여할 기관을 다음과 같이 모집합니다.

1. 사업명: 지하철 역명 병기 유상 판매
2. 적용 범위: 역사 외부, 대합실, 전동차 내 노선도 등
3. 선정 방법: 공개 경쟁 입찰

*역명 병기: 개별 지하철 역사의 기존 역명에 부역명을 추가로 기입해 나타내는 것

- ① 최고 가격을 제시한 업체가 낙찰받는다.
- ② 다수의 판매자와 1인의 구매자 간의 거래이다.
- ③ 상품거래소에서 상품을 매매할 때 주로 이용된다.
- ④ 가격 제시 방법은 적상법 또는 적하법이 사용된다.
- ⑤ 판매자와 구매자 간 동시 경쟁으로 가격이 결정된다.

8. 다음 대화에서 컨설턴트의 제안에 나타난 무역 형태로 옳은 것은?

20년 넘게 다니던 무역 회사를 그만두었는데 제 경험을 살려 창업하려고 합니다. 어떤 업종이 좋을까요?

직장 경험을 살려 해외의 수출업자와 해외의 수입업자 간 거래를 알선하고 그 대가로 수수료를 받는 무역업을 제안합니다.



컨설턴트

- ① 구상 무역 ② 삼각 무역 ③ 중개 무역
- ④ 중계 무역 ⑤ 통과 무역

9. 다음은 ○○(주)와 △△(주)의 무역 계약에 대한 내용이다. 이에 대한 설명으로 옳은 것은? (단, 제시된 자료 외의 것은 고려하지 않으며, 가격 조건은 인코텀스 2010에 의한다.) [3점]

○○(주)는 △△(주)와 CIF 가격 조건으로 무역 계약을 체결하였고, 계약 조건에 따라 가입한 보험 증권 일부는 다음과 같다.

해상 적하 보험 증권			
보험 계약자	○○(주)	피보험자	△△(주)
보험 금액	US \$11,000	보험 조건	ICC(A)
선적항	인천	도착항	뉴욕

- ① 해상 운임은 ○○(주)가 부담한다.
- ② 해상 적하 보험료는 △△(주)가 부담한다.
- ③ 보험 사고 시 보험금은 ○○(주)가 수령한다.
- ④ 가격 조건은 복합 운송에 사용되는 방식이다.
- ⑤ 전쟁, 파업 등으로 인해 발생한 손해를 보상받을 수 있다.

10. 다음은 수요와 공급에 관한 내용이다. ㉠~㉣의 경제 현상을 분석 및 추론한 것으로 적절한 것만을 <보기>에서 고른 것은? (단, 제시된 자료 외에는 고려하지 않는다.) [3점]

어떤 물건이 ㉠수요보다 공급이 많거나 아니면 공급보다 수요가 많은 것을 알아낼 수 있다면, 곧 가격이 오를 것인가 아니면 떨어질 것인가를 능히 알 수 있을 것입니다. 가격이 일정한 수준을 넘어 오르게 되면 ㉡가격이 곧 떨어지게 되고, 가격이 일정한 수준을 넘어 떨어지게 되면 ㉢가격이 곧 오르게 되는 법입니다.


- 사마천, 『사기』 -

< 보 기 >

- ㄱ. ㉠에서는 초과 공급 현상이 나타난다.
- ㄴ. ㉠에 따라 재화의 가격이 상승할 것이다.
- ㄷ. ㉡은 공급의 증가가 원인이 되어 나타나는 결과이다.
- ㄹ. ㉢에 따라 수요의 증가가 발생할 것이다.

- ① ㄱ, ㄴ ② ㄱ, ㄷ ③ ㄴ, ㄷ
- ④ ㄴ, ㄹ ⑤ ㄷ, ㄹ

[11~12] 다음은 고용노동부 보도 자료의 일부이다. 물음에 답하시오.

 고용노동부	보도 자료	
	보도 일시	2020. 6. 29.

2020년 7월 1일부터 산업 재해 보상 보험의 가입 대상이 확대됩니다. 이에 따라 가정 또는 사업체를 방문하여 상품이나 서비스를 판매하는 「방문판매법」에 따른 방문 판매원도 가입 대상이 됩니다.

방문 판매원과 근로 계약을 맺은 사업주는 해당 사실을 8월 15일까지 근로복지공단에 신고하여야 합니다.

11. 위 자료에 나타난 보험에 대한 설명으로 옳은 것은?

- ① 저축성 기능을 가진다.
- ② 정액 보험에 해당한다.
- ③ 산업 정책 보험에 해당한다.
- ④ 근로자의 업무상 재해에 대해 보상한다.
- ⑤ 보험 가액에 비례하여 보험금이 결정된다.

12. 위 자료에 나타난 피보험자의 판매 방식으로 적절한 것만을 <보기>에서 있는 대로 고른 것은? [3점]

< 보 기 >

ㄱ. 점포 내에 상품을 배치하여 고객의 구매를 촉진한다.
 ㄴ. 고객이 원하는 시간과 장소에서 판매 활동을 수행한다.
 ㄷ. 인적 네트워크를 활용한 소개 판매 활동이 이루어진다.

- ① ㄱ ② ㄷ ③ ㄱ, ㄴ
- ④ ㄴ, ㄷ ⑤ ㄱ, ㄴ, ㄷ

13. 다음 경영 사례 보고서에 나타난 ○○(주)의 해외 진출 방식에 대한 설명으로 옳은 것은?

경영 사례 보고서

떡볶이 무한 리필 매장을 운영하는 ○○(주)는 국내 흥행에 힘입어 해외 시장에 진출하였고, 7년 만에 싱가포르 등 7개국에서 해외 프랜차이즈 점포 100개를 개점하며 성공적으로 안착하는 해외 진출 사례를 보임.

- ① 배당금이나 이자 수익을 목적으로 한다.
- ② 경영에 직접 참여하는 것을 목적으로 한다.
- ③ 해외 특정 기업의 경영 활동을 대행하고 대가를 받는다.
- ④ 상호의 사용권, 제품 판매권을 제공하고 수수료를 받는다.
- ⑤ 해외 기업에 자사가 요구하는 제품을 생산하도록 하고 마케팅은 자사가 실시한다.

14. 다음의 수행 평가 답안지에 나타난 지급 수단에 대한 설명으로 적절한 것만을 <보기>에서 고른 것은? (단, A~C는 자기앞 수표, 당좌수표, 환어음 중 각각 하나이다.) [3점]

[문제] 대금 지급 수단의 특징에 대해 서술하시오.
 [채점 기준] 각 지급 수단에 대한 각각의 서술 내용이 맞을 때마다 1점씩 부여함.

[답안지]

지급 수단	특징	받은 점수
A	• 발행인과 지급인이 모두 은행이다. • 은행이 대금 지급을 보증한다.	2점
B	• 지급인의 인수 절차가 필요하다. • (가)	2점
C	• 당좌 예금 잔액과 당좌 차월 계약 금액 한도 내에서 발행한다. • 후급 방식의 결제 수단이다.	(나)

< 보 기 >

ㄱ. A는 당좌 예금 가입자가 은행을 지급인으로 발행한다.
 ㄴ. C의 부도 가능성은 2회이다.
 ㄷ. (가)에는 '발행인이 지급인을 지명한다.'가 들어갈 수 있다.
 ㄹ. (나)는 '1점'이다.

- ① ㄱ, ㄴ ② ㄱ, ㄷ ③ ㄴ, ㄷ
- ④ ㄴ, ㄹ ⑤ ㄷ, ㄹ

15. 다음은 경상 수지와 관련된 수업 장면이다. 교사의 질문에 대한 학생의 답변으로 옳은 것만을 <보기>에서 고른 것은? [3점]

A국의 월별 경상 수지 자료입니다. 5월과 비교하여 6월의 경상 수지를 설명해 볼까요?

항목	상품 수지	서비스 수지	본원소득 수지	이전소득 수지	합계
5월	22	10	-5	8	35
6월	XX	8	-6	10	36

< 보 기 >

ㄱ. 상품 수출액과 상품 수입액의 차액이 속하는 수지가 감소하였습니다.
 ㄴ. 지식 재산권 사용료가 속하는 수지의 흑자 폭은 축소되었습니다.
 ㄷ. 임금, 이자, 배당금 등이 속하는 수지의 적자 폭은 축소되었습니다.
 ㄹ. 개인 송금이 속하는 수지의 증감액은 상품 수지의 증감액과 동일합니다.

- ① ㄱ, ㄴ ② ㄱ, ㄷ ③ ㄴ, ㄷ
- ④ ㄴ, ㄹ ⑤ ㄷ, ㄹ

16. 다음은 ○○(주)의 이사회 회의록이다. 이에 나타난 무형 재화로 가장 적절한 것은?

이사회 회의록

- 안건: 신규 사업 부문 진출에 따른 △△(주) 인수
- 결의 사항
공정 가치 평가액이 50억 원인 비상장 기업 △△(주)의 미래 가치에 따라 예상되는 초과 수익을 반영하여 10억 원을 추가로 지급하고 60억 원으로 경영권을 인수하기로 함.

- ① 상표권 ② 영업권 ③ 저작권
- ④ 특허권 ⑤ 실용신안권

17. 다음의 ○○(주)가 도입하고자 하는 물류 정보 시스템으로 가장 적절한 것은?

[○○(주)의 현재 상황]

- 비효율적인 배차 관리로 공차율이 증가함.
- 배송 차량 위치 정보가 제공되지 않아 고객 불편이 발생함.

[개선 방향]

- ○○(주)는 여러 가지 대안을 검토한 결과, 차량 운행 정보를 실시간으로 파악하고 휴대용 단말기로 차량의 위치를 추적하는 시스템을 도입하기로 함.

- ① 유넷로드 시스템(ULS)
- ② 창고 관리 시스템(WMS)
- ③ 전자 문서 교환(EDI) 시스템
- ④ 판매 시점 정보(POS) 시스템
- ⑤ 첨단 화물 운송(CVO) 시스템

18. 다음은 매장에서 판매 실습 중인 학생의 실습 일지 일부이다. 실습 평가자가 (가)~(다) 단계에서 평가할 항목으로 적절한 것만을 <보기>에서 고른 것은?

산업체 현장 실습 일지

- 실습 기관명: ○○유통 • 현장 실습생: A
- 일자: 2022년 10월 6일 • 실습 평가자: B

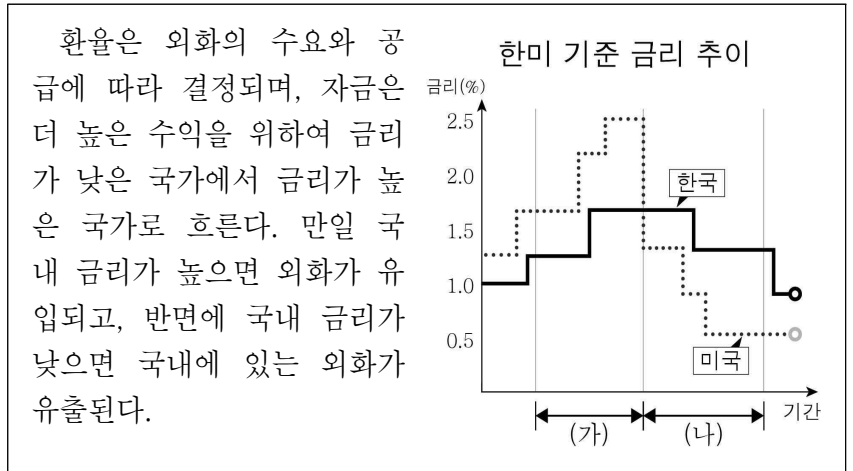
실습 단계	시간	실습 내용
(가) 판매 지원 점검	9:00~9:30	매장 청결 상태를 확인함.
(나) 판매 준비 점검	9:30~10:00	매장 진열 상태를 확인함.
(다) 상품 설명	10:00~17:00	고객에게 맞춤 상품을 제시함.

< 보 기 >

- ㄱ. (가)에서 고객에게 상품 편익을 설명하였는지 확인한다.
- ㄴ. (나)에서 업무 전달 사항을 숙지하였는지 확인한다.
- ㄷ. (다)에서 비품과 소모품을 점검하였는지 확인한다.
- ㄹ. (가)와 (나)를 통해 영업 준비를 완료하였는지 확인한다.

- ① ㄱ, ㄴ ② ㄱ, ㄷ ③ ㄴ, ㄷ
- ④ ㄴ, ㄹ ⑤ ㄷ, ㄹ

19. 다음의 기준 금리 변동에 따른 (가), (나) 구간의 환율 변화를 유추하고, 이에 따라 한국의 입장에서 취할 수 있는 합리적인 경제 활동으로 적절한 것만을 <보기>에서 고른 것은? (단, 기준 금리만 고려한다.) [3점]



< 보 기 >

- ㄱ. (가) 구간 내에서는 달러화 표시 외채 상환을 연기한다.
- ㄴ. (가) 구간 내에서는 수입 시 후급 방식보다 상환급 방식으로 무역 계약을 추진한다.
- ㄷ. (나) 구간 내에서는 직원의 미국 해외 연수를 연기한다.
- ㄹ. (나) 구간 내에서는 대미 수출 상품의 가격 경쟁력이 상승하기 때문에 수출 물량을 늘린다.

- ① ㄱ, ㄴ ② ㄱ, ㄷ ③ ㄴ, ㄷ
- ④ ㄴ, ㄹ ⑤ ㄷ, ㄹ

20. 표는 ○○(주)의 무역 대금 결제 방식에 따른 구성비를 나타낸 것이다. 2020년 대비 2021년의 대금 결제 방식에 대한 설명으로 옳은 것만을 <보기>에서 고른 것은? (단, 제시된 자료 외의 것은 고려하지 않는다.) [3점]

(단위 : %)

대금 결제 방식	2020년 구성비	2021년 구성비
COD & CAD	22	23
D/A	19	15
D/P	15	20
L/C	At sight	22
	Usance	22
계	100	100

< 보 기 >

- ㄱ. 상환급 방식의 결제 비중은 높아졌다.
- ㄴ. 송금 방식에 의한 결제 비중은 낮아졌다.
- ㄷ. 일람 출급 환어음을 이용한 결제 비중은 변동이 없다.
- ㄹ. 발행 은행이 환어음의 지급인이 되는 결제 방식의 비중은 높아졌다.

- ① ㄱ, ㄴ ② ㄱ, ㄷ ③ ㄴ, ㄷ
- ④ ㄴ, ㄹ ⑤ ㄷ, ㄹ

* 확인 사항

- 답안지의 해당란에 필요한 내용을 정확히 기입(표기)했는지 확인하십시오.