

# 사회탐구 영역(사회·문화)

제 4 교시

성명

수험 번호

3

제 [ ] 선택

1

1. 밑줄 친 ㉠ ~ ㉣과 같은 현상의 일반적인 특징에 대한 설명으로 옳은 것은?

인도양의 섬에 사는 세이셀 올새는 ㉠ 여러 세대가 함께 무리 생활을 하며, 곤경에 처한 구성원을 돕는 동물로 알려져 있다. 세이셀 올새가 사는 지역에는 ㉡ 끈적거리는 씨앗을 맺는 일명 ‘새잡이 나무’가 있어, 새가 이 끈끈한 씨앗 문치에 얽혀 죽음을 맞기도 한다. 그런데 세이셀 올새는 구성원이 이 나무에 얽히면 자신의 위험을 무릅쓰고 구조에 나서서 깃털에 달라붙은 끈끈한 씨앗을 함께 떼어 준다고 한다. ㉢ 새들의 생태를 관찰한 연구자들은 이러한 이타적 행동이 집단과 개체 모두의 생존에 기여할 수 있다고 설명한다.

- ① ㉠과 같은 현상은 당위 규범을 따른다.
- ② ㉡과 같은 현상은 확률의 원리가 작용한다.
- ③ ㉢과 같은 현상은 가치 함축적이다.
- ④ ㉡과 같은 현상은 ㉢과 같은 현상과 달리 경험적 자료를 통해 연구할 수 있다.
- ⑤ ㉢과 같은 현상은 ㉠과 같은 현상에 비해 인과 관계가 명확하다.

2. 자료 수집 방법 A, B의 일반적인 특징에 대한 설명으로 옳은 것은?

[3점]

<조사 계획서>

○○ 모듬

- 조사 주제: 우리나라의 연령대별 고용 현황
- 자료 수집 및 분석 계획  
고용 여부, 고용 형태 등을 묻는 구조화된 질문지를 제작하여 조사 대상자 200명에게 응답을 기입하게 한 후, 이 응답 자료를 연령대별로 비교할 계획임.

---

<교사의 조언>

위와 같은 주제에 대한 표본 조사의 경우 연령, 성별, 지역 등 다양한 요인을 고려하여 모집단의 특성을 대표할 수 있게 표본을 추출하는 것이 중요합니다. 따라서 ○○ 모듬이 자료 수집 방법으로 선택한 A보다는 B를 활용하여 통계청 자료 등 이미 발표된 공식적 자료를 수집하는 게 효율적이겠네요.

- ① A는 조사 대상자의 일상생활을 직접 관찰하여 자료를 수집한다.
- ② A는 자료 수집 시 조사 대상자의 반응에 따라 질문 내용과 형식을 유연하게 제시하기 용이하다.
- ③ B는 기존의 연구 동향이나 성과를 파악하는 데 유용하다.
- ④ A는 B에 비해 시·공간적 제약을 적게 받는다.
- ⑤ B는 A와 달리 조사 대상자의 주관적 인식에 관한 자료를 수집할 수 있다.

3. 다음 글에 나타난 사회·문화 현상을 바라보는 관점에 대한 설명으로 옳은 것은?


만성 질환을 지니게 되면 자아 관념 및 사회적 상호 작용에 큰 변화가 일어날 수 있다. 이러한 변화는 만성 질환자에게 타인이 보이는 반응과 타인이 보일 것으로 상상되는 반응에 기초하여 나타난다. 따라서 만성 질환자의 일상적 삶을 이해하려면 만성 질환자와 그 주변 사람들이 질병과 환자에 대해 부여하는 의미를 파악하고, 이것이 상호 작용 과정에서 어떻게 발현되는지에 주목해야 한다.

- ① 개인들의 주관적 상황 정의에 대한 이해를 중시한다.
- ② 사회 규범은 기득권층에 의해 강제된 것이라고 본다.
- ③ 지배와 피지배 관계를 중심으로 사회 구조를 설명한다.
- ④ 사회가 스스로 균형을 유지하려는 속성을 지닌다고 본다.
- ⑤ 사회의 구조적 모순에 따른 계급 간 갈등이 불가피하다고 본다.

4. 밑줄 친 ㉠ ~ ㉣에 대한 설명으로 옳은 것은? [3점]

요일	주요 일정
월	㉠ 회사 노동조합 조합원 회의
화	㉡ 시민 단체 정기 모임
수	출장
목	㉢ 사내 바둑 동호회 모임
금	㉣ 회사 동료 결혼식

주중에는 ㉣ 가족과 보낼 시간이 없네.



- ① ㉡은 ㉠과 달리 자발적 결사체에 해당한다.
- ② ㉣은 ㉢과 달리 전인격적 인간관계를 기초로 한다.
- ③ ㉠, ㉣은 모두 비공식 조직에 해당한다.
- ④ ㉡, ㉣은 모두 공식적 규범에 의한 통제가 일반적이다.
- ⑤ ㉢, ㉣은 모두 공동 사회에 해당한다.

5. 다음 두 사례의 공통적인 시사점으로 가장 적절한 것은?

- 사람들이 즐겨 보는 동영상 플랫폼에서는 흥미와 관심을 끌기 위한 다양한 콘텐츠가 생산되고 있다. 그런데 이 중에는 특정 집단을 비하하거나 조롱하는 내용이 포함된 경우가 있어 그들에 대한 편견을 조장할 우려를 낳고 있다.
- SNS는 오늘날 사람들이 일상적으로 다양한 콘텐츠를 접하며 소통하는 창구이다. 그런데 선거철이 되면 입후보한 사람들을 근거 없이 비방하는 콘텐츠가 SNS상에 등장하곤 한다. 그리고 이를 접한 SNS 사용자 일부는 사실 여부를 확인하지 않은 채 해당 콘텐츠를 다른 곳에 유포하기도 한다.

- ① 대중문화의 지나친 상업화를 경계해야 한다.
- ② 고급문화에 대한 대중의 접근성을 높여야 한다.
- ③ 하위문화를 통해 문화의 역동성을 증진시켜야 한다.
- ④ 세대 간의 문화적 차이를 해소하기 위해 노력해야 한다.
- ⑤ 대중 매체를 통해 전파되는 콘텐츠를 비판적으로 수용해야 한다.

## 2 (사회·문화)

# 사회탐구 영역

6. 다음 글에 나타난 사회 변동 이론에 대한 옳은 설명만을 <보기>에서 고른 것은?

생물 유기체와 마찬가지로 사회도 이를 구성하는 부분들이 서로 동질적이고 미분화된 상태에서 서로 이질적이고 분화된 상태로 성장해 나간다. 또한 사회가 단순한 사회에서 복잡한 사회로 진전됨에 따라 부분들 간의 상호 의존성이 높아지면서 유기적 통합이 증진된다.

< 보기 >

- ㄱ. 사회 변동이 일정한 방향성을 가진다고 본다.
- ㄴ. 서구 제국주의를 정당화할 수 있다는 비판을 받는다.
- ㄷ. 사회 변동이 항상 진보를 의미하는 것은 아니라고 본다.
- ㄹ. 사회 변동에 대응하는 인간의 노력을 과소평가한다는 비판을 받는다.

- ① ㄱ, ㄴ    ② ㄱ, ㄷ    ③ ㄴ, ㄷ    ④ ㄴ, ㄹ    ⑤ ㄷ, ㄹ

7. 표는 질문에 따라 문화 접변의 결과 A ~ C를 구분한 것이다. 이에 대한 설명으로 옳은 것은? (단, A ~ C는 각각 문화 동화, 문화 병존, 문화 융합 중 하나임.) [3점]

구분	A	B	C
자문화의 정체성이 보존되었는가?	㉠	㉡	예
(가)	예	아니요	아니요
외래문화 요소가 자문화 요소와 결합되지 않은 상태로 정착되었는가?	예	아니요	㉢

- ① ㉠은 '아니요', ㉡은 '예', ㉢은 '아니요'이다.
- ② (가)에는 '기준에 없었던 새로운 문화 요소가 창조되었는가?'가 들어갈 수 있다.
- ③ C의 사례로 우리나라에서 전통 다과와 서양식 다과가 함께 존재하는 것을 들 수 있다.
- ④ A는 C에 비해 문화의 다양성 보존에 유리하다.
- ⑤ B는 A와 달리 구성원의 자발성에 기초한 문화 접변의 결과이다.

8. (가), (나)에 대한 설명으로 가장 적절한 것은?

(가) 부정부패를 일삼아 온 기존 정치인들이 선거에 입후보하지 이들이 당선되면 안 된다고 주장하는 시민들이 낙선 운동을 조직적으로 전개하고 있다.

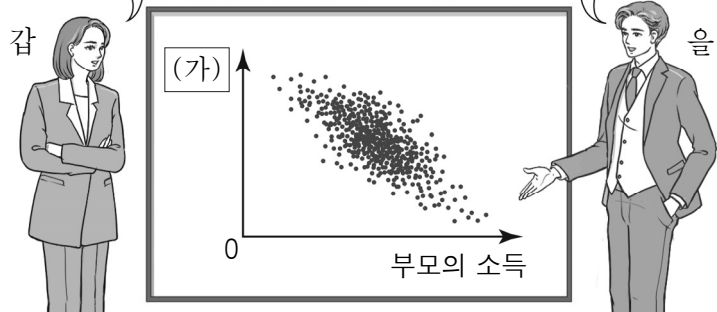
(나) 소비자의 윤리적 행동을 통해 사회 문제를 해결해야 한다고 여기는 시민들이 단체를 결성해 친환경 상품 및 공정 무역 상품을 구매하자는 캠페인을 펼치고 있다.

- ① (가)에는 사회 구조 전체를 근본적으로 변화시키고자 하는 다수의 행동이 나타난다.
- ② (나)에는 현상 유지를 고수하고 변화에 저항하는 다수의 행동이 나타난다.
- ③ (가)에는 (나)와 달리 체계적인 조직을 바탕으로 한 다수의 행동이 나타난다.
- ④ (나)에는 (가)와 달리 일시적, 우발적인 다수의 행동이 나타난다.
- ⑤ (가), (나)에는 모두 특정 목표나 이념을 바탕으로 한 다수의 행동이 나타난다.

9. 사회 불평등 현상을 바라보는 갑, 을의 관점에 대한 설명으로 옳은 것은? [3점]

사회 불평등 현상은 개인이나 집단이 사회에 기여한 정도에 따라 사회적 희소가치가 차등 분배된 결과입니다.

그렇지 않습니다. 우리 사회에는 특정 집단에 유리한 분배 구조가 고착화되어 있어 이 그림과 같은 사회 불평등 현상이 나타납니다.



- ① 갑의 관점은 사회 불평등 현상을 타파해야 할 문제라고 본다.
- ② 을의 관점은 차등 보상이 개인의 성취동기를 자극한다고 본다.
- ③ 을의 관점에서는 (가)에 '자녀의 소득'이 들어갈 수 있다고 본다.
- ④ 갑의 관점은 을의 관점과 달리 사회 불평등 현상이 인재를 적재적소에 배치하는 데 기여한다고 본다.
- ⑤ 을의 관점은 갑의 관점과 달리 사회 불평등 현상을 보편적이고 불가피한 현상으로 본다.

10. 다음 자료에 대한 질문에 모두 옳게 응답한 학생은? [3점]

연구자 A는 본인의 정치적 견해와 가짜 뉴스 내용의 일치 여부에 따라 가짜 뉴스에 대한 태도가 다른지 연구해 보기로 하였다. A는 특정한 가짜 뉴스를 접한 적이 있는 300명을 연구 대상으로 확보하고, 이들의 ㉠ 해당 가짜 뉴스에 대한 신뢰 정도 및 전파 의도를 5점 척도 문항을 통해 측정했다. 또한 ㉡ 해당 가짜 뉴스 내용이 평소 본인의 정치 성향에 부합하는지 여부도 조사해 양자가 부합하는 <집단 1>과 부합하지 않는 <집단 2>로 ㉢ 연구 대상자를 구분하고 두 집단을 비교해 보았다. 비교해 본 결과 <집단 1>이 <집단 2>보다 가짜 뉴스 신뢰 정도 및 전파 의도가 모두 높은 것으로 나타났다.

한편 연구자 B는 현재의 사회적 상황을 불안하게 느낄수록 가짜 뉴스를 믿는 정도가 높을 것이라는 가설을 검증해 보기로 하였다. 이를 위해 B는 500명을 대상으로 온라인 설문 조사를 실시하여 ㉣ 자료를 수집했으며, 이를 분석한 결과 ㉤ 사회적 상황에 대한 불안감과 가짜 뉴스 신뢰 정도 간에 통계적으로 유의미한 정(+)의 관계가 나타났다.

질문	갑	을	병	정	무
A의 연구에서 ㉠은 독립 변수에, ㉡은 종속 변수에 해당하는가?	○	×	×	○	×
A의 연구에서 ㉢은 실험 집단과 통제 집단을 구분한 것인가?	○	×	○	×	×
㉣은 B가 수집한 1차 자료인가?	×	○	○	×	○
㉤에 의해 B의 가설은 기각되는가?	○	×	×	○	○

(○: 예, ×: 아니요)

- ① 갑    ② 을    ③ 병    ④ 정    ⑤ 무

11. 다음 자료에 대한 분석으로 옳은 것은? [3점]

표는 갑국의 부모 세대와 자녀 세대의 계층별 비율을 비교한 결과를 나타낸다. 단, 계층은 상층, 중층, 하층으로만 구분되며, 부모 세대에서 중층 비율은 30%, 자녀 세대에서 상층 비율은 10%이다. 또한 모든 부모의 자녀는 1명씩이다.

구분	부모 세대에서 해당 계층 비율/자녀 세대에서 해당 계층 비율
상층	㉠
중층	5/9
하층	5/3

- ① ㉠은 '1/2'이다.
- ② 자녀 세대에서 중층 비율은 하층 비율의 3배이다.
- ③ 부모 세대에서 상층 비율은 자녀 세대에서 하층 비율보다 높다.
- ④ 자녀 세대 중층에서는 세대 간 상승 이동을 한 사람이 세대 간 하강 이동을 한 사람보다 많다.
- ⑤ 부모 세대의 계층 구조는 모래시계형, 자녀 세대의 계층 구조는 다이아몬드형이다.

12. 다음 글에 나타난 문화 이해의 관점에 대한 설명으로 가장 적절한 것은?

A국에는 마스크 착용을 기피하는 문화가 나타난다. 이러한 문화에는 마스크를 쓴 사람을 전염병 환자나 수상한 사람으로 여기는 구성원들의 인식, 그리고 무더운 기후 때문에 마스크 착용이 불편하다는 환경적 요인이 반영되어 있다. 또한 마스크를 파는 곳이 적어 마스크를 구하기가 어렵다는 사회적 요인과의 관련이 깊다.

- ① 타 문화와 문화적 마찰을 초래할 우려가 있다.
- ② 자문화를 기준으로 타 문화를 평가하고자 한다.
- ③ 서로 다른 문화 간의 공통점과 차이점을 파악하고자 한다.
- ④ 타 문화를 우월한 것으로 여겨 자문화를 열등하다고 본다.
- ⑤ 문화 요소를 다른 요소나 전체와 관련지어 파악하고자 한다.

13. 다음 대화의 A~C에 대한 설명으로 옳은 것은? (단, A~C는 각각 낙인 이론, 차별 교제 이론, 뒤르케임의 아노미 이론 중 하나임.) [3점]

교사: 일탈 이론 A~C에 대해 설명해 보세요.  
 갑: A는 일탈 행동을 규정하는 객관적 기준이 있다고 봅니다.  
 을: B는 타인과의 상호 작용을 중심으로 일탈 행동이 발생하는 원인을 파악하고자 합니다.  
 병: C는 사회 규범의 통제력 회복을 일탈 행동의 해결 방안으로 봅니다.  
 교사: 세 사람 모두 옳게 설명했네요.


- ① A는 차별적 제재가 일탈 행동의 원인이라고 본다.
- ② B는 일탈자와의 상호 작용을 통한 학습의 과정에 주목한다.
- ③ B는 A와 달리 2차적 일탈 행동의 발생 과정에 초점을 맞춘다.
- ④ B는 C와 달리 급속한 사회 변동에 따른 아노미로 인해 일탈 행동이 발생한다고 본다.
- ⑤ C는 A와 달리 일탈자와의 접촉 차단을 일탈 행동의 해결 방안으로 본다.

14. 교사의 질문에 대한 학생의 답변으로 옳은 것은? (단, A, B는 각각 공공 부조, 사회 보험 중 하나임.) [3점]

갑이 혜택을 받고 있는 제도는 A에, 을이 혜택을 받고 있는 제도는 B에 해당합니다. A, B의 일반적인 특징에 대해 말해 보세요.

<갑의 사례>  
 입원 치료가 필요한 질병에 걸린 갑은 가구 소득이 기준 금액 이하에 해당하여 의료 급여를 받고 있다.

<을의 사례>  
 노인성 질병으로 혼자 일상생활을 하기 어려운 을은 신체·가사 활동 지원이 필요하여 장기 요양 급여를 받고 있다.



- ① A는 강제 가입을 원칙으로 합니다.
- ② B는 상호 부조의 원리를 바탕으로 합니다.
- ③ A는 B와 달리 보편적 복지의 이념을 바탕으로 합니다.
- ④ B는 A와 달리 소득 재분배 효과가 있습니다.
- ⑤ B는 A에 비해 사후 처방적 성격이 강합니다.

15. 다음 자료에 대한 옳은 분석만을 <보기>에서 있는 대로 고른 것은?

표는 갑국의 해당 연도 남성 정규직 근로자 평균 임금을 100이라고 할 때 다른 근로자 평균 임금의 상대적 수치를 나타낸다. 단, 남성 정규직 근로자 평균 임금은 매년 상승하였다.

구분	1992년	2002년	2012년	2022년
남성 비정규직	80	83	87	83
여성 정규직	66	78	82	88
여성 비정규직	44	50	54	69

< 보 기 >

ㄱ. 여성 비정규직 근로자 평균 임금 대비 여성 정규직 근로자 평균 임금의 비(比)는 2002년이 1992년보다 크다.  
 ㄴ. 남성 정규직 근로자와 남성 비정규직 근로자 간 평균 임금의 차는 2012년이 2002년보다 작다.  
 ㄷ. 2012년 대비 2022년 평균 임금 상승률은 여성 정규직 근로자가 남성 정규직 근로자보다 높다.  
 ㄹ. 2022년에는 1992년과 달리 여성 비정규직 근로자 평균 임금은 전체 비정규직 근로자 평균 임금의 50%를 넘는다.

- ① ㄱ, ㄴ
- ② ㄱ, ㄷ
- ③ ㄴ, ㄹ
- ④ ㄱ, ㄷ, ㄹ
- ⑤ ㄴ, ㄷ, ㄹ

## 4 (사회·문화)

# 사회탐구 영역

16. 밑줄 친 ㉠ ~ ㉤에 대한 설명으로 옳은 것은?

어린 시절 ㉠ 프로 농구 선수가 되고 싶었던 갑은 ㉡ 초등학교에 다니던 때부터 학교 농구부에서 훈련을 해 왔다. 그러다 우연히 ㉢ 대중 매체에서 접한 발레 영상에 빠져들어 진로를 발레로 바꾸기로 하였다. 갑은 갑작스러운 진로 변경을 반대하는 ㉣ 어머니와 ㉤ 갈등을 빚기도 하였으나 뛰어난 신체 조건을 바탕으로 발레를 배우기 시작한 지 몇 달 만에 유망주로 주목받게 되었고, 이후 유명 ㉥ 발레단에서 활약하는 ㉦ 무용수가 되었다.

- ① ㉠, ㉡은 모두 갑의 성취 지위에 해당한다.
- ② ㉢은 공식적 사회화 기관, ㉣은 비공식적 사회화 기관이다.
- ③ ㉣은 선천적으로 주어지는 지위에 해당한다.
- ④ ㉤은 갑이 겪은 역할 갈등이다.
- ⑤ ㉥에서 갑은 예기 사회화를 경험하였다.

17. 다음 글에 나타난 개인과 사회의 관계를 바라보는 관점에 대한 옳은 설명만을 <보기>에서 고른 것은?

우리가 사회라고 부르는 것이 개인과는 별개인 독립적 실체로서 존재하는가? 개방적인 개인들로 구성된 사회는 개방적인 사회가, 폐쇄적인 개인들로 구성된 사회는 폐쇄적인 사회가 될 뿐이다. 그렇기에 사회 현상에 대한 진정한 이해는 개인들의 속성에 대한 탐구를 통해서만 가능하다.

< 보기 >

- ㄱ. 사회가 개인들의 총합에 불과하다고 본다.
- ㄴ. 개인이 사회에 의해 구조화된 행동을 한다고 본다.
- ㄷ. 개인이 자율성과 능동성을 지닌 존재임을 강조한다.
- ㄹ. 사회가 개인의 외부에서 독자적으로 작동한다고 본다.

- ① ㄱ, ㄴ      ② ㄱ, ㄷ      ③ ㄴ, ㄷ      ④ ㄴ, ㄹ      ⑤ ㄷ, ㄹ

18. 밑줄 친 ㉠ ~ ㉤에 대한 옳은 설명만을 <보기>에서 있는 대로 고른 것은? [3점]

17세기 유럽에서는 차를 마시며 대화를 나누는 ㉠ 여가 문화가 형성되기 시작했다. 당시 유럽인들의 차 모임에서는 ㉡ 차 마시는 소리를 크게 내며 호들갑을 떠는 행위가 차를 대접한 안주인에게 감사를 표현하는 의미로 여겨졌다. 한편 차가 유입된 초기에는 유럽인들 사이에서 ㉢ 차잔의 차를 잔 받침에 옮겨 마시는 방식이 통용되었다. 이후 손잡이가 달린 차잔이 등장하면서 ㉣ 잔 받침의 용도는 차를 옮겨 마시는 것에서 차 수저를 놓는 것으로 바뀌었다.

< 보기 >

- ㄱ. ㉠에서 '문화'는 넓은 의미로 사용되었다.
- ㄴ. ㉡은 문화를 통해 구성원의 행동 양식이 예측 가능성을 보여 준다.
- ㄷ. ㉢은 문화가 세대 간 전승을 통해 더욱 풍부해짐을 보여 준다.
- ㄹ. ㉣은 문화가 고정된 것이 아니라 변화하는 것임을 보여 준다.

- ① ㄱ, ㄴ                      ② ㄱ, ㄷ                      ③ ㄷ, ㄹ
- ④ ㄱ, ㄴ, ㄹ                ⑤ ㄴ, ㄷ, ㄹ

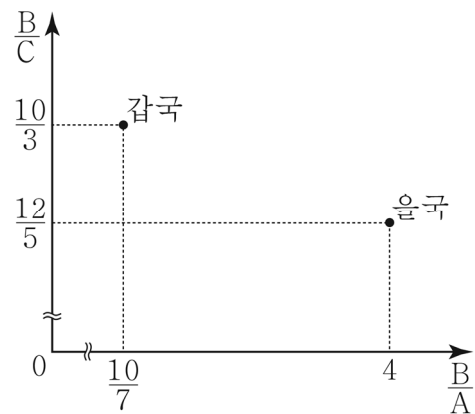
19. 갑, 을의 연구 사례를 연구 윤리 측면에서 평가한 진술로 가장 적절한 것은?

- 연구자 갑은 논문 작성 과정에서 자신의 연구 주제와 관련 있는 다른 연구자의 저서를 살펴보았다. 그중 신뢰할 만한 내용들을 추려서 자신의 논문에 인용했는데, 출처를 명시하지 않았으며 다른 사람의 연구 내용임을 밝히지 않았다.
- 연구자 을은 정부 기관으로부터 정부의 정책에 관한 국민 인식 조사 의뢰를 받고 설문 조사를 진행하였다. 그런데 해당 기관에 유리한 결과가 나오지 않아 정부 정책에 대해 부정적인 응답을 한 자료를 제외한 후 다시 분석을 실시하였다. 그러자 원했던 결과가 나와 이를 토대로 연구 보고서를 작성해서 제출하였다.

- ① 갑은 연구 대상자에게 미칠 불이익을 고려하지 않았다.
- ② 갑은 자신의 연구 결과를 연구 외의 목적으로 사용하였다.
- ③ 을은 자료를 자의적으로 선별하여 결과를 왜곡하였다.
- ④ 을은 연구 대상자의 자발적인 참여를 보장하지 않았다.
- ⑤ 갑, 을은 모두 다른 연구자의 연구 성과를 도용하였다.

20. 다음 자료에 대한 분석으로 옳은 것은? (단, A ~ C는 각각 유소년 인구, 부양 인구, 노년 인구 중 하나임.) [3점]

그림은 갑국과 을국의 A ~ C의 상대적인 비(比)를 나타낸다. 단, 갑국 유소년 인구는 을국 노년 인구의 2배이고, 갑국 전체 인구는 을국 전체 인구의 2배이다.



$$* \text{노령화 지수} = \frac{\text{노년 인구(65세 이상 인구)}}{\text{유소년 인구(0 ~ 14세 인구)}} \times 100$$

$$** \text{총부양비} = \frac{\text{유소년 인구} + \text{노년 인구}}{\text{부양 인구(15 ~ 64세 인구)}} \times 100$$

\*\*\* 전체 인구 중에서 노년 인구의 비율이 7% 이상이면 고령화 사회, 14% 이상이면 고령 사회, 20% 이상이면 초고령 사회임.

- ① A는 유소년 인구, B는 노년 인구, C는 부양 인구이다.
- ② 갑국은 을국과 달리 부양 인구가 노년 인구보다 많다.
- ③ 총부양비는 갑국이 을국에 비해 작다.
- ④ 노령화 지수는 을국이 갑국에 비해 낮다.
- ⑤ 갑국은 초고령 사회, 을국은 고령화 사회이다.

### ※ 확인 사항

- 답안지의 해당란에 필요한 내용을 정확히 기입(표기)했는지 확인 하시오.