

● 수학 영역 ●

수학 정답

1	③	2	②	3	④	4	⑤	5	①
6	④	7	⑤	8	③	9	②	10	④
11	①	12	③	13	②	14	②	15	④
16	⑤	17	①	18	①	19	⑤	20	③
21	②	22	8	23	24	24	5	25	1
26	17	27	12	28	130	29	33	30	50

해설

1. [출제의도] 다항식의 뉘셈을 계산한다.

$$A-B = (3x^2 - 2xy + y^2) - (x^2 + xy - y^2)$$

$$= (3x^2 - x^2) + (-2xy - xy) + (y^2 + y^2)$$

$$= 2x^2 - 3xy + 2y^2$$

2. [출제의도] 조건의 부정을 이해한다.

실수 x 에 대한 조건 'x는 1보다 크다.'의 부정은 'x는 1보다 크지 않다.', 즉 ' $x \leq 1$ '이다.

3. [출제의도] 조합과 순열의 수를 계산한다.

$${}_5C_3 \times 3! = \frac{5 \times 4 \times 3}{3 \times 2 \times 1} \times (3 \times 2 \times 1) = 5 \times 4 \times 3 = 60$$

4. [출제의도] 합성함수를 이해하여 함수값을 구한다.

$$(g \circ f)(2) = g(f(2))$$

$$= g(3)$$

$$= 5$$

5. [출제의도] 두 직선의 평행 조건을 이해하여 직선의 y 절편을 구한다.

직선 $3x+2y-5=0$, 즉 $y = -\frac{3}{2}x + \frac{5}{2}$ 의 기울기가 $-\frac{3}{2}$ 이므로 이 직선과 평행한 직선의 기울기는 $-\frac{3}{2}$ 이다. 기울기가 $-\frac{3}{2}$ 이고 점 $(2, 3)$ 을 지나는 직선의 방정식은

$$y = -\frac{3}{2}(x-2) + 3, \text{ 즉 } y = -\frac{3}{2}x + 6$$

이므로 구하는 y 절편은 6이다.

[다른 풀이]

직선 $3x+2y-5=0$ 과 평행한 직선의 방정식은 $3x+2y+a=0$ (단, a 는 상수)로 놓을 수 있다. 이 직선이 점 $(2, 3)$ 을 지나므로 $3 \times 2 + 2 \times 3 + a = 0, a = -12$ 따라서 직선 $3x+2y-12=0$ 의 y 절편은 6이다.

6. [출제의도] 복소수의 실수부분과 허수부분을 이해하여 실수의 값을 구한다.

$$\frac{a+3i}{2-i} = \frac{(a+3i)(2+i)}{(2-i)(2+i)}$$

$$= \frac{2a+ai+6i+3i^2}{4-i^2}$$

$$= \frac{(2a-3)+(a+6)i}{5}$$

$$= \frac{2a-3}{5} + \frac{a+6}{5}i$$

이므로 복소수 $\frac{a+3i}{2-i}$ 의 실수부분은 $\frac{2a-3}{5}$ 이고

허수부분은 $\frac{a+6}{5}$ 이다.

실수부분과 허수부분의 합이 3이므로

$$\frac{2a-3}{5} + \frac{a+6}{5} = \frac{3a+3}{5} = 3$$

따라서 $a = 4$

7. [출제의도] 순열을 이해하여 일렬로 나열하는 경우의 수를 구한다.

먼저 1, 3, 5가 적혀 있는 카드를 나열하는 경우의 수는 $3! = 6$

이 각각에 대하여 1, 3, 5가 적혀 있는 세 장의 카드의 사이사이와 양끝의 네 곳 중에서 두 곳을 선택하여 2, 4가 적혀 있는 카드를 하나씩 나열하는 경우의 수는

$${}_4P_2 = 4 \times 3 = 12$$

따라서 구하는 경우의 수는

$$6 \times 12 = 72$$

[다른 풀이]

5장의 카드를 모두 일렬로 나열하는 경우의 수는

$$5! = 120$$

2, 4가 적혀 있는 두 장의 카드를 한 묶음으로 생각하여 이 묶음과 1, 3, 5가 적혀 있는 카드를 일렬로 나열하는 경우의 수는 $4!$ 이고 이 각각에 대하여 2, 4가 적혀 있는 카드를 나열하는 경우의 수는 2이므로 짝수가 적혀 있는 카드끼리 서로 이웃하도록 나열하는 경우의 수는

$$4! \times 2! = 48$$

따라서 짝수가 적혀 있는 카드끼리 서로 이웃하지 않도록 나열하는 경우의 수는

$$120 - 48 = 72$$

8. [출제의도] 선분의 내분을 이해하여 선분의 길이를 구한다.

두 점 $A(a, 0), B(2, -4)$ 에 대하여 선분 AB 를 3:1로 내분하는 점의 좌표는

$$\left(\frac{3 \times 2 + 1 \times a}{3+1}, \frac{3 \times (-4) + 1 \times 0}{3+1} \right)$$

$$\text{즉, } \left(\frac{6+a}{4}, -3 \right)$$

이 점이 y 축 위에 있으므로 $\frac{6+a}{4} = 0$ 에서

$$a = -6$$

따라서 점 A 의 좌표는 $(-6, 0)$ 이므로

$$AB = \sqrt{\{2 - (-6)\}^2 + \{(-4) - 0\}^2}$$

$$= \sqrt{80} = 4\sqrt{5}$$

9. [출제의도] 곱셈 공식을 이해하여 식의 값을 구한다.

$$x^3 + y^3 = (x+y)^3 - 3xy(x+y) \text{ 이므로}$$

$$\frac{x^2 + y^2}{y} + \frac{y^2}{x} = \frac{x^3 + y^3}{xy}$$

$$= \frac{(x+y)^3 - 3xy(x+y)}{xy}$$

$$= \frac{(\sqrt{2})^3 - 3 \times (-2) \times \sqrt{2}}{-2}$$

$$= \frac{2\sqrt{2} + 6\sqrt{2}}{-2}$$

$$= -4\sqrt{2}$$

10. [출제의도] 이차함수의 그래프와 직선의 위치 관계를 이해하여 직선의 기울기를 구한다.

점 $(-1, 0)$ 을 지나고 기울기가 m 인 직선의 방정식은 $y = m\{x - (-1)\}$

$$\text{즉, } y = mx + m$$

$y = mx + m$ 을 $y = x^2 + x + 4$ 에 대입하면

$$mx + m = x^2 + x + 4$$

$$x^2 + (1-m)x + 4 - m = 0$$

직선 $y = mx + m$ 이 곡선 $y = x^2 + x + 4$ 에 접하므로 이차방정식 $x^2 + (1-m)x + 4 - m = 0$ 의 판별식을

$$D \text{라 할 때 } D = 0 \text{이다.}$$

$$D = (1-m)^2 - 4(4-m)$$

$$= m^2 + 2m - 15$$

$$= (m+5)(m-3) = 0$$

에서 $m = -5$ 또는 $m = 3$

$m > 0$ 이므로 $m = 3$

11. [출제의도] 무리함수를 이해하여 함수의 치역을 구한다.

함수 $y = -\sqrt{x-a} + a + 2$ 의 그래프가 점 $(a, -a)$ 를 지나므로

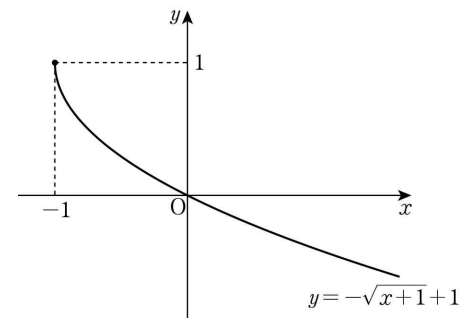
$$-a = -\sqrt{a-a} + a + 2$$

$$2a = -2, a = -1$$

함수 $y = -\sqrt{x}$ 의 치역은 $\{y \mid y \leq 0\}$ 이고

함수 $y = -\sqrt{x+1} + 1$ 의 그래프는 함수 $y = -\sqrt{x}$ 의 그래프를 x 축의 방향으로 -1 만큼, y 축의 방향으로 1 만큼 평행이동한 것이므로 함수 $y = -\sqrt{x+1} + 1$ 의 치역은 $\{y \mid y \leq 1\}$ 이다.

[참고]



12. [출제의도] 근과 계수의 관계를 이해하여 이차방정식의 계수를 구한다.

이차방정식 $x^2 + ax + b = 0$ 에서 a, b 가 실수이고,

한 근이 $\frac{b}{2} + i$ 로 허수이므로 다른 근은 $\frac{b}{2} + i$ 의 켤레

복소수인 $\frac{b}{2} - i$ 이다.

이차방정식의 근과 계수의 관계에서 이차방정식 $x^2 + ax + b = 0$ 의 두 근의 합은 $-a$ 이고 두 근의 곱은 b 이다.

$$\left(\frac{b}{2} + i \right) + \left(\frac{b}{2} - i \right) = -a \text{에서}$$

$$b = -a \dots\dots \text{㉠}$$

$$\left(\frac{b}{2} + i \right) \left(\frac{b}{2} - i \right) = b \text{에서}$$

$$\frac{b^2}{4} + 1 = b, b^2 - 4b + 4 = (b-2)^2 = 0$$

$$b = 2$$

$$\text{㉠에서 } a = -2$$

$$\text{따라서 } ab = (-2) \times 2 = -4$$

13. [출제의도] 집합의 연산을 이해하여 부분집합의 개수를 구한다.

$A \cup X = A$ 에서 $X \subset A$ 이고 $B \cap X = \emptyset$ 이므로

집합 X 는 집합 $A-B$ 의 부분집합이다.

집합 $A-B$ 는 50 이하의 6의 배수 중 4의 배수가 아닌 수의 집합이므로 $A-B = \{6, 18, 30, 42\}$

따라서 집합 X 의 개수는 집합 $A-B$ 의 부분집합의 개수인 $2^4 = 16$ 이다.

14. [출제의도] 역함수의 성질을 이용하여 조건을 만족시키는 함수를 추론한다.

함수 f 의 역함수가 존재하므로 함수 f 는 일대일 대응이다.

$$f(1) + 2f(3) = 12 \text{ 이고 } f \text{는 일대일 대응이므로}$$

$$f(1) = 2, f(3) = 5 \dots\dots \text{㉠}$$

$$f^{-1}(1) - f^{-1}(3) = 2 \text{에서 } f^{-1}(1) \in X, f^{-1}(3) \in X \text{이므로}$$

$$f^{-1}(1) = 3, f^{-1}(3) = 1$$

$$\text{또는 } f^{-1}(1) = 4, f^{-1}(3) = 2$$

$$\text{또는 } f^{-1}(1) = 5, f^{-1}(3) = 3 \text{이다.}$$

㉠에서 $f^{-1}(2) = 1, f^{-1}(5) = 3$ 이고 함수 f^{-1} 도 일대일 대응이므로 $f^{-1}(1) = 4, f^{-1}(3) = 2$ 이다.

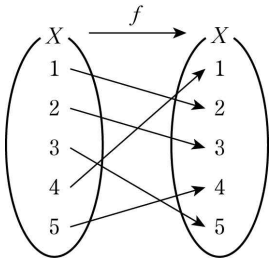
$$\text{즉, } f(1) = 2, f(2) = 3, f(3) = 5, f(4) = 1 \text{ 이고}$$

함수 f 는 일대일 대응이므로 $f(5) = 4$ 이다.

$$\text{즉, } f^{-1}(4) = 5$$

$$\text{따라서 } f(4) + f^{-1}(4) = 1 + 5 = 6$$

[참고]



15. [출제의도] 연립부등식을 이해하여 조건을 만족시키는 미지수를 구한다.

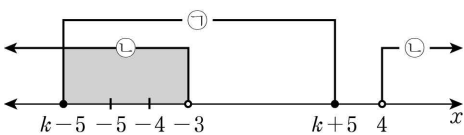
$$|x-k| \leq 5 \text{에서 } -5 \leq x-k \leq 5$$

$$k-5 \leq x \leq k+5 \quad \text{㉠}$$

$$x^2-x-12 > 0 \text{에서 } (x+3)(x-4) > 0$$

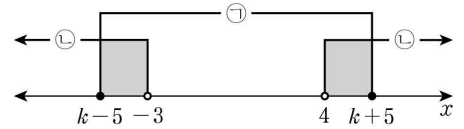
$$x < -3 \text{ 또는 } x > 4 \quad \text{㉡}$$

(i) $k+5 \leq 4$, 즉 $k \leq -1$ 일 때



㉠, ㉡을 모두 만족시키는 정수 x 는 모두 -3 보다 작으므로 그 합은 7 보다 작게 되어 조건을 만족시키지 않는다.

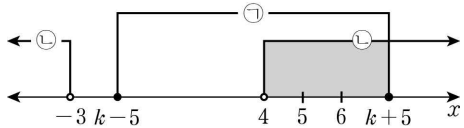
(ii) $k-5 < -3$ 이고 $k+5 > 4$, 즉 $-1 < k < 2$ 일 때



$k=0$ 이면 ㉠, ㉡을 모두 만족시키는 정수 x 는 $-5, -4, 5$ 이고 그 합은 -4 가 되어 조건을 만족시키지 않는다.

$k=1$ 이면 ㉠, ㉡을 모두 만족시키는 정수 x 는 $-4, 5, 6$ 이고 그 합은 7 이 되어 조건을 만족시킨다.

(iii) $k-5 \geq -3$, 즉 $k \geq 2$ 일 때



㉠, ㉡을 모두 만족시키는 정수 x 는 두 개 이상이고 모두 4 보다 크므로 그 합은 7 보다 크게 되어 조건을 만족시키지 않는다.

(i), (ii), (iii)에서 $k=1$ 이다.

16. [출제의도] 삼차방정식의 근에 대한 조건을 이용하여 문제를 해결한다.

$$x^3-x^2-kx+k=0 \text{에서}$$

$$x^2(x-1)-k(x-1)=0$$

$$(x-1)(x^2-k)=0$$

$$x=1 \text{ 또는 } x^2=k$$

0 이 아닌 실수 k 에 대하여 $k > 0$ 이면 주어진 방정식의 모든 근이 실수이므로 α, β 중 실수는 하나뿐이라는 조건을 만족시키지 않는다.

$k < 0$ 이면 주어진 방정식의 실근은 $x=1$ 뿐이고, α, β 중에서 실수가 존재하므로 $\alpha=1$ 또는 $\beta=1$ 이다.

(i) $\alpha=1$ 일 때

$$\alpha^2 = -2\beta \text{에서 } \beta = -\frac{1}{2}\alpha^2 = -\frac{1}{2} \text{이므로}$$

α, β 중 실수는 하나뿐이라는 조건을 만족시키지 않는다.

(ii) $\beta=1$ 일 때

$$\alpha^2 = -2\beta \text{에서 } \alpha^2 = -2$$

이때 α, γ 는 방정식 $x^2=k$ 의 근이므로

$$k = \alpha^2 = -2 \text{ 이고 } \gamma^2 = k = -2$$

(i), (ii)에서 $\beta=1, \gamma^2=-2$

따라서 $\beta^2 + \gamma^2 = 1^2 + (-2) = -1$

17. [출제의도] 이차부등식을 포함한 문장이 참인 명제가 되도록 하는 문제를 해결한다.

실수 전체의 집합을 U 라 하고, 두 조건 p, q 의 진리 집합을 각각 P, Q 라 하자.

‘모든 실수 x 에 대하여 p 이다.’가 참인 명제가 되려면 $P=U$ 이어야 한다.

따라서 모든 실수 x 에 대하여 $x^2+2ax+1 \geq 0$ 이어야 하므로 이차방정식 $x^2+2ax+1=0$ 의 판별식을 D_1 이라 하면

$$\frac{D_1}{4} = a^2 - 1 \leq 0$$

$$(a+1)(a-1) \leq 0, -1 \leq a \leq 1$$

그러므로 정수 a 는 $-1, 0, 1$ 이다.

이때 ‘ p 는 $simq$ 이기 위한 충분조건이다.’가 참인 명제가 되려면 $P \subset Q^C$ 이어야 하고 $P=U$ 이므로 $Q^C=U$ 이다.

따라서 모든 실수 x 에 대하여 $x^2+2bx+9 > 0$ 이어야 하므로 이차방정식 $x^2+2bx+9=0$ 의 판별식을 D_2 라 하면

$$\frac{D_2}{4} = b^2 - 9 < 0$$

$$(b+3)(b-3) < 0, -3 < b < 3$$

그러므로 정수 b 는 $-2, -1, 0, 1, 2$ 이다.

따라서 정수 a, b 의 순서쌍 (a, b) 의 개수는

$$3 \times 5 = 15 \text{이다.}$$

18. [출제의도] 유리함수의 성질을 이용하여 함수값을 구하는 문제를 해결한다.

조건 (가)에서 곡선 $y=f(x)$ 가 직선 $y=2$ 와 만나는 점의 개수와 직선 $y=-2$ 와 만나는 점의 개수의 합은 1 이다.

곡선 $y=f(x)$ 가 x 축과 평행한 직선과 만나는 점의 개수는 점근선을 제외하면 모두 1 이므로 두 직선 $y=2, y=-2$ 중 하나는 곡선 $y=f(x)$ 의 점근선이다. 이때 곡선 $y=f(x)$ 의 점근선이 직선 $y=b$ 이므로

$$b=2 \text{ 또는 } b=-2 \quad \text{㉠}$$

$$f(x) = \frac{a}{x} + b, \text{ 즉 } y = \frac{a}{x} + b \text{에서}$$

$$\frac{a}{x} = y - b, x = \frac{a}{y - b}$$

$$x \text{와 } y \text{를 서로 바꾸면 } y = \frac{a}{x - b}$$

$$\text{그러므로 } f^{-1}(x) = \frac{a}{x - b} \text{이다.}$$

조건 (나)에서 $f^{-1}(2) = f(2) - 1$ 이므로

$$\frac{a}{2-b} = \frac{a}{2} + b - 1 \quad \text{㉡}$$

㉡에서 $b \neq 2$ 이므로 ㉠에서 $b = -2$ 이다.

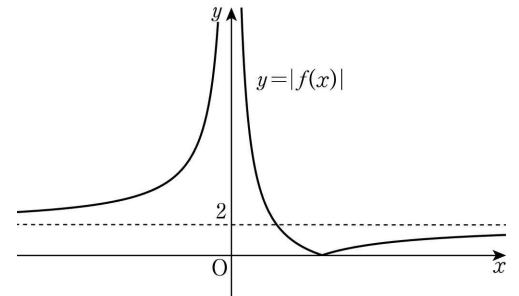
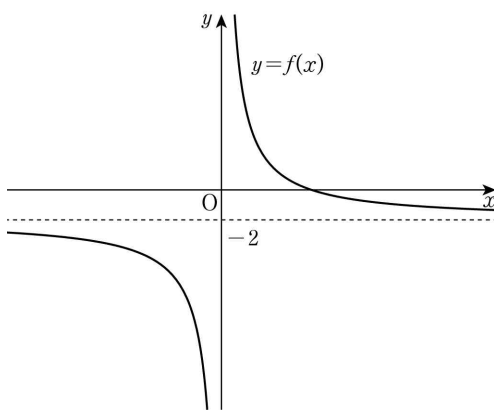
㉡에 $b = -2$ 를 대입하면

$$\frac{a}{4} = \frac{a}{2} - 3, a = 12$$

$$\text{따라서 } f(x) = \frac{12}{x} - 2 \text{이므로}$$

$$f(8) = \frac{12}{8} - 2 = -\frac{1}{2}$$

[참고]



19. [출제의도] 집합의 연산 법칙을 이용하여 조건을 만족시키는 집합을 추론한다.

드모르간의 법칙에 의하여

$$A \cup B^C = (A^C \cap B)^C = (B-A)^C \text{이므로 조건 (가)에서}$$

$$n(A \cup B^C) = n((B-A)^C) = 7$$

$$B-A = \{4, 7\} \text{에서 } n(B-A) = 2$$

$$(B-A) \cup (B-A)^C = U, (B-A) \cap (B-A)^C = \emptyset$$

이므로

$$n(U) = n(B-A) + n((B-A)^C)$$

$$= n(B-A) + n(A \cup B^C)$$

$$= 2 + 7 = 9$$

그러므로 $k=9$ 이고 $U = \{1, 2, 3, 4, 5, 6, 7, 8, 9\}$

조건 (가)에서 $B-A = \{4, 7\}$ 이고 조건 (나)에서 집합 A 의 모든 원소의 합과 집합 B 의 모든 원소의 합이 서로 같으므로 집합 $A-B$ 의 모든 원소의 합은 집합 $B-A = \{4, 7\}$ 의 모든 원소의 합인 11 이다.

따라서 m 은 4 와 7 중 어느 수도 약수로 갖지 않고, 모든 약수의 합이 11 이상이어야 하므로 m 이 될 수 있는 수는 6 또는 9 이다.

(i) $m=6$ 일 때

집합 A 는 $\{1, 2, 3, 6\}$ 이다.

이때 $A-B = \{2, 3, 6\}$ 이면 집합 $A-B$ 의 원소의 합이 11 이므로 조건을 만족시킨다.

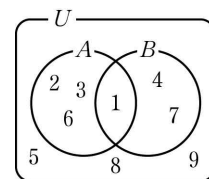
(ii) $m=9$ 일 때

집합 A 는 $\{1, 3, 9\}$ 이다.

이때 집합 $A-B$ 의 원소의 합이 11 인 경우는 존재하지 않으므로 조건을 만족시키지 않는다.

(i), (ii)에서 $m=6$ 이고 이때 $B = \{1, 4, 7\}$ 이다.

즉, $A \cup B = \{1, 2, 3, 6\} \cup \{1, 4, 7\} = \{1, 2, 3, 4, 6, 7\}$



$$A^C \cap B^C = (A \cup B)^C = \{5, 8, 9\} \text{이므로}$$

집합 $A^C \cap B^C$ 의 모든 원소의 합은

$$5 + 8 + 9 = 22$$

20. [출제의도] 두 직선의 위치 관계를 이용하여 조건을 만족시키는 점을 구하는 문제를 해결한다.

두 식 $2x+y+2=0, x-2y-4=0$ 을 연립하면

$$x=0, y=-2 \text{이므로}$$

두 직선 l_1, l_2 의 교점 A는

$$A(0, -2)$$

직선 l_1 이 x 축과 만나는 점 B는

$$2x+0+2=0, x=-1$$

에서 $B(-1, 0)$

직선 l_2 가 x 축과 만나는 점 C는

$$x-0-4=0, x=4$$

에서 $C(4, 0)$

ㄱ. 두 직선 l_1, l_2 의 기울기는 각각 $-2, \frac{1}{2}$ 이다.

두 직선의 기울기의 곱이 -1 이므로 두 직선 l_1, l_2 는 서로 수직이다. (참)

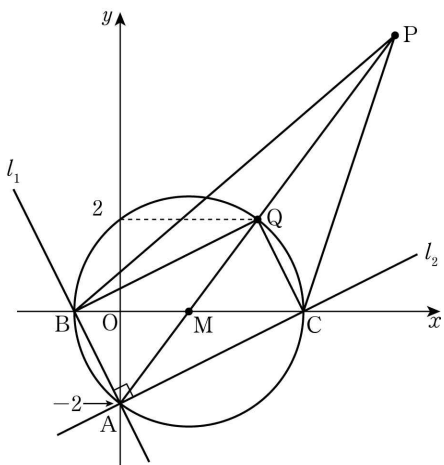
ㄴ. 점 Q가 삼각형 PBC의 무게중심이므로 삼각형 PBC의 넓이는 삼각형 QBC의 넓이의 3 배이다.

조건 (나)에서 삼각형 PBC의 넓이는 삼각형 ABC의 넓이의 3 배이므로 두 삼각형 QBC, ABC

의 넓이는 서로 같다.

두 삼각형 QBC, ABC에서 선분 BC가 공통이므로 점 Q와 직선 BC 사이의 거리는 점 A와 직선 BC 사이의 거리인 2이다. 즉, 점 Q의 y좌표는 2 또는 -2이다. 제1사분면에 있는 점 P에 대하여 세 점 P, B, C의 x좌표의 합과 y좌표의 합은 모두 양수이므로 점 Q도 제1사분면에 있는 점이다. 따라서 점 Q의 y좌표는 2이다. (참)

ㄷ. ㄱ에서 두 직선 l_1, l_2 가 서로 수직이므로 삼각형 ABC의 외접원의 지름은 선분 BC이다. 원의 중심은 선분 BC의 중점 M이므로 그 좌표는 $(\frac{-1+4}{2}, \frac{0+0}{2})$, 즉 $(\frac{3}{2}, 0)$



점 A의 y좌표는 -2, 점 Q의 y좌표는 2이고, 점 Q는 제1사분면에 있으므로 두 점 Q, A는 점 M에 대하여 서로 대칭이다. 따라서 세 점 A, M, Q는 한 직선 위에 있다.

점 Q는 삼각형 PBC의 무게중심이므로 세 점 M, Q, P도 한 직선 위에 있다. 그러므로 네 점 A, M, Q, P는 모두 한 직선 위에 있다. $\overline{AM} = \overline{MQ}$ 이고 $\overline{MQ} : \overline{QP} = 1:2$ 이므로 $\overline{AP} : \overline{MP} = 4:3$ 이다.

점 P는 선분 AM을 4:3으로 외분하는 점이므로 점 P의 좌표는

$$\left(\frac{4 \times \frac{3}{2} - 3 \times 0}{4-3}, \frac{4 \times 0 - 3 \times (-2)}{4-3} \right), \text{ 즉 } (6, 6)$$

따라서 점 P의 x좌표와 y좌표의 합은 12이다. (거짓)

이상에서 옳은 것은 ㄱ, ㄴ이다.

[다른 풀이]

ㄴ. 세 점 A(0, -2), B(-1, 0), C(4, 0)을 꼭짓점으로 하는 삼각형 ABC의 넓이는 점 A에서 직선 BC에 내린 수선의 발이 원점 O이므로

$$\frac{1}{2} \times \overline{BC} \times \overline{OA} = \frac{1}{2} \times 5 \times 2 = 5$$

이다. 그러므로 조건 (나)에서 삼각형 PBC의 넓이는 15이다.

점 P의 좌표를 (a, b) (a > 0, b > 0)이라 하고 점 P에서 직선 BC에 내린 수선의 발을 H라 하면 삼각형 PBC의 넓이는

$$\frac{1}{2} \times \overline{BC} \times \overline{PH} = \frac{1}{2} \times 5 \times b = \frac{5}{2}b$$

이다.

$\frac{5}{2}b = 15$ 에서 b=6이고 점 P의 좌표는 (a, 6)이다.

이때 삼각형 PBC의 무게중심 Q의 좌표는 $(\frac{a+(-1)+4}{3}, \frac{6+0+0}{3})$, 즉 $(\frac{a}{3}+1, 2)$ 이다.

따라서 점 Q의 y좌표는 2이다. (참)

ㄷ. ㄱ에서 두 직선 l_1, l_2 가 서로 수직이므로 삼각형 ABC의 외접원의 지름은 선분 BC이다. 원의 중심은 선분 BC의 중점 M이므로 그 좌표는

$$\left(\frac{-1+4}{2}, \frac{0+0}{2} \right), \text{ 즉 } \left(\frac{3}{2}, 0 \right)$$

$\overline{BC} = |4 - (-1)| = 5$ 이므로 원의 반지름의 길이는

$\frac{5}{2}$ 이다. 즉, 삼각형 ABC의 외접원의 방정식은

$$\left(x - \frac{3}{2} \right)^2 + y^2 = \frac{25}{4}$$

점 Q가 이 원 위의 점이므로

$$\left(\frac{a}{3} + 1 - \frac{3}{2} \right)^2 + 2^2 = \frac{25}{4}$$

$$\left(\frac{a}{3} - \frac{1}{2} \right)^2 = \frac{9}{4}$$

$$\frac{a}{3} - \frac{1}{2} = \frac{3}{2} \text{ 또는 } \frac{a}{3} - \frac{1}{2} = -\frac{3}{2}$$

$$a = 6 \text{ 또는 } a = -3$$

a > 0이므로 a=6이고 점 P의 좌표는 (6, 6)이다. 따라서 점 P의 x좌표와 y좌표의 합은 6+6=12이다. (거짓)

21. [출제의도] 합성함수의 성질을 이용하여 정육각형 위를 움직이는 점의 위치를 추론한다.

$$(f \circ f)(a) = f(f(a)) = \frac{9}{32} \text{ 에서 } f(a) = b \text{ 라 하면}$$

$$f(b) = \frac{9}{32}$$

이다. 함수 f(x)가 삼각형 PFA의 넓이이므로 함수 f(x)는 점 P가 선분 CD에 있을 때 최댓값을 갖는다. 선분 AC의 중점을 M이라 하면 직각삼각형 MAB에서 $\angle MAB = 30^\circ$ 이므로

$$\begin{aligned} \overline{AC} &= 2\overline{AM} \\ &= 2 \times \overline{AB} \cos 30^\circ \\ &= 2 \times 1 \times \frac{\sqrt{3}}{2} = \sqrt{3} \end{aligned}$$

함수 f(x)의 최댓값은

$$\frac{1}{2} \times \overline{FA} \times \overline{AC} = \frac{1}{2} \times 1 \times \sqrt{3} = \frac{\sqrt{3}}{2}$$

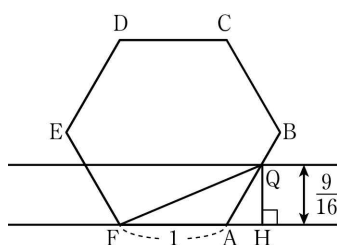
이므로 $0 < b \leq \frac{\sqrt{3}}{2}$ 이다.

점 P가 점 A로부터 움직인 거리가 b인 점을 Q라 하면 점 Q는 선분 AB 위에 있고, 삼각형 QFA의 넓이는 $\frac{9}{32}$ 이다.

점 Q에서 직선 FA에 내린 수선의 발을 H라 하면 삼각형 QFA의 넓이는

$$\frac{1}{2} \times \overline{FA} \times \overline{QH} = \frac{1}{2} \times 1 \times \overline{QH} = \frac{9}{32}$$

$$\text{이므로 } \overline{QH} = \frac{9}{16}$$



[그림 1]

[그림 1]의 직각삼각형 QAH에서 $\angle QAH = 60^\circ$ 이므로

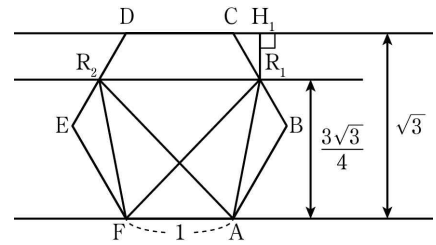
$$\begin{aligned} b = \overline{AQ} &= \overline{QH} \times \frac{1}{\sin 60^\circ} \\ &= \frac{9}{16} \times \frac{2}{\sqrt{3}} = \frac{3\sqrt{3}}{8} \end{aligned}$$

같은 방법으로 $f(a) = \frac{3\sqrt{3}}{8}$ 을 만족시키는 a의 값을 구하자.

점 P가 점 A로부터 움직인 거리가 a인 점을 R라 하고, 점 R에서 직선 FA에 내린 수선의 발을 I라 하면 삼각형 RFA의 넓이는 $\frac{1}{2} \times \overline{FA} \times \overline{RI}$ 이므로

$$f(a) = \frac{1}{2} \times 1 \times \overline{RI} = \frac{3\sqrt{3}}{8} \text{ 에서 } \overline{RI} = \frac{3\sqrt{3}}{4} \text{ 이다.}$$

$\overline{RI} = \frac{3\sqrt{3}}{4}$ 이 되는 점 R의 위치는 [그림 2]의 R_1, R_2 이다.



[그림 2]

점 R의 위치가 R_1 일 때, $a = \overline{AB} + \overline{BR_1}$ 이다.

점 R_1 에서 직선 CD에 내린 수선의 발을 H_1 이라 하면 직각삼각형 R_1CH_1 에서 $\angle R_1CH_1 = 60^\circ$ 이므로

$$\begin{aligned} a &= \overline{AB} + \overline{BR_1} \\ &= \overline{AB} + \overline{BC} - \overline{R_1C} \\ &= 1 + 1 - \overline{R_1H_1} \times \frac{1}{\sin 60^\circ} \\ &= 2 - \left(\sqrt{3} - \frac{3\sqrt{3}}{4} \right) \times \frac{2}{\sqrt{3}} \\ &= 2 - \frac{1}{2} = \frac{3}{2} \end{aligned}$$

$0 < x < 5$ 인 모든 실수 x에 대하여 $f(x) = f(5-x)$ 가 성립하므로 점 R의 위치가 R_2 일 때의 실수 a의 값은 $5 - \frac{3}{2} = \frac{7}{2}$ 이다.

$$\text{즉, } a = \frac{3}{2} \text{ 또는 } a = \frac{7}{2}$$

따라서 $(f \circ f)(a) = \frac{9}{32}$ 를 만족시키는 모든 실수 a

($0 < a < 5$)의 값의 곱은

$$\frac{3}{2} \times \frac{7}{2} = \frac{21}{4}$$

이다.

따라서 $p = \frac{\sqrt{3}}{2}, q = \frac{3\sqrt{3}}{8}, r = \frac{21}{4}$ 이므로

$$\frac{r}{p \times q} = \frac{\frac{21}{4}}{\frac{\sqrt{3}}{2} \times \frac{3\sqrt{3}}{8}} = \frac{28}{3}$$

22. [출제의도] 합집합의 성질을 이용하여 미지수를 계산한다.

$10 \notin A$ 이고 $A \cup B = \{6, 8, 10\}$ 이므로 $10 \in B$ 이다.

$a = 10$ 이면 $B = \{10, 12\}$ 이고 $A \cup B = \{6, 8, 10, 12\}$ 이므로 조건을 만족시키지 않는다.

$a + 2 = 10$ 이면 $B = \{8, 10\}$ 이고 $A \cup B = \{6, 8, 10\}$ 이므로 조건을 만족시킨다.

따라서 $a + 2 = 10, a = 8$

23. [출제의도] 점의 대칭이동과 평행이동의 성질을 이용하여 점의 좌표를 계산한다.

점 (5, 4)를 직선 $y = x$ 에 대하여 대칭이동한 점의 좌표는 (4, 5)이다. 점 (4, 5)를 y축의 방향으로 1만큼 평행이동한 점의 좌표는 (4, 6)이다.

따라서 $a = 4, b = 6$ 이므로 $ab = 24$

24. [출제의도] 항등식의 성질을 이용하여 미지수를 계산한다.

주어진 등식에서 좌변의 이차항은 $2x^2$, 우변의 이차항은 ax^2 이므로 이차항의 계수를 비교하면

$$a = 2$$

주어진 등식의 양변에 $x = 0$ 을 대입하면

$$3 \times (-2) + 8 = 0 - 2b + 0, b = -1$$

주어진 등식의 양변에 $x = 2$ 를 대입하면

$$0 + 8 = 0 + 0 + 2c, c = 4$$

따라서 $a + b + c = 2 + (-1) + 4 = 5$

[다른 풀이]

좌변을 전개하면

$$(2x+3)(x-2)+8 = 2x^2+3x-4x-6+8 = 2x^2-x+2 \dots \textcircled{1}$$

우변을 전개하면

$$ax(x-2)+b(x-2)+cx=ax^2-2ax+bx-2b+cx$$

$$=ax^2+(-2a+b+c)x-2b \dots \textcircled{C}$$

①, ②에서 $a=2, -2a+b+c=-1, -2b=2$
따라서 $a=2, b=-1, c=4$ 이고 $a+b+c=5$

25. [출제의도] 원과 좌표축의 위치 관계를 이해하여 원의 방정식을 구한다.

원의 중심이 제 2사분면에 있고 원이 x 축과 y 축에 동시에 접하므로 원의 반지름의 길이를 r 라 하면 중심의 좌표는 $(-r, r)$ 이다.

원의 중심이 곡선 $y=x^2-x-1$ 위에 있으므로

$$r=r^2+r-1, r^2=1$$

$r>0$ 이므로 $r=1$

중심이 $(-1, 1)$ 이고 반지름의 길이가 1 인 원의 방정식은 $(x+1)^2+(y-1)^2=1$

$$\text{즉, } x^2+y^2+2x-2y+1=0$$

$$a=2, b=-2, c=1$$

따라서 $a+b+c=2+(-2)+1=1$

[다른 풀이]

원 $x^2+y^2+ax+by+c=0$ 의 중심을 A 라 하면 점 A 는 제 2사분면에 있고 원이 x 축과 y 축에 동시에 접하므로 점 A 는 직선 $y=-x$ 위에 있다.

또, 점 A 는 곡선 $y=x^2-x-1$ 위에 있으므로

$$x^2-x-1=-x \text{ 에서 } x=1 \text{ 또는 } x=-1$$

점 A 의 x 좌표는 음수이므로 A $(-1, 1)$ 이다.

따라서 주어진 원의 방정식은 $(x+1)^2+(y-1)^2=1$

$$\text{즉, } x^2+y^2+2x-2y+1=0$$

$$a=2, b=-2, c=1$$

따라서 $a+b+c=2+(-2)+1=1$

26. [출제의도] 일대일대응을 이해하여 식의 최댓값을 구한다.

$f(x)=x^2-4x+3=(x-2)^2-1$ 에서 이 함수가 일대일 대응이 되기 위해서는 $a \geq 2$ 이어야 한다.

$a \geq 2$ 일 때, 함수 $f(x)$ 의 치역은 $\{y \mid y \geq f(a)\}$ 이고 치역이 집합 $Y=\{y \mid y \geq b\}$ 와 같아야 하므로 $b=f(a)$ 이다.

$$a-b=a-f(a)$$

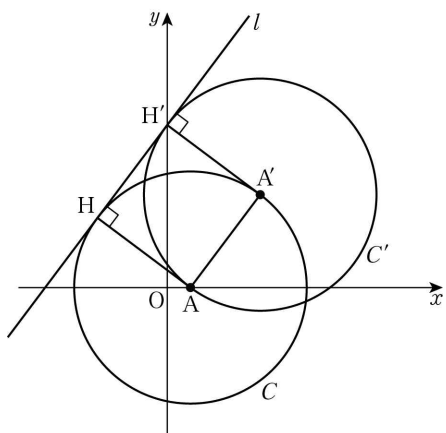
$$=-a^2+5a-3$$

$$=-\left(a-\frac{5}{2}\right)^2+\frac{13}{4}$$

$a \geq 2$ 에서 $a-b$ 의 최댓값은 $a=\frac{5}{2}$ 일 때 $\frac{13}{4}$ 이다.

따라서 $p=4, q=13$ 이므로 $p+q=17$

27. [출제의도] 도형의 이동을 이용하여 조건을 만족시키는 상수의 합을 구하는 문제를 해결한다.



두 원 C, C' 의 중심을 각각 A, A' 이라 하자.

원 C 의 중심은 A(1, 0) 이므로 조건 (나)에서

$$r=\frac{|4 \times 1 - 3 \times 0 + 21|}{\sqrt{4^2 + (-3)^2}}=5$$

원 C' 의 방정식은 $(x-a-1)^2+(y-b)^2=25$ 이고 조건 (가)에서 점 A(1, 0) 을 지나므로

$$(1-a-1)^2+(0-b)^2=25$$

$$a^2+b^2=25 \dots \textcircled{1}$$

직선 $4x-3y+21=0$ 을 l 이라 하고 두 점 A, A' 에서

직선 l 에 내린 수선의 발을 각각 H, H' 이라 하면 $\overline{AH}=\overline{A'H'}$ 이고 $\overline{AH} \perp l, \overline{A'H'} \perp l$ 이므로 직선 AA' 은 직선 l 과 평행하다.

직선 l 의 기울기는 $\frac{4}{3}$ 이므로

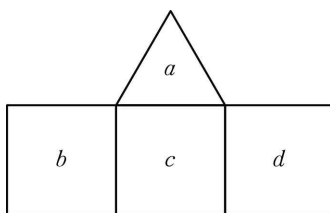
$$\frac{b-0}{(1+a)-1}=\frac{4}{3}, b=\frac{4}{3}a \dots \textcircled{2}$$

$$\textcircled{1}, \textcircled{2} \text{ 에서 } a^2+b^2=a^2+\left(\frac{4}{3}a\right)^2=\frac{25}{9}a^2=25$$

$a>0, b>0$ 이므로 $a=3, b=4$

따라서 $a+b+r=3+4+5=12$

28. [출제의도] 순열과 조합을 이용하여 조건을 만족시키는 경우의 수를 구하는 문제를 해결한다.



그림과 같이 정삼각형에 적힌 수를 a , 정사각형에 적힌 수를 왼쪽부터 차례로 b, c, d 라 하자.

조건 (가)에서 $a>b, a>c, a>d$ 이다.

조건 (나)에서 $b \neq c, c \neq d$ 이다.

(i) $b \neq d$ 일 때

a, b, c, d 가 서로 다르다.

6 이하의 자연수 중에서 서로 다른 4 개의 수를 택하는 경우의 수는 ${}_6C_4=15$

이 각각에 대하여 택한 4 개의 수 중에서 가장 큰 수를 a 라 하고, 나머지 3 개의 수를 b, c, d 로 정하면 되므로 이 경우의 수는 $1 \times 3! = 6$

따라서 $b \neq d$ 인 경우의 수는 $15 \times 6 = 90$

(ii) $b = d$ 일 때

$a > b = d, a > c$ 이므로 a, b, c, d 중 서로 다른 수의 개수는 3 이다.

6 이하의 자연수 중에서 서로 다른 3 개의 수를 택하는 경우의 수는 ${}_6C_3=20$

이 각각에 대하여 택한 3 개의 수 중에서 가장 큰 수를 a 라 하고, 나머지 2 개의 수를 $b (=d), c$ 로 정하면 되므로 이 경우의 수는 $1 \times 2! = 2$

따라서 $b = d$ 인 경우의 수는 $20 \times 2 = 40$

(i), (ii)에서 구하는 경우의 수는 $90+40=130$

[다른 풀이]

조건 (가), (나)에서 a 보다 작은 수가 적어도 2 개 존재해야 하므로 $a \geq 3$

(i) $a=3$ 일 때

c 는 1, 2 중 하나이다.

이 각각에 대하여 b, d 는 1, 2 중 c 가 아닌 수이면 되므로 $1 \times 1 = 1^2$

따라서 $a=3$ 인 경우의 수는 $2 \times 1^2 = 2$

(ii) $a=4$ 일 때

c 는 1, 2, 3 중 하나이다.

이 각각에 대하여 b, d 는 1, 2, 3 중 c 가 아닌 수이면 되므로 $2 \times 2 = 2^2$

따라서 $a=4$ 인 경우의 수는 $3 \times 2^2 = 12$

(iii) $a=5$ 일 때

c 는 1, 2, 3, 4 중 하나이다.

이 각각에 대하여 b, d 는 1, 2, 3, 4 중 c 가 아닌 수이면 되므로 $3 \times 3 = 3^2$

따라서 $a=5$ 인 경우의 수는 $4 \times 3^2 = 36$

(iv) $a=6$ 일 때

c 는 1, 2, 3, 4, 5 중 하나이다.

이 각각에 대하여 b, d 는 1, 2, 3, 4, 5 중 c 가 아닌 수이면 되므로 $4 \times 4 = 4^2$

따라서 $a=6$ 인 경우의 수는 $5 \times 4^2 = 80$

(i)~(iv)에서 구하는 경우의 수는

$$2+12+36+80=130$$

29. [출제의도] 다항식의 나눗셈과 항등식을 이용하여 다항식을 구하는 문제를 해결한다.

다항식 $f(x)$ 를 $x^2+g(x)$ 로 나눈 몫은 $x+2$ 이고 나머지는 $\{g(x)\}^2-x^2$ 이므로

$$f(x)=\{x^2+g(x)\}(x+2)+\{g(x)\}^2-x^2 \dots \textcircled{1}$$

이고 이때 $\{g(x)\}^2-x^2$ 의 차수는 $x^2+g(x)$ 의 차수보다 작다.

$g(x)$ 의 차수가 $n(n \geq 2)$ 이면 $\{g(x)\}^2-x^2$ 의 차수가 $2n$ 으로 $x^2+g(x)$ 의 차수인 n 보다 크게 되어 조건을 만족시키지 않는다. $g(x)$ 가 상수이면 $x^2+g(x)$ 의 차수와 $\{g(x)\}^2-x^2$ 의 차수가 2 로 같게 되어 조건을 만족시키지 않는다. 그러므로 $g(x)$ 의 차수는 1 이다.

이때 $x^2+g(x)$ 는 이차식이므로 $\{g(x)\}^2-x^2$ 은 일차식 또는 상수이어야 한다. $g(x)$ 의 일차항의 계수가 양수이므로 $g(x)=x+a$ (단, a 는 상수)로 놓을 수 있다.

①에서

$$f(x)=(x^2+x+a)(x+2)+(x+a)^2-x^2$$

$$=(x^2+x+a)(x+2)+2ax+a^2$$

조건 (나)에서 $f(x)$ 가 $g(x)=x+a$ 로 나누어떨어지므로 $f(-a)=0$ 이다.

$$f(-a)=(a^2-a+a)(-a+2)-2a^2+a^2$$

$$=-a^3+a^2=0$$

$$a^2(a-1)=0 \text{ 에서 } a=0 \text{ 또는 } a=1$$

$a=0$ 이면 $f(x)=(x^2+x)(x+2)$ 에서 $f(0)=0$ 이 되어 조건을 만족시키지 않는다.

$a=1$ 이면 $f(x)=(x^2+x+1)(x+2)+2x+1$ 에서

$$f(0) \neq 0 \text{ 이므로 조건을 만족시킨다.}$$

따라서 $f(x)=(x^2+x+1)(x+2)+2x+1$ 이고

$$f(2)=7 \times 4 + 4 + 1 = 33$$

[다른 풀이]

다항식 $f(x)$ 를 $x^2+g(x)$ 로 나눈 몫이 $x+2$ 이고 나머지가 $\{g(x)\}^2-x^2$ 이므로

$$f(x)=\{x^2+g(x)\}(x+2)+\{g(x)\}^2-x^2$$

$$=x^2(x+2)+(x+2)g(x)+\{g(x)\}^2-x^2$$

$$=(x+2)g(x)+\{g(x)\}^2+x^2(x+2)-x^2$$

$$=g(x)\{x+2+g(x)\}+x^3+x^2$$

$$=g(x)\{x+2+g(x)\}+x^2(x+1)$$

이때 $f(x)$ 는 $g(x)$ 로 나누어떨어지므로 $x^2(x+1)$ 도 $g(x)$ 로 나누어떨어져야 한다. ①

$$f(0)=g(0)\{2+g(0)\} \neq 0 \text{ 에서}$$

$$g(0) \neq 0 \text{ 이고 } g(0) \neq -2 \text{ 이다. ②}$$

$g(x)$ 의 최고차항의 계수가 양수이고 ①, ②에 의하여 $g(x)=k(x+1)$ ($k>0$)

한편, $x^2+g(x)$ 로 나눈 나머지가 $\{g(x)\}^2-x^2$ 이므로 $\{g(x)\}^2-x^2$ 의 차수가 $x^2+g(x)$ 의 차수보다 작아야 한다.

$$x^2+g(x)=x^2+k(x+1)$$

$$=x^2+kx+k$$

$$\{g(x)\}^2-x^2=\{k(x+1)\}^2-x^2$$

$$=(k^2-1)x^2+2k^2x+k^2$$

즉, $\{g(x)\}^2-x^2$ 의 차수가 $x^2+g(x)$ 의 차수보다 작으려면 $k^2-1=0$ 이어야 한다.

$$k>0 \text{ 이므로 } k=1$$

$$f(x)=(x+1)\{x+2+(x+1)\}+x^2(x+1)$$

$$=(x+1)(2x+3)+x^2(x+1)$$

따라서

$$f(2)=(2+1)(2 \times 2+3)+2^2 \times (2+1)$$

$$=3 \times 7+4 \times 3=33$$

30. [출제의도] 이차함수와 이차방정식의 관계를 이용하여 함수를 추론한다.

$\alpha \in A, \alpha \in B$ 이므로 $f(\alpha)=g(\alpha)=1$ 이다.

또한 $\beta \in A, \beta \notin B$ 이므로

$$f(\beta)=1, g(\beta) \neq 1 \text{ 또는 } f(\beta) \neq 1, g(\beta)=1 \text{ 이다.}$$

즉, 방정식 $f(x)=1$ 의 모든 실근의 집합을 C , 방정식

$g(x)=1$ 의 모든 실근의 집합을 D 라 하면
 $C=\{\alpha, \beta\}$, $D=\{\alpha\}$ 또는 $C=\{\alpha\}$, $D=\{\alpha, \beta\}$ 이다.

(i) $C=\{\alpha, \beta\}$, $D=\{\alpha\}$ 일 때

두 함수 $f(x)$, $g(x)$ 의 식은

$$f(x)=2(x-\alpha)(x-\beta)+1, g(x)=(x-\alpha)^2+1 \dots\dots \textcircled{1}$$

이때 $\beta+3 \in B$ 에서 $f(\beta+3)=g(\beta+3)$ 이므로

$$2(\beta+3-\alpha) \times 3+1=(\beta+3-\alpha)^2+1$$

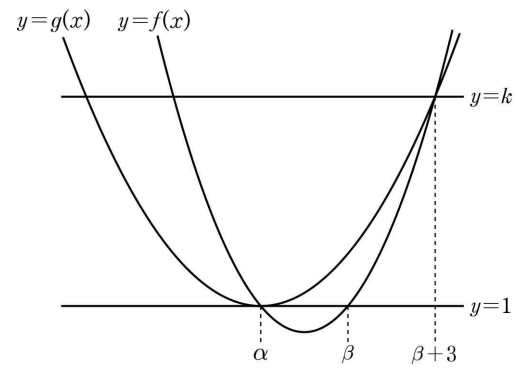
$$\beta+3-\alpha=0 \text{ 또는 } \beta+3-\alpha=6$$

$$\text{즉, } \beta-\alpha=-3 \text{ 또는 } \beta-\alpha=3$$

$$\alpha < \beta \text{ 이므로 } \beta-\alpha=3 \dots\dots \textcircled{2}$$

두 곡선 $y=f(x)$, $y=g(x)$ 와 직선 $y=1$ 은

[그림 1]과 같다.



[그림 1]

[그림 1]에서 방정식 $\{f(x)-k\}\{g(x)-k\}=0$ 의 서로 다른 실근의 개수가 3이 되도록 하는 실수 k 의 값은 $k=g(\beta+3)$ 이다. $\dots\dots \textcircled{3}$

곡선 $y=f(x)$ 의 축의 방정식은 $x=\frac{\alpha+\beta}{2}$ 이므로

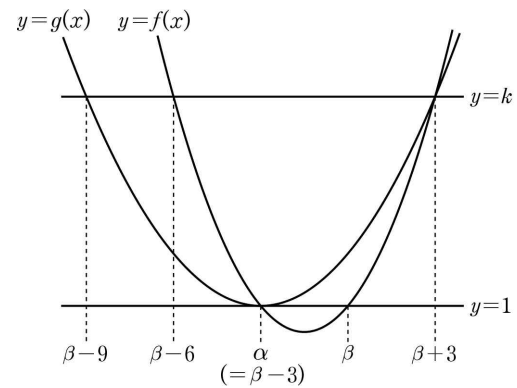
곡선 $y=f(x)$ 와 직선 $y=k$ 의 교점의 x 좌표는 $\alpha-3$, $\beta+3$ 이다.

이때 $\alpha-3=(\beta-3)-3=\beta-6$ 이다.

또한, 곡선 $y=g(x)$ 의 축의 방정식은 $x=\alpha$ 이므로

곡선 $y=g(x)$ 와 직선 $y=k$ 의 교점의 x 좌표는 $2\alpha-\beta-3$, $\beta+3$ 이다.

이때 $2\alpha-\beta-3=2(\beta-3)-\beta-3=\beta-9$ 이다.



[그림 2]

[그림 2]에서 방정식 $\{f(x)-k\}\{g(x)-k\}=0$ 의 서로 다른 실근은 $\beta-9$, $\beta-6$, $\beta+3$ 이고 그 합이 12이므로

$$(\beta-9)+(\beta-6)+(\beta+3)=12, \beta=8$$

$$\textcircled{2} \text{에서 } \alpha=5$$

$$\textcircled{1} \text{에서 } f(x)=2(x-5)(x-8)+1, g(x)=(x-5)^2+1$$

$$\textcircled{3} \text{에서 } k=g(\beta+3)=g(11)=(11-5)^2+1=37$$

(ii) $C=\{\alpha\}$, $D=\{\alpha, \beta\}$ 일 때

두 함수 $f(x)$, $g(x)$ 의 식은

$$f(x)=2(x-\alpha)^2+1, g(x)=(x-\alpha)(x-\beta)+1 \text{이다.}$$

이때 $\beta+3 \in B$ 에서 $f(\beta+3)=g(\beta+3)$ 이므로

$$2(\beta+3-\alpha)^2+1=(\beta+3-\alpha) \times 3+1$$

$$\beta+3-\alpha=0 \text{ 또는 } \beta+3-\alpha=\frac{3}{2}$$

$$\text{즉, } \beta-\alpha=-3 \text{ 또는 } \beta-\alpha=-\frac{3}{2}$$

이때 두 경우 모두 $\alpha < \beta$ 라는 조건을 만족시키지 않는다.

(i), (ii)에서 $\alpha=5$, $\beta=8$, $k=37$

따라서 $\alpha+\beta+k=5+8+37=50$