

사회탐구 영역(사회·문화)

제 4 교시

성명

수험 번호

3

제 [] 선택

1

1. 밑줄 친 ㉠ ~ ㉣과 같은 현상의 일반적인 특징에 대한 설명으로 옳은 것은?

사람들은 ㉠ 황사 및 미세 먼지에 관한 기상 예보에는 민감하게 대응하는 반면, 실내 공간에서의 공기 오염은 인식하지 못하곤 한다. 일상생활에서 발생하는 먼지 외에도 ㉡ 벽지나 가구 등에 함유된 화학 물질의 방출로 인하여 밀폐된 실내 공간에서 오염 물질의 농도는 점차 짙어진다. 이에 전문가들은 날씨와 상관없이 ㉢ 환기를 통해 실내 공기의 질을 관리할 것을 권장하고 있다.

- ① ㉠과 같은 현상은 불가치적이다.
- ② ㉡과 같은 현상은 개연성의 원리가 작용한다.
- ③ ㉢과 같은 현상은 보편성과 특수성이 공존한다.
- ④ ㉠과 같은 현상은 ㉡과 같은 현상에 비해 인과 관계가 명확하다.
- ⑤ ㉡과 같은 현상은 ㉢과 같은 현상과 달리 경험적 자료로 연구할 수 있다.

2. 다음 글에 부각되어 있는 정보 사회의 문제점에 대한 설명으로 가장 적절한 것은?

소셜 미디어의 발전으로 누구나 자신의 정보와 의견을 쉽게 전달할 수 있게 되었다. 이는 정치적 영역에서 시민들의 참여를 활성화하는 긍정적인 측면이 있다. 하지만 소셜 미디어를 통해 접하는 정보가 항상 검증된 사실만을 담고 있는 것은 아니다. 특히 일부 개인이나 집단은 의도적으로 가짜 뉴스를 제작하고 유포하여 사람들의 올바른 판단을 방해하고 사회 갈등을 조장한다.


- ① 특정 집단이 정보를 독점하여 나타나는 현상이다.
- ② 정보를 비판적으로 분석하는 능력의 필요성을 보여 준다.
- ③ 기업의 과도한 개인 정보 수집으로 인해 나타나는 현상이다.
- ④ 정보 취약 계층에 대한 정보 기기 지원의 필요성을 보여 준다.
- ⑤ 지식 재산권 침해를 예방하기 위한 제도의 필요성을 보여 준다.

3. 다음 글에서 강조하는 문화 이해 태도에 대한 설명으로 옳은 것은?

남미 원주민 중 하나인 아체족은 아이가 다섯 살 정도 되어도 어른이 목말을 태우거나 안고 다니는 경우가 많다. 이러한 아체족의 양육법을 보고 어떤 서구인들은 아이의 독립심을 저해하는 방식이라며 평가 절하하기도 한다. 그러나 아체족이 수렵·채집 생활을 하는 열대 우림에는 독충과 뱀, 맹수가 득실거린다. 이들의 양육법은 위험한 환경 속에서 아이의 생존율을 높이기 위한 생활 방식으로서 나름의 가치가 있는 것으로 보아야 한다.

- ① 타문화가 우월하다고 믿고 자문화를 폄하한다.
- ② 서로 다른 문화 간에 우열이 존재함을 전제한다.
- ③ 국수주의로 변질될 우려가 있다는 비판을 받는다.
- ④ 문화의 다양성 보존을 저해한다는 비판을 받는다.
- ⑤ 문화를 해당 사회의 맥락에서 이해해야 한다고 본다.


4. 사회·문화 현상을 보는 갑, 을의 관점에 대한 설명으로 옳은 것은? [3점]



장기적인 무직 상태에 놓여 있는 청년들이 많은 원인이 무엇이라고 보십니까?

사회자

학교 교육 및 직업 교육이 시대 변화에 뒤처져서 오늘날 사회에서 요구하는 기술이나 지식을 습득하지 못하는 청년들이 많기 때문입니다.



갑



취업에 실패한 청년들이 주변의 따가운 시선을 받으면서 스스로를 능력이 부족하고 쓸모없는 존재로 여기게 되어 더 이상 구직 활동에 적극적으로 나서지 않기 때문입니다.

- ① 갑의 관점은 사회가 유기체와 유사한 특성을 지니고 있다고 본다.
- ② 갑의 관점은 개인들의 주관적 상황 정의에 대한 이해를 중시한다.
- ③ 을의 관점은 집단 간 갈등이 사회 변동의 원동력이라고 본다.
- ④ 을의 관점은 갑의 관점과 달리 지배 집단의 이익을 대변하는 논리로 활용될 수 있다는 비판을 받는다.
- ⑤ 갑, 을의 관점은 모두 사회·문화 현상을 사회 구조적 측면에서 설명한다.

5. 다음은 일탈 이론 A ~ C에 대한 수행 평가지이다. 이에 대한 설명으로 옳은 것은? (단, A ~ C는 각각 낙인 이론, 머튼의 아노미 이론, 차별 교체 이론 중 하나이다.) [3점]

일탈 이론의 특징 서술하기

이름: ○○○

1. A와 구분되는 B의 특징을 2가지 서술하시오.

연번	답안	점수
1	타인과의 상호 작용 과정을 중심으로 일탈을 설명한다.	0
2	2차적 일탈 과정에 주목한다.	1

2. B와 구분되는 C의 특징을 2가지 서술하시오.

연번	답안	점수
1	일탈이 차별적 제재에서 비롯된다고 본다.	㉠
2	(가)	1

○ 채점 기준: 맞으면 1점, 틀리면 0점 부여

- ① ㉠은 1이다.
- ② A는 정상적인 집단과의 교류 확대를 일탈의 해결책으로 본다.
- ③ B는 문화적 목표와 제도적 수단 간 괴리를 일탈의 원인으로 본다.
- ④ C는 일탈을 규정하는 객관적 기준이 없다고 본다.
- ⑤ (가)에는 '일탈이 일탈자와의 교류를 통한 학습의 결과임을 강조한다.'가 들어갈 수 있다.

2 (사회·문화)

사회탐구 영역

6. 다음 글에서 강조하는 개인과 사회의 관계를 바라보는 관점에 대한 옳은 설명만을 <보기>에서 고른 것은? [3점]

많은 사람들이 정책 수립의 기준으로 ‘공동체의 이익’을 내세우며 공동체를 독립적 실체로 여긴다. 하지만 공동체란 허구적 개념으로, 이를 구성하는 개인들의 집합체에 불과하다. 따라서 ‘공동체의 이익’이라는 것도 결국 개개인의 이익을 모두 합한 것일 뿐이다.

〈 보기 〉

- ㄱ. 사회의 구속성보다 개인의 능동성을 강조한다.
- ㄴ. 개인은 사회 속에서만 존재 의미를 지닌다고 본다.
- ㄷ. 사회 규범은 개인들이 옳다고 믿기에 존재한다고 본다.
- ㄹ. 사회는 개인의 속성으로 환원할 수 없는 고유한 성격을 지닌다고 본다.

- ① ㄱ, ㄴ ② ㄱ, ㄷ ③ ㄴ, ㄷ ④ ㄴ, ㄹ ⑤ ㄷ, ㄹ

7. A ~ C에 대한 설명으로 옳은 것은? (단, A ~ C는 각각 주류 문화, 하위문화, 반문화 중 하나이다.)

교사: 지난 시간에 배운 A, B, C에 대해 설명해 볼까요?
 갑: A는 한 사회의 구성원 대부분이 공유하는 문화입니다.
 을: 천주교는 조선 시대에 B의 성격을 띠고 있었지만, 현재 우리나라에서는 그렇지 않습니다.
 병: C의 사례로 우리나라 안에서 지역별로 다른 사투리를 쓰는 것을 들 수 있습니다.
 교사: 세 학생 모두 옳게 설명했네요.

- ① A는 하위문화, B는 반문화이다.
- ② A는 그 사회의 모든 C의 총합으로 설명할 수 있다.
- ③ B는 A와 달리 사회에 따라 상대적으로 규정된다.
- ④ B에 해당하는 사례는 C에도 해당한다.
- ⑤ C는 B와 달리 사회 변화에 따라 A가 되기도 한다.

8. 다음 사례에 나타난 연구 윤리상의 문제점으로 가장 적절한 것은?

연구자 갑은 15세 이용가로 분류된 특정 게임들이 청소년에게 해로울 수 있다는 여러 전문가들의 의견을 접하고, 이 게임들의 선정성·폭력성·사행성 정도를 확인하기로 하였다. 이에 갑은 모집 공고를 보고 자원한 청소년 50명과 성인 50명에게 2주간 매일 8시간씩 해당 게임들을 일정에 따라 실행하도록 한 후, 이 게임들에 대한 30개 평가 항목에 응답하게 하였다. 갑은 무성의하게 응답한 일부 자료를 제외하고 분석한 연구 결과를 게임 관련 학회에서 발표하였다.

- ① 연구 결과를 연구 외의 목적으로 사용하였다.
- ② 개인적 이해관계를 반영하여 자료를 선별하였다.
- ③ 출처를 밝히지 않고 다른 사람의 연구 결과를 인용하였다.
- ④ 결과 발표 단계에서 연구 대상자의 익명성을 보장하지 않았다.
- ⑤ 연구 대상자에게 부정적 영향을 끼칠 수 있는 연구를 시행하였다.

9. 밑줄 친 ㉠, ㉡에 부각되어 있는 문화의 속성에 대한 옳은 진술만을 <보기>에서 고른 것은? [3점]

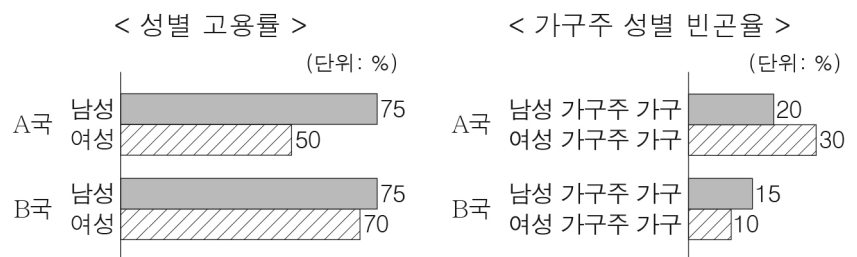
㉠ 바둑은 우리나라 사람들에게 익숙한 오락 거리이다. 바둑은 서양의 체스와 마찬가지로 두 사람이 판을 놓고 마주 앉아 게임을 하는 것이지만, 바둑돌과 체스 말에 적용되는 규칙은 다르다. 체스 말은 왕, 여왕, 기사 등으로 계급이 나뉘어져 있고, 계급별로 정해진 이동 규칙에 의해서만 움직인다. 반면 바둑돌은 별도의 위계가 없고 바둑판의 빈 점 어디에든 놓을 수 있으며, 다른 돌들과의 상대적 위치가 중요하게 작용한다. 한 연구자는 ㉡ 바둑과 체스의 이와 같은 특징이 동서양 각각의 세계관과 연관되어 있다고 본다. 세상을 절대자가 만든 ‘기하학적 규칙의 조합’으로 보는 서양과 ‘관계의 집합’으로 보는 동양의 세계관이 게임에도 반영되어 있다는 것이다.

〈 보기 〉

- ㄱ. ㉠: 문화는 세대를 거치면서 점차 복잡하고 풍부해진다.
- ㄴ. ㉠: 문화는 구성원 간 사고와 행동의 동질성을 형성한다.
- ㄷ. ㉡: 문화는 고정되어 있지 않고 끊임없이 변화한다.
- ㄹ. ㉡: 문화는 여러 요소가 유기적으로 결합한 하나의 총체이다.

- ① ㄱ, ㄴ ② ㄱ, ㄷ ③ ㄴ, ㄷ ④ ㄴ, ㄹ ⑤ ㄷ, ㄹ

10. 그래프에 대한 옳은 분석만을 <보기>에서 고른 것은? [3점]



* 성별 고용률(%) = $\frac{\text{성별 15세 이상 취업자 수}}{\text{성별 15세 이상 인구}} \times 100$

** 가구주 성별 빈곤율(%) = $\frac{\text{가구주 성별 빈곤 가구 수}}{\text{가구주 성별 가구 수}} \times 100$

*** A국과 B국 모두 남성 가구주 가구 수가 여성 가구주 가구 수보다 많음.

〈 보기 〉

- ㄱ. A국의 15세 이상 취업자 중, 남성 취업자 수는 여성 취업자 수의 1.5배이다.
- ㄴ. B국의 15세 이상 남성 중, 취업자 수는 취업자가 아닌 사람 수의 3배이다.
- ㄷ. A국은 전체 가구의 50%가 빈곤 가구에 해당한다.
- ㄹ. B국의 빈곤 가구 중, 남성 가구주 가구 수가 여성 가구주 가구 수보다 많다.

- ① ㄱ, ㄴ ② ㄱ, ㄷ ③ ㄴ, ㄷ ④ ㄴ, ㄹ ⑤ ㄷ, ㄹ

11. 다음 글에 나타난 사회 불평등 현상을 보는 관점에 대한 옳은 설명만을 <보기>에서 고른 것은?

자본주의 사회의 불평등은 자본가가 노동자를 착취하는 관계에서 기인한다. 노동자와 자본가의 이익은 상충하기에 이들은 상대를 희생시켜야 이익을 얻을 수 있는 관계에 있다. 자본가가 자신의 이익을 최대한 늘리려고 한 결과, 노동자는 노동에 대한 정당한 대가를 받지 못하여 자신이 생산한 상품을 구매할 만한 재력을 갖추지 못하게 된다. 이와 같은 구조적 모순은 자본가와 노동자 간 불평등을 심화시킨다.

< 보기 >

ㄱ. 사회 불평등 현상을 극복해야 할 대상으로 본다.
 ㄴ. 사회적 희소가치의 배분 기준이 지배 집단에게 유리하다고 본다.
 ㄷ. 사회적 희소가치의 차등 분배가 개인의 성취동기에 긍정적으로 작용한다고 본다.
 ㄹ. 개인의 귀속적 요인이 사회 불평등 현상에 미치는 영향을 간과한다는 비판을 받는다.

- ① ㄱ, ㄴ ② ㄱ, ㄷ ③ ㄴ, ㄷ ④ ㄴ, ㄹ ⑤ ㄷ, ㄹ

12. 다음 자료는 한 연구를 요약한 것이다. 이에 대한 옳은 설명만을 <보기>에서 고른 것은? [3점]

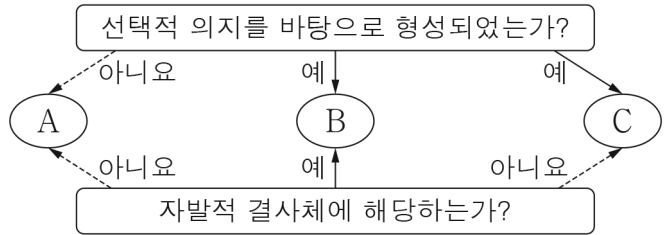
<p><연구 주제 선정> 고등학생의 우울감 및 ㉠ 학업 성취도에 집단 상담 프로그램이 미치는 영향을 연구하고자 함.</p>	<p><㉡ 자료 수집> 집단 상담 프로그램 시행 전·후에 각각 우울감 지수와 지필 고사 점수를 조사함.</p>													
<p><연구 가설 수립> 다음과 같이 가설을 세움. -가설1: (가) -가설2: 집단 상담 프로그램은 고등학생의 학업 성취도를 향상시킬 것이다.</p>	<p><자료 분석 및 가설 검증> A반, B반의 우울감 지수 및 지필 고사 점수의 평균값은 표와 같고, 자료 분석 결과 가설1과 가설2 중 하나만 수용됨.</p> <table border="1" style="margin-left: auto; margin-right: auto;"> <caption>(단위: 점)</caption> <thead> <tr> <th>구분</th> <th>A반</th> <th>B반</th> </tr> </thead> <tbody> <tr> <td rowspan="2">우울감 지수</td> <td>사전 6.6</td> <td>6.7</td> </tr> <tr> <td>사후 6.8</td> <td>4.8</td> </tr> <tr> <td rowspan="2">지필 고사 점수</td> <td>사전 61.8</td> <td>61.7</td> </tr> <tr> <td>사후 63.3</td> <td>60.7</td> </tr> </tbody> </table> <p>* 우울감 지수는 10점이 최고점이며, 수치가 높을수록 우울감 정도가 높음.</p>	구분	A반	B반	우울감 지수	사전 6.6	6.7	사후 6.8	4.8	지필 고사 점수	사전 61.8	61.7	사후 63.3	60.7
구분	A반	B반												
우울감 지수	사전 6.6	6.7												
	사후 6.8	4.8												
지필 고사 점수	사전 61.8	61.7												
	사후 63.3	60.7												
<p><연구 설계> ○○ 고등학교 2학년 A, B반을 연구 대상으로 선정하여 2개월 동안 A반은 평소와 같이 생활하도록 하고, B반에는 집단 상담 프로그램을 진행하기로 함.</p>														

< 보기 >

ㄱ. 방법론적 이원론에 기초한 연구 방법을 적용하였다.
 ㄴ. ㉠에 대한 조작적 정의는 ㉡ 단계 이전에 이루어진다.
 ㄷ. A반에서는 B반과 달리 독립 변인 처치로 인한 영향이 나타났다.
 ㄹ. (가)에는 '집단 상담 프로그램은 고등학생의 우울감을 낮출 것이다.'가 들어갈 수 있다.

- ① ㄱ, ㄴ ② ㄱ, ㄷ ③ ㄴ, ㄷ ④ ㄴ, ㄹ ⑤ ㄷ, ㄹ

13. 사회 집단 A ~ C에 대한 설명으로 옳은 것은? (단, A ~ C는 각각 가족, 시민 단체, 회사 중 하나이다.) [3점]



- ① A는 가족, B는 회사이다.
 ② C는 결합 자체를 목적으로 하는 사회 집단이다.
 ③ A는 C와 달리 1차 집단에 해당한다.
 ④ B는 A와 달리 구성원에 대한 비공식적 통제가 일반적이다.
 ⑤ C는 B와 달리 공식 조직에 해당한다.

14. (가), (나)에 나타난 문화 변동에 대한 설명으로 옳은 것은?

(가) 미국 알래스카주 남부 해안 원주민들의 언어였던 에야크어는 소멸되었다. 원주민들이 백인들의 지배하에 놓인 이후로 수 세대에 걸쳐 학교와 사회에서 영어를 배우고 사용하면서 에야크어를 할 줄 아는 사람이 없어졌기 때문이다.
 (나) 우리 음악계에서 국악과 서양 음악을 접목하는 시도가 이어지면서 이목을 끌고 있다. 전통 민요나 판소리 등이 재즈, 록, 댄스 음악 등과 결합해 새로운 정체성을 보이는 이른바 퓨전 국악은 젊은 세대에게도 큰 호응을 얻고 있다.

- ① (가)에서는 간접 전파에 의한 문화 변동이 나타난다.
 ② (나)에서는 발견에 의한 문화 변동이 나타난다.
 ③ (가), (나)에서는 모두 강제적 문화 접변이 나타난다.
 ④ (가)에서는 문화 동화가, (나)에서는 문화 융합이 나타난다.
 ⑤ (가)에서는 (나)와 달리 문화 접변 이후에도 자문화의 정체성이 남아 있다.

15. 표에 대한 분석으로 옳은 것은? (단, t년에 갑국과 을국의 부양 인구는 동일하며, t+50년에 각각 2배로 증가하였다.) [3점]

구분	갑국		을국	
	t년	t+50년	t년	t+50년
총부양비	50	75	25	100
유소년 부양비	30	20	10	50

* 총부양비 = $\frac{\text{유소년 인구}(0\sim 14\text{세 인구}) + \text{노인 인구}(65\text{세 이상 인구})}{\text{부양 인구}(15\sim 64\text{세 인구})} \times 100$
 ** 유소년 부양비 = $\frac{\text{유소년 인구}(0\sim 14\text{세 인구})}{\text{부양 인구}(15\sim 64\text{세 인구})} \times 100$
 *** 전체 인구에서 노인 인구가 차지하는 비율이 7% 이상이면 고령화 사회, 14% 이상이면 고령 사회, 20% 이상이면 초고령 사회임.

- ① t년에 갑국과 을국은 모두 고령화 사회에 해당한다.
 ② t년에 갑국에서 부양 인구 100명당 노인 인구는 50명이다.
 ③ t+50년의 전체 인구는 갑국이 을국보다 많다.
 ④ t+50년에 부양 인구가 노인 인구나 유소년 인구를 부양하는 데 지출한 총비용은 을국이 갑국보다 많다.
 ⑤ 을국에서 유소년 인구 대비 노인 인구의 비는 t+50년이 t년보다 크다.

4 (사회·문화)

사회탐구 영역

16. 다음은 질문에 따라 자료 수집 방법 A ~ C를 구분한 것이다. 이에 대한 설명으로 옳은 것은? (단, A ~ C는 각각 면접법, 질문지법, 참여 관찰법 중 하나이다.) [3점]

- A와 B는 ‘언어적 응답을 통한 자료 수집이 필수적인가?’라는 질문으로는 구분할 수 없지만, (가) 라는 질문으로 구분할 수 있다.
- A와 C는 (나) 라는 질문으로는 구분할 수 없지만, ‘질적 연구에서 주로 활용되는가?’라는 질문으로 구분할 수 있다.

- ① A는 B에 비해 시간과 비용 측면에서 효율성이 높다.
- ② B는 C와 달리 문명자에게 사용할 수 있다.
- ③ C는 A에 비해 자료 수집 상황에 대한 통제 수준이 높다.
- ④ (가)에는 ‘조사 대상자의 주관적 인식에 관한 자료를 수집할 수 있는가?’가 들어갈 수 있다.
- ⑤ (나)에는 ‘변수 간의 관계를 파악하는 데 주로 활용되는가?’가 들어갈 수 있다.

17. 밑줄 친 ㉠ ~ ㉣에 대한 설명으로 옳은 것은?

피아노 연주를 좋아했던 갑은 예술 고등학교에 가고 싶었지만 부모님의 반대로 일반 고등학교에 진학하였다. ㉠ 의사가 되길 바라는 부모님의 기대에 따라 갑은 학업에 열심히 임하면서도 ㉡ 피아노 동호회 활동에도 꾸준히 참여하였다. ㉢ 대학 입시를 앞두고 어떤 계열로 진학할지 ㉣ 고민하던 갑은 부모님을 설득해 결국 음대에 진학하였고 이후 ㉤ 세계적인 콩쿠르에서 입상하며 피아니스트로서 자신의 이름을 널리 알렸다.

- ① ㉠은 귀속 지위에 해당한다.
- ② ㉡은 공식적 사회화 기관에 해당한다.
- ③ ㉢은 2차적 사회화 기관에 해당한다.
- ④ ㉣은 갑의 역할 갈등에 해당한다.
- ⑤ ㉤은 갑의 역할에 대한 보상에 해당한다.

18. 다음 글에 나타난 사회 변동 이론에 대한 옳은 설명만을 <보기>에서 고른 것은?

모든 문화는 장기간에 걸쳐 생성·소멸의 과정을 되풀이한다. 문화는 거칠고 원시적인 모습에서 시작하여 정치·예술·과학 등이 발달함에 따라 점차 세련되고 정교해진다. 하지만 문화가 정점을 지난 후에는 상업주의와 결합하여 세속화되는 몰락의 길을 걷게 되면서 결국 사멸한다.

< 보기 >

- ㄱ. 사회 변동이 곧 진보와 발전의 과정이라고 본다.
- ㄴ. 사회 변동이 일정한 양상을 반복하며 진행된다고 본다.
- ㄷ. 사회 변동에 대응하는 인간의 노력을 과소평가한다는 비판을 받는다.
- ㄹ. 서구 제국주의 역사를 정당화하는 수단으로 악용될 수 있다는 비판을 받는다.

- ① ㄱ, ㄴ ② ㄱ, ㄷ ③ ㄴ, ㄷ ④ ㄴ, ㄹ ⑤ ㄷ, ㄹ

19. 밑줄 친 ㉠, ㉡에 대한 설명으로 가장 적절한 것은? [3점]

- 20세기 초 영국에서는 자신이 선거에 참여할 수 없다는 현실에 부당함을 느낀 여성들이 뜻을 함께하는 사람들과 조합을 구성해 ㉠ 여성 참정권 운동을 진행하였다. 이들이 끊임없이 투쟁한 결과 21세 이상의 모든 여성이 남성과 동등한 투표권을 갖게 되었다.
- 지구 온난화로 북극의 동물들이 위기에 처한 가운데 거대한 굴착기와 송유관의 무리한 설치로 인해 환경 파괴가 더욱 심해지고 있다. 이에 한 환경 단체는 북극을 보호 구역으로 지정하기 위해 전세계 많은 사람들의 동참을 이끌어 내며 수년간 ㉡ 환경 운동을 지속해 오고 있다.

- ① ㉠은 자본주의 체제를 근본적으로 바꾸려는 다수의 행동이다.
- ② ㉡은 일시적이고 즉흥적인 감정에 따른 다수의 행동이다.
- ③ ㉠은 ㉡과 달리 과거의 사회 질서로 돌아가려는 다수의 행동이다.
- ④ ㉡은 ㉠과 달리 자신의 신념과 가치를 실현하기 위한 다수의 행동이다.
- ⑤ ㉠, ㉡은 모두 뚜렷한 목표와 이를 달성하기 위한 체계적 조직을 바탕으로 한 다수의 행동이다.

20. 다음 자료에 대한 분석으로 옳은 것은?

표는 우리나라 사회 보장 제도와 동일한 갑국의 사회 보장 제도 (가), (나)의 수급자 비율을 나타낸 것이다. (가)는 노인의 생활 안정과 복지 증진을 위해 소득 인정액이 일정 수준 이하인 65세 이상 노인에게 연금을 지급하는 제도이다. 반면 (나)는 고령이나 노인성 질병 등의 사유로 일상생활을 혼자 수행하기 어려운 노인 등에게 신체 활동 및 가사 활동 지원 등에 필요한 장기 요양 급여를 제공하는 제도이다.

(단위: %)

구분	t년		t+30년	
	(가)	(나)	(가)	(나)
남성	4.3	4.5	4.2	4.5
여성	6.4	6.9	2.6	3.5
전체	5.0	5.3	3.4	4.0

* t년과 t+30년의 갑국 전체 인구는 동일함.

** 해당 집단의 수급자 비율(%) = $\frac{\text{해당 집단의 수급자 수}}{\text{해당 집단의 인구}} \times 100$

- ① t년과 t+30년 모두 남성 인구가 여성 인구보다 많다.
- ② t년에 (나)의 수급자 수는 여성이 남성보다 많다.
- ③ (가), (나) 중 강제 가입 원칙이 적용되는 제도의 여성 수급자 수는 t년이 t+30년보다 많다.
- ④ (가), (나) 중 상호 부조의 원리가 적용되는 제도의 남성 수급자 수는 t년과 t+30년에 동일하다.
- ⑤ (가), (나) 중 사후 처방적 성격이 강한 제도의 남성 수급자 비율과 여성 수급자 비율의 차이는 t+30년이 t년보다 크다.

※ 확인 사항

답안지의 해당란에 필요한 내용을 정확히 기입(표기)했는지 확인하십시오.