

2022학년도 11월 고1 전국연합학력평가 문제지

탐구 영역(통합사회)

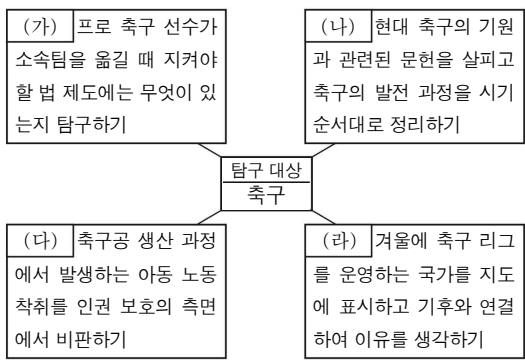
제 4 교시

성명

수험 번호 1

1

1. 다음은 (가)~(라) 관점에서 '축구'와 관련된 탐구 활동을 선정한 것이다. 이에 대한 설명으로 가장 적절한 것은? (단, (가)~(라)는 각각 공간적, 사회적, 시간적, 윤리적 관점 중 하나이다.)



- ① (가)는 사회 현상을 시간의 흐름 속에서 파악하는 관점이다.
- ② (나)는 사회가 지향해야 할 가치와 규범을 살펴보는 관점이다.
- ③ (다)는 어떤 현상이 있기까지의 시대적 배경과 맥락을 살펴보는 관점이다.
- ④ (라)는 사회 현상을 위치와 장소, 분포 등 공간적 맥락에서 살펴보는 관점이다.
- ⑤ 통합적 관점은 사회 현상을 (가)~(라) 중 어느 한 관점에서만 탐구하는 것이다.

2. 다음은 학생이 작성한 주제 탐구 보고서의 일부이다. (가)에 들어갈 내용으로 가장 적절한 것은?

주제 탐구 보고서 1학년 □반 이름: □□□

○ 주제: (가)

○ 사례 조사하기

(사례 1) 에스파냐의 작은 마을 부뇰은 지역 전통의 토마토 축제를 활성화하기 위해 노력했다. 지역의 특산품인 토마토를 던지는 모습이 유명해지면서 매년 전 세계에서 수만 명이 축제 참가를 위해 부뇰로 모여든다.

(사례 2) 프랑스의 카망베르 마을은 지역 특산품인 치즈를 지리적 표시제로 등록하여 상표로 인정받았다. 이를 계기로 카망베르 치즈가 세계적으로 더욱 널리 알려지면서 카망베르 마을도 함께 유명해졌다.

- ① 다국적 기업의 공간적 분업
- ② 세계화에 따른 문화 획일화 현상
- ③ 지역 경쟁력 강화를 위한 지역화 전략
- ④ 국제적 중심지 역할을 하는 세계 도시의 등장
- ⑤ 세계 무역 기구의 등장과 자유 무역 협정의 확대

3. (가)에 해당하는 환경 문제가 지속될 경우 우리나라에서 나타날 수 있는 변화에 대한 추론으로 가장 적절한 것은?

○○신문 2000년 ○○월 ○○일

북극해에서 열린 특별한 콘서트

이탈리아의 한 피아노 연주자는 빙하가 떠다니는 북극해에서 '북극을 위한 비가(悲歌)'를 연주했다. 이 곡은 북극 빙하를 녹이는 (가)의 위험을 경고하기 위해 작곡된 것이다. 그가 연주하는 도중에도 빙하의 일부가 떨어져 내리는 소리는 멈추지 않았다.

- ① 봄꽃의 개화 시기가 늦어질 것이다.
- ② 열대야 발생 일수가 감소할 것이다.
- ③ 냉대림의 분포 면적이 넓어질 것이다.
- ④ 열대성 질병의 발병률이 감소할 것이다.
- ⑤ 해안 저지대의 침수 위험이 증가할 것이다.

4. 다음은 학생들의 형성 평가 답안을 정리한 것이다. 각 진술에 대해 모두 옳게 응답한 학생은? [3점]

○ 산업화·도시화로 인해 나타나는 변화에 대한 진술이 맞으면 '○', 틀리면 '×'를 표시하십시오.

진술	학생				
	갑	을	병	정	무
도시 내 토지 이용의 집약도가 높아진다.	○	○	○	○	×
도시에 거주하는 인구의 비율이 증가한다.	○	○	○	×	×
인공적으로 포장된 지표 면적이 감소한다.	○	×	×	×	×
사람들이 종사하는 직업의 종류가 다양해진다.	○	○	×	×	×

- ① 갑 ② 을 ③ 병 ④ 정 ⑤ 무

5. 갑의 입장에서 을의 입장에 대해 제기할 수 있는 비판으로 가장 적절한 것은? [3점]

갑: 인간은 자연의 지배자가 아닌 자연의 한 구성원으로서 자연을 보전할 도덕적 의무를 지닌다. 자연은 다양한 구성원이 엮인 생태계로서 그 자체만으로도 가치를 지닌다.


을: 인간은 자연의 지배자로서 자연을 정복하고 이용할 권리를 지닌다. 자연은 인간의 욕구 충족을 위한 도구이며 인간에게 혜택을 줄 때에만 가치를 지닌다.

- ① 인간이 자연보다 우위에 있다는 점을 간과한다.
- ② 인간은 자연으로부터 독립된 존재라는 점을 간과한다.
- ③ 인간의 행복을 위해 자연을 이용할 수 있음을 간과한다.
- ④ 자연은 인간의 이익과 무관하게 가치를 지닐 수 있음을 간과한다.
- ⑤ 자연 전체의 균형보다 인간의 이익을 먼저 고려해야 함을 간과한다.


2 (통합사회)

탐구 영역

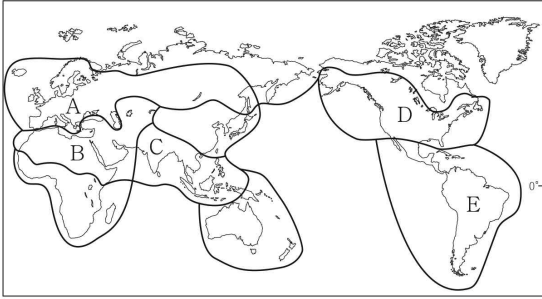
6. 다음 자료는 누리 소통망(SNS)에 게시된 여행기이다. 두 여행 지역의 모두 속한 문화권을 지도의 A~E에서 고른 것은?



성모상이 원주민처럼 검은 머리에 갈색 피부를 하고 전통 의상을 입고 있었다. 에스파냐가 이 지역을 식민 지배할 때 가톨릭교를 전파하는 과정에서 현지 종교와 융합되어 나타난 모습이라고 한다. 내일은 에스파냐어로 인사해야지!



가톨릭 신자의 비율이 높은 이 도시의 산봉우리에 거대한 예수상이 서 있었다. 곧 카니발이 열리니까 삼바 춤을 구경해 봐야지! 유럽과 아프리카의 문화가 섞여서 만들어진 독특한 문화를 경험할 수 있는 곳이라 새롭다.



- ① A ② B ③ C ④ D ⑤ E

7. 다음 자료에 대한 옳은 설명만을 <보기>에서 있는 대로 고른 것은? [3점]

(가) 미국 독립 선언문
... 모든 사람은 평등하게 태어났고, 조물주는 몇 개의 양도할 수 없는 권리를 부여했으며, ... ㉠ 정부의 정당한 권력은 시민의 동의로부터 유래하고 ...

(나) 유엔 아동 권리 협약
당사국은 아동이 ... 건강의 회복을 위한 시설을 이용할 권리를 인정한다. ... 권리의 완전한 실현을 점진적으로 달성하기 위해 ㉡ 국제 협력을 증진하고 장려해야 한다.

< 보 기 >

- ㄱ. (나)는 아동이 인권의 주체임을 전제하고 있다.
ㄴ. (가)와 달리 (나)는 천부 인권 사상을 제시하고 있다.
ㄷ. ㉠을 통해 (가)가 국민 주권의 원리를 제시하고 있음을 알 수 있다.
ㄹ. ㉡을 통해 (나)가 아동 권리 보장을 위한 국제적 연대를 강조하고 있음을 알 수 있다.

- ① ㄱ, ㄴ ② ㄱ, ㄹ ③ ㄴ, ㄷ
④ ㄱ, ㄷ, ㄹ ⑤ ㄴ, ㄷ, ㄹ

8. 그림의 강연자가 지지할 입장으로 가장 적절한 것은? [3점]

전쟁, 범죄와 같은 직접적 폭력만이 사라진 상태인 소극적 평화는 언제든지 깨어질 수 있으므로 진정한 평화라고 할 수 없습니다. 우리는 진정한 평화를 위해 직접적 폭력뿐만 아니라 사회 제도에서 나타나는 억압과 착취와 같은 구조적 폭력 그리고 이러한 폭력들을 정당화하는 문화적 폭력까지 모두 사라진 적극적 평화를 실현해야 합니다.



- ① 소극적 평화만으로도 진정한 평화가 실현된다.
② 소극적 평화는 구조적 폭력이 제거된 상태이다.
③ 적극적 평화는 직접적 폭력의 제거만으로도 달성된다.
④ 진정한 평화는 문화적 폭력이 존재하더라도 가능하다.
⑤ 진정한 평화는 적극적 평화를 달성함으로써 이루어진다.

9. (가)에 들어갈 진술로 가장 적절한 것은?

물질적 풍요로움은 행복의 조건이 될 수 있지만, 행복 그 자체는 아니다. 아무리 물질적으로 풍요로운 상태라도 우리가 삶에 대해 느끼는 정신적 만족감이 떨어진다면 진정으로 행복하다고 말하기 어렵기 때문이다. 따라서 사람이 행복해지기 위해서는 물질적 조건뿐만 아니라 평화로운 마음, 타인을 배려하며 느끼는 보람 등과 같은 정신적 만족감이 필요하다. 결론적으로, 진정한 행복을 실현하기 위해서는 (가)

- ① 자기 자신의 모든 욕망을 제거해야 한다.
② 세속적인 부와 명예를 유일한 가치로 여겨야 한다.
③ 물질적 가치와 정신적 가치를 조화롭게 추구해야 한다.
④ 경제적 안정만으로도 행복이 보장된다는 점을 깨달아야 한다.
⑤ 남을 도우며 느끼는 만족감이 행복과 무관함을 인식해야 한다.

10. 다음은 어느 학생이 쓴 일기이다. 밑줄 친 ㉠~㉢에 대한 옳은 설명만을 <보기>에서 고른 것은? [3점]




2022년 ○월 ○일
예전에는 보령에서 안면도 영목항까지 90분이 넘게 걸렸는데 ㉠ 새로 개통한 보령-해저 터널을 통과하니 10여 분 만에 도착했다. 영목항의 한 식당 사장님은 ㉡ 해저 터널 개통 이후 관광객이 많이 늘어나 지역 상인들이 장사할 맛이 난다고 하였다. 하지만 ㉢ 관광객의 증가로 지역 주민들이 피해를 입기도 한다는 말씀에 마음이 무겁기도 했다. 여행 중 먹지 못해 아쉬웠던 요리인 계곡지를 집으로 돌아오는 길에 ㉣ 인터넷을 통해 주문했다.

< 보 기 >

- ㄱ. ㉠으로 인해 보령-안면도 영목항 간 접근성은 낮아졌다.
ㄴ. ㉡을 통해 해저 터널 개통이 영목항 일대의 지역 경제 활성화에 이바지함을 알 수 있다.
ㄷ. ㉢의 사례로 관광객들의 쓰레기 무단 투기 증가를 들 수 있다.
ㄹ. ㉣의 등장으로 소비자의 상품 구입에 대한 시·공간적 제약은 강화되었다.

- ① ㄱ, ㄴ ② ㄱ, ㄷ ③ ㄴ, ㄷ ④ ㄴ, ㄹ ⑤ ㄷ, ㄹ

11. (가)~(다) 지역에 대한 설명으로 옳은 것은? [3점]

< 다큐멘터리 제작 계획서 >			
제목	기후, 삶의 모습을 다양하게 조각하다!		
제작 의도	다양한 기후 지역에서 전통을 지키며 살아가는 사람들의 모습을 통해 인간과 자연이 어떻게 관계를 맺고 있는지 보여 주고자 함.		
지역	(가)	(나)	(다)
예상 촬영 장면	 유목하여 기른 순록의 가죽으로 이동식 천막을 만들어 생활하는 모습	 지열과 습기를 차단하고 해충을 막기 위해 고상 가옥에서 생활하는 모습	 대추야자를 재배하며 지붕이 평평한 흙집에서 생활하는 모습

- ① (가)는 (나)보다 고위도에 위치한다.
- ② (다)는 (나)보다 연 강수량이 많다.
- ③ (가)와 (다)는 모두 침엽수림이 넓게 분포한다.
- ④ (가)~(다)는 모두 벼농사가 발달한다.
- ⑤ (가)는 건조 기후, (나)는 열대 기후, (다)는 한대 기후에 속한다.

12. 갑~병의 문화 이해의 태도에 대한 설명으로 옳은 것은? (단, 갑~병의 태도는 각각 문화 상대주의, 문화 상대주의, 자문화 중심주의 중 하나이다.) [3점]

갑: 우리나라 가수가 전 세계적으로 유명한 것은 당연한 일이에요. 우리나라의 대중음악은 수준이 매우 낮은 다른 나라들의 대중음악보다 훨씬 뛰어나니까요.

을: 저는 그렇게 생각하지 않아요. 노래의 멜로디나 가사 모두 ○○국의 대중음악이 더 우수한걸요. 우리나라의 대중음악은 ○○국의 이러한 우수성을 절대 따라갈 수 없어요.

병: 각국의 대중음악은 해당 국가의 정서나 문화적 맥락 속에서 이해해야 해요. 따라서 우리나라와 ○○국의 대중음악 중에서 무엇이 더 나은지는 가릴 수 없어요.

- ① 갑의 태도는 모든 문화의 고유한 가치를 인정한다.
- ② 을의 태도는 문화의 다양성을 보존하는 데 유리하다.
- ③ 병의 태도는 자문화보다 타문화를 우월한 것으로 본다.
- ④ 갑, 을의 태도는 모두 문화 간의 우열을 평가할 수 없다고 본다.
- ⑤ 갑의 태도는 병의 태도보다 문화적 마찰을 일으킬 가능성이 높다.

13. 다음은 청소년 노동 인권에 대한 수업 장면이다. (가)에 들어갈 학생의 옳은 답변만을 <보기>에서 고른 것은? [3점]

Q. 안녕하세요? 저는 현재 16살인 A입니다. 편의점에서 하루 7시간 근무하는 것을 조건으로 아르바이트를 하려고 하는데, 근로 계약에 필요한 조언을 부탁드립니다.

A에게 법적 조언을 해 볼까요?

(가)

< 보 기 >

- ㄱ. 성인과 동일한 최저 임금을 보장받습니다.
- ㄴ. 자신의 임금을 독자적으로 청구할 수 있습니다.
- ㄷ. 보호자가 대리하여 근로 계약을 체결해야 합니다.
- ㄹ. 근무 시간 도중의 휴게 시간을 요구할 수 없습니다.

- ① ㄱ, ㄴ ② ㄱ, ㄷ ③ ㄴ, ㄷ ④ ㄴ, ㄹ ⑤ ㄷ, ㄹ

14. 밑줄 친 ㉠~㉣에 대한 옳은 설명만을 <보기>에서 있는 대로 고른 것은?

우리나라는 1970년대에 정부 주도의 ㉠성장 거점 개발을 추진하였다. 이로 인해 ㉡수도권은 인구나 자본의 유입으로 크게 성장했지만, 비수도권은 상대적으로 성장이 정체되거나 낙후되었다. 우리나라는 이러한 ㉢수도권과 비수도권 간의 격차를 해결하기 위해 다양한 ㉣지역 격차 완화 정책을 추진하고 있다.

< 보 기 >

- ㄱ. ㉠은 투자의 효율성보다 지역 간 형평성을 강조한다.
- ㄴ. ㉡은 국토의 공간적 불평등이 심화하였음을 의미한다.
- ㄷ. ㉢은 사회 통합을 저해하는 요인으로 작용할 수 있다.
- ㄹ. ㉣의 사례로 '수도권 소재 공공 기관의 지방 이전'을 들 수 있다.

- ① ㄱ, ㄷ ② ㄱ, ㄹ ③ ㄴ, ㄹ
 ④ ㄱ, ㄴ, ㄷ ⑤ ㄴ, ㄷ, ㄹ

15. 밑줄 친 ㉠~㉣의 일반적인 특징에 대한 설명으로 옳은 것은?

갑: ㉠○○ 정기 예금과 ㉡△△ 채권에 각각 투자하려고 하는데 조언을 부탁드립니다.

을: ○○ 정기 예금의 수익률이 낮기 때문에, △△ 채권과 함께 ㉢□□ 주식에 투자하는 것을 추천해 드립니다.

- ① ㉠은 배당 수익을 기대할 수 있다.
- ② ㉡은 예금자 보호 제도의 적용 대상이다.
- ③ ㉢은 ㉠보다 안전성이 높다.
- ④ ㉠과 ㉡은 모두 이자 수익을 기대할 수 있다.
- ⑤ ㉡과 ㉢은 모두 시세 차익을 기대할 수 없다.

4 (통합사회)

탐구 영역

16. 밑줄 친 ㉠~㉣에 대한 옳은 설명만을 <보기>에서 고른 것은?

A국 사람들은 자신들의 문자를 가지고 있지 않았다. 그러나 ㉠ B국 무역 상인들의 무역 활동을 통해 B국의 문자가 A국에 알려지게 되었고, ㉡ A국 사람들은 B국 문자의 모양과 발음에서 아이디어를 얻어 자신들의 문자인 □□ 문자를 만들었다. 한편 ㉢ C국은 자신들이 독자적으로 만든 문자를 가지고 있었지만, C국 언어학자들을 통해 전파된 B국의 문자를 편리하게 느끼고 이를 사용하는 사람들이 많아지면서 ㉣ B국의 문자와 C국의 문자를 공식적으로 모두 사용하게 되었다.

< 보 기 >

ㄱ. ㉠은 간접 전파의 사례이다.
 ㄴ. ㉡은 자극 전파의 사례이다.
 ㄷ. ㉢은 발견의 사례이다.
 ㄹ. ㉣은 문화 변종의 사례이다.

- ① ㄱ, ㄴ ② ㄱ, ㄷ ③ ㄴ, ㄷ ④ ㄴ, ㄹ ⑤ ㄷ, ㄹ

17. 다음은 뉴스 보도의 일부이다. 밑줄 친 ㉠~㉣에 대한 설명으로 옳지 않은 것은?



제헌절 기념행사가 지난 7월 17일 ㉠ 국회에서 열렸습니다. 한 정치인은 언론과의 인터뷰에서 ㉡ 권력 분립 제도를 확립하고 ㉢ 헌법 재판소의 기본권 구제 제도를 활성화하여 국민의 ㉣ 자유권을 비롯한 ㉤ 헌법상 기본권을 실질적으로 보장해야 한다는 의견을 피력하였습니다.

- ① ㉠은 법률의 적용 및 해석을 통한 재판을 담당한다.
 ② ㉡은 국가 기관 간 견제를 통해 권력 남용을 방지하고자 한다.
 ③ ㉢은 국민의 기본권 침해를 막기 위해 헌법 소원 심판을 담당한다.
 ④ ㉣은 개인이 국가의 부당한 간섭을 받지 않을 권리이다.
 ⑤ ㉤은 인권 보장을 위한 국가의 최고법이다.

18. (가), (나) 사상에 대한 옳은 설명만을 <보기>에서 고른 것은?

(가) 개인은 공동체의 전통이나 가치로부터 독립적이고 자율적인 존재이다. 공동체의 이익은 공동체에 속한 개인이 자유롭게 이익을 추구함으로써 증가할 수 있다.
 (나) 개인은 공동체의 영향을 받으며 정체성을 형성해 나가는 존재이다. 공동체 속에서 살아가는 구성원 각자는 공동체가 발전함으로써 행복한 삶을 영위할 수 있다.

< 보 기 >

ㄱ. (가)는 개인의 자유와 권리의 보장을 중시한다.
 ㄴ. (가)는 공동체가 개인의 삶의 방식을 결정한다고 본다.
 ㄷ. (나)는 공동체의 발전을 위한 개인의 책무를 강조한다.
 ㄹ. (가), (나)는 모두 개인의 이익과 공동체의 이익이 항상 배타적이라고 본다.

- ① ㄱ, ㄴ ② ㄱ, ㄷ ③ ㄴ, ㄷ ④ ㄴ, ㄹ ⑤ ㄷ, ㄹ

19. 다음 자료에 대한 옳은 분석만을 <보기>에서 고른 것은? (단, 제시된 내용 외에 다른 요인은 고려하지 않는다.) [3점]

같은 환경을 보호하기 위한 실천 방법으로 전기 자전거를 구매하여 이동 수단으로 사용하고자 한다. 같은 전기 자전거 A~C 중 하나를 선택하여 구매하려고 하며, 표는 화폐 단위로 표시한 A~C 각각의 편의와 가격을 나타낸다.

(단위: 만 원)

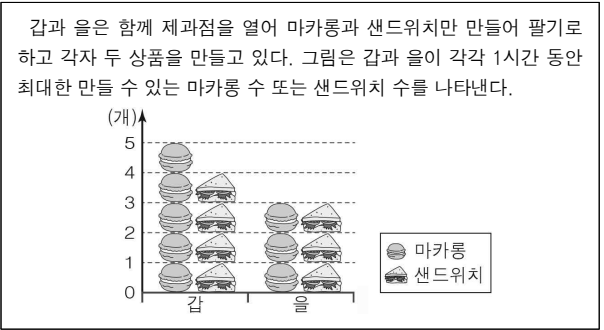
구분	A	B	C
편의	80	100	120
가격	60	70	110

< 보 기 >

ㄱ. B를 선택하는 것이 합리적이다.
 ㄴ. B를 선택할 경우의 명시적 비용은 100만 원이다.
 ㄷ. C를 선택할 경우의 암묵적 비용은 30만 원이다.
 ㄹ. A를 선택할 경우의 기회비용은 C를 선택할 경우보다 크다.

- ① ㄱ, ㄴ ② ㄱ, ㄷ ③ ㄴ, ㄷ ④ ㄴ, ㄹ ⑤ ㄷ, ㄹ

20. 다음 자료에 대한 옳은 분석만을 <보기>에서 고른 것은? [3점]



< 보 기 >

ㄱ. 갑은 마카롱을 만드는 데 절대 우위를 가진다.
 ㄴ. 을은 샌드위치를 만드는 데 비교 우위를 가진다.
 ㄷ. 갑이 샌드위치를 1개 만드는 데 따른 기회비용은 마카롱 5개이다.
 ㄹ. 을은 1시간 동안 마카롱 3개와 샌드위치 3개를 동시에 만들 수 있다.

- ① ㄱ, ㄴ ② ㄱ, ㄷ ③ ㄴ, ㄷ ④ ㄴ, ㄹ ⑤ ㄷ, ㄹ

※ 확인 사항
 ○ 답안지의 해당란에 필요한 내용을 정확히 기입(표기)했는지 확인하십시오.