

제 4 교시

사회탐구 영역 (동아시아사)

성명

수험 번호

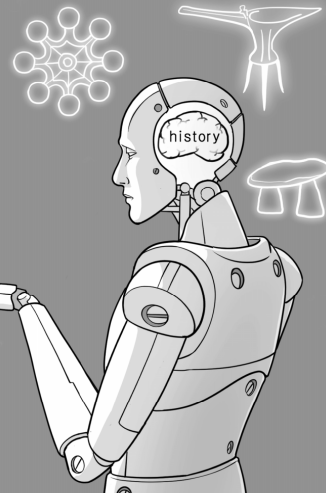
제 () 선택

1. (가)에 해당하는 유물로 옳은 것은? [3점]

동아시아사 인공지능 챗봇

질문: 일본 ○○○ 시대에 대해 알려주세요.

답변: 기원전 3세기경 한반도 등지로부터 청동기, 철기와 함께 벼농사 기술이 전해지면서 일본의 ○○○ 시대가 시작되었습니다. ○○○ 시대를 대표하는 종 모양의 (가) 은/는 풍요를 기원하는 제사용 도구로 사용되었던 것으로 추정됩니다.



- ① 
- ② 
- ③ 
- ④ 
- ⑤ 

2. (가) 왕조에 대한 설명으로 옳은 것은?

『사기』 속 맞수 열전

- (가)의 황제 행렬이 강을 건너는 모습을 보고 항우가 말하였다. “내가 저 자리를 차지하겠다!”
- 유방이 (가)의 수도 셴양으로 요역을 갔을 때 황제 행렬을 보고 자기도 모르게 탄식하며 중얼거렸다. “아, 대장부라면 저 정도는 되어야지!”

〈해설〉

전국 시대를 통일한 (가)의 황제를 보고 항우는 자신의 뜻을 거침없이 드러냈고, 유방은 그 뜻을 은근히 드러냈다. 각자의 말에서 볼 수 있듯이 항우는 자만심에 주변 사람을 무시하면서 세력을 잃었고, 유방은 호걸들 뿐만 아니라 망명자나 반란자까지 품으면서 세력을 키웠다. 결국 천하를 차지한 것은 유방이었다.

- ① 일조편법을 시행하였다.
- ② 독서삼품과를 실시하였다.
- ③ 다이카 개신을 단행하였다.
- ④ 남비엣(남월)을 멸망시켰다.
- ⑤ 문자, 도량형 등을 통일하였다.


3. 다음 상황이 나타난 배경으로 가장 적절한 것은?

천하가 혼란해질 것을 알고 왕도는 사마예에게 수도 뤼양을 떠나길 권하여 함께 창장강 이남으로 피난하였다. 뤼양이 함락되자 중원 사람들 옆에 예닐곱이 강남으로 이주하였다. 왕도는 사마예에게 그중에서 어질고 현명한 사람을 골라 함께 일을 도모하도록 권하였다. 이에 강남 지방은 평안해졌고, 인구는 점차 늘어났다. 얼마 후 사마예는 백성들의 추대를 받아 건강에서 황제로 즉위하였다.

- ① 테무친이 몽골 부족을 통합하였다.
- ② 소가씨 세력이 정변으로 축출되었다.
- ③ 나·당 연합군이 백제를 멸망시켰다.
- ④ 5호가 화북 지역에서 세력을 확장하였다.
- ⑤ 위만이 준왕을 몰아내고 정권을 장악하였다.

4. (가) 인물에 대한 설명으로 옳은 것은? [3점]

우표로 보는 동아시아사



이것은 『진여당언기』의 배 그림을 바탕으로 제작된 우표이다. 일본과 중국의 교류는 수백 년간 단절되었으나, 3대 쇼군이었던 (가) 이/가 일본 국왕으로 책봉되면서 재개되었다. 이 배는 당시 명과의 교류에 이용된 것으로 추정된다.

- ① 서해를 공격하여 굴복시켰다.
- ② 베트남 북부에 안남 도호부를 설치하였다.
- ③ 청해진을 중심으로 해상 무역을 주도하였다.
- ④ 다이호 율령을 반포하여 체제를 정비하였다.
- ⑤ 두 명의 천황이 대립하는 남북조를 통일하였다.

5. 다음 자료에 나타난 전쟁 중에 있었던 사실로 옳은 것은?

이여송은 평양성 전투에서 승리한 기세를 몰아 한성에서 30리 밖에 떨어지지 않은 벽제관까지 진격하였다. 그러나 대승에 도취되어 본대를 뒤로 한 채 급하게 추격하다 보니 그를 따라온 병력은 기병 20명에 불과하였다. 이때 매복해 있던 적들이 활을 쏘아 기병을 쓰러뜨리고 이여송을 사로잡으려 하였다. 그 부하들이 간신히 이여송을 구하여 포위를 뚫고 개성으로 물러났다.

- ① 모문룡이 가도에 주둔하였다.
- ② 조선군이 사르후 전투에서 투항하였다.
- ③ 일본이 조선 남부 4도 할양을 요구하였다.
- ④ 오다 노부나가 나가시노 전투에서 승리하였다.
- ⑤ 이자성이 이끄는 농민군이 베이징을 점령하였다.

2 (동아시아사)

사회탐구 영역

6. 밑줄 친 '우리 나라'의 대외 관계에 대한 설명으로 옳은 것은?

우리 발해 왕을 책봉해 준 황제께 왕을 대신해 감사 인사를 전합니다. 학생 몇 명을 장안으로 데려왔는데, 이들이 국자감에서 배우는 학문은 무엇입니까?

우리 나라의 율령에 따라 국자감에서는 유교 경전인 『주례』, 『의례』, 『예기』, 『모시』, 『춘추좌씨전』 등을 배울 수 있습니다.



- ① 토번에 화번공주를 보냈다.
- ② 일본에 통신사를 파견하였다.
- ③ 후금과 형제의 맹약을 맺었다.
- ④ 왜의 노국왕에게 금인을 주었다.
- ⑤ 신패를 발급하여 무역을 통제하였다.

7. 다음 자료를 활용한 탐구 활동으로 가장 적절한 것은? [3점]

○ 담요는 황제께 아뢰어 원강의 석벽에 다섯 개의 굴을 뚫고 각각 불상 1구씩을 새겼다. 높은 것은 70척이나 되었고 조각의 훌륭함은 일세의 으뜸이었다.

- 『위서』 -

○ 쇼무 천황은 도다이사를 건립하고 비로자나불을 만들었다. 또한 고쿠분사를 세워 국토의 안녕과 평온을 기원하고 『법화경』, 『금광명최승왕경』을 강독하게 하였다.

- 『신황정통기』 -

- ① 난학이 끼친 영향을 확인한다.
- ② 서원이 확산된 결과를 조사한다.
- ③ 동아시아 불교의 특징을 탐색한다.
- ④ 예수회 선교사의 활동을 파악한다.
- ⑤ 분서갱유가 일어난 원인을 분석한다.

8. (가), (나), (다) 국가에 대한 설명으로 옳은 것은? [3점]

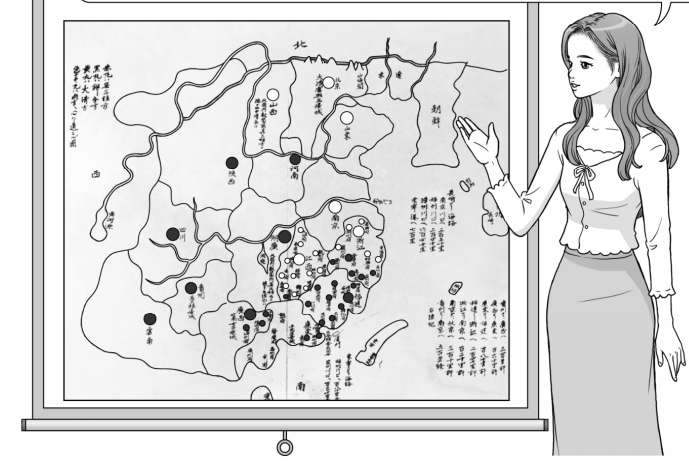
발해를 멸망시키고 세력을 확장한 (가) 은/는 송을 압박하며 전연군에서 맹약을 맺었다. 이후 송은 세폐를 지급하며 전란을 피해 왔다. 송은 (나) 이/가 공격하자 창장강 이남으로 조정을 옮겼고, 세폐로 은 25만 냥과 비단 25만 필을 주기로 하여 멸망을 모면하였다. 그러나 (나) 을/를 멸망시킨 (다) 이/가 일찍이 사신을 보내 세폐로 은 20만 냥과 비단 20만 필을 요구하였으나 남송은 주지 않았다.

- 『이십이사차기』 -

- ① (가) - 신라와 연합하여 고구려를 멸망시켰다.
- ② (나) - 탕롱을 수도로 삼았다.
- ③ (나) - 낙랑군을 축출하며 성장하였다.
- ④ (다) - 선우 아래 좌현왕·우현왕을 두었다.
- ⑤ (다) - 호라즘을 무너뜨리고 비단길을 장악하였다.

9. 밑줄 친 '반란'이 전개된 시기 동아시아에서 있었던 사실로 옳지 않은 것은?

이것은 중국 상인을 통해 정보를 입수하여 일본이 제작한 지도입니다. 오삼계가 반란을 일으켜 차지한 지역은 검은색 점으로, 청의 지배력이 미치는 지역은 흰색 점으로 표시되어 있습니다. 일본이 다방면으로 당시 중국의 동향을 파악하려고 노력했음을 알 수 있습니다.



- ① 한국 - 연행사를 파견하였다.
- ② 중국 - 지정은제를 시행하였다.
- ③ 중국 - 휘저우 상인들이 회관을 운영하였다.
- ④ 일본 - 병농 분리 정책을 운용하였다.
- ⑤ 일본 - 산킨코타이 제도를 실시하였다.

10. 밑줄 친 '이 정부'가 존재하던 시기에 볼 수 있는 모습으로 가장 적절한 것은? [3점]

중화민국이 수립된 후, 위안스카이(袁世凱)가 중화민국의 임시 대통령이 되면서 베이징에 군벌을 중심으로 하는 이 정부가 들어섰다. 이 정부는 파리 강화 회의에 대표단을 파견하기도 하였으나, 내부적으로 여러 파벌로 분열되어 제대로 된 기능을 수행하지 못하였다. 결국 장제스(蔣介石)가 이끄는 국민 혁명군이 베이징을 점령하면서 이 정부는 붕괴되었다.

- ① 흥정 헌법 대강의 초안을 작성하는 청 관리
- ② 만주 사변의 진상을 파악하는 리튼 조사단원
- ③ 여권 통문의 발표를 취재하는 황성신문 기자
- ④ 중국군과 연합하여 항일전을 전개하는 조선 혁명군
- ⑤ 산둥반도 이권을 반환하는 조약에 서명하는 일본 대신


11. (가) 국가에 대한 설명으로 옳은 것은?

이 지도에는 (가)의 해상 교역로 및 주요 거점이 표시되어 있습니다. (가)은/는 16세기 초반 말레이 반도 남단을 거점으로 삼은 후, 이곳을 통해 말루쿠 제도의 향신료를 유럽으로 수출하였어요. 16세기 후반에는 나가사키에서 교역하여 얻은 은으로 중국에서 비단, 도자기 등을 구매해 유럽으로 가져가 큰 이익을 얻었어요.

● (가)의 주요 거점
— (가)의 해상 교역로

- ① 페리 제독의 함대를 일본에 파견하였다.
- ② 제1차 사이공 조약으로 영토를 할양받았다.
- ③ 마닐라를 건설하고 갈레온 무역을 전개하였다.
- ④ 바타비아를 거점으로 삼아 데지마에서 교역하였다.
- ⑤ 크리스토포 포교 문제로 일본과의 교역이 중단되었다.

12. (가) 막부 시기의 동아시아 문화에 대한 설명으로 옳지 않은 것은? [3점]



이것은 (가) 시기에 제작된 우키요에로 상업 도시 오사카의 변화한 모습을 묘사하였다. 오사카는 각지의 물자가 모이면서 '천하의 부엌'으로 불렸다. 특히 오사카 나카노시마에 있는 각 번의 창고에는 쌀과 특산물 등 다양한 상품들이 모였고, 오사카 상인들에 의해 활발하게 거래되었다.

- ① 한국-서민의 생활상을 묘사한 풍속화가 성행하였다.
- ② 중국-황실과 상인의 지원 아래 경극이 유행하였다.
- ③ 중국-남녀 간의 사랑을 표현한 흥루몽이 저술되었다.
- ④ 일본-왕실의 후원으로 호류사 5층 목탑이 건립되었다.
- ⑤ 일본-읽기와 셈법 등을 가르치는 데라코야가 확산되었다.

13. (가) 도시에서 있었던 사실로 옳은 것은?

[시로 보는 근대 도시 풍경]

서방에서 들어온 불야성
철로 나오는 등빛
달빛보다 더 밝아
통금 시간 잊은 사람들
거리 거닐다 새벽 종소리 듣노니

해설: 이 시는 영국 상인이 (가)에서 참관한 『신보』에 실렸습니다. 프랑스 조계와 공공 조계가 있었던 (가)의 거리에 가스등이 설치되자, 통금 시간도 잊어버리고 신문물에 매료된 사람들의 모습을 표현하고 있습니다.

- ① 초량 왜관이 설치되었다.
- ② 아주 화친회가 창립되었다.
- ③ 대한민국 임시 정부가 수립되었다.
- ④ 미·일 수호 통상 조약으로 개항되었다.
- ⑤ 청·일 전쟁의 강화 조약이 체결되었다.

14. 밑줄 친 '이 조약'에 대한 설명으로 옳은 것은?

우리는 광저우 외에 추가로 4개의 항구에 개항장을 설치 하였습니다. 이 조약으로 공행만을 통한 무역에서 벗어나 자유로운 교역이 가능해졌습니다. 그러나 청으로의 수출은 모두가 기대했던 것만큼 늘지 않았습니다. 중국 노동자는 두툼하고 질긴 의복을 입기 때문에 우리의 얇은 면직물은 필요가 없습니다. 농민들은 추수가 끝나고 농한기가 되면 집에 있는 베틀로 의복을 스스로 만들어 입기 때문에 우리 영국산 제품을 굳이 살 이유가 없습니다.

- ① 미국의 중재로 조인되었다.
- ② 홍콩 할양 규정을 포함하였다.
- ③ 운요호 사건을 계기로 체결되었다.
- ④ 조선이 자주 독립국임을 명시하였다.
- ⑤ 서양 외교관의 베이징 주재를 허용하였다.

15. 밑줄 친 ㉠ 시기의 동아시아 상황으로 옳은 것은? [3점]

조선 의용대는 중국의 항일 전선에 제일 먼저 손을 내민 국제 동맹군이다. ... (중략) ... 조선 의용대가 탄생하고 성장함으로써 타이완 의용대와 인도 의료대가 결성되었고, 재확 일본 인민 반전 동맹이 조직되기에 이르렀다. ... (중략) ... 한·중 양국은 동양의 압박받는 민족들이 일치단결하여 함께 싸우는 목표를 하루 빨리 이루기를 바란다. ㉠조선 의용대 성립 2주년 기념일을 맞이하여 나 류치광은 타이완 의용대를 대표해 조선 의용대 동지들 전원에게 진심 어린 경의를 표한다.

- ① 중국 공산당이 대장정을 감행하였다.
- ② 중국 국민당 정부가 타이완으로 근거지를 옮겼다.
- ③ 제2차 국·공 합작을 바탕으로 항일전이 전개되었다.
- ④ 카이로에서 연합국 수뇌부가 전후 처리를 논의하였다.
- ⑤ 남베트남 민족 해방 전선을 중심으로 게릴라전이 벌어졌다.

4 (동아시아사)

사회탐구 영역

16. (가), (나) 사건 사이에 있었던 사실로 옳은 것은? [3점]

(가) 며칠 전, 태평양에서 미군과 일본군이 전투를 벌인 결과, 일본군 전함과 항공 모함 여러 척이 파괴되었다. 동시에 항공 모함에서 날아오던 일본군 비행기 역시 미군 비행기의 사격으로 대거 격추되었다. 미군은 승승장구하여 미드웨이를 침범했던 일본군 함대를 몰아냈다.

(나) 오늘, 소련의 외교 위원장은 일본 대사를 접견하여 소련의 대일 선전 포고문을 주며 다음과 같이 말하였다. “소·일 양국은 내일 00시 01분을 기점으로 교전 상태에 들어가니 바로 귀국 정부에 보고하라.”

- ① 애치슨 라인이 발표되었다.
- ② 일본군이 과달카날에서 철수하였다.
- ③ 충칭에서 한국 광복군이 창설되었다.
- ④ 발트 함대가 동해 해전에서 패배하였다.
- ⑤ 북위 17도선을 경계로 베트남이 분할되었다.

17. 다음 뉴스를 활용한 탐구 주제로 가장 적절한 것은?

미국 대통령 닉슨은 중국의 총리 저우언라이와 함께 어제 상하이에서 공동 성명을 발표하였습니다. 미국은 타이완에서 미군을 점진적으로 철수할 것을 약속하였습니다. 또한, 고위 대표를 베이징에 수시로 파견할 것을 밝히며 국교 수립을 위한 소통의 창구를 마련하였습니다.



- ① 냉전 체제의 완화
- ② 신간회 결성의 계기
- ③ 국·공 내전의 배경
- ④ 태평천국 운동의 과정
- ⑤ 교육 척어 반포의 목적

18. 밑줄 친 ‘조서’가 반포된 시기의 동아시아 상황으로 옳은 것은? [3점]

그해 1월, 미국인인 나는 과학 교사로 후쿠이성에 머물면서 일본에서 일어난 격동의 흐름을 목격하였다. 당시 천황은 통치 체제를 혁신하기 위한 조서를 반포하였다. 이에 따라 후쿠이현이 설치되자 내부에서 큰 동요가 일었으나, 번주는 대의를 위해 수백 명이나 되는 세습 가신을 소집하여 번주를 향한 충성심 대신 애국심을 가질 것을 명하였다. 번주는 조상 대대로 물려받은 성을 뒤로 한 채 모든 권력을 내려놓고 도쿄로 떠났다. 백성들은 모두 거리로 나와서 그의 마지막 길을 배웅하였다. 이듬해에는 도쿄 신바시와 요코하마를 잇는 철도의 개통식이 열리는 등 일본이 새로운 시대로 나아가는 것을 직감할 수 있었다.

- ① 이흥장의 주도로 군수 산업이 육성되었다.
- ② 광무개혁을 통해 식산흥업 정책이 실시되었다.
- ③ 근대 교육을 실시하는 경사 대학당이 운영되었다.
- ④ 대일본 제국 헌법에 따라 중의원 선거가 시행되었다.
- ⑤ 하급 무사들을 중심으로 막부 타도 운동이 전개되었다.

19. (가) 사건이 전개된 시기에 있었던 사실로 옳은 것만을 <보기>에서 있는 대로 고른 것은? [3점]

십여 년간 중국을 대혼란으로 빠뜨렸던 (가)은/는 마오쩌둥이 일으키고 이끌었다. (가)에 대한 그의 주요 논점은 다음과 같았다. “부르주아와 반혁명 수정주의자들이 당·정부·군대·문화계에 잠입하였고, 정부의 각 조직과 각 부서의 지도부는 마르크스주의자와 인민을 저버렸다. 우리가 권력을 되찾기 위해서는 대규모의 혁명을 수행하는 길밖에 없다.”

<보 기>

- ㄱ. 신축 조약이 체결되었다.
- ㄴ. 중·일 공동 성명이 발표되었다.
- ㄷ. 5·18 민주화 운동이 발생하였다.

- ① ㄱ ② ㄴ ③ ㄱ, ㄷ ④ ㄴ, ㄷ ⑤ ㄱ, ㄴ, ㄷ

20. 밑줄 친 ‘이 체제’가 유지된 시기에 동아시아에서 있었던 사실로 옳은 것은?



- ① 한국 - 금강산 관광 사업을 개시하였다.
- ② 중국 - 선전 등지에 경제특구가 설치되었다.
- ③ 중국 - 세계 무역 기구[WTO]에 가입하였다.
- ④ 일본 - 자위대의 전신인 경찰 예비대가 창설되었다.
- ⑤ 일본 - 군사력 보유 금지 조항이 포함된 신헌법이 제정되었다.

* 확인 사항
○ 답안지의 해당란에 필요한 내용을 정확히 기입(표기)했는지 확인 하시오.