

제 4 교시

직업탐구 영역 (성공적인 직업생활)

성명		수험번호				3		제 () 선택
----	--	------	--	--	--	---	--	----------

1. 다음 판서 내용에서 (가)에 해당하는 사례로 가장 적절한 것은?

I. 일과 (가) 생활

1. (가)의 정의: 생계유지를 위해 자신의 적성과 능력에 따라 일정 기간 동안 지속적으로 종사하여 보수를 받는 일
2. (가)의 요건: 계속성, 경제성, 사회성, 윤리성 등

- ① 매달 일정액의 연금을 받아 생활하는 경우
- ② 학원에서 매월 급여를 받고 강의를 하는 경우
- ③ 정기적으로 유기견 보호 센터에서 봉사 활동을 하는 경우
- ④ 학업에 전념하여 매 학기 성적 우수 장학금을 수령하는 경우
- ⑤ 병역의 의무에 따라 매월 급여를 받고 병사로 복무 중인 경우

2. 다음은 ○○기업의 사내 메신저 내용이다. 이에 나타난 근무 방식으로 가장 적절한 것은?

○○메신저

〈긴급 공지 사항〉

감염병 확산으로 인해 한시적으로 근무 장소를 변경하오니 업무에 차질이 없도록 협조 바랍니다.

1. 기 간: 2021.07.19.(월) ~ 2021.07.23.(금)
2. 장 소: 자택
3. 근무 시간: 09:00 ~ 18:00(휴게 시간 포함)
※ 전 사원은 위의 근무 시간을 준수하고, 출근 및 퇴근 시 부서장에게 업무를 보고할 것.
4. 부서 회의: 매일 10:00, 원격 화상 회의로 진행

- ① 교대 근무 ② 재택 근무
- ③ 시간제 근무 ④ 선택적 근로 시간제
- ⑤ 탄력적 근로 시간제

3. 다음 사례에 나타난 A 씨의 직업 윤리 덕목으로 적절한 것만을 <보기>에서 고른 것은?

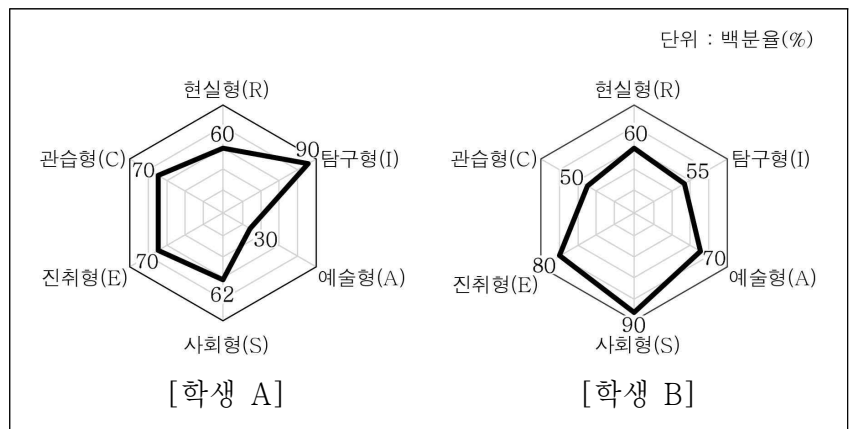
A 씨는 17세 때 나무로 짠 가구나 기물에 전복 껍데기로 문양을 만들어 붙이는 나전(螺鈿) 세계에 입문하였다. 그는 섬세한 도안을 만든 뒤 조개류를 얇게 썬 오려 자개를 만드는 일이 자신의 적성에 꼭 맞는다고 여기고 40여 년 동안 열정을 가지고 성실히 일했다. 또한 자신이 하는 일이 우리나라 문화 발전에 중요한 역할을 하고 있다고 믿으며 지식과 기술을 연마한 결과 국가 무형 문화재로 선정되었다.

< 보 기 >

ㄱ. 연대 의식	ㄴ. 친직 의식
ㄷ. 청렴 의식	ㄹ. 전문가 의식

- ① ㄱ, ㄴ ② ㄱ, ㄷ ③ ㄴ, ㄷ
- ④ ㄴ, ㄹ ⑤ ㄷ, ㄹ

4. 그래프는 학생 A, B가 받은 직업 흥미 검사(H)의 결과지이다. 이를 해석한 내용으로 적절한 것만을 <보기>에서 있는 대로 고른 것은? (단, 직업 흥미 검사(H)는 홀랜드(Holland)가 구분한 직업 유형에 근거한다.) [3점]



< 보 기 >

- ㄱ. 학생 A는 기계를 조작하거나 몸을 움직여 실행하는 활동을 선호하는 경향이 가장 두드러졌다.
- ㄴ. 학생 B는 다른 사람과 더불어 일하면서 타인의 문제와 어려움을 해결하고 도와주는 활동을 선호하는 경향이 가장 두드러졌다.
- ㄷ. 학생 A는 학생 B보다 구체적이고 공식적인 규정과 절차를 따르는 활동을 선호하는 경향이 더 높게 나타났다.

- ① ㄱ ② ㄷ ③ ㄱ, ㄴ
- ④ ㄴ, ㄷ ⑤ ㄱ, ㄴ, ㄷ

5. 다음은 직업 기초 능력 관련 사례이다. 이를 통해 알 수 있는 내용으로 옳은 것만을 <보기>에서 고른 것은? [3점]

- A 씨는 제빵에 필요한 달걀과 우유의 유통 기한을 관리하지 못하여 신선도 유지 문제로 재고를 전량 폐기하였다.
- B 씨는 거래처로부터 받은 문서를 읽고 내용을 요약하여 동료에게 쉽게 알아들을 수 있도록 말로 설명하였다.
- C 씨는 부서를 이끌며 사람들 사이에 갈등이 발생할 때 부서원들의 마음을 이해하여 다독인 덕분에 이를 원만히 조정할 수 있었다.

< 보 기 >

- ㄱ. A 씨에게는 업무 효율성을 높이기 위해 자원 관리 능력이 요구된다.
- ㄴ. B 씨는 문서 이해 능력, 의사 표현 능력 등 의사소통 능력을 갖추었다.
- ㄷ. C 씨는 기술 선택 및 기술 적용 능력을 활용하였다.
- ㄹ. B 씨와 C 씨가 갖춘 능력은 업무 처리 능력군에 속한다.

- ① ㄱ, ㄴ ② ㄱ, ㄷ ③ ㄴ, ㄷ
- ④ ㄴ, ㄹ ⑤ ㄷ, ㄹ

6. 다음은 회사 설립 계획서의 일부이다. 이에 나타난 기업 형태에 대한 설명으로 옳은 것은?

회사 설립 계획서

- 상호명: 미정 ○ 업태/종목: 운수/화물 운송
- 설립할 기업 형태의 특성
 - 소유와 경영의 분리
 - 다수의 물적 공동 기업
 - 유한 책임 사원으로만 구성

- ① 인적 요소와 물적 요소가 혼합된 형태이다.
- ② 주식을 발행하여 대규모의 자본 조달이 가능하다.
- ③ 의사 결정 시 출자금과 무관하게 1인 1표를 행사한다.
- ④ 최고 의결 기관인 사원 총회를 통해 중요 사안을 결정한다.
- ⑤ 전 사원의 동의 없이 회사 지분을 타인에게 양도할 수 없다.

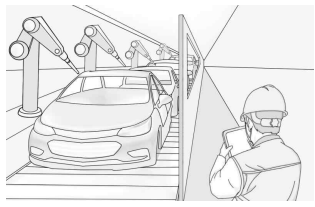
7. 다음은 A 씨가 개업한 커피 전문점의 창업 방법에 대한 체크리스트이다. 이를 통해 알 수 있는 A 씨의 창업 방법으로 가장 적절한 것은?

체크리스트

창업 조건	예	아니오
일정 지역에 대한 독점 판매권을 얻을 수 있는가?	✓	
창업자의 자율권이 많이 보장되는가?		✓
창업 초기 단계에서부터 마케팅 활동 등 본사의 다양한 지원을 받을 수 있는가?	✓	

- ① 벤처 창업 ② 벤치마킹 창업
- ③ 아웃소싱 창업 ④ 프랜차이즈 창업
- ⑤ 1인 소호(SOHO) 창업

8. 다음은 ○○기업의 제조 현장에 관한 사례이다. 이에 대한 설명으로 옳은 것만을 <보기>에서 있는 대로 고른 것은?



○○기업은 첨단 기술을 활용하여 자동차를 생산하는 기업이다. 업무를 능률적으로 처리하기 위해 생산 관리자는 컨베이어 조립 라인에서 스마트폰 앱을 실행하여 설비 배치 도면을 열고, 사물 인터넷을 활용하여 화면에 표시된 설비의 이상 부분을 확인한다. 이후 '해결 방법'이라고 말하면 음성 안내가 시작되고, 앱을 통해 필요한 조치를 할 수 있다.

- < 보 기 > —
- ㄱ. 연속 생산 방식을 통해 대량 생산이 가능하다.
 - ㄴ. 소규모 생산 시설과 자본을 필요로 하는 산업이다.
 - ㄷ. 현장 내 설비와 정보 통신 기기 간의 실시간 정보 교환이 가능하다.

- ① ㄱ ② ㄴ ③ ㄱ, ㄷ
- ④ ㄴ, ㄷ ⑤ ㄱ, ㄴ, ㄷ

9. 다음은 수행 평가 활동지의 일부이다. 이와 관련된 국가 직무 능력 표준(NCS)에 대한 설명으로 옳은 것만을 <보기>에서 있는 대로 고른 것은? [3점]

수행 평가 활동지

- 주제: 관심 직종의 국가 직무 능력 표준(NCS) 능력 단위 조사
- 분류 체계: 24. 농림 어업 > 04. 수산 > 03. 수산 자원 관리 > 02. 수산 질병 관리 > 02. 수산 생물 방역

능력 단위명	수산 생물 방역	수준	4
능력 단위 정의	수산 생물 방역이란 수산 생물을 보존하고 수서 생태계를 보호하기 위해 질병 예찰과 방역 조치를 하는 능력이다.		

- < 보 기 > —
- ㄱ. 해당 능력 단위의 중분류는 '03. 수산 자원 관리'이다.
 - ㄴ. '02. 수산 질병 관리'는 직무를 의미한다.
 - ㄷ. 해당 능력 단위의 수준은 고도의 전문 지식을 활용하는 수준이다.

- ① ㄱ ② ㄴ ③ ㄱ, ㄷ
- ④ ㄴ, ㄷ ⑤ ㄱ, ㄴ, ㄷ

10. 다음 재해 사례 보고서를 통해 알 수 있는 내용으로 적절한 것만을 <보기>에서 고른 것은? [3점]

재해 사례 보고서

1. 재해 개요
폐수 집수조 내부에서 수중 모터 펌프의 이상 유무를 점검하던 근로자 1명이 쓰러지자, 동료 2명이 그를 구조하려다가 유독 가스 중독으로 3명 모두 의식을 잃고 쓰러져 2개월간 치료를 받게 된 업무상 재해로 인정받은 사례
2. 사고 원인
가. 보호구를 착용하지 않고 작업
나. 환기가 되지 않은 집수조에서 작업
다. 안전 사고 위험에 대한 교육 미실시
3. 대책
가. 방독 마스크 착용에 관한 산업 안전 보건 표지 설치
나. 수중 모터 펌프를 외부 모터 펌프로 교체 설치
다. 유독 가스 환기 및 보호구 착용 교육 실시

- < 보 기 > —
- ㄱ. 산업 안전 사고의 종류는 '감전'이다.
 - ㄴ. 설치할 산업 안전 보건 표지는 '경고 표지'이다.
 - ㄷ. 산업 재해의 예방 원칙 중 '예방 가능한 원칙'을 준수하지 않았다.
 - ㄹ. 근로자는 근로복지공단에 '요양 급여'를 신청하여 수령할 수 있다.

- ① ㄱ, ㄴ ② ㄱ, ㄷ ③ ㄴ, ㄷ
- ④ ㄴ, ㄹ ⑤ ㄷ, ㄹ

11. 다음은 학부모 원격 연수 프로그램 안내문이다. 참가자가 듣게 될 연수 내용으로 가장 적절한 것은? (단, 생애 발달 단계는 해비거스트(Havighurst, R. J.)의 발달 과업 이론에 근거한다.)

학부모 원격 연수 프로그램

- 일시: 2021.10.12.(화) 10:00
- 대상: 중·고등학생 자녀를 둔 학부모 ○○명
- 내용: 청소년기의 발달 과업 성취를 위한 방법
- 강사: 청소년 상담사 A

- ① 부모-자녀 간의 올바른 애착 관계를 형성하는 방법
- ② 자녀가 기본적인 신체 기능을 익히도록 유도하는 방법
- ③ 자녀가 안정된 자아 정체감을 형성할 수 있도록 돕는 방법
- ④ 자녀가 자주 사용하는 자기중심적인 언어를 이해하는 방법
- ⑤ 자녀의 기억력 증가를 위한 조직화·정교화를 구현하는 방법

12. 다음 게시판에서 (가)에 들어갈 실업 급여의 종류로 가장 적절한 것은? (단, 제시된 사례는 고용 보험 적용 제외 사항에 해당하지 않는다.) [3점]

Q & A

Q. 저는 현재 구직 급여를 받고 있습니다. 구직 급여의 소정 급여 일수는 210일이며 잔여 소정 급여 일수가 150일인 시점에 다시 취업하게 되었습니다. 이런 경우 잔여 구직 급여의 수령이 가능할까요?

A. 새로 취업한 곳에서 12개월 이상 계속 근무하시면 (가) (으)로 잔여 구직 급여의 1/2에 해당하는 금액을 받으실 수 있습니다.

- | | |
|---------------|-------------|
| ① 개별 연장 급여 | ② 훈련 연장 급여 |
| ③ 광역 구직 활동비 | ④ 조기 재취업 수당 |
| ⑤ 직업 능력 개발 수당 | |

13. 다음 학생 A, B의 대화에 나타난 면접 유형에 대한 설명으로 옳은 것만을 <보기>에서 있는 대로 고른 것은?

학생 A: 나는 이번에 지원자 5명이 함께 3명의 면접관들 앞에 앉아서 면접을 봤어. 너는 어땠어?

학생 B: 지원자 20명이 면접관들과 함께 둘레길을 걷고, 체육 대회도 하면서 자유롭게 편안한 분위기 속에서 면접을 봤어.

< 보 기 >

ㄱ. 학생 A가 참여한 면접은 집단 면접에 해당한다.

ㄴ. 학생 B가 참여한 면접은 의도적으로 지원자들의 약점을 물어 극한 상황에서의 순발력, 대처 능력 등을 평가한다.

ㄷ. 학생 A, B가 참여한 면접 유형은 지원자들을 동시에 비교하고 관찰하는 것이 가능하다.

- | | | |
|--------|-----------|--------|
| ① ㄱ | ② ㄴ | ③ ㄱ, ㄷ |
| ④ ㄴ, ㄷ | ⑤ ㄱ, ㄴ, ㄷ | |

14. 다음은 가구 제조업을 운영하는 ○○기업에서 부문별 경영 활동상의 문제를 해결하는 과정을 나타낸 것이다. (가), (나)에 대한 설명으로 가장 적절한 것은? [3점]

현재 상황	전체 소비자를 대상으로 제품을 판매하고 있으며, 현재 매출 부진 및 재고량 증가에 따라 경영난이 심해지고 있음.
-------	--

↓

원인 분석	- 시장 분석이 미흡함. - 제조 과정이 통일되지 않음.
-------	------------------------------------

↓

개선 방안	(가)	반려동물 시장의 규모를 고려한 반려동물용 가구 생산으로, 반려동물 관심층을 집중적으로 공략하여 소비자의 마음속에 위치시키는 전략을 구상함.
	(나)	반려동물용 가구 제조 활동 중 자원 낭비를 줄이기 위하여 제품, 작업 과정, 관리 과정을 규격화하여 통일된 형태로 제조함.

- ① (가)는 마케팅 믹스 전략이다.
- ② (가)는 기업의 인적 자원 관리 활동에 관한 것이다.
- ③ (나)는 제조 과정을 표준화시켜 생산 관리 문제를 해결한다.
- ④ (나)는 재무 자료를 정리하여 정보화하는 재무 관리 활동이다.
- ⑤ (가)는 공정 관리, (나)는 고객 관계 관리가 핵심 요소이다.

15. 다음은 ○○전자와 A 씨가 체결한 근로 계약서의 일부이다. 이에 대한 설명으로 옳은 것은? (단, ○○전자의 상시 근로자 수는 500명이며, A 씨는 성인이다.) [3점]

근로 계약서

○○전자(이하 “사업주”라 함.)와 A(이하 “근로자”라 함.)는 다음과 같이 근로 계약을 체결한다.

1. 근로 계약 기간: 2020.01.01. ~ 2020.12.31.
2. 근무 장소: ○○전자
3. 업무 내용: 사무 행정
4. 소정 근로 시간: 08:30 ~ 17:30(법정 휴게 시간 부여)
5. 근무일/휴일: 매주 5일 근무/매주 토·일요일, 법정 공휴일
6. 임금: 월 2,300,000원(매월 25일에 지급)
7. 연차 유급 휴가: 근로 기준법에서 정하는 바에 따라 부여
8. 사회 보험 적용 여부: 4대 보험 적용

- ① 소정 근로 시간은 근로 기준법을 준수하고 있다.
- ② 소정 근로 시간 중 주어지는 법정 휴게 시간은 30분이다.
- ③ 근로자는 계약 기간 만료 후 실업 급여를 신청할 수 없다.
- ④ 사업주는 매주 4일을 근무한 자에게 평균 주 1회 이상의 유급 휴일을 주어야 한다.
- ⑤ 사업주는 1년간 출근 일수의 70% 이상 출근한 근로자에게 15일의 연차 유급 휴가를 부여해야 한다.

16. 다음 강연에 나타난 윤리적 의사 결정의 원칙으로 적절한 것만을 <보기>에서 고른 것은? [3점]

회사는 윤리적 의사 결정을 통해 최적의 방안을 선택함으로써 기업의 경쟁력을 강화할 수 있습니다. 따라서 경영인은 의사 결정에 의해 영향을 받는 사람들이 그 결과를 모두 받아들일 수 있는 선택을 해야 하고, 같은 상황에서 다른 누가 결정을 하더라도 똑같은 선택을 할 수밖에 없는 의사 결정을 해야 합니다.

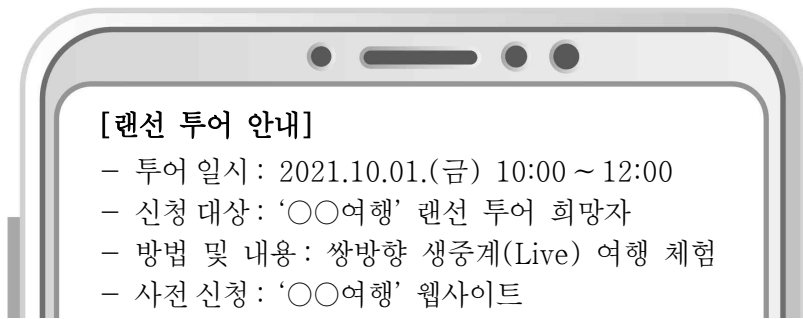


< 보 기 >

ㄱ. 공개성의 원칙 ㄴ. 공정성의 원칙
 ㄷ. 보편성의 원칙 ㄹ. 불가피성의 원칙

- ① ㄱ, ㄴ ② ㄱ, ㄷ ③ ㄴ, ㄷ
 ④ ㄴ, ㄹ ⑤ ㄷ, ㄹ

17. 다음은 스마트폰에 수신된 문자 메시지의 일부이다. 참가자들이 이용하게 될 산업에 대한 설명으로 적절한 것만을 <보기>에서 있는 대로 고른 것은?



< 보 기 >

ㄱ. 산출물의 제공과 소비가 동시에 이루어진다.
 ㄴ. 수요 주체에 따라 분류하면 소비자 서비스업에 해당한다.
 ㄷ. 클라크(Clark, C. G.)의 산업 분류에 따르면 1차 산업에 속한다.


- ① ㄱ ② ㄷ ③ ㄱ, ㄴ
 ④ ㄴ, ㄷ ⑤ ㄱ, ㄴ, ㄷ

18. 다음 사례 A~C 중 근로 기준법상 근로자의 권리를 침해한 사례에 해당하는 것만을 있는 대로 고른 것은? (단, 사례 A~C의 사업장은 상시 근로자 수가 5인 이상이다.) [3점]

사례	내용
A	헤어 디자이너로 5년째 근무 중, 사업주로부터 일주일 전 구두로 통지받고 해고된 경우
B	회계 사무원으로 근무하며 매일 5시간씩 야근하여 일주일 근무 시간이 총 65시간인 경우
C	전자 부품 생산직 근로자가 임금 전액을 현금 대신 USB 메모리 100개(단가 2만 원)로 받은 경우

- ① A ② B ③ A, C
 ④ B, C ⑤ A, B, C

19. 다음은 선취업·후학습 제도에 관한 교사와 학생들의 대화이다. 이를 통해 알 수 있는 내용으로 옳은 것만을 <보기>에서 있는 대로 고른 것은? [3점]

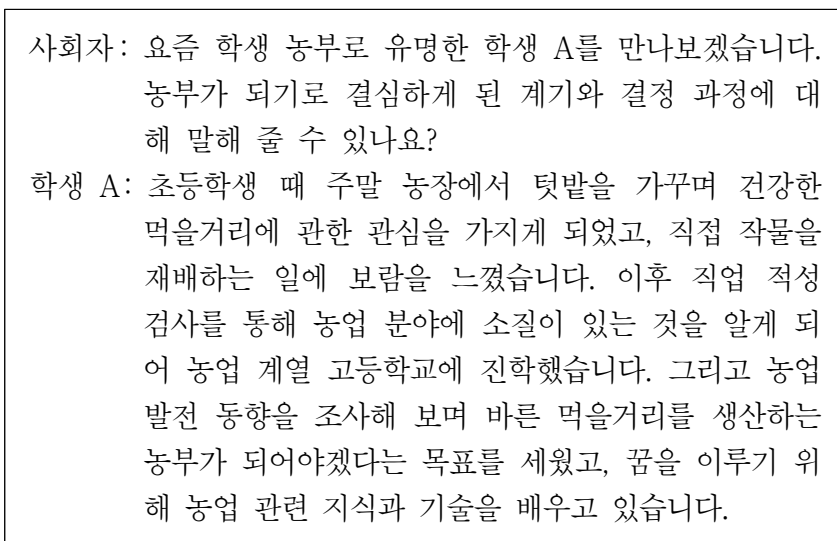


< 보 기 >

ㄱ. 학생 A가 말한 제도는 학력에 상관없이 이용할 수 있다.
 ㄴ. 학생 B가 말한 제도는 재교육형 계약학과에 해당한다.
 ㄷ. 학생 C가 말한 제도는 특성화고 졸업 후 대학 입학 사실 없이 산업체에 3년 이상 재직 중인 경우 지원 자격이 있다.
 ㄹ. 학생 A~C가 말한 제도를 통해 일과 학습을 병행하며 학위를 취득할 수 있다.

- ① ㄱ, ㄴ ② ㄱ, ㄷ ③ ㄷ, ㄹ
 ④ ㄱ, ㄴ, ㄹ ⑤ ㄴ, ㄷ, ㄹ

20. 다음은 학생 농부를 인터뷰한 내용이다. 이를 통해 알 수 있는 학생 A의 진로 의사 결정 유형에 대한 설명으로 가장 적절한 것은? (단, 의사 결정 유형은 하렌(Harren)의 진로 의사 결정 유형 이론에 근거하여 합리적, 직관적, 의존적 유형으로만 구분한다.)



- ① 자신의 특성을 고려하여 신중한 결정을 한다.
 ② 감정적 평가에 근거하여 직관에 따라 결정한다.
 ③ 타인의 기대와 요구에 따라 많은 영향을 받는다.
 ④ 수동적이며 자신이 내린 결정에 대한 책임을 지지 않는다.
 ⑤ 일관성을 요구하거나 장기적인 일의 결정에는 부적합하다.

* 확인 사항
 ○ 답안지의 해당란에 필요한 내용을 정확히 기입(표기)했는지 확인하십시오.