

제 4 교시

사회탐구 영역 (사회·문화)

성명  수험 번호       2    제 [ ] 선택

1. 밑줄 친 ㉠ ~ ㉣과 같은 현상의 일반적인 특징에 대한 설명으로 옳은 것은?


멀티태스킹이란 한 번에 두 가지 이상의 일을 동시에 처리하는 것을 의미한다. 멀티태스킹을 자주, 오래 할수록 ㉠ 뇌 회백질 밀도가 낮아진다는 ㉡ 연구 결과가 발표되었다. 뇌 회백질은 인지 기능과 감정 조절 기능을 담당하는데, 그 밀도가 낮아지면 인지 능력과 감정 조절 능력이 떨어진다. 전문가들은 이를 방지하기 위해 ㉢ 한 번에 한 가지 일에만 집중할 것을 권장하고 있다.

- ① ㉠과 같은 현상은 확률의 원리가 적용된다.
- ② ㉡과 같은 현상은 존재 법칙이 적용된다.
- ③ ㉢과 같은 현상은 몰가치성을 지닌다.
- ④ ㉠과 같은 현상은 ㉡과 같은 현상에 비해 인과 관계가 분명하다.
- ⑤ ㉢과 같은 현상은 ㉠과 같은 현상과 달리 보편성이 나타난다.

2. 일탈 이론 A, B에 대한 설명으로 옳은 것은? (단, A, B는 각각 머튼의 아노미 이론, 차별 교제 이론 중 하나임.) [3점]

**< 수업용 읽기 자료 >**

- 물질적 성공에 대한 포부가 큰 갑은 자신의 예금에 은행 대출금을 더해 주식에 투자하였다. 그런데 주가가 폭락하고 금리도 오르면서 대출 이자조차 갚지 못할 처지에 놓이게 되자 좌절하였다. 이후 갑은 친구들을 상대로 사기 행각을 벌였다.
- 평범한 직장인이었던 을은 사기 전과자들과 어울리게 되면서 문서를 위조하거나 신분을 도용하는 기술을 익히고 사기를 통해 얻게 되는 이익에 큰 관심을 가지게 되었다. 이후 을은 대도시로 이주하여 사기 행각을 벌였다.

교사  제시된 사례에서 갑의 일탈 행동은 A를 통해 설명할 수 있고, 을의 일탈 행동은 B를 통해 설명할 수 있습니다.

- ① A는 문화적 목표와 제도화된 수단 간의 괴리로 인해 일탈이 발생한다고 본다.
- ② A는 일탈 행동을 예방하기 위한 방법으로 일탈 집단과의 접촉 차단을 강조한다.
- ③ B는 특정 행위에 대한 차별적 제재로 인해 일탈이 발생한다고 본다.
- ④ A는 B와 달리 일탈 행동이 발생하는 과정에서 나타나는 상호 작용에 주목한다.
- ⑤ B는 A와 달리 일탈을 규정하는 객관적 기준이 존재한다고 본다.

3. 다음 자료에 대한 옳은 설명만을 <보기>에서 고른 것은? (단, A, B는 각각 사회 실재론, 사회 명목론 중 하나임.)

**< 형성 평가지 >**

이름 : ○○○

문제 : 개인과 사회의 관계를 바라보는 관점에 대한 설명이 옳으면 ○, 옳지 않으면 ×로 답란에 표시하십시오.

설명	답란	점수
A는 사회가 개인의 권리 보장을 위한 수단이라고 본다.	○	/점
B는 사회 규범의 구속성보다 개인의 능동성을 중시한다.	×	/점
B는 개인이 사회 속에서만 존재 의미를 가진다고 본다.	○	㉠
(가)	○	/점


\* 답란별로 채점하며, 맞으면 1점, 틀리면 0점임.


**< 보 기 >**


㉠. A는 사회가 개인의 외부에 존재하는 객관적 실체라고 본다.  
 ㉡. B는 개인의 행동이 사회에 의해 구조화된다고 본다.  
 ㉢. ㉠은 '0점'이다.  
 ㉣. (가)에는 'A는 사회 문제 해결을 위해 제도 개혁보다 의식 개선을 강조한다.'가 들어갈 수 있다.

- ① ㉠, ㉡    ② ㉠, ㉢    ③ ㉡, ㉣    ④ ㉡, ㉣    ⑤ ㉢, ㉣

4. 사회·문화 현상을 바라보는 갑, 을의 관점에 대한 설명으로 옳은 것은? [3점]

사회자  최근 출산율이 낮아지고 있는 이유가 무엇이라고 생각하십니까?

갑  출산에 대해 긍정적인 의미보다 부정적인 의미를 부여하는 젊은 세대가 증가하고 있기 때문입니다.

을  기성 세대에 유리한 분배 구조로 인해 출산에 필요한 경제적 여건을 마련할 수 없는 젊은 세대가 증가하고 있기 때문입니다.

- ① 갑의 관점은 사회가 본질적으로 조화와 균형을 이루고 있다고 본다.
- ② 을의 관점은 집단 간의 대립과 갈등을 사회의 필연적 속성으로 파악한다.
- ③ 갑의 관점은 을의 관점과 달리 지배 계급의 이익을 대변하는 논리라는 비판을 받는다.
- ④ 을의 관점은 갑의 관점과 달리 상황 정의에 기초한 개인 간의 상호 작용을 중시한다.
- ⑤ 갑, 을의 관점은 모두 사회 제도나 사회 구조에 초점을 두고 사회·문화 현상을 설명한다.

[5~6] 다음 자료를 보고 물음에 답하시오.

연구자 갑은 자신이 개발한 재난 대응 훈련 프로그램의 효과를 검증하기 위해 '㉠ 재난 대응 훈련 프로그램이 청소년의 ㉡ 재난 대응 능력을 향상시킬 것이다.'라는 가설을 설정하고 연구를 진행하였다. 갑은 ㉢ ○○ 고등학교 학생 100명을 무작위로 선정하여 각각 50명씩 A, B 집단으로 나누고 ㉣ 재난 대응 능력 지수를 측정하였다. 8주간 ㉤ A 집단에는 재난 대응 훈련 프로그램을 적용하고, ㉥ B 집단은 평소와 같이 생활하도록 하였다. 이후 두 집단을 대상으로 재난 대응 능력 지수를 측정하였고, ㉦ 수집한 자료를 분석한 결과는 아래 표와 같다.

< 재난 대응 능력 지수 > (단위: 점)

구분	A 집단	B 집단
사전 검사	70	70
사후 검사	85	71

\* 표의 값은 100점 만점을 기준으로 한 해당 집단의 평균값이며, 지수가 높을수록 그 정도가 높거나 큼.  
\*\* 분석 결과는 통계적으로 유의미함.

5. 밑줄 친 ㉠~㉦에 대한 설명으로 옳은 것은? [3점]

- ① ㉠은 종속 변인, ㉡은 독립 변인이다.
- ② ㉢은 갑의 연구에서 모집단에 해당한다.
- ③ ㉣은 독립 변인에 대한 조작적 정의에 해당한다.
- ④ ㉤은 실험 집단, ㉥은 통제 집단이다.
- ⑤ ㉦은 2차 자료이다.

6. 위 연구에 대한 옳은 분석 및 추론만을 <보기>에서 고른 것은? [3점]

<보 기>

- ㄱ. 방법론적 이원론에 기초한 연구에 해당한다.
- ㄴ. B 집단은 A 집단과 달리 재난 대응 훈련 프로그램의 영향을 받았다.
- ㄷ. 사전 검사 대비 사후 검사 점수의 증가율은 B 집단보다 A 집단이 크다.
- ㄹ. 가설은 수용될 것이다.

- ① ㄱ, ㄴ    ② ㄱ, ㄷ    ③ ㄴ, ㄷ    ④ ㄴ, ㄹ    ⑤ ㄷ, ㄹ

7. 사회 집단의 유형 A~D에 대한 설명으로 옳은 것은?

사회 집단은 구성원의 결합 의지에 따라 A와 B로 구분할 수 있고, 구성원 간의 접촉 방식에 따라 C와 D로 구분할 수 있다. 가족은 각각의 구분 기준에 따라 A와 C에 해당한다.

- ① A의 사례로 친족, 회사를 들 수 있다.
- ② B는 결합 자체를 목적으로 한다.
- ③ C는 구성원 간 친밀한 대면 접촉을 바탕으로 한다.
- ④ D는 구성원에 대한 비공식적 통제가 일반적이다.
- ⑤ A, D는 B, C와 달리 수단적·형식적 인간관계가 주로 나타난다.

8. 다음 글에서 강조하는 사회·문화 현상의 탐구 태도에 대한 설명으로 가장 적절한 것은?

연구자는 자신의 이해관계나 주관적 가치가 연구에 개입되는 것을 방지해야 한다. 또한 연구자 자신도 특정 사회의 구성원으로서 그 사회의 가치와 규범을 내면화하기 때문에 자신이 속한 사회의 지배적인 가치가 연구에 개입되지 않도록 노력해야 한다.

- ① 현상을 있는 그대로 관찰해야 함을 강조한다.
- ② 연구 결과를 잠정적인 결론으로 인식해야 함을 강조한다.
- ③ 현상의 이면에 담긴 의미를 적극적으로 살펴봐야 함을 강조한다.
- ④ 자신의 주장에 대한 비판을 무조건적으로 수용해야 함을 강조한다.
- ⑤ 현상이 발생한 특정 맥락이나 배경을 바탕으로 현상을 이해해야 함을 강조한다.

9. 자료 수집 방법 A, B의 일반적인 특징에 대한 설명으로 옳은 것은? [3점]

- 갑은 '상대 평가 방식이 학업 스트레스에 미치는 영향 연구'에 A를 활용하였다. 갑은 무작위로 선정된 중·고등학교 500명을 대상으로 상대 평가 방식에 대한 주관적 인식, 학업 스트레스 정도 등을 묻는 구조화된 문항에 답하게 하였다.
- 을은 '아프리카 ○○ 부족의 전통 문화에 관한 연구'에 B를 활용하였다. 을은 6개월 동안 ○○ 부족원들과 함께 생활하면서 그들의 전통 의상, 전통 춤, 식생활 등에 대해 상세하게 관찰하여 기록하였다.

- ① A는 기존의 연구 동향을 파악하는 데 주로 사용된다.
- ② B는 실제성 높은 자료를 수집하기에 용이하다.
- ③ A는 B에 비해 예상치 못한 상황에 대한 통제가 어렵다.
- ④ B는 A에 비해 시간과 비용 측면에서 효율성이 높다.
- ⑤ A, B는 모두 조사 대상자와의 언어적 상호 작용이 필수적이다.

10. 문화 이해 태도 A~C에 대한 설명으로 옳은 것은? (단, A~C는 각각 자문화 중심주의, 문화 상대주의, 문화 상대주의 중 하나임.)

A는 다른 문화에 비해 자신의 문화를 우월한 것으로 평가하는 태도이고, B는 다른 문화에 비해 자신의 문화가 열등하다고 평가하는 태도이다. 이에 반해 C는 문화를 우월하거나 열등하다고 평가할 수 없다고 본다.

- ① A는 문화의 다양성을 보존하는 데 기여한다.
- ② B는 국수주의를 초래할 가능성이 높다.
- ③ C는 각 문화가 가지고 있는 고유한 가치를 존중한다.
- ④ A는 B와 달리 다른 문화의 수용에 적극적이다.
- ⑤ C는 B에 비해 자문화의 정체성을 상실할 우려가 크다.

11. 밑줄 친 ㉠ ~ ㉤에 대한 설명으로 옳은 것은?

㉠ 프로 야구 선수였던 갑은 은퇴 후 ㉡ ○○대학교 야구팀 ㉢ 감독으로 부임하였다. 팀의 낮은 경기력을 끌어올리기 위해 새로운 훈련 프로그램을 도입하고 ㉣ 다양한 경기 전략도 적용하였다. 그 결과 작년 대학 야구 대회에서 우승을 차지하며 ㉤ '우수 감독상'을 수상하였다. 그러던 중 ㉥ ◇◇프로 야구팀에서 감독직을 제의받았다. 이에 갑은 현재 팀의 감독을 계속 맡을지 프로 야구팀의 감독을 맡을지 ㉦ 고민하고 있다.

- ① ㉠은 ㉢과 달리 성취 지위이다.
- ② ㉡은 갑의 재사회화에 해당한다.
- ③ ㉣은 갑의 역할 행동에 대한 보상이다.
- ④ ㉥은 ㉡과 달리 갑의 내집단이다.
- ⑤ ㉦은 갑의 역할 갈등에 해당한다.

12. 표는 사회·문화 현상의 연구 방법 A, B를 구분한 것이다. 이에 대한 설명으로 옳은 것은? (단, A, B는 각각 양적 연구, 질적 연구 중 하나임.) [3점]

질문	연구 방법	
	A	B
계량화된 자료의 통계 분석을 중시하는가?	예	아니요
(가)	예	예

- ① A는 연구 대상자가 구성하는 생활 세계의 이해를 연구의 초점으로 한다.
- ② B는 변인 간의 관계 규명을 통한 법칙 발견을 목적으로 한다.
- ③ A는 B와 달리 편지, 일기와 같은 비공식적 자료를 중시한다.
- ④ B는 A와 달리 객관적이고 정밀한 연구에 적합하다.
- ⑤ (가)에는 '경험적 자료를 바탕으로 사회·문화 현상을 연구하는가?'가 들어갈 수 있다.

13. A, B의 일반적인 특징에 대한 설명으로 옳은 것은? (단, A, B는 각각 관료제, 탈관료제 중 하나임.)

A는 직위에 따른 업무의 내용과 수행 절차가 문서로 표준화되어 있다. 그런데 간단한 업무의 처리에도 복잡한 규칙과 절차를 거쳐야 하는 경직된 조직 운영은 현대 사회의 빠른 변화에 대응하지 못하는 원인이 되기도 한다. 이에 의사 결정 권한의 분산, 개인의 자율성 강조, 구성원 간 수평적 관계의 강조 등을 특징으로 하는 새로운 조직 형태인 B가 등장하였다.

- ① A는 B에 비해 업무의 세분화 정도가 높다.
- ② A는 B에 비해 성과에 따른 보상을 중시한다.
- ③ A는 B와 달리 상향식 의사 결정 방식이 지배적이다.
- ④ B는 A에 비해 업무 처리 절차의 예측 가능성이 높다.
- ⑤ B는 A와 달리 효율적인 과업 수행을 추구한다.

14. 다음 자료에 대한 옳은 설명 및 분석만을 <보기>에서 고른 것은? [3점]

연구자 갑은 ○○지역 직장인들을 대상으로 시사 정보를 얻기 위해 이용하는 매체와 응답한 매체에 대한 신뢰도를 조사하였다. 이용자 수는 복수 응답이 가능한 질문에서 해당 매체를 이용한다고 응답한 사람의 수로 나타났다. 신뢰도는 100점 만점으로, 응답자가 해당 매체에 대해 평가한 신뢰도 점수의 평균값으로 산출하였다. 조사 결과는 아래 표와 같다.

구분	이용자 수(명)	신뢰도(점)
신문	120	49
라디오	80	32
㉠ 텔레비전	740	65
㉡ 뉴 미디어	950	24

<보 기>

- ㄱ. ㉠은 ㉡에 비해 정보 생산자와 소비자 간의 경계가 명확하다.
- ㄴ. ㉡은 ㉠에 비해 정보 전달과 수용의 시·공간적 제약이 크다.
- ㄷ. 일방향 매체보다 쌍방향 매체의 이용자 수가 많다.
- ㄹ. 이용자 수가 가장 많은 매체의 신뢰도가 가장 높다.

- ① ㄱ, ㄴ    ② ㄱ, ㄷ    ③ ㄴ, ㄷ    ④ ㄴ, ㄹ    ⑤ ㄷ, ㄹ

15. 다음 두 사례에 공통적으로 나타나 있는 문화의 속성에 대한 옳은 설명만을 <보기>에서 있는 대로 고른 것은? [3점]

- 갑국에서 반려동물을 키우는 사람들이 늘어나면서 대부분의 사람들이 반려동물을 가족의 일원으로 여기게 되었다. 이에 따라 반려동물을 위한 식품, 패션 등 관련 시장이 급성장하였고, 최근에는 반려동물과 관련한 보험 상품까지 등장하고 있다.
- 을국 사람들은 과거와 달리 쓰레기를 분리하여 배출하는 것을 당연한 일로 여기고 있다. 이에 따라 분리 배출을 쉽게 할 수 있는 포장 도구나 기술이 새롭게 만들어졌다. 또한 폐기물을 수거하는 업체와 수거된 폐기물을 재활용하는 기업도 늘어나고 있다.

<보 기>

- ㄱ. 문화는 고정된 것이 아니라 지속적으로 변화한다.
- ㄴ. 문화는 구성원 간 원활한 상호 작용의 토대가 된다.
- ㄷ. 문화는 경험이나 상징을 통해 다음 세대로 전승된다.
- ㄹ. 문화는 여러 요소가 유기적으로 결합된 총체로 존재한다.

- ① ㄱ, ㄴ    ② ㄱ, ㄷ    ③ ㄷ, ㄹ
- ④ ㄱ, ㄴ, ㄹ    ⑤ ㄴ, ㄷ, ㄹ

16. 다음 자료에 대한 설명으로 옳은 것은? [3점]

이런 주말에 가족과 함께 ○○구청이 주관하는 바자회에 가려고 해. 너희들은 뭘 할 거야?

갑

을: 지난주에 가입한 ◇◇시민 단체의 환경 캠페인에 같은 대학에 다니는 친구들과 가려고 해.

병: 입사와 동시에 가입한 △△ 회사 노동조합에서 주최하는 등반 대회에 참석하려고 해.

정: 동네 친구들과 함께 만든 마을 봉사단에서 준비한 도시락 배달 봉사 활동을 할 거야.

- ① 갑은 2차적 사회화 기관에 속해 있다.
- ② 을이 소속된 자발적 결사체는 2개이다.
- ③ 병이 소속된 공식 조직은 2개이다.
- ④ 정은 비공식 조직에 속해 있다.
- ⑤ 을, 정은 병과 달리 공식적 사회화 기관에 속해 있다.

17. 다음 자료에 대한 옳은 설명만을 <보기>에서 있는 대로 고른 것은? [3점]

< 학습 활동지 >

이름: ○○○

- 학습 주제: 문화를 바라보는 관점
- 주요 내용

문화를 바라보는 관점	의미
A	문화 현상을 다른 요소나 전체와의 관련성 속에서 파악하는 관점
B	한 사회의 문화를 그 사회의 자연환경, 사회적 상황, 역사적 맥락 등을 고려하여 이해하는 관점
비교론적 관점	(가)

< 보 기 >

- ㄱ. A는 상대론적 관점, B는 총체론적 관점이다.
- ㄴ. A는 문화에 대한 편협하고 왜곡된 이해를 방지하는 데 기여한다.
- ㄷ. B는 해당 문화 향유자의 입장에서 문화의 고유한 의미를 파악하고자 한다.
- ㄹ. (가)에는 '문화 간의 유사성과 차이점을 분석하여 한 사회의 문화가 지닌 보편성과 특수성을 파악하는 관점'이 들어갈 수 있다.

- ① ㄱ, ㄴ                      ② ㄱ, ㄷ                      ③ ㄷ, ㄹ
- ④ ㄱ, ㄴ, ㄹ                ⑤ ㄴ, ㄷ, ㄹ

18. 다음 사례에 나타난 연구 윤리상의 문제점으로 가장 적절한 것은?

연구자 갑은 고등학생의 학급 임원 활동 경험이 학교 생활 만족도에 미치는 영향을 알아보기 위한 연구를 실시하였다. 먼저 ○○고등학교 재학생 전체를 연구 대상으로 선정하고, 학생과 보호자의 허락을 받아 설문 조사를 진행하였다. 이후 갑은 별도의 안내 없이 설문에 응답한 학생 중 일부를 무작위로 선정하여 심층 면접을 실시하였다. 갑은 연구 결과를 발표하면서 연구 대상자들의 개인 정보를 알아볼 수 없게 처리하였다.

- ① 사회적으로 유해한 연구 주제를 선정하였다.
- ② 연구 목적 달성을 위해 수집한 자료를 조작하였다.
- ③ 수집한 자료를 연구 목적 이외의 다른 용도로 활용하였다.
- ④ 결과 발표 과정에서 연구 대상의 익명성을 보장하지 않았다.
- ⑤ 연구에 대한 충분한 정보를 연구 대상에게 제공하지 않았다.

19. 밑줄 친 ㉠, ㉡에 대한 설명으로 옳은 것은?

○○시에서는 '모두를 위한 영화 도시'를 목표로 다양한 활동을 벌이고 있다. ○○시는 세계 여러 나라의 생활 양식과 가치관을 담은 영화를 소개하여 외국 ㉠ 문화를 간접 체험할 수 있는 장을 마련하고 있다. 또한 다채로운 장르의 영화를 상영하여 ㉡ 문화 시민으로서의 예술 감상 기회를 제공하고 있다.

- ① ㉠은 생활 양식의 총체를 의미한다.
- ② ㉡은 '노인 문화'의 '문화'와 동일한 의미이다.
- ③ ㉡은 인간이 후천적으로 학습한 모든 것을 의미한다.
- ④ ㉠은 ㉡과 달리 평가적 의미를 내포하고 있다.
- ⑤ ㉡은 ㉠과 달리 물질문화만을 의미한다.

20. (가)에 대한 설명으로 옳지 않은 것은?

한 사회의 일부 구성원들이 공유하는 문화를 (가)라고 한다. 온라인 대화에서 20대 대학생들이나 30대 직장인들은 그들끼리만 통하는 특유의 줄임말을 사용하거나 신조어를 공유하여 소통하는 모습을 볼 수 있다. 이처럼 비슷한 연령, 유사한 경험 등을 가진 특정 영역의 사람들끼리 공유하는 문화는 (가)에 해당한다.

- ① (가)는 사회가 다원화될수록 다양해진다.
- ② (가)는 다양한 문화적 욕구 해결에 기여한다.
- ③ (가)는 특정 집단의 정체성과 일체감 형성에 기여한다.
- ④ 사회 변화에 따라 주류 문화가 (가)로 변화하기도 한다.
- ⑤ 한 사회 내에 존재하는 모든 (가)의 총합은 주류 문화이다.

\* 확인 사항

- 답안지의 해당란에 필요한 내용을 정확히 기입(표기)했는지 확인하십시오.