

제 4 교시

사회탐구 영역(경제)

성명		수험번호				2				제 () 선택
----	--	------	--	--	--	---	--	--	--	----------

1. 그림은 ○○○ 학생이 스마트폰 수리 후 받은 명세서이다. 밑줄 친 ㉠~㉣에 대한 옳은 설명만을 <보기>에서 고른 것은?

수리비 명세서					
공급받는자	고객명	㉠ ○○○ 귀하	공급자	등록 번호	123-45-67890
	발행 일자	2024. 3. 28.		기업명	㉡ (주)△△서비스
	합계 금액 (VAT포함)	151,000원		종목	전자 및 통신 제품 수리 외
항목		공급가액	세액		
부품비 (배터리)		110,000원	11,000원		
수리비 (㉢ 배터리 교체 작업)		27,270원	2,730원		
계		137,270원	㉣ 13,730원		

< 보 기 >

ㄱ. ㉠과 같은 경제 주체는 생산물 시장의 수요자이다.
 ㄴ. ㉡과 같은 경제 주체는 소비 활동의 주체이다.
 ㄷ. ㉢은 부가 가치를 창출하는 경제 활동에 해당한다.
 ㄹ. ㉣의 부과 주체는 효용 극대화를 추구한다.

- ① ㄱ, ㄴ ② ㄱ, ㄷ ③ ㄴ, ㄷ ④ ㄴ, ㄹ ⑤ ㄷ, ㄹ


2. 다음 자료는 형성 평가에 대한 학생의 답안과 교사의 채점 결과이다. 이에 대한 설명으로 옳은 것은? (단, A, B는 각각 시장 경제 체제, 계획 경제 체제 중 하나임.) [3점]

<형성 평가>		
2학년 ○반 △△번 □□□		
○ A, B에 대한 진술이 맞으면 '예', 틀리면 '아니요'라고 쓰시오.		
문항	진술	답란
1	A에서는 시장 가격 기구에 의해 경제 문제를 해결한다.	아니요
2	B에서는 경제 활동의 효율성보다 형평성을 중시한다.	예
3	(가)	예

- ① A에서는 '보이지 않는 손'의 기능을 중시한다.
 ② B에서는 시장에서의 경제적 유인을 강조한다.
 ③ A에서는 B와 달리 기본적인 경제 문제가 발생하지 않는다.
 ④ B에서는 A와 달리 원칙적으로 사유 재산권을 인정하지 않는다.
 ⑤ (가)에는 'B에서는 A와 달리 정부의 계획과 명령에 의한 자원 배분을 중시한다.'가 들어갈 수 있다.

3. 다음 자료를 통해 추론할 수 있는 내용으로 가장 적절한 것은?

과거에 사막에는 낙타조차 피해 가는 물이 있었다. 이것이 바로 사람들이 '쓸모없는 검은 물'이라 불렀던 석유이다. 그러나 석유의 정제 기술이 발전하고, 쓰임새가 확대되면서 석유는 없어서는 안 될 중요한 자원으로 변화하였다.



- ① 모든 재화는 경제적 가치가 있다.
 ② 석유는 공유 자원으로 성격이 변화하였다.
 ③ 자원의 가치는 매장량에 의해서 결정된다.
 ④ 석유는 희소성은 없고 희귀성만 있는 자원이다.
 ⑤ 희소성의 크기는 시대와 상황에 따라 달라질 수 있다.

4. 표는 X재의 가격에 따른 수요량과 공급량의 일부를 나타낸다. 이에 대한 분석으로 옳은 것은? (단, 수요와 공급 곡선은 모두 직선임.) [3점]

가격(만 원)	1	2	3	4	5
수요량(개)	100	80	60	40	20
공급량(개)	50	70	90	110	130

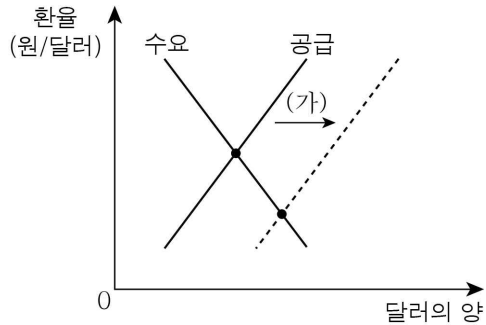
- ① 가격이 1만 원일 때 거래는 발생하지 않는다.
 ② 가격이 2만 원일 때 거래 금액은 4만 원일 때보다 많다.
 ③ 가격이 4만 원일 때 초과 수요량은 70개이다.
 ④ 가격이 5만 원일 때 거래량은 130개이다.
 ⑤ 균형 가격은 2만 원과 3만 원 사이에서 결정된다.

5. 밑줄 친 ㉠의 사례로 가장 적절한 것은?

1971년 미국의 경제학자 밀턴 프리드먼(Milton Friedman)은 '기업의 사회적 책임은 이익을 많이 내는 것'이라며 기업의 목표를 이윤 극대화로 설명했다. 기업이 더 많은 이윤을 얻기 위해 혁신을 추구하고, 새로운 기술과 제품을 개발하는 과정에서 일자리가 창출되고 고용이 늘어나 결국 국민 경제의 성장에 이바지하기 때문이다. 하지만 최근에는 기업의 이윤 추구 과정에서 환경오염 문제, 노동 문제 등 많은 문제가 발생할 수 있는 점이 부각되며, ㉠ 다양한 이해관계자까지 고려하는 기업의 사회적 책임이 요구되고 있다.

- ① 수익 창출을 위한 생산비 절감 노력
 ② 과감한 투자를 통한 기업 규모 확대 노력
 ③ 고부가 가치를 창출할 수 있는 신상품 개발
 ④ 판매 수입 극대화를 위한 새로운 시장 개척
 ⑤ 소비자의 권익 보호를 위한 안전한 제품 생산

6. 그림의 (가)는 우리나라 외환 시장의 변동을 나타낸다. 이에 대한 설명으로 옳은 것은? [3점]



- ① 내국인의 미국 투자 증가는 (가)의 요인이다.
- ② 국내 생산 제품의 미국 수출 감소는 (가)의 요인이다.
- ③ (가)는 달러화 대비 원화의 가치를 상승시키는 요인이다.
- ④ (가)로 인한 환율 변화는 미국 시장에서 한국산 제품의 가격 경쟁력을 상승시키는 요인이다.
- ⑤ (가)로 인한 환율 변화는 한국으로 여행 오는 미국인의 여행 경비 부담을 감소시키는 요인이다.

7. (가)에 들어갈 내용으로 옳은 것은?

연필, 음료수 등 우리가 일상생활에서 흔히 살 수 있는 상품은 한 사람이 일정량의 상품을 소비하게 되면 다른 사람이 소비하는 몫이 줄어드는 특성과 값을 치른 사람만 상품을 소비할 수 있는 특성을 동시에 갖고 있다. 이 두 가지 특성으로 기업은 해당 상품의 공급에 참여하여 이익을 얻을 수 있다. 하지만 이 두 가지 특성이 모두 없는 국방 서비스, 치안 서비스 등은 기업이 공급에 참여할 유인을 갖지 못하고, 시장을 통해 충분히 공급되지 못하는 문제가 발생할 수 있다. 이러한 상품을 (가) (이)라고 한다.

- ① 경제재 ② 공공재 ③ 사치재
- ④ 생산재 ⑤ 공유 자원

8. 다음 자료에 대한 설명으로 옳은 것은? [3점]

온라인 강의 4개를 수강하려는 갑은 온라인 강의 요금 안내지를 보고 ㉠ 개별 수강권 4개를 구매할지, ㉡ 무제한 수강권을 구매할지 고민 중이다. 갑이 강의 4개를 수강할 때 얻는 편익은 20만 원이고, 증정품으로 얻는 편익은 13만 원이다. 단, 갑은 무제한 수강권을 구매한 경우에도 4개의 강의만 수강하려 한다.

< 온라인 강의 요금 안내 >

- 개별 수강권
가격 : 45,000원
(강의 1개당 가격)
- 무제한 수강권
가격 : 290,000원
+ 증정품
(무선 이어폰)

- ① ㉠ 선택의 암목적 비용은 13만 원이다.
- ② ㉡ 선택의 명시적 비용은 31만 원이다.
- ③ ㉡ 선택의 순편익은 음(-)의 값이다.
- ④ ㉠ 선택의 기회비용은 ㉡ 선택의 기회비용보다 작다.
- ⑤ ㉠ 선택의 명시적 비용은 ㉡ 선택의 암목적 비용의 10배이다.

9. 다음 자료에서 과제에 대한 답이 모두 옳은 학생은?

○ 과제: 개인의 올바른 신용 관리 방법에 대한 진술이 맞으면 '○', 틀리면 '×'로 표시하시오.

진술	학생의 답				
	갑	을	병	정	무
통신비, 보험료 등을 정해진 날짜에 납부한다.	○	×	○	○	×
상환 능력을 고려하지 않고 신용카드를 사용한다.	×	○	○	×	○
금융 기관과의 거래에서 장기 연체를 하지 않는다.	○	○	×	○	×
신용 카드로 단기 카드 대출 서비스를 자주 받는다.	×	×	○	○	×

- ① 갑
- ② 을
- ③ 병
- ④ 정
- ⑤ 무

10. 다음 자료에 대한 옳은 설명만을 <보기>에서 고른 것은? [3점]

<경제 안정화 정책 이해하기 게임>

○ 게임 방법

- 경제 상황 A 또는 B가 주어짐. 단, 경제 상황 A, B는 각각 경기 과열, 경기 침체 중 하나임.
- (가)~(다) 영역으로 나뉘어 있는 돌림판을 돌림.
- 돌림판이 멈춘 후 화살표가 가리키는 영역의 정책이 주어진 경제 상황을 개선하는 데 적절하면 1점을 획득함.
- 돌림판은 매 회차마다 두 번씩 돌림.

○ 게임 결과

- 1회 차에서 갑의 경우는 화살표가 ㉠ 서로 다른 영역을, 을의 경우는 두 번 ㉡ 모두 동일한 영역을 가리킴.
- 2회 차에서 갑의 경우는 화살표가 두 번 모두 동일한 영역을, 을의 경우는 ㉢ 서로 다른 영역을 가리킴.
- 회차별 주어진 경제 상황과 획득 점수

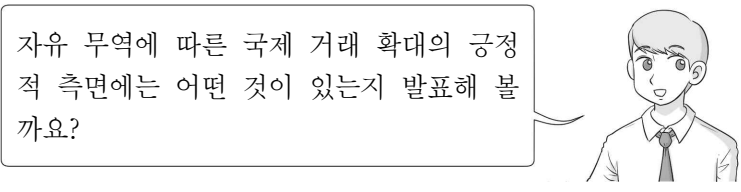
구분	주어진 경제 상황	획득 점수	
		갑	을
1회 차	A	2	2
2회 차	B	0	1

< 보 기 >

㉠. A는 경기 침체, B는 경기 과열이다.
 ㉡. ㉠은 (가), (나)이다.
 ㉢. ㉡은 (다)이다.
 ㉣. ㉢은 반드시 (다)를 포함한다.

- ① ㉠, ㉡
- ② ㉠, ㉢
- ③ ㉡, ㉣
- ④ ㉡, ㉣
- ⑤ ㉢, ㉣

11. 교사의 질문에 대한 학생의 답변으로 옳지 않은 것은?



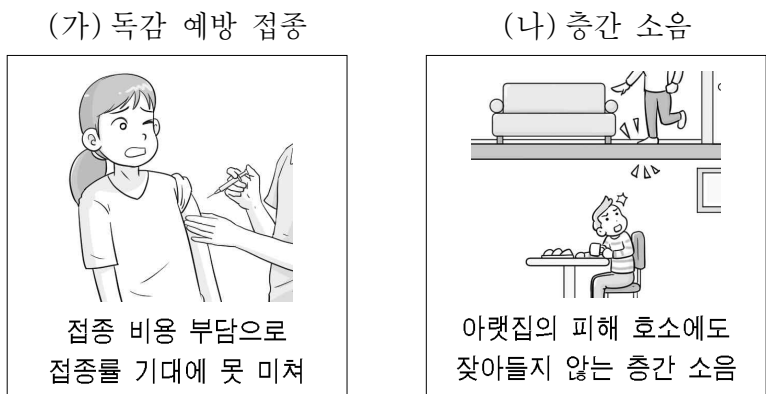
- ① 다양한 상품을 소비할 기회가 증가합니다.
- ② 규모의 경제를 실현하여 생산비를 절감할 수 있습니다.
- ③ 자원 부족이나 기술력 부족 문제를 해결할 수 있습니다.
- ④ 경쟁력을 갖추지 못한 국내 산업을 보호하는 데 유리합니다.
- ⑤ 외국 기업과의 경쟁을 촉진하여 국내 기업의 생산성이 향상될 수 있습니다.

12. 표는 자본주의 발달 과정에 대해 학생들이 선정한 발표 주제이다. 발표 주제를 적절하게 정한 학생만을 고른 것은?

학생	자본주의 발달 과정	발표 주제
갑	상업 자본주의	스태그플레이션에 대응하는 정부의 바람직한 역할 논쟁
을	산업 자본주의	산업 혁명으로 인한 산업 자본의 축적 과정
병	독점 자본주의	절대 왕정의 중상주의 정책과 신행로 개혁
정	수정 자본주의	대공황 극복 과정에서 나타난 자본주의 경제 체제의 변화

- ① 갑, 을 ② 갑, 병 ③ 을, 병 ④ 을, 정 ⑤ 병, 정

13. 그림은 외부 효과의 사례 (가), (나)를 카드 뉴스로 만든 것이다. 이에 대한 옳은 설명만을 <보기>에서 고른 것은? [3점]



< 보 기 >

ㄱ. (가)는 긍정적 외부 효과, (나)는 부정적 외부 효과의 사례이다.

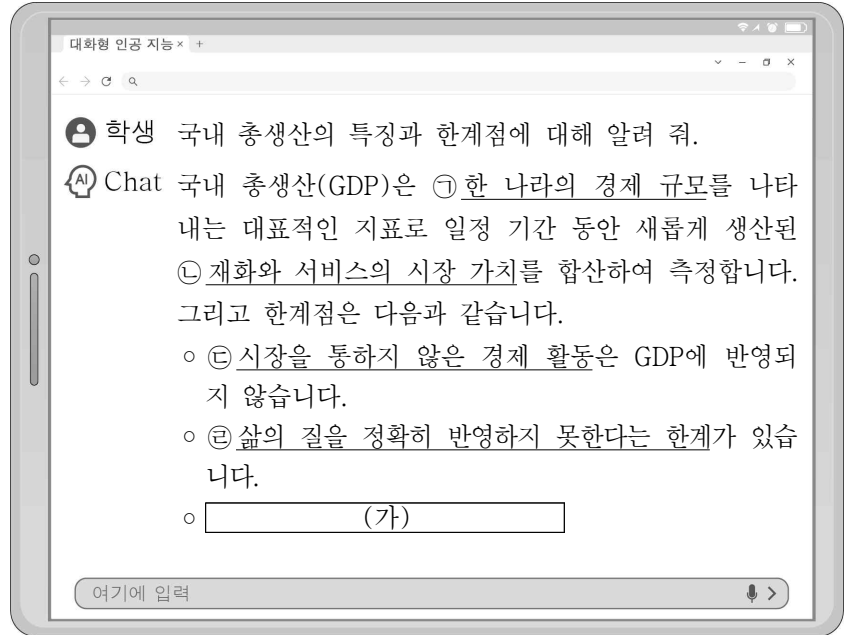
ㄴ. (가)는 사회적으로 적정한 수준보다 적게 소비된다.

ㄷ. (가)는 (나)와 달리 경제적 유인을 통해 해결할 수 있다.

ㄹ. (나)는 (가)와 달리 자원이 효율적으로 배분되지 못한 상황이다.

- ① ㄱ, ㄴ ② ㄱ, ㄷ ③ ㄴ, ㄷ ④ ㄴ, ㄹ ⑤ ㄷ, ㄹ

14. 그림은 학생이 대화형 인공 지능 서비스를 이용하는 장면이다. 이에 대한 설명으로 옳은 것은?



- ① ㉠에는 국내 기업이 해외에서 생산한 제품의 시장 가치가 포함된다.
- ② ㉡에는 중간 생산물과 달리 최종 생산물의 시장 가치는 제외된다.
- ③ ㉢의 사례로 온라인 쇼핑몰에서의 구매 행위를 들 수 있다.
- ④ ㉣에도 불구하고 여가의 가치는 국내 총생산에 포함된다.
- ⑤ (가)에는 '실질적인 소득 분배 상태를 파악하기 어렵습니다.'가 들어갈 수 있다.

15. 다음 자료에 대한 옳은 분석만을 <보기>에서 고른 것은? [3점]

표는 금융 상품 A~C의 특징이 점수화된 자료에 갑이 중시하는 정도에 따라 가중치를 부여한 것이다. 갑은 각 점수에 가중치를 곱한 값들의 합이 가장 큰 금융 상품에 투자하려 한다.

평가 기준	금융 상품별 점수			갑이 부여한 가중치
	A	B	C	
수익성	3점	2점	1점	5
안전성	1점	2점	3점	3
유동성	2점	2점	3점	1

< 보 기 >

ㄱ. 쉽게 현금으로 바꿀 수 있는 정도는 A가 C보다 크다.

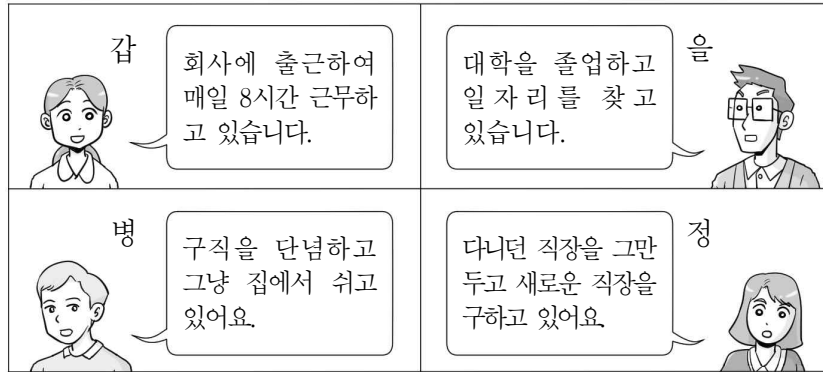
ㄴ. 시세 차익이나 이자 수익 등을 기대할 수 있는 정도는 B가 C보다 크다.

ㄷ. 갑은 안전성보다 수익성을 중시한다.

ㄹ. 갑은 B에 투자할 것이다.

- ① ㄱ, ㄴ ② ㄱ, ㄷ ③ ㄴ, ㄷ ④ ㄴ, ㄹ ⑤ ㄷ, ㄹ

16. 그림은 고용 동향 조사에 응답하는 장면이다. 이에 대한 설명으로 옳은 것은? (단, 갑~정의 나이는 모두 15세 이상임.) [3점]



- ① 갑은 비경제 활동 인구에 해당한다.
- ② 병은 실업자에 해당한다.
- ③ 을의 취업은 경제 활동 인구의 감소 요인이다.
- ④ 병의 구직 활동 시작은 경제 활동 인구의 증가 요인이다.
- ⑤ 정의 구직 활동 단념은 실업률 상승 요인이다.

17. 그림은 경제 수업 시간에 학생이 필기한 내용의 일부이다. (가)~(다)에 들어갈 내용으로 옳은 것은?

○ 인플레이션: 물가가 지속적으로 상승하는 현상으로 화폐 가치의 하락을 의미함.

○ 인플레이션의 영향

- 채권자가 채무자에 비해 (가) 해짐.
- 일정한 급여나 연금으로 생활하는 사람이 (나) 해짐.
- 화폐 자산보다 실물 자산을 보유한 사람이 (다) 해짐.

- | | | | |
|---|-----|-----|-----|
| | (가) | (나) | (다) |
| ① | 불리 | 불리 | 유리 |
| ② | 불리 | 유리 | 불리 |
| ③ | 유리 | 불리 | 유리 |
| ④ | 유리 | 유리 | 불리 |
| ⑤ | 유리 | 유리 | 유리 |

18. 금융 상품 A~C에 대한 설명으로 옳은 것은? [3점]

그림은 금융 상품 A~C가 적혀 있는 공을 각 질문에 대한 답(예/아니오)으로 구분하여 같은 답끼리 바구니에 담은 결과이다. 단, A~C는 각각 요구불 예금, 주식, 채권 중 하나이며, 각 금융 상품의 일반적인 특징을 갖는다.

[질문1] 배당금을 기대할 수 있는가?	[질문2] 시세 차익을 기대할 수 있는가?
(A) (C) (B)	(A) (B) (C)

- ① A는 주주로서의 지위를 부여하는 금융 상품이다.
- ② B는 만기가 있는 금융 상품이다.
- ③ C는 예금자 보호 제도가 적용되는 금융 상품이다.
- ④ B는 A와 달리 발행 주체가 빌린 돈을 갚기로 약속한 증서이다.
- ⑤ B는 C와 달리 이자 수익을 기대할 수 있다.

19. 다음 자료는 시장 균형 변동과 관련된 수업의 일부이다. 교사의 지시에 해당하는 카드로 옳은 것은?

교사: [가]~[라]는 X재의 수요 또는 공급의 변동 요인이 적힌 카드입니다. 균형점을 E에서 E'로 변동시킬 수 있는 카드의 조합을 골라 보세요.

[가]	[나]	[다]	[라]
X재의 생산비 증가	X재의 대체재 가격 상승	X재의 보완재 가격 상승	X재 생산에 대한 정부의 보조금 지급

- ① [가], [나]
- ② [가], [다]
- ③ [나], [다]
- ④ [나], [라]
- ⑤ [다], [라]

20. 다음 자료에 대한 분석 및 추론으로 옳은 것은? [3점]

표는 노동만을 생산 요소로 하여 직선인 생산 가능 곡선상에서 X재와 Y재만을 생산하는 갑국과 을국의 교역 전 X재와 Y재의 생산량을 나타낸다.

구분	X재	Y재
갑국	30개	20개
을국	60개	10개

갑국의 X재 최대 생산 가능량은 40개이고, 을국의 Y재 최대 생산 가능량은 30개이다. 양국 모두 비교 우위가 있는 재화만을 생산하여 양국 모두 자국에 이익이 발생하는 경우에만 교역하고자 한다. 단, 교역은 거래 비용 없이 양국 간에만 이루어지고, 양국이 보유하고 있는 노동량은 동일하다.

- ① 갑국은 X재 30개와 Y재 30개를 동시에 생산할 수 있다.
- ② 을국은 Y재 생산에 절대 우위를 갖는다.
- ③ 갑국은 X재 생산에 비교 우위를 갖는다.
- ④ 갑국의 Y재 1개 생산의 기회비용은 X재 2개이다.
- ⑤ X재와 Y재의 교환 비율이 1:1이라면 갑국과 을국은 모두 교역에 참여할 것이다.

* 확인 사항

- 답안지의 해당란에 필요한 내용을 정확히 기입(표기)했는지 확인하시오.