

제 4 교시

사회탐구 영역 (세계사)

성명 수험 번호 2 제 [] 선택

1. 다음 문화유산을 남긴 고대 문명에 대한 설명으로 옳은 것은?

이 문화유산은 유프라테스강 하류에 위치한 우르 유적의 지구라트입니다. 수메르인은 이 지구라트를 만들 때 점토 질 벽돌로 높은 기단을 쌓았고, 꼭대기에는 도시의 수호 신을 모시는 신전을 두었다고 합니다.



- ① 왕을 파라오라 칭하였다.
- ② 길가메시 서사시를 남겼다.
- ③ 하라파에 계획도시를 건설하였다.
- ④ 갑골에 점복의 내용을 기록하였다.
- ⑤ 종법에 의한 봉건제를 시행하였다.

2. (가) 시대에 있었던 사실로 옳은 것은? [3점]

옛 시로 읽는 중국사

나라가 망하는 것도 다 운세에 따르는 것인데
오나라 사람들 어찌 서시만을 원망하는가?
서시가 정녕 오나라를 망하게 한 것이라면
월나라가 망한 것은 또 누구 때문인가?

작품의 배경과 해설

이 시는 [가] 시대 제후국 중 하나인 오나라의 멸망과 여인 서시에 대해 노래하고 있다. 작가는 나은이라는 시인으로 [더 보기]

○ 5매

- ① 사교전서가 편찬되었다.
- ② 제자백가가 등장하였다.
- ③ 다이카 개신이 일어났다.
- ④ 향거리선제가 시행되었다.
- ⑤ 균수법과 평준법이 실시되었다.

3. 밑줄 친 '시기'에 볼 수 있는 모습으로 가장 적절한 것은?

흉노, 선비, 갈 등 북방 민족들이 화북에서 여러 나라를 세웠다. 이에 진(晉)은 남쪽으로 이주하여 건강을 도읍으로 삼아 동진을 세웠다. 동진에 이어 송이 강남 지역에 건국되었고, 선비족이 세운 북위가 화북을 통일하였다. 이후 수에 의해 통일되기까지 중국에서는 오랜 분열의 시기가 지속되었다.

- ① 청명상하도를 그리는 화가
- ② 파스파 문자를 사용하는 관리
- ③ 시박사를 통해 교역하는 상인
- ④ 희곡 서상기를 공연하는 배우
- ⑤ 원강 석굴 사원을 조성하는 석공

4. (가) 왕조에 대한 설명으로 옳은 것은?

○ [가] 은/는 자국에 외국인이 들어와 무역을 할 경우 조공을 전제로 하였으며, 조공하러 오는 외국 사절의 진위를 확인하기 위해 신표의 일종인 감합을 발행하였다.
○ 무로마치 막부는 왜구를 단속하고, 조공 무역인 감합 무역을 통해 [가] 와/과 교류하여 경제적인 안정을 도모하였다.

- ① 이감제를 시행하였다.
- ② 만한 병용책을 실시하였다.
- ③ 변발과 호복을 강요하였다.
- ④ 황소의 난으로 쇠퇴하였다.
- ⑤ 건융의 침입으로 뤼양에 천도하였다.

5. (가) 황제에 대한 설명으로 옳은 것은? [3점]

중국사 학습 카드

삼번(三藩)의 난(1673~1681)

독자적인 군사·재정권을 갖고 있었던 번(藩)의 존재에 위협을 느낀 [가] 이/가 번을 폐할 것을 명하자 오삼계 등이 일으킨 반란이다. 한때 이들은 쓰촨, 산시 등의 지역을 장악하기도 하였으나, 오삼계가 후난에서 고립되어 사망한 후 잔여 세력까지 모두 진압되었다.

- ① 조용조 대신 양세법을 시행하였다.
- ② 동중서의 건의로 유교를 관학화하였다.
- ③ 러시아와 네르친스크 조약을 체결하였다.
- ④ 임진왜란이 일어나자 조선에 파병하였다.
- ⑤ 관리 선발을 위해 9품중정제를 시행하였다.

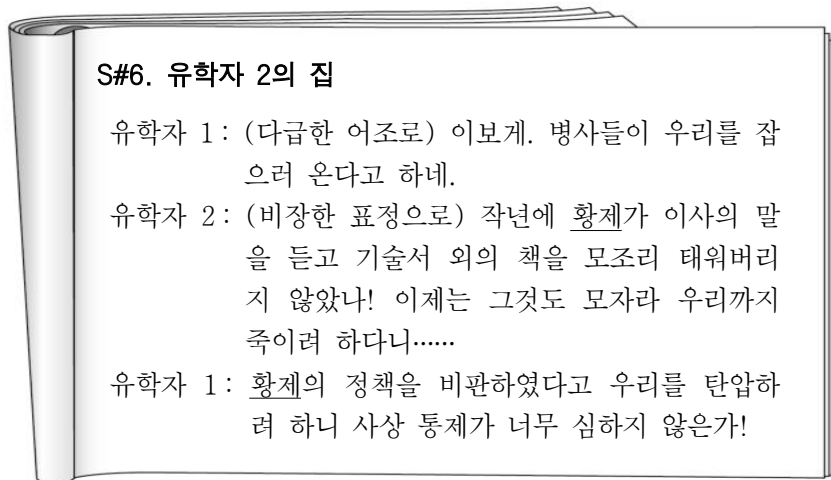
세계사

6. 밑줄 친 '이 종교'에 대한 탐구 활동으로 가장 적절한 것은?



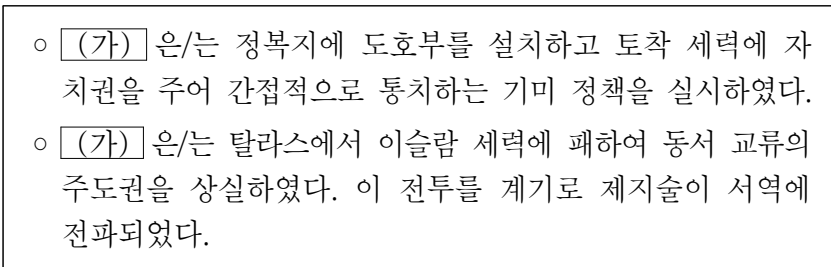
- ① 함무라비 법전의 내용을 분석한다.
- ② 사자의 서를 제작한 이유를 찾아본다.
- ③ 카스트 제도의 성립 과정을 알아본다.
- ④ 쿠란이 일상생활에 끼친 영향을 파악한다.
- ⑤ 자연을 찬미한 베다의 등장 배경을 살펴본다.

7. 밑줄 친 '황제'에 대한 설명으로 옳은 것은? [3점]



- ① 불교를 수용하였다.
- ② 팔기제를 시행하였다.
- ③ 만리장성을 축조하였다.
- ④ 정화의 함대를 파견하였다.
- ⑤ 인공섬인 데지마를 건설하였다.

8. (가) 왕조에서 있었던 사실로 옳은 것은?



- ① 당삼채가 제작되었다.
- ② 죽림칠현이 활동하였다.
- ③ 공행 무역이 성행하였다.
- ④ 황건적의 난이 일어났다.
- ⑤ 장건이 서역에 파견되었다.

9. 밑줄 친 '이 왕조'에 대한 설명으로 옳은 것은? [3점]



제4대 칼리프 알리가 살해되고, 시리아 총독 무아위야가 칼리프가 되었다. 그는 자신의 가문에서 칼리프 자리를 세습하도록 하여 이 왕조를 세웠다. 이에 4대 칼리프 알리의 차남 후세인이 반란을 일으켰고, 무아위야의 아들 야지드는 위 그림에서 묘사된 것처럼 카르발라의 벌판에서 반란 세력을 진압하였다.

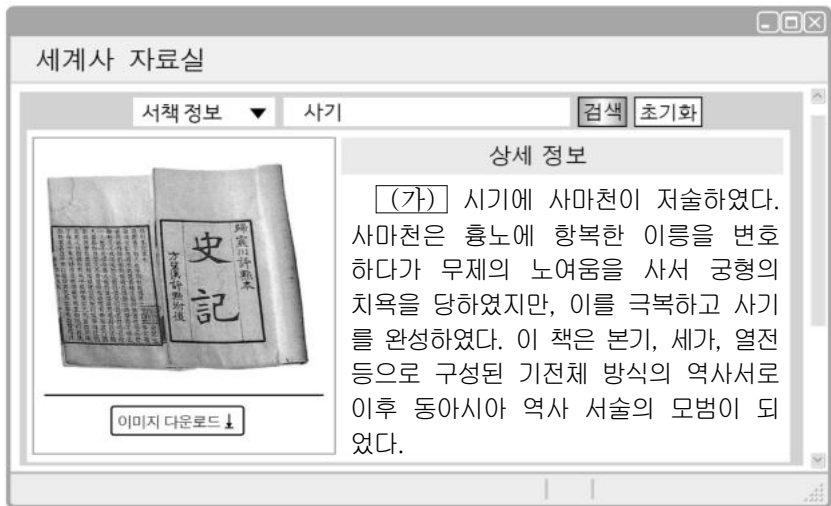
- ① 맹안 모극제를 실시하였다.
- ② 데브시르메 제도를 운용하였다.
- ③ 다마스쿠스를 수도로 정하였다.
- ④ 사산 왕조 페르시아를 정복하였다.
- ⑤ 셀주크 튀르크에게 술탄 칭호를 부여하였다.

10. (가) 국가에 대한 설명으로 옳은 것은? [3점]



- ① 은허 유적을 남겼다.
- ② 아구다가 건국하였다.
- ③ 헤이조쿄로 천도하였다.
- ④ 밀레트 제도를 실시하였다.
- ⑤ 가마쿠라에 막부를 설치하였다.

11. (가) 왕조에 대한 설명으로 옳은 것은? [3점]



- ① 도다이사를 창건하였다.
- ② 일조편법을 시행하였다.
- ③ 이자성의 난으로 멸망하였다.
- ④ 소금, 철의 판매제를 실시하였다.
- ⑤ 3성 6부의 통치 조직을 운영하였다.

12. (가) 인물의 활동으로 옳은 것은?

[가] 은/는 이탈리아 출신으로 예수회 선교사가 되어 중국에 파견되었다. 그는 만력제의 허락을 받아 베이징에 성당을 세우고 포교 활동을 펼쳤다. 또한 크리스티교로 개종한 학자인 서광계와 함께 기하학 서적인 기하원본을 번역·소개하였다.

- ① 귀거래사를 지었다.
- ② 만엽집을 편찬하였다.
- ③ 수시력을 제작하였다.
- ④ 오경정의를 저술하였다.
- ⑤ 곤여만국전도를 만들었다.

13. 밑줄 친 '이 시기' 중국의 경제 상황에 대한 설명으로 옳은 것만을 <보기>에서 고른 것은?

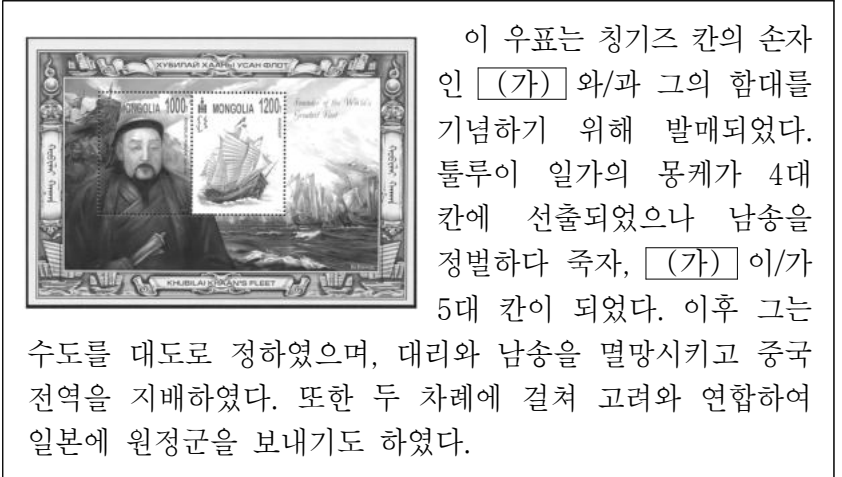
이 시기에는 농업 생산량과 상품 작물 재배가 증가하면서 경제 중심지가 분화되었다. 창장강 중·상류 지역은 곡창 지대로 발달하였고, 창장강 하류 지역에서는 상공업이 발달하였다. 이에 따라 쑤저우, 항저우 등 대도시가 발달하였고, 각 지역마다 소규모 정기시가 번성하였다. 또한 상업의 발달로 산시 상인과 휘저우(후이저우) 상인 등 대자본을 보유한 대상인 집단이 활동하였다.

<보 기>

- ㄱ. 공소, 회관이 설립되었다.
- ㄴ. 반량전으로 화폐가 통일되었다.
- ㄷ. 감자, 옥수수 등의 외래 작물이 재배되었다.
- ㄹ. 강남 지방에 신품종인 참파 벼가 도입되었다.

- ① ㄱ, ㄴ ② ㄱ, ㄷ ③ ㄴ, ㄷ ④ ㄴ, ㄹ ⑤ ㄷ, ㄹ

14. (가) 황제에 대한 설명으로 옳은 것은? [3점]



- ① 군기처를 설치하였다.
- ② 안사의 난을 진압하였다.
- ③ 국호를 원으로 바꾸었다.
- ④ 전연의 맹약을 체결하였다.
- ⑤ 전국(센고쿠) 시대를 통일하였다.

15. (가)에 들어갈 내용으로 가장 적절한 것은? [3점]

서술형 문제

※ 다음 글을 읽고 물음에 답하시오.

신종은 즉위 후 왕안석을 조정에 불러들여 개혁의 책략을 물었다. 왕안석은 구체적인 방안을 제출하여 신종을 도왔고, 그 결과 청묘법, 모역법, 보갑법 등이 시행되었다. 그러나 이 개혁은 다수의 관료와 대지주들의 강력한 반대에 부딪히게 되었다.

1. 밑줄 친 '개혁'의 배경을 서술하시오.(10점)


답: _____ (가)

- ① 고구려 원정에 실패하였다.
- ② 교초의 남발로 물가가 폭등하였다.
- ③ 영계거 등 대규모 토목 사업이 진행되었다.
- ④ 거란(요)과 서하의 위협으로 군사비 지출이 증가하였다.
- ⑤ 진승·오광의 난을 비롯한 반란이 각지에서 발생하였다.

16. (가)에 들어갈 국가로 옳은 것은?

수학, 세계사로 만나다.

알고리즘의 유래



▲ 알 콰리즈미


알고리즘은 문제를 해결하기 위한 절차나 방법을 순서대로 나열한 것을 의미하며,

그 어원은 알 콰리즈미의 이름에서 유래하였다. 알 콰리즈미는 인도의 수 개념과 10진법을 대중화시킨 인물로 '대수학의 아버지'로 불린다. 그는 우마이야 왕조를 무너뜨리고 등장한 (가)의 수도 바그다드에 설립된 도서관인 '지혜의 집'에서 활동하였다.

- ① 아시리아 ② 파르티아 ③ 사파비 왕조
- ④ 오스만 제국 ⑤ 아바스 왕조

17. 밑줄 친 '제국'에 대한 설명으로 옳은 것은? [3점]

POSTCARD



○○야, 안녕?
나는 페르세폴리스에 와 있어. 이곳은 다리우스 1세가 제국의 새로운 수도로 건설한 곳이지. 이곳의 건축물에는 그리스, 이집트 등 여러 지역의 양식이 혼합되어 있어. 번영을 누리던 이 도시는 알렉산드로스에 의해 폐허가 되고 말았대. 내일은 슈슈타르 관개 시설에 가보려고 해. 또 소식 전할게. □□가

- ① 에니체리를 창설하였다.
- ② 티마르 제도를 운영하였다.
- ③ 비잔티움 제국을 정복하였다.
- ④ 이베리아반도까지 영토를 확장하였다.
- ⑤ 왕의 눈이라 불리는 감찰관을 파견하였다.

18. 밑줄 친 '왕조'에서 있었던 사실로 옳은 것은? [3점]

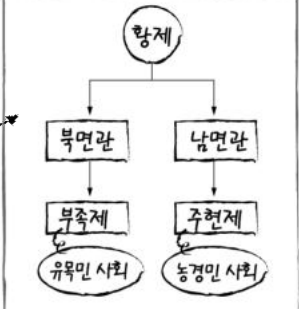
5대 10국 시대의 혼란 속에서 후주의 무인 출신인 조광운이 새로운 왕조를 세웠다. 그는 지방에서 실권을 행사하던 절도사의 권한을 중앙으로 회수하고, 문관을 우대하는 문치주의 정책을 채택하였다. 또한 수도 방비와 대외 정벌을 담당하는 중앙군을 강화하고 이를 황제에 직속시켜 군사권을 장악하였다.

- ① 과거에 전시가 정례화되었다.
- ② 소설 홍루몽이 민간에 유행하였다.
- ③ 농정전서, 천공개물이 편찬되었다.
- ④ 대진 경교 유행 중국비가 건립되었다.
- ⑤ 이백, 두보와 같은 시인이 활약하였다.

19. (가) 국가에 대한 설명으로 옳은 것은?

(가)의 건국과 발전


- 건국 : 10세기 전반, 야울아보기
- 발전 :
 - 고유 문자 사용
 - 이중 지배 체제 : 유목민과 농경민을 나누어 다스림
 - 발해를 멸망시킴



- ① 지정은제를 실시하였다.
- ② 연운 16주를 차지하였다.
- ③ 몽골 제국의 부흥을 내세웠다.
- ④ 위·촉·오 삼국으로 분열하였다.
- ⑤ 수도 니네베에 왕립 도서관을 건립하였다.

20. 교사의 질문에 대한 학생의 답변으로 가장 적절한 것은?

그림은 산킨코타이 제도에 따라 이동하는 다이묘 행렬의 모습입니다. 당시 막부는 지방의 다이묘가 자신의 영지와 중앙에 교대로 거주하도록 하였습니다. 이 막부 시기에 있었던 사실에 대해 말해볼까요?



- ① 견당사 파견이 시작되었어요.
- ② 난학(관가쿠)이 발전하였어요.
- ③ 일본이라는 국호가 처음 사용되었어요.
- ④ 송으로부터 동전이 대량으로 수입되었어요.
- ⑤ 쇼토쿠 태자가 불교 진흥책을 시행하였어요.

* 확인 사항

○ 답안지의 해당란에 필요한 내용을 정확히 기입(표기)했는지 확인 하시오.