

제 4 교시

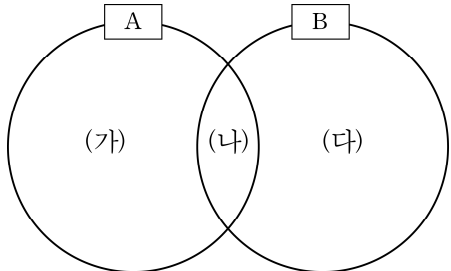
사회탐구 영역(법과 정치)

성명

수험번호



1. 그림은 정치를 바라보는 관점 A, B를 비교하기 위한 것이다. 이에 대한 옳은 설명만을 <보기>에서 있는 대로 고른 것은? (단, A, B는 정치 현상이 국가를 전제로 한 것인지 여부에 대해 의견이 다르다.)



* (가)에는 '노동조합의 쟁의 행위도 정치로 본다.'는 내용이 들어갈 수 있다.

<보 기>

- ㄱ. A는 B보다 정치의 범위를 넓게 본다.
ㄴ. B는 A와 달리 국가 형성 이전의 정치 현상을 설명할 수 있다.
ㄷ. (나)에는 '국가 기관의 권력 작용을 정치 현상으로 본다.'는 내용이 들어갈 수 있다.
ㄹ. (다)에는 '정치 현상은 국가만의 특유한 현상이다.'는 내용이 들어갈 수 없다.

- ① ㄱ, ㄷ ② ㄴ, ㄷ ③ ㄴ, ㄹ
④ ㄱ, ㄴ, ㄹ ⑤ ㄱ, ㄷ, ㄹ

2. 밑줄 친 ㉠~㉣에 대한 설명으로 옳은 것은? (단, A~C는 각각 로크, 루소, 홉스 중 한 사람에 해당한다.) [3점]

㉠ 사회 계약론자 A~C는 근대 민주주의의 발전에 기여한 주장을 펼쳤다. 그 중 A는 ㉡ B의 주장이 자연 상태보다도 더 위험할 수 있음을 지적하며, 자연 상태를 초기에는 평화 상태이지만 점차 권리 침해 현상이 나타날 수 있는 잠재적 투쟁의 상태로 인식하였다. 따라서 ㉢ 인민이 가지고 있는 자연권을 보다 확실히 보장받기 위해서는 자신의 천부 인권을 국가에 신탁해야 한다고 주장하였다. 이러한 주장은 자연권의 양도 불가를 강조한 ㉣ C의 주장과 다르며, 입법과 집행으로의 2권 분립을 통해 권력의 집중을 막아야 한다고 주장하였다. 더 나아가 통치 권력에 대하여 ㉤ 저항권을 행사할 수 있다고 하였다.

- ① ㉠에는 국가가 목적적 존재라는 내용이 포함된다.
② ㉡은 자유 방임주의적 국가관을 의미한다.
③ ㉢에는 개인의 재산에 대한 소유권은 제외된다.
④ ㉣에는 대의제에 대한 부정적인 판단도 포함된다.
⑤ ㉤은 정부가 경제적 부를 증진하지 못하는 것이 핵심 사유이다.

3. (가) 선거 제도를 바탕으로 (나)의 투표 결과에 대한 판단으로 옳은 것은? [3점]

(가) 선거 제도: 당선자의 확정은 항상 득표의 과반수여야 한다. 유권자가 투표할 때는 각 후보자에 대한 선호를 순서대로 표시한다. 1차 집계를 한 뒤 1선호에서 과반수를 얻은 후보자가 나오면 당선자가 확정된다. 하지만 과반수 득표자가 없을 경우 최하위에 해당되는 후보자를 탈락시키고, 그 표를 2순위 선호에 해당하는 후보자에게 넘겨준다. 만약 그 표까지 합산하여 집계하여도 과반수 득표자가 나오지 않으면 다시 ㉠ 해당 후보 중 최하위 득표자의 2순위 지지표를 해당 후보자에게 넘겨주는 과정을 거쳐 과반수를 획득한 후보자가 나올 때까지 집계를 반복한다.

(나) ○○선거구의 투표 결과

Table with 3 columns: 선호 유형, 득표수(표), 후보자 선호 순위. Rows A-E with corresponding data.

* 모든 투표자의 선호 유형은 A~E 중 하나에 속하며, 의원 후보자는 갑~정이 출마하였음.

- ① 1차 집계에서 당선자가 배출된다.
② 을은 2위 득표 후보자와 200표 차이로 당선된다.
③ C 선호 유형에 해당하는 1,700표는 사표(死票)가 된다.
④ E 선호 유형의 표가 가장 먼저 다른 후보자에게 넘겨지게 된다.
⑤ ㉠은 두 차례 이상 반복되어야 당선자가 최종적으로 결정된다.

4. 자료의 갑국에 대한 설명으로 옳은 것은?

전형적인 정부 형태 중 하나를 취하고 있는 갑국의 의회 의원 선거 결과는 다음과 같다.

Table with 7 columns: 구분, A당, B당, C당, D당, 무소속, 행정부 수반 소속 정당. Rows for 2012 and 2016.

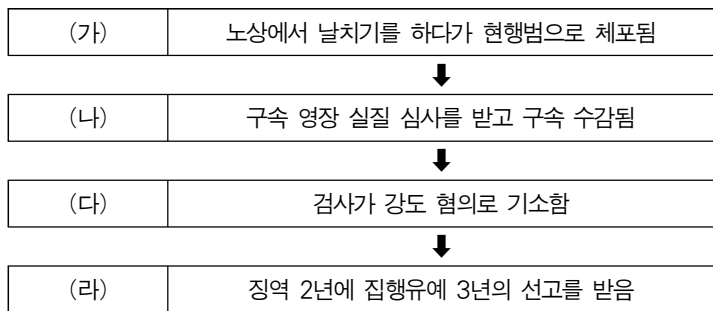
- ① 행정부의 각료는 의원직을 겸할 수 있다.
② 행정부 수반은 의회에 대해 책임을 진다.
③ 행정부가 법률안 제출권을 행사할 수 있다.
④ 국가 원수와 행정부 수반은 서로 다른 인물이다.
⑤ 행정부 수반과 의회 의원은 별도의 선거로 선출된다.

5. 표는 우리나라 헌법의 기본 원리를 담은 헌법 조항을 나타낸 것이다. (가)~(다)에 대한 설명으로 옳은 것은? [3점]

헌법의 기본 원리	헌법 조항
(가)	제34조 ① 모든 국민은 인간다운 생활을 할 권리를 가진다.
(나)	제6조 ② 외국인은 국제법과 조약이 정하는 바에 의하여 그 지위가 보장된다.
(다)	제9조 국가는 전통문화의 계승·발전과 민족문화의 창달에 노력하여야 한다.

- ① (가)를 실현하기 위한 방안으로 조세 부담의 균등 배분을 들 수 있다.
- ② (나)에 따라 타국의 전쟁에 국군을 파병하는 것은 일체 금지된다.
- ③ (다)의 실현 방안에는 '국가에 의한 무상 의무 교육'이 포함된다.
- ④ (가), (나) 모두 근대 입헌주의의 발달과 더불어 강조된 헌법 원리이다.
- ⑤ (다)와 달리 (나)는 국가 정책의 방향과 목표를 설정하는 지침이 된다.

6. (가)~(라)는 갑이 겪은 상황을 나타낸 것이다. 이에 대한 법적 판단으로 옳은 것은? [3점]



- ① (가) 단계에서 갑에게는 미란다 원칙이 적용되지 않는다.
- ② (나) 단계에서 구속 영장 실질 심사는 검사의 청구로 담당 법관이 진행한다.
- ③ (나), (다) 단계 사이에 갑은 구속 적부 심사를 청구할 수 있다.
- ④ (라) 단계에서 갑은 석방되며, 형사 보상을 청구할 수 있다.
- ⑤ (다), (라)를 종합해 볼 때, 검사는 갑의 강도죄 입증에 실패하였다.

7. 밑줄 친 ㉠~㉣에 대한 설명으로 옳지 않은 것은? [3점]

헌법 재판소는 변호사 협회 등이 기본권 침해로 이유로 제기한 ㉠ 헌법 소원 심판 사건에서 '부정 청탁 및 금품 수수의 금지에 관한 법률'이 ㉡ 헌법에 어긋나지 않는다고 결정했다. 헌법 재판소는 "교육계와 언론계의 부정 청탁이나 금품 수수 관행이 오랫동안 만연해 있고 개선되지 않는다는 각종 여론 조사와 국민 인식 등을 볼 때 ㉢ 침해의 최소성 원칙에 반한다고도 보기 어렵다."고 했다. 이어 "사학 및 언론의 자유가 위축될 우려도 있으나, 이런 염려나 제약에 따라 ㉣ 침해되는 사익이 이 법이 추구하는 공익보다 크다고 볼 수는 없다."고 덧붙였다.

- ① ㉠은 권리 구제형 헌법 소원 심판이다.
- ② ㉡을 위해서는 재판관 6인 이상의 찬성이 필요하다.
- ③ ㉢은 기본권 충돌에서 법익을 형량하여 판단한 것이다.
- ④ ㉠과 ㉡은 헌법의 최고 규범성을 전제로 가능한 것이다.
- ⑤ ㉢, ㉣을 볼 때, 해당 법률의 내용은 과잉 금지 원칙에 합치된다.

8. 밑줄 친 ㉠~㉣에 대한 설명으로 옳은 것은? [3점]
 <국회의원 갑의 일정표>

일자	주요 일정
8. 8.(월)	㉠ 제△△회 임시 국회 개회식 참석 ㉡ 교섭 단체 대표 연설(A당)
8. 9.(화)	㉢ 대정부 질문(경제 분야)
8. 10.(수)	㉣ 상임 위원회, ○○법안 의결 ㉤ 지역구 주민과의 만남

- ① ㉠은 대통령 또는 국회의원 10인 이상의 요구에 의해 개최된다.
- ② ㉡은 국회의원 20명 단위로 각 1개씩 구성되는 기관이다.
- ③ ㉢은 우리나라 정부 형태 중 의원 내각제 요소에 해당한다.
- ④ ㉣ 직후 법안은 바로 정부로 이송되며, 대통령이 공포하여 법률로써 확정된다.
- ⑤ ㉤에서 행해진 갑의 발언은 직무 수행 여부와 관계없이 면책 특권이 적용된다.

9. (가)~(다)의 기본권에 대한 옳은 설명을 <보기>에서 고른 것은?

- (가) 침해 사례 : 갑은 △△기업 입사 시험에 합격하였지만, '노동조합에 가입하지 않겠다.'는 내용의 각서 제출을 거부하여 인사상 불이익을 받았다.
- (나) 행사 사례 : 을은 ○○시에서 시행하는 도로 확장 공사에 편입된 토지의 보상금이 너무 미약하다고 판단하여 이의 신청을 하였다.
- (다) 침해 사례 : 병은 행정상 실수로 선거인 명부에서 누락되어 국회의원 선거에서 투표를 할 수 없었다.

—<보 기>—

- ㄱ. (가)는 현대 복지 국가에서 강조된다.
- ㄴ. (나)는 방어적·소극적 성격을 가진다.
- ㄷ. (가)와 달리 (나)는 수단적·절차적 권리의 성격을 가진다.
- ㄹ. (나), (다)와 달리 (가)는 국가의 존재를 전제로 인정되는 기본권이다.

- ① ㄱ, ㄴ ② ㄱ, ㄷ ③ ㄴ, ㄷ ④ ㄴ, ㄹ ⑤ ㄷ, ㄹ

10. 자료와 같은 국제법의 법원(法源)이 가지는 일반적 성격에 대한 설명으로 옳은 것은?

대한민국 정부와 ○○국 정부 간의 자유 무역 협정

전문
 대한민국 정부와 ○○국 정부는 양국 간의 특별한 우호와 협력의 유대를 강화할 것을 ... (중략) ... 자유 무역 협정이 각 당사국에 상호 이익을 주며, ... (중략) ... 발전을 강화하여 나가기를 희망하여, 다음과 같이 합의하였다.

제1.1조 자유 무역 지대의 설립
 (이하 생략)

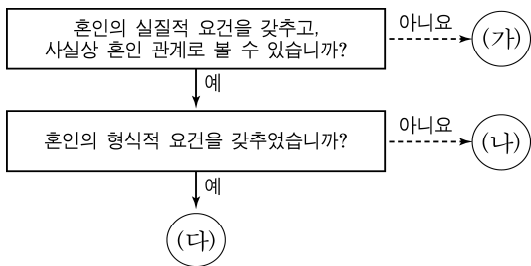
- ① 국제 사회의 반복적인 관행이 법적 확신을 가진 것이다.
- ② 국가 간뿐만 아니라 국가와 국제기구 간에도 체결될 수 있다.
- ③ 체결 당사국 외의 국가에 대해서도 법적 구속력이 있다.
- ④ 법의 일반 원칙으로, 다른 국제법에 대해 보충적인 효력을 가진다.
- ⑤ 우리나라의 경우, 별도의 법률 제·개정 절차를 거쳐야만 법적 효력이 부여된다.

11. 다음 자료에 대한 법적 판단으로 옳은 것은? [3점]

2015년 6월 22일	갑은 을에게 2016년 7월 31일까지 갚는 조건으로 3천만 원을 빌려주기로 함
2015년 6월 25일	갑은 을로부터 ㉠ 차용증을 받고 공증을 받은 뒤, 3천만 원을 을의 계좌에 입금함
2016년 8월 30일	을이 돈을 갚지 않자, 갑은 을에게 채무 이행을 요구하는 ㉡ 내용증명 우편을 발송함
2016년 9월 26일	갑이 을을 상대로 3천만 원에 대한 채무 이행을 요구하는 ㉢ 소송을 준비함

- ① 계약은 2015년 6월 25일에 성립하였다.
- ② 갑은 ㉠을 근거로 곧바로 강제 집행을 할 수 있다.
- ③ 갑은 ㉡을 소액 사건 심판 절차로 개시할 수 있다.
- ④ 갑은 ㉢ 이전에 을의 재산에 대한 가압류를 신청할 수 없다.
- ⑤ ㉡은 ㉢에서 갑이 을에게 채무 이행을 촉구한 사실을 증명할 수 있다.

12. 그림은 갑, 을 간에 형성될 수 있는 법적 관계를 나타낸 것이다. 이에 대한 옳은 설명만을 <보기>에서 있는 대로 고른 것은?



<보 기>

ㄱ. 갑이나 을이 사망한 경우 (나)와 달리 (다)의 배우자는 법정 상속을 받을 수 있다.

ㄴ. (다)와 달리 (나)의 경우 갑, 을 간에는 일상 가사 대리권이 발생하지 않는다.

ㄷ. (나), (다)의 경우 갑, 을 간에는 동거·협조·부양·정조의 의무가 발생한다.

ㄹ. (가), (나)와 달리 (다)의 경우 혼인을 통해 친족 관계가 발생한다.

- ① ㄱ, ㄴ ② ㄴ, ㄷ ③ ㄷ, ㄹ
- ④ ㄱ, ㄴ, ㄹ ⑤ ㄱ, ㄷ, ㄹ

13. (가), (나) 사례에 대한 법적 판단으로 옳은 것은?

(가) 을은 갑 소유의 ○○아파트를 임차하여 살고 있다. 어느 날 을이 살고 있는 ○○아파트의 화장실 오수 배관에서 물이 새는 바람에 아래층에 사는 A에게 100만 원 상당의 손해를 입히게 되었다.

(나) 병(17세)과 정(21세)은 공원에서 흡연을 하던 중 시비가 붙은 B를 함께 폭행하였고, 그로 인해 B는 전치 6주의 상해를 입었다.

- ① 갑은 고의나 과실이 없음을 증명하여 손해 배상 책임을 면할 수 있다.
- ② 을이 A에게 손해 배상을 할 경우, 을은 A에게 무과실 책임을 진 것이다.
- ③ 병의 부모가 B에 대해 손해 배상 책임을 지게 되는 경우는 없다.
- ④ B는 병이나 정 한 사람을 지목하여 손해 배상을 청구할 수 있다.
- ⑤ (나)와 달리 (가)는 특수 불법 행위에 해당하는 사례이다.

14. 그림에서 갑이 취할 수 있는 적절한 조치만을 <보기>에서 있는 대로 고른 것은? [3점]



<보 기>

ㄱ. ㉠일 경우, 취소나 무효가 될 사유는 없으므로 아무런 조치가 필요 없다.

ㄴ. ㉡일 경우, 을의 법정 대리인에게 거래를 취소할 것인지 물어볼 수 있다.

ㄷ. ㉢일 경우, 갑은 을의 법정 대리인이 추인을 하더라도 거래 의사를 철회할 수 있다.

ㄹ. ㉠, ㉡ 모두 계약 자유의 원칙에 따라 을에게 계약이 유효함을 통보할 수 있다.

- ① ㄱ, ㄴ ② ㄱ, ㄷ ③ ㄷ, ㄹ
- ④ ㄱ, ㄴ, ㄷ ⑤ ㄴ, ㄷ, ㄹ

15. 밑줄 친 ㉠~㉣에 대한 옳은 설명만을 <보기>에서 있는 대로 고른 것은? [3점]

㉠ 주차된 차량을 실수로 들이받은 뒤 물적 손해를 내고 도망치는 사람을 처벌할 수 있을까? 우선 ㉡ 형법상 재물 손괴죄에 해당할 것처럼 보인다. 그러나 이는 남의 물건을 고의로 파손한 경우에 한정되며, 실수로 망가뜨린 경우에는 해당되지 않기 때문에 적용 대상이 아니다. 다음으로 ㉢ 도로교통법 제54조 제1항에 교통사고를 낸 경우 그 차의 운전자나 그 밖의 승무원은 즉시 정차해 필요한 조치를 해야 하며, 이를 위반할 시 동법 제148조에 ㉣ 5년 이하의 징역이나 1500만 원 이하의 벌금이 규정돼 있어 처벌이 가능한 것처럼 보인다. 하지만 대법원 판례가 위 조항은 안전하고 원활한 교통을 확보함을 그 목적으로 하는 것이라고 밝혀, 이 또한 처벌 대상이 되지 않는다. 결국, 이 문제는 ㉣ 다른 법적 수단으로 해결하는 길 밖에는 없다는 것이다.

<보 기>

ㄱ. ㉠을 형사처벌 하지 못하는 것은 죄형 법정주의와 관련된다.

ㄴ. ㉡의 구성 요건은 '타인의 재물을 고의나 과실로 파손한 것'이다.

ㄷ. ㉢의 예로 민사 조정이나 민사 소송 등을 들 수 있다.

ㄹ. ㉣은 ㉢이 규정된 것으로 미루어 보아 실질적 의미의 형법에 해당한다.

- ① ㄱ, ㄴ ② ㄱ, ㄷ ③ ㄴ, ㄹ
- ④ ㄱ, ㄷ, ㄹ ⑤ ㄴ, ㄷ, ㄹ

16. 그림은 △△ 주택의 등기부 일부를 나타낸 것이다. 이에 대한 분석으로 옳지 않은 것은?

[㉠]				
순위 번호	등기 목적	접수	등기 원인	권리자 및 기타 사항
1	소유권 보존			소유자 A(인적 사항)
2	소유권 이전			소유자 B(인적 사항)

[㉡]				
순위 번호	등기 목적	접수	등기 원인	권리자 및 기타 사항
1	근저당권 설정			채권 최고액 금 2억 원 채무자 B(인적 사항) 근저당권자 C(인적 사항)
2	전세권 설정			전세권 설정액 금 3억 원 전세권자 D(인적 사항)

- ① ㉠은 갑구, ㉡은 을구이다.
- ② A는 △△ 주택의 현재 소유권자가 아니다.
- ③ B와 C는 채권자와 채무자의 관계에 있다.
- ④ D는 C에 대해 우선 변제권을 가지고 있다.
- ⑤ △△ 주택에 대해 B는 임대인, D는 임차인의 지위에 있다.

17. (가)~(다)는 국제 사회의 변천 과정에서 나타났던 주요 선 언들이다. 이에 대한 설명으로 옳지 않은 것은?

(가) 미국은 공산주의 위협을 받고 있는 국가들에 대한 경 제 원조를 약속하였으며, 이에 따라 그리스와 터키의 정부에 대하여 경제적·군사적 원조가 제공되었다.
 (나) 몰타에서 미국과 소련의 정상들이 만나서 이념 대결의 종식을 선언하고, 군비 축소와 전략 핵무기 및 화학 무기 감축에 동의하였다.
 (다) 미국의 아시아에 대한 직접적·군사적 개입을 피하고, '베트남전의 베트남화'라는 말로 대변할 수 있듯이 아 시아 국가들의 안보는 스스로 책임지도록 선언하였다.


- ① (가)는 양극 체제 형성에 기여하였다.
- ② (나)는 탈냉전 시대의 개막을 알렸다.
- ③ (다) 이후 국지전은 점차 감소되었다.
- ④ (가) → (다) → (나)의 순서로 나타났다.
- ⑤ (가), (다)에는 국제 사회를 바라보는 현실주의적 관점이 반영되어 있다.

18. 헌법 기관 A, B에 대한 설명으로 옳지 않은 것은?

정부는 A의 결산 검사를 받아 수정 반영한 '2015 회계연 도 국가결산보고서'를 국회에 제출했다고 밝혔다. 앞서 정 부는 행정부의 최고 심의 기관인 B에서 국가결산보고서를 심의한 뒤 A에 제출했다. A는 헌법과 국가재정법에 따라 해당 보고서에 대한 검사를 수행해 기획재정부에 다시 송 부했다.

- ① A는 대통령 직속의 독립된 헌법 기관이다.
- ② B의 의장은 대통령, 부의장은 국무총리이다.
- ③ B는 대통령의 권한 행사에 대한 통제 역할도 한다.
- ④ A, B는 전형적인 대통령제에서 존재하는 기관이다.
- ⑤ A의 장(長)과 B의 부의장은 국회의 동의를 얻어 대통령이 임명한다.

19. 그림의 A, B에 대한 옳은 설명만을 <보기>에서 있는 대로 고른 것은? [3점]



<보 기>

ㄱ. A에는 갑뿐만 아니라 노동조합도 구제 신청이 가능한 경우도 있다.
 ㄴ. A와 달리 B에는 행정 소송을 통한 구제 절차가 포함된다.
 ㄷ. B와 달리 A에는 민사 소송 제기가 포함된다.
 ㄹ. A와 B 모두 노동 위원회를 통한 구제 절차가 포함된다.

- ① ㄱ, ㄴ ② ㄱ, ㄹ ③ ㄴ, ㄷ
- ④ ㄱ, ㄷ, ㄹ ⑤ ㄴ, ㄷ, ㄹ

20. 다음은 소비자 분쟁 조정 위원회의 결정 사례이다. 이에 대한 옳은 설명만을 <보기>에서 있는 대로 고른 것은?

[사건 개요]
 신청인은 피신청인이 제조하는 게임을 예약 주문하고 9만 원을 결제함. 해당 제품 수령 후, 한글판으로 발매 예정이라는 홍보 내용을 보고 구입하였음에도 한글화가 일부 되어 있지 않았고 영어 키보드만 지원하는 등 피신청인의 표시 광고와 다른 내용이 있어 반품 환금을 요구하자, 피신청인은 100% 한글화한다는 내용이 아니었으므로 교환, 환급 등 추가 조치가 불가능하다고 답변함.

[결정]
 100% 한글화가 되어 있지 않음에도 한글화라고 광고한 행위가 허위·과장광고 또는 기만적인 광고에 해당한다고 보기 어렵다고 사료됨.

<보 기>

ㄱ. 제조물 책임법의 적용 가능 여부가 쟁점이었다.
 ㄴ. 신청인의 권리를 침해하지 않았다는 결론이 내려졌다.
 ㄷ. 신청인은 민사 소송 제기 전에 반드시 거쳐야 하는 절차를 밟았다.
 ㄹ. 신청인과 피신청인이 위 결정을 받아들이면 재판상 화해와 동일한 효력이 발생한다.

- ① ㄱ, ㄴ ② ㄱ, ㄷ ③ ㄴ, ㄹ
- ④ ㄱ, ㄷ, ㄹ ⑤ ㄴ, ㄷ, ㄹ

* 확인 사항
 ◦ 답안지의 해당란에 필요한 내용을 정확히 기입(표기)했는지 확인하십시오.