

제4교시

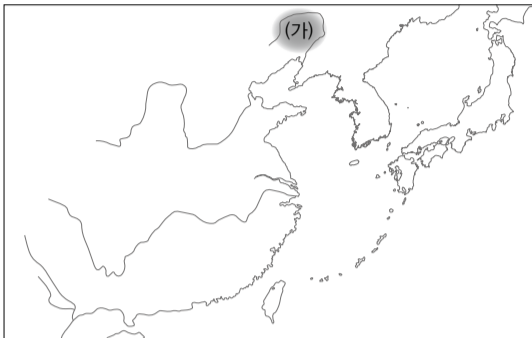
# 사회탐구 영역 (동아시아사)

성명

수험 번호



1. (가) 강 유역에서 발달한 신석기 문화의 유물을 <보기>에서 고른 것은?



- ① 가, 나    ② 가, 다    ③ 나, 다    ④ 나, 라    ⑤ 다, 라

2. (가), (나) 황제에 대한 설명으로 옳지 않은 것은? [3점]

- (가) 은/는 여섯 나라를 멸망시켰다. 이후 몽염에게 군사 10만여 명을 이끌고 북쪽으로 가서 흉노를 치게 하여 하남 땅을 모두 손에 넣었다.
- (나) 은/는 대장군, 표기, 복파, 누선 등의 장수를 남으로 보내 백월을 멸하고 7군을 세웠으며, 북쪽으로 흉노를 물리쳐 10만 무리의 항복을 받아 5속국을 설치하고 ..... 서쪽으로는 대만을 정벌하여 36국을 병합하고 오손과 결맹하여 둔황, 지우취엔, 장예군을 세워 야강을 막고 흉노의 오른팔을 잘랐다.

- ① (가) - 만리장성을 축조하였다.  
 ② (가) - 남비엣을 정복하고 군현을 설치하였다.  
 ③ (나) - 고조선을 정복하였다.  
 ④ (나) - 장건을 서역에 파견하였다.  
 ⑤ (가), (나) - 군현제를 시행하였다.

3. 교사의 질문에 대한 학생의 대답으로 적절한 것은? [3점]

진(晉)이 어지러울 때 낭야(郞野) 사람 천여 호가 원제를 따라 양쯔강을 건넜다. .... 진(晉) 영가 연간(307~313)에 천하가 크게 어지러워, 유·기·청·병·연주 및 서주의 회수(화이하강) 북쪽 유민들이 회수를 건너고 또한 양쯔강을 건너, 진릉군의 경계에 머무는 사람도 있었다.

이 자료와 관련된 탐구 활동 계획을 발표해 볼까요?

- ① 백강 전투에 대해 조사하겠습니다.  
 ② 동진의 성립 과정을 살펴보겠습니다.  
 ③ 거란과 여진의 활동을 찾아보겠습니다.  
 ④ 토번의 송첸감포 왕의 활동을 정리하겠습니다.  
 ⑤ 쯩쯩·쯩니 자매의 독립 운동을 연구하겠습니다.

4. 다음 제도를 시행한 왕조에 대한 설명으로 옳은 것은?

제○○호                      동아시아사 신문

<토지 제도를 정비하다>

무덕 7년(624) 다음과 같은 법령을 확정하였다.

모든 남녀는 처음 태어나면 황(黃)이라 하고, 4세를 소(小), 16세를 중(中), 21세를 정(丁), 60세를 노(老)라고 한다. .... 정남(丁男), 중남(中男)에게는 1경(100무)을 준다. 토지의 10분의 2(20무)는 세업전, 10분의 8(80무)은 구분전으로 한다. 세업전은 본인이 죽으면 자손에게 물려준다. 구분전은 70세가 넘으면 관청에 반납하고 다시 다른 사람에게 준다.

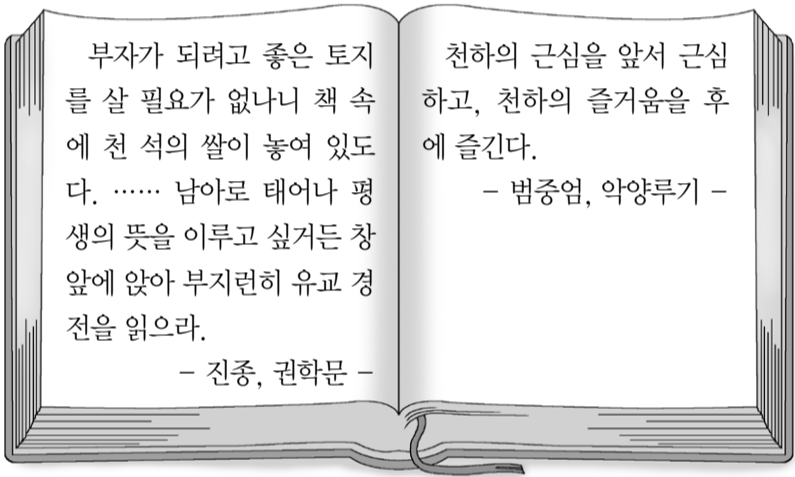
- ① 다이호 율령을 반포하였다.  
 ② 조·용·조의 조세 제도를 시행하였다.  
 ③ 정당성, 선조성, 중대성의 3성을 정비하였다.  
 ④ 동중서의 건의를 받아들여 유교를 채택하였다.  
 ⑤ 법가 사상가를 등용하여 엄격한 법치를 시행하였다.

5. 다음 글에 보이는 외교 정책의 사례를 찾아보기 위한 탐구 활동으로 적절한 것은?

나는 천하 만백성의 아버지다. 임시변통으로 만민에게 이익이 될 수 있는 일이라면 어찌 딸 하나를 아낄 것인가. 북방 민족의 풍습은 부인의 권세가 강하여 무슨 일이 있으면 부인의 주장에 좌우되는 일이 많다고 한다. 그뿐 아니라 내 딸이 자식을 낳는다면 그 아이가 내게는 외손자가 된다. 외손이라면 반드시 우리에게 대한 침략을 일삼지 않을 것이 분명하다. 이렇게 판단해 보면 국경 주변이 30년은 무사할 것이다.  
- “정관정요” -

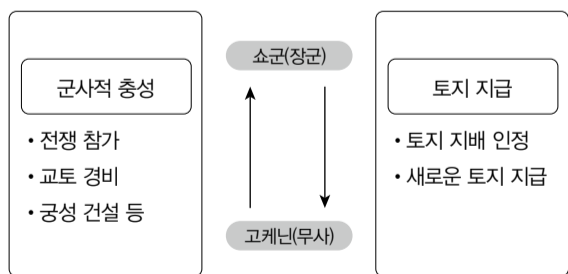
- ① 발해가 사용한 연호를 정리한다.
- ② 당이 돌궐에 보낸 화번 공주를 알아본다.
- ③ 일본이 견당사를 파견한 목적을 파악한다.
- ④ 당이 베트남 지역에 설치한 도호부를 찾아본다.
- ⑤ 한 무제가 주변국들에 적용한 외교 형식을 조사한다.

6. 다음 글이 작성된 시기의 사회상으로 적절한 것은? [3점]



- ① 지방 지주층이 사대부로 성장하였다.
- ② 신사가 사회 지배층으로 활동하였다.
- ③ 몽골의 지배를 받으면서 민족의식이 성장하였다.
- ④ 아메리카에서 신작물이 전래되어 식량 사정이 나아졌다.
- ⑤ 양쯔 강 하류 지역이 면직업, 견직업의 중심지가 되었다.

7. 다음 표의 체제가 성립되어 운영된 시기의 동아시아 상황으로 옳은 것을 <보기>에서 고른 것은? [3점]

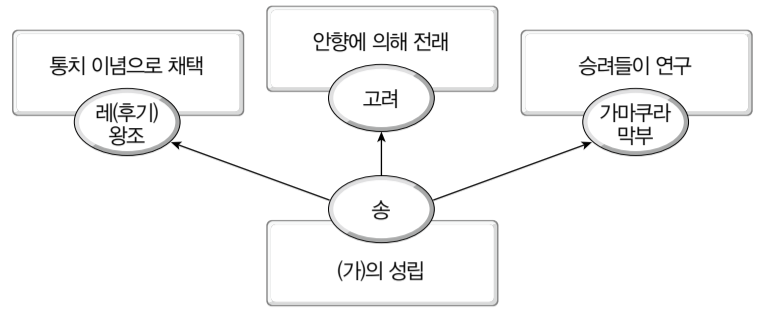


<보 기>

- ㄱ. 일본 - 오닌의 난이 발생하였다.
- ㄴ. 한국 - 최씨 정권이 통치하였다.
- ㄷ. 베트남 - 몽골의 침입을 격퇴하였다.
- ㄹ. 중국 - 5대 10국의 분열이 계속되었다.

- ① ㄱ, ㄴ    ② ㄱ, ㄷ    ③ ㄴ, ㄷ    ④ ㄴ, ㄹ    ⑤ ㄷ, ㄹ

8. (가) 학문에 대한 설명으로 옳지 않은 것은?



- ① 고대 유학으로의 복귀를 주장하였다.
- ② 고려 말 신진 사대부에 의해 확산되었다.
- ③ 서원과 향약의 보급으로 사회에 확산되었다.
- ④ 일본에서는 후지와라 세이카 등에 의해 연구되었다.
- ⑤ 송 대 “사서집주”를 편찬한 인물에 의해 집대성되었다.

9. (가) 인물에 대한 설명으로 옳은 것은?

(가) 은/는 다음과 같은 영을 내렸다. “제국의 백성들이 도(刀), 단도, 활, 창, 철포, 기타 무기를 소지하는 것을 금지한다. 그 이유는 백성들이 무기를 쌓아 두고 있으면, 연공이나 기타 잡세의 납입을 꺼리기 때문이다. 만일 영주에게 불법한 행위를 하는 자들이 있다면, 당연히 처벌받게 될 것이다. .... 이와 같은 이유로 영주, 급인, 대관은 각각 책임지고 백성이 소지한 무기를 모두 몰수하도록 하라.”

- ① 에도 막부를 수립하였다.
- ② 남북조의 내란을 종식시켰다.
- ③ 이와쿠라 사절단을 파견하였다.
- ④ 센고쿠(전국) 시대의 일본을 통일하였다.
- ⑤ 조선과 국교를 재개하고 통신사 파견을 요청하였다.

10. 다음 조약에 대한 설명으로 옳은 것은? [3점]

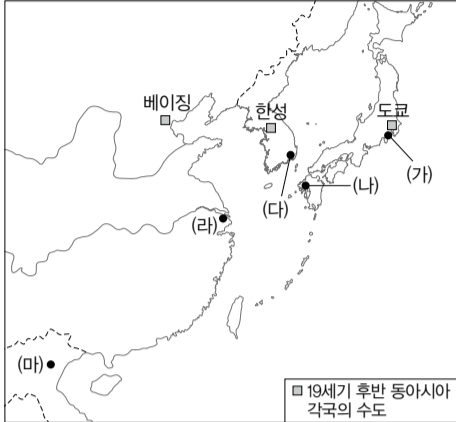
2. 명의 연호를 폐하고 관계를 끊으며, 명에서 받은 고명 책인을 내놓을 것  
3. 조선 왕의 장자·제2자 및 여러 대신의 자제를 셴양에 인질로 보낼 것  
5. 명을 칠 때 출병을 요구하면 어기지 말 것  
7. 성을 신축하거나 성벽을 수축하지 말 것

- ① 임진 전쟁의 결과 체결되었다.
- ② 명이 멸망한 직후 체결되었다.
- ③ 북벌론이 제기되는 배경이 되었다.
- ④ 체결 당사국 사이를 형제 관계로 규정하였다.
- ⑤ 조선이 중립 외교 정책을 펴는 계기가 되었다.



16. 다음 설명에 해당하는 도시를 지도에서 옳게 고른 것은?

- 미국과 수호 통상 조약이 체결된 결과 개항한 곳이다.
- 이 나라에서 처음으로 일간지가 발간된 곳이다.
- 이 나라에서 처음으로 철도가 부설된 곳이다.



- ① (가)    ② (나)    ③ (다)    ④ (라)    ⑤ (마)

17. (가)에 대한 설명으로 옳은 것은? [3점]

□ (가) □ 은/는 중화민국 국민과 합작하여 우리 두 나라가 독립을 회복하고 공동의 적인 일본 제국주의자들을 타도하기 위하여 연합군의 일원으로 항전을 계속한다. 과거 30여 년간 일본이 우리 조국을 병합 통치하는 동안 우리 민족의 확고한 독립 정신은 불명예스러운 노예 생활에서 벗어나기 위하여 무자비한 압박자에 대한 영웅적 항쟁을 계속하여 왔다. - 1940. 9. 15. -

- ① 한·중 민족 항일 대동맹을 조직하였다.
- ② 무정부주의 연대 조직으로 출발하였다.
- ③ 중국 국민당 정부의 지원을 받아 창설되었다.
- ④ 주로 만주에서 한·중 연합 작전을 수행하였다.
- ⑤ 일본의 베트남 침략 후 좌우 합작으로 결성되었다.

18. (가) 국가에 대한 설명으로 옳은 것은?

□ (가) □ 국민은 정의와 질서를 기조로 하는 국제 평화를 성실히 희구하고, 국권의 발동에 의거한 전쟁 및 무력에 의한 위협 또는 무력의 행사는 국제 분쟁을 해결하는 수단으로서는 영구히 이를 포기한다. 이러한 목적을 성취하기 위하여 육·해·공군 및 그 외의 어떠한 전력도 보유하지 않는다. 국가의 교전권 역시 인정하지 않는다.

- ① 자위대를 조직하였다.
- ② 국민당과의 내전에서 승리하였다.
- ③ 카이로 회담에서 독립을 약속받았다.
- ④ 프랑스에 맞서 독립 전쟁을 전개하였다.
- ⑤ 신탁 통치 문제로 좌우 대립이 격화되었다.

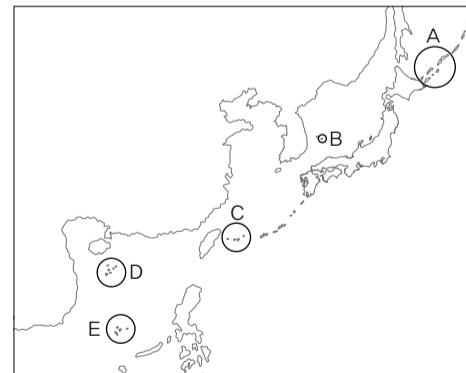
19. 다음 정책이 발표된 배경으로 옳은 것은?

세계는 하나의 시장이 형성되어 있고, 거기에는 격렬하게 대립하는 두 경제 체제가 있다. 한편으로 경제 협력은 두 체제 모두의 발전을 위해 필요하다. …… 가장 중요한 것은 주인 역할과 노동자의 열성 발휘, 신나게 이행하는 군중 운동과 동시에 생산 관계의 혁명, 과학·기술 혁명 및 사상·문화 혁명을 조성하기 위한 경제 정책, 사회 정책의 쇄신이다. - 1986. 12. -

- ① 미국과의 전쟁이 확대되었다.
- ② 통일 후 생산력 저하 문제가 발생하였다.
- ③ 대중을 동원한 대약진 운동이 추진되었다.
- ④ 정부가 수출 주도형 경제 정책을 추진하였다.
- ⑤ 6·25 전쟁과 베트남 전쟁 특수로 경제가 고도로 성장하였다.

20. (가)에 해당하는 지역을 지도의 A~E에서 고른 것은? [3점]

일본은 □ (가) □ 및 일본이 1905년 9월 5일의 포츠머스 조약의 결과로써 주권을 획득한 사할린의 일부 및 이에 근접하는 여러 섬에 대한 모든 권리·권원 및 청구권을 포기한다.



- ① A    ② B    ③ C    ④ D    ⑤ E

♣ 확인 사항

답안지의 해당란에 필요한 내용을 정확히 기입(표기)했는지 확인하십시오.