

사회 탐구 영역(법과 정치)

시간 : 30분

점수 : 50점

성명

수험 번호



1. 정치의 의미와 관련하여 갑과 을에 대한 옳은 설명을 <보기>에서 고른 것은?

갑 : 둘 이상의 사람이 집단을 이루어 생활한다면 집단의 특성을 떠나 어느 집단에서든지 정치가 나타나기 마련이야.

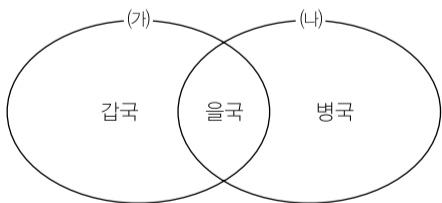
을 : 정치인과 일반 국민의 구분이 존재하는 것은 정치가 일반 국민의 일상적인 활동과 달리 국가 및 정치권력과 관련된 고유한 활동이기 때문이야.

<보기>

- ㄱ. 갑은 학교에서는 정치가 나타나지 않는다고 본다.
- ㄴ. 을은 국가가 수립되지 않은 사회에서는 정치가 나타나지 않는다고 본다.
- ㄷ. 갑과 달리 을은 정치가 사회적 희소가치의 배분과 관련된 활동이라고 본다.
- ㄹ. 국민이 대통령 선거에 참여하는 것은 갑과 을의 입장 모두 정치에 해당한다고 본다.

- ① ㄱ, ㄴ ② ㄱ, ㄷ ③ ㄴ, ㄷ
- ④ ㄴ, ㄹ ⑤ ㄷ, ㄹ

2. 그림의 갑국~병국에 대한 설명으로 옳은 것은?



- (가) : 인권 및 정의 실현에 부합하는 통치를 지향하는 국가
- (나) : 합법적인 절차를 통해 제정된 법에 따라 통치하는 국가

- ① 갑국에서는 통치의 정당성보다 합법성이 강조되고 있다.
- ② 인치주의가 나타날 가능성이 가장 높은 나라는 병국이다.
- ③ 위헌 법률 심판 제도는 병국보다 을국에 존재할 가능성이 높다.
- ④ 통치의 정당성을 위해 을국은 통치의 과정을, 병국은 통치의 결과를 중시한다.
- ⑤ 을국과 달리 갑국과 병국에서는 모두 형식적 법치주의가 나타나고 있다.

3. 표는 세 시대의 민주 정치가 갖는 특성을 비교하기 위한 것이다. (가)~(마)에 들어갈 수 있는 특성으로 옳은 것은? [3점]

구분	고대 아테네의 민주 정치	근대 민주 정치	현대 민주 정치
특성			(가)
		(나)	
	(다)		(라)
		(마)	

- ① (가) — 대의 정치 체제를 바탕으로 한다.
- ② (나) — 투표를 통해 공직자를 선출하였다.
- ③ (다) — 제한적인 민주 정치 체제에 해당한다.
- ④ (라) — 보통 선거 제도를 바탕으로 한 정치 체제이다.
- ⑤ (마) — 치자와 피치자의 일치를 추구하는 정치 체제이다.

4. 다음 글은 대표적인 근대 사상가 중 한 사람의 주장이다. 이 사상가에 대한 설명으로 옳은 것은?

공동체의 규모가 커지면서 권리 침해에 대한 개인의 판단과 응징이 자의적으로 흐를 가능성이 커지고, 권리 침해를 구제할 수 없는 상황이 나타나게 되었다. 이것이 개인을 초월하여 자연법을 집행할 기구로서 국가가 필요한 이유이다. 물론 자연법 집행 기구로서 국가 역시 자의적인 판단을 할 가능성이 있다. 이 경우에 구성원들은 새로운 자연법 집행 기구를 수립하겠다는 의지를 결의함으로써 자의적인 국가를 대체할 수 있다.

- ① 주권을 분리하여 국가에 위임할 수 있다고 보았다.
- ② 직접 민주 정치 체제를 이상적인 정치 체제로 보았다.
- ③ 자연 상태를 '만인에 대한 만인의 투쟁 상태'로 보았다.
- ④ 국가가 수립되어야 인간이 자연권을 획득할 수 있다고 보았다.
- ⑤ 국민은 국가 권력에 대하여 절대 복종의 의무를 갖는다고 보았다.

5. 갑국의 정부 형태에 대한 옳은 설명만을 <보기>에서 있는 대로 고른 것은?

전형적인 두 개의 정부 형태 중 하나를 채택하고 있는 갑국에서는 행정 권력과 입법 권력이 개별적으로 국민으로부터 권력을 위임받는다. 따라서 두 권력은 상호 간에 정치적 책임을 지지 않으며, 서로에 대하여 견제와 균형의 원리에 충실할 것을 요구받는다.

<보기>

- ㄱ. 행정부가 법률안 제출권을 갖는다.
- ㄴ. 국가 원수와 행정부 수반이 일치하지 않는다.
- ㄷ. 행정부 수반이 의회가 의결한 법률안에 대하여 거부권을 갖는다.
- ㄹ. 의회가 국민이 선출한 행정부 수반에 대하여 탄핵 소추권을 갖는다.

- ① ㄱ, ㄴ ② ㄱ, ㄹ ③ ㄷ, ㄹ
- ④ ㄱ, ㄴ, ㄷ ⑤ ㄴ, ㄷ, ㄹ

6. 자료는 대한민국 헌법을 제정해 보는 수행 평가에서 학생이 제출한 보고서의 일부이다. 이에 대한 설명으로 옳지 않은 것은?

◇ 대한민국 헌법 ◇

제1조 국민은 그 대표자나 국민 투표에 의하여 주권을 행사한다.

제28조 ① 대통령은 국가 발전을 위해 국가 통합 위원회를 구성해야 한다.
② 국가 통합 위원회의 대의원은 200명이며, 대의원은 대통령이 임명한다.

제30조 대통령은 국가 통합 위원회의 선거에서 재적 대의원 과반수의 찬성으로 선출한다.

제40조 국가 통합 위원회는 국회의원 정수의 3분의 1에 해당하는 수의 국회의원을 선거한다.

- ① 제1조는 주권이 국민에게 있음을 부정하고 있다.
- ② 제40조는 자유 민주주의의 원리를 훼손할 우려가 있다.
- ③ 제40조는 대통령에 대한 국회의 견제를 약화시킬 우려가 있다.
- ④ 제30조와 제40조는 국민 주권의 원리를 훼손하고 있다.
- ⑤ 제30조와 제40조는 민주 선거의 원칙 중 직접 선거의 원칙을 위반하고 있다.

7. 표는 기본권의 유형인 A, B와 각 기본권 유형에 속하는 권리를 나타낸 것이다. 이에 대한 설명으로 옳은 것은?

구분	A	B
사례	교육을 받을 권리, 근로의 권리 등	청원권, 형사 보상 청구권 등

- ① A는 포괄적 권리에 해당한다.
- ② A는 근대 시민 혁명에서 강조된 천부 인권의 하나이다.
- ③ B는 소극적 권리에 해당한다.
- ④ B는 기본권 보장을 위한 기본권이라는 특징을 갖는다.
- ⑤ 역사적으로 A가 B보다 먼저 등장하였다.

8. 우리나라의 헌법 기관 A~D에 대한 설명으로 옳은 것은? [3점]

• A는 의결 과정을 거쳐 특별한 이유 없이 국정 감사에 대한 출석 요구를 거부한 ◇◇부 장관의 해임을 B에게 건의하였다.
• C는 재판의 전제가 된 법률의 규정이 헌법에 위반되는지 여부에 대한 심판을 D에 제청하였다.

- ① A는 조약 비준권을, B는 조약 체결권을 갖는다.
- ② B는 A에 대하여 정기회 집회를 요구할 수 있는 권한을 갖는다.
- ③ B는 A에서 의결된 헌법 개정안에 대하여 재의를 요구할 수 없다.
- ④ 명령의 위법성 심사는 C가, 명령의 위헌성 심사는 D가 담당한다.
- ⑤ B와 달리 A, C, D의 구성원은 정당에 소속할 수 없다.

9. 자료에 대한 옳은 분석만을 <보기>에서 있는 대로 고른 것은? [3점]

전행적인 두 가지 정부 형태 중 행정부 수반에 의해 의회가 임기 만료 이전에 해산될 수 있는 정부 형태를 갖고 있는 갑국은 의회 의원 선거에서 지역구 의원 선거와 비례 대표 의원 선거를 병행한다. 지역구 의원 선거에서는 다수 대표제를, 비례 대표 의원 선거에서는 전국 단위 정당 투표의 정당별 득표율(정당별 국민 지지율)에 따른 의석수 할당제를 적용한다. 표는 갑국 의회의 정당별 의석수 분포를 나타낸 것이다.

(단위 : 석)

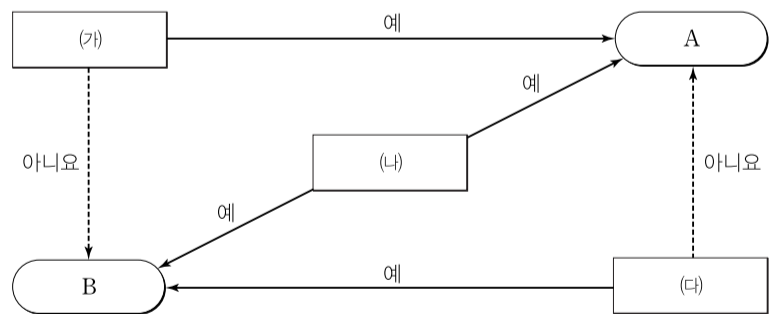
정당	T대 의회			T+1대 의회		
	지역구 의석수	비례 대표 의석수	총 의석수	지역구 의석수	비례 대표 의석수	총 의석수
A당	125	30	155	100	25	125
B당	70	15	85	110	28	138
C당	20	5	25	20	5	25
D당	20	10	30	5	2	7
E당	5	0	5	5	0	5
계	240	60	300	240	60	300

<보기>

- ㄱ. T대 의회에서 D당은 국민의 의사를 과소 대표하였다.
- ㄴ. T+1대 의회에서는 연립 내각 구성의 필요성이 발생하였다.
- ㄷ. T대와 T+1대 의회 구성을 위한 선거구 수는 300개로 같다.
- ㄹ. 법률안 의결 시 C당의 영향력은 T대와 T+1대 의회에서 같다.

- ① ㄱ, ㄴ ② ㄱ, ㄹ ③ ㄷ, ㄹ
- ④ ㄱ, ㄴ, ㄷ ⑤ ㄴ, ㄷ, ㄹ

10. 그림은 질문 (가)~(다)를 통해 정치 참여 단체인 A와 B를 비교하기 위한 것이다. 이에 대한 설명으로 옳은 것은? (단, A와 B는 각각 시민 단체, 정당 중 하나이다.) [3점]



- ① A가 정당이라면 (가)에는 “공익 실현을 목적으로 하는가?”가 들어갈 수 있다.
- ② (가)에 “공직 선거에 후보자를 공천할 수 있는가?”가 들어간다면 A는 시민 단체이다.
- ③ (나)에는 “활동에 있어서 정치적 중립성이 강조되는가?”가 들어갈 수 있다.
- ④ B가 정당이라면 (다)에는 “자신의 활동에 대하여 정치적 책임을 지는가?”가 들어갈 수 있다.
- ⑤ (다)에 “정책 결정 과정에 있어서 공식적 참여자인가?”가 들어간다면 A는 시민 단체, B는 정당이다.

11. 재판부가 밑줄 친 ‘무효 판결’을 내린 근거로 가장 적절한 것은?

재판부는 계약을 위반했을 경우 연예인인 갑이 소속사가 투자한 금액의 5배, 잔여 계약 기간 동안 예상되는 이익금의 3배, 여기에 3억 원을 추가로 배상해야 한다고 정한 것에 대해 “금액이 과다해 원고에게 지나친 경제적 부담을 주고 있는 데 반해 피고의 계약 위반에 대해서는 아무런 손해 배상액을 정하고 있지 않아 쌍방의 권리, 의무에 지나친 불균형이 있다.”며 무효 판결을 내렸다.

- ① 계약 내용이 명확하지 않다.
- ② 계약 내용이 공정하지 않다.
- ③ 계약 내용을 실현할 수 없다.
- ④ 계약 당사자 간 의사가 합치되지 않았다.
- ⑤ 의사 능력이 없는 상태에서 계약이 체결되었다.

12. 다음 사례에 대한 옳은 법적 판단을 <보기>에서 고른 것은? [3점]

- 갑(16세)은 을에게 고가의 자전거를 할부로 구입하겠다는 계약을 체결하였다. 갑은 계약 체결 완료 후 자전거를 인도받았다. 갑이 부모의 동의를 받지 않았음을 안 을은 계약서에 취소 불가 조항을 포함시켜 이를 갑에게 설명하였고, 갑은 이에 수긍하였다.
- 병(17세)의 부모는 최신형 스마트폰을 구입해 달라는 병의 요청을 들어주지 않았다. 이에 병은 정에게 고가의 최신형 스마트폰을 할부로 구입하겠다는 계약을 단독으로 체결하였다. 계약 체결 당시 병은 신분증을 위조하여 자신이 19세인 것처럼 정을 속였다.

<보기>

- ㄱ. 을은 갑과 체결한 계약을 철회할 수 있다.
- ㄴ. 갑 또는 갑의 부모는 갑과 을이 체결한 계약을 취소할 수 있다.
- ㄷ. 병의 부모는 병과 정이 체결한 계약을 취소할 수 없다.
- ㄹ. 병의 부모가 계약을 추인해야 병과 정이 체결한 계약의 효력이 발생한다.

- ① ㄱ, ㄴ ② ㄱ, ㄷ ③ ㄴ, ㄷ
- ④ ㄴ, ㄹ ⑤ ㄷ, ㄹ

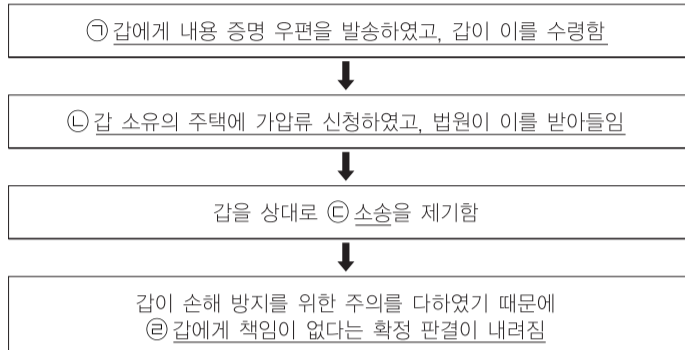
13. 밑줄 친 ㉠~㉣에 대한 설명으로 옳지 않은 것은? [3점]

제836조의 2 ㉠ 가정 법원에 ㉡ 이혼 의사의 확인을 신청한 당사자는 제1항의 안내를 받은 날부터 다음 각 호의 기간이 지난 후에 ㉢ 이혼 의사의 확인을 받을 수 있다.
제840조 부부의 일방은 ㉣ 다음 각 호의 사유가 있는 경우에는 가정 법원에 이혼을 청구할 수 있다.
제1041조 상속인이 상속을 포기할 때에는 제1019조 제1항의 기간 내에 가정 법원에 ㉤ 포기의 신고를 하여야 한다.
제1112조 상속인의 유류분은 ㉥ 다음 각 호에 의한다.

- ① ㉠은 원칙적으로 이혼 숙려 기간을 거쳐야 한다.
- ② ㉡을 받은 후 이혼 신고를 해야 이혼의 효력이 발생한다.
- ③ ㉢에 ‘배우자의 부정한 행위가 있었을 때’가 포함된다.
- ④ ㉣을 통해 상속인은 피상속인의 재산에 대한 권리와 의무 모두 승계하지 않을 수 있다.
- ⑤ ㉥에는 피상속인의 직계 비속, 배우자, 직계 존속, 형제자매, 4촌 이내 방계 혈족의 유류분이 규정되어 있다.

14. 밑줄 친 ㉠~㉣에 대한 옳은 설명만을 <보기>에서 있는 대로 고른 것은?

갑은 을 소유의 상가 2층을 임차하여 병원을 운영하고 있다. 어느 날 갑이 운영하는 병원의 창문이 떨어져 지나가는 행인 병이 전치 12주의 상해를 입었다. 이에 병은 갑에게 손해 배상을 요구하였으나 갑은 자신에게 책임이 없다며 이에 응하지 않았다. 다음은 병이 밟은 법적 절차와 그 결과이다.



<보기>

- ㄱ. ㉠으로 인해 갑의 병원 창문으로 인해 병이 손해를 입었음이 확정된다.
- ㄴ. ㉡의 내용은 해당 주택 등기부 갑구에 기재된다.
- ㄷ. ㉢에서는 갑의 상해죄 성립 여부에 대하여 심리한다.
- ㄹ. ㉣로 인해 을이 병의 손해에 대하여 무과실 책임을 진다.

- ① ㄱ, ㄷ ② ㄴ, ㄷ ③ ㄴ, ㄹ
- ④ ㄱ, ㄴ, ㄹ ⑤ ㄱ, ㄷ, ㄹ

15. 다음 사례에 대한 옳은 법적 판단만을 <보기>에서 있는 대로 고른 것은? [3점]

갑~병은 각각 A 소유의 ○○주택, □□주택, ◇◇주택에 대하여 A와 임대차 계약을 체결하였다. 잔금 지급 후 갑~병은 각각 자신이 임차한 주택에 입주하여 살고 있다. 하지만 이들이 입주한 후에 세 주택에 설정된 B의 저당권이 실행되어 C가 경매에서 세 주택 모두를 낙찰받았다. 갑과 을은 입주와 동시에 전입 신고를 하였지만, 병은 아직까지 전입 신고를 하지 않았다. 그리고 갑은 B의 저당권이 설정되기 한 달 전에 확정 일자를 받았지만, 을은 B의 저당권이 설정된 이후에 확정 일자를 받았다. 단, 세 주택에 다른 권리 관계는 없고, 보증금은 각각 2억 원이다.

<보기>

- ㄱ. 갑은 을과 달리 B에 우선하여 보증금을 회수할 수 있다.
- ㄴ. 을은 갑과 달리 주택 임대차 보호법의 보호를 받지 못한다.
- ㄷ. 갑이 임차한 주택과 을이 임차한 주택의 등기부에는 각각 갑, 을의 권리가 기재되어 있을 것이다.
- ㄹ. 갑, 을은 병과 달리 남은 계약 기간 임차한 주택에서 거주할 수 있다.

- ① ㄱ, ㄷ ② ㄱ, ㄹ ③ ㄴ, ㄹ
- ④ ㄱ, ㄴ, ㄷ ⑤ ㄴ, ㄷ, ㄹ

16. (가), (나)에 대한 법적 판단으로 옳은 것은?

(가) 갑은 인형 뽑기 기계에서 2시간 만에 인형 200여 개를 뽑아 간 혐의로 입건되었다. 하지만 검찰은 갑의 뽑기 기술은 개인 기술이기 때문에 갑의 행위가 절도, 사기, 영업 방해 등 어떠한 범죄로도 처벌할 수 없다며 불기소 처분을 내렸다.

(나) 을은 술에 취한 상태에서 운전하다가 교통사고를 일으킨 혐의로 기소되었다. 이에 을의 변호인은 을이 심신 장애로 인하여 사물을 판별하거나 의사를 결정할 능력이 부족한 상태에서 이루어진 행위라고 주장하였지만, 법원은 을이 음주를 할 때 교통사고를 일으킬 수 있다는 위험성을 예견하고도 자의로 이러한 상태를 야기하였다며 이 주장을 인정하지 않았다.

- ① (가)에서 갑의 책임이 조각되는지 여부에 대한 판단이 내려졌다.
- ② (가)에서 검찰은 갑의 행위가 정당 행위에 해당한다고 판단하였다.
- ③ (나)에서 을의 행위가 위법성이 조각되는지 여부가 쟁점이 되었다.
- ④ (나)에서 법원은 을에게 부과될 형을 감경할 수 없다고 판결하였다.
- ⑤ (나)에서 을의 변호인은 을은 책임이 조각되어 무죄라고 주장하였다.

17. 밑줄 친 ㉠~㉣에 대한 설명으로 옳은 것은? [3점]

갑은 (주)○○회사를 인수하면서 자신의 부인과 아들을 회사 부회장과 감사로 선임해 마치 정상 급여를 지급하는 것처럼 가장해 7억 9천여만 원을 지급한 뒤 이를 횡령한 혐의로 ㉠구속 기소되었지만, ㉡1심에서 무죄 판결을 받았다. 하지만 ㉢검사의 청구로 열린 2심에서 ㉣○○고등 법원은 ㉤갑에게 징역 2년에 집행 유예 3년을 선고하였다. 이에 ㉥갑이 3심을 청구하였고 현재 대법원에서 갑에 대한 재판이 진행 중이다.

- ① ㉠ 이후에 갑은 구속 적부심을 신청할 수 있었을 것이다.
- ② ㉡으로 인해 갑에게 형사 보상 청구권이 인정된다.
- ③ ㉢은 갑의 횡령 혐의가 인정되지 않는다고 판결하였다.
- ④ ㉤에도 불구하고 갑은 현재 무죄로 추정된다.
- ⑤ ㉣을 항고, ㉤을 재항고라고 한다.

18. 밑줄 친 ㉠~㉣에 대한 설명으로 옳은 것은? [3점]

㉠□□ 지방 노동 위원회는 결근을 하였다는 이유로 ㉡△△회사가 갑에게 내린 ㉢해고가 부당하다고 판정하였다. 그리고 이에 불복하여 제기된 ㉣재심에서도 ㉤초심을 유지한다는 ㉥판정이 내려졌다. 갑은 만약 재심에서 판정이 뒤집힐 경우 ㉦해고 무효 확인 소송을 제기할 생각이었으나 그럴 필요가 없어졌다며 판정을 반겼다.

- ① ㉢은 법원에서 이루어진다.
- ② ㉠은 ㉢이 부당 노동 행위라고 판단하였다.
- ③ ㉡은 ㉤의 취소를 구하는 민사 소송을 제기할 수 있다.
- ④ ㉢과 ㉤의 신청 주체는 다르다.
- ⑤ ㉦은 ㉢, ㉤의 판정이 이루어진 후에 제기할 수 있다.

19. 다음은 K 의원이 발의한 형법 개정안의 일부이다. 이에 대해 옳게 진술한 사람만을 <보기>에서 있는 대로 고른 것은? [3점]

• 신·구 조문 대비표

현행	개정안
제69조(벌금과 과료) ㉠ ㉡ 벌금을 납입하지 아니한 자는 1일 이상 3년 이하, ㉢과료를 납입하지 아니한 자는 1일 이상 30일 미만의 기간 노역장에 유치하여 작업에 복무하게 한다.	제69조(벌금과 과료) ㉡ 벌금을 납입하지 아니한 자는 1일 이상 3년 이하, 과료를 납입하지 아니한 자는 1일 이상 30일 미만의 기간 노역장에 유치하여 작업에 복무하게 한다. 이 경우 ㉣노역장 유치 환산 금액은 1일 1백만 원 이하로 한다. <신설>

• 제안 이유

현행 법률은 노역장 유치 일당의 상한을 제한하는 규정이 미비하여 고액 벌금의 1일 환산 탕감 금액은 사회 통념상 용인하기 어려운 수준이다. 이는 납부 능력이 충분한 고소득자가 노역장 유치를 통해 자신에게 부과된 고액의 금액을 탕감받는 수단으로 악용되는 결과를 초래한다. 이에 형법 제69조 제2항의 후단에 위와 같은 내용을 신설한다.

<보기>

갑 : 제69조 제2항은 재산형의 모든 유형에 대한 노역장 유치에 대하여 규정하고 있군.
 을 : ㉢에 대하여 내려지는 처분은 유치 기간과 노역 부과 여부가 구류와 같아.
 병 : ㉣의 신설을 통해 국가 형벌 체계의 형평성을 높이고자 하는군.
 정 : ㉣의 신설은 ㉠을 줄이는 것을 목적으로 하고 있어.

- ① 갑, 을 ② 갑, 정 ③ 병, 정
- ④ 갑, 을, 병 ⑤ 을, 병, 정

20. 표는 국제 연합(UN)의 주요 기관 A, B에 대하여 정리한 것이다. 이에 대한 설명으로 옳지 않은 것은?

구분	A	B
기능	침략국에 대한 경제·외교적 제재나 군사적 개입 등	㉠국제법을 적용하여 ㉡국가 간의 분쟁 해결
구성	15개국(㉢상임 이사국 5개국, ㉣비상임 이사국 10개국)	15명의 ㉤재판관

- ① A의 의결 방식에는 국제 사회에 대한 현실주의적 관점이 반영되어 있다.
- ② B는 기본적으로 분쟁 당사국 간 합의가 있어야 재판이 가능하다.
- ③ A는 ㉤을 선출하는 데 관여할 수 있다.
- ④ ㉢은 ㉠이 선출한다.
- ⑤ 국제 관습법은 ㉤을 위해 적용할 수 있는 ㉣에 해당한다.

※ 확인 사항

○ 답안지의 해당란에 필요한 내용을 정확히 기입(표기)했는지 확인하십시오.