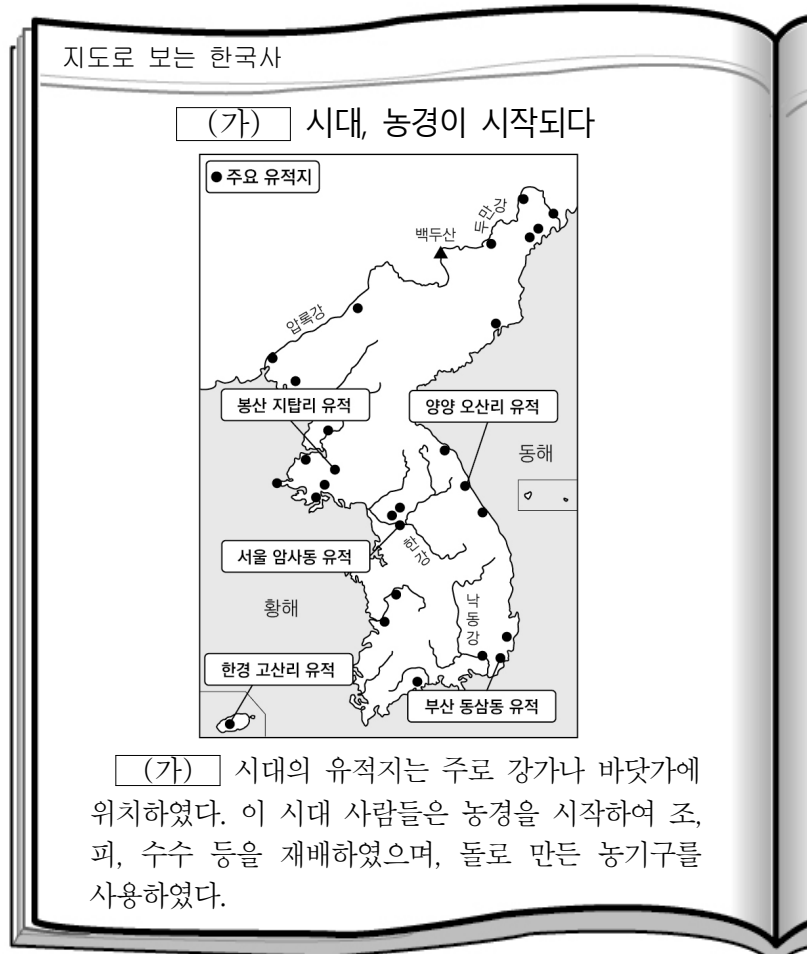


제 4 교시

한국사 영역

1. (가) 시대의 생활 모습으로 옳은 것은?




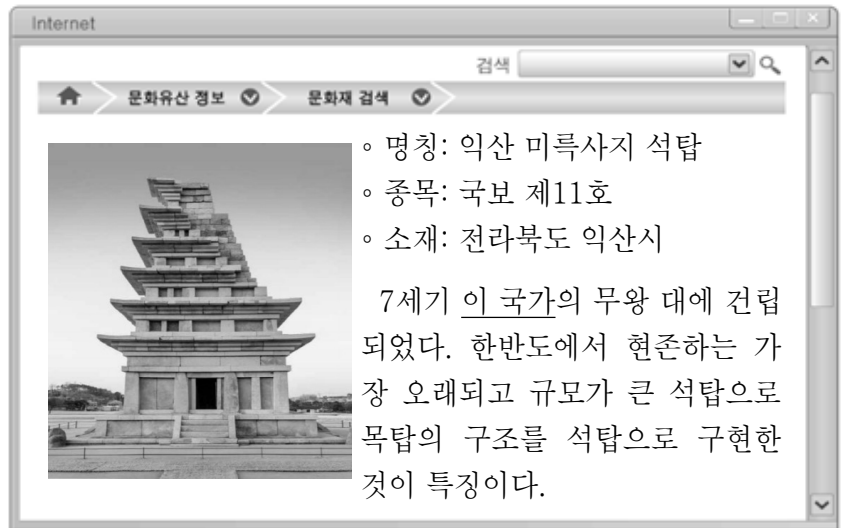
- ① 종교 행사로 팔관회를 개최하였다.
- ② 제가 회의에서 범죄자를 처벌하였다.
- ③ 지배층의 무덤으로 고인돌을 만들었다.
- ④ 빗살무늬 토기에 음식물을 저장하였다.
- ⑤ 명도전을 사용하여 물품을 거래하였다.

2. (가) 국가에 대한 설명으로 옳은 것은?



- ① 비변사를 설치하였다.
- ② 진대법을 실시하였다.
- ③ 화랑도를 조직하였다.
- ④ 과거제를 도입하였다.
- ⑤ 경국대전을 완성하였다.

3. 밑줄 친 '이 국가'의 문화유산으로 옳은 것은?

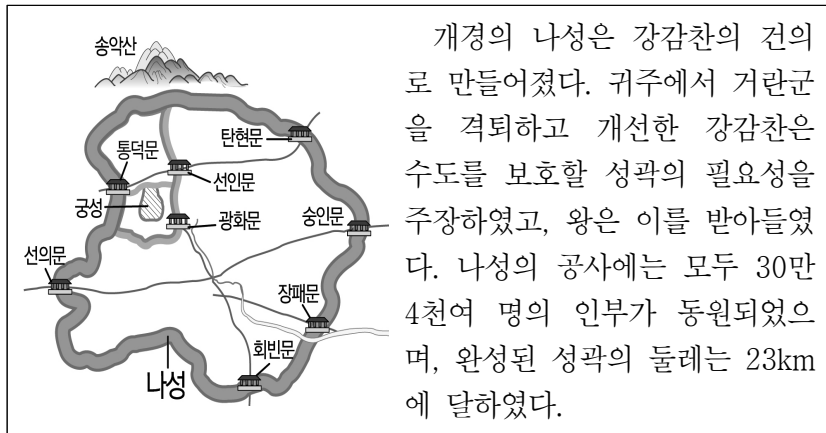


4. (가)에 들어갈 내용으로 적절한 것은? [3점]

신라의 삼국 통일과 제도 정비		
제29대 무열왕	제30대 문무왕	제31대 신문왕
[삼국 통일 기틀 마련] - 나·당 연합군 결성 - 백제 멸망	[삼국 통일 완수] - 고구려 멸망 - 나·당 전쟁 승리	[통일 신라 제도 정비] - 국학 설립 - (가)

- ① 평양 천도
- ② 12목 설치
- ③ 대동법 시행
- ④ 관료전 지급
- ⑤ 호포제 실시

5. 다음 상황이 전개된 시기를 연표에서 옳게 고른 것은? [3점]



(가)	(나)	(다)	(라)	(마)
고려 건국	강동 6주 획득	동북 9성 축조	무신 정변	개경 환도

- ① (가) ② (나) ③ (다) ④ (라) ⑤ (마)

6. (가) 국가의 경제에 대한 설명으로 옳은 것은? [3점]

마도 해역 해저 유물 발굴 보고서

1. 기간: 20△△년 △월 ~ △월

2. 장소

가. 위치: 충청남도 태안군 마도 해역

나. 특성 - (가)의 국제 무역항인 벽란도와 중국 간 무역로의 중간 기착지

- 험한 물살로 인한 침몰 사고 빈발

3. 성과

가. 청자, 송 도자기, 선상 용품 등 113점 인양

나. 당시 무역 업체(상단)의 실체를 보여주는 자기 조각 발견

도자기 조각의 '綱(강)'자는 당시 상단을 지칭해 쓰이던 글자임.

- ① 낙랑과 왜에 덩이쇠를 수출하였다.
 ② 동시전을 설치하여 시장을 감독하였다.
 ③ 영정법을 시행하여 토지세를 낮추었다.
 ④ 활구라는 은병을 고액 화폐로 발행하였다.
 ⑤ 청해진을 거점으로 남해의 무역을 주도하였다.

7. 다음 국왕의 재위 기간에 있었던 사실로 옳은 것은?



중요한 문서를 한문으로 쓰면, 글을 모르는 백성이 원통한 일을 당할 수 있다. 이제 훈민정음을 반포하니 백성들이 쉽게 읽고, 쓰고, 이해하여 억울한 일을 겪지 않을 것이다.

- ① 집현전이 설치되었다.
 ② 대가야가 멸망하였다.
 ③ 별기군이 창설되었다.
 ④ 팔만대장경이 완성되었다.
 ⑤ 불국사와 석굴암이 조성되었다.

8. (가)에 들어갈 내용으로 가장 적절한 것은?

신분 해방을 위해 모이자!

1부. 만적의 연설: '장군과 재상의 씨가 따로 있는가?'

- 우리도 고관대작이 될 수 있다!
 - 노비 문서를 불태우자!
 - (가)

2부. 향후 추진 계획 안내

일시: 1198년 ○월 ○일
 장소: 북산

- ① 소격서를 철폐하자!
 ② 골품제를 폐지하자!
 ③ 삼정의 문란을 시정하라!
 ④ 단발령 시행을 중지하라!
 ⑤ 최충헌과 주인들을 몰아내자!

9. (가) 사건의 결과로 옳은 것은?

이 비석은 강화도 덕진진에 있는 경고비이다. 프랑스는 병인박해를 구실로 함대를 보내 통상을 요구하며 (가)을/를 일으켰다. 조선은 한성근, 양헌수 등의 활약으로 프랑스군을 물리쳤다. 이후 흥선 대원군은 통상 수교 거부의 의지를 담아 '바다의 관문을 지키고 있으니 외국 배는 함부로 지나가지 말라.'라는 내용의 비를 세웠다.

- ① 외규장각 도서가 약탈되었다.
 ② 러시아의 주도로 삼국 간섭이 일어났다.
 ③ 영국이 거문도를 불법적으로 점령하였다.
 ④ 조·청 상민 수륙 무역 장정이 체결되었다.
 ⑤ 파리 강화 회의에 김규식이 대표로 파견되었다.

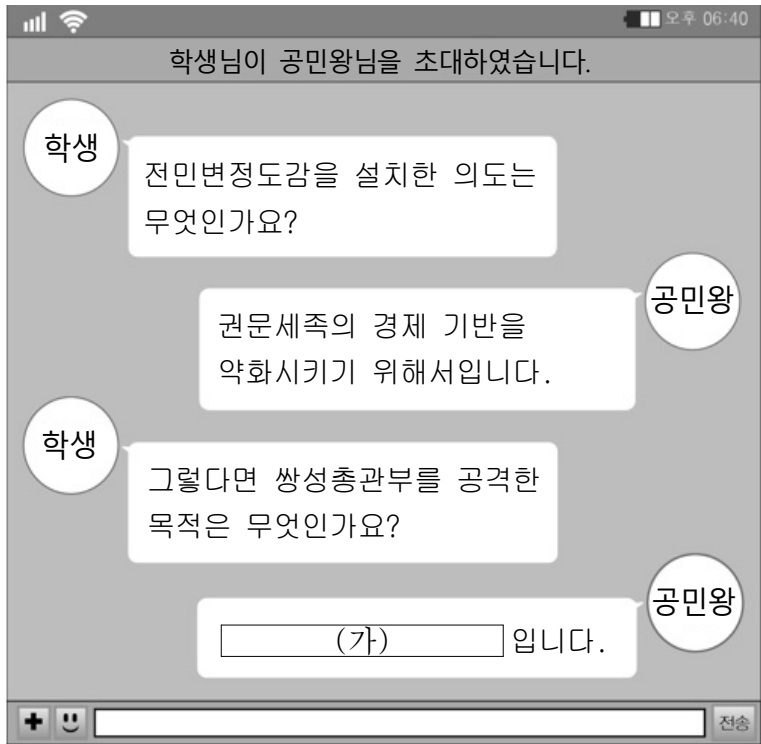
10. 다음 자료에 대한 탐구 활동으로 가장 적절한 것은? [3점]

정부는 지주로부터 농지를 사들이면서 재정이 부족하여 현금 대신 지가 증권을 발급하였다. 사진의 지가 증권에는 정부에서 추후 5년에 걸쳐 대금을 나누어 지급한다는 내용이 기재되어 있다.

▲ 1950년에 발급된 지가 증권

- ① 신민회의 활동 내용을 찾아본다.
 ② 조선 태형령의 제정 목적을 알아본다.
 ③ 농지 개혁법의 시행 결과를 파악한다.
 ④ 만민 공동회의 요구 사항을 분석한다.
 ⑤ 물산 장려 운동의 추진 배경을 조사한다.

11. (가)에 들어갈 내용으로 옳은 것은? [3점]



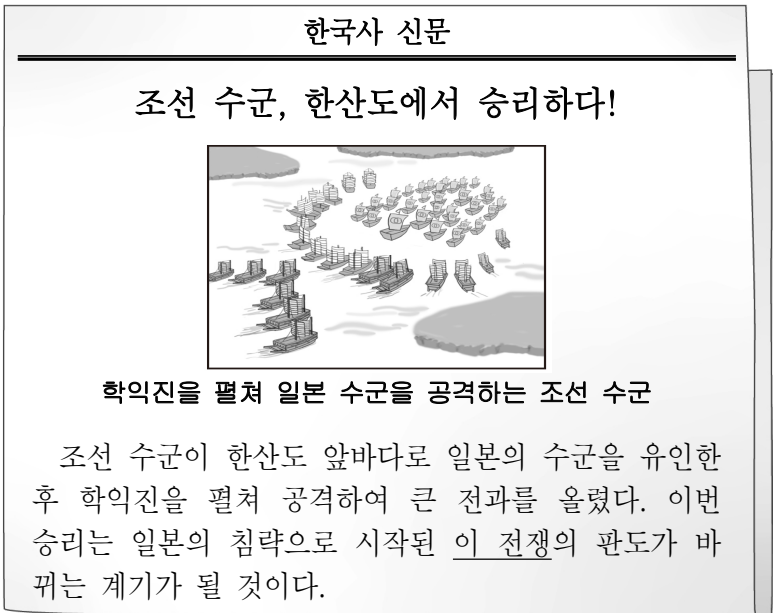
- ① 우산국을 복속시키기 위해서
- ② 홍경래의 난을 진압하기 위해서
- ③ 왜구의 근거지를 소탕하기 위해서
- ④ 원에게 빼앗긴 영토를 되찾기 위해서
- ⑤ 한이 설치한 군현을 몰아내기 위해서

12. 밑줄 친 ‘이 왕’에 대한 설명으로 옳은 것은? [3점]



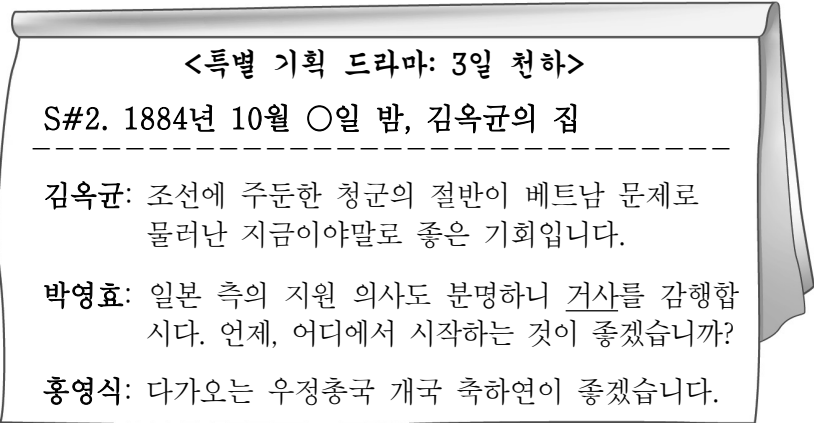
- ① 사비로 천도하였다.
- ② 장용영을 설치하였다.
- ③ 노비안검법을 실시하였다.
- ④ 독서삼품과를 마련하였다.
- ⑤ 사심관 제도를 시행하였다.

13. 밑줄 친 ‘이 전쟁’ 중에 있었던 사실로 옳은 것은?



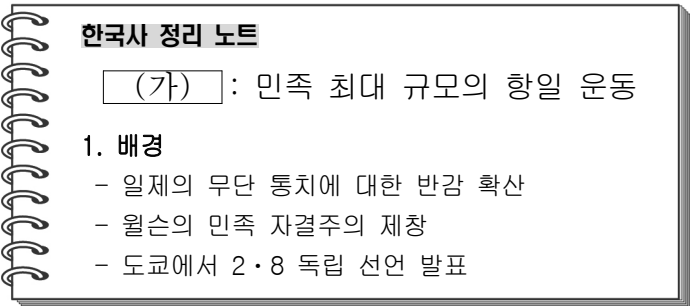
- ① 윤관이 별무반을 편성하였다.
- ② 계백이 황산벌에서 항전하였다.
- ③ 이순신이 명량에서 활약하였다.
- ④ 을지문덕이 살수에서 외적을 격파하였다.
- ⑤ 김윤후가 처인성에서 적장을 사살하였다.

14. 밑줄 친 ‘거사’에 대한 설명으로 옳은 것은?



- ① 급진 개화파가 주도하였다.
- ② 13도 창의군을 결성하였다.
- ③ 통신사 파견의 계기가 되었다.
- ④ 성리학적 질서를 수호하고자 하였다.
- ⑤ 사회주의 사상의 영향을 받아 전개되었다.

15. (가) 민족 운동에 대한 설명으로 옳은 것은? [3점]



- ① 신간회의 후원으로 확산되었다.
- ② 좌우 합작 위원회가 주도하였다.
- ③ 중국의 5·4 운동에 영향을 주었다.
- ④ 고종의 해산 권고 조치으로 중단되었다.
- ⑤ 대한매일신보 등 언론의 지원을 받았다.

16. (가) 민족 운동에 대한 설명으로 옳은 것은? [3점]



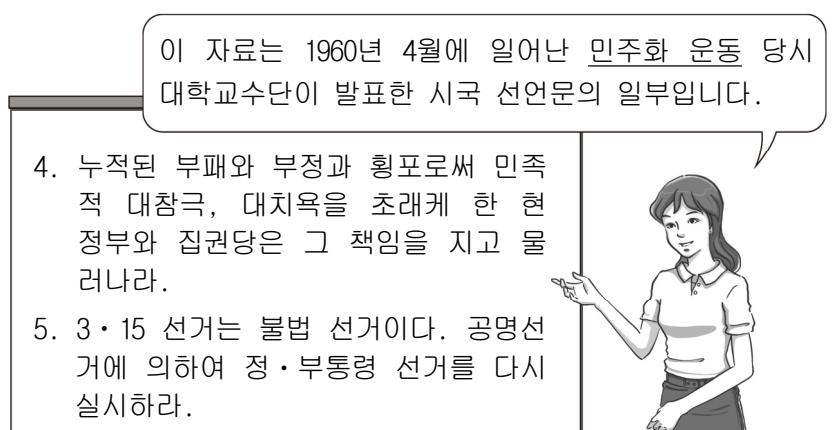
- ① 구본신참의 원칙을 표방하였다.
- ② 강화도 조약 체결에 반대하였다.
- ③ 집강소를 통해 폐정 개혁을 추진하였다.
- ④ 일제의 황무지 개간권 요구를 저지하였다.
- ⑤ 미군과 함께 국내 진공 작전을 계획하였다.

17. (가), (나) 시기 사이에 있었던 사실로 옳은 것은? [3점]



- ① 러·일 전쟁이 시작되었다.
- ② 인천 상륙 작전이 전개되었다.
- ③ 시모노세키 조약이 체결되었다.
- ④ 안중근이 이토 히로부미를 사살하였다.
- ⑤ 북로 군정서군이 청산리에서 대승을 거두었다.

18. 밑줄 친 '민주화 운동'에 대한 설명으로 옳은 것은?



- ① 신탁 통치 반대를 주장하였다.
- ② 유신 헌법 철폐를 요구하였다.
- ③ 4·13 호헌 조치에 저항하였다.
- ④ 군국기무처를 중심으로 추진되었다.
- ⑤ 이승만 대통령이 하야하는 계기가 되었다.

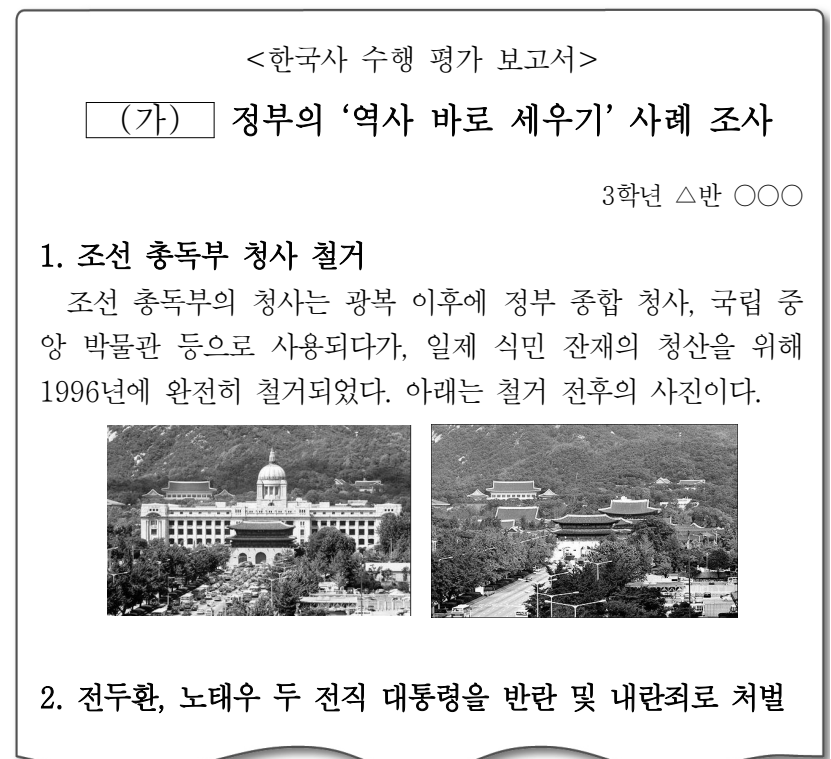
19. (가) 인물에 대한 설명으로 옳은 것은? [3점]

이 집은 (가) 이/가 자실에서 은신처로 사용한 곳입니다. 한인 애국단을 조직한 (가) 은/는 윤봉길의 상하이 의거를 지휘한 직후 일제의 집요한 추격에 쫓기고 있었습니다. 그래서 대한민국 임시 정부 요인들에게도 이 집의 위치를 비밀로 하였다고 합니다.



- ① 보빙사로 미국에 파견되었다.
- ② 한·일 국교 정상화를 추진하였다.
- ③ 민립 대학 설립 운동을 주도하였다.
- ④ 조선 건국 준비 위원회를 결성하였다.
- ⑤ 김규식과 함께 남북 협상을 추진하였다.

20. (가) 정부 시기에 있었던 사실로 옳은 것은?



- ① 금융 실명제가 실시되었다.
- ② 동양척식주식회사가 설립되었다.
- ③ 6·15 남북 공동 선언이 발표되었다.
- ④ 한·미 상호 방위 조약이 체결되었다.
- ⑤ 제1차 경제 개발 5개년 계획이 추진되었다.

* 확인 사항

○ 답안지의 해당란에 필요한 내용을 정확히 기입(표기)했는지 확인하십시오.