

제 4 교시

사회탐구 영역(세계지리)

성명

수험번호

3


제 [] 선택

1. 다음 자료의 (가)에 들어갈 옳은 내용만을 <보기>에서 고른 것은? [3점]

A는 프톨레마이오스가 그린 것을 15세기에 복원한 세계 지도인데, 콜럼버스와 마젤란이 아시아를 탐험하게 된 동기가 되었다고 해.

B는 1569년 메르카토르가 그린 세계 지도로, 지도상의 어느 지점에서든지 정확한 각도를 파악할 수 있어 당시에 항해용 지도로 이용되었어.

(가)



< 보 기 >

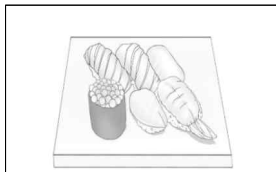
- ㄱ. A는 모든 경선과 위선이 수직으로 교차해.
- ㄴ. B는 고위도로 갈수록 면적이 축소되어 표현되고 있어.
- ㄷ. B는 A보다 지도에 표현된 실제 공간 범위가 넓어.
- ㄹ. A, B 모두 지구를 구체(球體)로 인식하여 제작하였어.

- ① ㄱ, ㄴ ② ㄱ, ㄷ ③ ㄴ, ㄷ ④ ㄴ, ㄹ ⑤ ㄷ, ㄹ

2. 다음 자료는 세 지역의 전통 음식 문화에 대한 것이다. (가)~(다) 지역을 지도의 A~C에서 고른 것은?

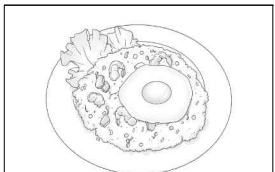
<몬순 아시아의 자연환경과 전통 음식 문화>

(가)




바다와 인접하여 생선 요리가 많음. 소금, 식초, 설탕 등으로 간을 한 밥 위에 얇게 저민 생선을 얹은 초밥이 유명함.

(나)

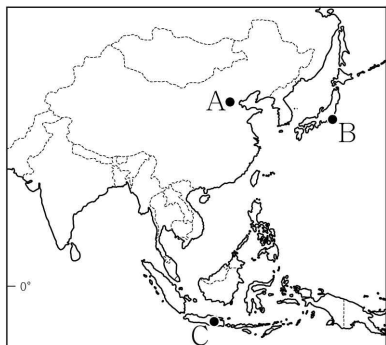


고온 다습한 기후 환경의 영향으로 향신료를 사용한 요리가 많음. 매콤하고 새콤하고 짭짤한 볶음밥인 나시고랭이 유명함.

(다)



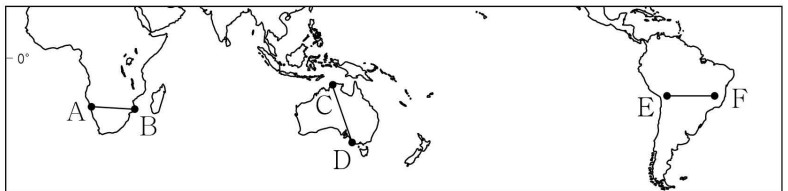
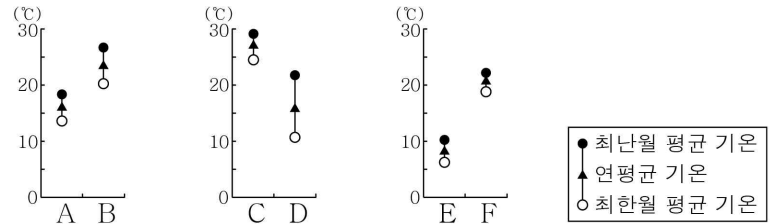
한랭한 이 지역에서는 강한 불로 조리하는 요리가 많음. 달콤한 양념을 발라 장작불로 구운 오리 구이가 유명함.



- | | (가) | (나) | (다) |
|---|-----|-----|-----|
| ① | A | B | C |
| ② | A | C | B |
| ③ | B | A | C |
| ④ | B | C | A |
| ⑤ | C | A | B |

3. 다음 자료의 (가)~(다)에 들어갈 기후 요인으로 가장 적절한 것은? [3점]

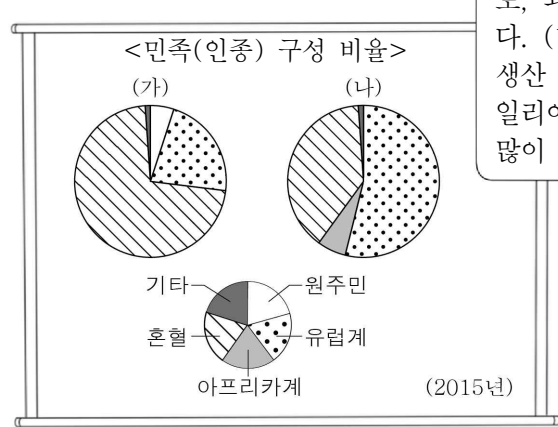
<지역의 기온 차이에 영향을 주는 기후 요인>



기후 요인	사례
(가)	A는 B보다 연평균 기온이 낮다.
(나)	C는 D보다 기온의 연교차가 작다.
(다)	E는 F보다 최난월 평균 기온이 낮다.

- | | (가) | (나) | (다) |
|---|-------|-------|-------|
| ① | 위도 | 해류 | 해발 고도 |
| ② | 해류 | 위도 | 해발 고도 |
| ③ | 해류 | 해발 고도 | 위도 |
| ④ | 해발 고도 | 해류 | 위도 |
| ⑤ | 해발 고도 | 위도 | 해류 |

4. 다음 자료의 (가), (나) 국가를 지도의 A~C에서 고른 것은?

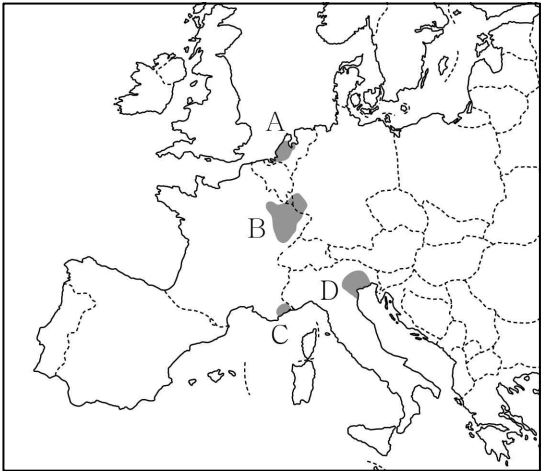


(가)는 구리, 수산물, 포도, 와인을 많이 수출합니다. (나)는 세계적인 커피 생산 국가이며, 오스트레일리아 다음으로 철광석을 많이 생산합니다.



- | | (가) | (나) |
|---|-----|-----|
| ① | A | B |
| ② | A | C |
| ③ | B | A |
| ④ | C | A |
| ⑤ | C | B |

5. 지도의 A ~ D 공업 지역에 대한 옳은 설명만을 <보기>에서 고른 것은?

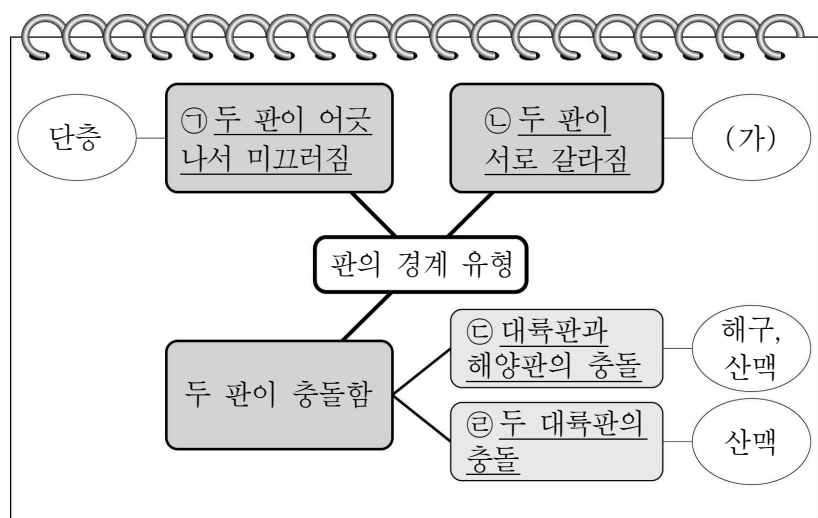


- < 보 기 > -

- ㄱ. A는 원료 수입과 제품 수출에 유리하다.
- ㄴ. B에는 가죽, 보석, 가구 등 장인에 의한 전통 산업이 집중되어 있다.
- ㄷ. C에는 기업, 대학, 연구소가 유기적으로 결합된 산업 클러스터가 있다.
- ㄹ. D는 풍부한 석탄과 철광석을 바탕으로 산업 혁명 초기에 성장하였다.

- ① \neg, \perp ② \neg, \sqsubset ③ \perp, \sqsubset ④ \perp, \sqsupset ⑤ \sqsubset, \sqsupset

6. 다음 자료는 판의 경계 유형을 정리한 지리 노트의 일부이다.
이에 대한 옳은 설명만을 <보기>에서 고른 것은? [3점]



- < 보기 > -

- ㄱ. (가)에는 ‘순상지’가 들어갈 수 있다.
 ㄴ. ㉠의 사례로 동아프리카 지구대를 들 수 있다.
 ㄷ. ㉡에서는 새로운 지각이 생성된다.
 ㄹ. ㉢은 ㉡보다 화산 활동이 활발하다.

- ① \neg, \perp ② \neg, \sqsubset ③ \perp, \sqsubset ④ \perp, \sqsupset ⑤ \sqsubset, \sqsupset

7. 다음 자료의 ㉠ 지형 형성 원인으로 옳은 것은?

중국 남부 구이린(桂林)은 빼어난 경관으로 예로부터 시인과 화가들의 작품 소재가 된 곳입니다. ㉠ 기이하게 솟아 있는 탑 카르스트가 강과 함께 어우러져 있어 세계적인 관광지가 되었습니다.



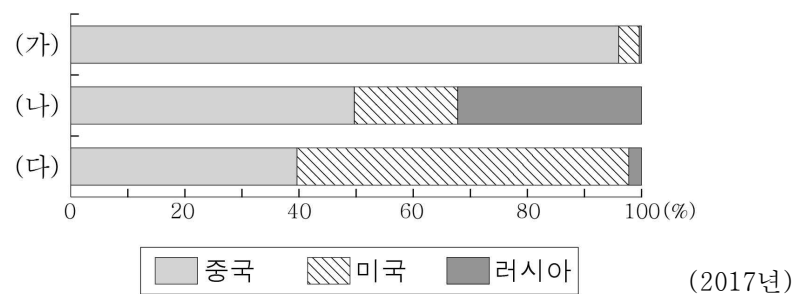
- ① 화산 활동 ② 바람의 침식 작용
③ 빙하의 침식 작용 ④ 파랑의 퇴적 작용
⑤ 석회암의 용식 작용

8. 다음 글의 (가)~(다) 종교에 대한 설명으로 옳은 것은? (단, (가)~(다)는 각각 불교, 이슬람교, 그리스도교 중 하나임.)

(가) 신자가 많은 ◇◇ 국가의 국기에는 초록색 바탕에 초승달 문양이 들어가 있다. 초록색은 천국과 평화를, 초승달은 진리의 시작을 상징한다. (나) 신자가 많은 △△ 국가의 국기는 초록색, 백색, 적색의 3색으로 구성되어 있다. 이 나라 출신 문학가인 단테는 『신곡』에서 초록색은 소망, 백색은 믿음, 적색은 사랑을 나타낸다고 하였다. (다) 신자가 많은 ○○ 국가에서는 하늘, 땅, 불, 물, 바람을 뜻하는 청색, 황색, 적색, 녹색, 백색의 깃발들이 불당과 탑 주변에서 펄럭이는 모습을 흔히 볼 수 있다.

- ① (가)의 신자들은 하루에 다섯 차례 성지를 향해 기도한다.
- ② (나)는 살생을 금하며 윤회 사상을 중시한다.
- ③ (다)의 주요 성지로 예루살렘과 바티칸 등이 있다.
- ④ (가)는 (나)보다 세계 신자 수가 많다.
- ⑤ (가)는 (다)보다 기원 시기가 이른다.

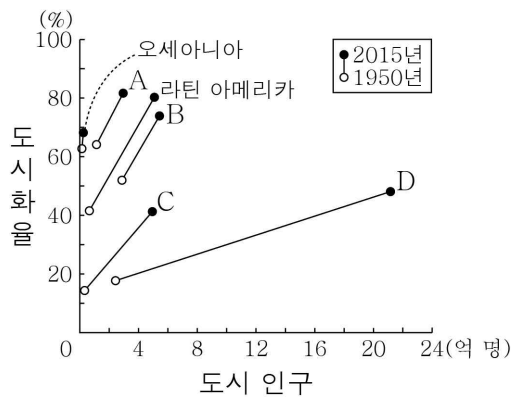
9. 그래프의 (가)~(다) 식량 작물에 대한 설명으로 옳은 것은?
(단, (가)~(다)는 각각 밀, 쌀, 옥수수 중 하나임.) [3점]



* 각 작물별 세 국가의 생산량 합을 100%로 했을 때의 비율임.

- ① (가)는 대부분 가축의 사료로 이용된다.
- ② (나)는 주로 논에서 재배된다.
- ③ (다)의 기원지는 아메리카이다.
- ④ (가)는 (나)보다 국제 이동량이 많다.
- ⑤ (가)는 (다)보다 기후 적응력이 크다.

10. 그래프는 지역(대륙)별 도시화율과 도시 인구 변화를 나타낸 것이다. A ~ D에 대한 설명으로 옳은 것은? (단, A ~ D는 각각 유럽, 아시아, 아프리카, 앵글로아메리카 중 하나임.) [3점]

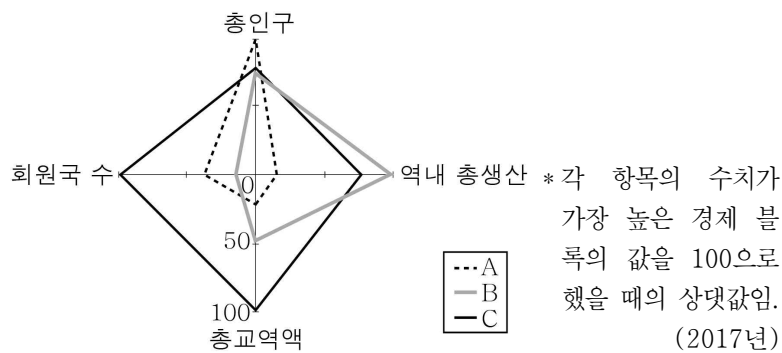


- ① A는 1950년 도시 인구가 총인구보다 많다.
 - ② C의 국가들은 대부분 2015년 도시화의 종착 단계에 있다.
 - ③ A는 D보다 1950 ~ 2015년 도시화율 증가 폭이 크다.
 - ④ B는 D보다 2015년 총인구가 많다.
 - ⑤ A는 유럽, B는 앵글로아메리카, C는 아시아이다.
11. 다음 글의 (가)~(다) 에너지에 대한 설명으로 옳은 것은? (단, (가)~(다)는 각각 석유, 석탄, 천연가스 중 하나임.)

(가)의 세계적인 수출국인 러시아는 우크라이나를 지나 서부 유럽으로 연결되는 파이프라인을 정치적인 이유로 차단함으로써 다른 유럽 국가들과의 갈등을 초래하였다. 중국에서 가장 많이 소비되는 (나)은/는 미세 먼지 발생의 주요 원인이 되고 있어 대체 에너지 마련이 시급하다는 목소리가 커지고 있다. 현재 세계 1차 에너지 소비에서 가장 높은 비율을 차지하는 (다)은/는 미래에 전기 및 수소 자동차가 보편화되면 수송용 사용 비율이 감소할 가능성이 크다.

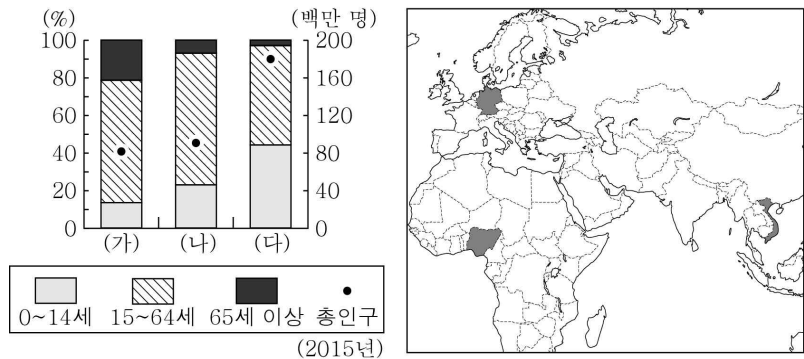
- ① (가)는 냉동 액화 기술의 발달로 소비량이 급증하였다.
- ② (나)는 신생대 제3기층 배사 구조에 주로 매장되어 있다.
- ③ (다)는 산업 혁명 당시 주요 에너지 자원으로 사용되었다.
- ④ (가)는 (나)보다 연소 시 대기 오염 물질 배출량이 많다.
- ⑤ (가)는 (다)보다 수송용 연료로 많이 이용된다.

12. 그래프는 세 경제 블록의 상대적인 특성을 나타낸 것이다. A ~ C에 대한 설명으로 옳은 것은? (단, A ~ C는 각각 유럽 연합, 동남아시아 국가 연합, 북아메리카 자유 무역 협정 중 하나임.)



- ① A는 비회원국에 대하여 공동 관세를 부과한다.
- ② B는 회원국 간 자유로운 노동력의 이동이 보장된다.
- ③ C의 모든 회원국은 유로화를 단일 통화로 사용한다.
- ④ A는 B보다 3차 산업 종사자 수 비율이 높다.
- ⑤ C는 B보다 정치·경제적 통합 수준이 높다.

13. 그래프는 지도에 표시된 세 국가의 인구 현황을 나타낸 것이다. (가)~(다) 국가에 대한 설명으로 옳은 것은? [3점]



- ① (가)는 인구의 자연 증가율이 가장 높다.
- ② (나)는 중위 연령이 가장 높다.
- ③ (다)는 인구 변천 모형의 인구 감소 단계에 있다.
- ④ (가)는 (나)보다 노년 인구가 많다.
- ⑤ (나)는 (다)보다 유소년 부양비가 높다.

14. 다음 자료의 ㉠~㉣에 대한 설명으로 옳지 않은 것은? [3점]

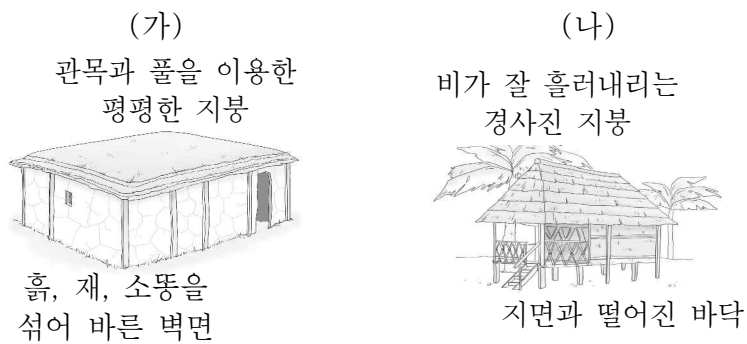
○ 자연환경: 인도 북쪽에는 ㉠ 히말라야산맥이 있고, 인도양으로 흘러가는 ㉡ 갠지스강 하구에는 드넓은 충적 평야가 있다.

○ 인문 환경: ㉢ 세계에서 인구가 두 번째로 많은 국가이며 다양한 언어를 사용한다. ㉣ 정보 기술 산업 관련 다국적 기업의 진출이 활발하다.

○ 지역화 전략: 인도의 다양한 문화와 역동적인 삶을 반영한 ‘인credible INDIA’라는 지역 브랜드로 국가를 홍보하고 있다. 다르질링 차, 이카트·칸치푸람 실크 등이 ㉤에 등록되어 있다.

- ① ㉠ - 신생대 조산 운동으로 형성되었다.
- ② ㉡ - 벼농사가 활발하게 이루어진다.
- ③ ㉢ - 출산 장려 정책을 적극적으로 시행하고 있다.
- ④ ㉣ - 영어에 능통한 전문 인력이 풍부한 것이 한 요인이다.
- ⑤ ㉤ - ‘지리적 표시제’가 들어갈 수 있다.

15. 그림은 두 기후 지역의 전통 가옥 모습이다. (가), (나) 기후 지역에 대한 설명으로 옳은 것은?



- ① (가)는 연중 적도 수렴대의 영향을 받는다.
- ② (나)는 기온의 연교차가 기온의 일교차보다 크다.
- ③ (나)는 (가)보다 수목의 평균 키가 크다.
- ④ (가)는 이동식 경작, (나)는 유목이 활발하다.
- ⑤ (가), (나) 모두 비옥한 흑색의 체르노젱이 발달한다.

16. 다음 자료는 어느 지역의 관광 안내 홍보물이다. 이 지역에 대한 설명으로 옳은 것은? [3점]

- ○○ 여행사 -

계절	기후와 여행
봄	우리나라의 봄과 비슷하여 여행하기 좋음. 5~6월에 꽃이 많이 핀.
여름	기온이 높게 올라가는 날도 있지만 그늘에 들어가면 서늘함. 밤 10시까지도 해가 남아 있어 여행하기 좋음.
가을	숲과 공원의 나뭇잎이 붉게 물들고 거리에 낙엽이 쌓여 있음. 여행하면서 풍경 사진 찍기에 좋음.
겨울	기온이 0℃ 이하로 내려가는 날이 많지 않고, 비가 올 때가 많음. 여행하려면 보온에 유의해야 함.

- ① 연 강수량보다 연 증발량이 많다.
- ② 활동층 아래에 영구 동토층이 있다.
- ③ 일 년 내내 편서풍의 영향을 받는다.
- ④ 적도와 북회귀선 사이에 위치해 있다.
- ⑤ 강한 일사로 매일 대류성 강수가 내린다.

17. 다음 자료의 ㉠~㉣에 대한 설명으로 옳지 않은 것은?

수단과 이집트 사이의 ㉠국경선은 직선으로 나타난다. 옛 수단은 ㉡두 종교의 점이 지대에 위치하여 내전을 겪은 후 남수단과 수단으로 분리되었으며, 여전히 ㉢두 국가의 접경 지역에서는 갈등이 지속되고 있다.

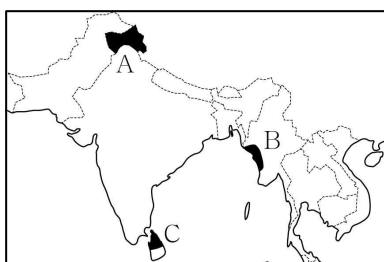


남아프리카 공화국은 과거 ㉣아파르트헤이트를 실시하였으나, 현재는 다양한 사람들이 공존하는 국가로 거듭나고 있다. 금, 석탄, 다이아몬드 등 풍부한 자원을 바탕으로 공업이 성장하고 있으며, 특히 남부의 ㉤드라켄즈버그산맥 일대에서 주로 채굴되는 석탄은 아프리카에서 수출량이 가장 많다.

- ① ㉠ - 하천 유로를 따라 국경이 설정되었기 때문이다.
- ② ㉡ - 이슬람교와 크리스티교이다.
- ③ ㉢ - 석유 생산과 수송을 둘러싼 다툼이 원인 중 하나이다.
- ④ ㉣ - 유럽계가 아프리카계 주민 등을 차별한 정책이다.
- ⑤ ㉤ - 고기 습곡 산지이다.

18. 다음 자료의 (가), (나) 지역을 지도의 A~C에서 고른 것은?

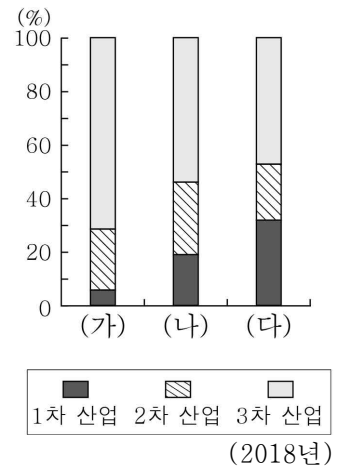
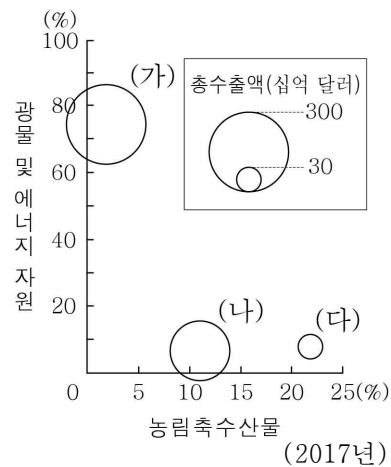
- (가) 은/는 산양의 털로 짠 직물인 캐시미어로 유명하다. 영국으로부터 독립할 때 힌두교 신자가 다수인 국가로 귀속되자 이 지역의 이슬람교 주민들이 반발하였다.
- (나) 의 로힝야족은 영국의 식민 지배 당시 노동력을 보충하기 위해 인도에서 많이 이주하였다. 이들은 불교 국가에서 이슬람교를 믿는다는 이유로 차별을 받고 있다.



- | | (가) | (나) |
|---|-----|-----|
| ① | A | B |
| ② | A | C |
| ③ | B | A |
| ④ | B | C |
| ⑤ | C | B |

19. 그래프의 (가)~(다) 국가로 옳은 것은? [3점]

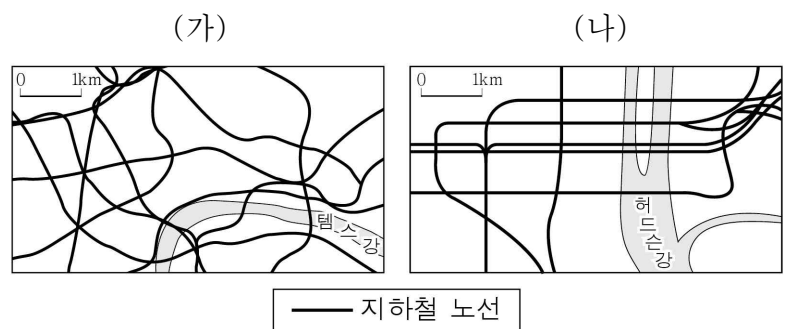
<총수출액과 상품별 수출액 비율> <산업별 종사자 수 비율>



* 농림축수산물과 광물 및 에너지 자원 비율은 원의 중심값임.

- | | (가) | (나) | (다) |
|---|---------|---------|---------|
| ① | 터키 | 모로코 | 사우디아라비아 |
| ② | 터키 | 사우디아라비아 | 모로코 |
| ③ | 모로코 | 터키 | 사우디아라비아 |
| ④ | 사우디아라비아 | 터키 | 모로코 |
| ⑤ | 사우디아라비아 | 모로코 | 터키 |

20. 그림은 두 도시 지하철 노선망의 일부이다. (가), (나) 도시에 대한 옳은 설명만을 <보기>에서 고른 것은? (단, (가), (나)는 각각 뉴욕, 런던 중 하나임.) [3점]



< 보 기 >

- ㄱ. (가)는 (나)보다 도시 발달의 역사가 길다.
- ㄴ. (가)는 (나)보다 도심의 도로 폭이 넓고 직교 형태의 도로가 많다.
- ㄷ. (나)는 (가)보다 도심과 주변 지역 간 건물의 평균 높이 차이가 크다.
- ㄹ. (가), (나) 모두 도심에 공업 기능이 집중되어 있다.

- ① ㄱ, ㄴ ② ㄱ, ㄷ ③ ㄴ, ㄷ ④ ㄴ, ㄹ ⑤ ㄷ, ㄹ

* 확인 사항

- 답안지의 해당란에 필요한 내용을 정확히 기입(표기)했는지 확인하십시오.

고3

서울특별시교육청 주관

2020학년도 3월 고3 전국연합학력평가 답안지

4

교시 한국사/탐구영역
(사회/과학)

학 교	고등학교
성 명	

※ 문제지 표지에 안내된 필적 확인 문구를 아래 '필적 확인란'에 정자로 반드시 기재하여야 합니다.

필 적	
확인란	

수험번호									
학교번호					학년	반		번호	
					3				
	0	0	0	0		0	0	0	0
1	1	1	1	1		1	1	1	1
2	2	2	2	2		2	2	2	2
	3	3	3	3		3	3	3	3
	4	4	4	4		4	4	4	4
	5	5	5	5		5	5	5	5
	6	6	6	6		6	6	6	6
	7	7	7	7		7	7	7	7
	8	8	8	8		8	8	8	8
	9	9	9	9		9	9	9	9

감독관 학 인	(서명 또는 날인)	반, 번호 및 선택과목 번호 등의 표기가 정확 한지 반드시 확인 후 서명 또는 날인

성명									
(빈칸없이 왼쪽부터 기재)									
ㄱ	이	기	우	이	기	우	이	기	우
ㄴ	정	지	현	정	지	현	정	지	현
ㄷ	김	민	서	김	민	서	김	민	서
ㄹ	박	성	민	박	성	민	박	성	민
ㅁ	최	지	현	최	지	현	최	지	현
ㅂ	한	지	현	한	지	현	한	지	현
ㅅ	이	기	우	이	기	우	이	기	우
ㅇ	정	지	현	정	지	현	정	지	현
ㅈ	김	민	서	김	민	서	김	민	서
ㅊ	박	성	민	박	성	민	박	성	민
ㅋ	최	지	현	최	지	현	최	지	현
ㆁ	한	지	현	한	지	현	한	지	현
ㆂ	이	기	우	이	기	우	이	기	우
ㆃ	정	지	현	정	지	현	정	지	현
ㆄ	김	민	서	김	민	서	김	민	서
ㆅ	박	성	민	박	성	민	박	성	민
ㆆ	최	지	현	최	지	현	최	지	현
ㆇ	한	지	현	한	지	현	한	지	현
ㆈ	이	기	우	이	기	우	이	기	우
ㆉ	정	지	현	정	지	현	정	지	현
ㆊ	김	민	서	김	민	서	김	민	서
ㆋ	박	성	민	박	성	민	박	성	민
ㆌ	최	지	현	최	지	현	최	지	현
ㆍ	한	지	현	한	지	현	한	지	현

사회탐구	생활과 윤리(11), 윤리와 사상(12), 한국지리(13), 세계지리(14), 동아시아사(15), 세계사(16), 정치와 법(17), 경제(18), 사회·문화(19)
과학탐구	물리학 I (20), 화학 I (21), 생명과학 I (22), 지구과학 I (23)

※ 답안지 작성(표기)은 반드시 검은색 컴퓨터용 사인펜만을 사용하고, 연필 또는 사프 등의 필기구를 절대 사용하지 마십시오.
※ 뒷면의 수험생 준수사항을 숙지하여야 하며 이를 준수하지 않을 경우 불이익을 받을 수 있습니다.

한 국 사	
문번	답 란
1	① ② ③ ④ ⑤
2	① ② ③ ④ ⑤
3	① ② ③ ④ ⑤
4	① ② ③ ④ ⑤
5	① ② ③ ④ ⑤
6	① ② ③ ④ ⑤
7	① ② ③ ④ ⑤
8	① ② ③ ④ ⑤
9	① ② ③ ④ ⑤
10	① ② ③ ④ ⑤
11	① ② ③ ④ ⑤
12	① ② ③ ④ ⑤
13	① ② ③ ④ ⑤
14	① ② ③ ④ ⑤
15	① ② ③ ④ ⑤
16	① ② ③ ④ ⑤
17	① ② ③ ④ ⑤
18	① ② ③ ④ ⑤
19	① ② ③ ④ ⑤
20	① ② ③ ④ ⑤

제 1 선택	
문번	답 란
1	① ② ③ ④ ⑤
2	① ② ③ ④ ⑤
3	① ② ③ ④ ⑤
4	① ② ③ ④ ⑤
5	① ② ③ ④ ⑤
6	① ② ③ ④ ⑤
7	① ② ③ ④ ⑤
8	① ② ③ ④ ⑤
9	① ② ③ ④ ⑤
10	① ② ③ ④ ⑤
11	① ② ③ ④ ⑤
12	① ② ③ ④ ⑤
13	① ② ③ ④ ⑤
14	① ② ③ ④ ⑤
15	① ② ③ ④ ⑤
16	① ② ③ ④ ⑤
17	① ② ③ ④ ⑤
18	① ② ③ ④ ⑤
19	① ② ③ ④ ⑤
20	① ② ③ ④ ⑤

선택과목
번호를
반드시
확인 후
표기
(표기
오류 시
채점 불가)

제 2 선택	
문번	답 란
1	① ② ③ ④ ⑤
2	① ② ③ ④ ⑤
3	① ② ③ ④ ⑤
4	① ② ③ ④ ⑤
5	① ② ③ ④ ⑤
6	① ② ③ ④ ⑤
7	① ② ③ ④ ⑤
8	① ② ③ ④ ⑤
9	① ② ③ ④ ⑤
10	① ② ③ ④ ⑤
11	① ② ③ ④ ⑤
12	① ② ③ ④ ⑤
13	① ② ③ ④ ⑤
14	① ② ③ ④ ⑤
15	① ② ③ ④ ⑤
16	① ② ③ ④ ⑤
17	① ② ③ ④ ⑤
18	① ② ③ ④ ⑤
19	① ② ③ ④ ⑤
20	① ② ③ ④ ⑤

사탐/과탐
영역간
동시선택
불가