

제 4 교시

사회탐구 영역(동아시아사)

성명

수험번호

3

제 [] 선택

1. (가) 시대의 생활 모습으로 옳은 것은?



- ① 불교를 신봉하였다.
- ② 간석기를 사용하였다.
- ③ 철제 무기를 사용하였다.
- ④ 비파형 동검을 제작하였다.
- ⑤ 문자를 만들어 사용하였다.

2. 밑줄 친 ‘이 나라’에 대한 설명으로 옳은 것은?

시로 보는 동아시아사

한나라는 융성한 때라 조정에 무신들도 많은데
하필 첩이 박명하여 화친의 어려움을 말아야 하는지요.
눈물을 삼키며 궁궐을 작별하고
... (중략) ...
이 나라의 선우는 매우 기뻐하는데
... (중략) ...
봄이 와도 봄 같지가 않네요.
저절로 허리띠가 느슨해진 것이지
몸매를 가꿔서가 아니랍니다.

[작품 해설] 한의 화친 정책에 따라 왕소군이 이 나라의 호
한야 선우에게 시집간 것을 두고, 후대에 동방규가 시를 지
어 표현한 것이다.

- ① 만리장성을 축조하였다.
- ② 8조의 법을 제정하였다.
- ③ 남비엣(남월)을 정복하였다.
- ④ 분서갱유로 사상을 통제하였다.
- ⑤ 좌현왕과 우현왕 등을 두어 나라를 다스렸다.

3. 밑줄 친 ‘이 나라’에 대한 설명으로 옳은 것은?

동아시아 역사 용어집

도호부(都護府)

전근대 시기 중국의 변방 통치 기관이다. 특히
이 나라에서는 광범위한 변방을 통치하기 위하여 6
도호부(안동도호부, 선우도호부, 안북도호부, 북정
도호부, 안서도호부, 안남도호부)를 두었다. 하지만
이 도호부들은 안사의 난 이후 점차 소멸되었다.

- ① 가야를 병합하였다.
- ② 해이조교를 건설하였다.
- ③ 고구려 계승 의식을 표방하였다.
- ④ 신라와 연합하여 백제를 멸망시켰다.
- ⑤ 5호 16국 시대의 혼란을 수습하였다.

4. 다음 자료를 활용한 탐구 주제로 가장 적절한 것은? [3점]

문무 천황은 궁전의 건립이나 문무 관인의 복색까지 당의
의례를 모방하여 정하였다. 또한 즉위 5년부터 다이호라는
연호를 사용하기 시작하였다. ... (중략) ... 다이호 이후 연호
가 끊어지지 않고 줄곧 사용되었다. ... (중략) ... 후히토 대신
이 집정(執政)으로서 국가 체제를 정비하였다.

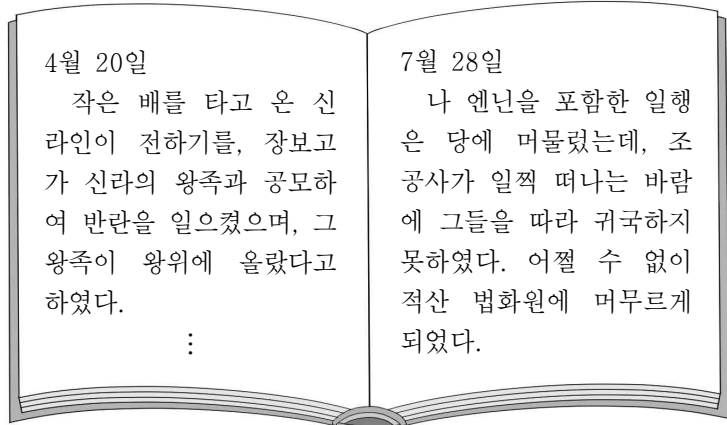
- ① 율령의 전파와 수용
- ② 제자백가의 등장 배경
- ③ 불교와 토착 신앙의 융합
- ④ 혈연관계에 기초한 봉건제의 시행
- ⑤ 유목 문화를 수용한 한족 문화의 특징

5. 밑줄 친 ‘우리 왕조’에 대한 설명으로 옳은 것은? [3점]

- 통화 20년 2월, 여진에서는 사람을 우리 왕조로 보내 조
근(朝覲)하였다. 고려에서는 사신을 보내 송을 쳐서 이긴
것을 축하하며 예를 다하였다.
- 통화 22년 12월, 송에서 화친을 요청하면서, 우리 왕조의
태후를 숙모라고 부르고 해마다 은 10만 냥과 비단 20만
필을 보내겠다고 하였다. 이에 화친을 허락하였다.

- ① 강화도로 수도를 옮겼다.
- ② 연운 16주를 차지하였다.
- ③ 몽골의 침략으로 멸망하였다.
- ④ 슈고와 지토를 지방에 파견하였다.
- ⑤ 쩌흥다오의 활약으로 외적을 물리쳤다.

6. 다음 일기에 나타난 시기 동아시아에서 볼 수 있는 모습으로 적절한 것은?



- ① 세키가하라 전투에 참가한 병사
- ② 베이징을 향해 출발하는 연행사
- ③ 헤이안쿄에서 물건을 파는 상인
- ④ 살수 대첩의 승전을 알리는 전령
- ⑤ 왕안석의 개혁에 반발하는 대지주

7. 밑줄 친 ‘그’에 대한 설명으로 옳은 것은? [3점]

호라즘 샤는 상인들을 살해하고 물건을 빼앗으라는 명령을 내렸다. ... (중략) ... 이에 분노한 그는 자신의 아들인 주치와 차가타이, 오고타이, 그리고 수많은 군대를 동원하여 호라즘을 정벌하였다.

- ① 고조선을 멸망시켰다.
- ② 위화도 회군을 단행하였다.
- ③ 천호·백호제를 정비하였다.
- ④ 난징에서 베이징으로 천도하였다.
- ⑤ 천황으로부터 쇼군의 칭호를 받았다.

8. 다음 자료에 나타난 시기 동아시아의 상황으로 옳은 것은?

감파리*는 바다 서쪽의 작은 나라이다. 영락 6년, 황제가 정화를 보내 그 나라 왕에게 비단 등을 내려 주었다. 그러자 영락 13년, 그 나라에서 사신을 보내 공물을 바쳤다. 영락 19년, 다시 조공해 오자 황제는 정화를 보내 화답하였다.

* 감파리: 인도 최남단에 있던 나라

- ① 한국 - 동북 9성이 축조되었다.
- ② 중국 - 마르코 폴로가 방문하였다.
- ③ 중국 - 현장이 인도를 순례하였다.
- ④ 일본 - 도다이사가 창건되었다.
- ⑤ 일본 - 중국과의 감합 무역이 전개되었다.

9. (가) 유학 경향에 대한 설명으로 옳은 것은? [3점]

아카마쓰 공이 새롭게 『사서오경』을 옮겨 쓰면서, 나 후지와라 세이카에게 왜훈을 청하기에 이를 완성하였소. 앞으로 일본에서 (가)을/를 알고자 한다면 이 책을 원본으로 삼아야 할 것이오. 강항 선생께서도 이 책 뒤에 발문을 붙이셨소.



- ① 주희가 집대성하였다.
- ② 심즉리와 지행합일을 강조하였다.
- ③ 해체신서 편찬을 계기로 발전하였다.
- ④ 백만탑다라니경이 제작되는 배경이 되었다.
- ⑤ 춘추공양전에서 정치 개혁의 이념을 찾고자 하였다.

10. 다음 문서들이 교환된 시기를 연표에서 옳게 고른 것은?

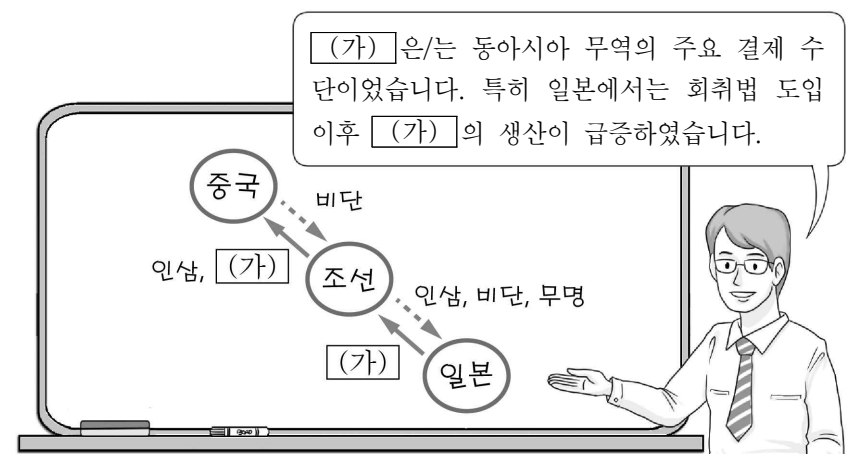
조선이 진심으로 전쟁을 멈추고 화친을 바란다면, 앞으로는 명을 섬기지 말고 왕래를 끊고서 우리가 형이 되고 조선이 아우가 됩시다. 명이 노여워하더라도 우리가 가까이 있는데 무엇을 두려워합니까?

사대교린은 본디 방도가 있습니다. 지금 우리가 귀국과 화친하는 것은 교린이요, 명을 섬기는 것은 사대입니다. 이 두 가지는 동시에 시행되어도 서로 도리에 어긋나지 않습니다.

	(가)	(나)	(다)	(라)	(마)
삼포 왜란 발생	임진왜란 발발	에도 막부 수립	후금 건국	병자호란 발발	이자성의 베이징 점령

- ① (가) ② (나) ③ (다) ④ (라) ⑤ (마)

11. (가)에 대한 설명으로 옳은 것은? [3점]



- ① 정더전의 주요 생산품이었다.
- ② 일본이 송으로부터 대량 수입하였다.
- ③ 대동법의 시행으로 주요 징수 품목이 되었다.
- ④ 오다 노부나가 군대의 주력 무기로 활용되었다.
- ⑤ 명에서 일조편법이 시행되는 데 영향을 주었다.

12. 다음 보고가 이루어진 시기 동아시아의 상황으로 옳은 것은?

동지사 김수흥이 보고하기를, “신(臣)이 은밀히 알아보니, 오삼계는 이미 사망하였고 그의 아들도 베이징에서 사망하였다고 합니다. 그리고 섬에 들어간 정성공의 아들은 세력이 매우 강성하다고 합니다.”라고 하였다.

- ① 한국 - 벽란도가 국제 무역항으로 번성하였다.
- ② 중국 - 천계령이 실시되었다.
- ③ 중국 - 서양과의 무역항을 광저우로 한정하였다.
- ④ 일본 - 견당사를 파견하였다.
- ⑤ 일본 - 무역 허가증인 신패를 발행하였다.

13. 다음 자료에 나타난 시기 동아시아에서 볼 수 있는 모습으로 적절한 것만을 <보기>에서 고른 것은? [3점]

우리는 데지마에 도착한 직후 네덜란드 상관장의 중개로 나가사키에 있던 일본인 의사들과 알게 되었다. 그들은 우리 명성을 듣고 나가사키로 온 것이다. ... (중략) ... 나가사키는 유럽의 학술을 애호하는 일본인 학자들이 모이는 명소가 되었고, 과학적 교양을 중시하는 경향이 더욱 확산되어 갔다.


- < 보 기 > —
- ㄱ. 경극을 관람하는 신사
 - ㄴ. 한글 소설을 읽는 농민
 - ㄷ. 대월사기를 집필하는 관리
 - ㄹ. 쇼토쿠 태자를 가르치는 승려

- ① ㄱ, ㄴ ② ㄱ, ㄷ ③ ㄴ, ㄷ ④ ㄴ, ㄹ ⑤ ㄷ, ㄹ

14. (가), (나) 사건 사이에 있었던 사실로 옳은 것은? [3점]

(가)


동아시아사신문



영국은 청 정부의 아편 단속을 빌미로 전쟁을 일으켰다.

(나)

동아시아사신문



일본은 운요호를 보내 강화도의 조선군을 공격하였다.

- ① 대한 제국이 외교권을 상실하였다.
- ② 페리 제독이 일본에 개항을 요구하였다.
- ③ 의화단이 8개국 연합군에 의해 진압되었다.
- ④ 청과 일본이 시모노세키 조약을 체결하였다.
- ⑤ 김옥균 등의 급진 개화파가 정변을 일으켰다.

15. (가) 서적에 대한 설명으로 옳은 것은?

(가) 서문

현재 중국 바깥에는 만국(萬國)이 나란히 세워져 있다. 만약 이들 간에 질서가 없다면 어떻게 유지될 수 있겠는가. 이 때문에 미국인 선교사 윌리엄 마틴이 이 책을 번역하였다. 그는 중국어에 능숙하기 때문에 상당히 정확하게 번역하였다.

동치 3년(1864) 동순 씀

- ① 고증학의 발달에 기여하였다.
- ② 난학이 유행하는 계기가 되었다.
- ③ 몽골과의 항쟁 과정에서 편찬되었다.
- ④ 제국주의 열강의 침략 논리로 이용되었다.
- ⑤ 유교식 관혼상제 의례의 확산에 공헌하였다.

16. (가)에 들어갈 내용으로 가장 적절한 것은? [3점]

대단원 마무리
IV. 동아시아의 근대화 운동과 반제국주의 민족 운동

※ 알고리즘을 활용하여 이 단원에서 배운 내용을 정리해 봅시다.

동아시아의 민족 운동을 입력하시오.

반제국주의 성격을 띠었는가?

아니요

예

(가)

아니요

예

3·1 운동
5·4 운동

<범례>

- : 출발 조건
- ◇ : 판단 내용
- : 판단 방향
- ▭ : 역사적 사건

- ① 의회 설립을 요구하였는가?
- ② 전제 군주제를 지향하였는가?
- ③ 헌법 개정의 결과를 가져왔는가?
- ④ 파리 강화 회의의 영향을 받았는가?
- ⑤ 정부 주도로 이루어진 개혁이었는가?

17. (가)에 해당하는 사건에 대한 설명으로 옳은 것은?

- □(가)이/가 일어나면서, 지난 수천 년 동안 중국이 지켜온 도덕과 윤리 등 모든 것이 한순간에 사라져 버렸다. 천주의 가르침을 숭상하고, 재상부터 잡부까지 모두 형제라 칭하고 있기 때문이다.

— 중국변 —

- 민생주의는 빈부의 격차를 없애 부자가 가난한 자를 억압할 수 없도록 해 준다. 이 민생주의를 수십 년 전에 이미 행한 사람이 바로 □(가)을/를 이끈 홍수전이다.

— 쑨원 —

- ① 양무운동이 추진되는 배경이 되었다.
- ② 중·일 전쟁이 발발하는 계기가 되었다.
- ③ 일본의 메이지 유신을 본받아 전개되었다.
- ④ 구식 군인에 대한 차별 대우가 원인이었다.
- ⑤ 대일본 제국 헌법이 제정되는 결과를 낳았다.

18. 다음 자료에 나타난 시기 동아시아의 상황으로 옳은 것은?

[3점]

“전쟁이 막바지에 이른 모양이구나. 하루라도 일본이 빨리 항복해야 인명이 덜 상할 텐데…….”

소련군이 일본에 공격을 개시했다는 보도가 실린 신문은 한국이 산으로 간 바로 직후, 면소 급사가 가져왔다.

“어머니! 소련군이 참전했나 봐요.”

양현이 급히 신문을 들고 방으로 들어갔다. 서희는 신문을 받아 읽었다.

“큰일 났구나. 예상한 대로.”

“…….”

“조선이 불바다가 되면 어떻게 하나.”

모녀의 눈이 마주쳤다. 그들은 형무소에 있는 길상을 생각했던 것이다.

— 『토지』 —

- ① 우창에서 신군이 봉기하였다.
- ② 청이 흥정 헌법 대강을 공포하였다.
- ③ 5·30 운동이 전국적으로 확산되었다.
- ④ 한국광복군이 국내 진공 작전을 추진하였다.
- ⑤ 러시아와 일본이 포츠머스 조약을 체결하였다.

19. 밑줄 친 ‘전쟁’의 결과로 옳은 것은? [3점]



전쟁이 격렬했을 때 하노이는 아침 점심으로 미국 폭격기 B-52의 폭격을 받았어요. 우리는 온갖 위험을 무릅쓰고 미군에 맞서 싸웠지요. 미력하나마 우리나라의 통일과 평화에 기여할 수 있어 다행이라 생각합니다.

- ① 대약진 운동이 일어났다.
- ② 5·18 민주화 운동이 전개되었다.
- ③ 중국 공산당이 대장정을 단행하였다.
- ④ 샌프란시스코 강화 조약이 체결되었다.
- ⑤ 베트남 사회주의 공화국이 수립되었다.

20. (가), (나)에 들어갈 내용으로 적절한 것은?

한국에서는 호헌 철폐와 독재 타도를 외치는 시민 항쟁이 전개되어 □(가)

1987년에 한국과 타이완이 거둔 민주주의 성과를 각각 말씀해 주세요.

타이완에서는 국민당 정부의 독재에 저항하는 국민들의 요구로 38년 만에 □(나)



- ① (가) - 4·19 혁명이 일어났습니다.
- ② (가) - 유신 체제가 붕괴하였습니다.
- ③ (나) - 계엄령이 해제되었습니다.
- ④ (나) - 툰안먼 사건이 일어났습니다.
- ⑤ (가), (나) - 일본과 수교하였습니다.

* 확인 사항

- 답안지의 해당란에 필요한 내용을 정확히 기입(표기)했는지 확인하십시오.

학 교	고등학교
성 명	

※ 문제지 표지에 안내된 필적 확인 문구를 아래 ‘필적 확인란’에 정자로 반드시 기재하여야 합니다.

필적	
확인란	

수험번호									
학교번호					학년	반	번호		
					3				
	0	0	0	0	●	0	0	0	0
1	1	1	1	1		1	1	1	1
2	2	2	2	2		2	2	2	2
	3	3	3	3		3	3	3	3
	4	4	4	4		4	4	4	4
	5	5	5	5		5	5	5	5
	6	6	6	6		6	6	6	6
	7	7	7	7		7	7	7	7
	8	8	8	8		8	8	8	8
	9	9	9	9		9	9	9	9

감독관 확 인	(서명 또는 날인)	반, 번호 및 선택과목 번호 등의 표기가 정확 한지 반드시 확인 후 서명 또는 날인
------------	------------	---

성		명	
(빈칸없이 왼쪽부터 기재)			
ㄱ	ㄲ	ㄱ	ㄲ
ㄴ	ㄴ	ㄴ	ㄴ
ㄷ	ㄸ	ㄷ	ㄸ
ㄹ	ㄹ	ㄹ	ㄹ
ㅁ	ㅂ	ㅁ	ㅂ
ㅅ	ㅆ	ㅅ	ㅆ
ㅇ	ㅇ	ㅇ	ㅇ
ㅈ	ㅊ	ㅈ	ㅊ
ㅊ	ㅊ	ㅊ	ㅊ
ㅋ	ㅋ	ㅋ	ㅋ
ㅌ	ㅌ	ㅌ	ㅌ
ㅍ	ㅍ	ㅍ	ㅍ
ㅎ	ㅎ	ㅎ	ㅎ
ㅏ	ㅑ	ㅏ	ㅑ
ㅓ	ㅕ	ㅓ	ㅕ
ㅗ	ㅛ	ㅗ	ㅛ
ㅛ	ㅝ	ㅛ	ㅝ
ㅜ	ㅠ	ㅜ	ㅠ
ㅠ	ㅡ	ㅠ	ㅡ
ㅡ	ㅣ	ㅡ	ㅣ
ㅣ	ㅣ	ㅣ	ㅣ

사회탐구	생활과 윤리(11), 윤리와 사상(12), 한국지리(13), 세계지리(14), 동아시아사(15), 세계사(16), 정치와 법(17), 경제(18), 사회·문화(19)
과학탐구	물리학 I (20), 화학 I (21), 생명과학 I (22), 지구과학 I (23)

※ 답안지 작성(표기)은 반드시 검은색 컴퓨터용 사인펜만을 사용하고, 연필 또는 샤프 등의 필기구를 절대 사용하지 마십시오.
※ 뒷면의 수험생 주소사항을 숨겨야 하며 이를 준수하지 않을 경우 불이익을 받을 수 있습니다.

한 국 사					
문번	답 란				
1	①	②	③	④	⑤
2	①	②	③	④	⑤
3	①	②	③	④	⑤
4	①	②	③	④	⑤
5	①	②	③	④	⑤
6	①	②	③	④	⑤
7	①	②	③	④	⑤
8	①	②	③	④	⑤
9	①	②	③	④	⑤
10	①	②	③	④	⑤
11	①	②	③	④	⑤
12	①	②	③	④	⑤
13	①	②	③	④	⑤
14	①	②	③	④	⑤
15	①	②	③	④	⑤
16	①	②	③	④	⑤
17	①	②	③	④	⑤
18	①	②	③	④	⑤
19	①	②	③	④	⑤
20	①	②	③	④	⑤

제 1 선택								
선택 과목 번호		문번	답 란					
		1	①	2	3	4	5	
<div> <div>심의 자리</div> <div>일의 자리</div> </div>		2	①	2	3	4	5	
		3	①	2	3	4	5	
		4	①	2	3	4	5	
		5	①	2	3	4	5	
<div>①</div> <div>②</div> <div>③</div> <div>④</div> <div>⑤</div> <div>⑥</div> <div>⑦</div> <div>⑧</div> <div>⑨</div>	0	6	①	2	3	4	5	
	①	7	①	2	3	4	5	
	②	8	①	2	3	4	5	
	③	9	①	2	3	4	5	
	④	10	①	2	3	4	5	
	⑤	11	①	2	3	4	5	
	⑥	12	①	2	3	4	5	
	⑦	13	①	2	3	4	5	
	⑧	14	①	2	3	4	5	
<div>선택과목 번호를 반드시 확인 후 표기 (표기 오류 시 채점 불가)</div>	9	15	①	2	3	4	5	
			16	①	2	3	4	5
			17	①	2	3	4	5
			18	①	2	3	4	5
			19	①	2	3	4	5
			20	①	2	3	4	5

			제 2 선택				
			문번	답 란			
선택 과목 번호		1	①	②	③	④	⑤
		2	①	②	③	④	⑤
		3	①	②	③	④	⑤
		4	①	②	③	④	⑤
		5	①	②	③	④	⑤
십의 자리	일의 자리	6	①	②	③	④	⑤
		7	①	②	③	④	⑤
① ② ③ ④ ⑤ ⑥ ⑦ ⑧ ⑨	①	8	①	②	③	④	⑤
	②	9	①	②	③	④	⑤
	③	10	①	②	③	④	⑤
	④	11	①	②	③	④	⑤
	⑤	12	①	②	③	④	⑤
	⑥	13	①	②	③	④	⑤
	⑦	14	①	②	③	④	⑤
	⑧	15	①	②	③	④	⑤
	⑨	16	①	②	③	④	⑤
	사탐/과탐 영역간 동시선택 불가	17	①	②	③	④	⑤
18	①	②	③	④	⑤		
19	①	②	③	④	⑤		
20	①	②	③	④	⑤		