

제 4 교시


직업탐구 영역(상업 경제)

성명

수험 번호

제 [] 선택

1. 다음 기사와 관련된 국제 환경 협약으로 가장 적절한 것은?



△△(주) 직원들은 멸종 위기 종인 금개구리 등의 양서류를 보호하기 위해 경남 일대에서 ‘개구리 사다리’를 설치하는 봉사 활동을 하고 있다. 지난 13일 사다리를 타고 콘크리트 농수로를 넘어가는 개구리의 모습이 포착됐으며, 멸종 위기 종인 고리도롱뇽이 발견되기도 했다.

- ○○신문, 2022년 4월 15일 자 -

- ① 바젤 협약 ② 교토 의정서 ③ 람사르 협약
- ④ 몬트리올 의정서 ⑤ 생물 다양성 협약

2. 표는 경제 활동의 주체 A~C를 특징에 따라 구분한 것이다. A~C에 대한 설명으로 적절한 것만을 <보기>에서 고른 것은? (단, A~C는 가게, 기업, 정부 중 각각 하나에 해당한다.) [3점]

경제 활동의 주체	A	B	C
특징			
생산의 주체인가?	예	아니오	예
소비의 주체인가?	아니오	예	예
민간 경제의 주체인가?	예	예	아니오

<보 기>

ㄱ. A는 조세를 징수하여 공공 서비스를 제공한다.

ㄴ. B는 노동, 토지, 자본 등의 생산 요소를 제공한다.

ㄷ. C는 이윤의 극대화를 추구한다.

ㄹ. A~C는 국민 경제의 주체이다.

- ① ㄱ, ㄴ ② ㄱ, ㄷ ③ ㄴ, ㄷ ④ ㄴ, ㄹ ⑤ ㄷ, ㄹ

3. 다음 (가), (나)에 공통적으로 나타난 우리나라의 상업 조성 기관으로 적절한 것은?

(가) 이 기관은 1966년에 설립된 상설 법정 기관으로 국내외 상거래에서 발생하는 분쟁을 사전에 예방하고, 발생한 분쟁을 해결한다.

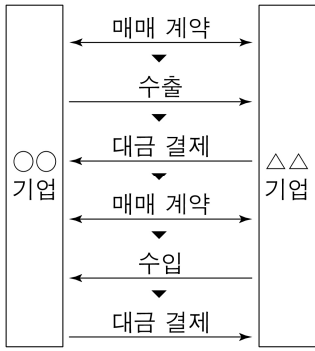
(나) 우리나라 A기업은 해외 B기업으로부터 상품 수입 후 품질 불량과 수량 부족에 대해 B기업에 타협을 요청하였으나 받아들여지지 않았다. 이에 국내외 상거래 분쟁을 해결하는 기관을 통해 분쟁을 해결하였다.

- ① 한국소비자원 ② 대한상공회의소
- ③ 대한상사중재원 ④ 공정거래위원회
- ⑤ 대한무역투자진흥공사

4. 다음 자료에서 ○○기업과 △△기업 간에 이루어진 연계 무역의 종류로 옳은 것은?

A국의 ○○기업이 B국의 △△기업에 수출하면, 그 수출의 30% 금액만큼 △△기업으로부터 수입하기로 약정하였다.

이후 별도의 수출입 계약을 통해 ○○기업은 미화 10만 달러어치의 의류를 △△기업으로 수출하고, 미화 3만 달러어치의 신발을 △△기업으로부터 수입하였다.



- ① 구상 무역 ② 대응 구매 ③ 제품 환매
- ④ 삼각 무역 ⑤ 중계 무역

5. 다음은 [A 씨의 연봉 및 보유 자산]과 [창업 계획]이다. [창업 계획]에 따른 명시적 비용과 암묵적 비용을 계산한 금액으로 옳은 것은? (단, 기회비용 계산 시 연(年) 기준으로 하고, 제시되지 않은 비용(세금 등)은 고려하지 않는다.) [3점]

직장인 A 씨는 직장을 그만두고 과일 가게 창업을 고려하고 있다. 이에 현재의 연봉 및 보유 자산을 파악하고 창업 계획에 따른 기회비용을 계산해 보았다.

[A 씨의 연봉 및 보유 자산]

- 직장 연봉 2,400만 원
- 정기 예금 1,500만 원(단리 연 2%의 금리)
- 보통 예금 1,000만 원(단리 연 1%의 금리)
- 오피스텔 임대 수입 연 240만 원

[창업 계획]

구분	내용
창업 개요	• 직장을 퇴사하고 과일 가게 창업
매장 임차 보증금 (5,000만 원)	• 정기 예금과 보통 예금 해지를 통해 확보한 2,500만 원 • 은행 대출 2,500만 원(단리 연 3%의 금리)
운영비 (1,000만 원)	• 1년 내 원금(무이자) 전액을 상환하는 창업 장려 지원금으로 운영비 1,000만 원 조달 - 매장 임시 직원 임금 700만 원 - 판매용 과일 구매 300만 원
기타	• 오피스텔 임대는 그대로 유지

	명시적 비용	암묵적 비용
①	1,075만 원	2,400만 원
②	1,075만 원	2,440만 원
③	2,575만 원	2,440만 원
④	3,575만 원	2,400만 원
⑤	3,575만 원	2,440만 원

상업 경제

2 (상업 경제)

직업탐구 영역

6. 다음 (가)에 들어갈 지급 수단에 대한 설명으로 적절한 것만을 <보기>에서 있는 대로 고른 것은?

조선 시대에 사용한 결제 수단인 ‘어험(魚驗)’은 일정 금액을 바로 지급하지 않고 일정 기간 뒤 지급할 때 쓰였습니다. ‘어험’을 작성할 때는 가운데를 지그재그 모양으로 잘라 채무자의 이름이 쓰여 있는 한쪽 표를 채권자에게 주고, 다른 한쪽 표를 채무자가 보관하다가 돈을 지불할 때가 되면 각각의 표를 맞추어 본 뒤 지불하였습니다. 이 ‘어험’은 오늘 말로 이야기하면 금전 증권의 하나인 (가)에 해당됩니다.

- 기획재정부, 『경제 역사 이야기』 일부 수정 -

<보 기>

- ㄱ. 만기에 부도가 발생할 가능성이 있는 지급 수단이다.
 ㄴ. 발행인의 자금을 예치하고 있는 은행이 지급인이 된다.
 ㄷ. 지급 수단에 횡선을 그어 분실에 따른 손해를 방지한다.

- ① ㄱ ② ㄴ ③ ㄱ, ㄷ ④ ㄴ, ㄷ ⑤ ㄱ, ㄴ, ㄷ

7. 그림의 대화에서 사용하고 있는 경쟁 매매 방법에 대한 설명으로 가장 적절한 것은?

수산물 시장에서는 여러 구매자가 오징어를 매입하기 위해 다양한 손동작으로 가격을 올려 제시하고, 이에 따라 매매 가격이 결정 되는 것으로 알고 있어요. 왜 손동작으로 가격을 제시하는 건가요?

손동작을 사용하면 간단하고 신속하게 매매 절차를 진행할 수 있어 오징어의 신선도를 유지 하는 데 유리하기 때문이죠.



- ① 적상법에 따라 결정된 가격으로 거래한다.
 ② 증권 거래소에서 증권 거래 시 사용하는 방법이다.
 ③ 관공서가 소유한 물품 처분 시 사용하는 방법이다.
 ④ 판매자들 간의 가격 경쟁을 통해 구매자가 최저 가격으로 구매 한다.
 ⑤ 다수의 판매자와 다수의 구매자 간에 동시 경쟁으로 가격이 결정된다.

8. 다음 글에 나타난 상업의 기능으로 적절한 것만을 <보기>에서 고른 것은?

서희는 큰 공간을 마련한 뒤, 장날이면 인근 촌락에서 모여 드는 곡물 등을 사서 공간에 쌓아 올리는 일부터 시작했다. 그리하여 물건이 귀해질 무렵 가격이 올랐을 때, 청진에서 돈 보따리를 들고 온 상인에게 공간 문을 열어 팔았다. 이런 식으로 서희는 삼 년 동안 자본을 두 배로 늘리는 데 성공했다.

- 박경리, 『토지』 일부 수정 -

<보 기>

- ㄱ. 인적 불일치 해소 ㄴ. 자금 불일치 해소
 ㄷ. 시간적 불일치 해소 ㄹ. 위험에 대한 경제적 손실 보상

- ① ㄱ, ㄴ ② ㄱ, ㄷ ③ ㄴ, ㄷ ④ ㄴ, ㄹ ⑤ ㄷ, ㄹ

9. 다음은 A 국이 작성한 B 국 시장 보고서이다. A 국의 입장에서 나타날 수 있는 현상으로 적절한 것만을 <보기>에서 고른 것은? (단, 환전을 전제로 하고, 경제 통합 형태는 B. Balassa의 분류에 따른다.) [3점]

시장 보고서

[경제 현황]

- A 국과 B 국은 관세 동맹이 발효 중임.
- B 국 통화 대비 A 국 통화 가치의 변동으로 인하여 B 국으로 수출하는 A 국 상품의 B 국 통화 표시 가격이 떨어지고 있으며, 이러한 현상은 앞으로도 지속될 것으로 예상됨.
- B 국은 일자리가 풍부하고 임금 수준은 A 국보다 높음.

[기대 효과]

- B 국 시장 진출 확대에 따른 A 국의 예상 GDP는 표와 같음.

A 국의 예상 GDP (단위: US억 달러)		
구분	2023년	2024년
실질 GDP	80	100

[B 국으로 수출 시 유의 사항]


- B 국의 수입업자 대부분이 영세하여 신용도가 낮으므로 A 국의 수출업자가 발행한 환어음의 지급인을 수입업자의 거래 은행으로 하는 대금 결제 방식의 선택이 요구됨.

<보 기>

- ㄱ. 2024년 A 국의 경제 성장률은 20%로 예상될 것이다.
 ㄴ. A 국의 생산 요소는 B 국으로 자유롭게 이동할 수 있을 것이다.
 ㄷ. A 국의 수출업자는 추심 방식보다 신용장 방식을 더 많이 선택할 것이다.
 ㄹ. B 국 통화 표시 외채를 갚아야 하는 A 국의 외채 상황 부담은 늘어날 것이다.

- ① ㄱ, ㄴ ② ㄱ, ㄷ ③ ㄴ, ㄷ ④ ㄴ, ㄹ ⑤ ㄷ, ㄹ

10. 그림은 판매원과 고객의 대화 장면이다. 이에 나타난 판매 기법과 방식에 대한 설명으로 적절한 것만을 <보기>에서 있는 대로 고른 것은? [3점]

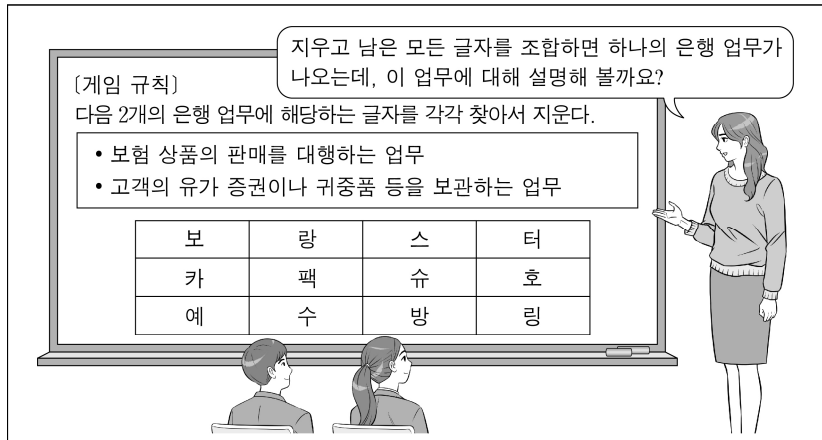


<보 기>

- ㄱ. ㉠의 판매 기법은 번들링(bundling)에 해당한다.
 ㄴ. ㉡의 판매 기법은 크로스 셀링(cross-selling)에 해당한다.
 ㄷ. 상품 특성에 따른 매장 내 상품 배치가 가능한 판매 방식 이다.

- ① ㄱ ② ㄴ ③ ㄱ, ㄷ ④ ㄴ, ㄷ ⑤ ㄱ, ㄴ, ㄷ

11. 그림은 일반 은행 업무에 대한 수업 장면이다. 교사의 물음에 대한 학생의 답변으로 적절한 것은? [3점]



- ① 국제 및 지방세의 수납을 대리하는 업무입니다.
- ② 자산 운용법에 따라 간접 투자 상품을 운용하는 업무입니다.
- ③ 기업의 판매 대금 채권의 매수·회수 및 이와 관련된 업무입니다.
- ④ 유가 증권의 발행 등 주식회사의 증권 업무를 대행하는 업무입니다.
- ⑤ 일반 대중 또는 기업 등 불특정 다수로부터 예탁을 받아 자금을 관리하는 업무입니다.

- [12~13] 다음은 ○○(주)의 자금 조달 계획서이다. 물음에 답하시오.

○○(주) 자금 조달 계획서

- 현재 상황: 엔터테인먼트 사업 호조로 매출 및 영업 이익이 급성장하고 있으나 사업 영역 확장을 통해 새롭게 도약할 필요성이 있음.
- 자금 조달 목적: 신사업 진출을 위해 메타버스·NFT 업체인 △△(주)를 인수·합병(M&A)하여 사업 영역을 확장하고자 함.
- 조달 자금 총액: 900억 원
- 자금 조달 방안
 - 유상 증자 400억 원
 - 은행 대출 200억 원
 - 회사채 발행 300억 원

12. 위 ○○(주)의 자금 조달 방안에 대한 설명으로 옳은 것만을 <보기>에서 고른 것은? [3점]

<보 기>

ㄱ. 증권 발행 시장에서 조달할 금액은 300억 원이다.
 ㄴ. 자기 자본보다 타인 자본으로 조달할 금액이 100억 원 더 적다.
 ㄷ. 조달할 금액은 간접 금융 시장에서 200억 원, 직접 금융 시장에서 700억 원이다.
 ㄹ. 자본 증권으로 조달할 금액 중 이자 지급 방식보다 배당금 지급 방식이 100억 원 더 많다.

- ① ㄱ, ㄴ ② ㄱ, ㄷ ③ ㄴ, ㄷ ④ ㄴ, ㄹ ⑤ ㄷ, ㄹ

13. 위 ○○(주)의 자금 조달 계획서에 나타난 경영 혁신 기법으로 적절한 것은?

- ① 벤치마킹 ② 아웃소싱 ③ 다운사이징
 ④ 식스 시그마 ⑤ 리스트럭처링

14. 다음은 우리나라 국제수지 관련 [수행 과제]와 학생 갑~정의 [답안지]이다. 이 [답안지]에 대한 설명으로 옳은 것은? (단, 제시된 하반기 대외 거래 내역은 거주자와 비거주자 간 거래이고, 금융 계정은 고려하지 않는다.) [3점]

[수행 과제]

가상으로 만든 상반기 국제수지에 하반기 대외 거래 내역을 반영하여 국제수지 항목별 수지의 변화를 알아보고자 한다. 하반기 대외 거래 내역의 외화 수취와 외화 지급에서 동일한 국제수지 항목에 계상되는 사례(C1~C4, D1~D4)를 각각 하나씩 선택하여 답안지에 쓰시오.

- 상반기 국제수지 (단위: US억 달러)

상품수지	서비스수지	본원소득수지	이전소득수지	자본수지
220	-200	20	-10	15

- 하반기 대외 거래 내역

외화 수취 (Credit)	C1 재미 교포가 납부한 상속세 3억 달러	C2 외화 증권 보유에 따른 이자 2억 달러	C3 해외 생산 설비 건설 대금 2억 달러	C4 해외 거주 국민으로부터의 송금 3억 달러
	D1 수출 화물의 항공 운임 4억 달러	D2 환경 보호 단체 기부금 1억 달러	D3 외국인 근로자의 급여 2억 달러	D4 상표권을 취득한 대금 2억 달러
외화 지급 (Debit)				

[답안지]

학생	갑	을	병	정
선택한 사례	C1, D3	C2, D2	C3, D1	C4, D4

※ 학생 갑~정 중에는 정답자와 오답자가 있음.

- ① 갑이 선택한 사례는 모두 본원소득수지에 속한다.
- ② 을이 C2 대신 C4 사례를 선택하면 정답자가 된다.
- ③ 병이 선택한 사례는 FOB 가격 조건으로 금액을 산출한다.
- ④ 정이 선택한 사례만을 상반기 국제수지에 반영하여 누계한 경상수지는 31억 달러 흑자이다.
- ⑤ 정답자가 선택한 사례만을 상반기 국제수지에 반영하여 누계한 국제수지의 흑자 폭은 상반기 국제수지 대비 확대된다.

15. 다음 식료품 판매 기업인 ○○(주)가 수행한 A~D 경영 활동을 경영 관리 순환 과정의 순서대로 바르게 배열한 것은? (단, A~D는 계획, 조직, 지휘, 통제 중 각각 하나에 속하는 활동이다.) [3점]

경영 활동	내용
A	매년 10% 이상의 영업 이익 증가율을 목표로 설정한다.
B	지점별로 분기별 매출 실적을 분석하여 식료품 판매 목표 달성 여부를 파악한다.
C	식료품 매출액에 대한 책임과 권한 부여를 위해 지점별로 독립채산제 운영이 가능한 구조를 적용한다.
D	최고 경영자는 구성원에게 국민 건강에 기여하는 기업에 근무한다는 자부심을 갖도록 동기를 부여한다.

- ① A-B-C-D ② A-C-B-D
 ③ A-C-D-B ④ C-A-B-D
 ⑤ C-A-D-B

16. 다음은 ○○(주)의 마케팅 믹스(4P's) 요소 관련 대화이다. 이를 통해 ○○(주)가 새로 수립해야 할 마케팅 믹스 요소의 실행 방안으로 적절한 것만을 <보기>에서 고른 것은?

마케팅 팀장: 최근 우리 ○○(주)의 매출액 감소를 해결하기 위해 어떤 마케팅 믹스 요소를 개선해야 할까요?
A 사원: 우리 제품은 경쟁사의 제품에 비해 가격 경쟁력이 높지만, 제품의 성능은 떨어지고 있다는 평가를 받고 있습니다.
B 사원: TV 광고를 통해 소비자가 우리 제품을 잘 인식하고 있으나, 일정한 지역에 일정한 자격 요건을 갖춘 거래처에서만 판매하다 보니 소비자들의 매장 접근성이 떨어지고 있습니다.
마케팅 팀장: 말씀하신 마케팅 믹스 요소 중 긍정적인 요소는 그대로 유지하되, 문제가 되는 요소만 개선할 수 있는 실행 방안을 새로 수립하도록 합시다.

<보 기>

- ㄱ. 옥외 광고 및 점두 광고를 확대한다.
ㄴ. 새로운 기능을 개발하여 제품에 적용한다.
ㄷ. 선택적 유통 경로에서 개방적 유통 경로로 변경한다.
ㄹ. 시장 점유율을 높이기 위해 판매 가격을 인하한다.

- ① ㄱ, ㄴ ② ㄱ, ㄷ ③ ㄴ, ㄷ ④ ㄴ, ㄹ ⑤ ㄷ, ㄹ

17. 다음은 ○○(주)에 대한 컨설팅 보고서이다. 이에 대한 설명으로 적절한 것만을 <보기>에서 고른 것은? [3점]

컨설팅 보고서

1. 기업 개요

- 기업명: ○○(주) •사업 분야: 식품 제조 및 판매

2. 컨설팅 결과

- 경영 환경 분야

(가)	일부 지자체 행정구역 개편에 관한 법률 개정으로 ○○(주) 제품의 제조원 표시를 △△군에서 □□시로 변경 필요
(나)	○○(주)가 판매하는 제품을 취급하는 다수의 도·소매상 확보 필요

- 경영 관리 분야

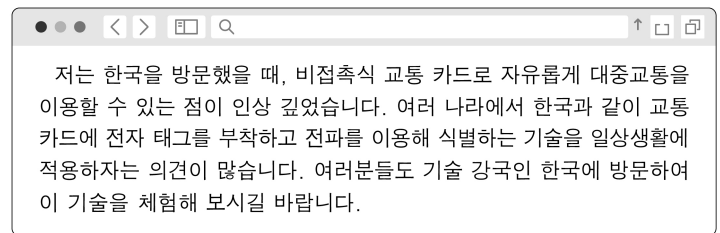
현재의 A 조직은 기능별 전문 관리자가 지휘·감독하는 조직으로 구성원의 기능적 능력이 뛰어난다. 그러나 탄력적인 인력 운용을 위해 A 조직에 프로젝트 조직을 절충한 B 조직으로의 변경이 필요하다.

<보 기>

- ㄱ. (가)는 일반 환경 요인 중 경제적 환경에 해당한다.
ㄴ. (나)는 과업 환경 요인 중 유통업자에 해당한다.
ㄷ. A 조직은 라인 조직에 전문성을 지닌 참모가 추가되는 조직이다.
ㄹ. B 조직은 조직 구성원 한 사람이 두 부서에 동시에 소속되어 통합적인 협력이 가능하다.

- ① ㄱ, ㄴ ② ㄱ, ㄷ ③ ㄴ, ㄷ ④ ㄴ, ㄹ ⑤ ㄷ, ㄹ

18. 다음은 한국을 방문했던 외국인이 작성한 SNS 내용이다. 이에 나타난 물류 정보 기술로 가장 적절한 것은?



- ① 전자문서교환(EDI) ② 판매시점관리(POS)
③ 유닛로드시스템(ULS) ④ 전사적자원관리(ERP)
⑤ 무선주파수식별(RFID)

[19~20] 다음은 수출업자인 A 기업과 수입업자인 B 기업이 체결한 매매 계약 내용과 그에 따라 발행된 해상보험증권의 내용이다. 물음에 답하십시오. (단, 가격 조건은 인코텀스 2010에 의한다.)

매매 계약 내용

- 품명: 원목 •수량 조건: 50 M/T
•가격 조건: DDP New York •결제 조건: At sight L/C
•선적 조건: 10월, 분할 선적 허용 •품질 조건: GMQ
•과부족 용인조항: 허용 여부 언급 없음.

해상보험증권

피보험자	A 기업	보험 금액	US \$10,000
보험 목적물	원목 50 M/T	보험 조건	ICC(A)
출발지	부산	도착지	뉴욕

※ 단, 보험 가액은 US \$12,000이고, 비례 보상 원칙을 적용함.

19. 위 매매 계약 내용에 나타난 무역 거래 조건에 대한 설명으로 옳은 것은? [3점]

- ① A 기업은 임의로 10월 중 여러 번 나누어 선적할 수 있다.
② A 기업은 선적 완료 시까지 평균 중등 품질을 유지해야 한다.
③ B 기업은 뉴욕에서 수입 통관 및 관세를 지불해야 한다.
④ B 기업에게 원목 48M/T이 인도되면 수량 조건 위반이다.
⑤ A 기업과 B 기업 간 물품 위험 분기점은 선적항의 본선 상이다.

20. 위 해상보험증권에 대한 설명으로 옳은 것만을 <보기>에서 고른 것은?

<보 기>

- ㄱ. 전손으로 추정되는 손해는 담보 위험 범위에 포함된다.
ㄴ. US \$3,000어치의 화물손해 발생 시, 보험금은 US \$2,500이다.
ㄷ. 구협회적화약관 전위험 담보 조건으로 보험의 보장 범위가 가장 넓다.
ㄹ. A 기업은 피보험 이익을 가지며, B 기업은 해상 보험 사고 시 보험금을 받는다.

- ① ㄱ, ㄴ ② ㄱ, ㄷ ③ ㄴ, ㄷ ④ ㄴ, ㄹ ⑤ ㄷ, ㄹ

* 확인 사항

- 답안지의 해당란에 필요한 내용을 정확히 기입(표기)했는지 확인하십시오.