

제 4 교시

과학탐구 영역(지구과학 I)

성명

수험 번호

제 [] 선택

1. 다음은 어느 지층의 퇴적 구조에 대한 학생 A, B, C의 대화를 나타낸 것이다.

(가)

특징: 층리가 평행하지 않고 비스듬히 기울어져 보임.

(나)

특징: 물결 모양의 흔적이 지층에 남아 있음.

(가)로부터 퇴적물이 공급된 방향을 알 수 있어.

학생 A

(나)는 층리면을 관찰한 거야.

학생 B


(가)와 (나)는 주로 역암층에서 나타나.

학생 C

제시한 내용이 옳은 학생만을 있는 대로 고른 것은?

- ① A ② C ③ A, B ④ B, C ⑤ A, B, C

2. 그림 (가), (나), (다)는 습곡, 포획, 절리를 순서 없이 나타낸 것이다.



이에 대한 설명으로 옳은 것만을 <보기>에서 있는 대로 고른 것은? [3점]

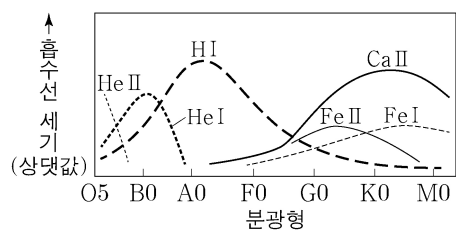
<보 기>

- ㄱ. (가)는 (나)보다 깊은 곳에서 형성되었다.
 ㄴ. (나)는 수축에 의해 형성되었다.
 ㄷ. (다)에서 A는 B보다 먼저 생성되었다.

- ① ㄱ ② ㄷ ③ ㄱ, ㄴ ④ ㄴ, ㄷ ⑤ ㄱ, ㄴ, ㄷ

3. 그림은 별의 분광형에 따른 흡수선의 상대적 세기를 나타낸 것이다.

이 자료에 대한 설명으로 옳은 것만을 <보기>에서 있는 대로 고른 것은?



<보 기>

- ㄱ. 흰색 별에서 H I 흡수선이 Ca II 흡수선보다 강하게 나타난다.
 ㄴ. 주계열에서 B0형보다 표면 온도가 높은 별일수록 H I 흡수선의 세기가 강해진다.
 ㄷ. 태양과 광도가 같고 반지름이 작은 별의 Ca II 흡수선은 G2형 별보다 강하게 나타난다.

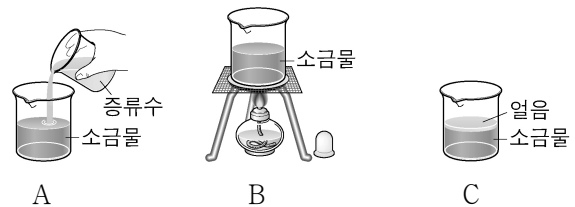
- ① ㄱ ② ㄴ ③ ㄱ, ㄷ ④ ㄴ, ㄷ ⑤ ㄱ, ㄴ, ㄷ

4. 다음은 해수의 염분에 영향을 미치는 요인을 알아보기 위한 실험이다.

[실험 과정]

- (가) 염분이 34.5psu인 소금물 900mL를 만들고, 3개의 비커에 각각 300mL씩 나눠 담는다.
 (나) 각 비커의 소금물에 다음과 같이 각각 다른 과정을 수행한다.

과정	실험 방법
A	증류수 100mL를 넣어 섞는다.
B	10분간 가열하여 증발시킨다.
C	표층이 얼음으로 덮일 정도까지 천천히 얼린다.



- (다) 각 비커에 있는 소금물의 염분을 측정하여 기록한다.

[실험 결과]

과정	A	B	C
염분(psu)	㉠	㉡	㉢

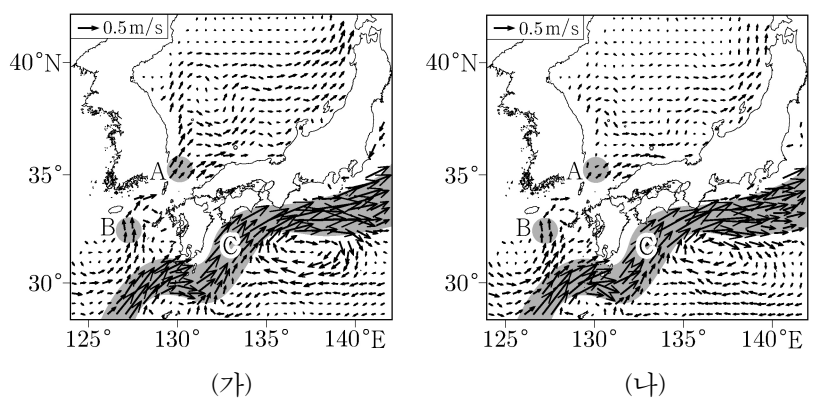
이에 대한 설명으로 옳은 것만을 <보기>에서 있는 대로 고른 것은? [3점]

<보 기>

- ㄱ. 담수의 유입에 의한 염분 변화를 알아보기 위한 과정은 A에 해당한다.
 ㄴ. 실험 결과에서 34.5보다 큰 값은 ㉡과 ㉢이다.
 ㄷ. 남극 저층수가 형성되는 과정은 C에 해당한다.

- ① ㄱ ② ㄴ ③ ㄱ, ㄷ ④ ㄴ, ㄷ ⑤ ㄱ, ㄴ, ㄷ

5. 그림 (가)와 (나)는 서로 다른 계절에 관측된 우리나라 주변 표층 해류의 평균 속력과 이동 방향을 나타낸 것이다.



이 자료에 대한 설명으로 옳은 것만을 <보기>에서 있는 대로 고른 것은?

<보 기>

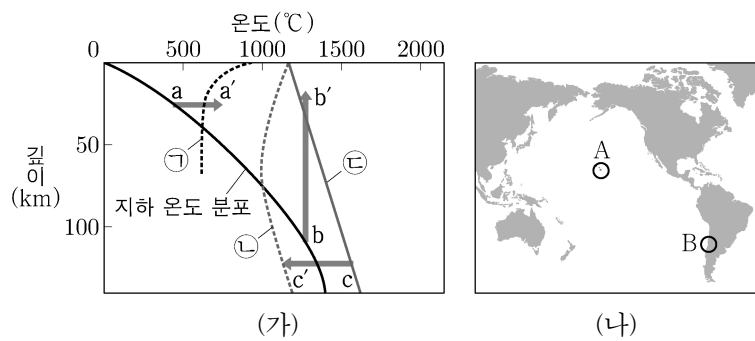
- ㄱ. (가)와 (나)의 평균 속력 차는 해역 A보다 B에서 크다.
 ㄴ. 동한 난류의 평균 속력은 (나)보다 (가)가 빠르다.
 ㄷ. 해역 C에 흐르는 해류는 북태평양 아열대 순환의 일부이다.

- ① ㄱ ② ㄴ ③ ㄷ ④ ㄱ, ㄴ ⑤ ㄴ, ㄷ

2 (지구과학 I)

과학탐구 영역

6. 그림 (가)는 지하 온도 분포와 암석의 용융 곡선 ㉠, ㉡, ㉢을, (나)는 마그마가 분출되는 지역 A와 B를 나타낸 것이다.



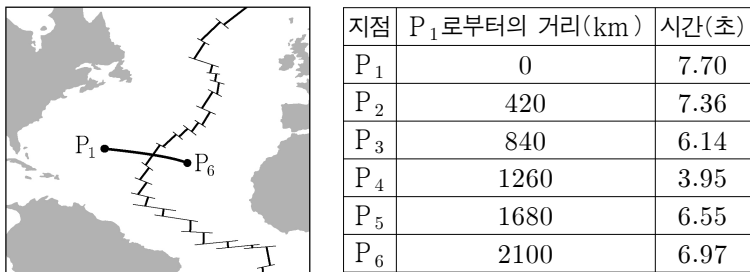
이에 대한 설명으로 옳은 것만을 <보기>에서 있는 대로 고른 것은?

<보 기>

ㄱ. (가)에서 물이 포함된 암석의 용융 곡선은 ㉠과 ㉡이다.
 ㄴ. B에서는 주로 현무암질 마그마가 분출된다.
 ㄷ. A에서 분출되는 마그마는 주로 $c \rightarrow c'$ 과정에 의해 생성된다.

- ① ㄱ ② ㄴ ③ ㄷ ④ ㄱ, ㄷ ⑤ ㄴ, ㄷ

7. 그림은 대서양의 해저면에서 판의 경계를 가로지르는 $P_1 - P_6$ 구간을, 표는 각 지점의 연직 방향에 있는 해수면상에서 음파를 발사하여 해저면에 반사되어 되돌아오는 데 걸리는 시간을 나타낸 것이다.



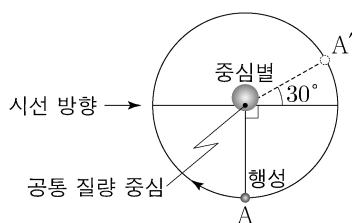
이 자료에 대한 설명으로 옳은 것만을 <보기>에서 있는 대로 고른 것은? (단, 해수에서 음파의 속도는 일정하다.)

<보 기>

ㄱ. 수심은 P_6 이 P_4 보다 깊다.
 ㄴ. $P_3 - P_5$ 구간에는 발산형 경계가 있다.
 ㄷ. 해양 지각의 나이는 P_4 가 P_2 보다 많다.

- ① ㄱ ② ㄷ ③ ㄱ, ㄴ ④ ㄴ, ㄷ ⑤ ㄱ, ㄴ, ㄷ

8. 그림은 어느 외계 행성과 중심별이 공통 질량 중심을 중심으로 공전하는 모습을 나타낸 것이다. 행성은 원 궤도를 따라 공전하며, 공전 궤도면은 관측자의 시선 방향과 나란하다.




이에 대한 설명으로 옳은 것만을 <보기>에서 있는 대로 고른 것은?

<보 기>

ㄱ. 식 현상을 이용하여 행성의 존재를 확인할 수 있다.
 ㄴ. 행성이 A를 지날 때 중심별의 청색 편이가 나타난다.
 ㄷ. 중심별의 어느 흡수선의 파장 변화 크기는 행성이 A를 지날 때가 A' 를 지날 때의 2배이다.

- ① ㄱ ② ㄴ ③ ㄱ, ㄷ ④ ㄴ, ㄷ ⑤ ㄱ, ㄴ, ㄷ

9. 그림 (가), (나), (다)는 각각 세이퍼트은하, 퀘이사, 전파 은하의 영상을 나타낸 것이다. (가)와 (나)는 가시광선 영상이고, (다)는 가시광선과 전파로 관측하여 합성한 영상이다.



(가) (나) (다)

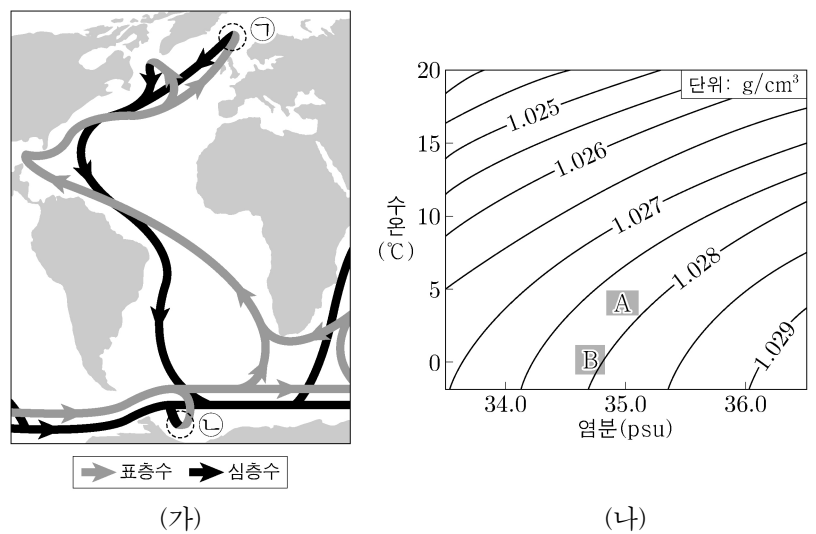
이 자료에 대한 설명으로 옳은 것만을 <보기>에서 있는 대로 고른 것은? [3점]

<보 기>

ㄱ. (가)와 (다)의 은하 중심부 별들의 회전축은 관측자의 시선 방향과 일치한다.
 ㄴ. 각 은하의 $\frac{\text{중심부의 밝기}}{\text{전체의 밝기}}$ 는 (나)의 은하가 가장 크다.
 ㄷ. (다)의 제트는 은하의 중심에서 방출되는 별들의 흐름이다.

- ① ㄱ ② ㄴ ③ ㄷ ④ ㄱ, ㄴ ⑤ ㄴ, ㄷ

10. 그림 (가)는 대서양의 해수 순환의 모식도를, (나)는 ㉠과 ㉡에서 형성되는 각각의 수괴를 수온-염분도에 A와 B로 순서 없이 나타낸 것이다.



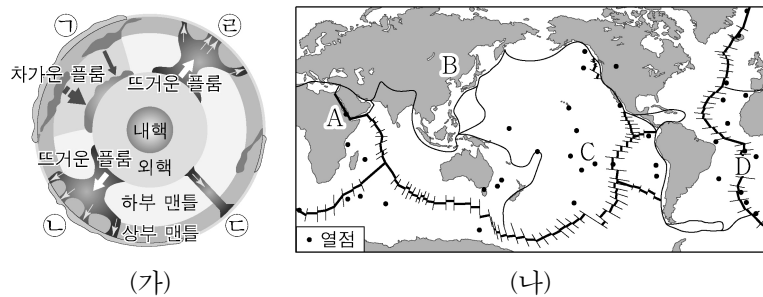
이에 대한 설명으로 옳은 것만을 <보기>에서 있는 대로 고른 것은? [3점]

<보 기>

ㄱ. ㉡에서 형성되는 수괴는 A에 해당한다.
 ㄴ. A와 B는 심층 해수에 산소를 공급한다.
 ㄷ. 심층 순환은 표층 순환보다 느리다.

- ① ㄱ ② ㄴ ③ ㄱ, ㄷ ④ ㄴ, ㄷ ⑤ ㄱ, ㄴ, ㄷ

11. 그림 (가)는 지구의 플룸 구조 모식도이고, (나)는 판의 경계와 열점의 분포를 나타낸 것이다. (가)의 ㉠~㉣은 플룸이 상승하거나 하강하는 곳이고, 이들의 대략적 위치는 각각 (나)의 A~D 중 하나이다.



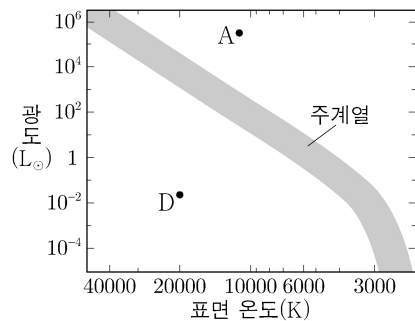
이에 대한 설명으로 옳은 것만을 <보기>에서 있는 대로 고른 것은? [3점]

- <보 기>
- ㄱ. A는 ㉠에 해당한다.
 ㄴ. 열점은 판과 같은 방향과 속력으로 움직인다.
 ㄷ. 대규모의 뜨거운 플룸은 맨틀과 외핵의 경계부에서 생성된다.

- ① ㄱ ② ㄷ ③ ㄱ, ㄴ ④ ㄴ, ㄷ ⑤ ㄱ, ㄴ, ㄷ

12. 표는 질량이 서로 다른 별 A~D의 물리적 성질을, 그림은 별 A와 D를 H-R도에 나타낸 것이다. L_{\odot} 는 태양 광도이다.

별	표면 온도 (K)	광도 (L_{\odot})
A	()	()
B	3500	100000
C	20000	10000
D	()	()



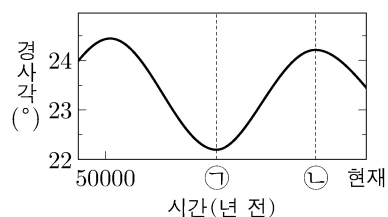
이 자료에 대한 설명으로 옳은 것만을 <보기>에서 있는 대로 고른 것은? [3점]

- <보 기>
- ㄱ. A와 B는 적색 거성이다.
 ㄴ. 반지름은 $B > C > D$ 이다.
 ㄷ. C의 나이는 태양보다 적다.

- ① ㄱ ② ㄷ ③ ㄱ, ㄴ ④ ㄴ, ㄷ ⑤ ㄱ, ㄴ, ㄷ

13. 그림은 지구 자전축 경사각의 변화를 나타낸 것이다.

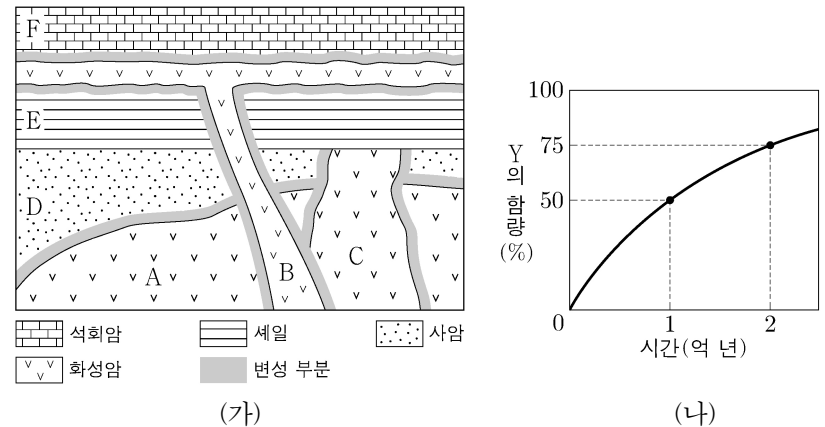
이에 대한 설명으로 옳은 것만을 <보기>에서 있는 대로 고른 것은? (단, 지구 자전축 경사각 이외의 요인은 변하지 않는다.)



- <보 기>
- ㄱ. 30°S 에서 기온의 연교차는 현재가 ㉠ 시기보다 작다.
 ㄴ. 30°N 에서 겨울철 태양의 남중 고도는 현재가 ㉠ 시기보다 높다.
 ㄷ. 1년 동안 지구에 입사하는 평균 태양 복사 에너지량은 ㉠ 시기가 ㉡ 시기보다 많다.

- ① ㄱ ② ㄴ ③ ㄷ ④ ㄱ, ㄴ ⑤ ㄱ, ㄷ

14. 그림 (가)는 어느 지역의 지질 단면을, (나)는 방사성 원소 X에 의해 생성된 자원소 Y의 함량을 시간에 따라 나타낸 것이다. 화성암 A, B, C에는 X와 Y가 포함되어 있으며, Y는 모두 X의 붕괴 결과 생성되었다. 현재 C에 있는 X와 Y의 함량은 같다.

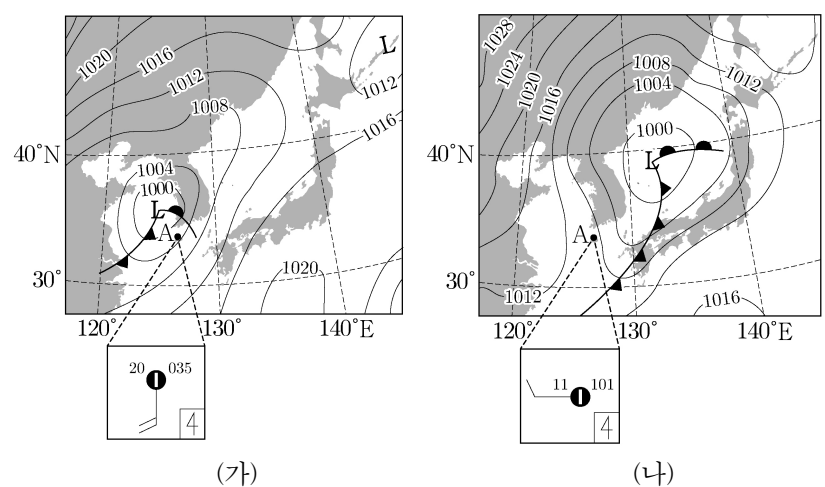


이에 대한 설명으로 옳은 것만을 <보기>에서 있는 대로 고른 것은? [3점]

- <보 기>
- ㄱ. D는 화폐석이 변성하던 시대에 생성되었다.
 ㄴ. $\frac{Y \text{의 함량}}{X \text{의 함량}}$ 은 A가 B보다 크다.
 ㄷ. 암석의 생성 순서는 $D \rightarrow A \rightarrow C \rightarrow E \rightarrow B \rightarrow F$ 이다.

- ① ㄱ ② ㄴ ③ ㄷ ④ ㄱ, ㄴ ⑤ ㄴ, ㄷ

15. 그림 (가)와 (나)는 어느 온대 저기압이 우리나라를 지날 때 12시간 간격으로 작성한 기상 일기도를 순서대로 나타낸 것이다. 일기 기호는 A 지점에서 관측한 기상 요소를 표시한 것이다.



이 자료에 대한 설명으로 옳은 것만을 <보기>에서 있는 대로 고른 것은?

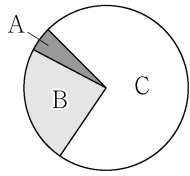
- <보 기>
- ㄱ. A 지점의 풍향은 시계 방향으로 바뀌었다.
 ㄴ. 한랭 전선이 통과한 후에 A에서의 기온은 9°C 하강하였다.
 ㄷ. 온난 전선면과 한랭 전선면은 각각 전선으로부터 지표상의 공기가 더 차가운 쪽에 위치한다.

- ① ㄱ ② ㄷ ③ ㄱ, ㄴ ④ ㄴ, ㄷ ⑤ ㄱ, ㄴ, ㄷ

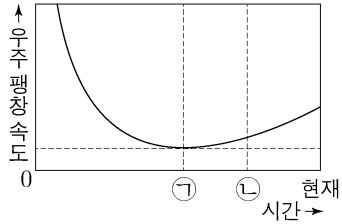
4 (지구과학 I)

과학탐구 영역

16. 그림 (가)는 현재 우주를 구성하는 요소 A, B, C의 상대적 비율을 나타낸 것이고, (나)는 빅뱅 이후 현재까지 우주의 팽창 속도를 추정하여 나타낸 것이다. A, B, C는 각각 보통 물질, 암흑 물질, 암흑 에너지 중 하나이다.



(가)



(나)

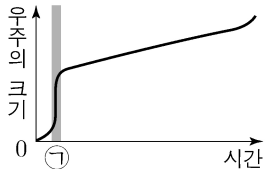
이에 대한 설명으로 옳은 것만을 <보기>에서 있는 대로 고른 것은? [3점]

<보 기>


- ㄱ. 우주가 팽창하는 동안 C가 차지하는 비율은 증가한다.
 ㄴ. ㉠ 시기에 우주는 팽창하지 않았다.
 ㄷ. 우주 팽창에 미치는 B의 영향은 ㉡ 시기가 ㉠ 시기보다 크다.

- ① ㄱ ② ㄴ ③ ㄷ ④ ㄱ, ㄴ ⑤ ㄱ, ㄷ

17. 그림 (가)는 우주론 A에 의한 우주의 크기를, (나)는 우주론 B에 의한 우주의 온도를 나타낸 것이다. A와 B는 우주 팽창을 설명한다.



(가)



(나)

이에 대한 설명으로 옳은 것만을 <보기>에서 있는 대로 고른 것은?

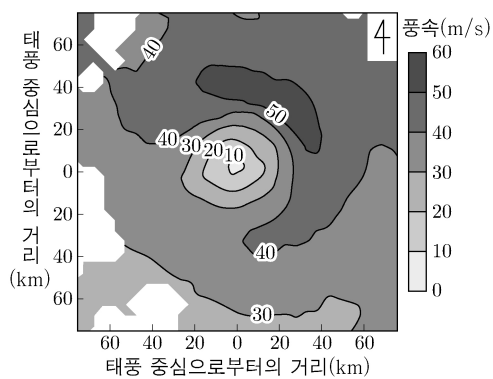
<보 기>

- ㄱ. 우주 배경 복사가 우주의 양쪽 반대편 지평선에서 거의 같게 관측되는 것은 (가)의 ㉠ 시기에 일어난 팽창으로 설명된다.
 ㄴ. A는 수소와 헬륨의 질량비가 거의 3:1로 관측되는 결과와 부합된다.
 ㄷ. 우주의 밀도 변화는 B가 A보다 크다.

- ① ㄱ ② ㄷ ③ ㄱ, ㄴ ④ ㄴ, ㄷ ⑤ ㄱ, ㄴ, ㄷ

18. 그림은 북반구 해상에서 관측한 태풍의 하층(고도 2km 수평면) 풍속 분포를 나타낸 것이다.

이에 대한 설명으로 옳은 것만을 <보기>에서 있는 대로 고른 것은? (단, 등압선은 태풍의 이동 방향 측에 대해 대칭이라고 가정한다.) [3점]

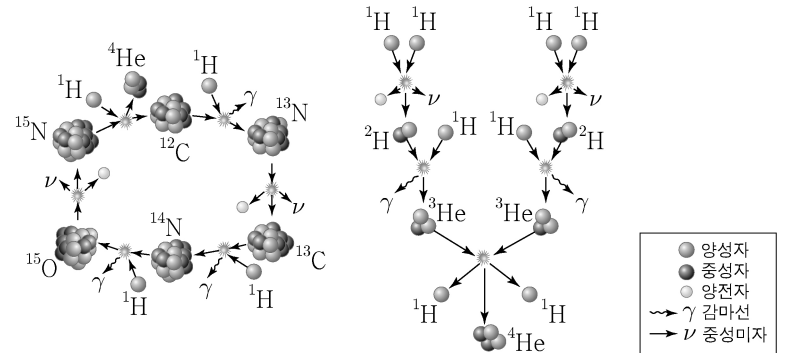


<보 기>

- ㄱ. 태풍은 북동 방향으로 이동하고 있다.
 ㄴ. 태풍 중심 부근의 해역에서 수온 약층의 차가운 물이 용승한다.
 ㄷ. 태풍의 상층 공기는 반시계 방향으로 불어 나간다.

- ① ㄱ ② ㄴ ③ ㄷ ④ ㄱ, ㄴ ⑤ ㄴ, ㄷ

19. 그림 (가)와 (나)는 주계열에 속한 별 A와 B에서 우세하게 일어나는 핵융합 반응을 각각 나타낸 것이다.



(가)

(나)

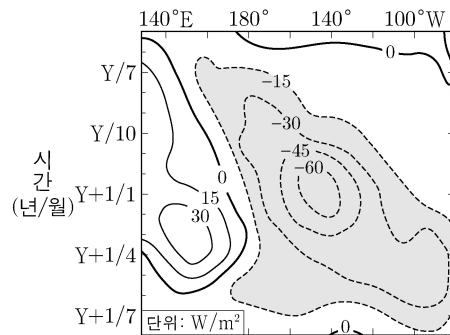
이에 대한 설명으로 옳은 것만을 <보기>에서 있는 대로 고른 것은?

<보 기>

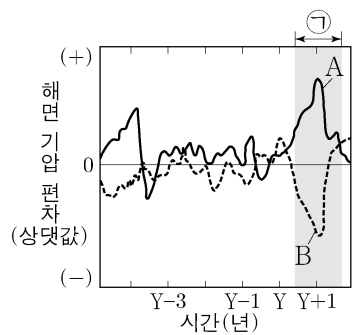
- ㄱ. 별의 내부 온도는 A가 B보다 높다.
 ㄴ. (가)에서 ^{12}C 는 촉매이다.
 ㄷ. (가)와 (나)에 의해 별의 질량은 감소한다.

- ① ㄱ ② ㄷ ③ ㄱ, ㄴ ④ ㄴ, ㄷ ⑤ ㄱ, ㄴ, ㄷ

20. 그림 (가)는 어느 해(Y)에 시작된 엘니뇨 또는 라니냐 시기 동안 태평양 적도 부근에서 기상위성으로 관측한 적외선 방출 복사 에너지의 편차(관측값 - 평년값)를, (나)는 서태평양과 동태평양에 위치한 각 지점의 해면 기압 편차(관측값 - 평년값)를 나타낸 것이다. (가)의 시기는 (나)의 ㉠에 해당한다.



(가)



(나)

이 자료에 근거해서 평년과 비교할 때, (가) 시기에 대한 설명으로 옳은 것만을 <보기>에서 있는 대로 고른 것은? [3점]

<보 기>

- ㄱ. 동태평양에서 두꺼운 적운형 구름의 발생이 줄어든다.
 ㄴ. 워커 순환이 약화된다.
 ㄷ. (나)의 A는 서태평양에 해당한다.

- ① ㄱ ② ㄴ ③ ㄱ, ㄷ ④ ㄴ, ㄷ ⑤ ㄱ, ㄴ, ㄷ

* 확인 사항

○ 답안지의 해당란에 필요한 내용을 정확히 기입(표기)했는지 확인 하시오.