

제 4 교시

사회탐구 영역(세계지리)

성명

수험 번호


제 [] 선택

1. 다음 자료의 (가), (나)에 들어갈 내용으로 가장 적절한 것은?

<세계화 시대의 지역화 전략>

○ (가)의 사례
포르투갈 도시 포르투(Porto)를 상징하는 독특한 파란색은 이 지역의 유명한 도자기 타일인 '아줄레주'의 색에서 착안한 것이다. 이 색을 활용한 'Porto.'를 도안하여 도시를 상징하는 대표적인 디자인으로 사용하고 있다.

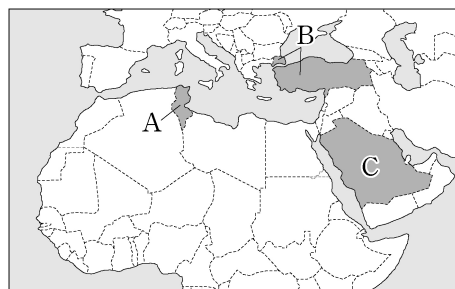
○ (나)의 사례
유럽 연합(EU)은 특정 마을, 도시 또는 지역 내에서 생산·제조·가공된 농수산물 및 식품임을 표시하여 보호하는 제도를 시행하고 있다. 세계적으로 유명한 이탈리아 캄파냐 지방의 '모차렐라 디 부팔라 캄파나(Mozzarella di Bufala Campana)' 치즈는 이 제도의 적용을 받고 있다.



- | (가) | (나) |
|---------------|-------------|
| ① 다국적 기업의 현지화 | 지리적 표시제 |
| ② 다국적 기업의 현지화 | 지역 브랜드화 |
| ③ 지리적 표시제 | 다국적 기업의 현지화 |
| ④ 지역 브랜드화 | 다국적 기업의 현지화 |
| ⑤ 지역 브랜드화 | 지리적 표시제 |

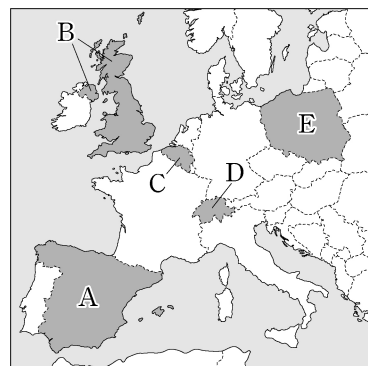
2. 다음 자료는 세 국가의 주화에 대한 설명이다. (가)~(다)에 해당하는 국가를 지도의 A~C에서 고른 것은? [3점]

(가)	(나)	(다)
		
주화에 유럽과 아시아를 연결하는 다리가 새겨져 있다. 주화 속 다리는 이 국가의 이스탄불 보스포루스 해협에 건설되었다.	주화에 신성한 두 모스크의 수호자라는 뜻의 문구가 새겨져 있다. 문구 속 두 모스크는 이 국가의 메카와 메디나에 하나씩 있다.	주화에 코르크참나무가 새겨져 있다. 이 나무는 수목 농업의 대표적인 경엽수로 지중해에 접한 이 국가의 북부 지역에서 볼 수 있다.



- | | (가) | (나) | (다) |
|---|-----|-----|-----|
| ① | A | C | B |
| ② | B | A | C |
| ③ | B | C | A |
| ④ | C | A | B |
| ⑤ | C | B | A |

3. 지도의 A~E 국가에 대한 설명으로 옳은 것만을 <보기>에서 고른 것은?

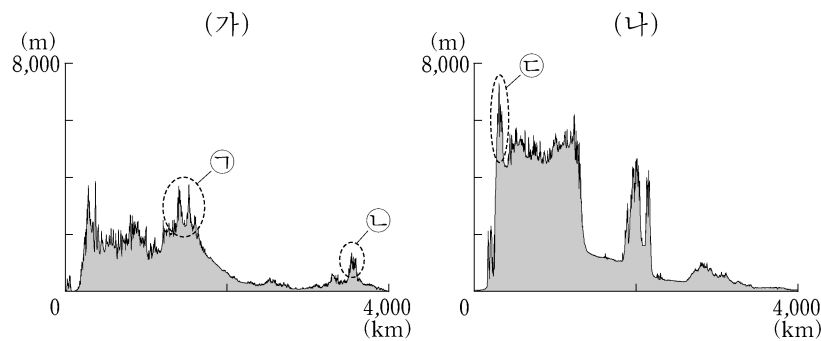


<보 기>

- ㄱ. A의 카탈루냐 지역은 고유한 언어와 문화를 가지고 있다.
 ㄴ. B의 파다니아 지역에서는 분리 독립 움직임이 있다.
 ㄷ. C는 복수의 공용어를 사용하는 국가이다.
 ㄹ. D와 E는 유럽 연합(EU) 가입국이다.

- ① ㄱ, ㄴ ② ㄱ, ㄷ ③ ㄴ, ㄷ ④ ㄴ, ㄹ ⑤ ㄷ, ㄹ

4. 그림은 지도에 표시된 A, B 두 구간의 지형 단면을 나타낸 것이다. 이에 대한 설명으로 옳은 것만을 <보기>에서 고른 것은? (단, (가), (나)는 각각 A, B 중 하나이며, ㉠~㉣은 각각 로키산맥, 애팔래치아산맥, 히말라야산맥의 일부 중 하나임.) [3점]



<보 기>

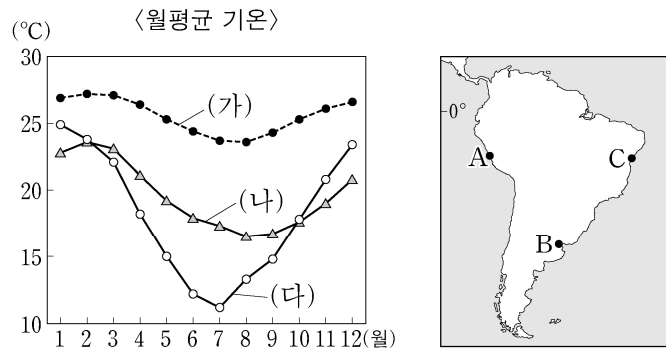
- ㄱ. ㉠은 환태평양 조산대에 속한다.
 ㄴ. ㉢은 대륙판과 해양판이 수렴하여 형성되었다.
 ㄷ. ㉠은 ㉡보다 형성 시기가 이르다.
 ㄹ. (가)는 B의 단면을 나타낸 것이다.

- ① ㄱ, ㄴ ② ㄱ, ㄷ ③ ㄴ, ㄷ ④ ㄴ, ㄹ ⑤ ㄷ, ㄹ

2 (세계지리)

사회탐구 영역

5. 그래프의 (가)~(다)에 해당하는 지역을 지도의 A~C에서 고른 것은? [3점]



- | | (가) | (나) | (다) | | (가) | (나) | (다) |
|---|-----|-----|-----|---|-----|-----|-----|
| ① | A | B | C | ② | A | C | B |
| ③ | B | A | C | ④ | C | A | B |
| ⑤ | C | B | A | | | | |

6. 다음 글의 (가)~(다)에 대한 설명으로 옳은 것만을 <보기>에서 고른 것은? (단, (가)~(다)는 각각 돌리네, 석회동굴, 탑 카르스트 중 하나임.)

세계 유산인 할롱 베이는 베트남 북동쪽에 위치한 만이다. 이곳은 기반암이 용식을 받고 남은 봉우리인 (가) 이/가 발달한 지역에 바닷물이 들어오면서 천여 개의 섬이 형성되어 장관을 이룬다. 일부 섬에서는 기반암이 지하수에 의해 용식되어 만들어진 구불구불한 형태의 내부 공간인 (나) 이/가 바다와 연결되어 있어서, 관광객들이 보트를 타고 관람하는 색다른 경험을 할 수 있다. 또한, 몇몇 섬에서는 기반암의 용식으로 형성된 와지인 (다) 을/를 볼 수 있다.

<보 기>

- ㄱ. (가)~(다)는 건조한 기후 환경보다 습윤한 기후 환경에서 잘 발달한다.
 ㄴ. (가)의 기반암은 주로 석회암으로 이루어져 있다.
 ㄷ. (나)가 함몰된 지형을 칼데라라고 한다.
 ㄹ. (다)가 두 개 이상 연결되어 확장된 지형은 카렌이다.

- ① ㄱ, ㄴ ② ㄱ, ㄷ ③ ㄴ, ㄷ ④ ㄴ, ㄹ ⑤ ㄷ, ㄹ

7. 다음은 두 지리 교사가 답사 중에 나눈 영상 통화 내용의 일부이다. 밑줄 친 ㉠~㉣에 대한 설명으로 옳은 것만을 <보기>에서 고른 것은? [3점]

--	--

<보 기>

- ㄱ. ㉠은 여러 개의 선상지가 연결되어 형성된다.
 ㄴ. ㉡은 주로 바람의 침식 작용에 의해 형성된다.
 ㄷ. ㉢ 주변에는 메사와 뷰트가 흔히 나타난다.
 ㄹ. ㉣은 후빙기 해수면 상승으로 형성되었다.

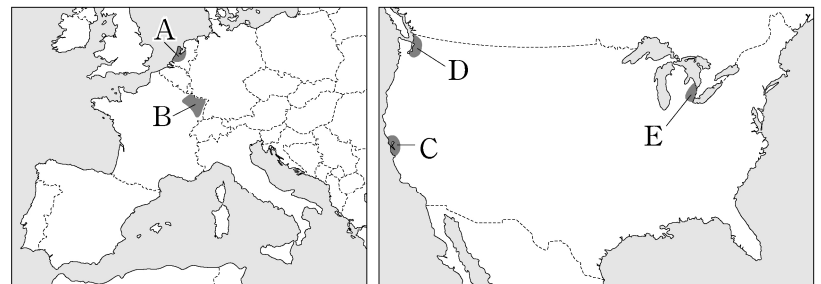
- ① ㄱ, ㄴ ② ㄱ, ㄷ ③ ㄴ, ㄷ ④ ㄴ, ㄹ ⑤ ㄷ, ㄹ

8. 다음은 환경 다큐멘터리 대본의 일부이다. (가), (나)에 해당하는 용어로 옳은 것은?

환경 문제는 전 지구 규모로 나타나고 있는데 그 대표적인 사례로는 지구 온난화가 있습니다. 국제 사회는 지구 온난화의 원인이 되는 온실 가스를 감축하기 위해 함께 노력하고 있습니다. 이 노력의 일환으로 1990년대에는 국제 연합(UN) 기후 변화 협약을 채택하였고, 온실가스 배출권 거래제를 도입한 (가) 를 채택하였습니다. 또한, 선진국에 온실가스 감축 의무가 있었던 (가) 와 달리, 2015년에 채택된 (나) 은 선진국과 개발 도상국 모두 온실가스 감축 의무에 동참하도록 하고 있습니다.

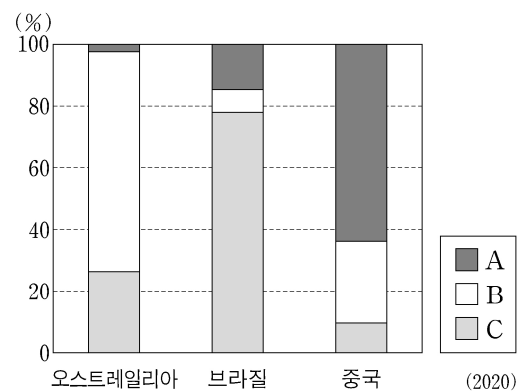
- | | (가) | (나) |
|---|----------|--------|
| ① | 교토 의정서 | 제네바 협약 |
| ② | 교토 의정서 | 파리 협정 |
| ③ | 교토 의정서 | 람사르 협약 |
| ④ | 몬트리올 의정서 | 제네바 협약 |
| ⑤ | 몬트리올 의정서 | 파리 협정 |

9. 지도의 A~E 지역에 대한 설명으로 옳은 것은? [3점]



- ① A는 로렌을 중심으로 제철 산업이 발달하였다.
 ② B에는 첨단 산업 지구인 케임브리지 사이언스 파크가 있다.
 ③ C에는 실리콘 벨리를 중심으로 하는 첨단 산업 지역이 있다.
 ④ D는 디트로이트를 중심으로 자동차 산업이 발달하였다.
 ⑤ E는 휴스턴을 중심으로 석유 화학 산업이 발달하였다.

10. 그래프는 세 국가의 가축 사육 두수 비율을 나타낸 것이다. 이에 대한 설명으로 옳은 것만을 <보기>에서 고른 것은? (단, A~C는 각각 돼지, 소, 양 중 하나임.)



* 각 국가의 돼지, 소, 양 사육 두수 합을 100%로 하여 나타낸 것임.

<보 기>

- ㄱ. 중국은 돼지 사육 두수가 소 사육 두수보다 많다.
 ㄴ. C는 소에 해당한다.
 ㄷ. A는 B보다 유목에 적합하다.
 ㄹ. A~C 중 전 세계 사육 두수는 B가 가장 많다.

- ① ㄱ, ㄴ ② ㄱ, ㄷ ③ ㄴ, ㄷ ④ ㄴ, ㄹ ⑤ ㄷ, ㄹ

11. 다음은 세계지리 온라인 수업 장면의 일부이다. 교사의 질문에 옳게 대답한 학생을 고른 것은?

온라인 교실 (세계의 자연환경과 인간 생활)

지도의 A~E 지역에 대해 설명해 볼까요?

교사

갑: A에서는 타이가라고 불리는 침엽수림대를 볼 수 있어요.

을: B에서는 최근에 빙하가 후퇴하면서 빙력토 평원이 넓게 나타났어요.

병: C에서는 여름철 우기에 물이 고여 플라야호가 형성돼요.

정: D에서는 주민들이 지표면으로부터 전달되는 습기와 열기를 차단하기 위해 주로 고상 가옥에 살아요.

무: E에서는 열대 몬순의 영향으로 주로 카카오, 고무나무 등의 플랜테이션을 하고 있어요.

- ① 갑 ② 을 ③ 병 ④ 정 ⑤ 무

12. 다음 자료의 (가) 국가에 대한 설명으로 옳은 것은? [3점]

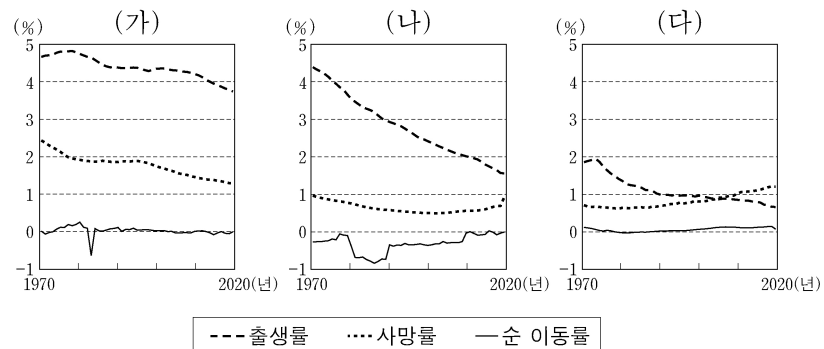
지역 탐방

동남아시아의 화교 거주 지역을 가다!

화교는 다른 국가에 사는 (가) 계 주민으로 전 세계 여러 지역에 진출해 있다. 이들 중 상당수는 동남아시아에 거주하는데, 동남아시아 화교들은 광둥, 푸젠 지방 출신이 많다. 화교는 해외에서 주로 특정 지역에 모여 자국 문화를 유지하고 있는데, 동남아시아 곳곳에서도 이러한 모습을 볼 수 있다.

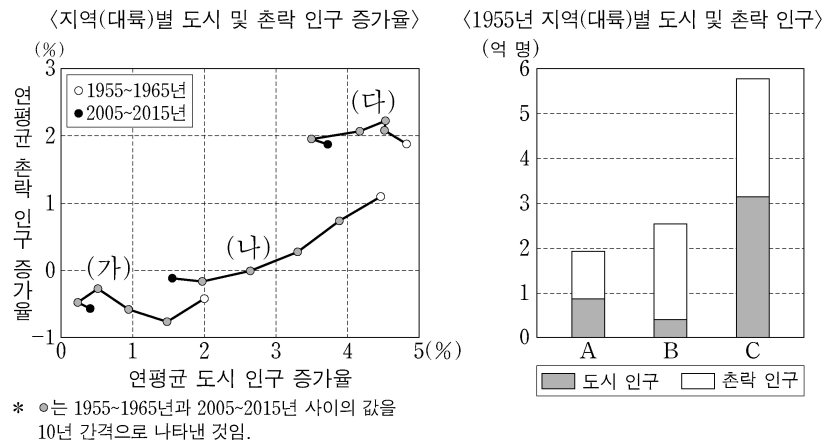
- ① 백호주의의 인종 차별적 정책이 폐지되었다.
 ② 북부 지역에는 원주민인 마오리족이 거주한다.
 ③ 대표적인 전통 요리로 쌀로 만든 나시고렝이 있다.
 ④ 한족을 비롯하여 여러 소수 민족으로 구성되어 있다.
 ⑤ 힌두교도인 타밀족과 불교도인 싯할리즈족 간의 갈등이 나타난다.

13. 그래프는 세 국가의 인구 특성을 나타낸 것이다. 이에 대한 설명으로 옳지 않은 것은? (단, (가)~(다)는 각각 나이지리아, 멕시코, 일본 중 하나임.) [3점]



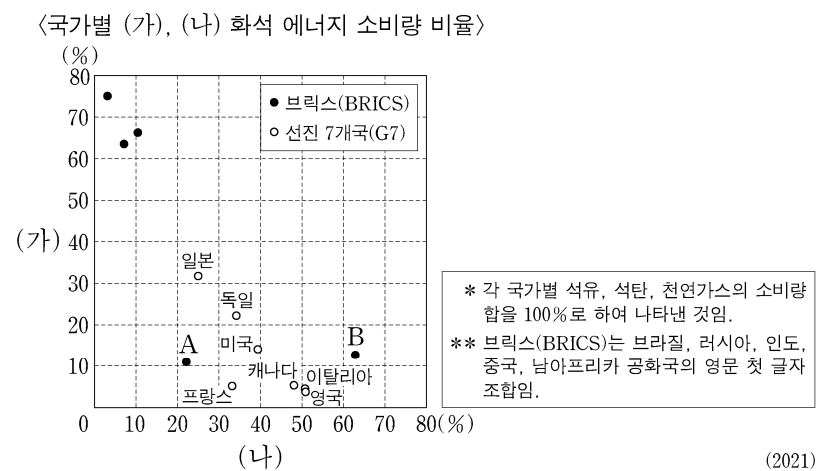
- ① 2020년 일본은 인구가 감소하였다.
 ② 1970년 인구의 자연 증가율은 나이지리아가 멕시코보다 높다.
 ③ (나)는 2020년 인구가 1970년 인구보다 많다.
 ④ (가)~(다) 중 2020년 인구가 가장 많은 국가는 (가)이다.
 ⑤ 2020년 중위 연령은 (다) > (나) > (가) 순으로 높다.

14. 다음 자료에 대한 설명으로 옳은 것은? (단, (가)~(다)와 A~C는 각각 라틴 아메리카, 아프리카, 유럽 중 하나임.)



- ① 2015년 도시화율이 가장 낮은 지역은 (가)이다.
 ② 1955년 도시 인구는 (다)가 (나)보다 많다.
 ③ 1955년 대비 2015년 C의 촌락 인구는 감소하였다.
 ④ 2015년 촌락 인구는 A가 B보다 많다.
 ⑤ 1955~2015년 인구 증가율은 C > A > B 순으로 높다.

15. 그래프에 대한 설명으로 옳은 것만을 <보기>에서 있는 대로 고른 것은? (단, (가), (나)는 각각 석유, 석탄, 천연가스 중 하나임.) [3점]



<보 기>

- ㄱ. 프랑스는 석유 소비량이 천연가스 소비량보다 많다.
 ㄴ. (가)의 세계 최대 수출국은 브릭스(BRICS) 국가 중 하나이다.
 ㄷ. (나)는 (가)보다 세계 1차 에너지 소비량에서 차지하는 비율이 높다.
 ㄹ. A는 B보다 국가 내 1차 에너지 소비량에서 수력이 차지하는 비율이 높다.

- ① ㄱ, ㄷ ② ㄱ, ㄹ ③ ㄴ, ㄷ
 ④ ㄱ, ㄴ, ㄹ ⑤ ㄴ, ㄷ, ㄹ

4 (세계지리) 사회탐구 영역

16. 다음은 세계지리 수업 장면의 일부이다. 교사의 질문에 대한 학생의 대답으로 옳은 것은?

자료는 ○○○ 국제 축구 대회 조 편성 일부를 나타낸 것입니다. 이 국가들의 지리적 특징에 대해 발표해 볼까요?

C 조	D 조	E 조	F 조
아르헨티나	프랑스	에스파냐	벨기에
사우디아라비아	덴마크	독일	캐나다
멕시코	튀니지	일본	모로코
폴란드	오스트레일리아	코스타리카	크로아티아

- ① 갑: C 조의 국가는 모두 바다와 접하지 않은 내륙국이에요.
- ② 을: D 조의 국가는 모두 수도가 북반구에 위치하고 있어요.
- ③ 병: E 조에는 국제 연합(UN) 본부가 위치한 국가가 있어요.
- ④ 정: F 조에서 국토 면적이 가장 넓은 국가는 캐나다예요.
- ⑤ 무: C~F 조에는 조마다 아프리카에 위치한 국가가 있어요.

17. 다음 자료의 (가)~(라) 종교에 대한 설명으로 옳은 것은? (단, (가)~(라)는 각각 불교, 이슬람교, 크리스티교, 힌두교 중 하나임.)

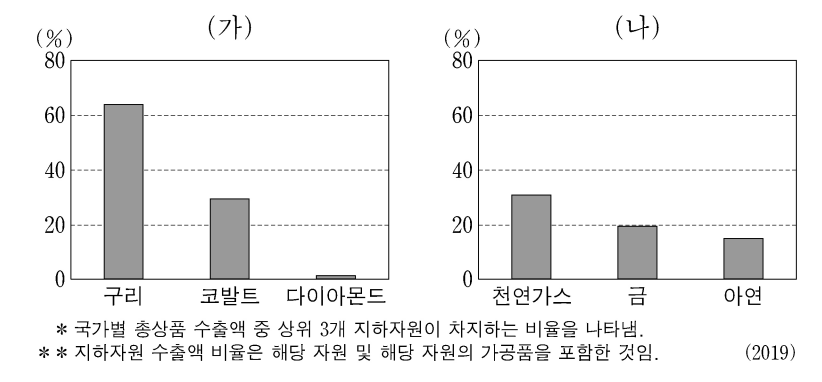
<주한 인도 대사관의 ○○○○년 공식 휴무일 중 일부>

날짜	설명
▽월 ▽일	(가) 신도들이 구원자라고 믿는 이가 십자가에 못 박힌 고난을 기억하는 날이다. 이날의 이틀 뒤 일요일은 이 종교의 또 다른 기념일인 부활절이다.
□월 □일	(나) 금식 기간인 라마단이 끝나는 날이며, 신도들은 기도와 함께 서로 음식과 선물을 교환하며 큰 축제를 진행한다.
△월 △일	(다) 창시자의 출생을 기념하는 날이다. 이날을 맞이하여 신도들은 그의 출생, 깨달음, 열반을 기리는 축제를 개최한다.
◇월 ◇일	밤새도록 곳곳에 등불을 켜고, 여러 신들에게 기도하여 빛의 축제라고 불리는 날이다. 홀리, 두세라와 함께 (라)의 3대 축제로 손꼽힌다.

<인도의 종교별 신자 수>

- ① (가)의 기원지는 인도이다.
- ② (나)의 대표적 종교 경관은 불상과 불탑이다.
- ③ (다)는 민족 종교이다.
- ④ 예루살렘에는 (가)와 (나)의 성지가 있다.
- ⑤ 전 세계 신자 수는 (라)가 (나)보다 많다.

18. 그래프는 두 국가의 주요 지하자원 수출액 비율을 나타낸 것이다. (가), (나)에 해당하는 국가를 지도의 A~C에서 고른 것은? [3점]

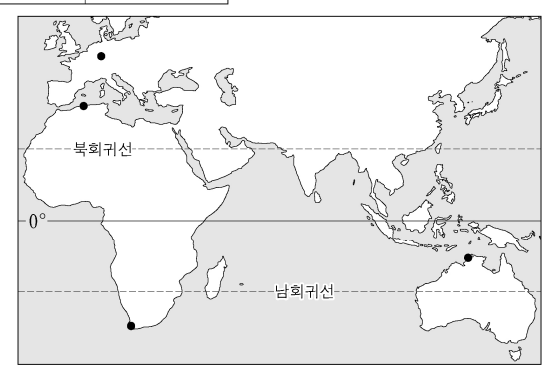


	(가)	(나)
①	A	B
②	A	C
③	B	A
④	B	C
⑤	C	A

19. 표는 지도에 표시된 네 지역의 기후 특성을 나타낸 것이다. A~D 지역에 대한 설명으로 옳은 것만을 <보기>에서 있는 대로 고른 것은? (단, (가), (나) 시기는 각각 1월, 7월 중 하나임.)

지역	(가) 시기 강수량 차이 (mm)	(나) 시기 평균 기온 차이 (°C)
A	29.1	-13.5
B	-37.5	12.6
C	-35.3	-5.0
D	43.7	5.9

* 강수량 차이=해당 지역 강수량 - 네 지역 강수량의 합
 ** 평균 기온 차이=해당 지역 평균 기온 - 네 지역 평균 기온의 합



<보 기>

ㄱ. B의 최한월 평균 기온은 18℃ 이상이다.
 ㄴ. 기온의 연교차는 A가 B보다 크다.
 ㄷ. (가) 시기 낮 길이는 D가 A보다 길다.
 ㄹ. (나) 시기 강수량은 A~D 중 B가 가장 많다.

- ① ㄱ, ㄴ
- ② ㄴ, ㄷ
- ③ ㄷ, ㄹ
- ④ ㄱ, ㄴ, ㄹ
- ⑤ ㄱ, ㄷ, ㄹ

20. 다음 글은 동남아시아에 위치한 세 국가에 대한 설명이다. (가)~(다) 국가에 대한 설명으로 옳은 것만을 <보기>에서 있는 대로 고른 것은? [3점]

(가) 은/는 (나), (다) 등 여러 국가와 국경을 접하고 있는 동남아시아 국가이다. 이 국가의 대표적인 축제로는 송끄란 축제가 있으며, 국민 대부분이 불교를 믿는다.

(나) 은/는 중국, 인도 등 여러 국가와 국경을 접하고 있다. 국민 대부분이 불교를 믿으며, 이슬람교를 믿는 소수 민족과 갈등이 있다.

(다) 은/는 좁은 해협을 사이로 마주하고 있는 섬나라와 다리로 연결되어 있어 자동차로 왕래가 가능하다. 이 국가는 다양한 종교를 가진 사람들이 공존하고 있고, 이 중 이슬람교를 믿는 사람이 가장 많다.

<보 기>

ㄱ. (가)의 대표적인 문화 유산으로 앙코르와트 사원이 있다.
 ㄴ. (다)는 인도네시아와 국경을 접하고 있다.
 ㄷ. 메콩강은 (나)와 (다)를 지난다.

① ㄴ ② ㄷ ③ ㄱ, ㄴ ④ ㄱ, ㄷ ⑤ ㄴ, ㄷ

* 확인 사항

○ 답안지의 해당란에 필요한 내용을 정확히 기입(표기)했는지 확인 하시오.