

제 4 교시

사회탐구 영역(세계지리)

성명

수험번호

2


제 [ ] 선택

1. 다음은 수업 노트의 일부이다. (가)에 들어갈 내용으로 가장 적절한 것은?

- 주제: (가)
- 정의: 정치·경제·사회·문화 등의 분야에서 세계가 하나의 공동체로 통합되는 현상
- 배경: 교통·통신의 발달에 따른 시공간 압축
- 영향
- 세계 각국의 상호 의존성 증대
  - 다양한 세계 문화의 활발한 교류

- ① 세계화                      ② 지역화                      ③ 경제 블록
- ④ 장소 마케팅              ⑤ 지리적 표시제

2. 그림은 어느 기후 지역의 생활 모습을 표현한 것이다. 이 지역의 전통 음식으로 가장 적절한 것은? [3점]



\* 지면에서 떠온 송유관과 두툼한 털옷을 입은 유목민

- ① 돼지고기로 만든 소시지
- ② 순록의 날고기를 말린 육포
- ③ 밀로 만든 납작한 빵과 양고기
- ④ 망고와 파파야를 곁들인 샐러드
- ⑤ 다양한 향신료를 사용한 볶음밥

3. 다음 자료의 (가) 환경 문제가 지속될 경우 나타날 수 있는 현상으로 옳지 않은 것은?

**1.5℃가 무너지면 모두가 무너집니다!**

(가) (으)로 인해 동식물은 물론 인간까지 도미노처럼 생존을 위협받고 있습니다. 우리 모두의 삶터인 지구를 지키기 위해 평균 기온 상승 폭을 2100년까지 1.5℃ 이내로 억제하기로 세계 각국의 대표들이 파리 협정에서 약속하였습니다.

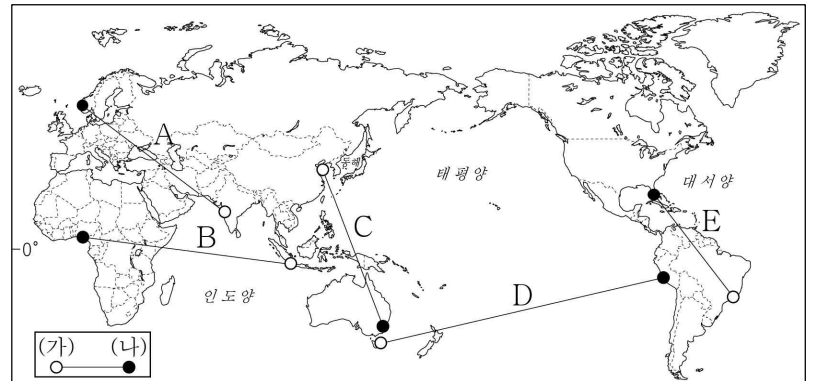
- ① 남극의 빙하 분포 범위가 확대된다.
- ② 영구 동토층의 분포 범위가 축소된다.
- ③ 해수면 상승으로 해안 저지대가 침수된다.
- ④ 열대성 해충으로 인한 질병 발생률이 증가한다.
- ⑤ 기상 이변에 따른 가뭄, 홍수 등의 피해가 증가한다.

4. 다음 자료는 두 지역의 크리스마스 모습이다. (가), (나) 지역을 옳게 연결한 선을 지도의 A~E에서 고른 것은? [3점]



산타클로스가 야외 눈썰매장에서 아이들과 함께 눈썰매를 타고 있다.

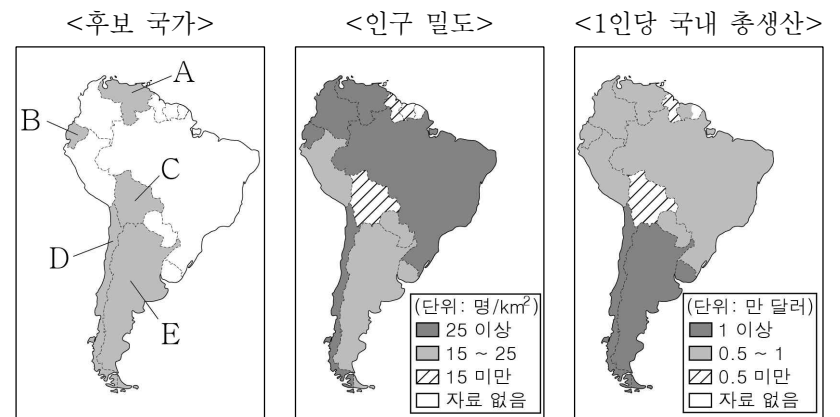
산타클로스가 해변에서 해수욕을 즐기는 아이들에게 선물을 주고 있다.



- ① A                      ② B                      ③ C                      ④ D                      ⑤ E

5. 다음 <조건>을 모두 만족하는 국가에 ○○기업이 해외 지점을 설립하고자 한다. 가장 적합한 국가를 지도의 A~E에서 고른 것은?

- < 조  건  > —
- 인구 밀도가 25명/km<sup>2</sup> 이상인 국가에 설립함.
  - 1인당 국내 총생산(GDP)이 1만 달러 이상인 국가에 설립함.



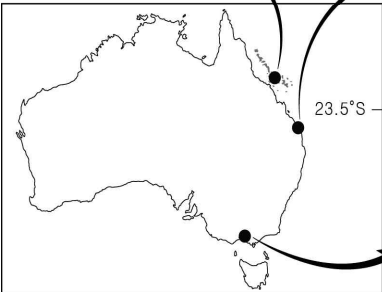
(2018년)

- ① A                      ② B                      ③ C                      ④ D                      ⑤ E

6. 다음 자료의 ㉠~㉣에 대한 옳은 설명만을 <보기>에서 고른 것은? [3점]

㉠ 산호충의 석회질 유해가 쌓여 형성된 섬 주변에서 열대어가 헤엄치는 모습을 볼 수 있다.

다양한 해양 스포츠를 즐기는 사람들과 ㉡ 길게 펼쳐진 모래사장을 볼 수 있다.




해안 절벽 앞에 ㉢ 기둥 모양의 바위인 시 스택이 늘어선 모습을 볼 수 있다.

- < 보 기 >
- ㄱ. ㉠은 수심이 깊고 수온이 낮은 해안에 주로 분포한다.  
 ㄴ. ㉡은 주로 조류의 퇴적 작용으로 형성되었다.  
 ㄷ. ㉢은 파랑의 침식 작용으로 형성되었다.  
 ㄹ. ㉣은 만, ㉤은 곳에서 잘 발달한다.

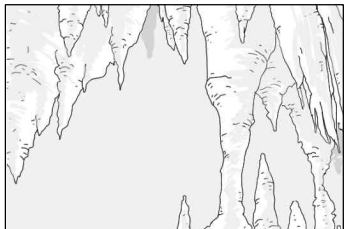
- ① ㄱ, ㄴ    ② ㄱ, ㄷ    ③ ㄴ, ㄷ    ④ ㄴ, ㄹ    ⑤ ㄷ, ㄹ

7. 다음 공모전에 제출된 학생의 작품 중 주제에 적합한 것만을 <보기>에서 고른 것은?


<지형 경관 그리기 공모전 안내>  
 주     제: 세계의 빙하 지형  
 응모 자격: 전국의 고등학생  
 제출 방법: 홈페이지 참조

ㄱ. 

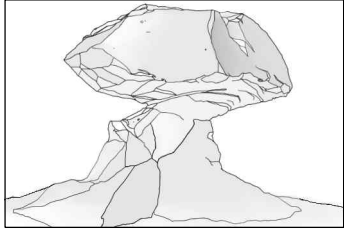
U자곡이 침수된 피오르

ㄴ. 

동굴 천장에 매달린 종유석

ㄷ. 

산 정상부의 뾰족한 호른

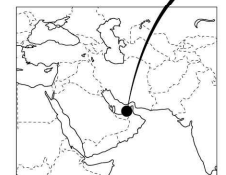
ㄹ. 

버섯 모양의 바위

- ① ㄱ, ㄴ    ② ㄱ, ㄷ    ③ ㄴ, ㄷ    ④ ㄴ, ㄹ    ⑤ ㄷ, ㄹ

8. 다음 자료는 관광 안내문의 일부이다. (가)에 들어갈 내용으로 가장 적절한 것은?

**극한의 자연을 체험하러 떠나요!**



○ 체험 프로그램

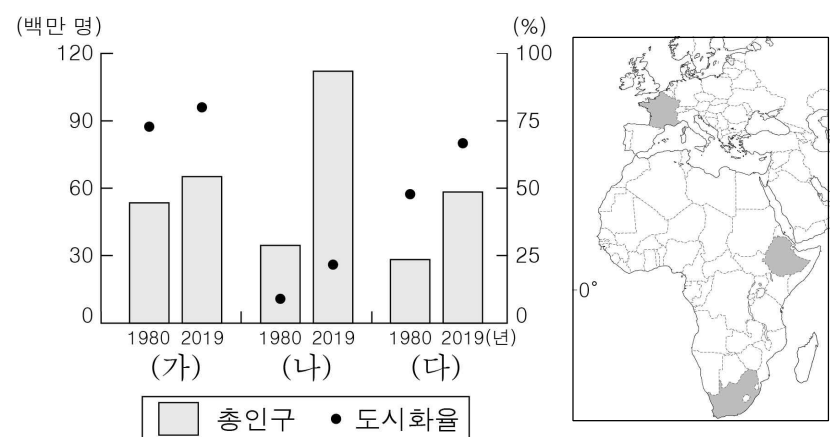
- (가)
- 사구에서 즐기는 모래 썰매
- 오아시스에서 대추야자 먹기

○ 준비물

- 강한 햇볕에 대비한 자외선 차단제
- 챙이 긴 모자와 선글라스


- ① 사막의 배라고 불리는 낙타 타기  
 ② 타이가의 오솔길을 걸으며 산림욕하기  
 ③ 눈 덮인 얼음 위를 달리는 개 썰매 타기  
 ④ 열대림의 나무 위를 연결한 구름다리 건기  
 ⑤ 야생 동물의 숨결을 느껴 보는 사파리 체험

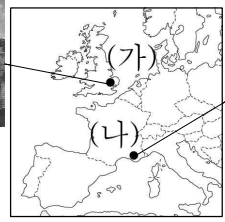
9. 그래프는 지도에 표시된 세 국가의 총인구와 도시화율 변화를 나타낸 것이다. (가)~(다) 국가에 대한 설명으로 옳은 것은? [3점]




- ① (가)는 아프리카 대륙에 위치한다.  
 ② (나)는 2019년에 총인구가 도시 인구보다 많다.  
 ③ (다)는 1980년에 도시화의 종착 단계로 진입하였다.  
 ④ (가)는 (나)보다 2019년 합계 출산율이 높다.  
 ⑤ (가)는 (다)보다 1980~2019년에 도시 인구가 많이 증가하였다.

10. 그림은 지도에 표시된 두 지역의 경관을 그린 것이다. (가), (나) 지역에 대한 설명으로 옳은 것은?







곧 비가 올 듯한 구름 낀 하늘, 젖소가 노니는 넓은 목초지

강렬하게 내리쬐는 태양, 누렇게 메마른 풀과 푸른 올리브 잎

- ① (가)에서는 오렌지 재배가 활발하게 이루어진다.  
 ② (나)는 여름 강수량이 겨울 강수량보다 많다.  
 ③ (가)는 (나)보다 연평균 기온이 높다.  
 ④ (나)는 (가)보다 태양광 발전에 유리하다.  
 ⑤ (가), (나) 모두 계절풍의 영향을 많이 받는다.

11. 다음 자료의 (가), (나) 종교를 지도의 A~C에서 고른 것은? [3점]

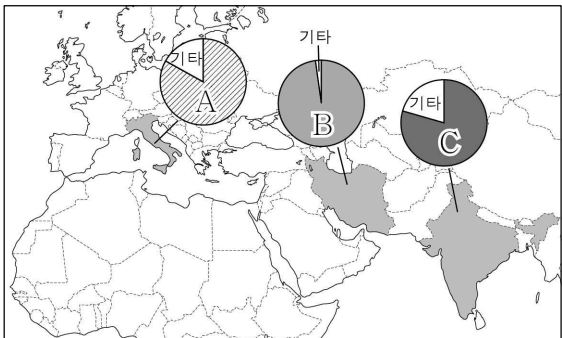


(가) 신자들이 영혼을  
정화하기 위해 갠지스강에서  
목욕하는 모습



(나) 신자들이 십자가  
앞에 모여 찬송가를 부르며  
미사를 드리는 모습

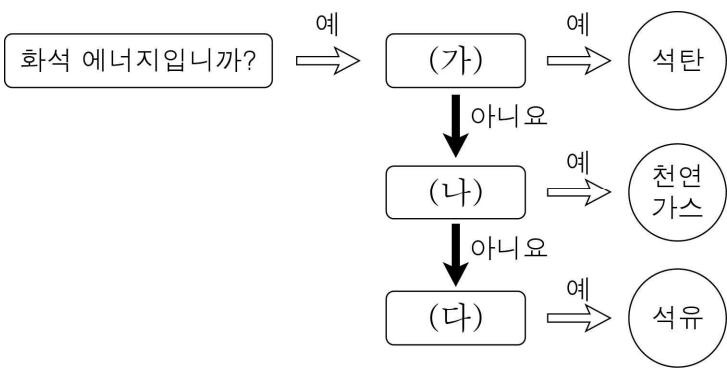
<주요 국가의 종교별 신자 수 비율>



\* 국가별 1위 이외의 종교는 기타로 처리함.  
(2010년)

- |   | (가) | (나) |
|---|-----|-----|
| ① | A   | B   |
| ② | A   | C   |
| ③ | B   | A   |
| ④ | C   | A   |
| ⑤ | C   | B   |

12. 그림의 (가)~(다)에 들어갈 옳은 내용을 <보기>에서 고른 것은?



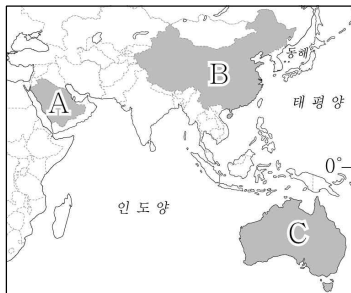
- < 보 기 >
- ㄱ. 주로 고생대 지층에 매장되어 있습니까?
  - ㄴ. 냉동 액화 기술의 발달로 소비량이 급증하였습니까?
  - ㄷ. 세계 1차 에너지 소비 구조에서 차지하는 비율이 가장 높습니까?

- |   | (가) | (나) | (다) |
|---|-----|-----|-----|
| ① | ㄱ   | ㄴ   | ㄷ   |
| ② | ㄱ   | ㄷ   | ㄴ   |
| ③ | ㄴ   | ㄱ   | ㄷ   |
| ④ | ㄴ   | ㄷ   | ㄱ   |
| ⑤ | ㄷ   | ㄱ   | ㄴ   |

13. 표는 세 국가의 수출 현황을 나타낸 것이다. (가)~(다) 국가를 지도의 A~C에서 고른 것은? [3점]


국가	수출 현황	총수출액 (십억 달러)	상품별 수출액 비율(%)			
			농림축 수산물	광물 및 에너지	공업 제품	기타
(가)		294.4	1.4	67.2	18.5	12.9
(나)		2,486.7	3.3	3.2	93.2	0.3
(다)		257.1	14.2	66.5	11.2	8.1

(2018년)



- |   | (가) | (나) | (다) |
|---|-----|-----|-----|
| ① | A   | B   | C   |
| ② | A   | C   | B   |
| ③ | B   | A   | C   |
| ④ | B   | C   | A   |
| ⑤ | C   | A   | B   |

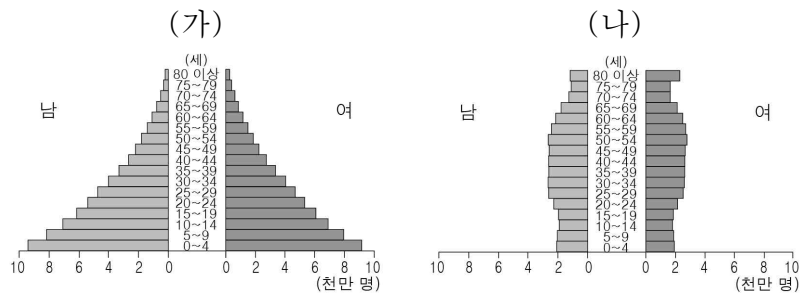
14. 다음 자료의 A, B 작물에 대한 옳은 설명만을 <보기>에서 고른 것은? (단, A, B는 각각 밀, 쌀 중 하나임.)



- < 보 기 >
- ㄱ. A의 세계 최대 생산 국가는 베트남이다.
  - ㄴ. B의 기원지는 아메리카이다.
  - ㄷ. A는 B보다 국제 이동량이 많다.
  - ㄹ. A는 밀, B는 쌀이다.

- ① ㄱ, ㄴ    ② ㄱ, ㄷ    ③ ㄴ, ㄷ    ④ ㄴ, ㄹ    ⑤ ㄷ, ㄹ

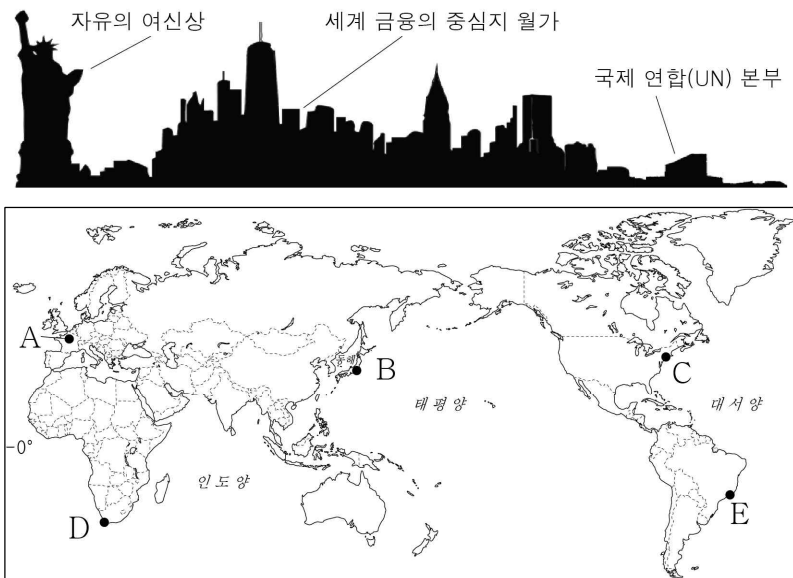
15. 그래프는 두 지역(대륙)의 연령별 인구 구조를 나타낸 것이다. (가), (나)에 대한 설명으로 옳은 것은? (단, (가), (나)는 각각 아프리카, 유럽 중 하나임.) [3점]



(2015년)

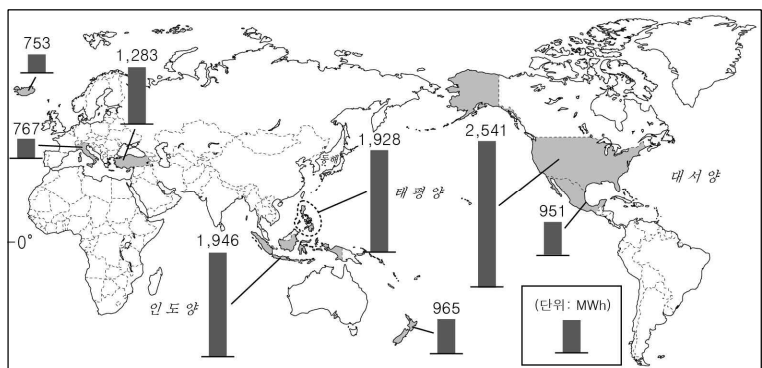
- ① (가)는 노년층 인구가 유소년층 인구보다 많다.
- ② (나)는 노년층에서 남성이 여성보다 많다.
- ③ (가)는 (나)보다 기대 수명이 길다.
- ④ (가)는 (나)보다 지역(대륙) 내 3차 산업 종사자 비율이 높다.
- ⑤ (가)는 아프리카, (나)는 유럽이다.

16. 그림은 어느 도시의 모습을 상징적으로 나타낸 것이다. 이 도시를 지도의 A~E에서 고른 것은?



- ① A    ② B    ③ C    ④ D    ⑤ E

17. 지도는 어느 신·재생 에너지의 국가별 발전 설비 용량을 나타낸 것이다. 이 신·재생 에너지에 대한 설명으로 옳은 것은? [3점]

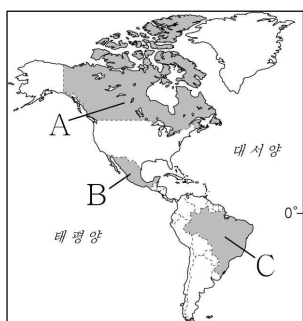


\* 상위 8개 국가만 나타냄. (2018년)

- ① 기후 조건에 따른 발전량의 변동 폭이 크다.  
 ② 조수 간만의 차이가 큰 지역이 생산에 유리하다.  
 ③ 판의 경계부에 위치한 지역에서 개발 잠재력이 높다.  
 ④ 유량이 풍부하고 낙차가 큰 지역이 개발에 유리하다.  
 ⑤ 바람이 많이 부는 산지나 해안 지역이 생산에 유리하다.

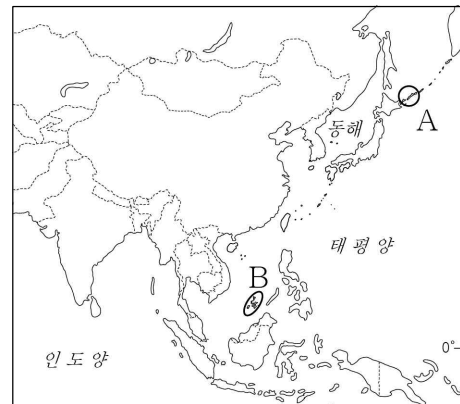
18. 다음 자료의 (가), (나) 국가를 지도의 A~C에서 고른 것은?

- (가) 은/는 세계 최대의 커피 생산 국가이며, 소 사육 두 수도 세계에서 가장 많다. 그러나 소를 키우기 위한 목초지를 조성하면서 열대림이 파괴되고 있다.
- (나) 은/는 옥수수로 만든 토르티야를 활용한 전통 음식이 발달하였다. 유럽 열강의 식민 지배 이전에는 아스테카, 마야 등 고대 문명이 발달하였다.



- |   | (가) | (나) |
|---|-----|-----|
| ① | A   | B   |
| ② | A   | C   |
| ③ | B   | A   |
| ④ | C   | A   |
| ⑤ | C   | B   |

19. 지도의 A, B 지역에서 발생하는 분쟁에 대한 옳은 설명만을 <보기>에서 고른 것은? [3점]

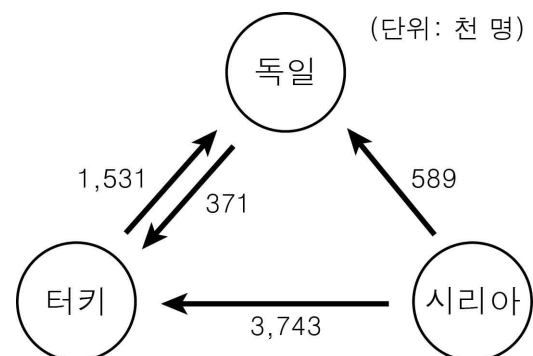


< 보 기 >

- ㄱ. A는 현재 러시아가 실효 지배하고 있다.  
 ㄴ. B의 분쟁 원인은 종교 갈등이다.  
 ㄷ. B는 A보다 분쟁 당사국의 수가 많다.  
 ㄹ. A, B 모두 분쟁 당사국에 일본이 포함된다.

- ① ㄱ, ㄴ    ② ㄱ, ㄷ    ③ ㄴ, ㄷ    ④ ㄴ, ㄹ    ⑤ ㄷ, ㄹ

20. 그림은 세 국가 간 인구 이동을 나타낸 것이다. 이에 대한 옳은 설명만을 <보기>에서 고른 것은? [3점]



\* 천 명 미만은 표시하지 않음.  
 \*\* 2019년 조사 자료임.

< 보 기 >

- ㄱ. 시리아에서 터키로의 인구 이동은 자발적 성격이 강하다.  
 ㄴ. 시리아에서 독일로 이동하는 사람들은 주로 이슬람교 신자이다.  
 ㄷ. 터키에서 독일로 이동하는 사람들은 주로 고임금 전문직에 종사한다.  
 ㄹ. 터키에서 독일로 이동하는 사람의 수가 독일에서 터키로 이동하는 사람의 수보다 많다.

- ① ㄱ, ㄴ    ② ㄱ, ㄷ    ③ ㄴ, ㄷ    ④ ㄴ, ㄹ    ⑤ ㄷ, ㄹ

\* 확인 사항

- 답안지의 해당란에 필요한 내용을 정확히 기입(표기)했는지 확인하십시오.