

제 4 교시

한국사 영역

1. 밑줄 친 ‘이 시대’에 볼 수 있는 모습으로 가장 적절한 것은? [3점]

**유네스코 세계 유산 카드**

**고창, 화순, 강화  
고인돌 유적**

■ 국가 : 대한민국  
■ 등재 연도 : 2000년

  
고인돌(인천 강화 부근리)

사유 재산과 계급이 발생한 이 시대를 대표하는 유적이다. 고인돌의 규모를 통해 당시 지배층의 권력과 경제력을 짐작할 수 있다.

- ① 석굴암 본존불 앞에서 절하는 승려
- ② 국자감에서 유학을 공부하는 학생
- ③ 비파형 동검을 들고 있는 군장
- ④ 장용영에서 훈련을 받는 군인
- ⑤ 팔관회를 준비하는 관리

2. 다음 대화에서 공통으로 설명하는 문화유산으로 옳은 것은?

고려 인쇄술의 높은 수준을 보여 주고 있어.

부처의 힘으로 몽골의 침략을 물리치려는 염원을 담아 만들었지.

현재 함천 해인사에 소장되어 있어.

- ①



임신서기석
- ②



혼일강리역대국도지도
- ③



사신도(현무)
- ④



인왕제색도
- ⑤



팔만대장경판

3. (가), (나) 시기 사이에 있었던 사실로 옳은 것은? [3점]

(가) 광개토 대왕이 보병과 기병 5만을 보내 신라를 구원하게 하였다. 고구려군이 신라의 왕성에 이르니 가득하였던 왜적이 퇴각하였다.

(나) 신라군이 당군과 연합하여 고구려의 왕성을 에워쌌다. 그러자 고구려왕이 연남산 등을 당의 영공에게 보내 항복을 청하였다.

- ① 장수왕이 평양으로 천도하였다.
- ② 이성계가 위화도에서 회군하였다.
- ③ 이순신이 한산도 해전에서 승리하였다.
- ④ 윤봉길이 홍커우 공원에서 의거를 일으켰다.
- ⑤ 서희가 외교 담판으로 강동 6주를 획득하였다.

4. (가) 왕의 재위 기간에 있었던 사실로 옳은 것은?

한국사 온라인 수업

학습 종료

이것은 오늘 학습할 (가)의 주요 업적입니다.

- ◆ 정치 : 4군 6진 지역 개척
- ◆ 경제 : 『농사직설』 편찬, 전분6등법 마련
- ◆ 문화 : 자격루 제작, 『칠정산』 편찬

- ① 정미의병이 일어났다.
- ② 훈민정음이 창제되었다.
- ③ 9주 5소경이 설치되었다.
- ④ 현병 경찰제가 시행되었다.
- ⑤ 강화도 조약이 체결되었다.

5. 다음 제도를 시행한 국가의 정책으로 옳은 것은?

문무백관, 군인 등에게 관직의 등급과 직역에 따라 곡물을 거둘 수 있는 전지를 나누어 주었다. 아울러 땀감을 얻을 수 있는 시지도 함께 지급하였다.

- ① 비변사를 설치하였다.
- ② 골품제를 운영하였다.
- ③ 은병(활구)을 주조하였다.
- ④ 대한국 국제를 제정하였다.
- ⑤ 경부 고속 국도를 건설하였다.

6. 밑줄 친 ‘이 나라’에 대한 설명으로 옳은 것은?



- ① 거란에 멸망당하였다.
- ② 영정법을 시행하였다.
- ③ 공명첩을 발행하였다.
- ④ 금관가야를 병합하였다.
- ⑤ 금융 실명제를 도입하였다.

7. (가) 왕이 실시한 정책으로 옳은 것은? [3점]

**모둠별 토의 질문 평가지**

대상 학급 : 3학년 ○반  
담당 교사 : ○○○

· 과제 : 고려 시대 (가) 의 정책에 대한 모둠별 토의 질문 만들기  
· 질문 평가

모둠	제출한 질문	평가
1모둠	기철 등 친원 세력을 숙청한 이유는 무엇일까?	적합
2모둠	정동행성 이문소를 폐지한 목적은 무엇일까?	적합
3모둠	쌍성총관부 공격이 가지는 의의는 무엇일까?	적합

- ① 우산국을 정복하였다.
- ② 광무개혁을 추진하였다.
- ③ 경국대전을 반포하였다.
- ④ 수원 화성을 건설하였다.
- ⑤ 전민변정도감을 설치하였다.

8. (가) 전쟁이 끼친 영향으로 가장 적절한 것은?

**한국사 퀴즈 대회 대본**

다음 문제입니다.  
이 전쟁은 청의 침략으로 시작되었습니다. 인조는 신하들과 함께 남한산성에 들어가 항전하였지만 결국 삼전도에서 항복하였고, 조선은 청과 군신 관계를 맺었습니다.  
이 전쟁의 명칭은 무엇일까요?

정답은 (가) 입니다.

- ① 별무반이 조직되었다.
- ② 삼국 간섭이 일어났다.
- ③ 북벌 운동이 추진되었다.
- ④ 간도 참변이 발생하였다.
- ⑤ 제물포 조약이 체결되었다.

9. 밑줄 친 ‘봉기’에 대한 설명으로 옳은 것은? [3점]

몰락 양반, 중소 상인, 광산 노동자, 농민 등이 지역 차별 및 세도 정권의 수탈에 맞서 평안도 가산에서 봉기하였다. 이들은 한때 청천강 이북의 일부 지역을 점령하였지만 관군에 진압되었다.

- ① 신간회의 지원을 받았다.
- ② 홍경래의 주도로 일어났다.
- ③ 백제 부흥을 목표로 하였다.
- ④ 순종의 장례일에 시작되었다.
- ⑤ 신탁 통치 결정에 반대하였다.

10. 다음 회의가 개최된 시기를 연표에서 옳게 고른 것은? [3점]

대한민국 임시 정부의 활동이 침체에 빠지자 독립운동의 새로운 방향과 활로를 모색하기 위한 회의가 열렸다. 몇 개월 동안 진행된 이 회의에서는 임시 정부를 개편하자는 개조파와 새 정부를 조직하자는 창조파가 대립하였다. 결국 이 회의는 합의를 이루지 못한 채 결렬되었다.

	(가)	(나)	(다)	(라)	(마)	
병인양요 발발	갑신정변 발생	대한 제국 수립	국권 피탈	3·1 운동 발생	한인 애국단 결성	
① (가)	② (나)	③ (다)	④ (라)	⑤ (마)		

11. 다음 자료를 활용한 탐구 주제로 가장 적절한 것은? [3점]

- 영의정 이원익이 아뢰기를, “각 고을에서 진상하는 공물이 방납인에게 막혀 물건의 값이 몇 배, 몇 십 배가 되니 그 폐해가 오래 되었습니다. 담당 관청을 두어 백성들에게 쌀로 거두게 하십시오.”라고 하였다.
- 왕이 명하기를, “양민은 오래도록 고된 역에 시달려 왔다. …(중략)… 이제 군포를 1필로 줄일 것이니, 경들은 세입 감소분을 보충할 방법을 강구하라.”라고 하였다.

- ① 삼국 시대 유학 교육의 발달
- ② 고려 시대 신분 제도의 운영
- ③ 조선 전기 과거 제도의 정비
- ④ 조선 후기 수취 체제의 개편
- ⑤ 일제 강점기 노동 운동의 전개

12. 밑줄 친 ‘이 운동’이 전개된 시기에 있었던 사실로 옳은 것은?


△△ 역사 동아리 답사 계획서

- 답사 일자 : 2020년 ○○월 ○○일
- 답사 목적 : 농민층이 중심이 되어 사회를 개혁하고 외세로부터 나라를 지키려 했던 이 운동의 역사적 의미를 되새긴다.
- 답사 코스 : 장성 황룡촌 전적지 → 정읍 향토현 전적지 → 정읍 전봉준 고택 → 전주 풍남문 → 공주 우금치 전적지

- ① 망이·망소이가 봉기하였다.
- ② 9서당 10정이 편성되었다.
- ③ 군국기무처가 설치되었다.
- ④ 사비 천도가 단행되었다.
- ⑤ 이자겸의 난이 일어났다.

13. 다음 인물에 대한 설명으로 옳은 것은?

한국사 인물 카드



- 이름 : ○○○
- 생몰 연대 : 1859년 ~ 1925년
- 주요 활동
  - 「유교 구신론」 발표
  - 『한국독립운동지혈사』 저술
  - 대한민국 임시 정부 제2대 대통령 역임

- ① 후삼국을 통일하였다.
- ② 몽유도원도를 그렸다.
- ③ 무신 정변을 일으켰다.
- ④ 한국통사를 저술하였다.
- ⑤ 대동여지도를 제작하였다.

14. 밑줄 친 ‘이 조약’의 결과로 옳은 것은?



- ① 통감부가 설치되었다.
- ② 동북 9성이 축조되었다.
- ③ 개성 공단이 조성되었다.
- ④ 아관 파천이 단행되었다.
- ⑤ 미소 공동 위원회가 개최되었다.

15. (가)에 들어갈 내용으로 옳은 것은? [3점]

수행 평가 보고서

3학년 ○반 이름 ○○○

1. 주제 : 일제 강점기 실력 양성 운동의 전개
2. 활동 : 주요 운동의 목적과 구호를 조사하여 정리함
3. 내용

주요 운동	목적	구호
불산 장려 운동	경제적 자립	내 살림 내 것으로!
(가)	고등 교육 실현	한민족 1천만이 한 사람이 1원씩!
문자 보급 운동	문맹 퇴치	아는 것이 힘, 배워야 산다!

- ① 새마을 운동
- ② 위정척사 운동
- ③ 서경 천도 운동
- ④ 좌우 합작 운동
- ⑤ 민립 대학 설립 운동

16. (가) 운동에 대한 설명으로 옳은 것은? [3점]

**한국사 묻고 답하기**

Q (가) 에 대해 알려주세요.

↳ A “1,300만 원의 국채를 갚자.”라는 취지에서 일어났어요.

↳ A 금연, 금주 등의 방법으로 성금을 모았어요.

↳ A 일본의 침탈에 저항한 경제적 구국 운동이었어요.

- ① 3·15 부정 선거에 항의하였다.
- ② 조선책략의 유포에 반발하였다.
- ③ 6·29 민주화 선언을 이끌어냈다.
- ④ 삼정이정청이 설치되는 계기가 되었다.
- ⑤ 대한매일신보 등 언론 기관의 지원을 받았다.

17. 다음 법령이 적용된 시기의 상황으로 옳은 것은? [3점]

조선 총독부 관보 제○○○○호 19○○년 ○월 ○○일

**국가 총동원법**

제1조 국가 총동원이란 전시에 국방 목적을 달성하기 위해 국가의 전력을 가장 유효하게 발휘하도록 인적 및 물적 자원을 통제·운용하는 것을 말한다.

(중략)

제4조 정부는 전시에 국가 총동원상 필요할 때는 칙령이 정하는 바에 따라 제국 신민을 징용하여 총동원 업무에 종사하게 할 수 있다.

- ① 당백전이 발행되었다.
- ② 도병마사가 설치되었다.
- ③ 7·4 남북 공동 성명이 발표되었다.
- ④ 황국 신민 서사의 암송이 강요되었다.
- ⑤ 조청 상민 수록 무역 장정이 체결되었다.

18. (가)에 들어갈 내용으로 옳은 것은?

**다큐멘터리 제작 기획안**

◆ 프로그램명 : 격동의 시대, 1945 ~ 1948

◆ 기획 의도 : 광복 이후 3년간 있었던 주요 사건들을 시간순으로 알아보고, 대한민국 정부 수립의 의미를 생각해 본다.

◆ 회차별 제목

- 제1부 : 8·15 광복을 맞이하다.
- 제2부 : 모스크바 3국 외상 회의가 개최되다.
- 제3부 : 남북 협상이 진행되다.
- 제4부 : (가)
- 제5부 : 대한민국 정부가 수립되다.

- ① 제너럴 셔먼호 사건이 일어나다.
- ② 서울 올림픽 대회가 개최되다.
- ③ 5·10 총선거가 실시되다.
- ④ 흥범 14조가 반포되다.
- ⑤ 임오군란이 발생하다.

19. 다음 민주화 운동에 대한 탐구 활동으로 가장 적절한 것은?




**기자회견**

지난 며칠간 수많은 학생과 시민들이 계엄군에 의해 학살당하였습니다. 지금 광주 시민들은 이러한 만행에 맞서고 있습니다. 이 상황이 평화롭게 수습되기 위해서는 계엄 해제, 구속자 석방, 진상 규명 등의 조치가 반드시 이루어져야 합니다.

- ① 훈요 10조의 내용을 분석한다.
- ② 회사령이 제정된 배경을 살펴본다.
- ③ 을미사변이 끼친 영향을 파악한다.
- ④ 신군부 세력이 권력을 장악하는 과정을 조사한다.
- ⑤ 헤이그 만국 평화 회의에 특사를 파견한 목적을 알아본다.

20. (가) 회담의 결과로 옳은 것은? [3점]

**그림과 숫자로 보는 (가)**

 <p>분단 이후 처음으로, <b>2000</b>년에 남과 북의 정상이 만났습니다.</p>	 <p>두 정상은 평화 통일을 염원하며 <b>3</b>일간 평양에서 회담을 진행하였습니다.</p>
 <p><b>5</b>개 항목으로 합의를 이끌어 낸 이 회담은 남북 화해와 협력의 계기가 되었습니다.</p>	

- ① 유신 헌법이 공포되었다.
- ② 백두산정계비가 건립되었다.
- ③ 통리기무아문이 설치되었다.
- ④ 의정부 서사제가 실시되었다.
- ⑤ 6·15 남북 공동 선언이 발표되었다.

\* 확인 사항

- 답안지의 해당란에 필요한 내용을 정확히 기입(표기)했는지 확인 하시오.